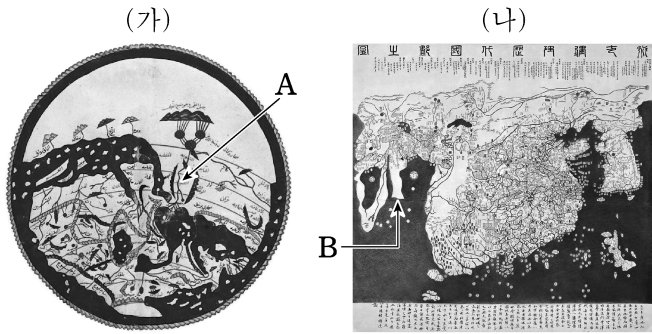


제 4 교시

사회탐구 영역(세계지리)

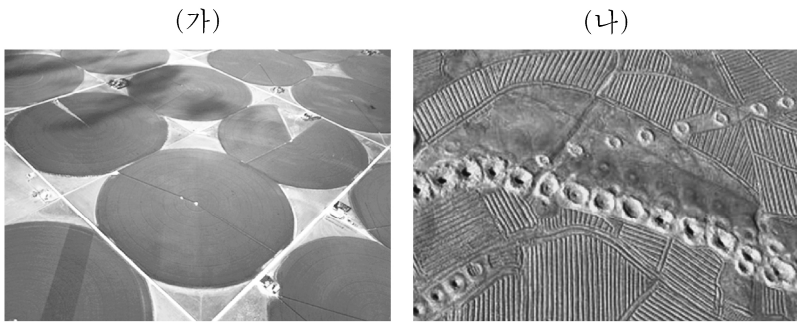
성명  수험 번호  -    제 [ ] 선택

1. (가), (나) 지도에 대한 설명으로 옳은 것은?



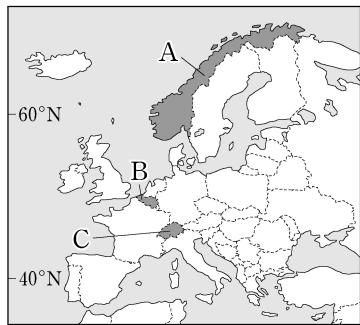
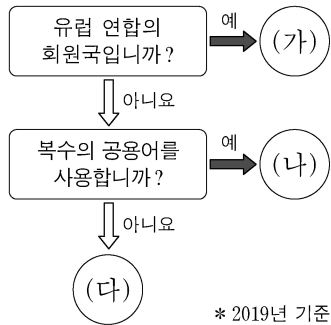
- ① (가)의 중심부에는 B 반도가 위치한다.
- ② (가)는 중국 중심 세계관이 반영되었다.
- ③ (나)에는 아메리카 대륙이 표현되어 있다.
- ④ (나)는 크리스토퍼 콜럼버스의 영향을 받아 제작되었다.
- ⑤ A 하천은 인도양으로 유입된다.

2. (가), (나)는 건조 기후 지역의 관개 시설이다. 이에 대한 설명으로 옳은 것은?



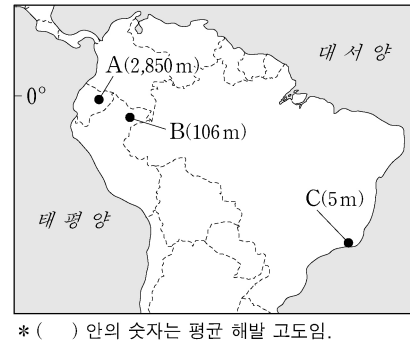
- ① (가)는 오아시스 농업에서 주로 활용한다.
- ② (가)는 원형 경작지 중앙에 전통 방식의 우물이 있다.
- ③ (나)는 지하 수로를 통해 연결되어 있다.
- ④ (나)는 외래 하천의 물을 끌어오는 방식이다.
- ⑤ (가)는 (나)보다 개발 시기가 이른다.

3. 그림의 (가)~(다)에 해당하는 국가를 지도의 A~C에서 고른 것은?



- |   |     |     |     |   |     |     |     |
|---|-----|-----|-----|---|-----|-----|-----|
|   | (가) | (나) | (다) |   | (가) | (나) | (다) |
| ① | A   | B   | C   | ② | A   | C   | B   |
| ③ | B   | A   | C   | ④ | B   | C   | A   |
| ⑤ | C   | B   | A   |   |     |     |     |

4. A~C 지역의 기후 특징에 대한 설명으로 옳은 것만을 <보기>에서 고른 것은? [3점]

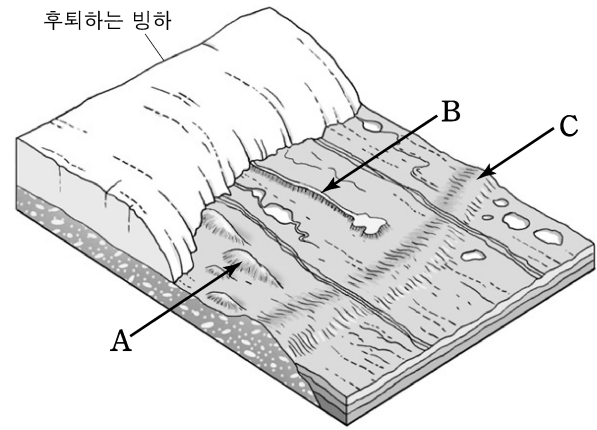
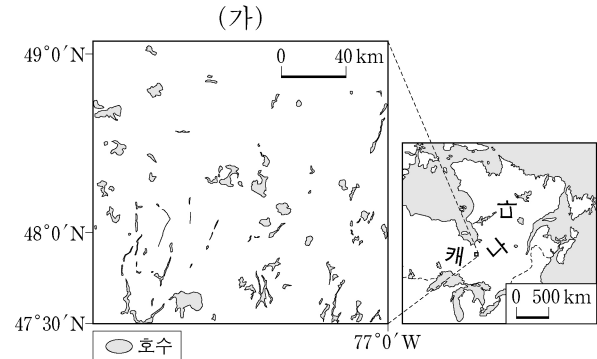


<보기>

가. A는 최한월 평균 기온이 18°C 이상이다.  
 나. C는 연중 적도 수렴대 안에 위치한다.  
 다. B는 A보다 7월 평균 기온이 높다.  
 리. C는 B보다 연 강수량이 적다.

- ① 가, 나    ② 가, 다    ③ 나, 다    ④ 나, 리    ⑤ 다, 리

5. 다음은 (가) 지역에서 볼 수 있는 지형에 대한 모식도이다. 이에 대한 설명으로 옳지 않은 것은? (단, A~C는 각각 드림린, 모레인, 에스커 중 하나임.) [3점]

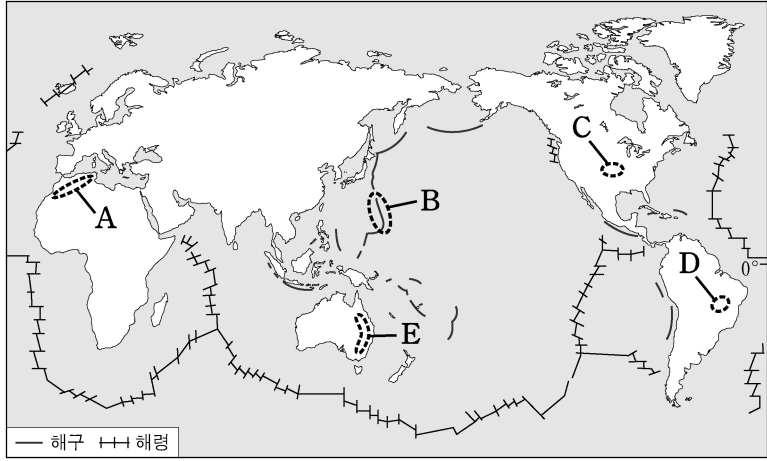


- ① (가)에는 침엽수림인 타이가가 나타난다.
- ② (가)에 나타나는 호수는 주로 과거 빙하의 작용으로 형성되었다.
- ③ A는 주로 이동하는 빙하의 침식 작용으로 형성된다.
- ④ B는 빙하가 녹은 물이 빙하의 밑을 흐르면서 제방 모양으로 토사가 퇴적되어 형성된다.
- ⑤ C는 주로 빙하에 의해 운반된 물질이 퇴적되어 형성된다.

## 2 (세계지리)

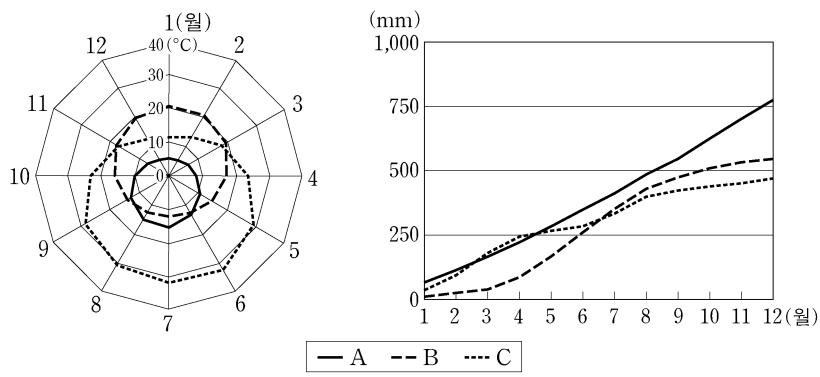
## 사회탐구 영역

6. 지도에 표시된 대지형 A~E에 대한 설명으로 옳은 것은?



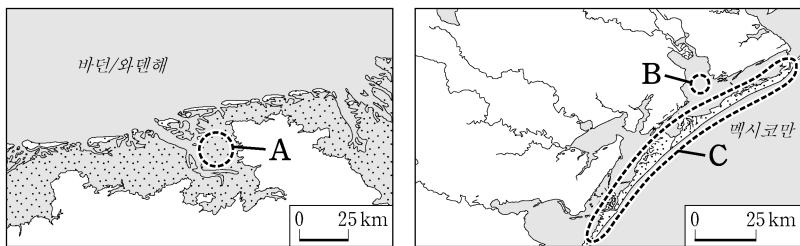
- ① A의 산지는 고생대~중생대 초기 조산 운동으로 형성되었다.
- ② B에서는 마그마 상승에 의해 판이 서로 반대 방향으로 움직인다.
- ③ C는 대륙 지각과 해양 지각이 만나는 곳으로 화산 활동이 활발하다.
- ④ D는 주로 시·원생대 이후 오랜 침식을 받아 형성되었다.
- ⑤ E의 산지는 신생대 조산 운동으로 형성되었다.

7. 그래프는 A~C 지역의 월 평균 기온과 누적 강수량을 나타낸 것이다. 이에 대한 설명으로 옳은 것은?



- ① A는 잎이 작고 단단한 경엽수림이 주로 분포한다.
- ② B는 강한 일사로 인한 스콜이 자주 발생한다.
- ③ C는 짧은 우기에 키 작은 풀이 자라 초원을 이룬다.
- ④ A는 B보다 강수의 계절 차가 크다.
- ⑤ B는 C보다 단위 면적당 수목 밀도가 낮다.

8. A~C 지형에 대한 설명으로 옳은 것만을 <보기>에서 고른 것은? (단, A~C는 각각 갯벌, 사주, 석호 중 하나임.) [3점]




<보기>

- ㄱ. A는 주로 조류에 의한 퇴적으로 형성된다.
- ㄴ. B는 사주가 만의 입구를 막아 형성된다.
- ㄷ. C는 주로 점토가 퇴적되어 형성된다.
- ㄹ. B, C는 파랑 에너지가 집중되는 곳(串)에서 주로 발달한다.

- ① ㄱ, ㄴ                      ② ㄱ, ㄷ                      ③ ㄴ, ㄷ
- ④ ㄴ, ㄹ                      ⑤ ㄷ, ㄹ

9. 다음은 중국 ○○○ 지역의 지형 사진이다. A~C 지형에 대한 설명으로 옳은 것만을 <보기>에서 고른 것은? [3점]

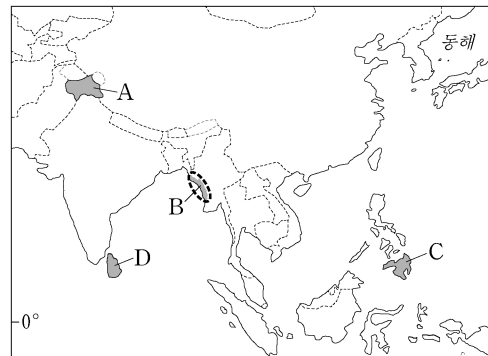


<보기>

- ㄱ. A의 봉우리들은 주로 암석의 차별적 용식으로 형성된다.
- ㄴ. B 동굴은 용암이 식는 속도의 차이에 의해 형성된다.
- ㄷ. C의 표면에는 붉은색 토양이 나타난다.
- ㄹ. A~C는 주로 현무암이 분포하는 곳에 형성되는 지형이다.

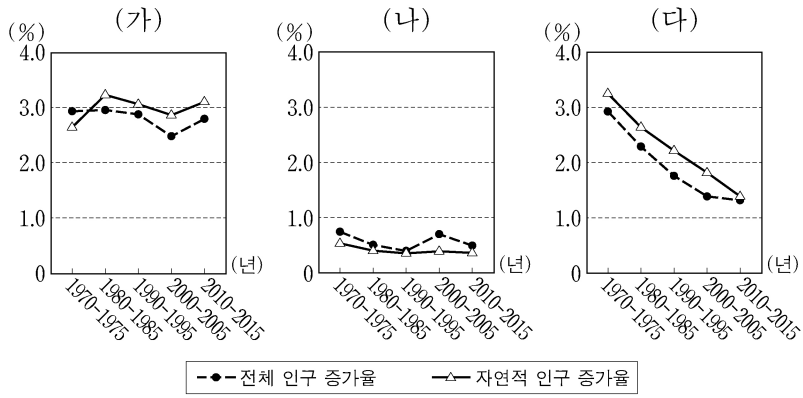
- ① ㄱ, ㄴ                      ② ㄱ, ㄷ                      ③ ㄴ, ㄷ
- ④ ㄴ, ㄹ                      ⑤ ㄷ, ㄹ

10. 지도의 A~D 지역에서 나타나는 분쟁에 대한 설명으로 옳은 것은? [3점]



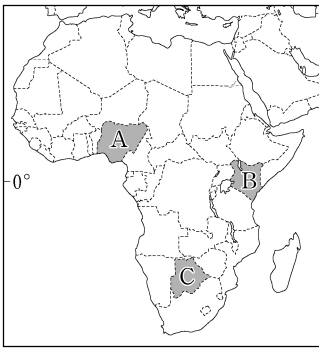
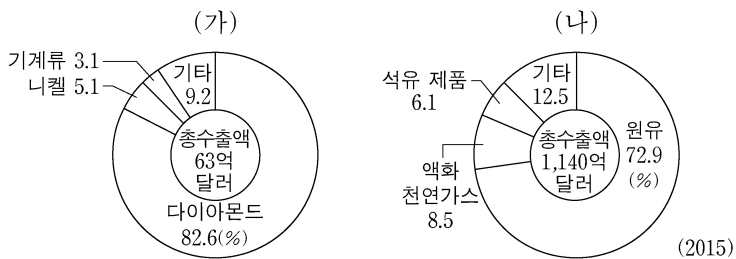
- ① A 지역 분쟁은 주변국 간의 지하자원을 둘러싼 갈등이 주요 원인이다.
- ② B 지역 분쟁은 불교와 크리스티교 간의 갈등이 주요 원인이다.
- ③ C 지역 분쟁은 필리핀과 베트남 간의 영유권을 둘러싼 갈등이 주요 원인이다.
- ④ D 지역 분쟁은 종교가 다른 민족 간의 갈등이 주요 원인이다.
- ⑤ B, D 지역 분쟁의 당사국에는 모두 중국이 포함되어 있다.

11. (가)~(다) 국가에 대한 설명으로 옳지 않은 것은? (단, (가)~(다)는 각각 멕시코, 세네갈, 프랑스 중 하나임.) [3점]



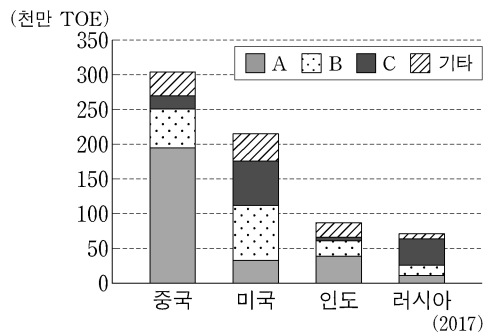
- ① (가)는 아프리카에 위치한다.
- ② 2010~2015년 순 이동률이 가장 낮은 국가는 (가)이다.
- ③ (가)~(다) 중 소득 수준이 가장 높은 국가는 (나)이다.
- ④ 제시된 기간 동안 (다)는 지속적으로 인구가 감소하였다.
- ⑤ 1990년 이후 (다)에서 유출된 인구가 가장 많이 이동한 국가는 미국이다.

12. 그래프는 아프리카 (가), (나) 국가의 상품 수출액 비율을 나타낸 것이다. 두 국가를 지도의 A~C에서 고른 것은? [3점]



- |   | (가) | (나) |
|---|-----|-----|
| ① | A   | B   |
| ② | B   | A   |
| ③ | B   | C   |
| ④ | C   | A   |
| ⑤ | C   | B   |

13. 그래프는 네 국가의 1차 에너지원별 공급량을 나타낸 것이다. A~C 자원에 대한 설명으로 옳은 것은? (단, A~C는 각각 석유, 석탄, 천연가스 중 하나임.)

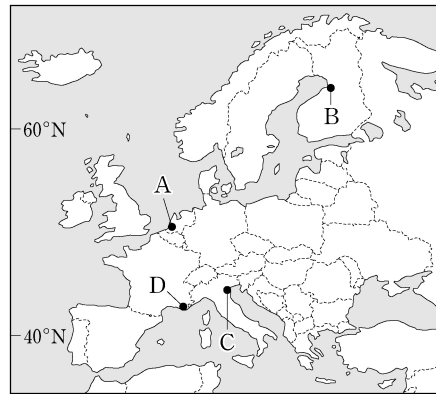


- ① A는 주로 신기 습곡 산지 주변에서 채굴된다.
- ② B는 산업 혁명 시기에 주요 동력원으로 사용되었다.
- ③ C는 냉동 액화 기술의 발전으로 소비량이 증가하였다.
- ④ A는 B보다 지역적인 편재성이 커서 국제 이동량이 많다.
- ⑤ C는 B보다 세계 1차 에너지 소비 구조에서 차지하는 비율이 높다.

14. 다음 글의 (가), (나)에 해당하는 산업 지역을 지도의 A~D에서 고른 것은? [3점]

(가) 이 지역은 고위도에 위치하며 과거에는 연어의 수출항으로 유명했다. 현재는 정보 통신 기술 중심의 첨단 산업 클러스터로 발전했다. 이 지역에서는 세계적 기업의 연구 개발 부서와 지역 내 대학 및 기술 연구 센터와의 산학연 협력이 원활하며, '테크노폴리스' 설립과 같은 정책적 지원도 활발하게 이루어지고 있다.

(나) 이 지역은 라인강 하구에 위치한 유럽의 주요 무역항 중 하나로 석유 화학 클러스터가 형성되어 있다. 항구를 통하여 대규모로 석유가 수입되고, 인접 국가 대도시권까지 연결된 파이프라인을 비롯하여 석유 화학 업체, 바이오 연료 플랜트, 저장 탱크 등이 유기적으로 연결되어 있다.



- |   | (가) | (나) |
|---|-----|-----|
| ① | A   | B   |
| ② | B   | A   |
| ③ | B   | C   |
| ④ | D   | A   |
| ⑤ | D   | C   |

15. 다음은 A, B 종교의 사원을 둘러보고 찍은 사진과 감상평이다. 이에 대한 설명으로 옳은 것만을 <보기>에서 고른 것은?

구분	A 종교	B 종교
사진		
감상평	중앙의 돔형 구조물과 주변의 첨탑이 어우러져 있고, '아라베스크' 양식의 기하학적 무늬가 그려져 있어 이색적이다.	큰 탑과 그 주변에 수많은 작은 탑이 있으며, 부처를 상징하는 여러 불상이 있다. 특히 황금빛의 화려한 외관이 인상적이다.

<보 기>

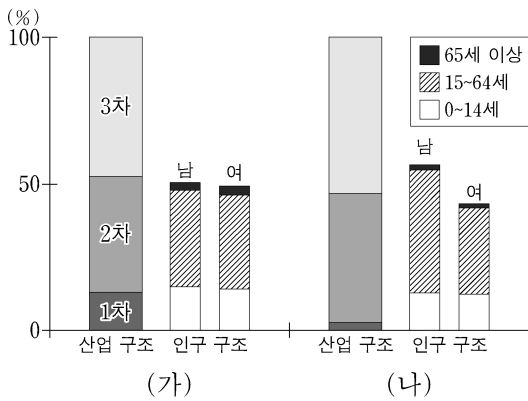
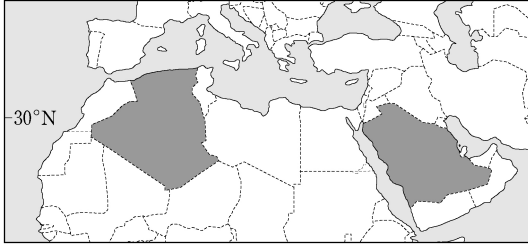
- ㄱ. A는 성지 순례를 종교적 의무로 한다.
- ㄴ. B는 세계에서 신자 수가 가장 많다.
- ㄷ. A는 B보다 발생 시기가 늦다.
- ㄹ. A, B의 발상지는 모두 아프리카이다.

- |        |        |        |
|--------|--------|--------|
| ① ㄱ, ㄴ | ② ㄱ, ㄷ | ③ ㄴ, ㄷ |
| ④ ㄴ, ㄹ | ⑤ ㄷ, ㄹ |        |

# 4 (세계지리)

# 사회탐구 영역

16. 그래프는 지도에 표시된 두 국가의 산업 구조와 인구 구조를 나타낸 것이다. (가), (나) 국가에 대한 설명으로 옳은 것만을 <보기>에서 고른 것은? [3점]



\* 산업 구조는 생산액 기준임.  
\* 산업은 2017년, 인구는 2018년 기준임.

<보 기>  
 가. (가)는 (나)보다 석유 생산량이 많다.  
 나. (가)는 (나)보다 1인당 국내 총생산(GDP)이 많다.  
 다. (나)는 (가)보다 청장년층 인구의 유입이 많다.  
 리. (가)는 아프리카, (나)는 아시아 국가이다.

- ① 가, 나      ② 가, 다      ③ 나, 다  
 ④ 나, 리      ⑤ 다, 리

17. 다음은 환경 문제에 대한 세계지리 수업 장면이다. 교사의 질문에 옳은 대답을 한 학생만을 고른 것은? (단, A, B는 각각 사막화, 열대림 파괴 중 하나임.)

A, B 환경 문제에 대해 설명해 볼까요?

갑: A의 대표적 사례 지역으로는 사헬 지대가 있습니다.  
 을: A는 장기간의 가뭄, 과도한 경작 및 방목이 주된 원인입니다.  
 병: B 문제를 해결하기 위해 런던 협약이 체결되었습니다.  
 정: B는 A보다 강수량이 적은 지역에서 발생할 가능성이 높습니다.

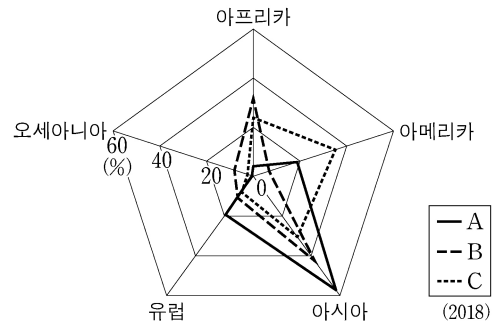
- ① 갑, 을      ② 갑, 병      ③ 을, 병  
 ④ 을, 정      ⑤ 병, 정

18. (가)~(다)에 대한 설명으로 옳지 않은 것은? (단, (가)~(다)는 각각 멕시코, 브라질, 칠레의 수도 중 하나임.)

지리 정보 (2018)	(가)	(나)	(다)
인구(만 명)	447	668	2,158
해발 고도(m)	1,092	638	2,215
7월 1일 낮 길이	11시간 12분	9시간 58분	13시간 16분
경도	47°53' W	70°40' W	99°09' W

- ① (가)는 수위 도시이다.  
 ② (나)는 남반구에 위치한다.  
 ③ (다)는 유럽인들이 아스테카 문명의 도시를 파괴하고 건설했다.  
 ④ (가)는 (다)보다 동쪽에 위치한다.  
 ⑤ (나), (다)가 속한 각각의 국가는 중주 도시화 현상이 나타난다.

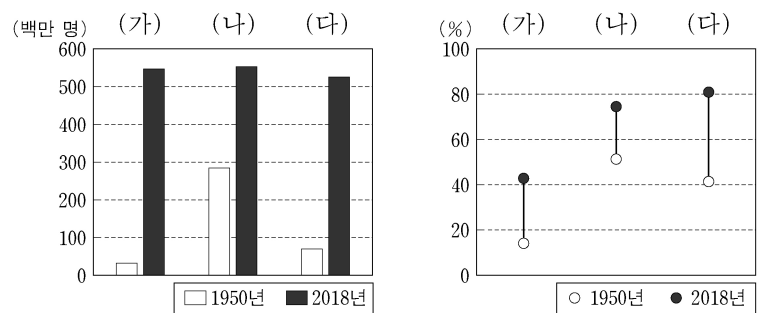
19. 그래프는 A~C 가축의 각 지역(대륙)별 사육 두수 비율을 나타낸 것이다. 이에 대한 설명으로 옳은 것만을 <보기>에서 고른 것은? (단, A~C는 각각 돼지, 소, 양 중 하나임.) [3점]



<보 기>  
 가. A로 만든 음식은 이슬람교를 믿는 사람들이 금기시한다.  
 나. 서남아시아에서는 B를 주로 유목 형태로 사육한다.  
 다. C의 사육 두수가 가장 많은 국가는 중국이다.  
 리. A~C 중 전 세계 사육 두수는 A가 가장 많다.

- ① 가, 나      ② 가, 다      ③ 나, 다      ④ 나, 리      ⑤ 다, 리

20. 그래프는 두 시기의 지역(대륙)별 도시 인가와 도시화율을 나타낸 것이다. 이에 대한 설명으로 옳은 것은? (단, (가)~(다)는 각각 라틴 아메리카, 아프리카, 유럽 중 하나임.)



- ① (가)는 1950년 도시화율이 가장 높다.  
 ② (나)에는 최상위 계층의 세계 도시가 위치하고 있다.  
 ③ (다)는 아프리카이다.  
 ④ (가)는 (나)보다 도시화 가속화 단계에 진입한 시기가 이른다.  
 ⑤ (다)는 (가)보다 2018년 도시 인구가 많다.

\* 확인 사항  
 ○ 답안지의 해당란에 필요한 내용을 정확히 기입(표기)했는지 확인 하시오.