

제 4 교시



사회탐구 영역 (동아시아사)

성명


수험 번호

제 [] 선택

1. (가)에 들어갈 유물로 가장 적절한 것은?



2. 다음 황제에 대한 설명으로 옳은 것은? [3점]



- ① 다이카 개신을 단행하였다.
- ② 남비엣(남월)을 정복하였다.
- ③ 준왕을 몰아내고 집권하였다.
- ④ 최초로 황제의 칭호를 사용하였다.
- ⑤ 신라와 연합하여 백제를 멸망시켰다.

3. (가)에 들어갈 내용으로 가장 적절한 것은?

○○고등학교 역사 동아리 발표회

주제 7세기 이전 동아시아의 인구 이동

1. 위만 집단의 이주 배경
2. 부여족 집단의 이동 결과
3. 5호의 남하와 동진 건국
4. (가)

일시: 2020년 6월 ○○일 ○○시
장소: 강당

- ① 탕구트족의 서하 건국
- ② 5대 10국의 분열과 통일
- ③ 호라즘 정벌과 서역 원정
- ④ 행정 설치와 다루가치 파견
- ⑤ 도왜인의 활동과 야마토 정권 발전

4. 밑줄 친 '그'에 대한 설명으로 옳은 것은?

3대 쇼군인 그는 명 황제에게 사신단을 파견하여 조공을 바쳤다. 황제는 그들을 후하게 예우한 뒤 무로마치로 돌려보내며, 무역을 할 수 있는 감함과 일본 국왕임을 인정하는 금인을 하사하였다. 이로써 일본은 중국과 감함 무역을 시작하였다.

- ① 청해진을 설치하였다.
- ② 백등산 전투에서 패배하였다.
- ③ 남북조의 혼란을 수습하였다.
- ④ 가마쿠라에 막부를 수립하였다.
- ⑤ 다케다 가쓰요리의 군대를 격파하였다.

5. 밑줄 친 '반란'이 전개된 시기 동아시아에서 있었던 사실로 옳은 것은? [3점]

사신이 한성에 올린 보고에 따르면, 현재 중국에서는 오삼계가 주씨의 후예를 황제로 옹립하여 거병하였고, 경정충 등도 합세하여 여러 지역을 점령하였다고 한다. 또한 이에 호응하며 타이완의 정씨 세력도 여전히 반란을 지속하고 있다고 한다.

- ① 한국 - 쓰시마섬을 공격하였다.
- ② 한국 - 후금과 형제의 맹약을 맺었다.
- ③ 중국 - 황제가 토목보에서 몽골의 포로가 되었다.
- ④ 중국 - 연해 주민을 강제 이주시키는 천계령이 시행되었다.
- ⑤ 일본 - 쇼군의 후계자 문제로 오닌의 난이 일어났다.

동아시아사

2 (동아시아사)

사회탐구 영역

6. (가) 제국의 대외 관계에 대한 설명으로 옳은 것은? [3점]

- 여러 왕자들이 개평부에 모여서 관례에 따라 무릎을 꿇고 충성을 서약하며 쿠빌라이를 (가)의 칸으로 추대하였다.
- (가)은/는 교초인 중통원보를 발행하여 각 지방에 유통시켰다. 중통원보를 오래 사용하여 낡으면 관청에서 새것으로 바꾸어 주었다.

- ① 쩐 왕조를 공격하였다.
- ② 전연의 맹약을 맺었다.
- ③ 백강 전투에서 패배하였다.
- ④ 야마타이국의 조공을 받았다.
- ⑤ 막부에 통신사를 파견하였다.

7. 다음 율령을 반포한 국가에 대한 설명으로 옳은 것은? [3점]

- 6세 이상의 남녀에게 각각 구분전을 지급한다. 양민에게 지급하는 면적은 남자가 2단, 여자는 그 3분의 2로 정한다.
- 중무성은 좌변관 관할하에 있으며 조칙의 문안을 심사한다.
- 백성은 조(租)·옹(庸)·조(調)를 부담하며, 조(租)는 미곡, 옹(庸)과 조(調)는 삼베와 비단 등의 현물로 납부한다.

- ① 신기관을 설치하였다.
- ② 3성 6부제를 운영하였다.
- ③ 독서삼품과를 실시하였다.
- ④ 맹안·모극제를 시행하였다.
- ⑤ 선우 아래 좌현왕과 우현왕을 두었다.

8. 밑줄 친 '개혁'에 대한 설명으로 옳은 것은?



그림 속 인물은 청의 광서제이다. 그는 어린 나이에 황제로 즉위하였다. 1885년에 청프 전쟁에서 패배하여 베트남에 대한 종주권을 상실하였다. 1898년에는 메이지 유신을 모범으로 삼자는 Kangyuei의 상주를 받아들여 체제 개혁에 대한 조서를 반포하였다.

- ① 금릉 기기국 설치의 계기가 되었다.
- ② 철도를 파괴하며 반외세를 주장하였다.
- ③ 청일 수호 조규 체결의 배경이 되었다.
- ④ 서태후 등 보수파의 반발로 실패하였다.
- ⑤ 독립신문을 통해 이권 수호 운동을 추진하였다.

9. (가)에 해당하는 문화유산으로 가장 적절한 것은?



- ① 도다이사 금당(대불전)
- ② 하치만 신상
- ③ 원강 석굴 사원 대불
- ④ 대안탑
- ⑤ 불국사 3층 석탑

10. 다음 전쟁이 전개된 시기에 있었던 사실로 옳은 것은? [3점]



- ① 기유약조가 체결되었다.
- ② 몽골족이 베이징을 공격하였다.
- ③ 모문룡이 가도를 근거지로 삼았다.
- ④ 강홍립이 사르후 전투에서 투항하였다.
- ⑤ 일본이 조선 남부 4도 할양 등을 요구하였다.

11. (가), (나) 조약에 대한 설명으로 옳은 것은? [3점]

- (가) 제2조 시모다, 하코다테 이외에 추가로 4개 장소를 개항한다.
제4조 일본의 모든 수출입품은 별도의 규정에 따라 일본 관청에서 세금을 부과한다.
- (나) 제5조 프랑스인들은 다낭, 바랏, 꽝옌의 세 항구에서 자유로이 상업 활동을 할 수 있다.
제6조 베트남의 영토 할양에 관한 사안은 프랑스 황제의 동의를 받아야만 한다.

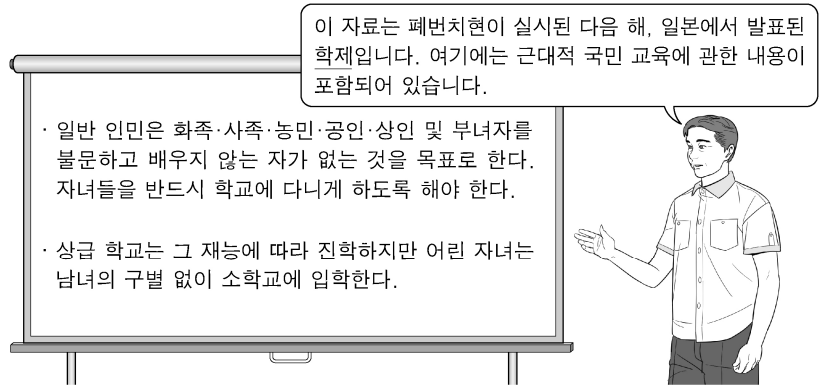
- ① (가) - 라오동반도 할양을 규정하였다.
- ② (가) - 미국의 영사 재판권을 인정하였다.
- ③ (가) - 일본의 주력함 보유 비율을 제한하였다.
- ④ (나) - 포츠머스에서 조인되었다.
- ⑤ (나) - 운요호 사건을 계기로 체결되었다.

12. 다음 대화가 이루어진 시기를 연표에서 옳게 고른 것은?



- | | | | | |
|----------|-----------|---------|----------|-------|
| (가) | (나) | (다) | (라) | (마) |
| 3포 왜란 발생 | 센고쿠 시대 통일 | 정유재란 발발 | 에도 막부 수립 | 후금 건국 |
| ① (가) | ② (나) | ③ (다) | ④ (라) | ⑤ (마) |

13. 밑줄 친 '학제'가 발표된 이후 동아시아에서 볼 수 있는 모습으로 적절하지 않은 것은?



- ① 한국 - 한성순보를 읽는 학자
- ② 한국 - 경인선 개통식을 구경하는 상인
- ③ 중국 - 잡지 신청년에 기고하는 지식인
- ④ 중국 - 경사 대학당에서 수업을 받는 학생
- ⑤ 일본 - 니가타를 개항지로 결정하는 관리

14. 밑줄 친 '막부'의 대외 관계에 대한 설명으로 옳은 것은? [3점]

덴메이 연간, 대기근으로 인하여 미곡이 유통되지 않았다. 굶주린 자들이 미곡 상점을 습격하였다. 관리들이 엄격한 단속령을 내렸음에도 민중들은 무리를 지어 약탈을 계속하였다. 이러한 사건은 180여 년 전 막부가 개창된 이래 일찍이 없었던 일이다.

- ① 금의 공격을 받아 천도하였다.
- ② 공행을 통해 서양과 교역하였다.
- ③ 고려·몽골 연합군의 공격을 막아냈다.
- ④ 대외 무역을 허가하는 슈인장을 발급하였다.
- ⑤ 무역항에 시박사를 설치하여 교역을 감독하였다.

15. (가), (나) 조약 체결 시기 사이에 있었던 사실로 옳은 것은? [3점]

(가) 제1조 청국은 조선국이 완전무결한 독립 자주국임을 확인한다.
제4조 청국은 군비 배상금으로 은 2억 냥을 일본국에 지급할 것을 약속한다.

(나) 제2조 러시아 제국 정부는 일본 제국이 한국에서 정치상·군사상 및 경제상의 탁월한 이익을 갖는다는 것을 인정하고, 일본 제국 정부가 한국에서 필요하다고 인정하는 지도, 보호 및 감리의 조치를 취하는 데 이를 저지하거나 간섭하지 않을 것을 약정한다.

- ① 전주 화약이 맺어졌다.
- ② 의화단 운동이 진압되었다.
- ③ 미드웨이 해전이 발발하였다.
- ④ 일본 제국 의회가 개설되었다.
- ⑤ 도쿄에서 아주 화친회가 결성되었다.

4 (동아시아사)

사회탐구 영역

16. 다음 글이 작성된 시기를 연표에서 옳게 고른 것은?

○○○○○ 선언문

우리 군대는 중화민국 국민과 협력하여 공동의 적인 일본 제국주의자를 타도하기 위하여 연합군의 일원으로 항쟁을 계속한다. 지난 30년간 일본이 우리 조국을 병합 통치하는 동안 우리 민족은 확고한 독립 정신을 바탕으로 불명예스러운 노예 생활에서 벗어나기 위하여 무자비한 압박자에 대한 영웅적 항쟁을 계속해 왔다.


우리들은 한·중 연합 전선에서 우리 스스로의 끊임없는 투쟁을 감행하여 극동 및 아시아 인민 중에서 자유·평등을 쟁취할 것을 약속하는 바이다.

○○○○년 ○월 ○○일 김구

(가)	(나)	(다)	(라)	(마)
신해혁명 발발	5·4 운동 발생	워싱턴 회의 개최	신간회 창립	만주 사변 발발
일본의 진주만 기습 공격				

- ① (가) ② (나) ③ (다) ④ (라) ⑤ (마)

17. 다음 자료를 활용한 탐구 활동으로 가장 적절한 것은? [3점]



이것은 일본의 신헌법에 대한 이해를 돕기 위해 아키타현의 중학교에서 만든 학습 자료이다. 앞면에는 신헌법 제9조의 내용인 군사력 보유 금지가 그림으로 표현되어 있으며, 뒷면에는 '전쟁 포기'라고 적혀 있다.

- ① 양무운동의 목적을 파악한다.
- ② 을미개혁의 내용을 찾아본다.
- ③ 신문화 운동의 배경을 알아본다.
- ④ 제1차 아편 전쟁이 발발한 계기를 분석한다.
- ⑤ 태평양 전쟁 종결 후 전후 처리 과정을 조사한다.

18. (가), (나) 시기 사이에 있었던 사실로 옳은 것은? [3점]

(가)	(나)
○○ 신문 19△△년	○○ 신문 19□□년
사회당의 좌·우파 통합에 반발하여 두 보수 정당인 민주당과 자유당이 어제 15일 합당하였다. 이로써 보수적인 자민당과 진보적인 사회당, 두 정당이 정치를 주도하게 될 것으로 예상된다.	미국의 존슨 대통령은 어제 있었던 북베트남에 대한 군사 행동이 며칠 전 통킹만 공해를 향해 중인 미국 군함 매덕스호를 불시에 공격한 것에 대한 보복이라고 주장하였다.

- ① 4·19 혁명이 일어났다.
- ② 애치슨 라인이 발표되었다.
- ③ 한일 기본 조약이 체결되었다.
- ④ 극동 국제 군사 재판이 열렸다.
- ⑤ 베트남 사회주의 공화국이 수립되었다.

19. (가) 왕조 시기 동아시아에서 볼 수 있는 모습으로 적절한 것만을 <보기>에서 고른 것은?

조선은 정기적으로 (가)에 사신단을 파견하였다. 사신단의 일원인 박지원은 수도 베이징의 서점가와 천주교 성당 등을 방문하여 중국과 서양의 문물을 접하였다. 그는 사신단의 경험을 토대로 『열하일기』라는 견문록을 남겼다. 그리고 (가)의 문물을 적극적으로 수용하지는 북학론을 홍대용 등과 함께 주장하였다.


<보 기>

- ㄱ. 홍루몽을 읽는 상인
- ㄴ. 우키요에를 구입하는 조년
- ㄷ. 사서집주를 저술하는 주희(朱熹)
- ㄹ. 주자감(胄子監)에서 공부하는 학생

- ① ㄱ, ㄴ ② ㄱ, ㄷ ③ ㄴ, ㄷ
 ④ ㄴ, ㄹ ⑤ ㄷ, ㄹ

20. 밑줄 친 '이 운동'이 전개된 시기 동아시아에서 있었던 사실로 옳은 것은?

중국 공산당은 1958년부터 생산력을 비약적으로 증대시키기 위해 이 운동을 전개하였습니다. 이곳 푸젠성에는 철강 생산을 위해 당시 만들어진 용광로가 남아 있습니다. 급진적 공산주의화를 추진했던 이 운동은 비록 실패로 끝났지만, 용광로는 현재 문화재로 보호되고 있습니다.



- ① 합병법이 제정되었다.
- ② 인민공사가 조직되었다.
- ③ 도이머이 정책이 채택되었다.
- ④ 제1차 석유 파동이 발생하였다.
- ⑤ 남순 강화를 통해 개혁·개방이 가속화되었다.

* 확인 사항
 ○ 답안지의 해당란에 필요한 내용을 정확히 기입(표기)했는지 확인 하시오.