

제 4 교시

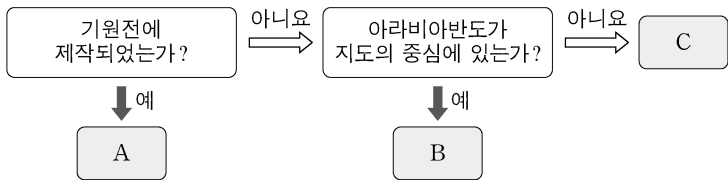
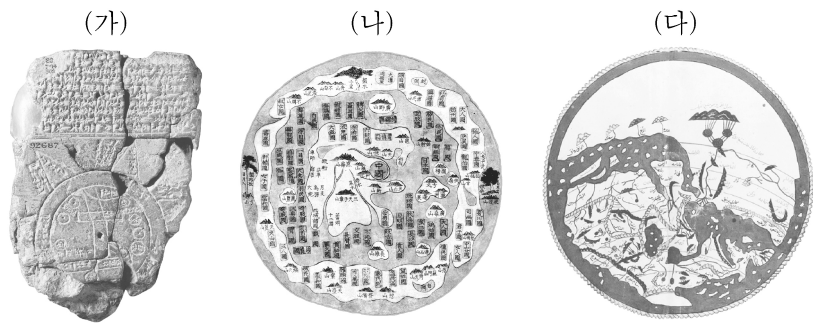
사회탐구 영역(세계 지리)

성명

수험 번호

제 [] 선택

1. (가)~(다) 지도의 특징을 그림의 A~C에서 고른 것은?

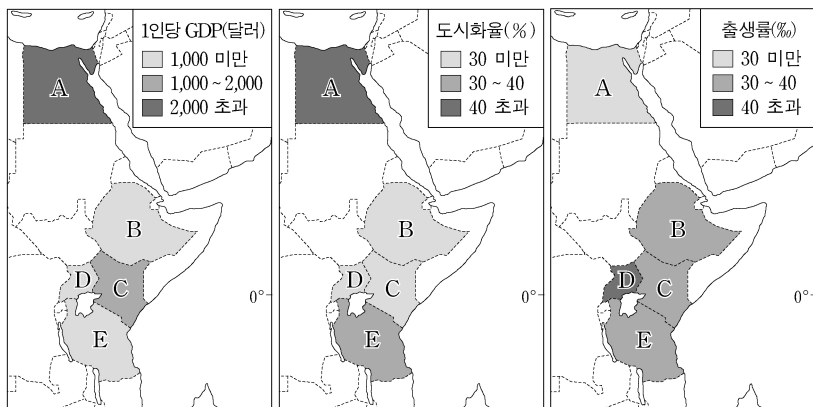


- | | | | | | | | |
|---|-----|-----|-----|---|-----|-----|-----|
| | (가) | (나) | (다) | | (가) | (나) | (다) |
| ① | A | B | C | ② | A | C | B |
| ③ | B | A | C | ④ | B | C | A |
| ⑤ | C | B | A | | | | |

2. 다음 자료를 토대로 하나의 국가를 선택하여 출산 의료 센터의 건립을 지원하고자 한다. 가장 적합한 국가를 지도의 A~E에서 고른 것은? (단, 합산 점수가 가장 높은 국가를 선택함.)

<점수 산정 기준>

점수	평가 항목	1인당 GDP(달러)	도시화율(%)	출생률(‰)
1점		2,000 초과	40 초과	30 미만
2점		1,000~2,000	30~40	30~40
3점		1,000 미만	30 미만	40 초과



- ① A ② B ③ C ④ D ⑤ E

3. 다음 자료의 밑줄 친 ㉠, ㉡에 대한 설명으로 옳은 것만을 <보기>에서 있는 대로 고른 것은? [3점]

이탈리아의 전통적인 피자(pizza)는 ㉠ 밀가루로 만든 도우(빵) 위에 치즈, 바질, 토마토, 올리브 등을 얹어서 화덕에 구운 음식이다.

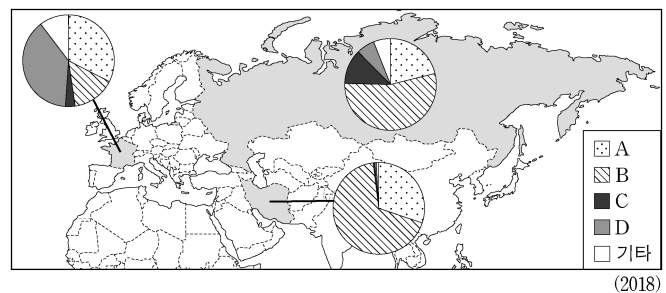
터키를 대표하는 음식인 케밥(kebab)은 유목민이 기르던 ㉡ 양의 고기를 비롯한 각종 고기를 꼬챙이에 끼워 불에 구워 먹는 요리이다.

<보 기>

- ㄱ. ㉠의 생산량은 아시아가 유럽보다 많다.
- ㄴ. ㉠은 벼(쌀)보다 내건성 및 내한성이 우수한 식량 작물이다.
- ㄷ. ㉡의 사육 두수가 가장 많은 국가는 브라질이다.
- ㄹ. ㉡의 고기는 이슬람교에서 금기시되는 음식 재료이다.

- ① ㄱ, ㄴ ② ㄴ, ㄹ ③ ㄷ, ㄹ
 ④ ㄱ, ㄴ, ㄷ ⑤ ㄱ, ㄷ, ㄹ

4. 그래프는 지도에 표시된 세 국가의 1차 에너지 소비 구조를 나타낸 것이다. 이에 대한 설명으로 옳은 것은? (단, A~D는 각각 석유, 석탄, 원자력, 천연가스 중 하나임.) [3점]



- ① A는 고기 습곡 산지에서 주로 생산된다.
- ② C는 B보다 연소 시 대기 오염 물질 배출량이 적다.
- ③ D는 C보다 상용화된 시기가 이른다.
- ④ 국가 내 석탄 소비 비율은 프랑스가 러시아보다 높다.
- ⑤ 세 국가 중 국가 내 천연가스 소비 비율은 이란이 가장 높다.

5. 다음 글의 밑줄 친 ㉠~㉣에 대한 설명으로 옳지 않은 것은?

○ 1980년대 후반에 세계 여러 나라는 몬트리올 의정서를 채택하여 ㉠ 오존층 파괴 물질의 배출을 엄격히 제한하였다. 그 결과, 2015년에 측정된 ㉡ 오존홀(구멍)은 1990년대 중반과 비교해 대폭 축소되었다.

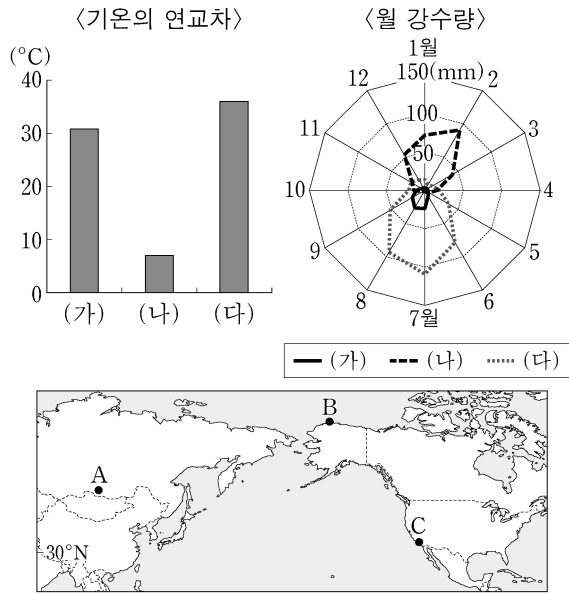
○ 산업 혁명 이후 화석 연료의 사용이 급증하면서 ㉢ 온실가스의 배출량이 크게 증가하였다. 이에 따라 온실 효과가 강화되면서 ㉣ 지구 온난화가 빠르게 진행되고 있다. 그 결과 ㉤ 북극해의 해빙(海氷) 면적 감소, 고산 지대의 만년설 감소 등의 변화가 나타나고 있다.

- ① ㉠의 주요 원인 물질은 염화플루오린화탄소(CFCs)이다.
- ② ㉡은 남극 상공에서 관측되었다.
- ③ ㉢의 증가 문제를 해결하기 위해 람사르 협약이 체결되었다.
- ④ ㉣로 인해 고산 식물의 평균 분포 고도가 높아지고 있다.
- ⑤ ㉤으로 인해 연중 북극 항로의 항해 가능 일수가 증가하였다.

2 (세계 지리)

사회탐구 영역

6. 그래프의 (가)~(다)에 해당하는 지역을 지도의 A~C에서 고른 것은?



- | | | | | | | | |
|---|-----|-----|-----|---|-----|-----|-----|
| | (가) | (나) | (다) | | (가) | (나) | (다) |
| ① | A | B | C | ② | A | C | B |
| ③ | B | A | C | ④ | B | C | A |
| ⑤ | C | B | A | | | | |

7. 다음은 세계 지리 수업의 한 장면이다. 교사의 질문에 대해 옳은 대답을 한 학생만을 고른 것은? [3점]

자료는 국제축구연맹(FIFA) 순위 상위 10개 국가(지역)를 나타낸 것입니다. 이 국가(지역)들의 문화적 특징에 대해 발표해 볼까요?

1위		벨기에	6위		우루과이
2위		프랑스	7위		에스파냐
3위		브라질	8위		크로아티아
4위		잉글랜드	9위		콜롬비아
5위		포르투갈	10위		아르헨티나

(2019. 09. 19. 남자팀 기준)

갑: 포르투갈어를 공용어로 사용하는 국가는 모두 같은 대륙에 있어요.

을: 잉글랜드는 주로 영어를 사용하는 지역이에요.

병: 에스파냐어를 공용어로 사용하는 국가는 모두 3개예요.

정: 프랑스어를 공용어로 사용하는 국가는 포르투갈어를 공용어로 사용하는 국가보다 순위가 높아요.

* 공용어는 국가 단위로만 고려함.
** 국제축구연맹(FIFA)은 영국을 네 지역(잉글랜드, 웨일스, 스코틀랜드, 북아일랜드)으로 구분하여 순위를 산정함.

- ① 갑, 을 ② 갑, 병 ③ 을, 병 ④ 을, 정 ⑤ 병, 정

8. 다음 글의 (가), (나) 도시에 대한 설명으로 옳은 것만을 <보기>에서 고른 것은?

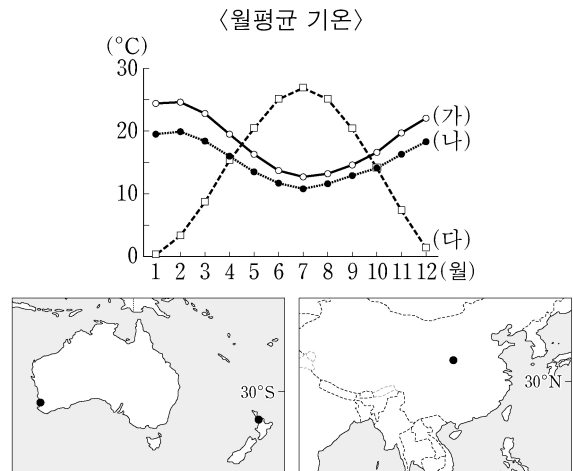
- (가) 은/는 남반구에 위치한 대도시로 2016년 하계 올림픽을 개최하였다. '파벨라'라고 불리는 빈민가는 관광 상품으로 개발되어 명소가 되었고, 올림픽 개최 이후에도 많은 관광객이 방문하고 있다.
- (나) 은/는 세계적인 경제·문화의 중심지로 도심에는 초고층 빌딩이 밀집해 있다. 특히 맨해튼의 '월스트리트'에는 대형 금융 업체와 증권사가 집중되어 있다. 반면 도시 내부에서는 경제적 양극화로 인해 저소득층 주거지도 나타난다.

<보기>

ㄱ. (가)는 오세아니아 대륙에 위치한다.
 ㄴ. (나)에는 국제 연합(UN) 본부가 있다.
 ㄷ. (가)는 (나)보다 세계 500대 다국적 기업의 본사 수가 많다.
 ㄹ. (나)는 (가)보다 생산자 서비스업 종사자 비율이 높다.

- ① ㄱ, ㄴ ② ㄱ, ㄷ ③ ㄴ, ㄷ ④ ㄴ, ㄹ ⑤ ㄷ, ㄹ

9. 그래프는 지도에 표시된 세 지역의 기후 자료이다. (가)~(다) 지역에 대한 설명으로 옳은 것은? [3점]



- ① (가)는 주로 벼농사가 이루어지는 온난 습윤한 지역이다.
 ② (나)에서는 오렌지, 올리브 등의 수목 농업이 주로 이루어진다.
 ③ (다)의 낮 길이는 1월이 7월보다 길다.
 ④ (가)와 (나)는 주로 무역풍의 영향을 받는다.
 ⑤ (나)는 (다)보다 1월 강수량이 많다.

10. 다음은 여행을 마치고 작성한 블로그 내용의 일부이다. 밑줄 친 ㉠~㉤에 대한 옳은 설명만을 <보기>에서 고른 것은? [3점]

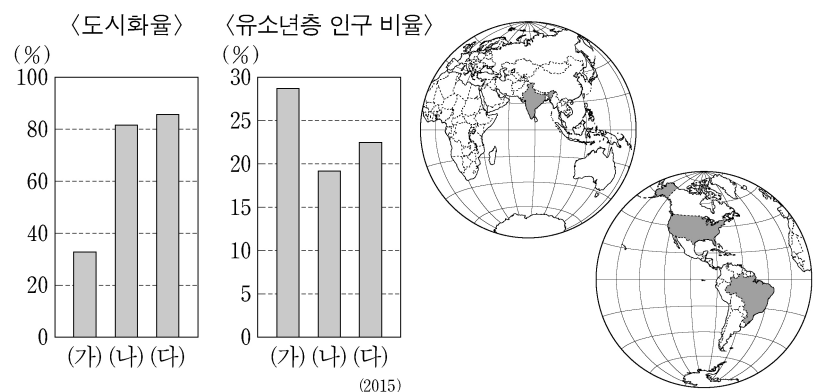
제목: 미국 서부의 건조 지대를 다녀오다.
 지난 며칠 동안 미국 서부 건조 지대의 여러 명소를 둘러보았다. ㉠ 데스밸리에는 며칠 전 폭우로 인해 일시적으로 생긴 호수가 있었고, 주변에는 관목류가 군데군데 눈에 띄었다. 이곳은 ㉡ 증발량이 강수량보다 더 많은 사막이다. ㉢ 매우 적은 강수량과 큰 기온의 일교차를 보이는 사막의 밤은 생각보다 추웠다. 다음 날 모뉴먼트밸리에서는 ㉣ 평원에 우뚝 솟은 뷰트, 메사라 불리는 거대한 지형을 볼 수 있었다.

<보기>

ㄱ. ㉠의 주변에는 카나트라는 지하 관개 수로가 발달해 있다.
 ㄴ. ㉡에 있는 바하다는 유수에 의해 형성된 퇴적 지형이다.
 ㄷ. ㉢에 의해 화학적 풍화가 활발하게 진행된다.
 ㄹ. ㉣은 경암과 연암이 차별 침식을 받아 형성되었다.

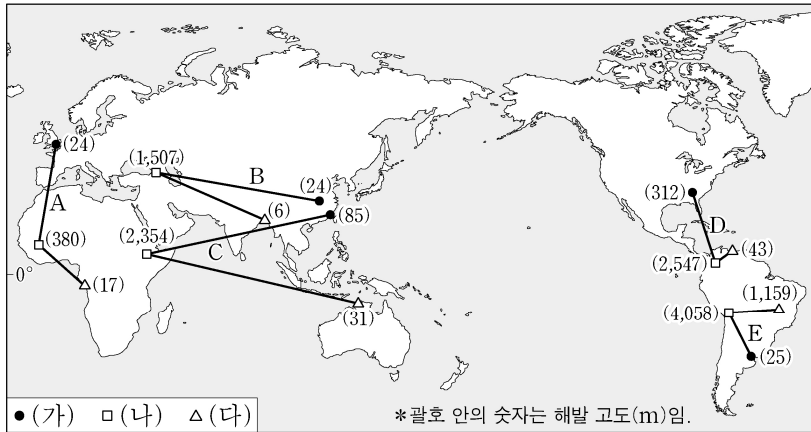
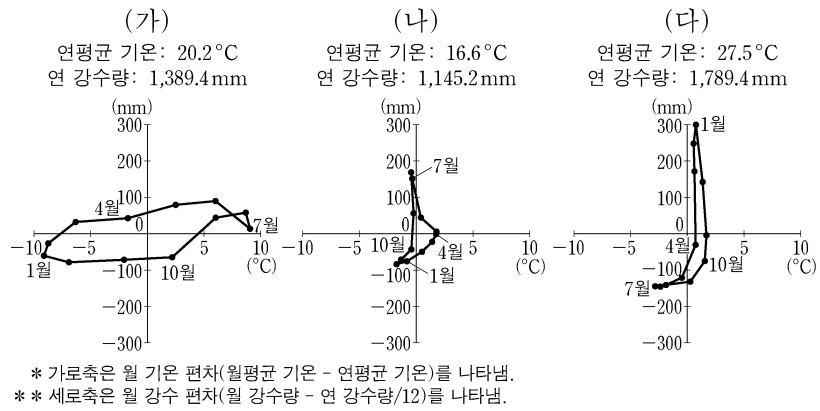
- ① ㄱ, ㄴ ② ㄱ, ㄷ ③ ㄴ, ㄷ ④ ㄴ, ㄹ ⑤ ㄷ, ㄹ

11. 그래프는 지도에 표시된 세 국가의 특성을 나타낸 것이다. (가)~(다) 국가에 대한 설명으로 옳은 것은?



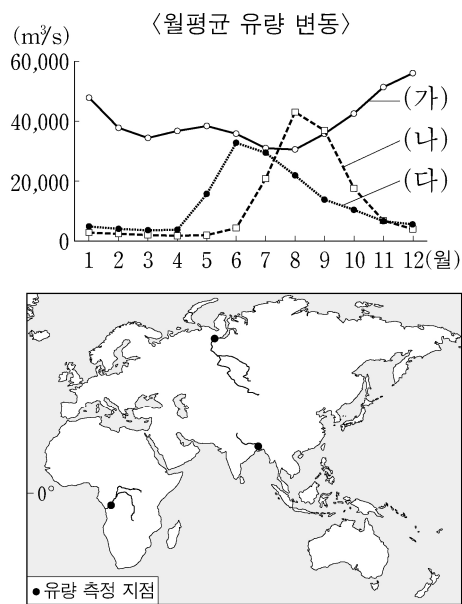
- ① (가)는 남아메리카 대륙에 위치한다.
 ② (가)는 (다)보다 국토의 면적이 좁다.
 ③ (나)는 (다)보다 1인당 국내 총생산(GDP)이 적다.
 ④ 총인구는 (다) > (나) > (가) 순으로 많다.
 ⑤ (가)~(다) 중 국가 내 서비스업 종사자 비율은 (다)가 가장 높다.

12. 그래프는 세 지역의 기후 특성을 나타낸 것이다. (가)~(다) 지역을 바르게 연결한 선을 지도의 A~E에서 고른 것은? [3점]



- ① A ② B ③ C ④ D ⑤ E

13. 그래프는 지도에 표시된 세 하천의 유량 변동을 나타낸 것이다. (가)~(다) 하천에 대한 설명으로 옳은 것은?



- ① (가) 유역에는 포드졸이 넓게 분포한다.
 ② (나) 유역은 대부분 건조 기후 지역에 속한다.
 ③ (다)는 봄철에 눈과 얼음이 녹으면서 유량이 증가한다.
 ④ (가)는 (나)보다 유량 측정 지점에서 관측된 월평균 유량의 변동 폭이 크다.
 ⑤ (나)는 북극해, (다)는 인도양으로 유입된다.

14. 다음은 세계의 대지형 단원의 수업 장면이다. 교사의 질문에 옳은 대답을 한 학생만을 <보기>에서 고른 것은?

(가)~(다) 국가를 배경으로 한 다큐멘터리의 제목입니다. (가)~(다) 국가와 세계의 대지형을 연관시켜 설명해 볼까요?

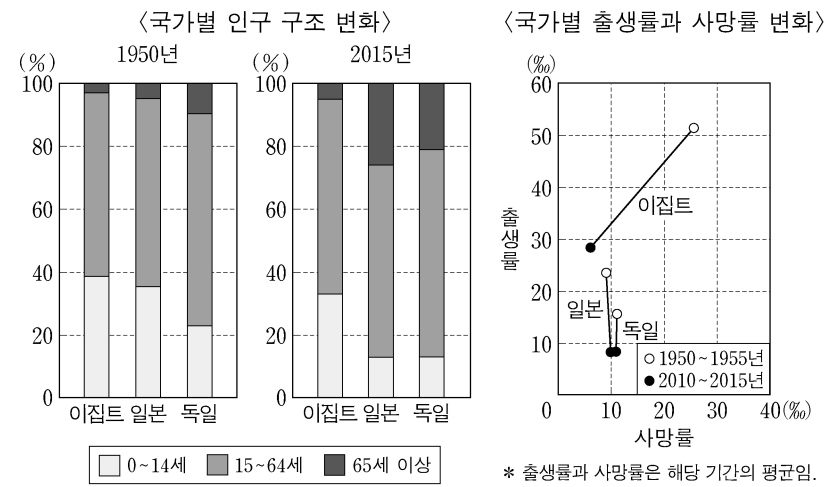
- (가)
 - 불의 땅을 가다, 북섬
 - 빙하 위를 걷다, 남섬
 - 화산 위의 사람들, 마오리족
- (나)
 - 지상에서 천상으로 향하는 산, 칸첸중카
 - 고대 왕국의 도시, 카트만두
 - 세상의 어머니, 에베레스트산
- (다)
 - 잉카의 보석, 티티카카 호수
 - 빛나는 태양제, 인티라이미
 - 신비의 공중 도시, 마추픽추

<보 기>

ㄱ. 갑: (가)에는 유라시아 판과 인도·오스트레일리아 판의 충돌로 형성된 8,000m 이상의 습곡 산지가 있습니다.
 ㄴ. 을: (나)에는 단층 활동으로 형성된 수천km의 지구대가 발달되어 있습니다.
 ㄷ. 병: (다)의 서쪽 바다에서는 남아메리카 판과 나스카 판이 만나며, 해구가 발달되어 있습니다.
 ㄹ. 정: (나)는 알프스-히말라야 조산대, (다)는 환태평양 조산대에 속해 있습니다.

- ① ㄱ, ㄴ ② ㄱ, ㄷ ③ ㄴ, ㄷ ④ ㄴ, ㄹ ⑤ ㄷ, ㄹ

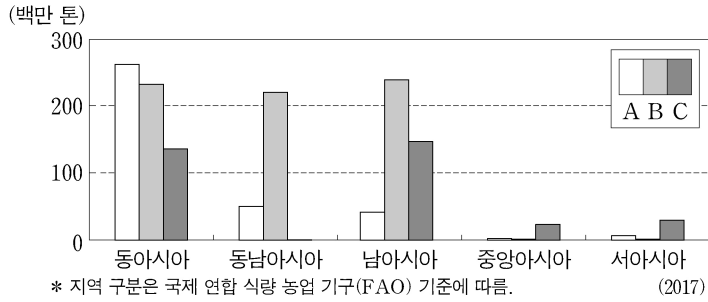
15. 그래프는 세 국가의 인구 특성을 나타낸 것이다. 이에 대한 설명으로 옳은 것은? [3점]



4 (세계 지리)

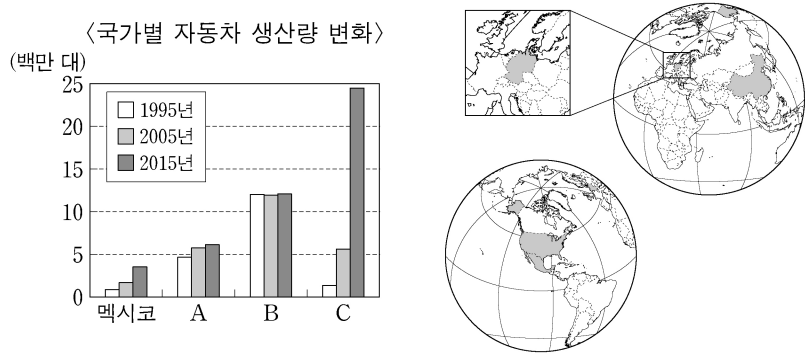
사회탐구 영역

16. 그래프는 세 식량 작물의 아시아 대륙 내 지역별 생산량을 나타낸 것이다. A~C에 대한 설명으로 옳은 것은? (단, A~C는 각각 밀, 쌀, 옥수수 중 하나임.) [3점]



- ① A의 세계 최대 수출국은 아시아에 위치한다.
- ② B의 대부분은 가축의 사료로 이용된다.
- ③ C는 세 식량 작물 중 단위 면적당 생산량이 가장 많다.
- ④ A는 B보다 세계 생산량에서 아시아가 차지하는 비율이 높다.
- ⑤ B와 C의 기원지는 아시아에 위치한다.

17. 그래프는 지도에 표시된 네 국가의 자동차 생산량 변화를 나타낸 것이다. 이에 대한 설명으로 옳은 것은? [3점]



- ① B는 유럽 연합(EU)의 회원국이다.
- ② A는 C보다 2015년 국내 총생산(GDP) 규모가 크다.
- ③ B는 C보다 2015년 제조업 종사자 수가 많다.
- ④ 2005년 자동차 생산량은 중국이 미국보다 많다.
- ⑤ 1995년 대비 2015년 자동차 생산량 증가율은 멕시코가 독일보다 높다.

18. 다음 자료의 (가)에 해당하는 국가로 옳은 것은?

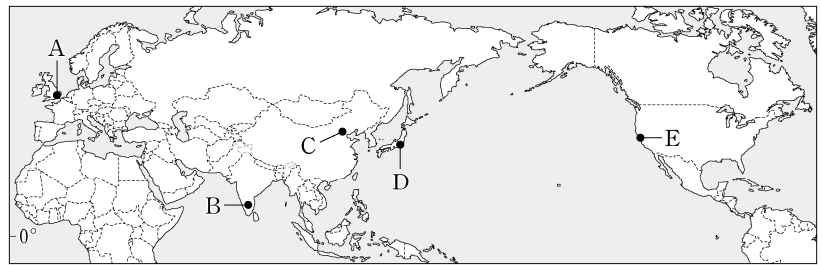
(가) 여행의 세 가지 테마

<p>사막 마라톤 관람</p> <p>폭염 속에서 최소한의 물과 식량만으로 약 250km를 달리는 사막 마라톤 관람</p>	<p>스키 체험</p> <p>사계절이 모두 있는 나라. 아틀라스 산맥에 내리는 폭설을 이용한 자연설 스키 체험</p>	<p>시티 투어</p> <p>흰색 가옥이 많아 도시 이름이 '하얀 집'을 뜻하는 카사블랑카(Casablanca) 투어</p>
---	---	---

- ①
- ②
- ③
- ④
- ⑤

19. 다음 글의 (가)~(다)에 해당하는 도시를 지도의 A~E에서 고른 것은? [3점]

- (가) 고원 지대에 위치하여 주변 저지대에 비해 기후 조건이 양호하다. 이 도시는 미국 서부와 밤낮이 반대이고, 영어에 능통한 젊은 공학도가 많아 수천 개의 IT 기업이 성장하였다.
- (나) 세계에서 인구가 가장 많은 국가의 수도로, 첨단 산업 위주의 '중관춘' 과학 기술 단지가 위치한다. 이곳은 주요 대학과 연구소가 밀집한 첨단 기술 지역으로 발전하였다.
- (다) 태평양 연안의 쾌적한 기후와 전문 인력을 쉽게 확보할 수 있는 고용 환경을 갖추고 있다. 이를 바탕으로 세계적인 첨단 기업들이 밀집한 '실리콘 밸리'가 형성되었다.



- | | | | | | |
|-----|-----|-----|-----|-----|-----|
| (가) | (나) | (다) | (가) | (나) | (다) |
| ① A | B | D | ② B | C | E |
| ③ B | D | E | ④ C | D | A |
| ⑤ C | E | A | | | |

20. 다음 자료는 세계 지리 사이버 학습 장면의 일부이다. (가)~(다)에 대한 설명으로 옳은 것만을 <보기>에서 있는 대로 고른 것은?

세계 지리 학습

갈등과 화합의 장소

국가	수도의 수리적 위치	국가 인구 (2018)
(가)	50°51' N, 4°21' E	약 1,150만 명
(나)	39°52' N, 32°52' E	약 8,190만 명
(다)	1°22' N, 103°48' E	약 580만 명

- <보 기>
- ㄱ. (가)는 스위스로 네 언어가 공존하고 있다.
 - ㄴ. (나)에서는 쿠르드족의 분리·독립 운동이 일어나고 있다.
 - ㄷ. (다)에서는 불교, 이슬람교, 크리스트교, 힌두교 등이 공존하고 있다.
 - ㄹ. (가)와 (나)는 인접 국가와 종교적 갈등으로 인해 분쟁을 겪고 있다.

- ① ㄱ, ㄴ
- ② ㄴ, ㄷ
- ③ ㄱ, ㄴ, ㄷ
- ④ ㄱ, ㄷ, ㄹ
- ⑤ ㄴ, ㄷ, ㄹ

* 확인 사항
○ 답안지의 해당란에 필요한 내용을 정확히 기입(표기)했는지 확인 하시오.