

제 4 교시

사회탐구 영역(동아시아사)

성명		수험번호					3				제 ( ) 선택
----	--	------	--	--	--	--	---	--	--	--	----------

1. (가)에 들어갈 문화유산으로 적절한 것은?

[문화유산 카드]

(가)

- 명칭: ○○○
- 출토 지역: 베트남 북부 홍강 일대
- 특징
  - 태양, 새, 기하학적 문양 등이 새겨져 있음.
  - 악기, 의례의 상징물, 부장품 등으로 사용됨.



2. 다음 조약이 체결될 당시 동아시아의 상황으로 옳은 것만을 <보기>에서 고른 것은? [3점]

제1조 청과 일본은 앞으로 더욱 화의를 돈독히 한다. 양국의 소속방토(所屬邦土)를 서로 침략하지 않으며 안전을 보장해야 한다.

제2조 양국 중 어느 한쪽이 타국으로부터 불공평하거나 경멸을 당하는 일이 있을 경우 서로 돕거나 중재, 조정하여 우의를 두텁게 해야 한다.

제8조 양국의 개항장에는 서로 이사관을 두고 자국 상민을 단속할 수 있다. 재산, 산업, 공사, 소송에 관계된 사건은 서로 자국의 법률로 취조하도록 영사 재판권을 승인한다.

- < 보 기 > —
- ㄱ. 한국 - 통상 수교 거부 정책이 추진되었다.
  - ㄴ. 중국 - 양무운동이 전개되었다.
  - ㄷ. 일본 - 막부 타도 운동이 전개되었다.
  - ㄹ. 베트남 - 동유 운동이 추진되었다.

① ㄱ, ㄴ    ② ㄱ, ㄷ    ③ ㄴ, ㄷ    ④ ㄴ, ㄹ    ⑤ ㄷ, ㄹ

3. 다음 사실이 나타났던 시기 동아시아의 상황으로 옳은 것은?

수탈에 저항하는 민중의 봉기가 번지고, 중국에서 보낸 태수가 쑹짜의 남편인 티싸익을 죽이자 쑹짜는 복수를 위하여 선봉에 섰다. 도처에서 모여든 병사들과 함께 쑹짜는 코끼리를 타고 수많은 성을 함락시켰다. 태수는 패잔병을 데리고 본국으로 돌아갔다. 중국은 다시 20만여 명의 병사를 보내어 쑹짜를 공격하였다.

- ① 위만이 집권하였다.
- ② 제자백가가 등장하였다.
- ③ 후한이 왜와 교류하였다.
- ④ 어우락 왕국이 성립하였다.
- ⑤ 야마토 정권이 세력을 확대하였다.

4. 다음 법령을 알아보기 위한 탐구 활동으로 가장 적절한 것은? [3점]

- 무역 총액은 청나라 배는 은 6,000관, 네덜란드 배는 은 3,000관으로 한정한다.
- 무역선의 입항은 매년 청나라 배는 30척, 네덜란드 배는 2척으로 제한한다.
- 입항하여 무역하는 것을 신패에 근거하여 제한한다. 신패를 소지하지 않은 상선은 무역을 금지한다.

- ① 천계령 해제가 끼친 영향을 알아본다.
- ② 3포에서 왜란이 일어난 원인을 조사한다.
- ③ 류큐의 중계 무역이 번성한 배경을 파악한다.
- ④ 공행 무역이 광저우로 제한된 결과를 분석한다.
- ⑤ 일본이 중국과 감합 무역을 실시한 목적을 찾아본다.

5. (가) 국가에 대한 설명으로 옳은 것은?

이 청동 거울에는 '거울은 항상 옆에 두고 선악을 밝히는 신뢰할 만한 벗과 같은 존재'라는 내용이 (가)의 고유 문자로 새겨져 있습니다. 이 문자는 (가)을/를 세운 야율아보기의 동생인 야율질라가 창안한 것입니다.

- ① 맹안·모극제를 실시하였다.
- ② 5대 10국의 분열을 수습하였다.
- ③ 슈고와 지토를 지방에 파견하였다.
- ④ 연운 16주를 두고 송과 대립하였다.
- ⑤ 압록강 유역의 강동 6주를 확보하였다.

6. 자료에 나타난 사건의 결과로 옳은 것은? [3점]

교토에서 개혁을 추진하던 고다이코 천황은 무사 세력과의 갈등으로 폐위되었습니다. 이후 지도에 나타난 것처럼 교토에서 요시노로 탈출하여 자신이 정통성을 가진 천황임을 내세웠습니다.

- ① 백강 전투가 벌어졌다.
- ② 오닌의 난이 일어났다.
- ③ 남북조 시대가 시작되었다.
- ④ 토목(보)의 변이 발생하였다.
- ⑤ 가마쿠라 막부가 붕괴되었다.

7. (가)에 들어갈 문화유산으로 가장 적절한 것은?

**동아시아사 수행 평가**

3학년 △반 △△번 이름: ○○○

\* 다음 사진과 글 자료를 통해 공통으로 추론할 수 있는 동아시아 불교의 특징을 서술하십시오. (10점)

(가)

현종께서 대장경을 판각해 완성하자 거란 군사가 물러갔습니다. 지금의 몽골도 그렇지 않겠습니까? 제불성현과 33천께서 신통한 힘으로 오랑캐가 다시는 우리나라를 짓밟는 일이 없게 해 주십시오.

동아시아 각 지역의 군주와 지배층은 불교를 이용하여 자신의 지배권을 강화하였다. 이 과정에서 '왕즉불', '황제즉여래'와 같은 사상이 등장하고, 호국 불교의 성격도 나타났다. **10점**

- ① 원강 대불

② 하치만 신상

③ 하노이 문묘

④ 유시마 성당

⑤ 장군총

8. (가) 국가에 대한 설명으로 옳은 것은?

토번이 비단길과 쓰촨 지역을 침공하자, 한반도에 주둔하고 있던 (가)의 군대에도 변화가 나타났다. 설인귀는 안동도호부를 평양에서 라오동의 신성(新城)으로 옮기고, 토번과 전투를 벌이기 위해 칭하이로 출발하였다. 이때 신라와 싸우던 상당수의 병력도 그쪽으로 이동하였다.

- ① 돌궐을 복속시켰다.
- ② 다이카 개신을 단행하였다.
- ③ 완도에 청해진을 설치하였다.
- ④ 종법적 봉건제를 도입하였다.
- ⑤ 월지를 중앙아시아 방면으로 몰아내었다.

9. 밑줄 친 '전란' 중에 볼 수 있는 모습으로 적절한 것은? [3점]

여진의 누르하치가 사신을 보내 말하기를, "우리들의 땅은 조선과 경계가 서로 연결하여 있는데 지금 조선이 전란을 겪고 있으니, 곧 건주도 위협에 처할 수 있습니다. 나의 휘하에 있는 기마병과 보병을 조선에 보내 황조(皇朝)에 공을 바칠 것입니다."라고 하였습니다.

- ① 영원(성) 전투를 지휘하는 원숭환
- ② 벽제관에서 전투를 벌이는 이여송
- ③ 남한산성에서 항전을 독려하는 인조
- ④ 가도에 주둔하며 조선의 지원을 요구하는 모문룡
- ⑤ 나가시노 전투에서 조총 부대를 통솔하는 오다 노부나가

10. (가) 국가에 대한 설명으로 옳은 것은? [3점]


- ① 류큐를 침략하였다.
- ② 북로남왜의 화를 입었다.
- ③ 거란과 전연의 맹약을 맺었다.
- ④ 지방에 다루가치를 파견하였다.
- ⑤ 여진을 정벌하고 동북 9성을 축조하였다.

11. 밑줄 친 '혁명'이 끼친 영향으로 적절한 것은?

쑨원이 위안스카이에게 전보를 보냈다. "내가 혁명으로 잠시 총통의 자리를 받아들이기는 했지만 사실상 이 직위를 당신에게 넘길 것이며, 나의 제안을 세계에 분명히 알릴 것입니다. 당신이 빠른 시일 안에 나의 제안을 받아들이기를 바랍니다."라고 썼다. 얼마 후 위안스카이가 임시 대총통에 취임하였다.

- ① 갑신정변이 일어났다.
- ② 아주 화친회가 조직되었다.
- ③ 변법자강 운동이 전개되었다.
- ④ 외몽골이 독립을 선언하였다.
- ⑤ 8개국 연합군이 베이징을 점령하였다.

12. 밑줄 친 '만세 시위'가 전개될 당시 동아시아의 상황으로 옳은 것은? [3점]



- ① 영·일 동맹이 해체되었다.
- ② 일본이 랴오둥반도를 청에 반환하였다.
- ③ 다이쇼 정변으로 가쓰라 내각이 붕괴되었다.
- ④ 연합국이 최초로 한국의 독립을 약속하였다.
- ⑤ 열강이 산둥반도에 대한 일본의 권익을 인정하였다.

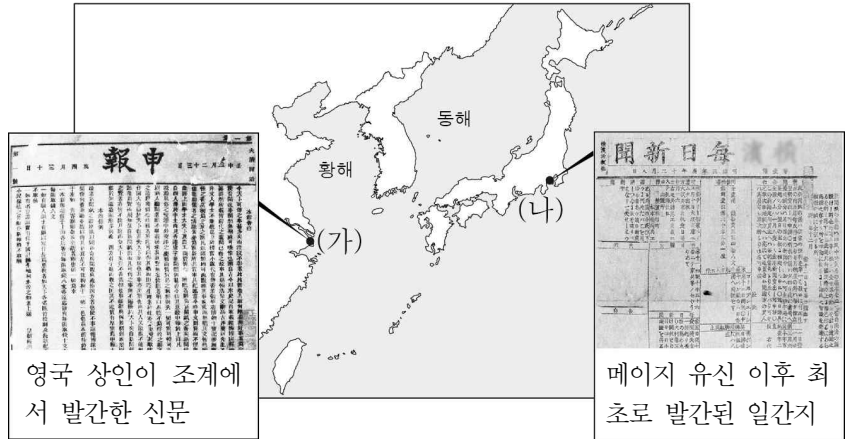
13. (가), (나) 사건 사이에 있었던 사실로 옳은 것은?

(가)	(나)
<b>동아시아사신문</b>	<b>동아시아사신문</b>
<b>만주국 수립</b> 지난해 만주를 침략한 일본이 만주국을 수립하고 청의 마지막 황제 푸이를 집정으로 내세웠다. 이에 일본에 대한 국제 사회의 비판이 확산되고 있다.	<b>일본군, 난징 점령</b> 올해 7월 루거우차오 사건을 구실로 중국을 침략한 일본이 상하이에 이어 난징을 점령하였다. 이에 중국 국민당 정부는 일본에 대한 총력전을 천명하였다.

- ① 조선 의용대가 조직되었다.
- ② 베트남 독립 동맹이 결성되었다.
- ③ 극동 인민 대표 회의가 개최되었다.
- ④ 일본이 국가 총동원법을 제정하였다.
- ⑤ 중국 공산당이 대장정을 단행하였다.

14. (가), (나) 도시에 대한 설명으로 옳은 것만을 <보기>에서 고른 것은?

<동아시아 각 지역의 신문 발간>



< 보기 >

- ㄱ. (가) - 5·30 운동이 일어났다.
- ㄴ. (가) - 경사 대학당이 설립되었다.
- ㄷ. (나) - 미·일 수호 통상 조약으로 개항되었다.
- ㄹ. (나) - 청과 일본 사이에 강화 조약이 체결되었다.

- ① ㄱ, ㄴ    ② ㄱ, ㄷ    ③ ㄴ, ㄷ    ④ ㄴ, ㄹ    ⑤ ㄷ, ㄹ

15. (가), (나) 성명이 발표된 민주화 운동 사이에 있었던 사실로 옳은 것만을 <보기>에서 고른 것은? [3점]

(가) 계엄 당국은 발포 명령을 내려 무차별 발포를 시작했습니다. 이 자리에 모이신 광주 시민 여러분, 이런 상황에서 우리가 할 수 있는 일이 무엇이겠습니까. ... (중략)... 우리 시민군은 여러분의 안전을 끝까지 지킬 것입니다.

(나) 첫째, 후야오방의 유지(遺志)를 계승하여 민주화와 정치 체제 개혁을 가속화시킬 것. 둘째, 당과 국가 기구 내에 만연한 부패와 사회 불평등을 해결할 것. ... (중략)... 당과 국가의 지도자들은 학생들의 요구 사항에 귀를 기울이고 학생들과 평등한 입장에서 대화를 해야 한다.

< 보기 >

- ㄱ. 한국 - 6월 민주 항쟁이 일어났다.
- ㄴ. 중국 - 미국과 국교를 수립하였다.
- ㄷ. 타이완 - 계엄령이 해제되었다.
- ㄹ. 일본 - 록히드 사건이 발생하였다.

- ① ㄱ, ㄴ    ② ㄱ, ㄷ    ③ ㄴ, ㄷ    ④ ㄴ, ㄹ    ⑤ ㄷ, ㄹ

16. 밑줄 친 '막부' 시기에 동아시아에서 있었던 사실로 옳지 않은 것은? [3점]

최근 쌀값이 점점 오르는데도 오사카의 관리들은 제멋대로 막부에는 쌀을 보내면서 천황이 있는 교토에는 쌀을 보내지 않는다. ...(중략)... 막부 직할령인 삼도(三都) 가운데 오사카의 부자들은 오랫동안 여러 다이묘에게 돈을 빌려주고 많은 이자를 취하면서 전에 없이 부유해졌다. 이들은 조년의 신분으로 다이묘의 관리가 되고 또 자신의 논밭 등을 엄청나게 소유하면서 아무런 부족함 없이 살고 있다.

- ① 조선근이 홍루몽을 집필하였다.
- ② 아담 샬이 시헌력을 제작하였다.
- ③ 박지원이 열하일기를 저술하였다.
- ④ 스키타 겐파쿠 등이 해체신서를 발간하였다.
- ⑤ 사비에르가 일본에 크리스트교를 전파하였다.

17. 자료를 활용한 탐구 주제로 가장 적절한 것은?

전국에 국(國), 군(郡), 리(里)를 설치하여 각각 국사, 군사, 이장을 두었다. 국사는 중앙 귀족 중에서 관제에 따라 6년을 임기로 파견되었으나, 국사 밑에서 군의 민정 및 재판을 관장한 군사는 해당 지방의 영향력 있는 호족 중에서 중신 임명되고 세습되었다.

- ① 군국제의 시행 배경
- ② 성리학적 명분론의 확산
- ③ 신라 민정 문서의 제작 의도
- ④ 안·사의 난에 따른 사회 변화
- ⑤ 일본의 율령 수용에 나타난 독자성

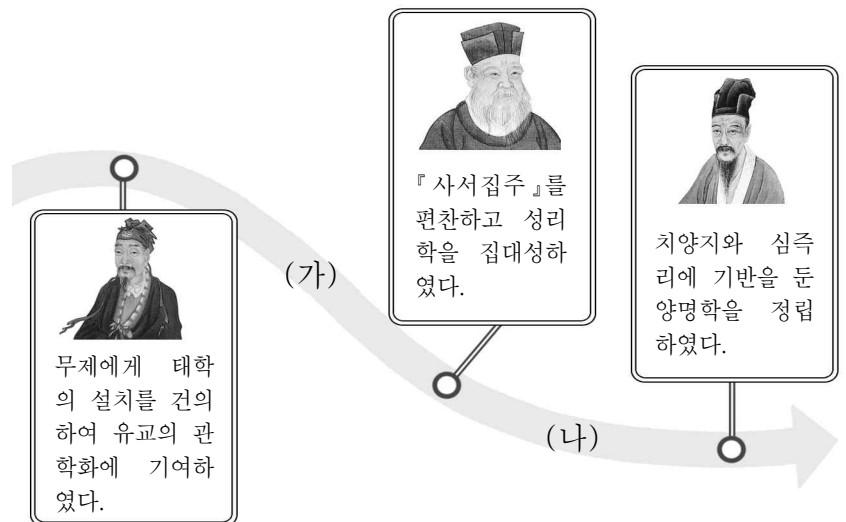
18. (가)에 들어갈 내용으로 적절한 것은? [3점]



- ① 평화 헌법이 제정되었습니다.
- ② 6·25 전쟁이 발발하였습니다.
- ③ 대약진 운동이 시작되었습니다.
- ④ 샌프란시스코 강화 조약이 체결되었습니다.
- ⑤ 제네바 협정에 따라 베트남이 남북으로 분단되었습니다.

19. (가), (나) 시기에 들어갈 수 있는 사실로 옳은 것만을 <보기>에서 고른 것은? [3점]

<인물로 보는 동아시아 유학의 흐름>

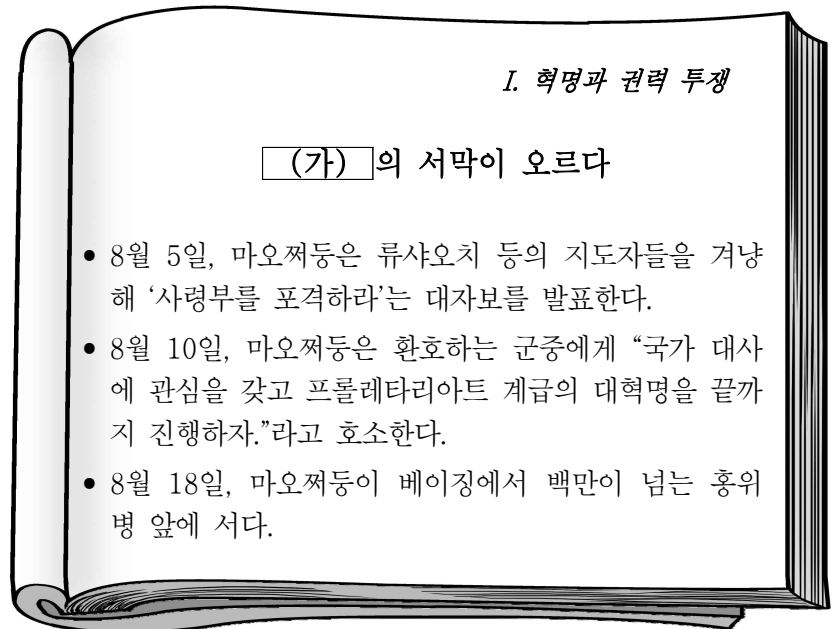


< 보 기 >

- ㄱ. (가) - 공영달이 오경정의의 편찬을 주도하였다.
- ㄴ. (가) - 후지와라 세이카가 사서오경왜훈을 저술하였다.
- ㄷ. (나) - 이제현이 만권당에서 중국 학자와 교류하였다.
- ㄹ. (나) - 건륭제의 명으로 방대한 사고전서가 편찬되었다.

- ① ㄱ, ㄴ    ② ㄱ, ㄷ    ③ ㄴ, ㄷ    ④ ㄴ, ㄹ    ⑤ ㄷ, ㄹ

20. (가) 사건이 전개된 시기에 있었던 사실로 옳은 것은?



- ① 55년 체제가 붕괴되었다.
- ② 한·일 기본 조약이 체결되었다.
- ③ 닉슨 대통령이 중국을 방문하였다.
- ④ 베트남 민주 공화국이 수립되었다.
- ⑤ 일본과 타이완이 국교를 수립하였다.

\* 확인 사항

- 답안지의 해당란에 필요한 내용을 정확히 기입(표기)했는지 확인하십시오.