

제 4 교시

사회탐구 영역 (사회·문화)

성명		수험번호					3		
----	--	------	--	--	--	--	---	--	--

1. 밑줄 친 ㉠, ㉡과 같은 현상의 일반적인 특징을 구분하기 위해 (가), (나)에 들어갈 수 있는 질문으로 옳은 것은?

최근 갯벌의 경제적·환경적 가치가 재조명되면서 ㉠ 기존의 생태 환경으로 되돌리는 역(逆)간척 사업이 시행되고 있다. 역간척 사업 이후 자정 능력을 갖추게 된 ㉡ 갯벌 생태계는 원래대로 회복되어 안정적으로 작동할 수 있게 된다.

- ① (가) - 존재 법칙의 지배를 받는가?
- ② (가) - 경험적 자료를 통해 탐구할 수 있는가?
- ③ (가) - 인간의 가치와 의지가 배제되어 나타나는가?
- ④ (나) - 확실성의 원리가 적용되는가?
- ⑤ (나) - 개연성을 통해 설명할 수 있는가?

2. 표는 질문 (가)~(다)를 활용하여 사회·문화 현상을 바라보는 관점 A~C를 구분한 것이다. 이에 대한 옳은 설명만을 <보기>에서 있는 대로 고른 것은? (단, A~C는 각각 기능론, 갈등론, 상징적 상호 작용론 중 하나이다.) [3점]

관점 \ 질문	(가)	(나)	(다)
A	예	아니요	아니요
B	아니요	예	아니요
C	아니요	아니요	예

<보 기>

ㄱ. A가 기능론이라면, (가)에는 '거시적 관점에 해당하는가?'가 적절하다.

ㄴ. B가 갈등론이라면, (나)에는 '기득권층의 이익을 대변하는 논리로 사용된다는 비판을 받는가?'가 적절하다.

ㄷ. (가)가 '집단 간 갈등을 사회 발전의 원동력으로 보는가?'이고, (다)가 '사회적 상황에 대한 개인의 주관적 의미 부여를 강조하는가?'라면, B는 기능론이다.

ㄹ. (나)가 '사회는 스스로 안정을 유지하려는 성향이 있는가?'이고, (다)가 '사회적 합의는 특정 집단의 강요로 이루어지는가?'라면, A는 상징적 상호 작용론, C는 갈등론이다.

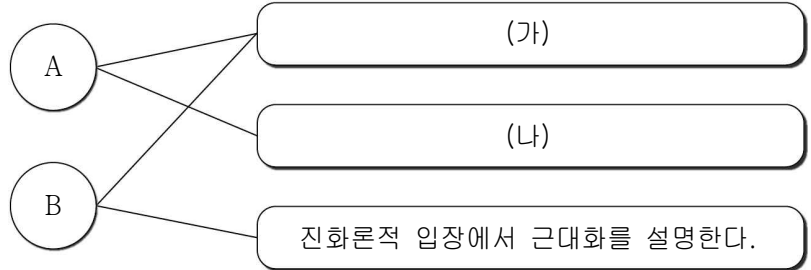
- ① ㄱ, ㄴ ② ㄱ, ㄹ ③ ㄷ, ㄹ
- ④ ㄱ, ㄴ, ㄷ ⑤ ㄴ, ㄷ, ㄹ

3. 표는 A~C의 일반적인 특징을 비교한 것이다. 이에 대한 설명으로 옳은 것은? (단, A~C는 각각 농업 사회, 산업 사회, 정보 사회 중 하나이다.)

비교 기준	비교 결과
면대면 접촉 정도	A > B
가정과 일터의 분리 정도	B < C

- ① A는 B에 비해 직업의 분화 정도가 높다.
- ② B는 C에 비해 사회 변동의 속도가 빠르다.
- ③ C는 A에 비해 구성원 간 익명성 정도가 낮다.
- ④ '의사 결정의 분권화 정도'는 A > C > B이다.
- ⑤ '2차 산업이 차지하는 비중'은 B > C > A이다.

4. 자료는 근대화를 바라보는 관점 A, B의 공통점과 차이점을 나타낸 것이다. 이에 대한 설명으로 옳은 것은? (단, A, B는 각각 근대화론과 종속 이론 중 하나이다.)



- ① A는 선진국과 후진국 간의 불평등한 역학 관계에 주목한다.
- ② B는 제3세계 국가들은 미발전이 아닌 저발전 상태에 있다고 본다.
- ③ A는 B와 달리 전통성과 근대성이 양립하기 어렵다고 본다.
- ④ (가)에는 '서구 중심적이라는 비판을 받는다.'가 적절하다.
- ⑤ (나)에는 '저개발국이 발전하지 못한 이유로 내부적 요인을 강조한다.'가 적절하다.

5. 밑줄 친 ㉠~㉤에 대한 설명으로 옳은 것은? [3점]

연구 주제	㉠ 학교폭력 가해 행동에 청소년의 공감 능력이 미치는 영향
가설 설정	㉡ 공감 능력이 높은 청소년일수록 학교폭력 가해 행동을 적게 할 것이다.
연구 대상	전국 청소년 중 ㉢ 1,000명을 무작위로 추출하여 선정
자료 수집	1) 설문 조사를 통해 학교폭력 가해 행동 횟수와 ㉣ 공감 능력 검사의 점수를 측정 2) 설문 조사에 참여한 청소년 중 ㉤ 학교폭력 가해 행동 횟수가 많은 청소년 20명에 대해 면접 실시
자료 분석	설문 조사를 통해 수집한 ㉢ 자료는 통계 처리, 면접을 통해 수집한 ㉤ 자료는 내용을 녹음하여 기록 후 코딩 분석
자료 분석 결과	㉣ 청소년의 공감 능력 정도는 학교폭력 가해 행동 횟수와 음(-)의 상관관계가 통계적으로 유의미하게 나타남.

- ① ㉠은 독립 변수이다.
- ② ㉢은 통제 집단, ㉤은 실험 집단이다.
- ③ ㉣은 ㉠의 조작적 정의에 해당한다.
- ④ ㉢은 양적 자료, ㉤은 1차 자료이다.
- ⑤ ㉣으로 보아 ㉤은 기각되었다.

6. 표는 사회 불평등 현상을 설명하는 이론 A, B를 구분한 것이다. 이에 대한 옳은 설명을 <보기>에서 고른 것은? (단, A, B는 각각 계급론과 계층론 중 하나이다.)

이론	A	B
질문		
사회 불평등 현상을 연속적인 서열화로 파악하는가?	아니요	예
(가)	예	예
(나)	예	아니요

<보 기>

ㄱ. A는 B와 달리 사회 불평등 현상을 이분법적으로 파악한다.
 ㄴ. B는 A와 달리 동일 위계에 속한 구성원들 사이의 연대 의식을 중시한다.
 ㄷ. (가)에는 '위계를 구분할 때 경제적 요인을 고려하는가?'가 적절하다.
 ㄹ. (나)에는 '현대 사회에서 나타나는 지위 불일치 현상을 설명하기에 용이한가?'가 적절하다.

- ① ㄱ, ㄴ ② ㄱ, ㄷ ③ ㄴ, ㄷ ④ ㄴ, ㄹ ⑤ ㄷ, ㄹ

7. 밑줄 친 ㉠ ~ ㉣에 대한 설명으로 옳은 것은? [3점]

<A부족 관찰 일지>

- 2000년 ○월 ○○일
 - A부족에게 가장 중요한 ㉠ 도구인 돌도끼는 남성들만 소유할 수 있다. 또한, ㉡ 돌도끼 제작 방법은 사내아이들에게만 전수된다.
 - 남성들에게는 돌도끼를 제작한 후 음식을 함께 먹는 식사 ㉢ 문화가 있다.
- 2001년 ○월 ○○일
 - 선교사들이 돌도끼를 소유하지 못한 여성들에게 쇠도끼를 선물하였다.
- 2005년 ○월 ○○일
 - ㉣ A부족은 더 이상 돌도끼를 사용하지 않으며, 돌도끼 재료를 얻기 위해 행해지던 B부족과의 축제도 사라졌다.
 - 남성들은 여성들에게 쇠도끼를 빌려 사용하게 되면서 ㉤ 부계 중심 사회에서 모계 중심 사회로 전환되었다.
 - ㉢ 남성들은 여전히 사내아이들에게만 전통적인 돌도끼 제작 방법을 전수하고 있다.

- ① ㉠은 ㉡과 달리 물질문화에 해당한다.
 ② ㉢은 '문화인'에서의 문화와 같은 의미로 사용되었다.
 ③ ㉣은 문화 요소들이 상호 연관되어 있음을 보여준다.
 ④ ㉤은 하위문화가 반문화로 변화될 수 있음을 보여준다.
 ⑤ ㉢은 발견으로 인한 문화 변동의 사례에 해당한다.

8. 빈곤 유형 A, B에 대한 설명으로 옳은 것은? (단, A, B는 각각 상대적 빈곤과 절대적 빈곤 중 하나이다.)

일반적으로 어떤 사람 혹은 가구의 빈곤 여부를 규정할 때 A와 B의 개념을 사용한다. A는 인간다운 삶을 유지하기 위한 최소한의 조건을 충족하지 못한 상태로 정의된다. 반면 B는 다른 사람들보다 소득이 적어 사회 구성원 대다수가 누리는 일반적인 생활수준을 영위하지 못하는 상태로 정의된다.

- ① A는 B와 달리 해당 국가의 소득 분포를 고려하여 파악한다.
 ② A는 B와 달리 소득 수준이 높은 국가에서는 나타나지 않는다.
 ③ B는 A와 달리 빈곤 상태에 대한 개인의 주관적 인식 개념이다.
 ④ A에 따른 빈곤율과 B에 따른 빈곤율의 합이 해당 국가 전체의 빈곤율이다.
 ⑤ B의 기준을 적용하면 A에 해당되지 않는 가구도 빈곤 가구에 포함될 수 있다.

9. 다음 사례에 대한 분석으로 옳은 것은? [3점]

- 장녀인 갑은 평소 꿈꾸던 경영학과를 졸업했다. 부모님이 경영하는 회사의 공개 채용에 합격하여 신입 사원 연수를 받은 후 영업팀에 배치되었다. 갑의 가정 배경을 모르는 팀원들은 항상 최선을 다하는 갑을 신뢰하였다. 이에 갑은 자신의 정체성을 밝혀야 할지 고민에 빠졌다.
- 차남인 을은 간호학과와 언론학과에 합격했지만 어머니의 영향으로 간호학과에 입학했다. 신입생 오리엔테이션에 참가하고 전공 강의도 열심히 들었으나 적성에 맞지 않아 학교를 계속 다닐지 고민하였다. 결국 을은 예전부터 동경해오던 언론학과에 진학하기 위해 재학 중인 학교를 자퇴하고, 현재 대학 입학시험을 준비 중이다.

- ① 갑은 을과 달리 역할 행동에 따른 보상과 제재를 경험하였다.
 ② 갑은 을과 달리 2차적 사회화 기관을 통해 예기 사회화를 경험하였다.
 ③ 을은 갑과 달리 현재 공식적 사회화 기관에 소속되어 있다.
 ④ 을은 갑과 달리 소속 집단과 준거 집단의 불일치를 경험하였다.
 ⑤ 갑, 을 모두 귀속 지위와 성취 지위 간 역할 갈등을 경험하였다.

10. 다음 자료에 대한 분석으로 옳은 것은? [3점]

갑국 정부는 <자료1>과 같이 A, B안 중 하나의 방안으로 교육 복지 지원금을 지급하려 한다. <자료2>는 갑국의 대학 입학 자격을 갖춘 자녀가 있는 가구에 대한 소득 분위별 현재 자녀 대학 진학률과 A, B안 중 하나의 방안을 선택하여 지원할 경우 예상되는 대학 진학률을 나타낸 것이다.

<자료1>

항목	방법
A안	소득과 상관없이 대학 입학 자격을 갖춘 자녀가 있는 모든 가구에 가구당 월 50달러 지원
B안	소득 분위에 따라 대학 입학 자격을 갖춘 자녀가 있는 모든 가구에 가구당 월 120달러/N(해당 가구가 속한 분위 숫자)로 지원

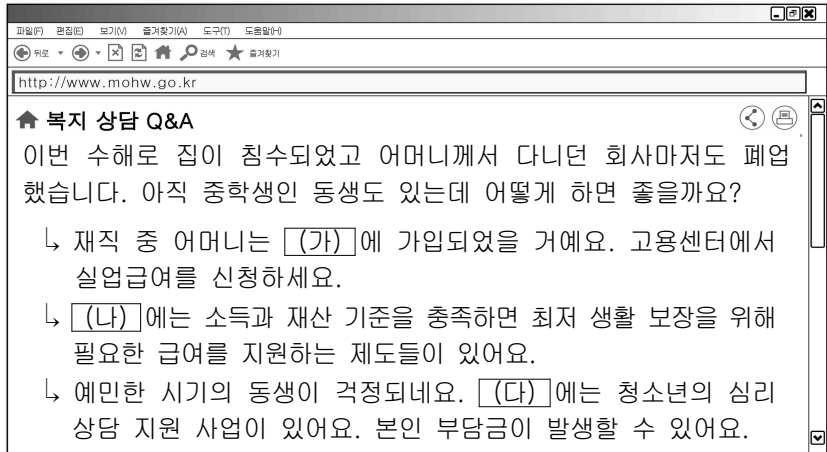
<자료2> (단위: %)

진학률 분위	현재 자녀 대학 진학률	A안 적용 시 예상 자녀 대학 진학률	B안 적용 시 예상 자녀 대학 진학률
1분위	25	30	40
2분위	48	50	60
3분위	64	70	66
4분위	72	75	75
5분위	91	95	93

* 갑국의 대학 입학 자격을 갖춘 자녀가 있는 전체 가구를 소득 순으로 나열하였을 때, 하위 20%에 해당하는 가구가 1분위이며, 소득은 5분위>4분위>3분위>2분위>1분위 순이다.
 ** 자녀 대학 진학률 = $\frac{\text{해당 분위 전체에서 대학에 진학한 총 자녀 수}}{\text{해당 분위에 속한 전체 가구의 대학 입학 자격을 갖춘 총 자녀 수}} \times 100$

- ① B안 적용 시 받는 월별 교육 복지 지원금이 가장 많은 가구와 가장 적은 가구의 차이는 100달러이다.
 ② 대학 입학 자격을 갖춘 자녀가 있는 2분위 가구가 받는 가구당 월별 교육 복지 지원금은 A안이 B안에 비해 많다.
 ③ 소득 상위 20% 가구의 경우 현재 자녀 대학 진학률과 예상되는 자녀 대학 진학률 간 격차는 B안이 A안의 2배이다.
 ④ 대학 입학 자격을 갖춘 자녀가 있는 모든 가구에 지급되는 월별 교육 복지 지원금은 B안이 A안에 비해 10% 많다.
 ⑤ 각 분위에 속한 대학 입학 자격을 갖춘 총 자녀 수가 같다면, 갑국 전체의 현재 자녀 대학 진학률은 60%이다.

11. 우리나라 사회 보장 제도의 유형 (가) ~ (다)의 일반적인 특징에 대한 설명으로 옳은 것은? (단, (가) ~ (다)는 각각 공공 부조, 사회 보험, 사회 서비스 중 하나이다.)



- ① (가)는 가입자의 수혜 정도에 따라 비용이 산출된다.
- ② (나)는 상호 부조의 원리로 수혜자의 자활을 돕는다.
- ③ (가)는 (다)와 달리 민간단체를 통해 운영되기도 한다.
- ④ (나)는 (가)에 비해 소득 재분배 효과가 크다.
- ⑤ (가)는 (나), (다)에 비해 수혜 대상자 범위가 좁은 편이다.

12. 밑줄 친 ㉠ ~ ㉣에 대한 질문에 옳게 답변한 학생을 고른 것은? [3점]

식품 회사 팀장인 A는 출근 후 관련 ㉠ 정부 기관 담당자에게 신제품 인증 일정을 확인했다. 이어 신제품 홍보를 위한 ㉡ 언론사 보도 자료를 검토했다. 점심 전에는 ㉢ 노동조합의 조합원 총회를 위한 집행부 사전 회의에 참석했다. 퇴근 후 ㉣ 사내 배드민턴 동호회 활동에 참가하여 스트레스를 풀었고, 귀갓길에 ㉤ 가족 여행에 필요한 물품을 샀다.

학생	질문	답변
갑	이익 사회이면서 공식 조직에 해당하는 집단은?	㉠, ㉣
을	A의 내집단이면서 2차 집단의 성격이 강한 집단은?	㉡, ㉣
병	일정한 목적 달성을 위해 자발적으로 조직된 집단은?	㉢, ㉣
정	본질 의지로 결합되어 전인격적 관계에 기초한 집단은?	㉤

- ① 갑, 을 ② 갑, 병 ③ 을, 병 ④ 을, 정 ⑤ 병, 정

13. 자료는 대중 매체 A~C의 일반적인 특징을 비교한 것이다. 이에 대한 설명으로 옳은 것은? (단, A~C는 각각 종이 신문, SNS, 텔레비전 중 하나이다.) [3점]

○ A는 C에 비해 정보 전달의 신속성이 높다.
○ B는 A, C에 비해 정보 재가공의 용이성이 높다.

- ① (가)에는 '정보 생산자의 전문성'이 적절하다.
- ② (나)에는 '정보 소비자의 수동성'이 적절하다.
- ③ (다)에는 '정보 확산 경로의 다양성'이 적절하다.
- ④ (라)에는 '정보 전달자와 수용자 간 상호 작용성'이 적절하다.
- ⑤ A는 B, C와 달리 복합 감각의 정보를 전달할 수 있다.

14. 일탈 이론 (가) ~ (다)에 대한 설명으로 옳은 것은? (단, (가) ~ (다)는 각각 낙인 이론, 아노미 이론, 차별적 교제 이론 중 하나이다.)

(가) 다른 사람들에게 일탈 행위자로 규정 받게 되면 자신을 대하는 다른 사람들의 일반적인 태도와 기대에 맞추어 자아 정체성을 형성하게 된다.
(나) 일탈은 사회화의 결과이다. 일탈자나 일탈 집단과 어울리면서 일탈 행동뿐만 아니라 그 행동을 정당화하는 가치까지 내면화하여 자신의 행위규범을 형성하게 된다.
(다) 일탈은 사회 구성원들이 추구하는 문화적 목표를 달성하기 위한 제도적 수단이 제대로 갖추어지지 않았을 때 발생한다.

- ① (가)는 최초 일탈이 반복적 일탈로 이어지는 과정에 주목한다.
- ② (나)는 일탈 행동에 대한 대책으로 사회 규범의 통제력 회복을 강조한다.
- ③ (다)는 지배 집단의 이익을 위해 만들어진 사회 제도가 일탈 행동의 근본 원인이라고 본다.
- ④ (다)는 (나)와 달리 타인과의 상호 작용이 일탈 발생 과정에 미치는 영향력을 중시한다.
- ⑤ (가), (다)는 (나)와 달리 사회의 지배적 가치를 사회화하지 못한 사람이 일탈 행동을 저지른다고 본다.

15. 다음 자료에 대한 분석으로 옳은 것은? [3점]

<자료1>은 문화 변동의 외재적 요인 (가), (나)를 분류한 것이며, <자료2>는 갑~병국의 문화 교류 및 변동 과정을 나타낸 것이다. 단, 제시된 자료 이외의 다른 문화 변동은 없었다.

*○, ●, ◇, ◆, ☆, ◆는 서로 다른 문화 요소를 의미한다.
**◆는 ◇와 ◆가 결합하여 나타난 제3의 문화 요소이다.

- ① 변동 전 갑국에서는 을국과 달리 문화 교류가 직접 전파를 통해 일어났다.
- ② 변동 후 을국에서는 병국과 달리 문화 병존이 나타났다.
- ③ 변동 후 병국에서는 갑국과 달리 자국 문화 요소의 소멸이 발생하였다.
- ④ 변동 후 갑국과 을국 모두에서 자문화 정체성이 상실되었다.
- ⑤ 변동 후 병국에서는 변동 전 갑국과 을국에 각각 존재했던 문화 요소가 나타났다.

16. 그림에서 개인과 사회의 관계를 바라보는 서로 다른 갑, 을의 관점에 대한 설명으로 옳은 것은?

저는 1인 가구 증가가 전적으로 장기적 저성장 경제 구조 때문이라고 봅니다. 취업이 어려워져 결혼도 기피하고 있다고 생각합니다.

갑

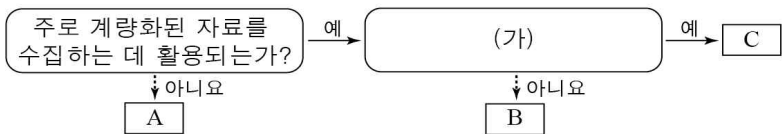
<OO 뉴스>
이제는 1인 가구 시대
네 집 중 한 집은
1인 가구

을

경제적으로 안정된 사람도 혼자 사는 경우가 많습니다. 이는 구조적 영향이 아닌 개인의 가치관 변화 때문이라고 봅니다.

- ① 갑의 관점은 개인의 행위가 사회에 의해 규정된다고 본다.
- ② 을의 관점은 사회가 개인의 외부에 실제로 존재한다고 본다.
- ③ 갑의 관점은 을의 관점과 달리 개인의 이익이 사회 전체의 이익보다 우선한다고 본다.
- ④ 을의 관점은 갑의 관점과 달리 개인은 사회 속에서만 존재 의미를 갖는다고 본다.
- ⑤ 갑, 을의 관점은 모두 사회를 개인들의 속성으로 환원시켜 설명할 수 있다고 본다.

17. 다음은 자료 수집 방법 A~C를 일반적인 특징에 따라 분류한 것이다. 이에 대한 옳은 설명을 <보기>에서 고른 것은? (단, A~C는 각각 실험법, 질문지법, 참여 관찰법 중 하나이다.) [3점]



<보 기>

ㄱ. A는 실제성이 높은 생생한 자료를 수집하기에 용이하다.
 ㄴ. B, C는 A에 비해 자료 수집 과정에서 연구자의 주관적 가치가 개입될 가능성이 높다.
 ㄷ. (가)가 '언어적 상호 작용에 의한 자료 수집이 필수적인가?' 라면, C는 B에 비해 문맹자에게 사용하기 어렵다.
 ㄹ. (가)가 '연구 대상자에게 인위적 조작을 가하고 그로 인해 나타나는 변화를 파악하는 방법인가?' 라면, 자료 수집 상황에 대한 통제 정도는 C > A > B이다.

- ① ㄱ, ㄴ ② ㄱ, ㄷ ③ ㄴ, ㄷ ④ ㄴ, ㄹ ⑤ ㄷ, ㄹ

18. 문화 이해 태도 A~C에 대한 설명으로 옳은 것은? (단, A~C는 각각 문화 상대주의, 문화 상대주의, 자문화 중심주의 중 하나이다.)

질문	A	B	C
문화 간 우열이 있다고 인정하는가?	예	예	아니요
자기 문화보다 특정 타문화를 높게 평가하는가?	아니요	예	아니요

- ① A는 자기 문화를 기준으로 타문화를 평가한다.
- ② B는 '모든 문화가 고유한 가치를 지닌다.'고 전제한다.
- ③ C는 타문화와 문화적 마찰을 일으킬 가능성이 높다.
- ④ B는 A에 비해 국수주의로 흐를 가능성이 높다.
- ⑤ C는 B에 비해 타문화를 맹목적으로 수용할 가능성이 높다.

19. 다음 자료에 대한 분석으로 옳은 것은?

A, B는 각각 핵가족과 확대 가족 중 하나이며, 일반적인 특징 (가)~(다)를 적용하여 비교한 자료이다. B는 A에 비해 세대 간 가풍 전달이 용이하다는 특징을 갖는다.

* 0에서 멀수록 그 정도가 높거나 강하다.

- ① A는 B와 달리 전통적인 농업 사회에 일반적으로 나타난다.
- ② B는 A와 달리 부부만으로 구성된 가족을 포함한다.
- ③ (가)에는 '구성원 간 수평적 의사 결정의 정도'가 적절하다.
- ④ (나)에는 '주거 이전의 용이성'이 적절하다.
- ⑤ (다)에는 '자녀 양육 및 노부모 부양의 용이성'이 적절하다.

20. 다음 자료에 대한 옳은 분석을 <보기>에서 고른 것은? [3점]

다음은 갑국의 계층 A~C의 세대 간 이동 현황을 나타낸 것이다. 부모 세대와 자녀 세대 모두에서 다이아몬드형 계층 구조가 나타나며, C는 A보다 높은 계층이다. 또한, 갑국의 각 계층별 부모 세대 인구 대비 세대 간 이동을 한 사람과 그렇지 않은 사람의 비는 1:1이다.

<세대별 계층 간 상대적 비(比)>

구분	A : B+C	A+B : C
부모 세대	1 : 1	4 : 1
자녀 세대	2 : 3	7 : 3

<세대 간 계층 이동 현황>

구분	A → B	A → C
A의 대물림 인구 대비	㉠	㉡
A에서 타 계층으로 이동한 인구 비율	㉢	㉣

* 갑국의 계층은 상층, 중층, 하층으로만 구분하며, 모든 부모의 자녀는 1명이다.

<보 기>

ㄱ. 자녀 세대는 부모 세대에 비해 하층의 비율이 증가하였다.
 ㄴ. ㉣이 40%라면, 부모 세대 상층에서 자녀 세대 하층으로 이동한 사람은 없다.
 ㄷ. 부모가 중층인 하층 자녀는 ㉠이 60%인 경우가 ㉡이 80%인 경우의 4배이다.
 ㄹ. ㉣이 40%인 경우는 ㉠이 20%인 경우에 비해 세대 간 하강 이동한 사람이 많다.

- ① ㄱ, ㄴ ② ㄱ, ㄷ ③ ㄴ, ㄷ ④ ㄴ, ㄹ ⑤ ㄷ, ㄹ

* 확인 사항
 ○ 답안지의 해당란에 필요한 내용을 정확히 기입(표기)했는지 확인 하시오.