

제 4 교시

사회탐구 영역(사회·문화)

성명  수험 번호

1. 밑줄 친 ㉠~㉤과 같은 현상의 일반적인 특징을 고려하여 자신에게 주어진 질문에 모두 옳게 응답한 학생은?

최근 도심에 ㉠ 새끼 멧돼지가 먹이를 찾아 자주 출몰하고 있습니다. 이에 대한 원인과 대책을 설명해 주시기 바랍니다.

그 이유는 어미 멧돼지가 ㉡ 데리고 있던 새끼를 독립시키는 시기인데다, ㉢ 사람들의 주거지 개발로 서식지가 파괴되어 먹이가 부족해졌기 때문입니다. 이를 막으려면 ㉣ 야생 동물의 서식지를 보존하려는 노력이 필요합니다.



앵커



기자

학생	질문	응답			
		㉠	㉡	㉢	㉣
갑	물가치적 현상인가?	×	○	○	×
을	당위 법칙의 적용을 받는가?	○	×	○	○
병	확실성의 원리가 적용되는가?	○	○	×	×
정	보편성과 특수성이 공존하는가?	○	×	×	×
무	경험적 자료에 의해 연구할 수 있는가?	○	○	×	×

(○: 예, ×: 아니오)

- ① 갑      ② 을      ③ 병      ④ 정      ⑤ 무

2. 다음 사례를 연구 윤리 측면에서 적절하게 평가한 것만을 <보기>에서 있는 대로 고른 것은? [3점]

- 독신세 부과를 주장하던 갑은 독신세 도입에 대한 미혼자의 인식을 연구하였다. 결혼에 호의적인 미혼자를 대상으로 조사하여, 해당 자료를 엄격하게 분석한 후 75%가 독신세 부과에 찬성한다는 결과를 발표하고 독신세 도입을 촉구하였다. 이후 결혼 정보 회사를 운영하는 친구의 요청으로 연구 결과와 함께 연구 대상의 개인 정보를 제공하였다.
- 특정 기업의 주식을 소유한 을은 해당 기업의 주가 변동 예측 연구를 진행하였다. 해당 기업의 주식 관련 자료를 모두 수집한 후 주가 상승을 예측한 자료만 분석하여, 그중에 주가 상승 폭이 최대치로 예측된 분석 내용을 근거 자료로 제시하면서 해당 기업의 주가가 단기간에 대폭 상승할 것이라고 결과를 발표하였다.

- 〈 보 기 〉
- ㄱ. 자료 수집 단계에서 갑은 을과 달리 의도적으로 왜곡된 자료 수집을 하였다.
  - ㄴ. 자료 분석 단계에서 을은 갑과 달리 고의로 자료를 선별하여 분석하였다.
  - ㄷ. 결과 발표 단계에서 갑, 을 모두 자신의 이익을 추구하기 위해 분석 결과의 일부를 은폐하여 발표하였다.
  - ㄹ. 을은 갑과 달리 수집한 자료를 연구 외의 목적으로 유출하였다.

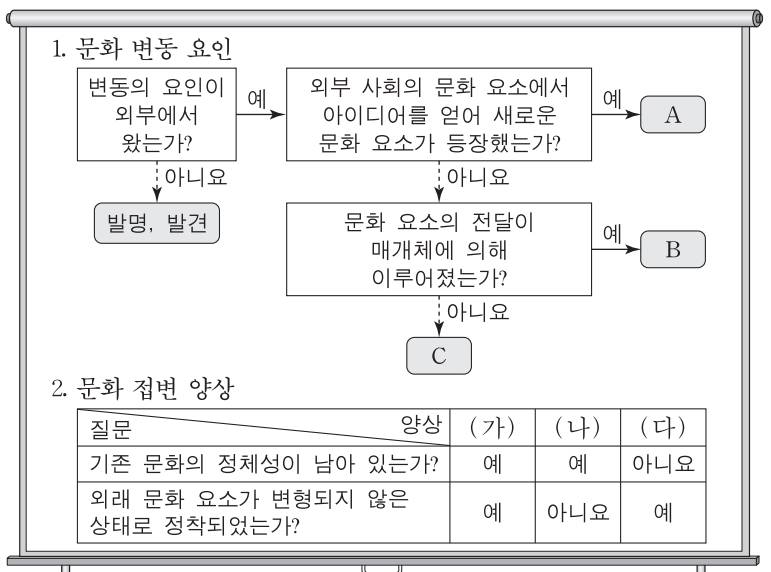
- ① ㄱ, ㄴ      ② ㄱ, ㄷ      ③ ㄷ, ㄹ  
 ④ ㄱ, ㄴ, ㄷ      ⑤ ㄴ, ㄷ, ㄹ

3. 가족 형태의 변화를 바라보는 관점 (가), (나)에 대한 설명으로 옳은 것은?

(가) 현대 사회에서 이혼과 재혼, 공동체 가족, 1인 가구의 증가 등 가족 형태의 변화는 자연스러운 현상이다. 이는 가족 내에서 경제적 우위를 갖는 남성 중심의 권위주의적인 전통적 가족 관계에 저항하여 이루어진 결과이다.  
 (나) 현대 사회에서 이혼과 재혼, 공동체 가족, 1인 가구의 증가 등 가족 형태의 변화는 자연스러운 현상이라 볼 수 없다. 이는 가족의 양육 및 부양 기능이 약화되고 가족 간 유대 관계를 중시하는 인식도 약화된 결과이다.

- ① (가)는 (나)와 달리 가족 구성원 간의 갈등을 당연한 것으로 본다.
- ② (가)는 (나)와 달리 가족 형태의 변화 원인을 구성원의 의식 변화에서 찾는다.
- ③ (나)는 (가)와 달리 가족 형태의 변화 원인을 사회 구조의 영향력에서 찾는다.
- ④ (나)는 (가)와 달리 가족 구성원 간의 갈등을 평등한 가족 관계의 확산으로 해결할 수 있다고 본다.
- ⑤ 현대 사회의 가족 형태 변화를 (가)는 가족 해체의 결과로, (나)는 가족 형태의 다양화로 본다.

4. 자료를 통해 문화 변동 사례를 분석한 것으로 옳은 것은? (단, A~C는 각각 간접 전파, 자극 전파, 직접 전파 중 하나이고, (가)~(다)는 각각 문화 공존, 문화 동화, 문화 융합 중 하나이다.) [3점]



- ① 다른 나라의 종교 교리와 체계를 응용하여 만든 신흥 종교가 기존 종교를 대체한 사례는 A에 의한 (가)에 해당한다.
- ② 새로운 정보 통신 기술을 개발하여 자국의 첨단 매체 발달에 기여한 사례는 B에 의한 (나)에 해당한다.
- ③ 케이팝(K-pop)의 인기로 외국인이 한국어를 배우러 한국에 와서 정착하는 사례는 B에 의한 (다)에 해당한다.
- ④ 자국을 식민 지배한 나라의 언어와 자국의 전통 언어를 공용어로 사용하는 사례는 C에 의한 (가)에 해당한다.
- ⑤ 이웃 나라의 특정 음료가 교역을 통해 들어와 자국민이 즐겨 마시는 음료 중 하나가 된 사례는 C에 의한 (나)에 해당한다.

5. 밑줄 친 ㉠~㉣에 대한 설명으로 옳은 것은? [3점]

연구자 갑은 ㉠행복감에 소득 수준과 물질주의 가치관이 미치는 영향을 연구하고자, 전국의 ㉡30세 이상 성인 중 1,000명을 대상으로 설문 조사를 하였다. 분석 결과 삶에 대한 만족도는 ㉢월평균 수입 정도와 정(+)의 관계이지만, ㉣삶에서 돈이 중요하다고 생각하는 정도와는 ㉤부(-)의 관계를 보였다. 연구자 을은 중학교에서 학생들의 생활에 대해 참여 관찰을 실시한 결과 ㉥행복감이 높은 학생이 학교 활동에 더 열심히 참여하는 것을 발견하였다. 두 연구 결과를 종합하여, 병은 ㉦학생의 가계 소득 수준이 높을수록 학교 활동도 열심히 한다고 결론지었다.

- ① ㉠은 갑의 연구에서, ㉥은 을의 연구에서 종속 변수에 해당한다.
- ② ㉡은 갑의 연구에서 표본이다.
- ③ ㉢, ㉣은 갑의 연구에서 독립 변수에 대한 조작적 정의이다.
- ④ ㉤으로 보아 갑은 가설 검증에 실패하였다.
- ⑤ ㉦은 병이 연역적 연구 과정을 통해 도출한 타당한 결론이다.

6. 일탈 이론 (가)~(다)에 대한 설명으로 옳은 것은?

(가) 어떤 사회에서는 특정 목표가 모두에게 강조되지만 이를 달성하기 위한 접근 기회는 차별적으로 주어진다. 일탈은 문화적으로 정의된 열망과 사회적으로 구조화된 수단 사이의 격차로 인해 발생한다.  
 (나) 사회 집단은 그들이 만든 규칙을 위반하는 것을 일탈이라고 보고, 이 규칙을 상대적으로 다르게 적용하여 일탈자를 만들어 낸다. 일탈은 행위의 속성에 있는 것이 아니라 규칙과 처벌을 위반자에게 적용한 결과이다.  
 (다) 사회 구조는 사람들이 상호 작용하는 조건을 형성해 주지만, 그 자체가 일탈 행동을 유발하는 것은 아니다. 일탈 행동은 다른 사람과의 친밀한 상호 작용을 통해 동기, 기술, 법에 대한 태도 등을 습득하면서 발생한다.

- ① (가)는 일탈 행동의 해결 방법으로 일탈 규정에 대한 신중한 접근을 강조한다.
- ② (나)는 일탈 행동의 해결 방법으로 일탈자에 대한 사회 통제와 규제 강화 방안의 마련을 강조한다.
- ③ (다)는 일탈 행동의 원인을 차별적인 제재에서 찾는다.
- ④ (가)는 (다)와 달리 일탈 행동의 원인을 개인적인 차원에서 찾는다.
- ⑤ (나), (다)는 (가)와 달리 타인들과의 상호 작용이 일탈 발생 과정에 미치는 영향을 중시한다.

7. 다음은 연예인 갑의 주간 일정표이다. 밑줄 친 ㉠~㉥에 대한 설명으로 옳은 것은? [3점]

월: ㉠소속된 기획사의 봉사 동아리 회원들과 봉사 활동 참가  
 화: ㉡OO방송국의 예능 프로그램 녹화  
 수: ㉢국세청의 모범 납세자 시상식 참석  
 목: 어머니 생신 축하를 위한 ㉣가족 모임 참석  
 금: ㉤△△대학교 총학생회 주관 축제 행사 공연  
 토: ㉥연예인 야구단 시합 참가

- ① ㉠과 ㉡은 갑의 내집단이다.
- ② ㉢과 ㉣은 자발적 결사체이다.
- ③ ㉤과 ㉥은 1차 집단이다.
- ④ ㉢, ㉣은 ㉠과 달리 공식 조직이다.
- ⑤ ㉤, ㉥은 ㉡과 달리 공동 사회이다.

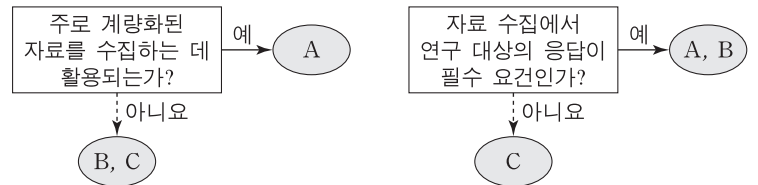
8. 다음 글에서 부각되는 개인과 사회의 관계를 보는 관점에 부합하는 진술을 <보기>에서 고른 것은?

민원인이 관료제 특징을 보이는 기관을 방문하여 일처리를 하다 보면 좌절감을 경험하는 경우가 많다. 이러한 좌절감은 민원인의 무능력 때문인가? 아니면 이곳저곳에서 문서를 여러 번 작성하게 하는 직원 개인의 잘못 때문인가? 이러한 좌절감은 조직의 규모 등과 같은 요인에 의해서 설명될 수 있다. 조직의 규모는 운영 방식에 영향을 주어 조직의 독특한 특성을 형성하고, 개인은 이 특성으로부터 자유로울 수 없다.

— <보기> —  
 ㄱ. 개인은 사회에 의해 구조화된 행동을 한다.  
 ㄴ. 개인은 사회 속에서만 존재 의미를 갖는다.  
 ㄷ. 사회는 개인의 자율적인 의지에 의해 형성된다.  
 ㄹ. 사회는 개인의 속성에 의해 그 속성이 결정된다.

- ① ㄱ, ㄴ    ② ㄱ, ㄷ    ③ ㄴ, ㄷ    ④ ㄴ, ㄹ    ⑤ ㄷ, ㄹ

9. 자료 수집 방법 A~C의 일반적인 특징에 대한 설명으로 옳은 것은? (단, A~C는 각각 면접법, 질문지법, 참여 관찰법 중 하나이다.)



- ① A는 B와 달리 연구 대상의 주관적인 인식을 파악할 수 없다.
- ② B는 A에 비해 다수를 대상으로 자료를 수집하기가 용이하다.
- ③ C는 A, B와 달리 연구자의 직관적 통찰로 해석해야 하는 자료를 수집할 수 있다.
- ④ B, C는 A에 비해 연구 대상과 연구자 간 신뢰감 형성의 중요성이 강조된다.
- ⑤ 자료 수집 상황에 대한 통제 수준은 A > C > B이다.

10. 다음 사례에 대한 옳은 분석만을 <보기>에서 있는 대로 고른 것은? [3점]

○ IT 회사의 앱 개발 팀장인 갑은 자신이 개발한 앱으로 인해 많은 부와 명예를 누리고 있다. 갑은 첫 출산을 앞두고 예비 부모 교실에 참석하면서 남편과 자녀 양육 분담을 계획하였다. 하지만 남편의 갑작스러운 해외 발령으로 자녀 양육에 대해 남편과 갈등을 겪었다.  
 ○ 가난한 집안의 장남인 을은 원하던 회사에 합격해 입사 전 신입 사원 연수를 받았다. 입사 이후 회사 생활에 회의를 느낀 을은 회사를 계속 다닐지 창업할지 고민하다가, 동료와 함께 창업 후 경영인상을 수상하는 등 기업의 대표로서 승승장구하고 있다.

— <보기> —  
 ㄱ. 갑은 을과 달리 역할 수행에 따른 보상을 받았다.  
 ㄴ. 을은 갑과 달리 성취 지위와 귀속 지위에 따른 역할 갈등을 경험하였다.  
 ㄷ. 갑, 을 모두 예기 사회화를 경험하였다.  
 ㄹ. 갑, 을 모두 비공식적 사회화 기관에서 일하고 있다.

- ① ㄱ, ㄴ    ② ㄱ, ㄷ    ③ ㄷ, ㄹ
- ④ ㄱ, ㄴ, ㄹ    ⑤ ㄴ, ㄷ, ㄹ

11. 사회·문화 현상을 바라보는 서로 다른 관점 (가)~(다)에 대한 설명으로 옳은 것은? [3점]

(가) 사회 규범은 대다수 구성원이 특정 행위에 규범이라는 의미를 부여함으로써 형성된다. 그들이 그 행위에 다른 의미를 부여하면 기존 규범은 역할을 상실하고 새로운 규범이 나타난다.

(나) 사회 규범은 기존 질서 유지를 위한 기득권층의 의지가 반영되어 형성된다. 그들이 사회 규범을 마치 사회 전체의 합의인 것처럼 구성원들에게 강요함으로써 사회가 유지된다.

(다) 사회 규범은 전체 구성원의 이익과 사회의 원활한 작동을 위해 형성된다. 이러한 사회 규범의 내용과 의미가 사회화를 통해 전승됨으로써 사회의 존속이 가능하다.

- ① (가)는 (다)와 달리 사회 갈등과 투쟁이 사회 발전의 원동력이라고 본다.
- ② (나)는 (가)와 달리 행위자의 주체적 능동성을 중시한다.
- ③ (나)는 (다)와 달리 사회 변동의 불가피성을 강조한다.
- ④ (다)는 (나)와 달리 주관적인 상황 정의를 중시한다.
- ⑤ (가), (다)는 (나)와 달리 사회 통합을 중시한다.

12. 갑~병의 문화 이해 태도에 대한 설명으로 가장 적절한 것은?

**교사**

A국의 ◇◇ 축제에서는 재앙을 막아 주고 행운을 가져다 달라는 의미로 물소, 새 등 수십만 마리의 동물을 죽여서 제물로 바칩니다. 이에 대해 자신의 의견을 이야기해 봅시다.

**갑**

축제 중에 동물을 죽인다 해도 그것은 A국의 사회적 맥락이 반영된 고유한 문화이기에 존중해야 합니다.

**을**

고유한 문화로 인정해야 하지만, 그 전에 동물을 죽이는 것이 보편적인 가치를 훼손하는 것은 아닌지 검토해야 합니다.

**병**

축제에서 수십만 마리의 동물을 죽이는 A국의 관습은 야만적인 것입니다. 선진국인 우리나라의 동물 애호 정신을 배워서 A국은 이런 악습을 바꿔야 합니다.

- ① 갑의 태도는 문화 간에 우열이 존재한다고 본다.
- ② 을의 태도는 극단적 문화 상대주의를 경계해야 한다고 본다.
- ③ 병의 태도는 자문화를 보다 객관적으로 파악하는 데 유용하다.
- ④ 갑의 태도는 병의 태도와 달리 문화 다양성 보존에 불리하다.
- ⑤ 을의 태도는 병의 태도와 달리 자문화의 정체성을 보존하는 데 유리하다.

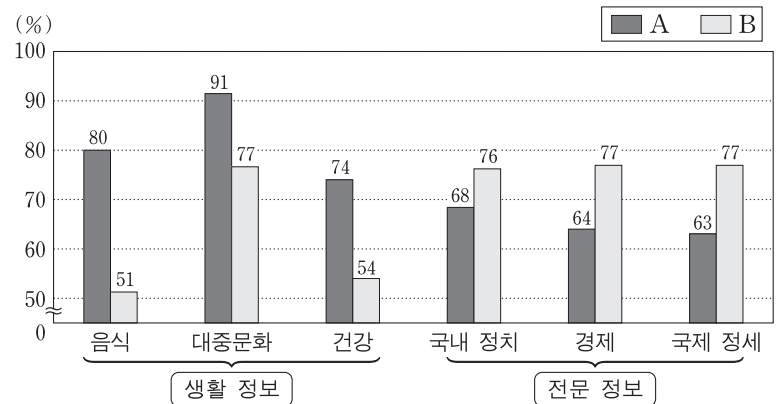
13. 사회 변동을 바라보는 (가)의 관점을 통해 (나)의 관점을 비판한 것으로 옳은 것은? [3점]

(가) 인류 사회는 일정한 방향으로 진보해 온 것이 아니라 시간의 흐름에 따라 생성, 성장, 쇠퇴, 소멸의 과정을 반복해 왔다. 사회 변동은 단선적 발전 과정이 아니라 주기적으로 반복되어 나타나는 것이다.

(나) 인류 사회는 사회 변동을 통해 특정한 방향으로 진보해 왔다. 방향을 갖는다는 것은 단순한 사회로부터 복잡하고 분화된 사회로, 진보한다는 것은 새롭고 보다 나은 문명의 사회로 나아감을 의미한다.

- ① 사회 변동을 운명론적 관점으로만 설명하고 있다.
- ② 사회 변동을 대립과 갈등이라는 속성으로만 파악한다.
- ③ 사회 변동을 질서와 안정을 추구하는 것으로만 파악한다.
- ④ 사회 변동의 방향을 예측하기 어려워 역동적 대응이 곤란하다.
- ⑤ 사회 변동 과정에서 나타나는 사회의 멸망을 설명하기 어렵다.

14. 자료는 어떤 세대의 매체 이용 실태를 조사한 결과이다. 이에 대한 분석으로 옳은 것은? (단, A, B는 각각 전통적 영상 매체와 뉴미디어 중 하나이다.) [3점]



\*정보의 생산자와 소비자 간 경계의 명확성은 A<B임.  
 \*\*각각의 수치는 전체 응답자 중 해당 정보를 획득하기 위해 각 매체를 이용한 비율이며, 무응답은 없음.

- ① 생활 정보 획득에서 일방향 매체를 이용한 응답자보다 양방향 매체를 이용한 응답자가 많다.
- ② 전문 정보 획득에서 정보 재가공이 용이한 매체를 이용한 응답자보다 그렇지 않은 매체를 이용한 응답자가 적다.
- ③ A를 이용하여 생활 정보를 획득한 건수가 전문 정보를 획득한 건수보다 많다.
- ④ B를 이용하여 '경제' 정보를 획득한 사람은 모두 '국제 정세' 정보도 획득하였다.
- ⑤ A의 이용 비율과 B의 이용 비율 간의 차이는 생활 정보 획득에서보다 전문 정보 획득에서 더 크다.

15. 다음 과제를 적절하게 수행한 학생만을 <보기>에서 있는 대로 고른 것은?

● 표를 사용하여 진위 여부를 검증할 수 있는 진술을 만들어 보세요.

〈A국의 사회 지표 변동 추이〉

구분	연도	1970년	1990년	2010년
산업별 취업자 비율(%)	1차 산업	50	17	10
	2차 산업	15	27	18
	3차 산업	35	56	72
	계	100	100	100
대학 진학률(%)		27	33	82
노령화 지수		10	20	69

\* 산업별 취업자 비율(%)=(해당 산업별 취업자 수/전체 취업자 수)×100  
 \*\* 대학 진학률(%)=(대학 진학자 수/고등학교 졸업자 수)×100  
 \*\*\* 노령화 지수=(노년 인구(65세 이상)/유소년 인구(0~14세))×100

— <보기> —

ㄱ. 갑: 1970년 대비 2010년에 3차 산업 취업자 수는 2배 이상 증가하였다.

ㄴ. 을: 1970년 대비 2010년에 고등학교 졸업자 증가율보다 대학 진학자 증가율이 더 높다.

ㄷ. 병: 1990년 대비 2010년에 1차 산업 취업자 비율과 2차 산업 취업자 비율은 감소하였다.

ㄹ. 정: 1990년에는 유소년 인구가 노년 인구보다 많지만, 2010년에는 유소년 인구가 노년 인구보다 적다.

- ① ㄱ, ㄷ
- ② ㄱ, ㄹ
- ③ ㄴ, ㄷ
- ④ ㄱ, ㄴ, ㄹ
- ⑤ ㄴ, ㄷ, ㄹ

16. (가), (나)는 교육 불평등 해소와 관련된 법 조항이다. 이에 대한 설명으로 옳은 것은?

(가)	제4조 ① 모든 국민은 성별, 종교, 신념, 인종, 사회적 신분, 경제적 지위 또는 신체적 조건 등을 이유로 교육에서 차별을 받지 아니한다.
(나)	제14조 ① 교육 책임자는 ... (중략) ... 다음 각 호의 수단을 적극적으로 강구하고 제공하여야 한다. 1. 장애인의 통학 및 교육기관 내에서의 이동 및 접근에 불이익이 없도록 하기 위한 각종 이동용 보장구의 대여 및 수리 2. 장애인 및 장애인 관련자가 필요로 하는 경우 교육보조 인력의 배치

- ① (가)는 평등한 교육 기회의 보장보다는 경쟁을 통한 교육 기회의 획득을 강조한다.
- ② (나)는 교육 불평등 해소를 위한 교육 접근 기회의 적극적인 지원을 강조한다.
- ③ (가)는 (나)와 달리 교육 기회 확대를 통한 삶의 질 향상을 추구한다.
- ④ (가)는 (나)와 달리 교육 결과의 평등을 구체적으로 실현하는 것을 추구한다.
- ⑤ (나)는 (가)와 달리 장애인을 위한 적극적 우대 조치 정책에 따른 교육 기회의 역차별 해소를 추구한다.

17. 다음은 사회 불평등 현상을 설명하는 이론이다. 이에 대한 옳은 설명을 <보기>에서 고른 것은?

생산 수단의 '소유'와 '소유의 결여'가 계급의 위치를 결정하는 기본적 요인임을 인정한다. 하지만 노동 시장에서 능력의 차이를 초래하는 소유의 종류나 기술, 신용, 자격 등도 계급 분화에 영향을 준다. 또한 개인이 다른 사람으로부터 받는 존경이나 개인이 누리는 명예, 위신에 의한 지위 집단 등도 사회 불평등 현상의 또 다른 차원으로 작동한다.

— <보기> —

- ㄱ. 중간 계급의 존재를 부정한다.
- ㄴ. 경제적 위치에 따른 집단 내 연대 의식을 강조한다.
- ㄷ. 사회 불평등에서 위계를 결정하는 기준이 다원적이다.
- ㄹ. 사회 불평등 현상을 연속선 상에 서열화된 것으로 본다.

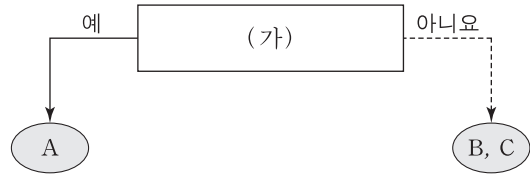
- ① ㄱ, ㄴ    ② ㄱ, ㄷ    ③ ㄴ, ㄷ    ④ ㄴ, ㄹ    ⑤ ㄷ, ㄹ

18. 하위문화의 유형인 A, B 문화의 일반적인 특징에 대한 설명으로 옳은 것은?

유형	사례
A 문화	1960년대 미국의 히피족은 정치적으로 베트남전 참전을 위한 징집을 거부하는 등 정부 정책에 도전하며 평화를 추구하고, 물질적 풍요와 편의성보다는 자연과 공존하는 생활 태도를 중시하였다.
B 문화	최근 2030세대는 이전의 젊은 세대에 비해 현재를 중시하는 삶의 방식을 보인다. 이들은 미래에 투자하기보다 현재의 행복과 즐거움을 위해 소비하는 경향을 보인다. 이는 "You only live once(당신의 삶은 한번 뿐이다)."의 줄임말인 '올로(YOLO)' 현상으로 설명되기도 한다.

- ① A 문화는 B 문화와 달리 전체 사회에 문화 다양성을 제공한다.
- ② B 문화는 A 문화와 달리 기존 문화에 저항하는 특징을 보인다.
- ③ A 문화나 B 문화에 속하는 것을 구분하는 기준은 상대적이다.
- ④ A 문화는 사회 통합에, B 문화는 사회 변동에 기여한다.
- ⑤ A 문화와 B 문화의 총합은 전체 문화이다.

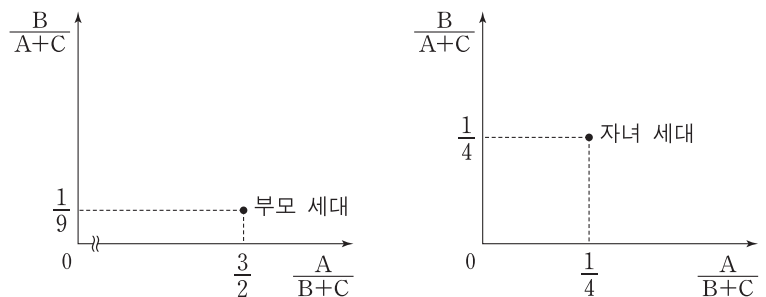
19. 그림은 우리나라 사회 보장 제도 A~C를 구분한 것이다. 이에 대한 분석으로 옳은 것은? (단, A~C는 각각 공공 부조, 사회 보험, 사회 서비스 중 하나이다.) [3점]



- ① A가 공공 부조이면, (가)에는 '금전적 지원을 원칙으로 하는가?'가 적절하다.
- ② A가 사회 보험이면, (가)에는 '강제 가입을 원칙으로 하는가?'가 적절하다.
- ③ A가 사회 서비스이면, (가)에는 '상호 부조의 성격이 강한가?'가 적절하다.
- ④ (가)가 '소득 재분배 효과가 가장 큰 제도인가?'이면, 기초 연금과 고용 보험은 각각 B, C 중 하나에 속한다.
- ⑤ (가)가 '상담, 재활, 사회 복지 시설 이용 등의 지원을 기본으로 하는가?'이면, B와 C의 대상자는 상호 배타적이다.

20. 다음 자료에 나타난 세대 간 계층 이동에 대한 옳은 분석을 <보기>에서 고른 것은? (단, A~C는 각각 상층, 중층, 하층 중 하나이다.) [3점]

<★★ 지역의 세대별 계층 간 상대적 비>



<자녀 세대에서 부모와 계층이 일치하는 사람 대비 불일치하는 사람의 비>

자녀 세대 계층		
A	B	C
0.25	4	1.5

- \* 모든 부모의 자녀는 1명씩이고, 부모 세대의 계층 구조는 피라미드형임.
- \*\* 부모 세대 상층에서 자녀 세대 하층으로의 세대 간 이동은 없음.
- \*\*\* 다른 계층에서 중층으로 세대 간 이동한 경우는 모두 ★★ 지역의 산업 구조 변화로 인한 이동이며, 그 외의 이동은 모두 개인적 요인에 의한 것임.

— <보기> —

- ㄱ. 개인적 이동이 구조적 이동보다 많다.
- ㄴ. 부모 세대 계층 대비 계층 대물림 비율은 하층에서 가장 낮다.
- ㄷ. 중층으로의 세대 간 이동에서 상승 이동은 하강 이동의 5배이다.
- ㄹ. 부모 세대와 자녀 세대 간에 계층 이동을 한 사람은 계층이 대물림된 사람보다 적다.

- ① ㄱ, ㄴ    ② ㄱ, ㄷ    ③ ㄴ, ㄷ    ④ ㄴ, ㄹ    ⑤ ㄷ, ㄹ

\* 확인 사항  
○ 답안지의 해당란에 필요한 내용을 정확히 기입(표기)했는지 확인 하시오.