

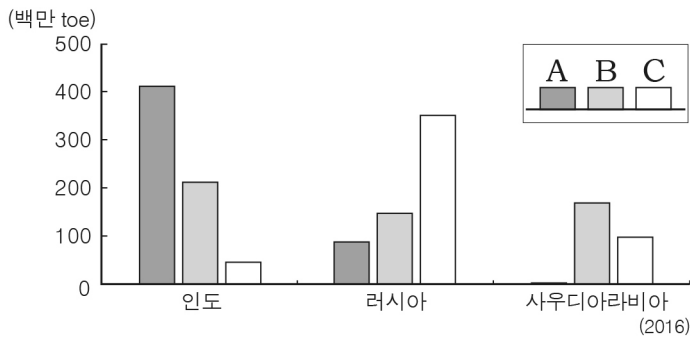


5. 그림은 사이버 학습 화면의 일부이다. 정답에 들어갈 하천으로 옳은 것은?



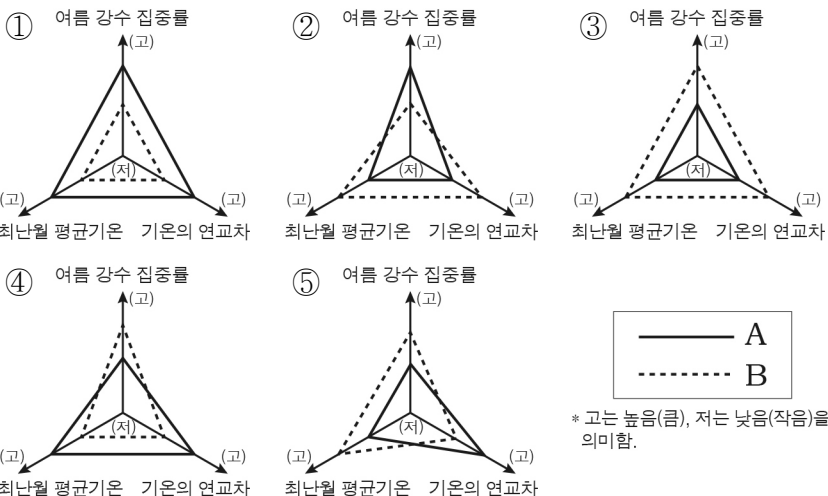
- ① A      ② B      ③ C      ④ D      ⑤ E

6. 그래프는 세 국가의 화석 에너지 소비량을 나타낸 것이다. A~C 에너지에 대한 설명으로 옳은 것은? [3점]

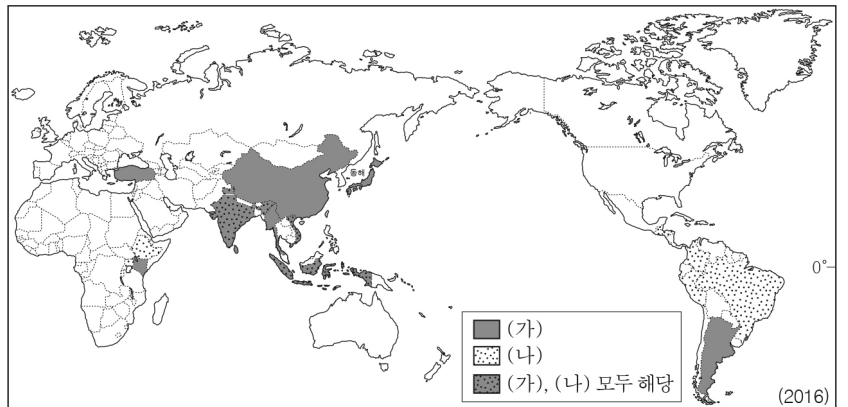


- ① A는 냉동 액화 기술의 발달로 사용량이 급증하였다.
- ② B는 산업 혁명 시기의 주요 에너지 자원이었다.
- ③ C는 세계 에너지 소비량에서 차지하는 비중이 가장 높다.
- ④ B는 C보다 수송용으로 이용되는 비중이 높다.
- ⑤ C는 A보다 연소 시 대기 오염 물질의 배출량이 많다.

7. 지도의 A, B 지역의 상대적 기후 특성을 옳게 나타낸 것은? [3점]

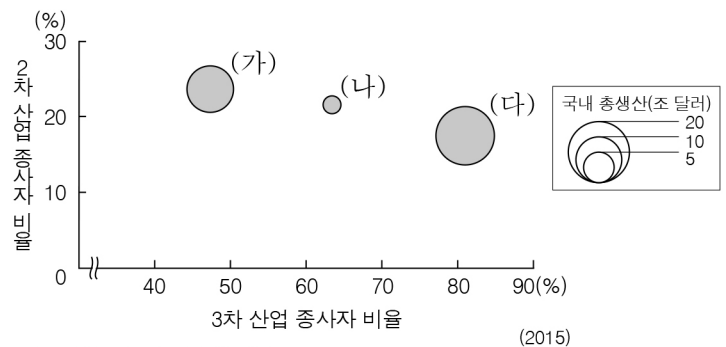


8. 지도는 두 기호 작물의 생산량 상위 10개국을 나타낸 것이다. (가), (나) 작물에 대한 설명으로 옳은 것은? (단, (가), (나)는 차, 커피, 카카오 중 하나임.)



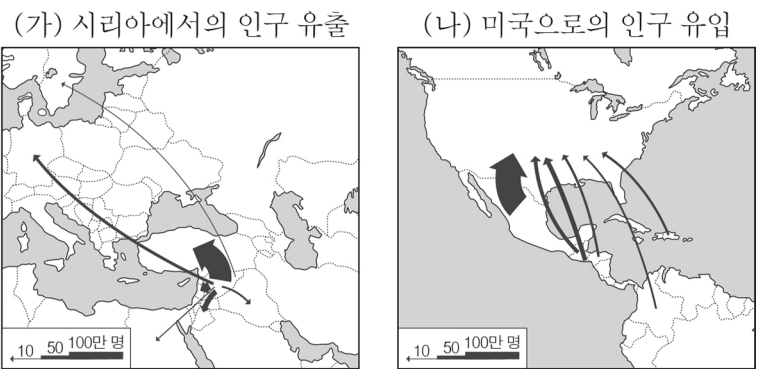
- ① (가)는 잎을 가공하여 주로 음료의 형태로 소비된다.
- ② (가)는 이동식 화전 경작 방식을 통해 주로 생산된다.
- ③ (나)의 원산지는 라틴아메리카이다.
- ④ (나)는 초콜릿의 주원료로 사용된다.
- ⑤ (가), (나)의 최대 생산국은 인도이다.

9. 그래프는 세 국가의 국내 총생산과 산업 구조를 나타낸 것이다. (가)~(다) 국가에 대한 설명으로 옳은 것은? (단, (가)~(다)는 미국, 중국, 브라질 중 하나임.) [3점]



- ① (가)는 미국, (나)는 브라질에 해당한다.
- ② (가)는 (다)보다 1인당 국내 총생산이 많다.
- ③ (나)는 (다)보다 다국적 기업의 본사 수가 많다.
- ④ (다)는 (가)보다 생산자 서비스에 종사하는 인구 비중이 높다.
- ⑤ 1차 산업 종사자 비율은 (다) > (나) > (가) 순이다.

10. (가), (나) 인구 이동에 대한 옳은 설명을 <보기>에서 고른 것은?



\* (가), (나)는 2000년 이후의 인구 이동에 한함.

< 보기 >

- ㄱ. (가)의 이주민들은 대부분 가톨릭교 신자이다.
- ㄴ. (가)는 주로 내전으로 인한 난민의 이동이다.
- ㄷ. (나)는 자발적 이동의 성격이 강하다.
- ㄹ. (나)의 이주민들은 주로 고소득의 전문직에 종사한다.

- ① ㄱ, ㄴ      ② ㄱ, ㄷ      ③ ㄴ, ㄷ      ④ ㄴ, ㄹ      ⑤ ㄷ, ㄹ

11. 다음 자료의 ㉠~㉤에 대한 옳은 설명을 <보기>에서 고른 것은? [3점]

건조 지형을 주제로 한 '여행 드로잉'



㉠ 버섯 바위를 배경으로 점프하기



㉡ 사구에서 모래썰매 타기



㉢ 플라야의 소금물 맛보기



㉣ 와디를 따라 낙타 타기

\* 여행 드로잉은 여행지에서의 경험이나 느낌을 그림으로 표현한 것임.

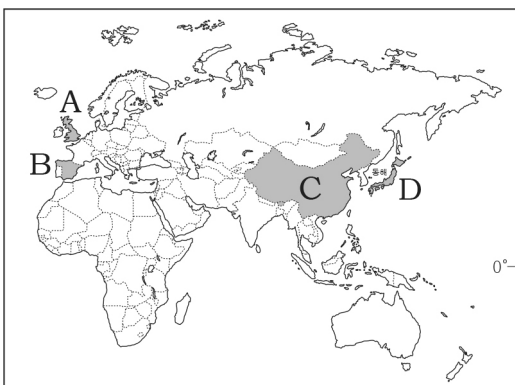
< 보기 >

- ㄱ. ㉠은 바람에 의해 운반된 물질의 침식 작용으로 형성되었다.
- ㄴ. ㉡은 하천의 퇴적 작용에 의해 형성된 부채 모양의 지형이다.
- ㄷ. ㉢은 비가 올 때 일시적으로 물이 고이는 지형이다.
- ㄹ. ㉣은 토양층이 동결과 융해를 반복하여 형성되었다.

- ① ㄱ, ㄴ    ② ㄱ, ㄷ    ③ ㄴ, ㄷ    ④ ㄴ, ㄹ    ⑤ ㄷ, ㄹ

12. (가), (나)에 해당하는 국가를 지도의 A~D에서 고른 것은?

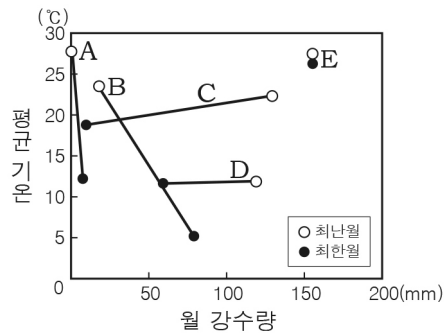
- (가) 18세기 중·후반 최초의 산업 혁명을 일으켜 지하자원이 풍부한 내륙을 중심으로 공업이 발달하였다. 이후 자원 고갈 및 시설의 노후화 등으로 수출입에 유리한 해안을 중심으로 공업이 성장하였다. 또한 정부의 각종 지원과 우수 대학의 연구 기반 등을 바탕으로 케임브리지 사이언스 파크, 실리콘 글렌 등에서 첨단 산업이 성장하고 있다.
- (나) 1970년대 후반부터 본격화된 개혁·개방 정책의 일환으로 동부 해안 지역을 중심으로 외국 자본과 기술을 유치하기 위해 경제 특구와 개방 도시를 설치하였다. 풍부한 노동력을 바탕으로 '세계의 공장'이라 불리며 급속한 공업화가 진행되었고, 세계 경제에서 차지하는 비중이 높아지며 지속적으로 성장하고 있다.



- |   |     |     |
|---|-----|-----|
|   | (가) | (나) |
| ① | A   | C   |
| ② | A   | D   |
| ③ | B   | C   |
| ④ | B   | D   |
| ⑤ | C   | D   |

13. 다음 글에 나타난 지역의 기후 그래프로 가장 적절한 것은? [3점]

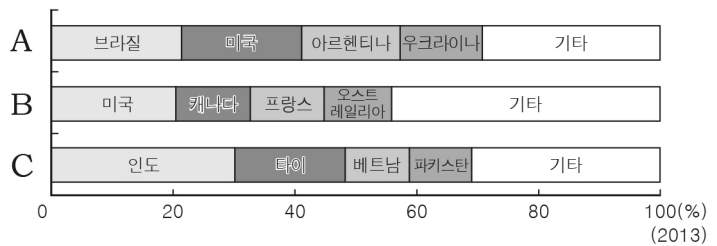
탄자니아의 ○○ 국립공원에 건기가 왔다. 수많은 누와 얼룩말, 영양 등은 마실 물을 찾아 떠나고, 남아 있는 동물들이 많지 않다. 초원의 긴 풀들은 건기 초에 열매를 맺으며, 씨앗의 형태로 남은 건기를 보낸다. 또한 바오바브나무는 잎을 떨어뜨려 수분이 빠져나가는 것을 막고 우기 동안 커다란 나무줄기에 저장한 물을 이용해 살아간다.



- ① A
- ② B
- ③ C
- ④ D
- ⑤ E

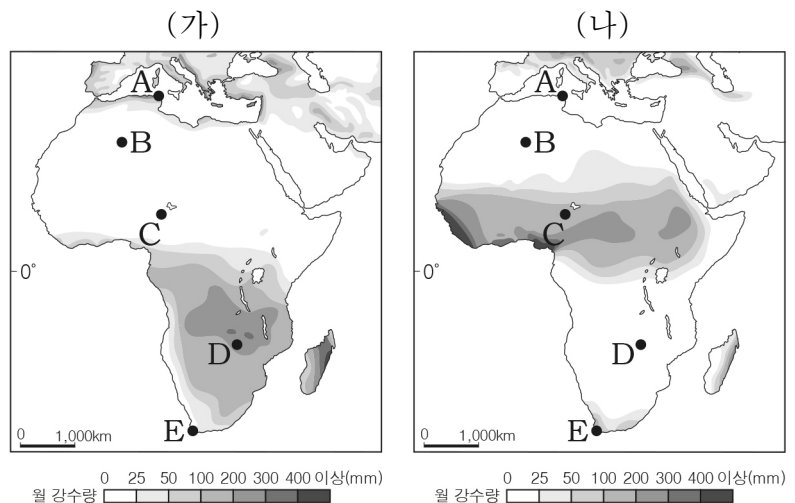
14. (가), (나)에 해당하는 식량 작물의 수출량 비율 그래프를 A~C에서 고른 것은? (단, (가), (나)는 밀, 쌀, 옥수수 중 하나임.)

아시아가 원산지인 [(가)]와/과 [(나)]은/는 많은 사람들이 주식으로 삼는 대표적인 작물이다. [(가)]은/는 고온 다습한 계절풍 기후 지역에서 주로 생산되며 국제 이동량이 적은 편이다. [(나)]은/는 비교적 기온이 낮거나 건조한 지역에서도 잘 자라며 국제 이동량도 많다.



- |     |     |     |     |     |     |
|-----|-----|-----|-----|-----|-----|
| (가) | (나) | (가) | (나) | (가) | (나) |
| ①   | A   | B   | ②   | B   | A   |
| ④   | C   | A   | ⑤   | C   | B   |
| ③   | B   | C   |     |     |     |

15. 지도는 (가), (나) 시기의 강수 분포를 나타낸 것이다. 이에 대한 설명으로 옳은 것은? (단, (가), (나) 시기는 1월과 7월 중 하나임.) [3점]



- ① A에서는 1월에 건기, 7월에 우기가 나타난다.
- ② B의 월평균 기온은 (가) 시기가 (나) 시기보다 높다.
- ③ (가) 시기에 A는 E보다 낮의 길이가 길다.
- ④ (나) 시기에 C는 D보다 아열대 고압대의 영향을 크게 받는다.
- ⑤ (가) 시기에서 (나) 시기로 갈 때, 적도 수렴대는 대체로 북상한다.

16. 다음 글의 (가) 환경 문제가 심화될 경우 나타날 변화에 대한 추론으로 적절하지 않은 것은?

**북극곰의 먹이가 바뀌고 있다**

(가) (으)로 인해 여름이 길어지면서 북극곰의 먹이 생태가 변화하고 있다. 본래 북극곰은 북극해 주변 빙하로 덮인 해안에서 바다표범을 주로 잡아먹고 살다가 여름이 되면 얼음이 녹는 해안을 떠나 육지로 이동한다. 그런데 지난 30년 전보다 여름이 평균 30일 길어져 북극곰의 해안 활동 기간이 줄어들게 되었다. 이에 따라 바다표범 대신 육지에 서식하는 흰 기러기를 먹이로 사냥하는 기간이 늘어나고 있다.

- ① 태평양 일대 섬들의 해안 저지대가 침수될 것이다.
- ② 북아메리카 냉대림 분포의 남한계선이 북상할 것이다.
- ③ 킬리만자로산의 만년설의 분포 면적이 증가할 것이다.
- ④ 시베리아의 영구 동토층의 분포 범위가 축소될 것이다.
- ⑤ 동남아시아에서 열대성 질병의 발생률이 증가할 것이다.

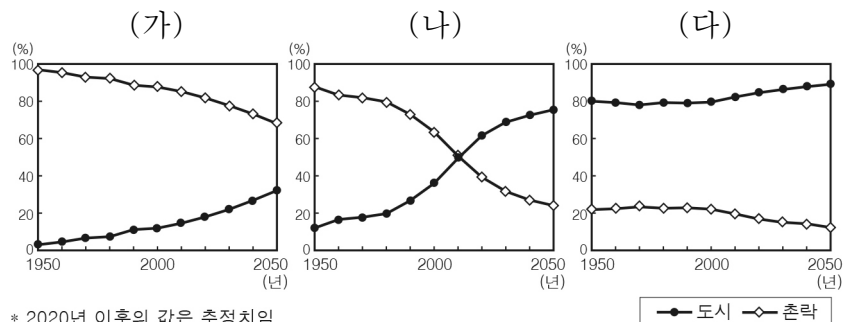
17. 다음은 세계 지리 수업 장면이다. 교사의 질문에 옳은 대답을 한 학생을 고른 것은?

지도의 A ~ D 산맥을 비교해 볼까요?

갑: A는 B보다 평균 해발 고도가 높아요.  
 을: B는 C보다 석탄 매장량이 적어요.  
 병: C는 D보다 지진과 화산 활동이 잦아요.  
 정: D는 A보다 산맥 형성 시기가 늦어요.

- ① 갑, 을    ② 갑, 병    ③ 을, 병    ④ 을, 정    ⑤ 병, 정

18. 그래프는 세 국가의 시기별 도시와 촌락의 인구 비율을 나타낸 것이다. (가) ~ (다) 국가에 대한 설명으로 옳은 것은? [3점]



- ① (가)는 (나)보다 2050년의 도시화율이 높다.
- ② (가)는 (다)보다 2000년의 3차 산업 종사자 비율이 높다.
- ③ (나)는 (다)보다 1950년 ~ 2050년의 도시화율 증가 폭이 크다.
- ④ (다)는 (가)보다 산업화 시작 시기가 늦다.
- ⑤ (가), (나)는 2000년에 도시화의 중착 단계에 진입하였다.

19. 다음은 한국으로 여행 온 외국인들의 대화 장면이다. ㉠, ㉡ 종교에 대한 설명으로 옳은 것은? (단, ㉠, ㉡은 힌두교, 이슬람교, 크리스티교 중 하나임.) [3점]

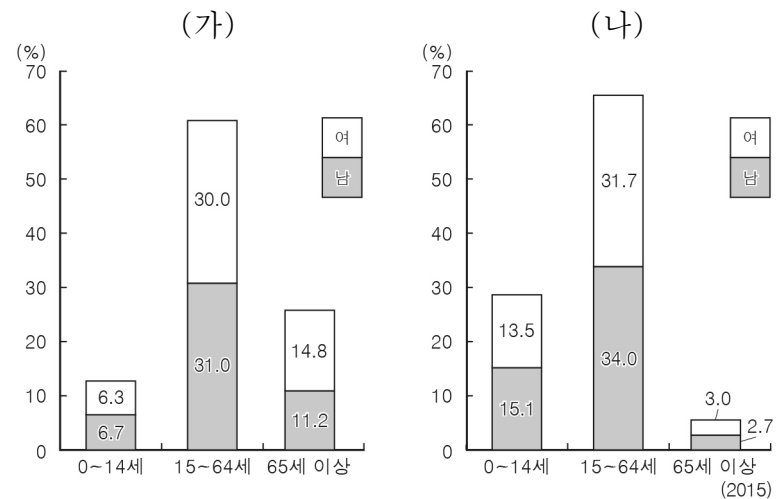
나는 소고기로 만든 음식만 아니면 돼. ㉠ 내가 믿는 종교에서는 소를 신성시하거든.

나는 돼지고기로 만든 음식은 안 돼. ㉡ 내가 믿는 종교에서 금기시하는 음식이야.

우리 무엇을 먹을까?  
난 다 괜찮아.

- ① ㉠은 유일신을 믿는 종교이다.
- ② ㉡의 신자들은 라마단 기간 동안 낮에 금식한다.
- ③ ㉠은 ㉡보다 세계에서 신자 수가 많다.
- ④ ㉠은 보편 종교, ㉡은 민족 종교이다.
- ⑤ ㉠, ㉡의 발상지는 서남아시아에 위치한다.

20. 그래프는 두 국가의 인구 구조를 나타낸 것이다. (가), (나) 국가에 대한 옳은 설명을 <보기>에서 고른 것은? (단, (가), (나)는 인도, 일본 중 하나임.)



< 보 기 >

ㄱ. (가)는 피라미드형 인구 구조가 나타난다.  
 ㄴ. (나)는 유소년층의 성비가 100 이상이다.  
 ㄷ. (가)는 (나)보다 총부양비가 낮다.  
 ㄹ. (가)는 (나)보다 중위 연령이 높다.

- ① ㄱ, ㄴ    ② ㄱ, ㄷ    ③ ㄴ, ㄷ    ④ ㄴ, ㄹ    ⑤ ㄷ, ㄹ

**※ 확인 사항**  
 답안지의 해당란에 필요한 내용을 정확히 기입(표기)했는지 확인하시오.