

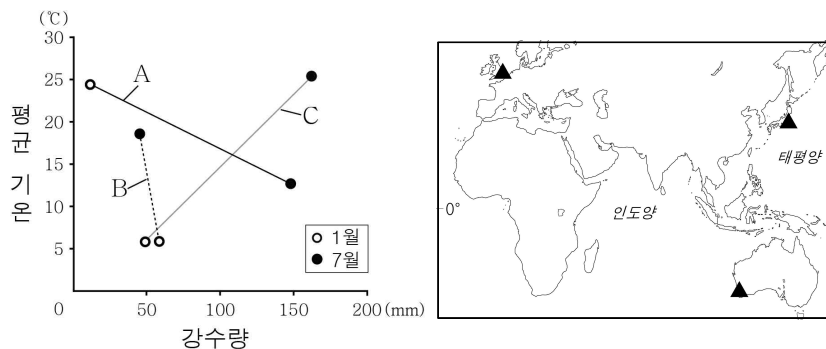


5. (가)~(다) 지도에 대한 설명으로 옳은 것은?



- ① (가)에는 크리스티교의 세계관이 반영되어 있다.
- ② (나)는 나침반을 이용한 항해에 사용되었다.
- ③ (다)에는 아메리카 대륙이 표현되어 있다.
- ④ (가)와 (다)는 지도의 위쪽이 가리키는 방위가 같다.
- ⑤ (가)~(다) 모두 지구 구체설을 토대로 제작되었다.

6. 그래프의 A~C 지역에 대한 설명으로 옳은 것은? (단, A~C는 지도에 표시된 지역 중 하나이다.) [3점]



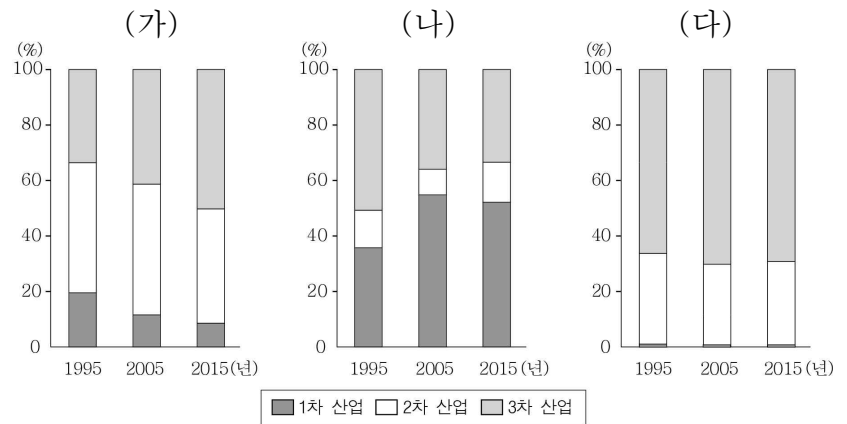
- ① A는 7월에 아열대 고압대의 영향을 주로 받는다.
- ② B는 수목 농업이 활발히 이루어진다.
- ③ A는 B보다 1월의 낮 길이가 길다.
- ④ A는 C보다 최난월 강수량이 많다.
- ⑤ B는 C보다 하천 수위의 계절별 변동 폭이 크다.

7. 다음 자료의 ㉠~㉤ 중 서남아시아 건조 기후 지역의 전통적인 생활 모습으로 적절하지 않은 것은?

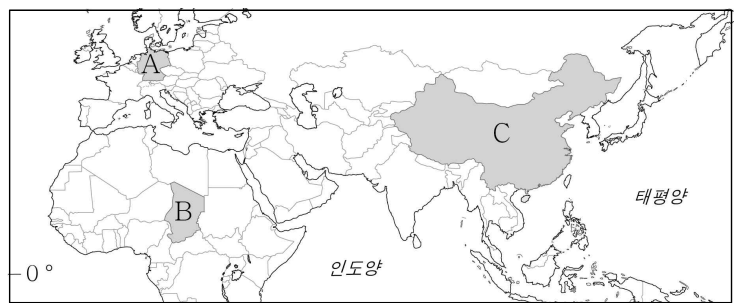


- ① ㉠      ② ㉡      ③ ㉢      ④ ㉣      ⑤ ㉤

8. 그래프와 같은 산업 구조 변화가 나타난 (가)~(다) 국가를 지도의 A~C에서 고른 것은? [3점]



\* 산업별 생산액 기준임.



- |   |     |     |     |   |     |     |     |
|---|-----|-----|-----|---|-----|-----|-----|
|   | (가) | (나) | (다) |   | (가) | (나) | (다) |
| ① | A   | B   | C   | ② | A   | C   | B   |
| ③ | B   | C   | A   | ④ | C   | A   | B   |
| ⑤ | C   | B   | A   |   |     |     |     |

9. 다음 자료는 세계 지리 수업 시간에 필기한 노트의 일부이다. (가) 기후 지역에 대한 옳은 설명을 <보기>에서 고른 것은?

㉠ (가) 기후 지역의 지형 형성 작용과 지형 경관

활동층 → 여름철에 활동층이 녹으면서 경사면을 따라 흘러내리는 현상이 나타남.

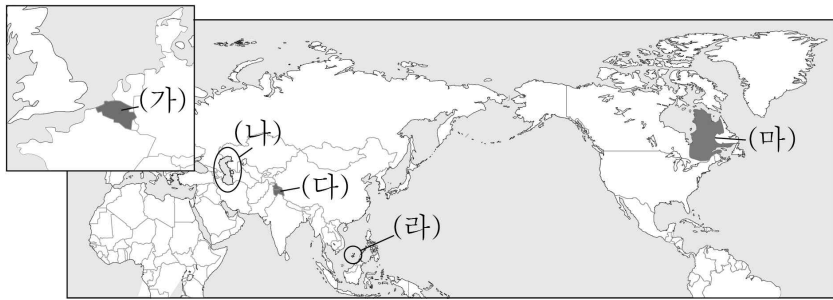
토양 내 수분의 동결과 융해가 반복되면서 지표면에서 물질의 분급 작용이 일어나 다각형의 지형이 형성됨.

- < 보 기 >
- ㄱ. 강수량보다 증발량이 많다.
  - ㄴ. 토양이 비옥하여 농업 활동에 유리하다.
  - ㄷ. 최난월 평균 기온이 0℃ 이상, 10℃ 미만이다.
  - ㄹ. 건물에서 발생하는 열이 지면으로 전달되는 것을 막기 위한 시설이 나타난다.

- ① ㄱ, ㄴ      ② ㄱ, ㄷ      ③ ㄴ, ㄷ
- ④ ㄴ, ㄹ      ⑤ ㄷ, ㄹ

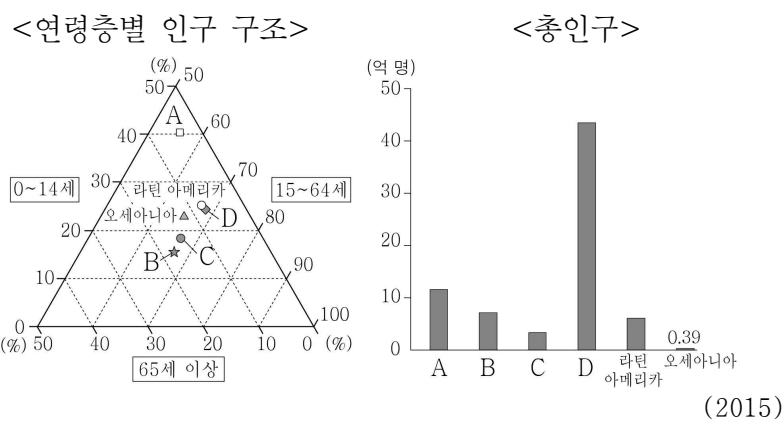


16. (가)~(마) 지역의 분쟁 및 갈등에 대한 내용으로 옳은 것은?



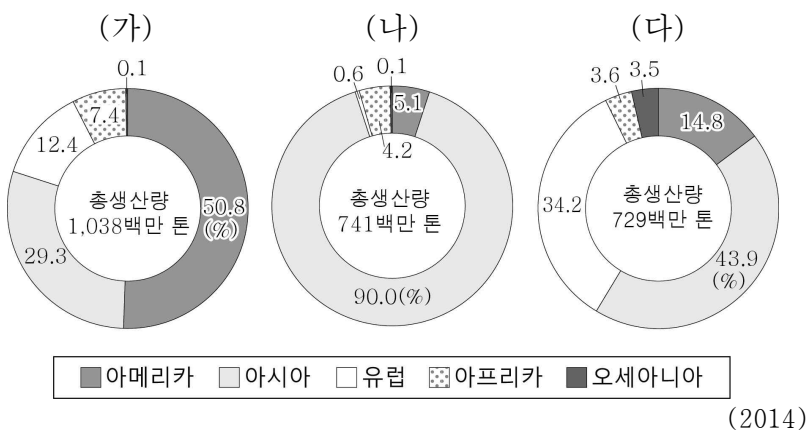
- ① (가) - 영어와 프랑스어를 사용하는 주민 간의 언어 갈등
- ② (나) - 석유와 천연가스 확보를 둘러싼 국가 간의 영역 분쟁
- ③ (다) - 가톨릭교와 개신교 간의 종교 갈등
- ④ (라) - 중국과 일본 간의 영유권을 둘러싼 분쟁
- ⑤ (마) - 국제 하천의 댐 건설을 둘러싼 상·하류 지역 간의 물 분쟁

17. 그래프의 A~D 지역에 대한 설명으로 옳은 것은? (단, A~D는 유럽, 아시아, 아프리카, 앵글로아메리카 중 하나이다.) [3점]



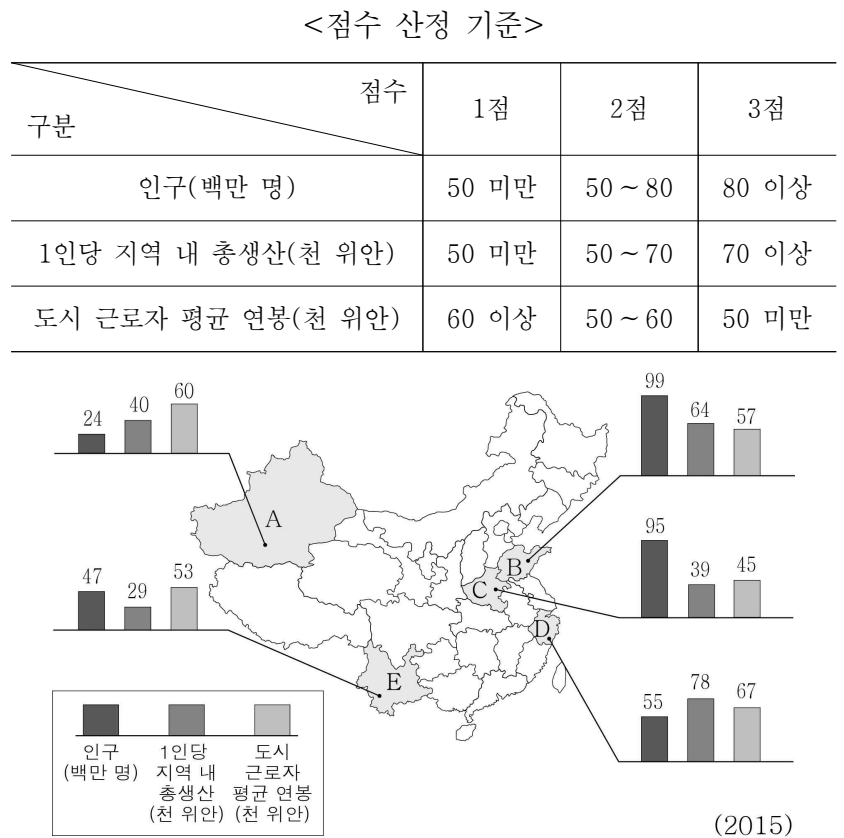
- ① A는 B보다 총 부양비가 낮다.
- ② B는 D보다 노년층 인구가 많다.
- ③ C는 A보다 영아 사망률이 높다.
- ④ D는 C보다 지역 내 국가 간 경제 발전 수준의 차이가 크다.
- ⑤ A에는 출산 장려 정책이, B에는 출산 억제 정책의 필요성이 큰 국가들이 많다.

18. 그래프는 세계 3대 식량 작물의 지역별 생산량 비중을 나타낸 것이다. (가)~(다) 작물에 대한 설명으로 옳은 것은?



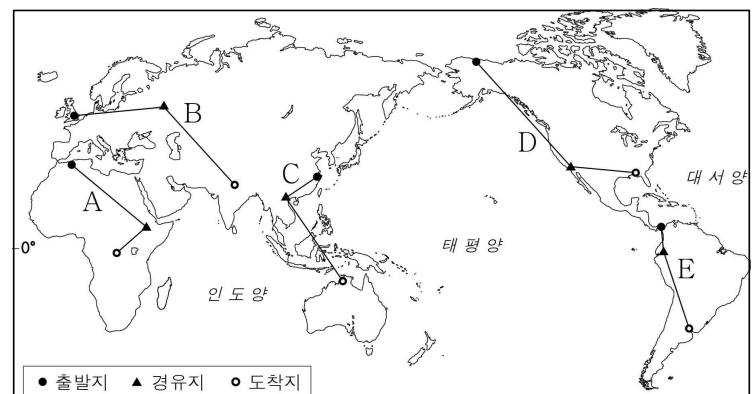
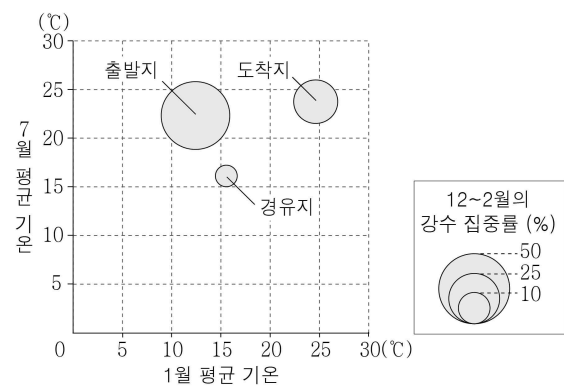
- ① (가)의 원산지는 아시아이다.
- ② (나)는 내한성과 내건성이 커 재배 범위가 넓다.
- ③ (다)는 바이오 에탄올의 원료로 이용되면서 수요가 급증하였다.
- ④ (가)는 (나)보다 가축의 사료로 이용되는 비중이 높다.
- ⑤ (나)는 (다)보다 국제 이동량이 많다.

19. 다음 자료를 토대로 ○○기업이 중국에 생산 공장을 설립하고자 한다. 지도의 A~E 중 가장 적합한 지역을 고른 것은? (단, 합산 점수가 가장 높은 지역을 선정하며, 합산 점수가 같을 때는 도시 근로자 평균 연봉이 적은 지역을 선택한다.)



- ① A    ② B    ③ C    ④ D    ⑤ E

20. 그래프는 지오의 여행지 중 출발지, 경유지, 도착지의 기후 자료이다. 여행 경로를 지도의 A~E에서 고른 것은? [3점]



- ① A    ② B    ③ C    ④ D    ⑤ E

**※ 확인 사항**  
○ 답안지의 해당란에 필요한 내용을 정확히 기입(표기)했는지 확인하십시오.