

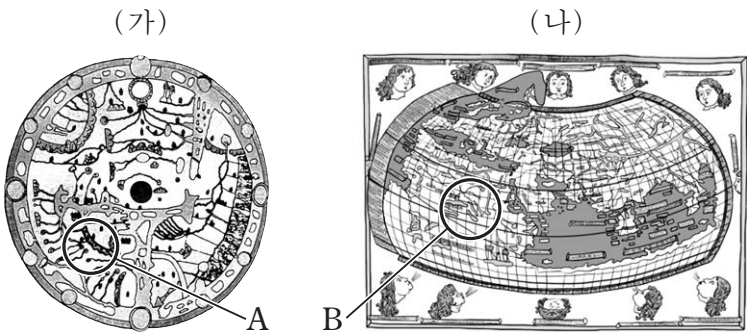
제 4 교시

사회탐구 영역(세계 지리)

성명

수험 번호

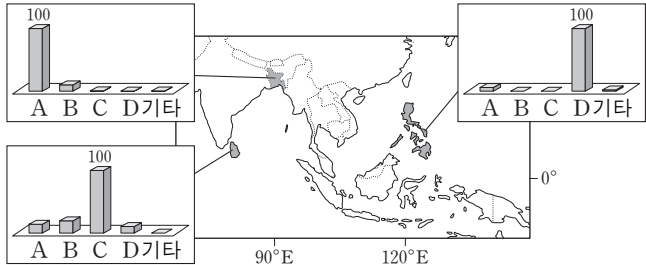
1. (가), (나) 지도에 대한 옳은 설명을 <보기>에서 고른 것은? [3점]



<보기>
 가. (가)의 중심은 아라비아 반도의 메카이다.
 나. (나)는 지도 제작에 경위선 개념이 사용되었다.
 다. (가)와 (나)에는 모두 지중해가 표현되어 있다.
 르. (가)의 A와 (나)의 B는 동일한 대륙에 속하는 지역이다.

- ① 가, 나 ② 가, 다 ③ 나, 다 ④ 나, 르 ⑤ 다, 르

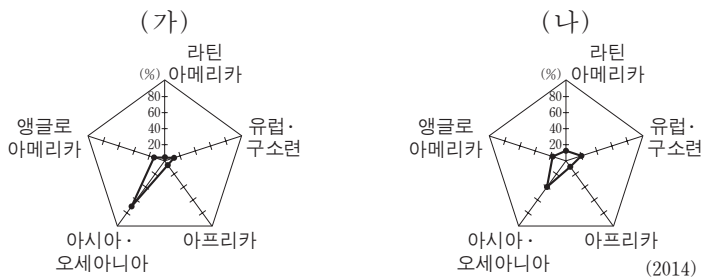
2. 다음 자료의 A~D 종교에 대한 설명으로 옳은 것은? [3점]



* 그래프는 국가별 신자 수 1위 종교 인구를 100으로 하였을 때의 상대적인 값을 나타낸 것임.

- ① A와 B는 모두 보편 종교이다.
 ② A와 C의 사원에는 모두 신(神)의 모습들이 조각되어 있다.
 ③ A와 D는 모두 유일신을 믿는 종교이다.
 ④ B는 남부 아시아에서, C는 서남아시아에서 기원하였다.
 ⑤ B는 돼지고기를, D는 쇠고기를 금기시한다.

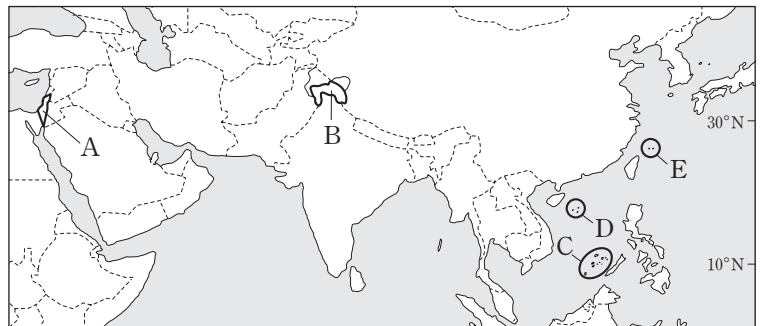
3. 그래프는 주요 화석 에너지 (가), (나)의 대륙별 생산량 비중을 나타낸 것이다. 이에 대한 설명으로 옳은 것은?



- ① (가)는 화석 에너지 중 대기 오염 물질 배출량이 가장 적다.
 ② (나)는 산업 혁명 시기의 주요 에너지 자원이었다.
 ③ (가)는 (나)보다 상용화된 시기가 늦다.
 ④ (가)는 (나)보다 운송용 연료로 사용되는 비중이 높다.
 ⑤ (나)는 (가)보다 세계 에너지 소비량에서 차지하는 비중이 높다.

4. 다음 자료의 (가), (나) 지역을 지도의 A~E에서 고른 것은?

- 세계에서 힌두교 신자 수가 가장 많은 국가의 통치하에 있지만, 지역 주민의 상당수가 이슬람교를 믿고 있는 [가]에서는 최근 심각한 유혈 사태가 발생했다. 종교의 차이로 인해 정부에 반감을 갖고 있는 이슬람교도 시위대와 경찰의 충돌로 6월 이후 사망자만 벌써 100여 명에 이른다. - ○○일보, 2010년 ○월 ○일 -
- 일본과 중국이 서로 영유권을 주장하는 [나]에 민간 단체 회원들이 15일 상륙해 오성홍기를 꽂고 중국 국기를 불렀다고 홍콩의 △△방송 등이 보도했다. 이 지역을 실효 지배 중인 일본은 입국 규정 위반 혐의로 이들 전원을 체포하였다. - □□신문, 2012년 □월 □일 -



- (가) (나) (가) (나) (가) (나)
 ① A C ② A E ③ B C
 ④ B D ⑤ B E

5. 다음 글은 지도의 (가), (나) 지역에 대한 여행기의 일부이다. 밑줄 친 ㉠~㉢에 대한 옳은 설명을 <보기>에서 고른 것은? [3점]

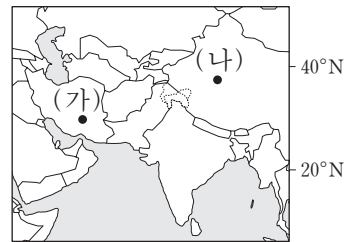
(가) ㉠ 이 지방에서 재배하는 보리나 밀은 11월에 파종해서 3월에 거둬들인다. 이 시기가 지나면 5월에 수확하는 대추야자를 제외하고는 ㉡ 지상에서는 무엇 하나 푸른 잎을 볼 수가 없다. 모든 것을 말라버리게 하는 맹렬한 더위 탓인 것이다.

...(중략)...

㉢ 신선한 물이 땅 밑으로 흐르는 수로에 도달하게 되는데, 이 수로를 따라 연이어 조성된 수직굴이 있어 물이 지나가는 것을 볼 수 있다.

(나) ㉣ 바람은 그들이 간 길을 모래로 덮어 버린다. 그렇기 때문에 그들이 어디로 갔는지 보이지도 않거니와 아예 사람이나 동물이 그리로 간 것처럼 느껴지지도 않는다.

- 『동방견문록』 -



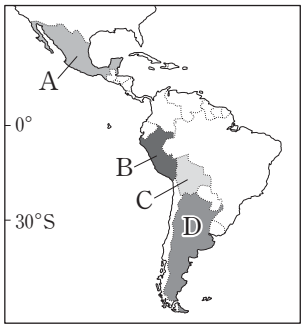
<보기>
 가. ㉠ - 주로 이동식 화전 농업의 형태로 재배된다.
 나. ㉡ - 아열대 고압대의 영향이 강한 시기에 나타나는 현상이다.
 다. ㉢ - 인근의 산지로부터 공급되는 지하수를 이용한 관개 시설이다.
 르. ㉣ - '그들이 간 길'이 사막 포도로 변화되는 모습을 보여 준다.

- ① 가, 나 ② 가, 다 ③ 나, 다 ④ 나, 르 ⑤ 다, 르

2 사회탐구 영역 (세계 지리)

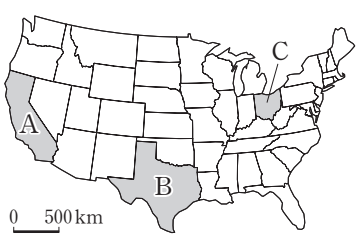
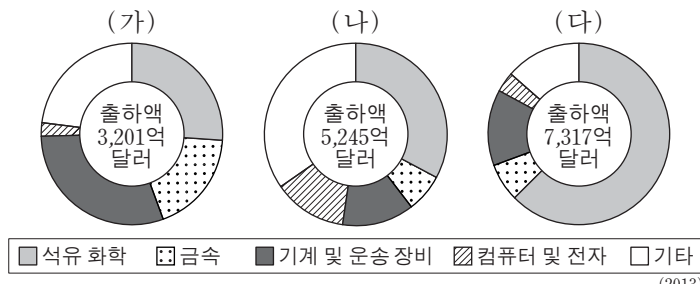
6. 다음 글의 (가)~(다)에서 설명하는 국가를 지도의 A~D에서 고른 것은?

(가) 원주민 전통이 많이 남아 있는 나라이지만, 유럽의 영향을 받아 도시의 중심에는 성당과 광장이 위치한다. 이 나라의 수도는 전 세계 국가의 수도 중에서 해발 고도가 가장 높고, 세계적으로 유명한 관광 명소로는 우유니 소금 사막이 있다.
 (나) 아스테카 문명이 발달했던 나라로 원주민과 백인의 혼혈인 메스티소가 인구의 다수를 차지하나, 아메리카 원주민의 수도 적지 않다. 원주민은 경제적 혜택에서 소외된 남부 지역에 많이 모여 산다.
 (다) 유럽인이 집중적으로 이주하여 백인 인구 비율이 매우 높다. 에스파나 춤곡과 아프리카의 음악이 혼합되어 탱고라는 음악과 춤이 만들어 졌다.



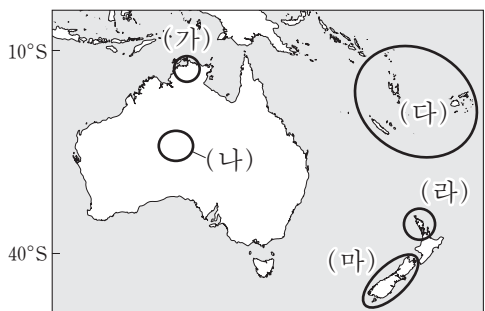
- | | (가) | (나) | (다) |
|---|-----|-----|-----|
| ① | A | B | C |
| ② | B | A | D |
| ③ | B | D | C |
| ④ | C | A | D |
| ⑤ | C | B | D |

7. 그래프는 미국 세 주(州)의 제조업 업종별 출하액 비중을 나타낸 것이다. (가)~(다)에 해당하는 주(州)를 지도의 A~C에서 고른 것은?



- | | (가) | (나) | (다) |
|---|-----|-----|-----|
| ① | A | B | C |
| ② | A | C | B |
| ③ | B | A | C |
| ④ | C | A | B |
| ⑤ | C | B | A |

8. 지도의 (가)~(마) 지역에 대한 설명으로 옳은 것은?



- ① (가) - 연중 기온이 높고 건조하며, 붉은 빛깔의 바위산 등 자연환경을 활용한 관광지로 유명하다.
- ② (나) - 사바나 기후가 나타나며, 다양한 동식물을 관찰할 수 있는 카카두 국립공원이 있다.
- ③ (다) - 산호의 성장으로 형성된 섬과 화산섬이 모두 나타난다.
- ④ (라) - 빙하로 덮여 있는 높은 산지와 사운드라고 불리는 만(灣)들이 잘 발달되어 있다.
- ⑤ (마) - 지역 원주민인 애버리지니(아보리진)의 전통 생활 방식을 체험할 수 있는 관광이 이루어진다.

9. 다음은 학생과 교사가 어떤 국가에 대해 스무고개를 하고 있는 장면의 일부이다. (가)에 들어갈 질문으로 적절한 것만을 <보기>에서 있는 대로 고른 것은? [3점]

학생	교사
...	...
• 여섯 고개 : 고기 조산대에 위치하고 있습니까?	... 아니요
• 일곱 고개 : 지진이 많이 발생합니까?	... 예
• 여덟 고개 : (가)	... 예
• 아홉 고개 : 인구 순위 세계 1위 국가와의 국경 지대에 세계에서 해발 고도가 가장 높은 산이 있습니까?	... 예
...	...

— <보기> —

ㄱ. 빙하를 볼 수 있습니까?
 ㄴ. 지각 판끼리 충돌하는 지역입니까?
 ㄷ. 현재 활동하는 화산이 열을 지어 분포하고 있습니까?
 ㄹ. 최근 대규모 쓰나미(지진 해일)로 인한 피해가 발생한 적이 있습니까?

- ① ㄱ, ㄴ ② ㄱ, ㄷ ③ ㄷ, ㄹ
- ④ ㄱ, ㄴ, ㄹ ⑤ ㄴ, ㄷ, ㄹ

10. 다음 자료는 다큐멘터리 촬영 계획의 일부이다. (가)~(다) 지역을 촬영하기 위한 촬영팀의 이동 순서로 가장 적절한 것은? [3점]

<다큐멘터리 촬영 계획서>

- 다큐멘터리 제목 : '3개국을 가다' 시즌 1
- 촬영 일정
 - 2015년 5월 1일 ~ 2016년 4월 30일
 - 한 국가당 4개월간 촬영 후 다음 국가로 이동
- 촬영 지역 : 국가별 수도 및 그 교외 지역
- 촬영 지역의 기후 정보 및 촬영 내용

촬영 지역	(가)	(나)	(다)
수도의 기후 특성			
촬영 내용	• 단풍이 절정을 이룬 전통 정원의 모습	• 포도 수확 집중기에 분주한 포도 농장들의 모습	• 1년 중 밤이 가장 긴 날의 도시 야경

- ① (가) → (나) → (다) ② (가) → (다) → (나)
- ③ (나) → (가) → (다) ④ (다) → (가) → (나)
- ⑤ (다) → (나) → (가)

11. 다음은 세계 지리 수업 장면이다. 교사의 질문에 대해 적절하게 대답한 학생을 고른 것은?

〈에볼라 바이러스 감염자 발생 지역〉
(가)

지도에 표현된 질병 발생 지역과 관련한 지리 조사 방법들에 대해 발표해 볼까요?

갑: 주민들의 에볼라 바이러스 감염 여부를 GPS 수신기로 확인할 수 있어요.

을: 인공위성 영상을 통해 감염자 발생 지역의 도로망과 가옥 분포를 볼 수 있어요.

병: (가) 지도를 보고 감염으로 인한 사망자 수를 정확하게 집계할 수 있어요.

정: (나) 지도를 보면, (가) 지도에 표현된 감염자 발생국들이 북반구에 있음을 알 수 있어요.

- ① 갑, 을 ② 갑, 병 ③ 을, 병 ④ 을, 정 ⑤ 병, 정

12. 다음 자료의 (가), (나)에 해당하는 도시를 지도의 A~D에서 고른 것은?

여행 블로그 [2012년] (가) 영화제를 보기 위해 한때 동서로 분단되었던 이 나라의 수도에 도착했다. 이 영화제는 세계 3대 영화제 중 하나로써, 현재 제3세계 국가들의 실험적인 영화에 주목하고 있다고 한다.

여행 블로그 [2013년] *2월 □□일 에펠탑과 와인으로 유명한 이 나라의 세계적인 레몬 축제를 보기 위해 (나)을/를 찾아갔다. 거리 곳곳에 지역 특산물인 레몬으로 여러 가지 조형물을 세우고 퍼레이드를 벌이는 모습이 매우 인상적이었다.

	(가)	(나)
①	A	C
②	A	D
③	B	D
④	B	A
⑤	C	D

13. 그래프는 세 국가의 국가별 무역 구조를 나타낸 것이다. (가)~(다)에 해당하는 국가를 지도의 A~C에서 고른 것은? [3점]

수출액 비중 (○) / 수입액 비중 (●)

원재료·연료 / 공업 제품 / 식료품

* 식료품은 식품과 음료 등을, 원재료·연료는 비식용 원재료와 광물성 연료 등을 포함함.
** 달리 분류되지 않는 상품 및 취급물을 제외한 값을 100으로 환산하여 산출한 것임.

	(가)	(나)	(다)
①	A	B	C
②	B	A	C
③	B	C	A
④	C	A	B
⑤	C	B	A

14. 지도의 (가)~(라)에 대한 옳은 설명을 <보기>에서 고른 것은? [3점]

〈보기〉

ㄱ. (가)는 수심이 얇고 주변 바다보다 염분의 농도가 높다.
 ㄴ. (나)의 협만 양쪽 절벽에는 폭포가 나타난다.
 ㄷ. (다)의 호소는 대부분 영구 동토층이 녹아 형성되었다.
 ㄹ. (라)는 주로 파랑과 연안류에 의해 발달한다.

- ① ㄱ, ㄴ ② ㄱ, ㄷ ③ ㄴ, ㄷ ④ ㄴ, ㄹ ⑤ ㄷ, ㄹ

15. 그림은 (가), (나) 시기 열대 수렴대의 위치를 모식적으로 나타낸 것이다. 지도의 A~D 지역에 대한 옳은 설명을 <보기>에서 고른 것은? (단, (가), (나) 시기는 1월과 7월 중 하나임.) [3점]

북반구 / 남반구

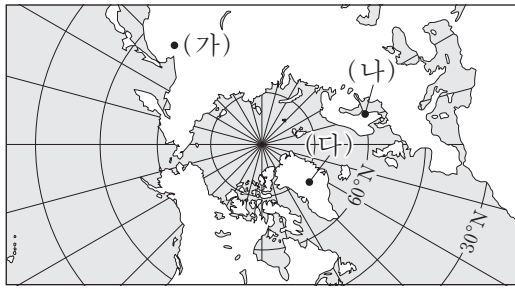
열대 우림 / 사바나 / 건조

〈보기〉

ㄱ. A - (가) 시기는 (나) 시기보다 건조하고 일조 시간이 길다.
 ㄴ. B - (가) 시기는 (나) 시기보다 강수량이 많다.
 ㄷ. C - (나) 시기에는 넓은 초원에서 풀이 메말라 간다.
 ㄹ. D - (가) 시기에는 거의 매일 대류성 강수가 나타난다.

- ① ㄱ, ㄴ ② ㄱ, ㄷ ③ ㄴ, ㄷ ④ ㄴ, ㄹ ⑤ ㄷ, ㄹ

16. 지도의 (가)~(다) 지역에 대한 옳은 설명만을 <보기>에서 있는 대로 고른 것은?



<보기>

ㄱ. (가)에는 침엽수림이 분포하며 포드졸성 토양이 나타난다.
 ㄴ. (나)의 가옥 대부분은 지면으로 열이 전달되지 않도록 바닥을 높이 띄운 형태로 지어진다.
 ㄷ. (다)에는 최후 빙기의 빙하가 후퇴하면서 형성된 빙력토 평원이 넓게 분포한다.
 ㄹ. (가)~(다) 중 기온의 연교차가 가장 큰 곳은 (가)이다.

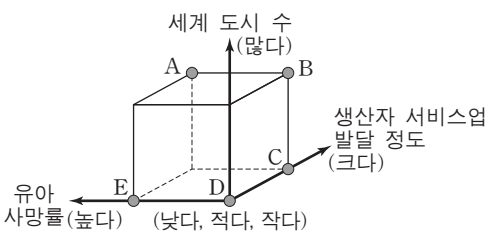
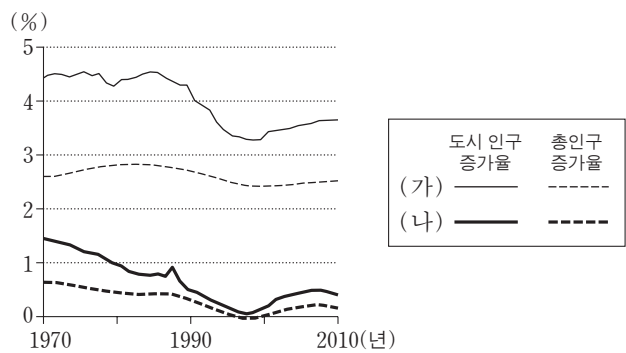
- ① ㄱ, ㄷ ② ㄱ, ㄹ ③ ㄴ, ㄷ
 ④ ㄱ, ㄴ, ㄹ ⑤ ㄴ, ㄷ, ㄹ

17. 다음 글은 세계의 주요 환경 문제에 관한 것이다. (가)~(다) 환경 문제에 대한 설명으로 가장 적절한 것은? [3점]

○ 사하라 남쪽 사헬 지대에 속한 차드의 어느 마을에서 어린이들이 마른 우물을 파헤치고 있다. 이 지역은 급속한 (가)이/가 진행되고 있는 곳으로, 인구 증가로 인한 과도한 경작과 방목이 이를 가속화시키고 있다.
 ○ 시드니 ○○ 해수욕장에서는 피부암 사망자 모습이 상징적으로 표현된 1,700여 개의 대형 수건을 펼쳐 놓는 행사가 개최되었다. (나)(으)로 자외선 양이 증가하면서 피부암 발생률이 높아지자 경각심을 높이기 위해 이와 같은 활동을 벌인 것이다.
 ○ △△사의 초콜릿바 광고를 패러디한 동영상은 인터넷에서 화제이다. 이 동영상은 초콜릿바의 원료인 팜유 생산을 위한 경작지 확대 과정에서 인도네시아의 (다)이/가 심화되고 있으며, 이로 인해 오랑우탄 서식지가 줄어들고 있다는 주장을 담고 있다.

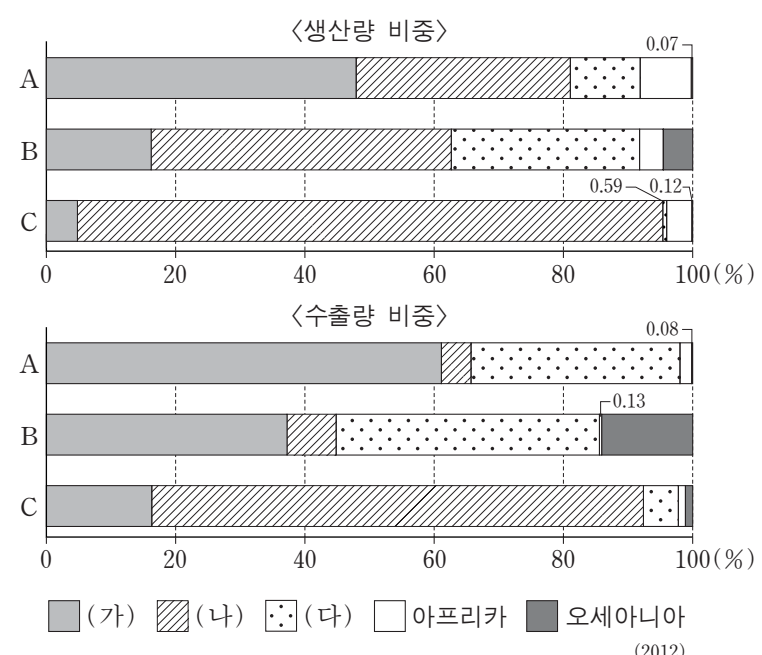
- ① (가) - 몬트리올 의정서 채택의 계기가 되었다.
 ② (나) - 호수 산성화와 삼림 황폐화를 초래한다.
 ③ (나) - 이 문제 해결을 위해 교토 의정서가 채택되었다.
 ④ (다) - 생물종 다양성을 감소시키고 토양 침식을 심화시킨다.
 ⑤ (다) - 장기간의 가뭄으로 인한 지하수 고갈이 주된 원인이다.

18. 그래프의 (가) 대륙과 비교한 (나) 대륙의 상대적 특징을 그림의 A~E에서 고른 것은? (단, (가), (나)는 유럽과 아프리카 중 하나임.) [3점]



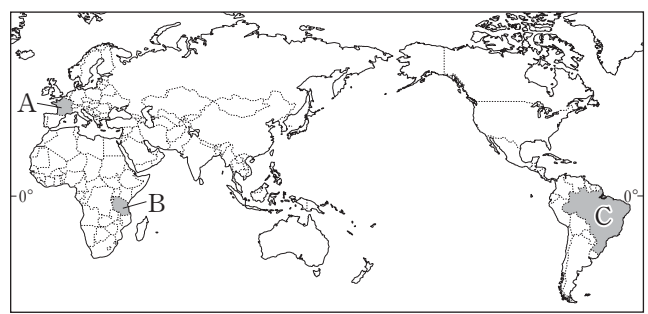
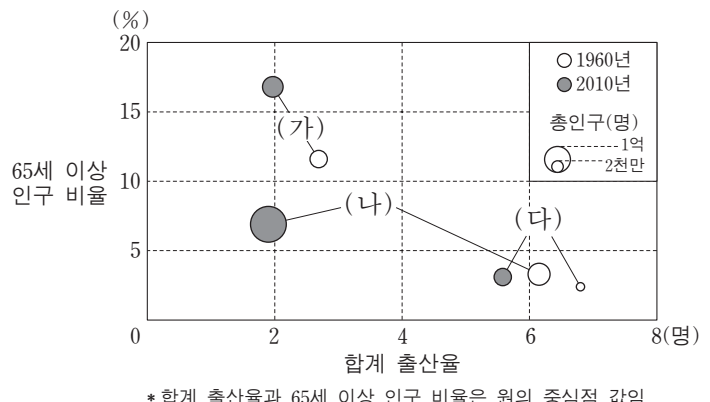
- ① A
 ② B
 ③ C
 ④ D
 ⑤ E

19. 그래프는 세계 3대 식량 작물 생산량·수출량의 대륙별 비중을 나타낸 것이다. A~C 작물에 대한 설명으로 옳은 것은?



- ① A의 최대 수출국은 (나)에 위치한다.
 ② B는 주로 (다)의 계절풍 기후 지역에서 재배된다.
 ③ C의 최대 생산국은 (가)에 위치한다.
 ④ B는 A보다 가축의 사료로 이용되는 비중이 높다.
 ⑤ C는 B보다 단위 면적당 생산량이 많다.

20. 그래프의 (가)~(다)에 해당하는 국가를 지도의 A~C에서 고른 것은?



- | | | | | | | | |
|---|-----|-----|-----|---|-----|-----|-----|
| | (가) | (나) | (다) | | (가) | (나) | (다) |
| ① | A | B | C | ② | A | C | B |
| ③ | B | A | C | ④ | B | C | A |
| ⑤ | C | B | A | | | | |

* 확인 사항
 ○ 답안지의 해당란에 필요한 내용을 정확히 기입(표기)했는지 확인하십시오.