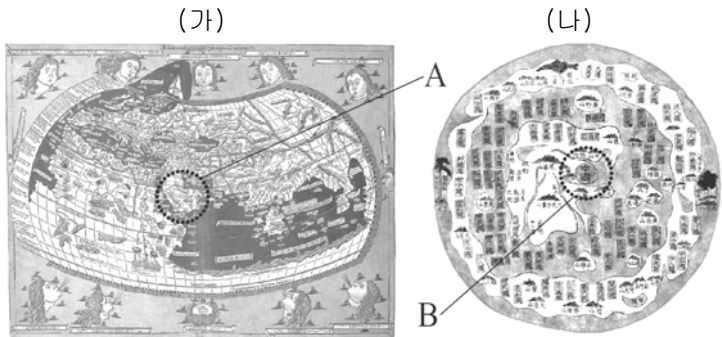


제 4 교시

사회탐구 영역 (세계 지리)

성명		수험번호					3		
----	--	------	--	--	--	--	---	--	--

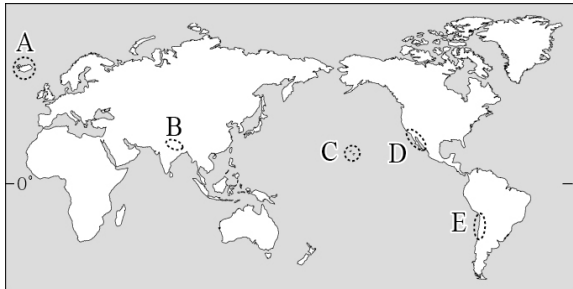
1. (가), (나) 지도에 대한 설명으로 옳은 것은?



- ① (가)는 경위선의 개념과 투영법이 사용되었다.
- ② (나)는 지구가 구체(球體)라는 지리적 인식이 반영되었다.
- ③ (가)의 A와 (나)의 B는 동일한 지역이다.
- ④ (가), (나)에는 모두 아메리카 대륙이 표현되어 있다.
- ⑤ (가)는 크리스토프, (나)는 이슬람교의 세계관이 반영되어 있다.

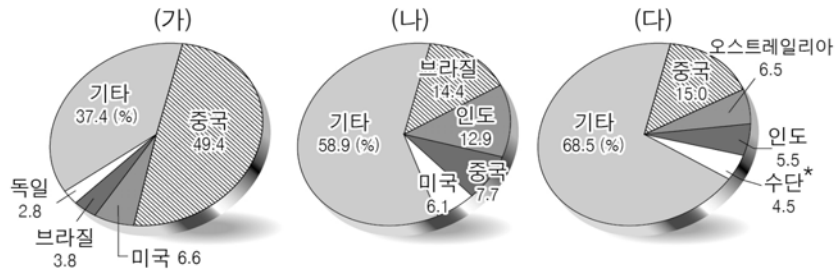
2. 다음 자료의 (가), (나)에 해당하는 지역을 지도의 A~E에서 고른 것은?

(가) 두 판이 분리되는 경계에 위치하여 화산 활동이 활발한 이 지역에서는 지하의 뜨거운 증기나 지하수를 이용하여 전기를 생산한다.
 (나) 대륙판과 해양판이 충돌하는 경계에 위치하여 지진과 화산 활동이 활발한 이 지역에서는 구리와 유황 등의 매장량이 많아 자원 개발이 활발하다.



- | | | |
|---|-----|-----|
| | (가) | (나) |
| ① | A | C |
| ② | A | E |
| ③ | B | D |
| ④ | B | E |
| ⑤ | D | C |

3. 그래프는 주요 가축 사육 상위 4개국의 비중을 나타낸 것이다. (가)~(다)에 대한 설명으로 옳은 것은? (단, (가)~(다)는 소, 양, 돼지 중 하나임.)

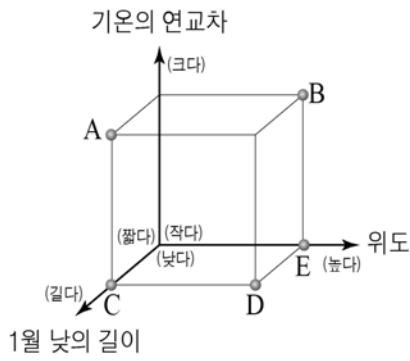


* 수단은 남수단의 수치를 포함함. (2013)

- ① (가)는 치즈, 버터 등과 같은 유제품을 제공해준다.
- ② (나)는 모직공업의 발달에 따라 기업적으로 사육한다.
- ③ (다)는 벼농사 지역에서 노동력 대체 효과가 크다.
- ④ (가), (나)는 서남아시아에서 유목 형태로 사육된다.
- ⑤ (나)는 (다)보다 강수량이 많은 곳에서 사육된다.

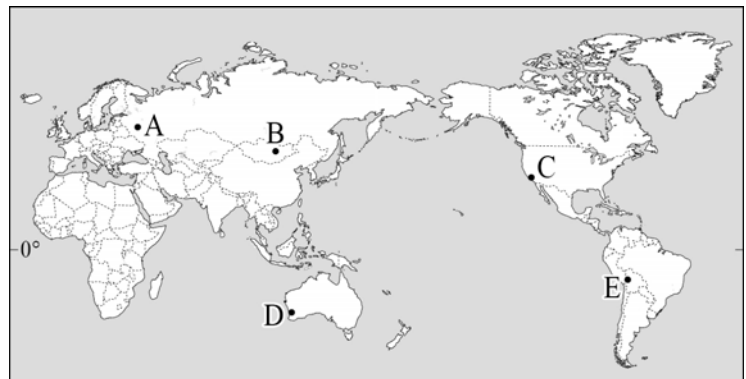
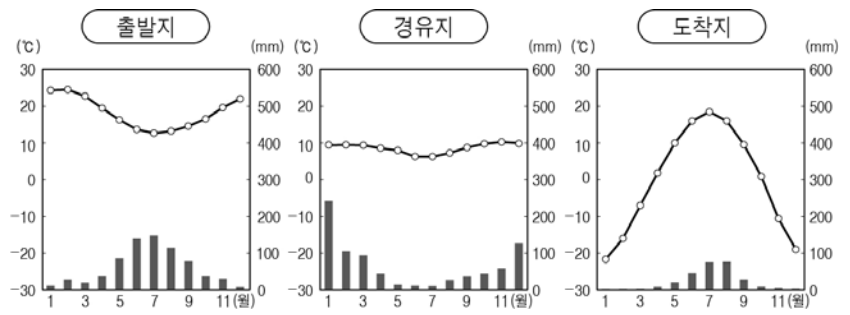
4. 다음 글은 두 지역의 축제를 정리한 것이다. 밑줄 친 (가) 도시에 대한 (나) 도시의 상대적 특징을 그림의 A~E에서 고른 것은? [3점]

- '북방의 수도(水都)'라 불리는 (가)에서 하지(夏至)를 전후하여 열리는 축제로 밤 11시가 넘어서야 어둠이 깔리는 하얀 밤을 배경으로 음악, 연극 등을 즐긴다.
- 세계 3대 미항(美港) 중 하나인 (나)에서 매년 2~3월에 열리는 축제로 화려한 의상을 입은 무희들이 흥겨운 삼바 리듬에 맞춰 춤을 추면서 각종 퍼레이드를 펼친다.



- ① A
- ② B
- ③ C
- ④ D
- ⑤ E

5. 다음 자료는 여행 예정지의 기후 그래프이다. 여행 경로로 옳은 것은? [3점]



- | | | | | | |
|-----|-----|-----|-----|-----|-----|
| 출발지 | 경유지 | 도착지 | 출발지 | 경유지 | 도착지 |
| ① C | E | A | ② D | B | A |
| ③ D | E | B | ④ E | C | A |
| ⑤ E | C | B | | | |

6. 지도의 A~D에 대한 옳은 설명을 <보기>에서 고른 것은?

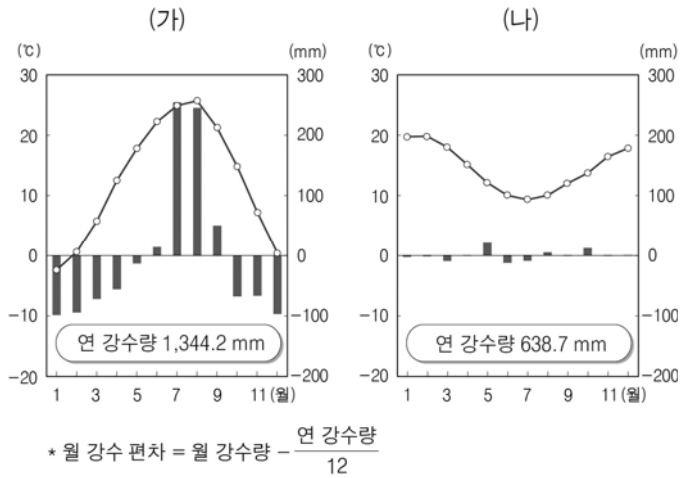
[3점]



<보 기>
 가. A는 V자곡이 침수되어 형성된 리아스 해안이다.
 나. B는 조수 간만의 차가 커서 갯벌이 넓게 발달한다.
 다. C는 침식 작용이 우세한 해안에서 발달한다.
 르. D는 하천의 유속 감소로 하구에 형성된 충적 지형이다.

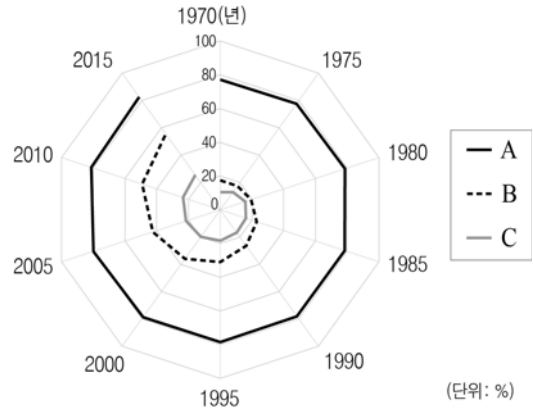
- ① 가, 나 ② 가, 다 ③ 나, 다 ④ 나, 르 ⑤ 다, 르

7. 그래프는 어느 두 지역의 월 강수 편차와 월평균 기온을 나타낸 것이다. (가), (나) 지역에 대한 설명으로 옳은 것은?



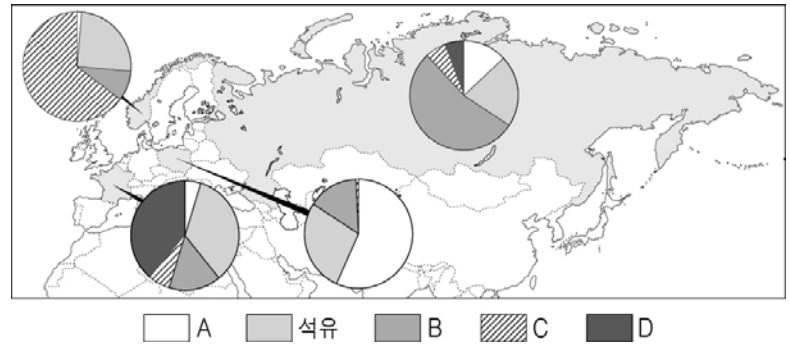
- ① (가)는 남반구에 위치한다.
 ② (나)는 건조 기후에 해당한다.
 ③ (가)는 (나)보다 계절풍의 영향을 많이 받는다.
 ④ (나)는 (가)보다 기온의 연교차가 크다.
 ⑤ (가)는 혼합 농업, (나)는 벼농사가 주로 발달한다.

8. 그래프는 세 국가의 도시화율 변화를 나타낸 것이다. A~C 국가에 대한 설명으로 옳은 것은?



- ① C는 A보다 도시의 내부 구조 분화가 뚜렷하다.
 ② 3차 산업 종사자 비중은 C>B>A 순으로 높다.
 ③ 2015년에 B는 도시 인구가 농촌 인구보다 많다.
 ④ 2005년 이후 C는 도시화의 종착 단계에 진입했다.
 ⑤ 1990~2010년에 도시화율의 증가폭은 A가 가장 크다.

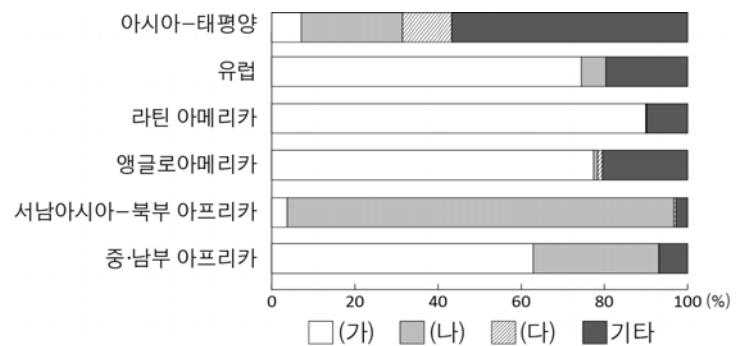
9. 다음 자료는 주요 국가의 1차 에너지원별 소비 구조를 나타낸 것이다. A~D에 대한 설명으로 옳은 것은? [3점]



* 석유, 석탄, 수력, 원자력, 천연가스의 소비 비중 합을 100으로 함. (2013)


- ① A는 신기 조산대 주변에 주로 매장되어 있다.
 ② B는 핵폐기물 처리에 어려움이 있다.
 ③ D는 냉동 액화 기술의 개발 이후 소비가 급증하였다.
 ④ C는 B보다 에너지 자원의 고갈 위험성이 크다.
 ⑤ D는 A보다 상용화된 시기가 늦다.

10. 그래프는 세 보편 종교의 지역별 신자 수 비중을 나타낸 것이다. (가)~(다)에 대한 설명으로 옳은 것은? [3점]




- ① (가)의 종교 경관은 아라베스크 무늬가 있는 모스크이다.
 ② (나)의 수행자들은 육식을 금하고 채식을 선호한다.
 ③ (다)의 신자들은 하루에 5번 성지를 향해 예배한다.
 ④ (가)에 비해 (다)는 발생 시기가 늦다.
 ⑤ (나)에 비해 (가)는 신자 수가 많다.

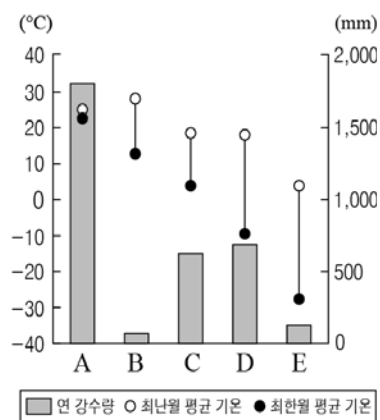
11. 다음 자료의 (가), (나) 지형이 주로 나타나는 지역의 기후 특성을 그래프의 A~E에서 고른 것은?



(가) 바람에 날린 모래에 의해 침식되어 형성된 버섯 모양의 바위



(나) 토양층이 동결과 융해를 반복하여 형성된 다각형 모양의 지형



- | | | |
|---|-----|-----|
| | (가) | (나) |
| ① | B | A |
| ② | B | E |
| ③ | C | D |
| ④ | C | E |
| ⑤ | D | A |

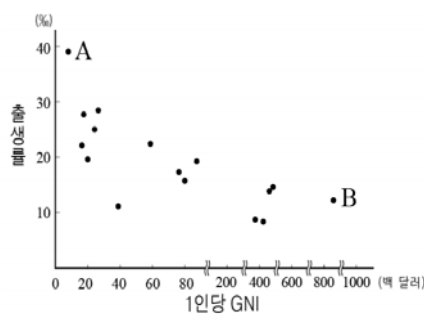
12. 다음 글은 세계의 전통 음식을 설명한 것이다. 밑줄 친 (가)~(다)에 해당하는 주요 식량 작물에 대한 설명으로 옳은 것은?

- 크루아상은 (가)의 가루를 우유, 버터 등과 반죽한 후 구운 빵이다. 오스트리아가 오스만 튀르크 제국의 침략을 물리친 기념으로 초승달 모양을 본떠 만들었다.
- 페(pho)는 (나)(으)로 국수를 만들어 소나 닭의 뼈를 고아 만든 국물에 숙주나물과 고수 잎 등을 얹어 먹는 음식이다.
- 토르티야는 (다)을/를 가루 내어 반죽한 뒤 밀전병처럼 둥그렇게 구운 것이다. 토르티야에 여러 가지 재료를 넣어 먹는 타코는 최근 세계 각지로 확산되고 있다.

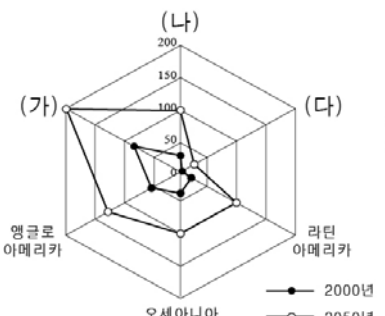
- ① (가)는 식량 작물 중 국제 이동량이 가장 많다.
- ② (가)는 (나)보다 인구 부양력이 높다.
- ③ (가)는 (나)보다 단위 면적당 농업용수 사용량이 많다.
- ④ (나)는 (다)보다 가축의 사료로 이용되는 비중이 높다.
- ⑤ (가)는 아시아, (나)는 아메리카 대륙이 기원지이다.

13. 다음 자료에 대한 설명으로 옳은 것은? (단, (가)~(다)는 아시아, 아프리카, 유럽 중 하나임.) [3점]

<주요 국가의 출생률과 1인당 GNI>



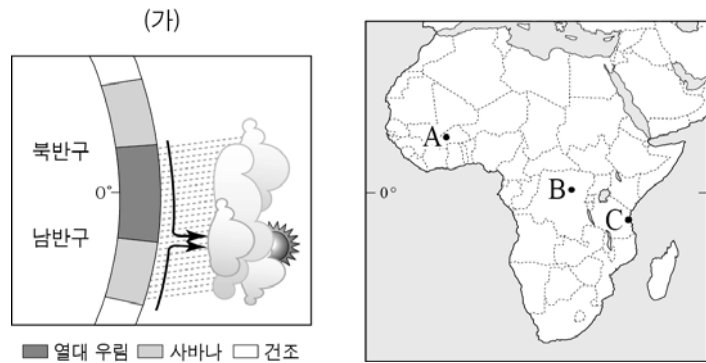
<대륙별 노령화 지수>



(2012) * 노령화 지수=(65세 이상 인구/14세 이하 인구)×100
 * GNI: 한 나라의 국민이 일정 기간 생산 활동에 참여한 대가로 받은 소득의 합계임. ** 2050년은 추정치임.

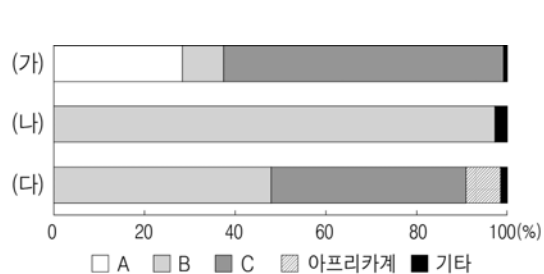
- ① A는 B보다 출생 시 기대 수명이 높다.
- ② A는 (가), B는 (나)에 속하는 국가이다.
- ③ 1인당 GNI가 높을수록 출생률도 높아진다.
- ④ 노령화 지수 증가폭이 가장 큰 지역은 (나)이다.
- ⑤ 2000년에 (다)는 노년 인구보다 유소년 인구가 많다.

14. 그림은 (가) 시기의 적도 수렴대 위치를 모식적으로 나타낸 것이다. 이 시기 지도의 A~C 지역에 대한 설명으로 옳은 것은? (단, (가) 시기는 1월과 7월 중 하나임.) [3점]



- ① A는 거의 매일 대류성 강수가 나타난다.
- ② A는 북풍보다 남풍 계열의 바람이 우세하다.
- ③ B는 아열대 고압대의 영향을 크게 받는다.
- ④ C는 건기에 해당하여 동물들이 북쪽으로 이동한다.
- ⑤ C는 A보다 낮의 길이가 길다.

15. 그래프는 지도에 표시된 국가의 인종(민족) 구성을 나타낸 것이다. 이에 대한 설명으로 옳은 것은? (단, A~C는 원주민, 유럽계, 혼혈 중 하나임.) [3점]



- ① (가)의 B는 고산 지역에 고대 문명을 발달시켰다.
- ② (나)는 브릭스(BRICS)에 속하는 국가이다.
- ③ (다)는 에스파냐어를 공용어로 사용한다.
- ④ A는 B보다 아메리카 대륙에서의 거주 역사가 길다.
- ⑤ B는 A, C, 아프리카계 사이의 혼혈이다.

16. 다음 글의 밑줄 친 ㉠~㉤에 대한 옳은 설명을 <보기>에서 고른 것은?

스포츠용품을 생산·판매하는 세계적인 ○○기업의 ㉠ 본사는 미국 오리건 주에 있으며, 이 기업에서 판매되는 제품은 모두 외국에 있는 ㉡ 생산 공장에서 제작된다. 창업 초기에는 일본에 생산 공장을 설립하였으나 1970년대 후반 ㉢ 대한민국, 타이완으로 생산 공장을 이전하였다. 이후 1980년대에는 ㉣ 중국, 1990년대에는 ㉤ 베트남, 인도네시아 등의 동남아시아 지역으로 생산 공장을 이전하였다.

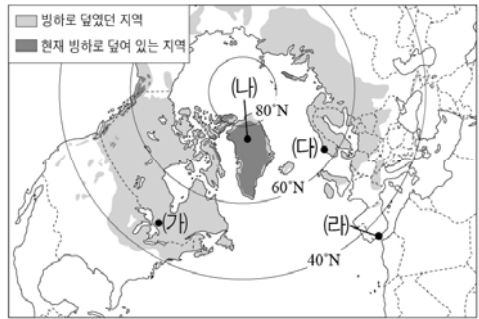
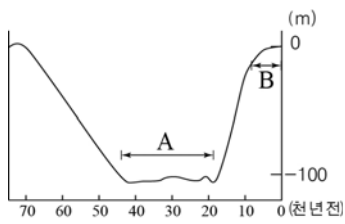
<보 기>

ㄱ. ㉠은 경영 기획 및 관리 기능을 주로 담당한다.
 ㄴ. ㉡은 ㉠보다 고급 전문 인력이 더 요구된다.
 ㄷ. ㉢에 공장이 입지한 것은 ㉣의 노동비가 상승한 것과 관련이 있다.
 ㄹ. 생산 공장이 ㉤으로 이전함에 따라 ㉢과 ㉣의 근로자들이 ㉤에 대규모로 유입된다.

- ① ㄱ, ㄴ ② ㄱ, ㄷ ③ ㄴ, ㄷ ④ ㄴ, ㄹ ⑤ ㄷ, ㄹ

17. 다음 자료를 바탕으로 추론한 내용으로 적절한 것은? [3점]

<신생대 제4기 해수면 변화>



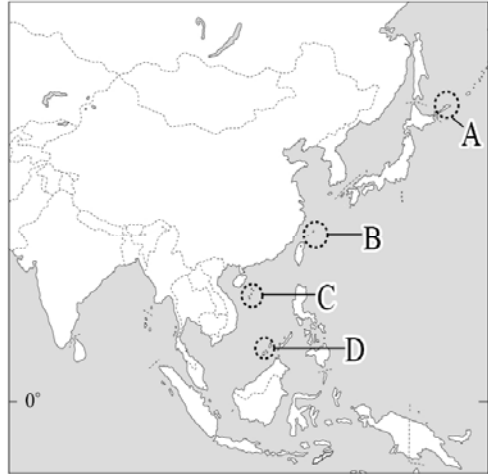
- ① A 시기에 (가)에는 활동층이 두껍게 분포하였을 것이다.
 ② A 시기에 (나)에서는 모레인을 흔히 볼 수 있었을 것이다.
 ③ B 시기에 (다)에는 피오르가 발달하였을 것이다.
 ④ B 시기에 (라)에는 빙력도 평원이 넓게 분포하였을 것이다.
 ⑤ B보다 A 시기에는 빙하의 분포 면적이 좁았을 것이다.

18. 지도는 세계 도시의 계층 체계를 나타낸 것이다. (가), (나)에 대한 설명으로 옳은 것은?



- ① (가)는 (나)보다 국제기구의 본부 수가 적다.
 ② (나)는 (가)보다 생산자 서비스의 발달 수준이 높다.
 ③ (가), (나)를 구분하는 가장 중요한 기준은 인구 규모이다.
 ④ (가)는 (나)보다 동일 계층의 도시 간 평균 거리가 멀다.
 ⑤ 교통과 통신이 발달할수록 (나)에 대한 (가)의 영향력이 작아진다.

19. 지도의 A~D 분쟁 지역에 대한 옳은 설명만을 <보기>에서 있는 대로 고른 것은? [3점]



<보 기>

ㄱ. A는 러시아가 실효적 지배를 하고 있다.
 ㄴ. B의 분쟁은 종교적 차이가 주된 요인이다.
 ㄷ. D는 A보다 분쟁 당사국의 수가 많다.
 ㄹ. 중국은 B, C, D의 분쟁 당사국으로 모두 포함되어 있다.

- ① ㄱ, ㄷ ② ㄴ, ㄹ ③ ㄱ, ㄴ, ㄹ
 ④ ㄱ, ㄷ, ㄹ ⑤ ㄴ, ㄷ, ㄹ

20. 다음 자료는 사이버 학습 장면의 일부이다. ㉠~㉤ 중 옳은 내용을 고른 것은?

※ 지도는 인구의 국제 이동을 나타낸 것입니다. (가)~(다) 인구 이동에 대해 답글을 달아보세요.

(가) (나) (다)

[답글] (4)

ㄴ (가)의 이주민들은 주로 크리스티교를 신봉합니다. ㉠
 ㄴ (나)의 이주민들로 인해 유입국에서는 노동력 부족 현상이 완화되었습니다. ㉡
 ㄴ (다)는 내전으로 인한 난민의 이동입니다. ㉢
 ㄴ (가)와 (나)의 이주민들은 유입국에서 고소득 전문직에 종사하는 비중이 높습니다. ㉣

- ① ㉠, ㉡ ② ㉠, ㉣ ③ ㉡, ㉣ ④ ㉡, ㉣ ⑤ ㉢, ㉣

* 확인 사항
 ○ 답안지의 해당란에 필요한 내용을 정확히 기입(표기)했는지 확인하십시오.