

제 2 교시

수학 영역

5지선다형

1. $\left(\frac{2\sqrt{3}}{2}\right)^{\sqrt{3}+1}$ 의 값은? [2점]

- ① $\frac{1}{16}$ ② $\frac{1}{4}$ ③ 1 ④ 4 ⑤ 16

2. 함수 $f(x) = 2x^2 + 5$ 에 대하여 $\lim_{x \rightarrow 2} \frac{f(x) - f(2)}{x - 2}$ 의 값은? [2점]

- ① 8 ② 9 ③ 10 ④ 11 ⑤ 12

3. $\sin(\pi - \theta) = \frac{5}{13}$ 이고 $\cos \theta < 0$ 일 때, $\tan \theta$ 의 값은? [3점]

- ① $-\frac{12}{13}$ ② $-\frac{5}{12}$ ③ 0 ④ $\frac{5}{12}$ ⑤ $\frac{12}{13}$

4. 함수

$$f(x) = \begin{cases} -2x + a & (x \leq a) \\ ax - 6 & (x > a) \end{cases}$$

가 실수 전체의 집합에서 연속이 되도록 하는 모든 상수 a 의 값의 합은? [3점]

- ① -1 ② -2 ③ -3 ④ -4 ⑤ -5

5. 등차수열 $\{a_n\}$ 에 대하여

$$a_1 = 2a_5, \quad a_8 + a_{12} = -6$$

일 때, a_2 의 값은? [3점]

- ① 17 ② 19 ③ 21 ④ 23 ⑤ 25

6. 함수 $f(x) = x^3 - 3x^2 + k$ 의 극댓값이 9일 때,
함수 $f(x)$ 의 극솟값은? (단, k 는 상수이다.) [3점]

- ① 1 ② 2 ③ 3 ④ 4 ⑤ 5

7. 수열 $\{a_n\}$ 의 첫째항부터 제 n 항까지의 합을 S_n 이라 하자.

$$S_n = \frac{1}{n(n+1)} \text{ 일 때, } \sum_{k=1}^{10} (S_k - a_k) \text{의 값은? [3점]}$$

- ① $\frac{1}{2}$ ② $\frac{3}{5}$ ③ $\frac{7}{10}$ ④ $\frac{4}{5}$ ⑤ $\frac{9}{10}$

8. 곡선 $y = x^3 - 4x + 5$ 위의 점 $(1, 2)$ 에서의 접선이
곡선 $y = x^4 + 3x + a$ 에 접할 때, 상수 a 의 값은? [3점]

- ① 6 ② 7 ③ 8 ④ 9 ⑤ 10

9. 닫힌구간 $[0, 12]$ 에서 정의된 두 함수

$$f(x) = \cos \frac{\pi x}{6}, \quad g(x) = -3 \cos \frac{\pi x}{6} - 1$$

이 있다. 곡선 $y = f(x)$ 와 직선 $y = k$ 가 만나는 두 점의
 x 좌표를 α_1, α_2 라 할 때, $|\alpha_1 - \alpha_2| = 8$ 이다. 곡선 $y = g(x)$ 와
직선 $y = k$ 가 만나는 두 점의 x 좌표를 β_1, β_2 라 할 때,
 $|\beta_1 - \beta_2|$ 의 값은? (단, k 는 $-1 < k < 1$ 인 상수이다.) [4점]

- ① 3 ② $\frac{7}{2}$ ③ 4 ④ $\frac{9}{2}$ ⑤ 5

10. 수직선 위의 점 $A(6)$ 과 시각 $t=0$ 일 때 원점을 출발하여
이 수직선 위를 움직이는 점 P 가 있다. 시각 $t(t \geq 0)$ 에서의
점 P 의 속도 $v(t)$ 를

$$v(t) = 3t^2 + at \quad (a > 0)$$

이라 하자. 시각 $t=2$ 에서 점 P 와 점 A 사이의 거리가 10일 때,
상수 a 의 값은? [4점]

- ① 1 ② 2 ③ 3 ④ 4 ⑤ 5

11. 함수 $f(x) = -(x-2)^2 + k$ 에 대하여 다음 조건을 만족시키는 자연수 n 의 개수가 2일 때, 상수 k 의 값은? [4점]

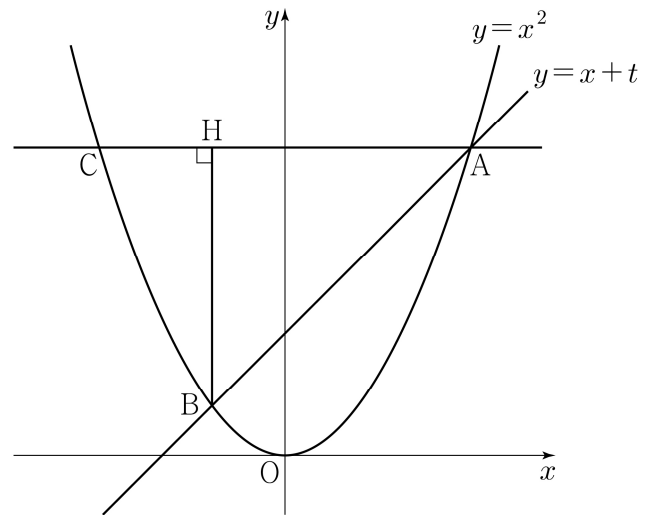
$\sqrt{3}^{f(n)}$ 의 네제곱근 중 실수인 것을 모두 곱한 값이 -9 이다.

- ① 8 ② 9 ③ 10 ④ 11 ⑤ 12

12. 실수 $t(t > 0)$ 에 대하여 직선 $y = x + t$ 와 곡선 $y = x^2$ 이 만나는 두 점을 A, B라 하자. 점 A를 지나고 x 축에 평행한 직선이 곡선 $y = x^2$ 과 만나는 점 중 A가 아닌 점을 C, 점 B에서 선분 AC에 내린 수선의 발을 H라 하자.

$\lim_{t \rightarrow 0^+} \frac{\overline{AH} - \overline{CH}}{t}$ 의 값은? (단, 점 A의 x 좌표는 양수이다.) [4점]

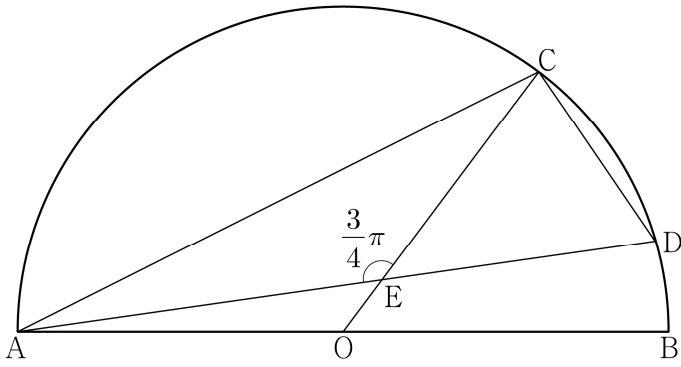
- ① 1 ② 2 ③ 3 ④ 4 ⑤ 5



13. 그림과 같이 선분 AB를 지름으로 하는 반원의 호 AB 위에 두 점 C, D가 있다. 선분 AB의 중점 O에 대하여 두 선분 AD, CO가 점 E에서 만나고,

$$\overline{CE} = 4, \quad \overline{ED} = 3\sqrt{2}, \quad \angle CEA = \frac{3}{4}\pi$$

이다. $\overline{AC} \times \overline{CD}$ 의 값은? [4점]



- ① $6\sqrt{10}$ ② $10\sqrt{5}$ ③ $16\sqrt{2}$
- ④ $12\sqrt{5}$ ⑤ $20\sqrt{2}$

14. 최고차항의 계수가 1이고 $f(0)=0, f(1)=0$ 인 삼차함수 $f(x)$ 에 대하여 함수 $g(t)$ 를

$$g(t) = \int_t^{t+1} f(x) dx - \int_0^1 |f(x)| dx$$

라 할 때, <보기>에서 옳은 것만을 있는 대로 고른 것은? [4점]

<보 기>

ㄱ. $g(0)=0$ 이면 $g(-1) < 0$ 이다.

ㄴ. $g(-1) > 0$ 이면 $f(k)=0$ 을 만족시키는 $k < -1$ 인 실수 k 가 존재한다.

ㄷ. $g(-1) > 1$ 이면 $g(0) < -1$ 이다.

- ① ㄱ ② ㄱ, ㄴ ③ ㄱ, ㄷ
- ④ ㄴ, ㄷ ⑤ ㄱ, ㄴ, ㄷ

15. 수열 $\{a_n\}$ 이 다음 조건을 만족시킨다.

(가) 모든 자연수 k 에 대하여 $a_{4k} = r^k$ 이다.

(단, r 는 $0 < |r| < 1$ 인 상수이다.)

(나) $a_1 < 0$ 이고, 모든 자연수 n 에 대하여

$$a_{n+1} = \begin{cases} a_n + 3 & (|a_n| < 5) \\ -\frac{1}{2}a_n & (|a_n| \geq 5) \end{cases}$$

이다.

$|a_m| \geq 5$ 를 만족시키는 100 이하의 자연수 m 의 개수를 p 라 할 때, $p + a_1$ 의 값은? [4점]

- ① 8 ② 10 ③ 12 ④ 14 ⑤ 16

단답형

16. 방정식 $\log_3(x-4) = \log_9(x+2)$ 를 만족시키는 실수 x 의 값을 구하시오. [3점]

17. 함수 $f(x)$ 에 대하여 $f'(x) = 6x^2 - 4x + 3$ 이고 $f(1) = 5$ 일 때, $f(2)$ 의 값을 구하시오. [3점]

18. 수열 $\{a_n\}$ 에 대하여 $\sum_{k=1}^5 a_k = 10$ 일 때,

$$\sum_{k=1}^5 ca_k = 65 + \sum_{k=1}^5 c$$

를 만족시키는 상수 c 의 값을 구하시오. [3점]

19. 방정식 $3x^4 - 4x^3 - 12x^2 + k = 0$ 이 서로 다른 4개의 실근을 갖도록 하는 자연수 k 의 개수를 구하시오. [3점]

20. 상수 $k(k < 0)$ 에 대하여 두 함수

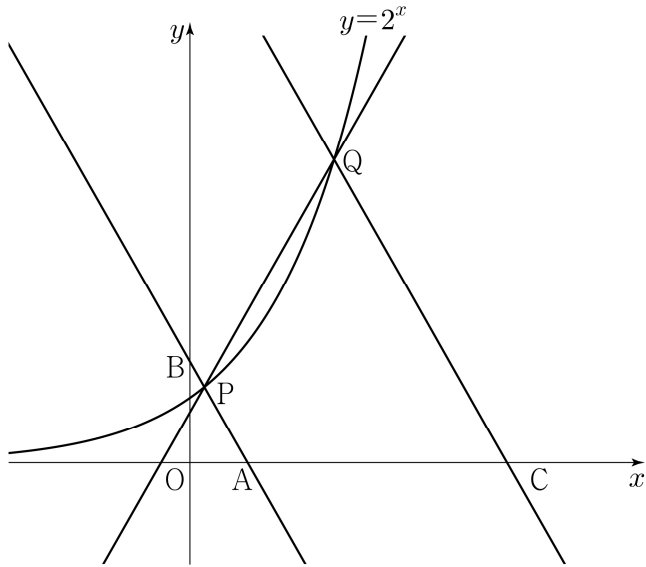
$$f(x) = x^3 + x^2 - x, \quad g(x) = 4|x| + k$$

의 그래프가 만나는 점의 개수가 2일 때,
두 함수의 그래프로 둘러싸인 부분의 넓이를 S 라 하자.
 $30 \times S$ 의 값을 구하시오. [4점]

21. 그림과 같이 곡선 $y=2^x$ 위에 두 점 $P(a, 2^a)$, $Q(b, 2^b)$ 이 있다. 직선 PQ의 기울기를 m 이라 할 때, 점 P를 지나며 기울기가 $-m$ 인 직선이 x 축, y 축과 만나는 점을 각각 A, B라 하고, 점 Q를 지나며 기울기가 $-m$ 인 직선이 x 축과 만나는 점을 C라 하자.

$$\overline{AB} = 4\overline{PB}, \quad \overline{CQ} = 3\overline{AQ}$$

일 때, $90 \times (a+b)$ 의 값을 구하시오. (단, $0 < a < b$) [4점]



22. 최고차항의 계수가 1이고 $x=3$ 에서 극댓값 8을 갖는 삼차함수 $f(x)$ 가 있다. 실수 t 에 대하여 함수 $g(x)$ 를

$$g(x) = \begin{cases} f(x) & (x \geq t) \\ -f(x) + 2f(t) & (x < t) \end{cases}$$

라 할 때, 방정식 $g(x)=0$ 의 서로 다른 실근의 개수를 $h(t)$ 라 하자. 함수 $h(t)$ 가 $t=a$ 에서 불연속인 a 의 값이 두 개일 때, $f(8)$ 의 값을 구하시오. [4점]

* 확인 사항

- 답안지의 해당란에 필요한 내용을 정확히 기입(표기)했는지 확인하시오.
- 이어서, 「선택과목(확률과 통계)」 문제가 제시되오니, 자신이 선택한 과목인지 확인하시오.

제 2 교시

수학 영역(미적분)

5지선다형

23. $\lim_{x \rightarrow 0} \frac{4^x - 2^x}{x}$ 의 값은? [2점]

- ① $\ln 2$ ② 1 ③ $2\ln 2$ ④ 2 ⑤ $3\ln 2$

24. $\int_0^\pi x \cos\left(\frac{\pi}{2} - x\right) dx$ 의 값은? [3점]

- ① $\frac{\pi}{2}$ ② π ③ $\frac{3\pi}{2}$ ④ 2π ⑤ $\frac{5\pi}{2}$

2

수학 영역(미적분)

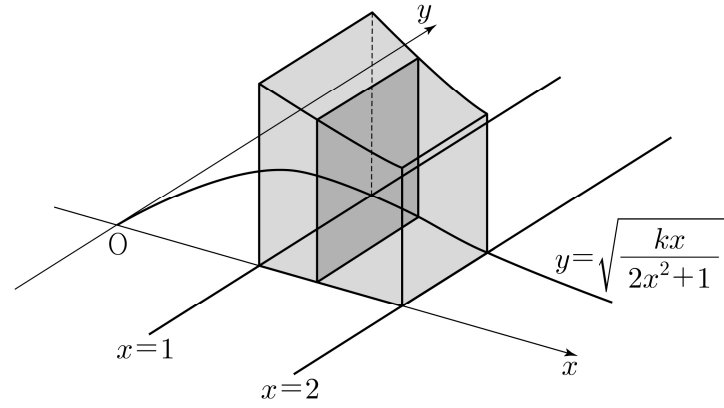
25. 수열 $\{a_n\}$ 에 대하여 $\lim_{n \rightarrow \infty} \frac{a_n+2}{2} = 6$ 일 때,

$\lim_{n \rightarrow \infty} \frac{na_n+1}{a_n+2n}$ 의 값은? [3점]

- ① 1 ② 2 ③ 3 ④ 4 ⑤ 5

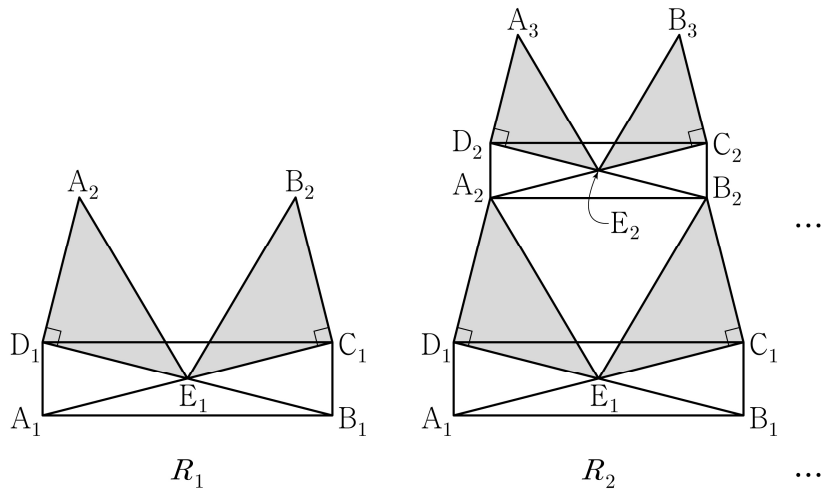
26. 그림과 같이 양수 k 에 대하여 곡선 $y = \sqrt{\frac{kx}{2x^2+1}}$ 와

x 축 및 두 직선 $x=1, x=2$ 로 둘러싸인 부분을 밑면으로 하고 x 축에 수직인 평면으로 자른 단면이 모두 정사각형인 입체도형의 부피가 $2\ln 3$ 일 때, k 의 값은? [3점]



- ① 6 ② 7 ③ 8 ④ 9 ⑤ 10

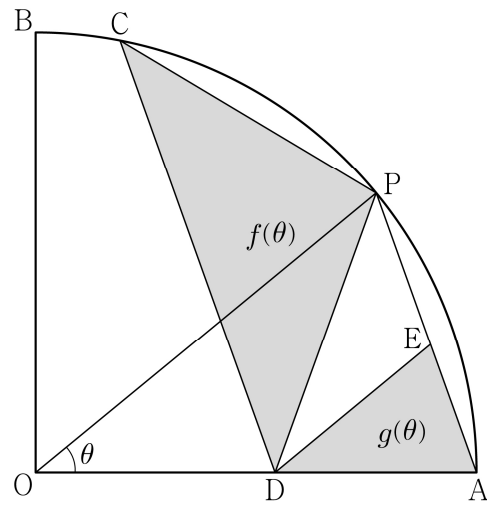
27. 그림과 같이 $\overline{A_1B_1} = 4$, $\overline{A_1D_1} = 1$ 인 직사각형 $A_1B_1C_1D_1$ 에서 두 대각선의 교점을 E_1 이라 하자.
 $\overline{A_2D_1} = \overline{D_1E_1}$, $\angle A_2D_1E_1 = \frac{\pi}{2}$ 이고 선분 D_1C_1 과 선분 A_2E_1 이 만나도록 점 A_2 를 잡고, $\overline{B_2C_1} = \overline{C_1E_1}$, $\angle B_2C_1E_1 = \frac{\pi}{2}$ 이고 선분 D_1C_1 과 선분 B_2E_1 이 만나도록 점 B_2 를 잡는다.
 두 삼각형 $A_2D_1E_1$, $B_2C_1E_1$ 을 그린 후 Δ 모양의 도형에 색칠하여 얻은 그림을 R_1 이라 하자.
 그림 R_1 에서 $\overline{A_2B_2} : \overline{A_2D_2} = 4:1$ 이고 선분 D_2C_2 가 두 선분 A_2E_1 , B_2E_1 과 만나지 않도록 직사각형 $A_2B_2C_2D_2$ 를 그린다.
 그림 R_1 을 얻은 것과 같은 방법으로 세 점 E_2 , A_3 , B_3 을 잡고 두 삼각형 $A_3D_2E_2$, $B_3C_2E_2$ 를 그린 후 Δ 모양의 도형에 색칠하여 얻은 그림을 R_2 라 하자.
 이와 같은 과정을 계속하여 n 번째 얻은 그림 R_n 에 색칠되어 있는 부분의 넓이를 S_n 이라 할 때, $\lim_{n \rightarrow \infty} S_n$ 의 값은? [3점]



- ① $\frac{68}{5}$ ② $\frac{34}{3}$ ③ $\frac{68}{7}$ ④ $\frac{17}{2}$ ⑤ $\frac{68}{9}$

28. 그림과 같이 반지름의 길이가 1이고 중심각의 크기가 $\frac{\pi}{2}$ 인 부채꼴 OAB 가 있다. 호 AB 위의 점 P 에 대하여 $\overline{PA} = \overline{PC} = \overline{PD}$ 가 되도록 호 PB 위에 점 C 와 선분 OA 위에 점 D 를 잡는다. 점 D 를 지나고 선분 OP 와 평행한 직선이 선분 PA 와 만나는 점을 E 라 하자. $\angle POA = \theta$ 일 때, 삼각형 CDP 의 넓이를 $f(\theta)$, 삼각형 EDA 의 넓이를 $g(\theta)$ 라 하자.

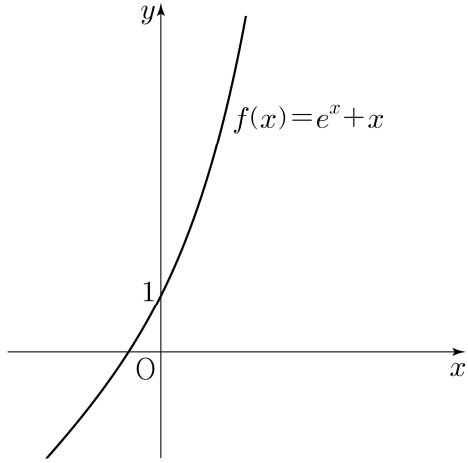
$\lim_{\theta \rightarrow 0^+} \frac{g(\theta)}{\theta^2 \times f(\theta)}$ 의 값은? (단, $0 < \theta < \frac{\pi}{4}$) [4점]



- ① $\frac{1}{8}$ ② $\frac{1}{4}$ ③ $\frac{3}{8}$ ④ $\frac{1}{2}$ ⑤ $\frac{5}{8}$

단답형

29. 함수 $f(x) = e^x + x$ 가 있다. 양수 t 에 대하여 점 $(t, 0)$ 과 점 $(x, f(x))$ 사이의 거리가 $x = s$ 에서 최소일 때, 실수 $f(s)$ 의 값을 $g(t)$ 라 하자. 함수 $g(t)$ 의 역함수를 $h(t)$ 라 할 때, $h'(1)$ 의 값을 구하시오. [4점]



30. 최고차항의 계수가 1인 사차함수 $f(x)$ 와 구간 $(0, \infty)$ 에서 $g(x) \geq 0$ 인 함수 $g(x)$ 가 다음 조건을 만족시킨다.

- (가) $x \leq -3$ 인 모든 실수 x 에 대하여 $f(x) \geq f(-3)$ 이다.
 (나) $x > -3$ 인 모든 실수 x 에 대하여 $g(x+3)\{f(x) - f(0)\}^2 = f'(x)$ 이다.

$$\int_4^5 g(x) dx = \frac{q}{p} \text{ 일 때, } p+q \text{의 값을 구하시오.}$$

(단, p 와 q 는 서로소인 자연수이다.) [4점]

* 확인 사항

- 답안지의 해당란에 필요한 내용을 정확히 기입(표기)했는지 확인하시오.
- 이어서, 「선택과목(기하)」 문제가 제시되오니, 자신이 선택한 과목인지 확인하시오.