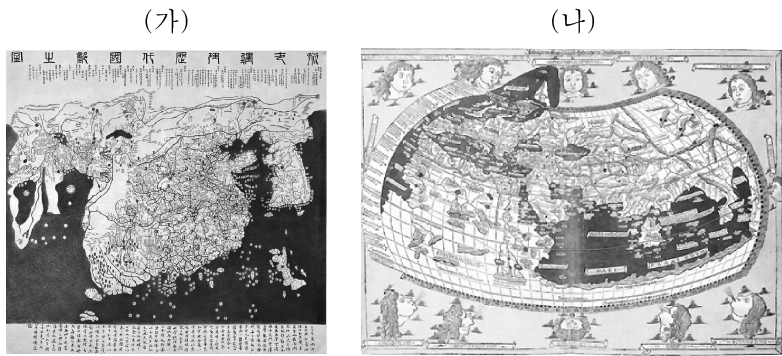


제 4 교시

사회탐구 영역(세계지리)

성명 수험 번호 - 제 [] 선택

1. (가), (나) 지도의 특징을 그림의 A~C에서 고른 것은?



중국 중심 세계관이 반영되어 있습니까? 예 → A 아니요 ↓

경위선의 개념이 적용되어 있습니까? 예 → B 아니요 ↓ C

	(가)	(나)
①	A	B
②	A	C
③	B	A
④	B	C
⑤	C	B

2. 다음은 지리 여행 블로그의 일부이다. ㉠~㉥에 대한 설명으로 옳지 않은 것은?

지리 여행 블로그

○월 △△일
사하라 사막 주변의 사헬 지대에 속한 작은 마을에 도착하니 어린아이들이 물을 얻기 위해 강바닥을 파헤치고 있었다. 이 지역은 급속한 ㉠ 사막화가 진행되고 있는 곳으로, 황폐해진 토지를 복구하기 위하여 ㉡ 그레이트 그린 월 프로젝트(Great Green Wall Project)가 시행되고 있다.

○월 □□일
테헤란에서 두 시간을 달려 소도시에 도착하였다. 거리를 한참 걷다가 ㉢ 바드기르가 있는 이슬람교 신자의 집을 방문하니 바깥과 달리 한결 시원했다. 마침 저녁 시간이라 ㉣ 전통 요리를 대접받았다. 집주인에 따르면 이 지역은 ㉤ 지하 관개 수로를 이용하여 물을 공급받는다고 한다.

- ① ㉠은 지속적인 가뭄과 과도한 방목이 주요 원인이다.
- ② ㉡의 주된 활동은 나무를 심어 숲을 조성하는 일이다.
- ③ ㉢은 실내 공기를 정화하고 온도를 조절하는 시설이다.
- ④ ㉣의 주재료로 돼지고기가 사용된다.
- ⑤ ㉤의 대표적인 예로는 카나트가 있다.

3. (가)~(라) 지형에 대한 설명으로 옳은 것은? [3점]



(가) 모레인 (나) 탑 카르스트



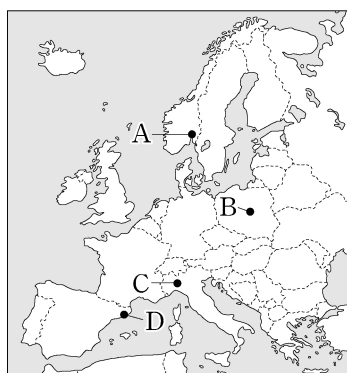
(다) 뷰트 (라) 사구

- ① (가)는 빙하의 침식에 의해 형성된 지형이다.
- ② (나)는 용암이 굳어 형성된 급경사 지형이다.
- ③ (가)는 (라)보다 구성 물질의 분급이 불량하다.
- ④ (다)는 (나)보다 화학적 풍화 작용을 많이 받았다.
- ⑤ (다)와 (라)는 주로 퇴적 작용에 의해 형성된다.

4. 다음 글의 (가), (나) 도시를 지도의 A~D에서 고른 것은?

○ (가) 은/는 세계적인 패션 업체의 본사들이 입지한 패션 산업의 중심지로 알려져 있다. 이 도시가 속한 롬바르디아주를 비롯한 북부 지역은 남부 지역과 경제적 격차가 크다. 이러한 이유로 이탈리아 중앙 정부로부터 분리 독립 운동이 있었고, 이를 '파다니아 운동'이라고 부른다.

○ 에스파냐 프로 축구 리그에서 '엘 클라시코'는 (나) 와/과 마드리드를 연고로 하는 두 팀 간의 라이벌 경기를 말한다. 이는 단순히 스포츠를 넘어 두 지역 간 갈등의 역사를 반영하고 있다. (나) 이/가 속한 카탈루냐 지방은 고유한 언어와 문화를 가지고 있고, 다른 지역과 경제적 격차가 커서 분리 독립을 요구하고 있다.

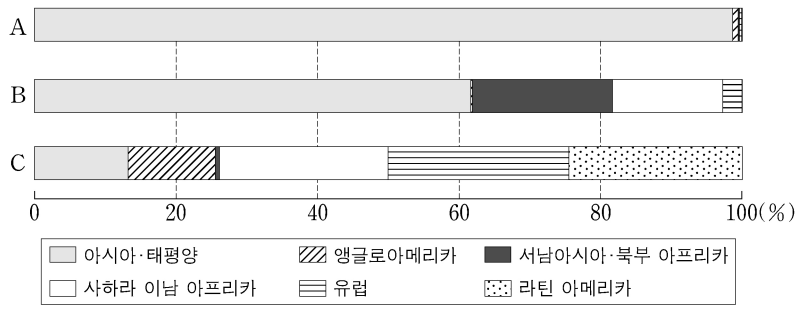


- | | (가) | (나) |
|---|-----|-----|
| ① | A | C |
| ② | B | A |
| ③ | B | D |
| ④ | C | A |
| ⑤ | C | D |

2 (세계지리)

사회탐구 영역

5. 그래프의 A~C 종교에 대한 설명으로 옳은 것은? (단, A~C는 각각 불교, 이슬람교, 크리스트교 중 하나임.) [3점]



- * 해당 종교의 전 세계 신자 수에서 각 지역의 신자 수가 차지하는 비율임.
- A는 민족 종교이다.
 - B는 남부 아시아에서 기원한 종교이다.
 - C의 대표적인 종교 경관은 모스크이다.
 - A는 C보다 발생 시기가 이른다.
 - 전 세계 신자 수는 B>A>C 순으로 많다.

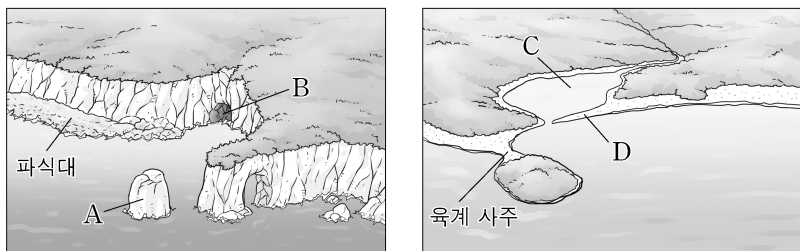
6. 다음 글의 ㉠~㉢에 대한 사례로 옳은 것만을 <보기>에서 있는 대로 고른 것은? [3점]

지리 정보의 구성 요소에는 ㉠ 공간 정보, 속성 정보, 관계 정보 등이 있다. 지리 정보의 수집 방법으로는 간접 조사와 직접 조사가 있으며, 최근에는 항공기나 인공위성을 이용한 ㉡ 원격 탐사 기술이 활용되고 있다. 지리 정보 시스템(GIS)은 다양한 방법으로 수집된 ㉢ 지리 정보를 컴퓨터로 분석하여 신속하고 합리적으로 문제를 해결하는 데 큰 도움을 준다. 최근 과학 기술의 발전과 인터넷의 확산으로 지리 정보 시스템은 공공 부문의 연구뿐만 아니라 ㉣ 일상생활에서도 널리 활용되고 있다.

- <보 기>
- ㉠ - 이집트 카이로의 인구 규모
 - ㉡ - 남극 대륙 빙하 면적의 변화 자료 수집
 - ㉢ - 멕시코시티 내의 자동차 공장 최적 입지 선정을 위한 중첩 분석
 - ㉣ - 영국 런던의 버스 운행 정보 시스템

- ㉠, ㉡, ㉢
- ㉠, ㉢, ㉣
- ㉡, ㉢, ㉣
- ㉠, ㉡, ㉢, ㉣
- ㉡, ㉢, ㉣

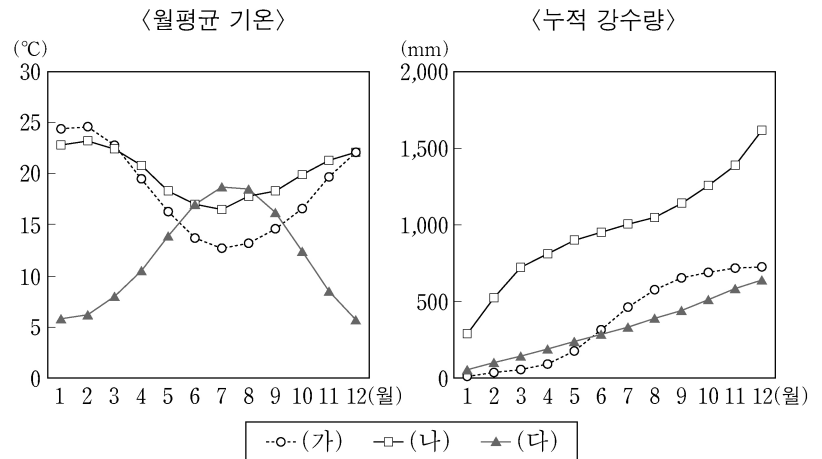
7. 그림은 유럽을 여행하면서 스케치한 해안 지형의 모식도이다. A~D 지형에 대한 설명으로 옳은 것만을 <보기>에서 고른 것은? (단, A~D는 각각 사주, 석호, 시 스택, 해식동 중 하나임.)



- <보 기>
- A는 조류의 퇴적 작용으로 형성된 지형이다.
 - B는 파랑의 차별 침식으로 형성된 지형이다.
 - C는 화산 폭발 후 물이 고여 형성된 호수이다.
 - D는 주로 모래가 퇴적되어 발달하였다.

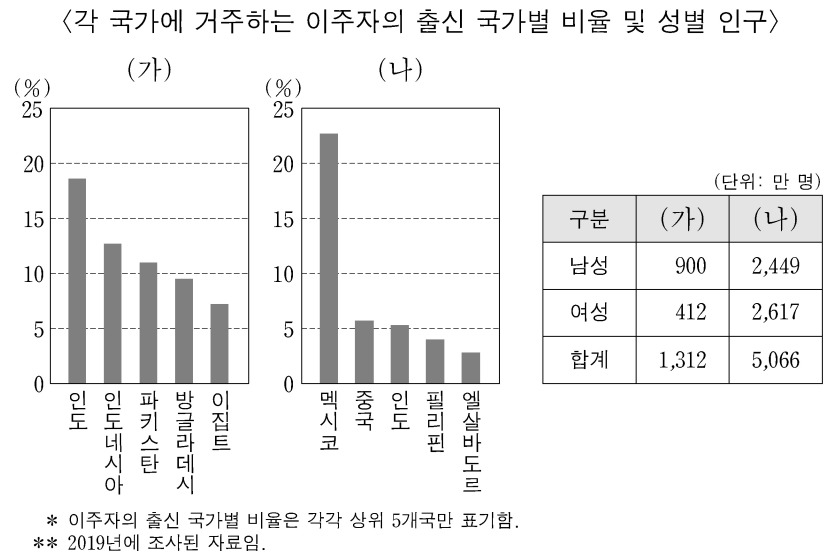
- ㉠, ㉡, ㉢, ㉣
- ㉠, ㉡, ㉢, ㉣
- ㉡, ㉢, ㉣
- ㉡, ㉢, ㉣
- ㉢, ㉣

8. 그래프는 세 지역의 월평균 기온과 누적 강수량을 나타낸 것이다. (가)~(다) 지역에 대한 설명으로 옳은 것은? [3점]



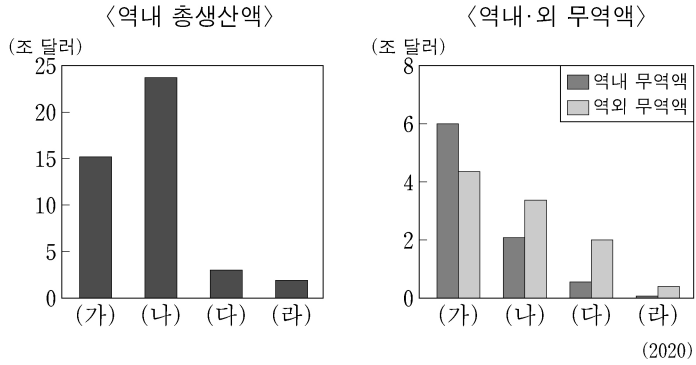
- (가)는 6~8월 강수량이 12~2월 강수량보다 많다.
- (나)에서는 플라야, 와디 등의 지형이 나타난다.
- (다)에서는 벼농사가 활발하게 이루어진다.
- (가)와 (나)는 모두 열대 기후에 해당한다.
- (가)~(다) 중 두 지역은 북반구에 위치한다.

9. 다음 자료의 (가), (나)에 해당하는 국가를 지도의 A~D에서 고른 것은?



- | | | | |
|-----|-----|-----|-----|
| (가) | (나) | (가) | (나) |
| ① A | B | ② A | C |
| ③ A | D | ④ B | C |
| ⑤ B | D | | |

10. (가)~(라) 경제 블록에 대한 설명으로 옳은 것은? (단, (가)~(라)는 각각 남아메리카 공동 시장, 동남아시아 국가 연합, 미국·멕시코·캐나다 협정, 유럽 연합 중 하나임.)



- ① (가)는 북아메리카 자유 무역 협정을 개정한 경제 블록이다.
- ② (나)는 (가)보다 회원국 수가 많다.
- ③ (다)는 (가)~(라) 중 회원국의 총인구가 가장 많다.
- ④ (라)는 (가)~(라) 중 정치·경제적 통합 수준이 가장 높다.
- ⑤ 유럽 연합은 역내 무역액보다 역외 무역액이 많다.

11. 다음 글의 (가)~(라) 기후 지역에 대한 설명으로 옳은 것만을 <보기>에서 고른 것은? [3점]

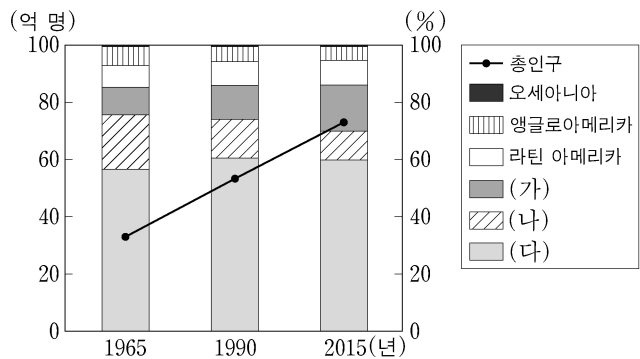
궤편의 기후 구분에 따르면 냉대 기후는 최한월 평균 기온이 -3°C 미만이고 최난월 평균 기온이 10°C 이상인 기후로, 강수 특성에 따라 강수가 주로 여름에 집중되고 겨울이 건조한 (가), 강수가 연중 고른 (나) (으)로 구분된다. 한대 기후는 최한월 평균 기온이 10°C 미만인 기후로 최난월 평균 기온이 0°C 이상인 (다), 최한월 평균 기온이 0°C 미만인 (라) (으)로 구분된다.

〈보 기〉

ㄱ. (가)는 아시아에 비해 남아메리카에 넓게 분포한다.
 ㄴ. (나)에서는 타이가 지대가 나타난다.
 ㄷ. (다)에서는 다각형 모양의 구조토를 볼 수 있다.
 ㄹ. (라)에서는 여름에 솔리플렉션 현상이 자주 발생한다.

- ① ㄱ, ㄴ ② ㄱ, ㄷ ③ ㄴ, ㄷ ④ ㄴ, ㄹ ⑤ ㄷ, ㄹ

12. 그래프는 세계 총인구 추이와 총인구의 지역(대륙)별 비율을 나타낸 것이다. (가)~(다)에 대한 설명으로 옳은 것만을 <보기>에서 고른 것은?

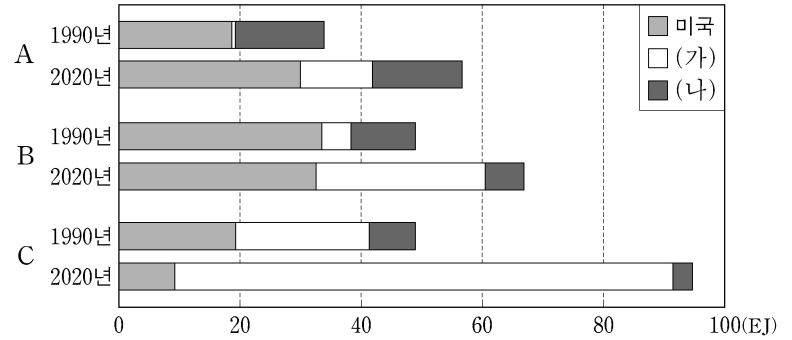


〈보 기〉

ㄱ. 2015년 (가)의 인구는 20억 명 이상이다.
 ㄴ. (다)에서 인구가 가장 많은 국가는 중국이다.
 ㄷ. (나)는 (가)보다 중위 연령이 높다.
 ㄹ. (다)는 (나)보다 1인당 평균 소득이 높다.

- ① ㄱ, ㄴ ② ㄱ, ㄷ ③ ㄴ, ㄷ ④ ㄴ, ㄹ ⑤ ㄷ, ㄹ

13. 그래프는 세 국가의 주요 화석 에너지 자원 A~C의 소비량 변화를 나타낸 것이다. 이에 대한 설명으로 옳은 것은? (단, (가), (나)는 각각 러시아, 중국 중 하나임.) [3점]



- ① A는 B보다 본격적으로 상용화된 시기가 이른다.
- ② B는 C보다 세계 1차 에너지 소비량에서 차지하는 비율이 높다.
- ③ C는 A보다 연소 시 대기 오염 물질의 배출량이 적다.
- ④ 중국은 러시아보다 1990년 천연가스 소비량이 많다.
- ⑤ 미국의 석탄 소비량은 1990년에 비해 2020년에 많다.

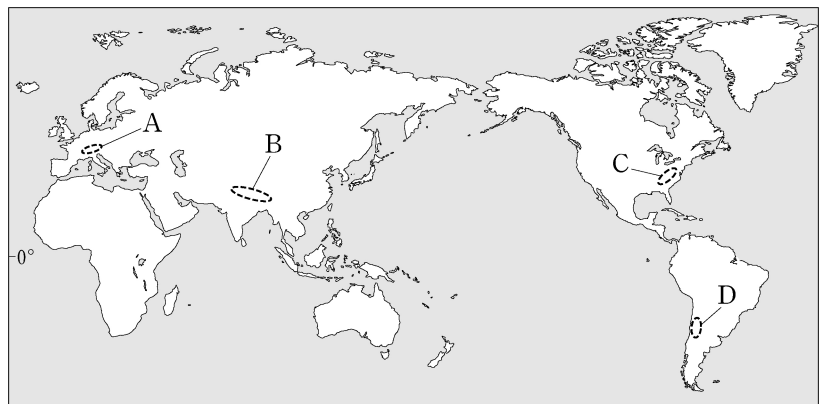
14. (가)~(라)에 대한 설명으로 옳은 것은? (단, (가)~(라)는 각각 나이지리아, 남아프리카 공화국, 브라질, 콜롬비아의 수도 중 하나임.)

〈4개국 수도의 수리적 위치〉

구분	(가)	(나)	(다)	(라)
위도	$4^{\circ} 34' \text{N}$	$9^{\circ} 05' \text{N}$	$15^{\circ} 41' \text{S}$	$25^{\circ} 44' \text{S}$
경도	$74^{\circ} 00' \text{W}$	$7^{\circ} 32' \text{E}$	$48^{\circ} 08' \text{W}$	$28^{\circ} 12' \text{E}$

- ① (가)는 내륙 개발을 위해 20세기에 조성된 계획 도시이다.
- ② (다)는 해당 국가의 수위 도시이다.
- ③ (라)는 아프리카 최대 인구 대국이자 산유국의 수도이다.
- ④ (나)는 (가)보다 연평균 기온이 높다.
- ⑤ (가)~(라) 중 영국 런던과 최단 거리의 도시는 (가)이다.

15. 지도의 A~D는 세계 주요 산맥의 일부이다. 이에 대한 설명으로 옳은 것만을 <보기>에서 고른 것은? [3점]



〈보 기〉

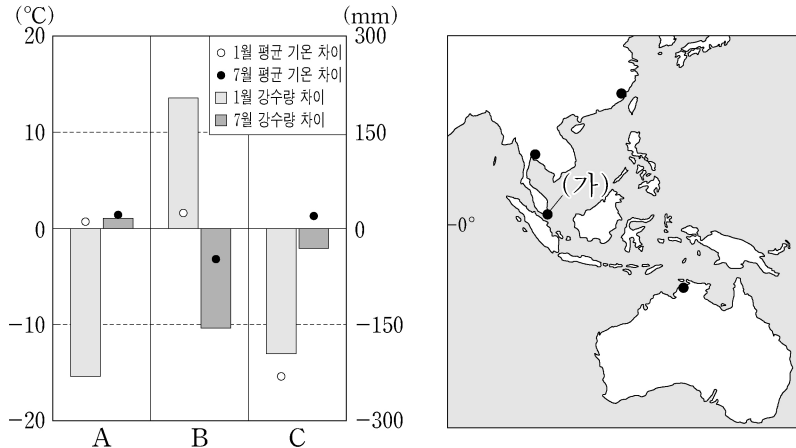
ㄱ. A는 C보다 산맥의 형성 시기가 늦다.
 ㄴ. B는 D보다 화산 활동이 활발하다.
 ㄷ. D는 C보다 평균 해발 고도가 높다.
 ㄹ. A와 B는 모두 대륙판과 해양판이 수렴하여 형성되었다.

- ① ㄱ, ㄴ ② ㄱ, ㄷ ③ ㄴ, ㄷ ④ ㄴ, ㄹ ⑤ ㄷ, ㄹ

4 (세계지리)

사회탐구 영역

16. 그래프는 A~C 지역과 (가) 지역 간의 기후 값 차이를 나타낸 것이다. 이에 대한 설명으로 옳은 것은? (단, A~C는 각각 지도에 표시된 세 지역 중 하나임.)



* 월평균 기온 차이 = 각 지역의 월평균 기온 - (가) 지역의 월평균 기온
 ** 월 강수량 차이 = 각 지역의 월 강수량 - (가) 지역의 월 강수량

- ① (가)는 B보다 적도 수렴대의 영향을 받는 기간이 짧다.
- ② A는 B보다 1월의 밤 길이가 길다.
- ③ B는 C보다 기온의 연교차가 크다.
- ④ C는 A보다 저위도에 위치한다.
- ⑤ 1월 강수량은 (가) > B > C > A 순으로 많다.

17. 표는 주요 식량 작물의 국가별 생산량을 나타낸 것이다. 이에 대한 설명으로 옳은 것만을 <보기>에서 고른 것은? (단, (가), (나)는 각각 밀, 쌀 중 하나임.) [3점]

(단위: 백만 톤)

(가)		(나)		옥수수	
국가	생산량	국가	생산량	국가	생산량
A	214	A	134	B	360
인도	178	인도	108	A	261
방글라데시	55	러시아	86	브라질	104
인도네시아	55	B	50	아르헨티나	58
베트남	43	캐나다	35	우크라이나	30

* 작물별 생산량 상위 5개국만 나타냄.

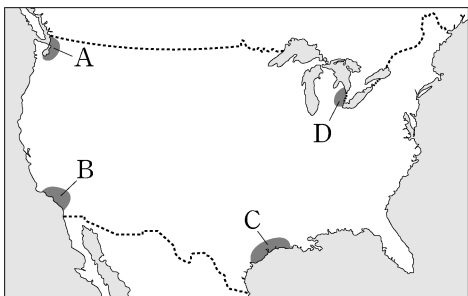
(2020)

<보 기>

ㄱ. (가)는 옥수수보다 가축의 사료로 이용되는 비율이 낮다.
 ㄴ. (나)는 (가)보다 국제 이동량이 많다.
 ㄷ. A는 B보다 옥수수의 수출량이 많다.
 ㄹ. A는 아메리카, B는 아시아에 위치한 국가이다.

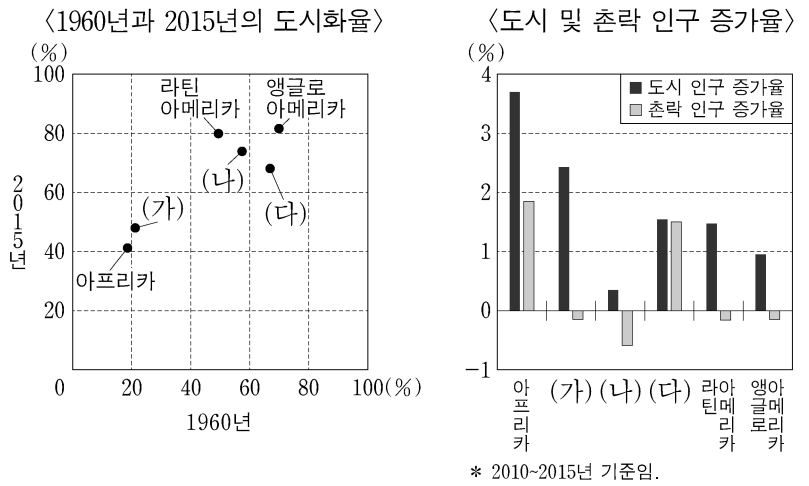
- ① ㄱ, ㄴ ② ㄱ, ㄷ ③ ㄴ, ㄷ ④ ㄴ, ㄹ ⑤ ㄷ, ㄹ

18. 지도의 A~D 산업 지역에 대한 설명으로 옳은 것은? [3점]



- ① A는 휴스턴을 중심으로 하는 석유 화학 공업 지역이다.
- ② B에는 디트로이트를 중심으로 자동차 산업이 발달하였다.
- ③ C에는 할리우드를 중심으로 영화 산업이 발달하였다.
- ④ D는 실리콘 벨리를 중심으로 하는 첨단 산업 지역이다.
- ⑤ D는 C보다 공업 발달의 역사가 오래되었다.

19. 그래프의 (가)~(다) 지역(대륙)에 대한 설명으로 옳은 것은?



- ① 2015년 (가)는 아프리카보다 도시 인구가 많다.
- ② (나)는 1960년 촌락 인구 비율이 가장 높다.
- ③ (다)에는 최상위 계층의 세계 도시가 위치한다.
- ④ (가)는 (나)보다 산업화의 시작 시기가 이른다.
- ⑤ 2010~2015년 도시 인구 증가율은 유럽이 오세아니아보다 높다.

20. 다음은 세계지리 온라인 학습의 한 장면이다. (가) 국가를 지도의 A~E에서 고른 것은? [3점]

온라인 교실

교사 화면 공유 중

※ (가) 국가의 지리적 특징을 답글로 달아 보세요.

자연환경과 인간 생활

답글(3)

- ↳ 화산회토가 쌓인 계단식 논에서 벼농사가 이루어짐.
- ↳ 나시고령과 같은 볶음 음식 문화가 발달함.
- ↳ 커피, 카카오 등을 생산하는 플랜테이션 농업이 발달함.

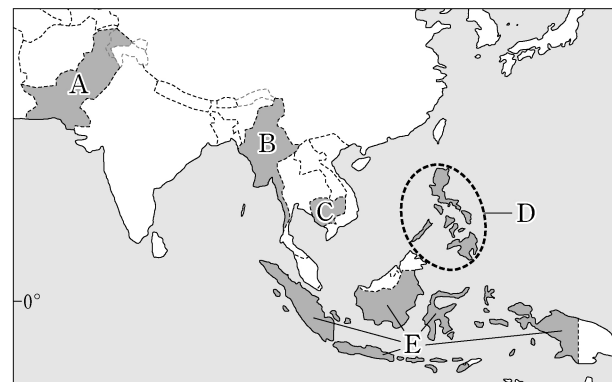
문화와 종교

답글(2)

- ↳ 주민 대다수가 이슬람교를 신봉하지만 문화와 종교의 다양성을 존중함.
- ↳ 옥야카르타에는 힌두교 사원인 프람바난, 불교 사원인 보로부두르, 이슬람 지도자인 술탄의 왕궁이 함께 나타남.

교사

모두 옳은 답글을 달았네요.



- ① A
- ② B
- ③ C
- ④ D
- ⑤ E

* 확인 사항

○ 답안지의 해당란에 필요한 내용을 정확히 기입(표기)했는지 확인 하시오.