

제 2 교시

# 수학 영역

출수형

5지선다형

1.  $(2^{\sqrt{3}} \times 4)^{\sqrt{3}-2}$ 의 값은? [2점]

- ①  $\frac{1}{4}$     ②  $\frac{1}{2}$     ③ 1    ④ 2    ⑤ 4

2. 함수  $f(x) = x^3 + 3x^2 + x - 1$ 에 대하여  $f'(1)$ 의 값은? [2점]

- ① 6    ② 7    ③ 8    ④ 9    ⑤ 10

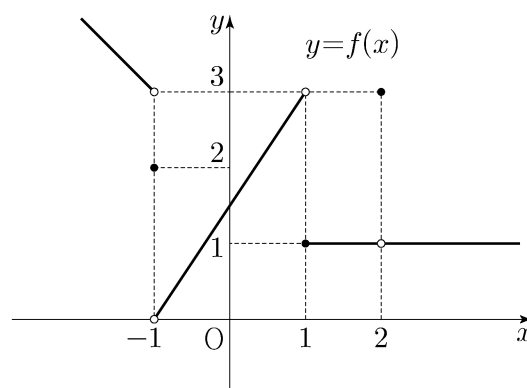
3. 등차수열  $\{a_n\}$ 에 대하여

$$a_2 = 6, \quad a_4 + a_6 = 36$$

일 때,  $a_{10}$ 의 값은? [3점]

- ① 30    ② 32    ③ 34    ④ 36    ⑤ 38

4. 함수  $y = f(x)$ 의 그래프가 그림과 같다.



$\lim_{x \rightarrow -1^-} f(x) + \lim_{x \rightarrow 2} f(x)$ 의 값은? [3점]

- ① 1    ② 2    ③ 3    ④ 4    ⑤ 5

5. 첫째항이 1인 수열  $\{a_n\}$ 이 모든 자연수  $n$ 에 대하여

$$a_{n+1} = \begin{cases} 2a_n & (a_n < 7) \\ a_n - 7 & (a_n \geq 7) \end{cases}$$

일 때,  $\sum_{k=1}^8 a_k$ 의 값은? [3점]

- ① 30      ② 32      ③ 34      ④ 36      ⑤ 38

6. 방정식  $2x^3 - 3x^2 - 12x + k = 0$ 이 서로 다른 세 실근을 갖도록 하는 정수  $k$ 의 개수는? [3점]

- ① 20      ② 23      ③ 26      ④ 29      ⑤ 32

7.  $\pi < \theta < \frac{3}{2}\pi$ 인  $\theta$ 에 대하여  $\tan\theta - \frac{6}{\tan\theta} = 1$ 일 때,

$\sin\theta + \cos\theta$ 의 값은? [3점]

- ①  $-\frac{2\sqrt{10}}{5}$       ②  $-\frac{\sqrt{10}}{5}$       ③ 0  
 ④  $\frac{\sqrt{10}}{5}$       ⑤  $\frac{2\sqrt{10}}{5}$

8. 곡선  $y=x^2-5x$ 와 직선  $y=x$ 로 둘러싸인 부분의 넓이를 직선  $x=k$ 가 이등분할 때, 상수  $k$ 의 값은? [3점]

- ① 3      ②  $\frac{13}{4}$       ③  $\frac{7}{2}$       ④  $\frac{15}{4}$       ⑤ 4

10. 삼차함수  $f(x)$ 에 대하여 곡선  $y=f(x)$  위의 점  $(0, 0)$ 에서의 접선과 곡선  $y=xf(x)$  위의 점  $(1, 2)$ 에서의 접선이 일치할 때,  $f'(2)$ 의 값은? [4점]

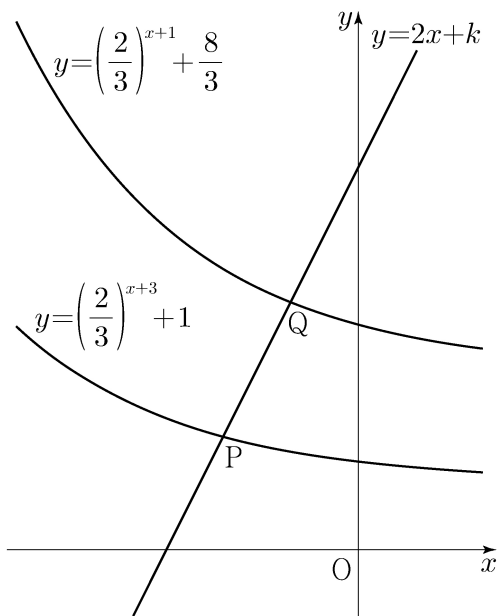
- ① -18      ② -17      ③ -16      ④ -15      ⑤ -14

9. 직선  $y=2x+k$ 가 두 함수

$$y=\left(\frac{2}{3}\right)^{x+3}+1, \quad y=\left(\frac{2}{3}\right)^{x+1}+\frac{8}{3}$$

의 그래프와 만나는 점을 각각 P, Q라 하자.  $\overline{PQ} = \sqrt{5}$  일 때, 상수  $k$ 의 값은? [4점]

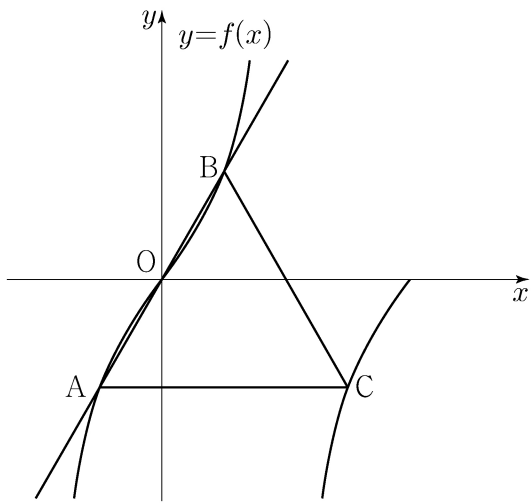
- ①  $\frac{31}{6}$       ②  $\frac{16}{3}$       ③  $\frac{11}{2}$       ④  $\frac{17}{3}$       ⑤  $\frac{35}{6}$



11. 양수  $a$ 에 대하여 집합  $\left\{x \mid -\frac{a}{2} < x \leq a, x \neq \frac{a}{2}\right\}$ 에서 정의된 함수

$$f(x) = \tan \frac{\pi x}{a}$$

가 있다. 그림과 같이 함수  $y=f(x)$ 의 그래프 위의 세 점 O, A, B를 지나는 직선이 있다. 점 A를 지나고  $x$ 축에 평행한 직선이 함수  $y=f(x)$ 의 그래프와 만나는 점 중 A가 아닌 점을 C라 하자. 삼각형 ABC가 정삼각형일 때, 삼각형 ABC의 넓이는? (단, O는 원점이다.) [4점]



- ①  $\frac{3\sqrt{3}}{2}$
- ②  $\frac{17\sqrt{3}}{12}$
- ③  $\frac{4\sqrt{3}}{3}$
- ④  $\frac{5\sqrt{3}}{4}$
- ⑤  $\frac{7\sqrt{3}}{6}$

12. 실수 전체의 집합에서 연속인 함수  $f(x)$ 가 모든 실수  $x$ 에 대하여

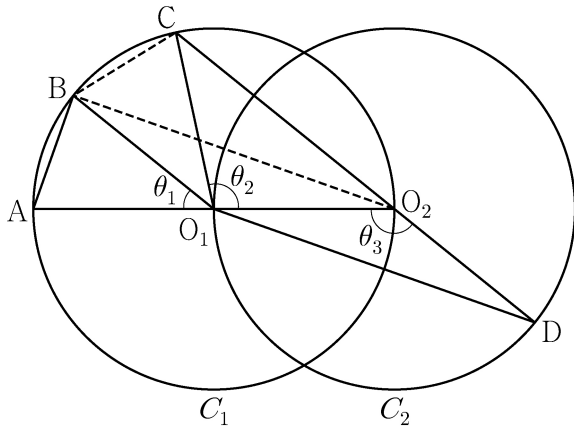
$$\{f(x)\}^3 - \{f(x)\}^2 - x^2 f(x) + x^2 = 0$$

을 만족시킨다. 함수  $f(x)$ 의 최댓값이 1이고 최솟값이 0일 때,  $f\left(-\frac{4}{3}\right) + f(0) + f\left(\frac{1}{2}\right)$ 의 값은? [4점]

- ①  $\frac{1}{2}$
- ② 1
- ③  $\frac{3}{2}$
- ④ 2
- ⑤  $\frac{5}{2}$



15. 두 점  $O_1, O_2$ 를 각각 중심으로 하고 반지름의 길이가  $\overline{O_1O_2}$ 인 두 원  $C_1, C_2$ 가 있다. 그림과 같이 원  $C_1$  위의 서로 다른 세 점  $A, B, C$ 와 원  $C_2$  위의 점  $D$ 가 주어졌고, 세 점  $A, O_1, O_2$ 와 세 점  $C, O_2, D$ 가 각각 한 직선 위에 있다. 이때  $\angle BO_1A = \theta_1, \angle O_2O_1C = \theta_2, \angle O_1O_2D = \theta_3$ 이라 하자.



다음은  $\overline{AB} : \overline{O_1D} = 1 : 2\sqrt{2}$  이고  $\theta_3 = \theta_1 + \theta_2$  일 때, 선분 AB와 선분 CD의 길이의 비를 구하는 과정이다.

$\angle CO_2O_1 + \angle O_1O_2D = \pi$ 이므로  $\theta_3 = \frac{\pi}{2} + \frac{\theta_2}{2}$  이고  
 $\theta_3 = \theta_1 + \theta_2$ 에서  $2\theta_1 + \theta_2 = \pi$ 이므로  $\angle CO_1B = \theta_1$ 이다.  
 이때  $\angle O_2O_1B = \theta_1 + \theta_2 = \theta_3$ 이므로 삼각형  $O_1O_2B$ 와 삼각형  $O_2O_1D$ 는 합동이다.  
 $\overline{AB} = k$ 라 할 때  
 $\overline{BO_2} = \overline{O_1D} = 2\sqrt{2}k$ 이므로  $\overline{AO_2} = \boxed{\text{(가)}}$  이고,  
 $\angle BO_2A = \frac{\theta_1}{2}$ 이므로  $\cos \frac{\theta_1}{2} = \boxed{\text{(나)}}$  이다.  
 삼각형  $O_2BC$ 에서  
 $\overline{BC} = k, \overline{BO_2} = 2\sqrt{2}k, \angle CO_2B = \frac{\theta_1}{2}$ 이므로  
 코사인법칙에 의하여  $\overline{O_2C} = \boxed{\text{(다)}}$  이다.  
 $\overline{CD} = \overline{O_2D} + \overline{O_2C} = \overline{O_1O_2} + \overline{O_2C}$ 이므로  
 $\overline{AB} : \overline{CD} = k : \left( \frac{\boxed{\text{(가)}}}{2} + \boxed{\text{(다)}} \right)$  이다.

위의 (가), (다)에 알맞은 식을 각각  $f(k), g(k)$ 라 하고, (나)에 알맞은 수를  $p$ 라 할 때,  $f(p) \times g(p)$ 의 값은? [4점]

- ①  $\frac{169}{27}$     ②  $\frac{56}{9}$     ③  $\frac{167}{27}$     ④  $\frac{166}{27}$     ⑤  $\frac{55}{9}$

단답형

16.  $\log_2 120 - \frac{1}{\log_{15} 2}$ 의 값을 구하시오. [3점]

17. 함수  $f(x)$ 에 대하여  $f'(x) = 3x^2 + 2x$ 이고  $f(0) = 2$ 일 때,  $f(1)$ 의 값을 구하시오. [3점]

18. 수열  $\{a_n\}$ 에 대하여

$$\sum_{k=1}^{10} a_k - \sum_{k=1}^7 \frac{a_k}{2} = 56, \quad \sum_{k=1}^{10} 2a_k - \sum_{k=1}^8 a_k = 100$$

일 때,  $a_8$ 의 값을 구하시오. [3점]

19. 함수  $f(x) = x^3 + ax^2 - (a^2 - 8a)x + 3$ 이 실수 전체의 집합에서 증가하도록 하는 실수  $a$ 의 최댓값을 구하시오. [3점]

20. 실수 전체의 집합에서 미분가능한 함수  $f(x)$ 가 다음 조건을 만족시킨다.

- (가) 닫힌구간  $[0, 1]$ 에서  $f(x) = x$ 이다.  
 (나) 어떤 상수  $a, b$ 에 대하여 구간  $[0, \infty)$ 에서  $f(x+1) - xf(x) = ax + b$ 이다.

$60 \times \int_1^2 f(x) dx$ 의 값을 구하시오. [4점]

21. 수열  $\{a_n\}$ 이 다음 조건을 만족시킨다.

(가)  $|a_1|=2$

(나) 모든 자연수  $n$ 에 대하여  $|a_{n+1}|=2|a_n|$ 이다.

(다)  $\sum_{n=1}^{10} a_n = -14$

$a_1+a_3+a_5+a_7+a_9$ 의 값을 구하시오. [4점]

22. 최고차항의 계수가  $\frac{1}{2}$ 인 삼차함수  $f(x)$ 와 실수  $t$ 에 대하여 방정식  $f'(x)=0$ 이 닫힌구간  $[t, t+2]$ 에서 갖는 실근의 개수를  $g(t)$ 라 할 때, 함수  $g(t)$ 는 다음 조건을 만족시킨다.

(가) 모든 실수  $a$ 에 대하여  $\lim_{t \rightarrow a^+} g(t) + \lim_{t \rightarrow a^-} g(t) \leq 2$ 이다.

(나)  $g(f(1))=g(f(4))=2, g(f(0))=1$

$f(5)$ 의 값을 구하시오. [4점]

\* 확인 사항

○ 답안지의 해당란에 필요한 내용을 정확히 기입(표기)했는지 확인하시오.

○ 이어서, 「선택과목(확률과 통계)」 문제가 제시되오니, 자신이 선택한 과목인지 확인하시오.

제 2 교시

# 수학 영역(미적분)

출수형

5지선다형

23.  $\lim_{n \rightarrow \infty} \frac{\frac{5}{n} + \frac{3}{n^2}}{\frac{1}{n} - \frac{2}{n^3}}$  의 값은? [2점]

- ① 1      ② 2      ③ 3      ④ 4      ⑤ 5

24. 실수 전체의 집합에서 미분가능한 함수  $f(x)$ 가 모든 실수  $x$ 에 대하여

$$f(x^3 + x) = e^x$$

을 만족시킬 때,  $f'(2)$ 의 값은? [3점]

- ①  $e$       ②  $\frac{e}{2}$       ③  $\frac{e}{3}$       ④  $\frac{e}{4}$       ⑤  $\frac{e}{5}$

25. 등비수열  $\{a_n\}$ 에 대하여

$$\sum_{n=1}^{\infty} (a_{2n-1} - a_{2n}) = 3, \quad \sum_{n=1}^{\infty} a_n^2 = 6$$

일 때,  $\sum_{n=1}^{\infty} a_n$ 의 값은? [3점]

- ① 1      ② 2      ③ 3      ④ 4      ⑤ 5

26.  $\lim_{n \rightarrow \infty} \sum_{k=1}^n \frac{k^2 + 2kn}{k^3 + 3k^2n + n^3}$ 의 값은? [3점]

- ①  $\ln 5$       ②  $\frac{\ln 5}{2}$       ③  $\frac{\ln 5}{3}$       ④  $\frac{\ln 5}{4}$       ⑤  $\frac{\ln 5}{5}$

27. 좌표평면 위를 움직이는 점 P의 시각  $t(t > 0)$ 에서의 위치가 곡선  $y = x^2$  과 직선  $y = t^2x - \frac{\ln t}{8}$  가 만나는 서로 다른 두 점의 중점일 때, 시각  $t=1$ 에서  $t=e$ 까지 점 P가 움직인 거리는?  
[3점]

- ①  $\frac{e^4}{2} - \frac{3}{8}$       ②  $\frac{e^4}{2} - \frac{5}{16}$       ③  $\frac{e^4}{2} - \frac{1}{4}$
- ④  $\frac{e^4}{2} - \frac{3}{16}$       ⑤  $\frac{e^4}{2} - \frac{1}{8}$

28. 함수  $f(x) = 6\pi(x-1)^2$  에 대하여 함수  $g(x)$ 를

$$g(x) = 3f(x) + 4\cos f(x)$$

라 하자.  $0 < x < 2$ 에서 함수  $g(x)$ 가 극소가 되는  $x$ 의 개수는?  
[4점]

- ① 6      ② 7      ③ 8      ④ 9      ⑤ 10

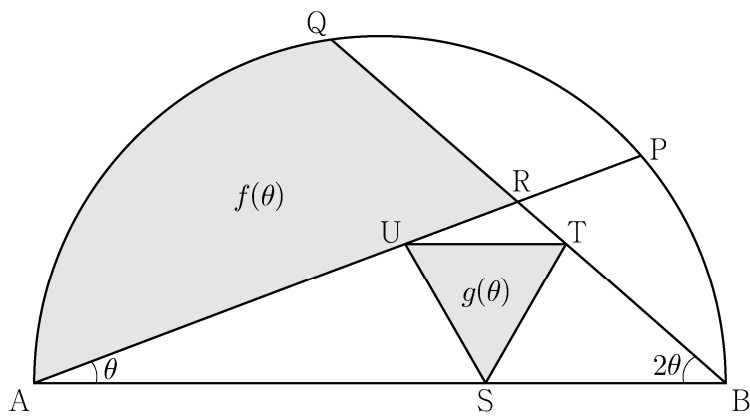
단답형

29. 그림과 같이 길이가 2인 선분 AB를 지름으로 하는 반원이 있다. 호 AB 위에 두 점 P, Q를  $\angle PAB = \theta$ ,  $\angle QBA = 2\theta$ 가 되도록 잡고, 두 선분 AP, BQ의 교점을 R라 하자.

선분 AB 위의 점 S, 선분 BR 위의 점 T, 선분 AR 위의 점 U를 선분 UT가 선분 AB에 평행하고 삼각형 STU가 정삼각형이 되도록 잡는다. 두 선분 AR, QR와 호 AQ로 둘러싸인 부분의 넓이를  $f(\theta)$ , 삼각형 STU의 넓이를  $g(\theta)$ 라 할 때,

$$\lim_{\theta \rightarrow 0^+} \frac{g(\theta)}{\theta \times f(\theta)} = \frac{q}{p} \sqrt{3} \text{ 이다. } p+q \text{의 값을 구하시오.}$$

(단,  $0 < \theta < \frac{\pi}{6}$ 이고,  $p$ 와  $q$ 는 서로소인 자연수이다.) [4점]



30. 실수 전체의 집합에서 증가하고 미분가능한 함수  $f(x)$ 가 다음 조건을 만족시킨다.

$$(가) f(1) = 1, \int_1^2 f(x) dx = \frac{5}{4}$$

(나) 함수  $f(x)$ 의 역함수를  $g(x)$ 라 할 때,  $x \geq 1$ 인 모든 실수  $x$ 에 대하여  $g(2x) = 2f(x)$ 이다.

$$\int_1^8 xf'(x) dx = \frac{q}{p} \text{ 일 때, } p+q \text{의 값을 구하시오.}$$

(단,  $p$ 와  $q$ 는 서로소인 자연수이다.) [4점]

- \* 확인 사항
- 답안지의 해당란에 필요한 내용을 정확히 기입(표기)했는지 확인 하시오.
  - 이어서, 「선택과목(기하)」 문제가 제시되오니, 자신이 선택한 과목인지 확인하시오.