

제 4 교시

사회탐구 영역(법과 정치)

성명	수험 번호
----	-------

1. 정치의 의미에 대한 관점 (가), (나)에 대한 설명으로 옳은 것은?

(가) 정치는 사회를 구성하고 있는 개인이나 집단이 일상생활에서의 다양한 이해관계를 조정하기 위해 상호 작용함으로써 나타나는 현상이다. 이 현상은 희소한 자원을 배분할 때 발생하는 갈등을 해결하는 과정이며, 공공 부문을 포함한 사회생활의 모든 영역에서 나타난다.

(나) 정치는 사회를 구성하고 있는 개인 또는 집단이 반드시 지켜야 할 절차와 규범을 정치권력이라는 힘을 통해 만들어 가는 과정이다. 이 과정은 공식적 정치 조직들이 헌법과 법률을 통해 희소한 자원을 배분하는 방식을 결정하고 적용하는 국가의 활동이다.

- ① (가)는 정치 활동이 통치 엘리트들의 독점적인 의사 결정을 통해서만 이루어진다고 본다.
- ② (나)는 국가 형성 이전의 정치 현상을 설명하는 데 적합하다.
- ③ (가)는 (나)와 달리 국회가 조세의 종목과 세율을 법률로 정하는 것은 정치가 아니라고 본다.
- ④ (나)는 (가)에 비해 공동의 문제를 해결하는 과정에 참여하는 주체가 다양하다고 본다.
- ⑤ (가), (나) 모두 정부가 정책을 수립하고, 국정을 관리하는 활동을 정치라고 본다.

2. 그림에 나타난 갑국과 을국의 정부 형태에 대한 설명으로 옳은 것은? (단, 갑국과 을국의 정부 형태는 각각 전형적인 대통령제와 의원 내각제 중 하나이다.)



- ① 갑국에서는 내각이 의회에 대해 책임을 진다.
- ② 갑국에서는 의회 의원이 각료를 겸직할 수 있다.
- ③ 을국에서는 입법부와 행정부의 권력이 융합되어 있다.
- ④ 을국에서는 행정부 수반이 국가 원수의 지위를 가진다.
- ⑤ 을국과 달리 갑국에서는 행정부가 법률안을 제출할 수 있다.

3. A~C에 대한 옳은 설명을 <보기>에서 고른 것은? (단, A~C는 각각 고대 아테네 민주 정치, 근대 민주 정치, 현대 민주 정치 중 하나이다.) [3점]

A는 직접 민주주의를 기반으로 하였으나, 공동체의 구성원 모두가 국가의 의사 결정에 참여할 수 있는 것은 아니었다. 한편 B는 국가의 의사 결정을 대표에게 맡기는 형태를 취하였으나, 일정한 재산과 교양을 갖춘 시민만이 선거에 참여할 수 있었다. C에서는 이러한 B의 한계를 극복하여 보통 선거의 원칙을 확립하였다.

<보 기>

- ㄱ. A에서는 모든 성인 남녀에게 참정권을 부여하였다.
- ㄴ. C에서는 대의 민주주의의 한계를 극복하기 위해 직접 민주제의 요소가 보완되었다.
- ㄷ. A는 B와 달리 계몽사상의 영향을 받아 발전하였다.
- ㄹ. B, C 모두 주권이 국민에게 있다는 원리를 기초로 한다.

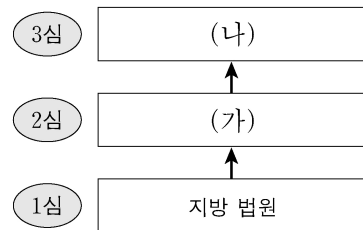
- ① ㄱ, ㄴ ② ㄱ, ㄷ ③ ㄴ, ㄷ ④ ㄴ, ㄹ ⑤ ㄷ, ㄹ

4. 법치주의의 유형 A, B에 대한 설명으로 옳은 것은? [3점]

근대 법치주의 전개 과정에서 등장한 A는 의회에서 적법한 절차를 거쳐 제정된 법에 의해 정부의 정치권력이 행사되지만 하면 문제가 없는 것으로 이해되었다. 그러나 아무리 형식적으로 합법성을 갖춘 법이라도 그 내용이 인간의 존엄성과 정의에 위반된다면 통제되어야 한다는 것이 역사적 경험을 통해 드러났다. 이후 법치는 국가 권력이 단순히 법에 의해 행사되는 것뿐만 아니라 자유·평등·정의에 부합하는 헌법적 가치에도 구속되어야 한다는 B로 확대되었다.

- ① A는 통치의 합법성보다 정당성을 강조한다.
- ② B는 법의 목적과 내용이 정의에 부합할 때 법의 권위가 발생한다는 점을 간과한다.
- ③ A는 B와 달리 국가 권력의 자의적 행사를 방지하기 위해서 통치자가 법의 구속을 받도록 한다.
- ④ B는 A와 달리 '법에 의한 지배'를 옹호한다.
- ⑤ A, B 모두 법이 국가와 시민을 구속하기 위한 조건으로 법 제정 과정의 적법성을 중시한다.

5. 그림은 우리나라의 사법 제도를 나타낸 것이다. 이에 대한 설명으로 옳은 것은? [3점]



- ① 동일 사건에 대해 2심이 항소심이라면 3심은 항고심이다.
- ② (가)에서의 재판이 민사 재판이라면 국민 참여 재판으로 이루어질 수 있다.
- ③ (가)가 지방 법원이라면 (나)는 고등 법원이다.
- ④ (나)는 (가)와 달리 위헌·위법 명령에 대한 심사권을 가진다.
- ⑤ (가), (나)의 법관은 국회에 의해 탄핵 소추될 수 있다.

6. 다음에 나타난 정치 참여 집단 A~C에 대한 설명으로 옳은 것은?
(단, A~C는 각각 정당, 시민 단체, 이익 집단 중 하나에 해당하는 집단이다.)

- A는 의회 의원의 윤리적 자질을 평가하고 이들의 정치 활동에 대한 정보를 인터넷에 공개하고 있다. 이 밖에 공직자의 부정과 부패를 감시하며, 문제점을 해결할 수 있는 방안을 제시하기도 한다.
- B는 총기 판매와 소지에 대한 규제를 주장하는 강력한 여론에도 불구하고 자신들이 추구하는 목적을 달성하는 데에만 관심이 있다. 그러나 복지, 교육, 외교, 노동, 환경 등 다른 분야에는 관심이 없다.
- C는 중산층을 기반으로 설립되었고, 체제 유지를 위해 전통적인 규범과 권위를 중요시한다는 강령을 갖고 있다. 이들은 정권 획득을 통해 시장에 대한 국가의 개입을 최소로 하는 정책을 실현하고자 한다.

- ① A는 정치 과정에서 투입 기능을 독점한다.
- ② B는 행정부와 의회를 매개한다.
- ③ C는 정치적 중립을 추구한다.
- ④ A는 B와 달리 구성원의 이익을 공익보다 우선한다.
- ⑤ B, C 모두 정치 사회화 기능을 수행하지만, C는 정치적으로 책임을 진다는 점에서 B와 다르다.

7. 밑줄 친 'A 원칙'에 대한 옳은 설명만을 <보기>에서 있는 대로 고른 것은? [3점]

범죄로 규정되어 있지 않았던 행위를 법률의 개정으로 소급하여 처벌하는 것은 헌법상 평등의 원칙과 A 원칙에 반한다. 이와는 달리, 기존 판례에서 처벌하지 않았던 행위를 법률이 바뀌지 않았으나 판례가 변경되어 처벌하는 것은 헌법에 반하지 않는다. 형사 처벌의 근거가 되는 것은 판례가 아니라 법률이며, 판례의 변경을 제한하는 것은 사법 제도의 본질에 반하기 때문이다.

- <보 기>
- ㄱ. 형법의 보장적 기능 실현을 위해 필요한 원칙이다.
 - ㄴ. 행위 당시의 판례를 신뢰한 자는 보호되어야 한다는 원칙이다.
 - ㄷ. 범죄의 성립 및 처벌의 정도는 법관이 결정해야 한다는 원칙이다.
 - ㄹ. 행위 당시의 형벌 법규를 재판의 기준으로 삼아야 한다는 원칙이다.

- ① ㄱ, ㄴ ② ㄱ, ㄷ ③ ㄴ, ㄷ
- ④ ㄱ, ㄷ, ㄹ ⑤ ㄴ, ㄷ, ㄹ

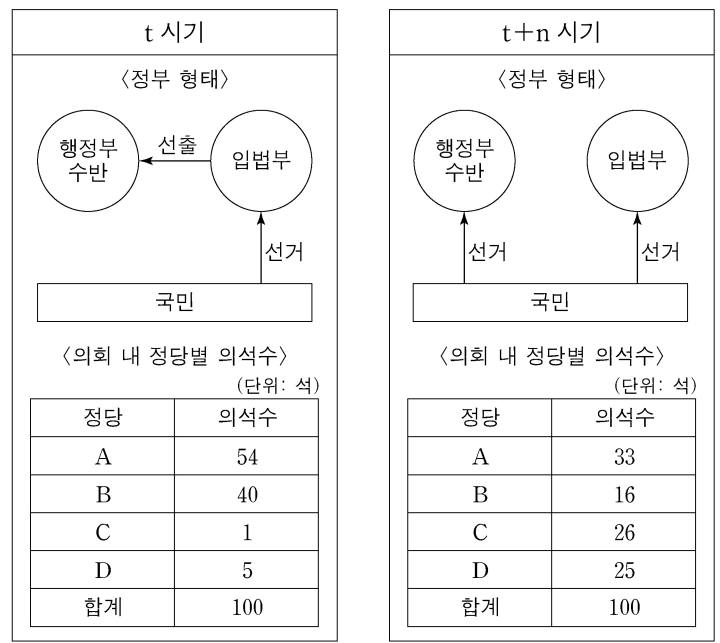
8. 밑줄 친 ㉠에 대한 설명으로 옳은 것은?

◇◇신문 2018년 ○○월 ○○일

국회 의사당 본관 앞 계단에서 동료 20명과 함께 '△△법 개정에 반대한다.'는 구호를 외치며 농성했다는 이유로 갑은 기소되었다. 갑은 국회의사당의 경계 지점으로부터 100미터 이내에서 옥외 집회를 금지한 ㉠ A 법률의 해당 조항은 위헌이라고 생각하여 □□ 지방 법원에 위헌 법률 심판 제청 신청을 하였다. 헌법 재판소는 헌법이 보장한 국회의 기능을 보호하기 위한 A 법률 해당 조항의 입법 목적은 정당하나, 위험 상황이 구체적으로 존재하지 않는 경우 까지도 예외 없이 국회 의사당 인근에서의 집회를 금지하는 것은 입법 목적의 달성에 필요한 범위를 넘는 과도한 제한이라고 보았다.

- ① ㉠은 갑의 '기본권 보장을 위한 기본권'을 제한한다.
- ② ㉠에 의해 제한된 갑의 기본권은 자본주의 발달에 따른 불평등을 시정하기 위해 등장하였다.
- ③ 헌법 재판소는 ㉠이 과잉 금지 원칙에 위배된다고 보았다.
- ④ 헌법 재판소는 ㉠에 의해 제한된 기본권이 국회의 기능 보호라는 입법 목적보다 항상 우선한다고 보았다.
- ⑤ □□ 지방 법원은 갑의 신청 없이 직권으로 ㉠에 대해 위헌 법률 심판을 제청할 수 없다.

9. 다음 자료는 시기별 갑국의 정부 형태와 의회 내 정당별 의석수를 나타낸다. 이에 대한 추론으로 가장 적절한 것은? [3점]



*t 시기와 t+n 시기에서 행정부 수반은 모두 A 정당 소속이다.

- ① t 시기는 t+n 시기와 달리 행정부 수반의 임기가 보장되어 정책의 지속성을 확보하기가 용이했을 것이다.
- ② t 시기는 t+n 시기에 비해 국민의 다양한 의견이 투입되어 국정이 비능률적으로 운영되었을 것이다.
- ③ t+n 시기는 t 시기에 비해 다수당의 횡포 가능성이 높았을 것이다.
- ④ t+n 시기는 t 시기에 비해 의회 내에서 A 정당의 영향력은 감소한 반면 B 정당의 영향력은 증가했을 것이다.
- ⑤ t+n 시기는 t 시기에 비해 입법부와 행정부 간 대립 가능성이 높아 행정부의 강력한 정책 추진을 위한 법률 제·개정은 어려웠을 것이다.

10. 우리나라 헌법의 기본 원리 (가), (나)에 대한 옳은 설명을 <보기>에서 고른 것은?

20세기에 발생한 세계 대전을 통해 인류는 국가 간의 평화 질서 내에서만 인간의 존엄성을 보장할 수 있다는 교훈을 얻게 되었다. 이로 인해 우리나라 헌법 전문에서도 "...인류 공영에 이바지함으로써..."라고 하여 (가) 을/를 천명하고 있다. 한편 제2차 세계 대전 이후 한반도에서는 남북이 분단되어 군사적인 대치 상황과 이산가족 문제 등으로 많은 고통을 겪어왔다. 이에 우리나라 헌법은 (나) 을/를 기본 원리로 받아들이고 있다.

- <보 기>
- ㄱ. (가)에 따라 우리나라 헌법은 외국인의 지위 보장에 대해 상호주의를 택하고 있다.
 - ㄴ. (가)의 실현 방안으로 '재외 국민의 선거권 보장'이 적절하다.
 - ㄷ. (나)에 따라 우리나라 헌법은 자유 민주적 기본 질서에 입각한 평화 통일 정책을 추진하도록 하고 있다.
 - ㄹ. (나)의 실현 방안으로 '모든 유형의 전쟁을 금지하는 법률 제정'이 적절하다.

- ① ㄱ, ㄴ ② ㄱ, ㄷ ③ ㄴ, ㄷ ④ ㄴ, ㄹ ⑤ ㄷ, ㄹ

11. 다음 사례에 대한 법적 판단으로 옳은 것은?

갑은 홀어머니 을과 살던 중 병과 혼인하여 A, B를 출산하였다. 갑은 병과 이혼한 후 정과 재혼하고 혼인 신고를 하였다. 그 후 갑과 정은 무의 자녀 C를 친양자로 입양하였다. 최근 갑은 불치의 병에 걸려서 전 재산을 B에게 물려준다는 유언을 남기고 사망하였는데, 유언은 법에서 정한 형식을 갖추지 못하였다. 사망 당시 갑은 채무 없이 2억 원의 예금과 7억 원의 부동산이 있었고, 이외의 다른 재산은 없었다.

- ① A는 상속 재산 중 2억 원을 상속받는다.
- ② B가 상속을 포기하면 병은 갑의 재산을 상속받을 수 있다.
- ③ 정은 B에게 유류분 반환 청구를 할 수 있다.
- ④ 정은 을이 받게 될 상속분의 1.5배를 상속받는다.
- ⑤ 무와 C의 친자 관계가 유지되므로 C는 갑의 재산을 상속받을 수 없다.

12. 다음 사례에 대한 법적 판단으로 옳은 것은?

2018년 4월 2일에 갑은 을 소유의 X주택에 대해 보증금 2억 원에 임대차 기간을 1년으로 하는 주택 임대차 계약을 체결하였다. 갑은 2018년 4월 13일에 X주택을 인도받아 살고 있었는데, 을이 2018년 4월 16일에 ○○은행으로부터 2억 원을 대출받으면서 X주택에 대한 저당권 설정 등기를 해 주었다. 2018년 4월 23일에 갑은 전입신고를 하면서 임대차 계약서에 확정 일자를 받았다. 단, X주택에 대한 다른 권리 관계는 없다.

- ① 갑은 계약 기간이 1년이므로 임대차 기간이 2년임을 주장할 수 없다.
- ② 갑은 2018년 4월 13일 다음 날부터 제3자에 대한 대항력을 가진다.
- ③ X주택에 대한 저당권 설정 등기는 X주택 등기 사항 전부 증명서 갑구에 기재된다.
- ④ X주택에 대한 경매 절차가 진행되어 3억 원에 매각되면, 갑은 매각 대금에서 보증금 중 일부만 변제받을 수 있다.
- ⑤ 갑은 임대차 계약 종료 후 ○○은행에 보증금의 반환을 청구할 수 있다.

13. 다음 사례에 대한 옳은 법적 판단을 <보기>에서 고른 것은? [3점]

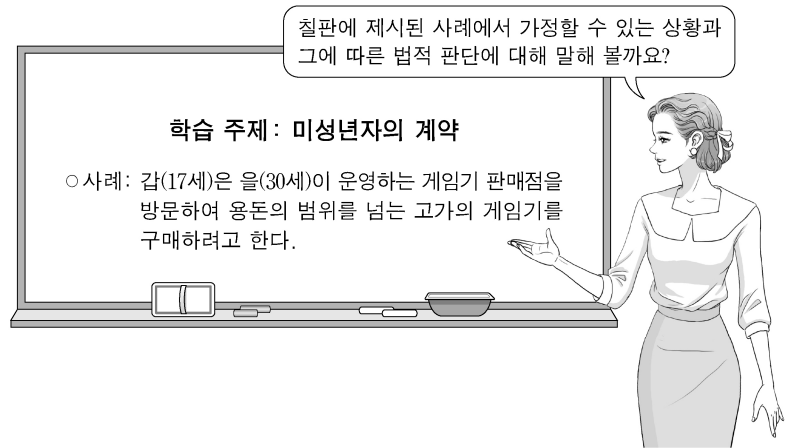
○ 갑 소유의 주택을 임차해서 살고 있는 을은 외벽 창틀에 하자가 있음을 알게 되었다. 그러던 어느 날 그 창틀이 갑자기 아래로 떨어져서 주차장에 주차되어 있던 병의 자동차가 파손되었다.
○ 정이 운영하는 음식점의 종업원 무(17세)는 오토바이를 타고 급하게 음식 배달을 하던 중, 지나가던 사람을 치어 다치게 하였다.

<보 기>

ㄱ. 갑, 을은 공동 불법 행위 책임을 진다.
ㄴ. 을은 공작물의 관리에 소홀함이 없음을 증명하지 못할 경우 병에게 금전으로 손해를 배상해야 한다.
ㄷ. 무는 미성년자이므로 고의가 없다면 불법 행위가 성립하지 않는다.
ㄹ. 정은 무에 대한 감독상의 과실이 없음을 증명할 경우 손해 배상 책임을 면할 수 있다.

- ① ㄱ, ㄴ ② ㄱ, ㄷ ③ ㄴ, ㄷ ④ ㄴ, ㄹ ⑤ ㄷ, ㄹ

14. 교사의 질문에 대한 옳은 답변을 <보기>에서 고른 것은? [3점]



<보 기>

ㄱ. 갑이 법정 대리인의 동의를 얻지 않고 게임기를 구매하였다면 을은 갑의 법정 대리인에게 계약을 취소할 것인지의 확인을 요구할 수 있어요.
ㄴ. 게임기 구매 시 갑이 법정 대리인의 동의가 있는 것으로 을을 속였다면 갑의 법정 대리인은 계약을 취소할 수 없어요.
ㄷ. 을이 갑에게 아무런 조건 없이 게임기를 무상으로 지급하는 경우에도 갑은 법정 대리인의 동의를 얻어야 해요.
ㄹ. 갑이 법정 대리인의 동의를 얻어 게임기를 구매하였다더라도 갑은 계약을 취소할 수 있어요.

- ① ㄱ, ㄴ ② ㄱ, ㄷ ③ ㄴ, ㄷ ④ ㄴ, ㄹ ⑤ ㄷ, ㄹ

15. 다음 사례에 대한 옳은 법적 판단을 <보기>에서 고른 것은? [3점]

A 식료품 회사 사용자와 노동조합은 근로 조건에 관해 단체 교섭을 진행하였으나 사용자가 안전에 합의하지 않아 결렬되었다. 이에 노동조합은 적법하게 파업을 이끌었다. A 식료품 회사는 인사 위원회를 열어 파업을 주도했다는 이유로 갑(28세)에게 해고를 통보하였다. 이에 갑은 즉시 해고의 효력을 다투는 소송을 제기하였다. 법원은 해고 처분이 재량권 범위를 이탈·남용하여 위법하다고 판결하였고, 이 판결은 확정되었다.

<보 기>

ㄱ. 갑은 소송을 제기하기 전, 노동 위원회에 구제 신청을 할 수 있다.
ㄴ. 갑이 A 식료품 회사의 인사 위원회 결정에 불복하여 제기한 소송은 민사 소송이다.
ㄷ. 갑의 행위에 대한 A 식료품 회사의 해고 처분은 부당 해고에는 해당하지만 부당 노동 행위에는 해당하지 않는다.
ㄹ. A 식료품 회사 사용자가 노동조합이 제시한 근로 조건에 관해 합의를 하지 않은 행위는 단체 교섭권을 침해한 것이다.

- ① ㄱ, ㄴ ② ㄱ, ㄷ ③ ㄴ, ㄷ ④ ㄴ, ㄹ ⑤ ㄷ, ㄹ

16. 다음 사례에 대한 법적 판단으로 옳은 것은? [3점]

갑(14세)은 얼마 전 길에서 주운 신분증을 이용해 편의점에서 술과 담배를 구입하려다 편의점 주인에게 적발되었다. 갑은 술과 담배를 가지고 황급히 도주하였지만 편의점 주인에게 붙잡혀 실랑이를 벌였고, 급기야 편의점 주인을 폭행하였다. 마침 지나가던 을(30세)이 갑을 제압한 후 경찰에 인계하였다.

- ① 갑의 범죄 행위는 소년부 보호 사건의 처리 대상에 포함되지 않아 일반 형사 사건과 동일하게 처리된다.
- ② 갑은 책임 조각 사유가 존재하므로 불기소 처분을 받는다.
- ③ 갑은 수사 종결 후 가정 법원 소년부로 송치되어 보호 처분의 결정을 받게 되면 항고할 수 있다.
- ④ 갑에 대한 공판 절차가 개시되면 을도 재판의 당사자가 된다.
- ⑤ 을이 갑을 제압한 행위는 자구 행위에 해당하기 때문에 범죄가 성립하지 않는다.

17. 국제 사회를 바라보는 관점 A, B에 대한 옳은 설명을 <보기>에서 고른 것은?

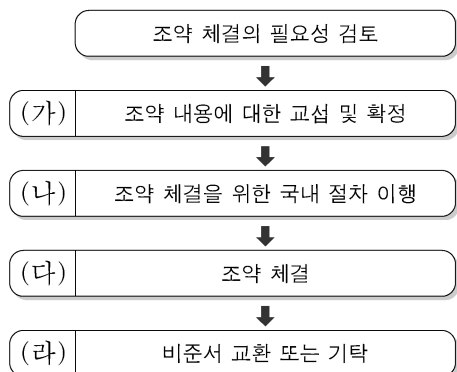
A를 지지하는 학자들은 국제법과 국제기구의 중요성을 강조하며 집단 안보 체제를 통해 국제 평화를 유지할 수 있다고 주장한다. 이에 반해 B를 지지하는 학자들은 제1차 세계 대전 이후 설립된 국제 연맹이 제2차 세계 대전의 발발을 막지 못하였고, 이후 설립된 국제 연합 역시 끊임없이 발생하는 국가 간 분쟁을 통제하지 못하였다는 점을 지적한다. 그래서 B를 지지하는 학자들은 군사력을 강화하거나 동맹을 맺는 것이 오히려 자국의 안전을 지키는 방법이라고 주장한다.

<보 기>

- ㄱ. A는 국가 간 힘의 균형을 강조한다.
- ㄴ. B는 국제 사회가 도덕 규범에 의해 통제되기 어렵다고 본다.
- ㄷ. A는 자유주의적 관점, B는 현실주의적 관점이다.
- ㄹ. B는 A와 달리 초국가적 행위 주체들의 역할을 강조한다.

- ① ㄱ, ㄴ ② ㄱ, ㄷ ③ ㄴ, ㄷ ④ ㄴ, ㄹ ⑤ ㄷ, ㄹ

18. 그림은 우리나라의 일반적인 조약 체결 절차이다. (가)~(라)에 대한 설명으로 옳은 것은?



*기탁: 조약 체결 당사국이 비준서를 제출하여 그 효력의 발생을 인정하는 행위

- ① (가) 단계에서 정부 간 국제기구는 참여할 수 없다.
- ② (가) 단계에서 해당 조약의 포괄적 구속력이 발생한다.
- ③ (나) 단계에서 해당 조약에 대한 국회의 비준이 이루어진다.
- ④ (다)에 대한 권한은 대통령에게 있다.
- ⑤ (라) 이후 해당 조약은 헌법과 동등한 효력을 가진다.

19. 다음 사례에 대한 옳은 법적 판단을 <보기>에서 고른 것은?

갑(38세)은 길가에 주차되어 있던 자동차를 훔쳐서 운행하다 인적이 드문 곳에 버렸다. 자동차 주인인 을이 이를 알고 갑을 고소하였으나 갑은 수년간 도망 다녔다. 결국 갑은 경찰에 의해 체포되어 현재 수사가 진행 중이다.

<보 기>

- ㄱ. 갑의 범죄 행위에 대한 공소 시효가 지났다면 검사는 기소 유예 처분을 내려 수사를 종결한다.
- ㄴ. 공판 절차가 개시되면 을은 해당 법원에 배상 명령을 신청할 수 있다.
- ㄷ. 형(刑)의 선고 시 갑은 집행 유예와 보호 관찰 처분을 동시에 받을 수 있다.
- ㄹ. 을이 갑으로부터 범죄 피해를 배상받지 못할 경우 일정한 한도의 구조금 지급을 청구할 수 있다.

- ① ㄱ, ㄴ ② ㄱ, ㄷ ③ ㄴ, ㄷ ④ ㄴ, ㄹ ⑤ ㄷ, ㄹ

20. 다음 자료에 대한 분석으로 옳은 것은? [3점]

갑국은 현재 6개 선거구에서 단순 다수 대표제로 6명의 의회 의원을 선출하고 있다. 다음은 최근 의회 의원 선거 결과이다.

<정당별 득표 결과>

(단위: 표)

구분	A당	B당	C당	D당	합계
선거구 1	60	80	40	20	200
선거구 2	50	0	10	40	100
선거구 3	30	80	60	30	200
선거구 4	70	80	50	0	200
선거구 5	40	50	0	10	100
선거구 6	200	0	0	0	200
합계	450	290	160	100	1,000

*투표율은 100%이며, 무효표는 없음.

갑국은 차기 의회 의원 선거를 앞두고 현재의 의석 정수를 유지하면서 다음과 같은 두 가지 개편안을 검토하고 있다. (단, 개편안의 경우 최근 의회 의원 선거의 정당별 득표 결과만을 근거로 차기 선거 결과를 판단한다.)

<1안> 선거구 1-2, 3-4, 5-6을 통합하여 선거구를 3개로 축소하고, 각 선거구에서 득표순으로 2인의 대표를 선출한다. 정당은 당선 가능성을 고려하여 각 선거구에서 2인까지 후보자를 공천할 수 있다.

*정당이 후보자를 공천할 때 2인이 당선 가능한 경우 2인을, 그렇지 않은 경우 1인을 공천한다.

<2안> 선거구 모두를 통합하여 한 개의 선거구로 만들며, 정당의 득표 비율에 의석 정수를 곱하여 산출된 수의 정수(整数)만큼 정당의 의석으로 배분하고, 이후 잔여 의석은 소수점 이하의 수가 큰 순서대로 각 정당에 1석씩 배분한다.

- ① A당의 경우 현행은 2안보다 유리하다.
- ② B당의 경우 현행은 1안보다 불리하다.
- ③ C당의 경우 현행보다 1안이, D당의 경우 현행보다 2안이 유리하다.
- ④ A당이 1안에서 얻을 수 있는 최대 의석수와 2안에서 얻을 수 있는 의석수는 동일하다.
- ⑤ 1안에서 B당은 과소 대표되고, 2안에서 C당은 과대 대표된다.

* 확인 사항

○ 답안지의 해당란에 필요한 내용을 정확히 기입(표기)했는지 확인하십시오.