
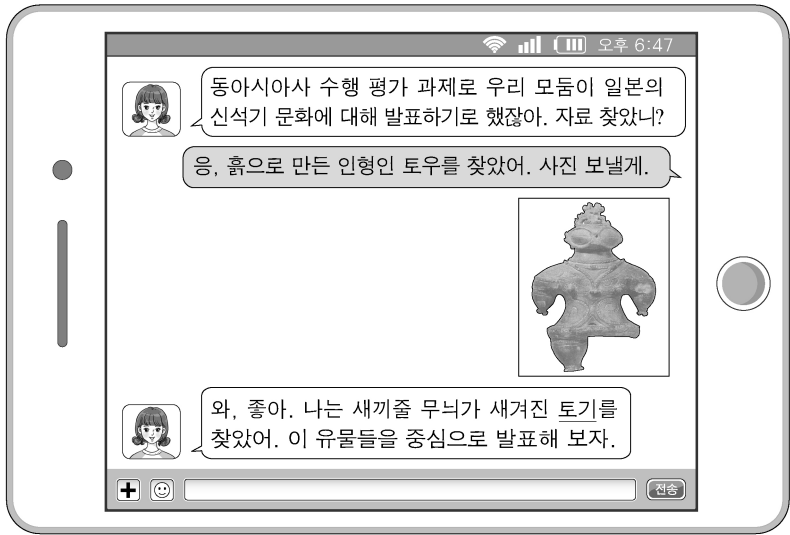


제 4 교시

사회탐구 영역 (동아시아사)

성명 수험 번호

1. 밑줄 친 ‘토기’에 해당하는 유물로 적절한 것은?



2. (가)에 들어갈 내용으로 적절한 것은?

<탐구 활동 계획서>

- 탐구 주제: 수·당 율령 체제의 전파
- 탐구 목표: 수·당의 율령 체제가 동아시아 각국에 영향을 끼친 사례와 특징을 탐구한다.
- 모듈별 활동
 - 1모듈: 신라의 국학 설치 목적을 알아본다.
 - 2모듈: 발해 3성 6부제의 특징을 살펴본다.
 - 3모듈: (가)

- ① 2관 8성제의 구조를 파악한다.
- ② 반랑국의 정치 체도를 찾아본다.
- ③ 주의 봉건제 운영 실태를 알아본다.
- ④ 고조선의 8조의 법 내용을 분석한다.
- ⑤ 좌현왕과 우현왕의 하위 조직을 조사한다.

3. (가) 인물이 활동한 시기의 동아시아 상황으로 옳은 것은?

『왕오천축국전』은 1908년 중국 둔황 천불동에서 프랑스인 펠리오에 의해 발견되었다. 이것은 (가) 이가 여러 해 동안 인도와 중앙아시아 등지를 순례하며 보고 들은 내용을 기록한 것으로, 당시의 지리, 식생, 문화, 언어 등을 알려주는 귀중한 여행기이다.

- ① 법흥왕이 불교를 공인하였다.
- ② 파스파가 새로운 문자를 만들었다.
- ③ 혜자가 쇼토쿠 태자의 스승이 되었다.
- ④ 감진이 일본에 건너가 계율을 전하였다.
- ⑤ 법현이 인도를 순례하고 불법을 연구하였다.

4. (가) 국가에 대한 설명으로 옳은 것은? [3점]

예전에 저들은 우리나라와 요를 섬겼습니다. 그러나 급격히 세력을 키워 (가) 을/를 세운 후, 요를 멸망시키고 지금은 송을 위협하고 있습니다. 우리도 저들과 국경을 맞대고 있으니 마땅히 경계해야 합니다.

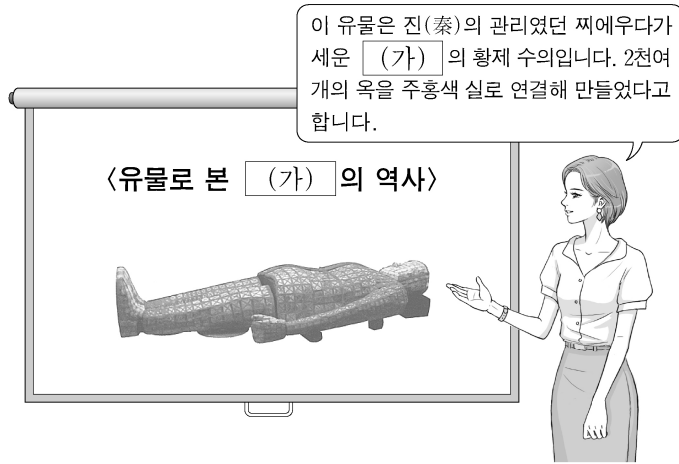
- ① 다루가치를 각지에 파견하였다.
- ② 후진으로부터 연운 16주를 할양받았다.
- ③ 티베트 계통의 탕구트족이 건국하였다.
- ④ 중원 왕조로부터 화번 공주를 받아들였다.
- ⑤ 부족 전통에 기반한 맹안·모극제를 실시하였다.

5. 다음 자료의 상황이 전개된 당시 동아시아에서 있었던 사실로 옳은 것은? [3점]

북주는 돌궐과 화친한 뒤 매년 10만 필의 비단을 보냈다. 북제 역시 돌궐이 침략해 올 것을 두려워하여 많은 재물을 주었다. 돌궐의 카간(가한)은 “나의 남쪽 두 아들이 언제나 공손하니 어찌 물자가 부족할까 걱정하겠는가!”라고 말했다.

- ① 한국 - 발해가 건국되었다.
- ② 중국 - 토목(보)의 변이 일어났다.
- ③ 중국 - 남조와 북조가 대립하였다.
- ④ 일본 - 헤이조쿄가 건설되었다.
- ⑤ 베트남 - 응오 왕조가 수립되었다.

6. (가) 국가에 대한 설명으로 옳은 것은?



- ① 한 무제의 침입으로 멸망하였다.
- ② 베트남에 세워진 최초의 국가이다.
- ③ 라오허강을 경계로 연과 대립하였다.
- ④ 만리장성 이북의 초원 지대를 통합하였다.
- ⑤ 전국 7웅의 하나로 부국강병 정책을 추진하였다.

7. 다음 자료에 나타난 인구 이동이 끼친 영향으로 가장 적절한 것은? [3점]

중원에서 흉노를 비롯한 5호가 난리를 일으킨 이래 백성들이 회수와 양쯔강을 건너 남쪽으로 이주하였다. 조정에서는 남하한 이주민들이 머무는 지역에 새로이 지방관을 두었다. 이후 전진(前秦)이 다시 침입하자 남쪽으로 이주하는 사람이 더욱 많아졌다.

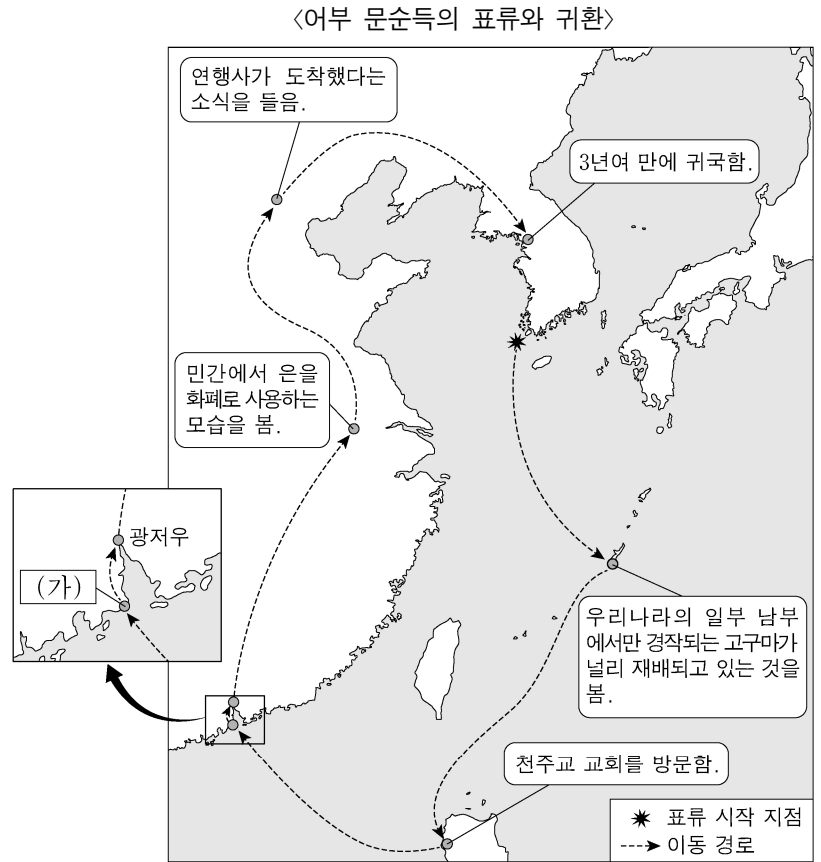
- ① 일본과 감합 무역이 이루어졌다.
- ② 상품 경제가 발달하여 마제은이 통용되었다.
- ③ 대외 무역을 관리하는 시박사가 설치되었다.
- ④ 강남 지역이 개발되어 농업 생산이 늘어났다.
- ⑤ 흉노를 견제하기 위해 장건이 서역에 파견되었다.

8. (가) 막부 시기의 동아시아 상황으로 옳은 것은?

(가) 이가 안정기에 접어든 이후 새로운 농경지를 확보하기 위하여 개간과 간척이 활발해졌다. 『농업전서』, 『비황초목도』 등과 같은 농서도 편찬되었다. 이러한 노력으로 농업 생산력이 높아졌다. 미국의 유통도 활발해져서 그 집산지인 오사카는 '천하의 부엌'으로 불렸다.

- ① 한국 - 목화가 중국에서 전래되었다.
- ② 중국 - 최초의 지폐인 교자가 등장하였다.
- ③ 중국 - 지방에서 시진의 수가 증가하였다.
- ④ 일본 - 귀족, 사원 등의 사유지인 장원이 늘어났다.
- ⑤ 일본 - 중국 동전을 대량으로 수입하여 화폐로 유통시켰다.

9. 다음 자료의 인물이 (가) 지역에서 목격했을 모습으로 가장 적절한 것은? [3점]



- ① 교역을 위해 입항하는 포르투갈 선박
- ② 고국으로 돌아가는 마르코 폴로 일행
- ③ 조공하러 가는 베트남 리 왕조의 사절단
- ④ 국제 무역항인 벽란도로 향하는 아라비아 상인
- ⑤ 도다이사 대불 개안식에 참석하기 위해 출항하는 승려

10. (가), (나) 조약에 대한 설명으로 옳은 것은? [3점]

(가) 프랑스와 청국은 베트남에서의 분쟁에 동시에 개입하여 발생한 전쟁을 종결시킬 것을 위하여 ... (중략) ... 새로운 조약을 맺기로 합의하였다.
제2조 청국은 프랑스가 베트남을 확보하는 것에 대해 방해하지 않으며, 프랑스가 베트남과 맺었거나 맺을 조약을 존중할 것을 서약한다.
(나) 제1조 청국은 조선국이 완전무결한 독립 자주국임을 확인한다.
제4조 청국은 군비 배상금으로 2억 냥을 일본국에 지불할 것을 약속한다.

- ① (가) - 응우옌 왕조의 수립에 영향을 끼쳤다.
- ② (가) - 코친차이나 동부 3성의 할양을 규정하였다.
- ③ (나) - 수신사(修信使) 파견의 계기가 되었다.
- ④ (나) - 태평천국 운동이 일어나는 배경이 되었다.
- ⑤ (가), (나) - 중국을 중심으로 한 동아시아 국제 질서의 붕괴로 이어졌다.

11. 다음 가상 대화에 나타난 유학 사상에 대한 설명으로 옳지 않은 것은?



- ① 명 대 왕수인에 의해 집대성되었다.
- ② 조선에서는 서원 등을 통하여 확산되었다.
- ③ 일본에는 가마쿠라 막부 시기에 전래되었다.
- ④ 에도 막부의 제도와 의례 정비에 기여하였다.
- ⑤ 베트남에서는 레(후기) 왕조 시기에 확산되었다.

12. (가), (나) 주장이 제기된 사이 시기에 동아시아에서 있었던 사실로 옳은 것은? [3점]

(가) 강소순무 모천안이 상주하였다. “지금 푸젠과 광둥 지역의 연해 백성들을 내지로 옮기고 외국과 무역을 금지한 지 10여 년이 지났습니다. 이 때문에 외국으로부터 은이 거의 수입되지 않아, 입관(入關) 이래 백성들이 조세 납부에 이처럼 큰 불편을 겪은 적은 없습니다.”

(나) 절강순무 서원몽이 상주하였다. “현재 일본은 통상 증명서를 발행하고, 그것을 지참한 중국 상인만 나가사키에서 교역하는 것을 허용하고 있습니다. 그런데 그 증명서에는 일본의 연호가 적혀 있으니, 그 대신 중국 연호가 적힌 것을 사용하게 하여야 합니다.”

- ① 한국 - 기유약조를 체결하였다.
- ② 중국 - 알탄 칸의 침입을 받았다.
- ③ 중국 - 타이완의 정씨 세력을 진압하였다.
- ④ 일본 - 히라도의 네덜란드 상관을 데지마로 옮겼다.
- ⑤ 일본 - 주인선 무역을 통하여 동남아시아로 진출하였다.

13. (가) 국가에 대한 설명으로 옳은 것은? [3점]

정유 전쟁 때 포로가 되었던 진주 출신의 승려 육혜가 귀국하여 다음과 같이 보고하였다. “사쓰마번이 (가) 을/를 공격하여 왕과 왕의 동생을 사로잡았습니다. 왕의 동생은 압송하는 도중에 길에서 죽고, 왕은 막부에 의해 억류되어 있다고 합니다.”

- ① 갈레온 무역을 주도하였다.
- ② 청과 책봉·조공 관계를 맺었다.
- ③ 조선에서 회담겸쇄환사가 파견되었다.
- ④ 임진 전쟁 때 조선에 원군을 파병하였다.
- ⑤ 천주교 박해를 이유로 프랑스의 침략을 받았다.


14. (가), (나) 사이 시기에 동아시아에서 있었던 사실로 옳은 것은?

(가) 대외 침략 전쟁이 실패한 이후 전국의 무사들은 동군과 서군으로 나뉘어 세키가하라에서 전투를 벌였다. 이 전투에서 승리한 동군의 맹주가 새로운 막부를 수립하였다.

(나) 이자성이 이끄는 농민 반란군은 토지 제도와 조세 제도의 개혁을 내세우며 세력을 넓혀 갔다. 국호를 ‘대순’으로 정한 반란군은 마침내 베이징을 함락하였다.

- ① 한국 - 인조반정이 일어났다.
- ② 중국 - 삼번의 난이 일어났다.
- ③ 중국 - 북로남왜가 창궐하였다.
- ④ 일본 - 포르투갈인으로부터 조총이 전래되었다.
- ⑤ 베트남 - 쩌홍다오가 외침을 격퇴하였다.

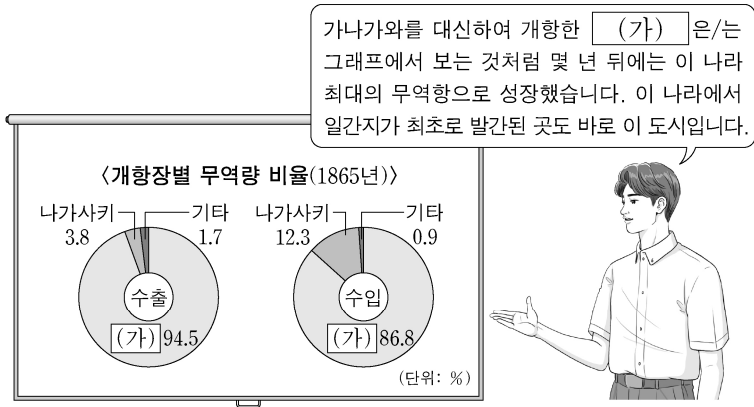
15. 다음 논의가 이루어진 시기를 연표에서 옳게 고른 것은? [3점]



	(가)	(나)	(다)	(라)	(마)
제1차 아편 전쟁 발발	청·일 전쟁 발발	러·일 전쟁 발발	제1차 세계 대전 발발	만주 사변 발발	중·일 전쟁 발발

- ① (가) ② (나) ③ (다) ④ (라) ⑤ (마)

16. (가) 도에서 있었던 사실로 옳은 것은?



- ① 다자이후가 설치되었다.
- ② 경사대학당이 설립되었다.
- ③ 베트남 광복회가 조직되었다.
- ④ 일본 최초의 철도가 부설되었다.
- ⑤ 대한민국 임시 정부가 수립되었다.

17. (가) 회의에 대한 설명으로 옳은 것은?

근래 우리 외교에서 가장 중요한 현안은 산둥 문제이다. 그런데 최근 (가) 에서 우리 외교가 끝내 실패했다는 소식이 전해졌다. 더욱이 그 원인이 정부 내 친일파의 책동에 있었던 것으로 밝혀져 국민의 분노는 극에 달했다. 국민 외교 협회는 국치일인 5월 7일에 국민 대회를 열기로 결정했지만, 베이징의 학생들은 그때까지 기다릴 수 없다고 하면서 앞당겨 시위에 나서기로 하였다.

- ① 한국의 독립을 최초로 약속하였다.
- ② 5·4 운동이 일어나는 데 영향을 끼쳤다.
- ③ 열강의 해군 주력함 보유량을 결정하였다.
- ④ 국민 혁명군의 북벌 진행 중에 개최되었다.
- ⑤ 8개국 연합군이 베이징으로 출병하는 계기가 되었다.

18. (가) 제도에 대한 설명으로 옳은 것을 <보기>에서 고른 것은? [3점]

국가가 중흥된 이래로 수도 항저우에 다시 국자감을 두고, 널리 (가) 을/를 실시하여 관리를 선발하였다. 관위에 오르는 길은 하나가 아니었지만, 재상 가운데 (가) 을/를 거치지 않은 이는 거의 없었다. 이런 까닭에 무릇 독서인의 공명과 영달은 오로지 이로 말미암게 되었다.

- 〈보 기〉
- ㄱ. 한국 - 고려 광종 때 도입되었다.
 - ㄴ. 중국 - 송 대에 3년마다 치르는 것으로 정례화되었다.
 - ㄷ. 일본 - 막번 체제를 뒷받침하는 기반이 되었다.
 - ㄹ. 베트남 - 쩐 왕조 때 처음 실시되었다.

- ① ㄱ, ㄴ ② ㄱ, ㄷ ③ ㄴ, ㄷ ④ ㄴ, ㄹ ⑤ ㄷ, ㄹ

19. (가), (나)에 대한 설명으로 옳은 것은?

- (가) 제1조 일본과 각 연합국 사이의 전쟁 상태는...(중략)... 이 조약이 효력을 발생할 때에 종료한다. 연합국은 일본 및 그 영해에 대한 일본 국민의 완전한 주권을 승인한다.
- (나) 제1조 이 성명이 공포된 날부터 중화 인민 공화국과 일본국 사이에 지금까지의 비정상적 상태가 종식되었음을 선포한다. 제5조 중화 인민 공화국 정부는...(중략)... 일본국에 대한 전쟁 배상 요구를 포기할 것임을 선포한다.

- ① (가)는 중국이 참가한 가운데 조인되었다.
- ② (가)는 6·25 전쟁에 중국군이 개입한 이후 체결되었다.
- ③ (나)는 일본이 타이완과 평화 조약을 체결하는 계기가 되었다.
- ④ (나)는 소련이 배상 청구권을 포기한 일·소 공동 선언에 영향을 주었다.
- ⑤ (가)와 (나) 사이 시기에 미국과 중국의 국교가 수립되었다.

20. (가)의 전개 과정 중 동아시아에서 있었던 사실로 옳은 것은? [3점]

중국 현대사 자료집

그해 여름 인민일보에 '사령부를 폭파하라-나의 대자보'가 발표되었다는 소식이 들려왔다.

：

(가) 에 앞장선 홍위병은 질, 사당, 성당을 파괴하고 다니기 시작했다. 소위 낡은 사상의 소유자로 지목된 사람들은 그들에게 불들려 구타를 당했다.

저우언라이 사망 후 추모 분위기가 확산되자 4인방은 그 열기를 식히려 안간힘을 썼다. 그럼에도 텐안먼 광장에서는 저우언라이를 추모하는 대규모 집회가 열렸다.

：

결국, 4인방이 체포되면서 10년에 걸친 (가) 은/는 사실상 막을 내렸다.

- ① 한국 - 6월 민주 항쟁이 일어났다.
- ② 중국 - 제1차 5개년 계획이 추진되었다.
- ③ 일본 - 55년 체제가 붕괴되었다.
- ④ 베트남 - 미국 군대가 철수하였다.
- ⑤ 타이완 - 총통 직선제 개헌이 이루어졌다.

* 확인 사항

○ 답안지의 해당란에 필요한 내용을 정확히 기입(표기)했는지 확인 하시오.