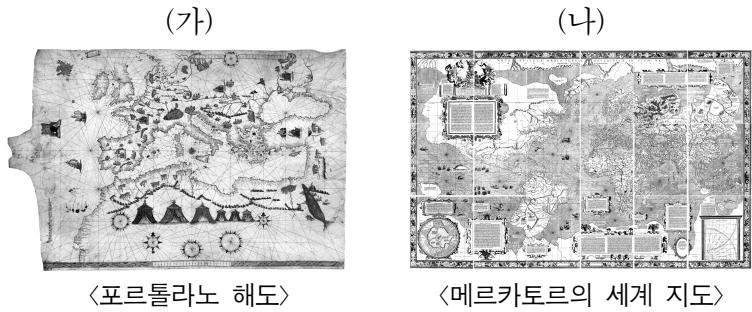


제 4 교시

사회탐구 영역(세계 지리)

성명 수험 번호

1. (가), (나) 지도의 공통점으로 옳은 것은?



- ① 항해를 목적으로 제작되었다.
- ② 오세아니아 대륙이 표현되어 있다.
- ③ 지도의 위쪽이 동쪽을 가리키고 있다.
- ④ 대륙의 면적이 정확하게 표현되어 있다.
- ⑤ 지도의 중심에 종교적 이상향이 표현되어 있다.

[2~3] 다음 자료는 세계 축제를 소개하는 여행 블로그의 일부이다. 물음에 답하시오.

◇◇여행 블로그◇◇ 2018

• 여행 기간: 2018년 2월 1일 ~ 2018년 7월 31일
(한 국가당 2개월간 체류한 후 다음 국가로 이동)

• 여행 지역: 축제 개최지 및 그 주변 지역

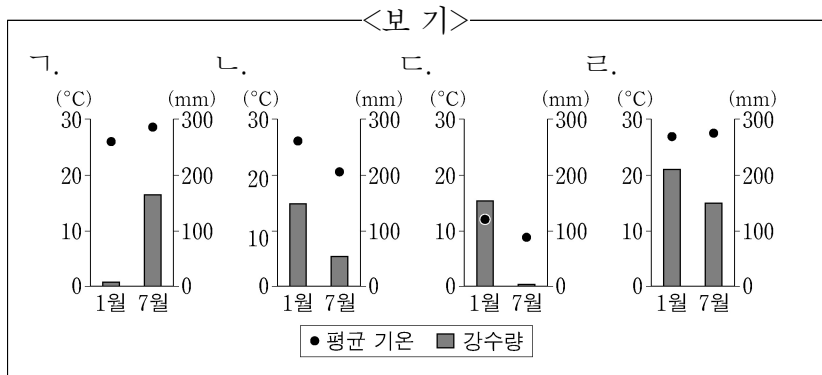
• 방문 시기와 축제 내용

○월	△월	□월
세계 3대 미항 중 하나인 (가)에서는 덥고 습한 여름 날씨 속에 전통 타악기 연주가 한데 어우러진 아름다운 기면 경연 대회와 심바 페레이드가 펼쳐지고 있었다.	타이의 수도인 (나)에서는 우기가 시작될 즈음에 사람들이 물을 뿌리면서 영혼을 깨끗이 하고 풍작을 기원하는 종교 의식이 행해지고 있었다.	과거 잉카 제국의 수도로 번성한 (다)에서는 일 년 중 밤이 가장 긴 날이 속한 달의 하순에 대양신에게 감사를 올리는 축제가 열리고 있었다.

2. (가)~(다) 지역의 방문 순서로 옳은 것은?

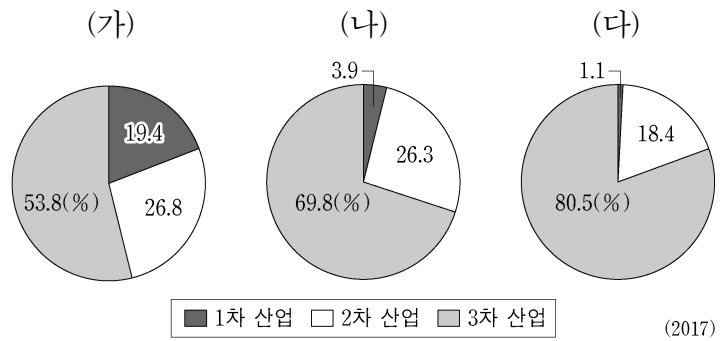
- ① (가) → (나) → (다)
- ② (가) → (다) → (나)
- ③ (나) → (가) → (다)
- ④ (나) → (다) → (가)
- ⑤ (다) → (나) → (가)

3. (가)~(다) 지역의 기후 그래프를 <보기>에서 고른 것은? [3점]



- | | (가) | (나) | (다) | | (가) | (나) | (다) |
|---|-----|-----|-----|---|-----|-----|-----|
| ① | 가 | 나 | 다 | ② | 나 | 가 | 다 |
| ③ | 나 | 가 | 다 | ④ | 다 | 가 | 다 |
| ⑤ | 다 | 나 | 다 | | | | |

4. 그래프는 지도에 표시된 국가의 산업별 종사자 수 비중을 나타낸 것이다. (가)~(다) 국가를 지도의 A~C에서 고른 것은?



- | | (가) | (나) | (다) | | (가) | (나) | (다) |
|---|-----|-----|-----|---|-----|-----|-----|
| ① | A | B | C | ② | A | C | B |
| ③ | B | C | A | ④ | C | A | B |
| ⑤ | C | B | A | | | | |

5. 다음 글은 라틴 아메리카의 인종(민족)과 언어에 대한 것이다. 이에 대한 옳은 설명을 <보기>에서 고른 것은? (단, A~C는 원주민, 유럽계, 혼혈 중 하나임.) [3점]

브라질은 라틴 아메리카 국가 중 아프리카계 인구가 가장 많은 나라이지만, 국내 인종(민족)별 인구 구성에서는 [A]이 차지하는 비중이 가장 높다. 멕시코는 국내 인종(민족)별 인구 구성에서 [B]이 차지하는 비중이 가장 높고, 페루의 인구 비중 상위 두 인종(민족)은 [B]와 [C]이다.

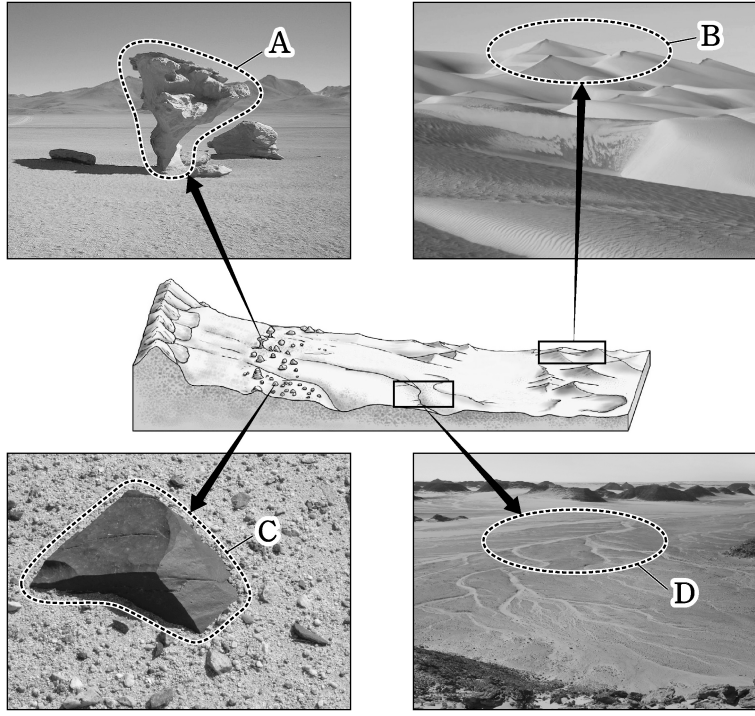
유럽 국가의 식민 지배 영향으로 브라질에서는 [㉠]을/를, 멕시코에서는 [㉡]을/를 공용어로 사용하고 있다.

<보 기>

가. A는 C보다 라틴 아메리카에서 경제적 지위가 높다.
 나. B는 C보다 라틴 아메리카 전체 인구에서 차지하는 비중이 높다.
 다. C는 A보다 라틴 아메리카에서의 거주 역사가 짧다.
 라. ㉠은 에스파냐어, ㉡은 포르투갈어이다.

- ① 가, 나 ② 가, 다 ③ 나, 다 ④ 나, 라 ⑤ 다, 라

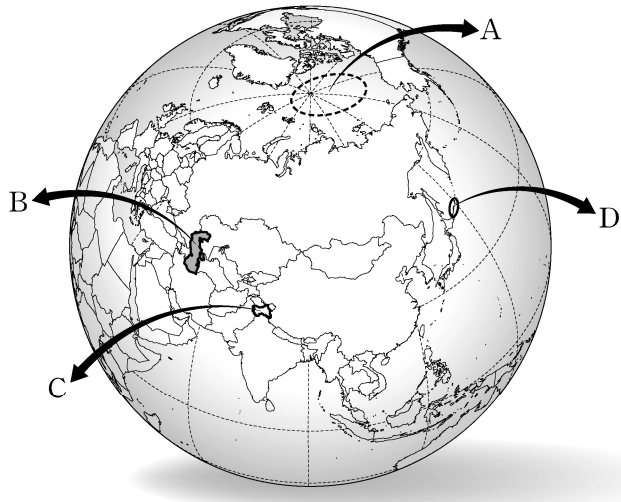
6. 다음 자료는 건조 기후 지역에서 발달하는 지형을 나타낸 것이다. A~D에 대한 옳은 설명을 <보기>에서 고른 것은? [3점]



<보기>
 가. A는 주로 포상홍수의 침식 작용으로 형성된다.
 나. B가 연속적으로 발달하면 바다다라고 부른다.
 다. C는 주로 바람에 날린 모래의 침식으로 형성된다.
 리. D는 대부분 비가 내릴 때만 일시적으로 물이 흐른다.

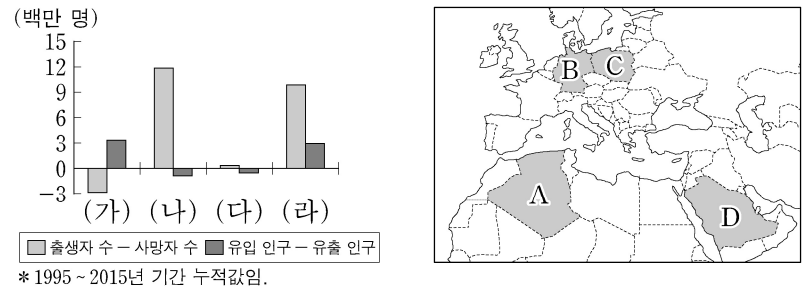
- ① 가, 나 ② 가, 다 ③ 나, 다 ④ 나, 리 ⑤ 다, 리

7. 지도는 갈등 및 분쟁 지역을 나타낸 것이다. A~D에 대한 설명으로 옳지 않은 것은?



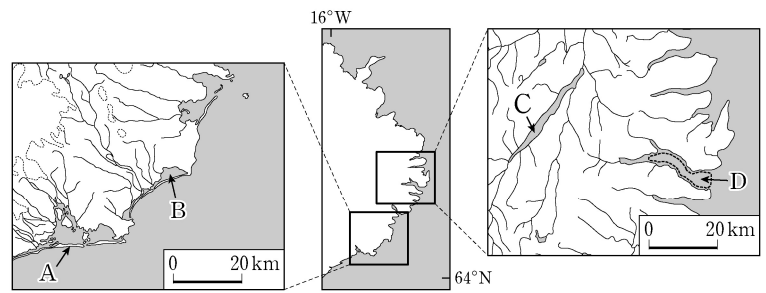
- ① A에서는 해저 자원의 확보를 둘러싼 갈등이 있다.
 ② B를 둘러싼 갈등의 주된 요인은 농업용수 확보이다.
 ③ C에서는 이슬람교와 힌두교 간의 갈등이 있다.
 ④ D는 러시아가 신흥 지배하고 있다.
 ⑤ A는 D보다 분쟁 당사국의 수가 많다.

8. 그래프의 (가)~(라)에 해당하는 국가를 지도의 A~D에서 고른 것은? [3점]



- | | (가) | (나) | (다) | (라) |
|---|-----|-----|-----|-----|
| ① | A | B | C | D |
| ② | A | C | D | B |
| ③ | B | A | C | D |
| ④ | B | C | A | D |
| ⑤ | C | A | D | B |

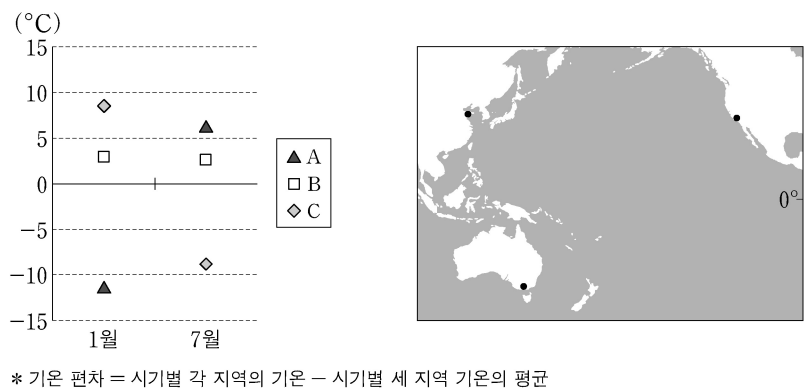
9. 지도의 A~D 지형에 대한 옳은 설명을 <보기>에서 고른 것은?



<보기>
 가. A는 주로 조류에 의한 퇴적 작용으로 형성되었다.
 나. D는 빙하에 의해 침식된 골짜기가 침수되어 형성되었다.
 다. B는 C보다 물의 염도가 낮다.
 리. D는 B보다 평균 수심이 깊다.

- ① 가, 나 ② 가, 다 ③ 나, 다 ④ 나, 리 ⑤ 다, 리

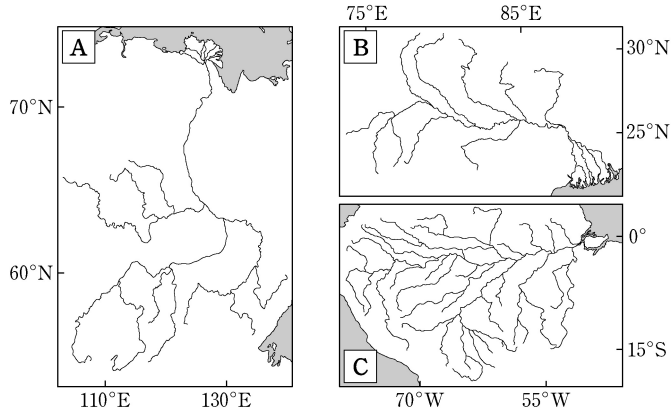
10. 그래프는 지도에 표시된 세 지역의 시기별 기온 편차를 나타낸 것이다. A~C 지역에 대한 옳은 설명만을 <보기>에서 있는 대로 고른 것은?



<보기>
 가. 1월에 낮 길이는 A~C 중 C가 가장 길다.
 나. 7월에 A는 B보다 강수량이 적다.
 다. 7월에 B는 C보다 아열대 고압대의 영향을 크게 받는다.
 리. 연중 강수 분포는 A~C 중 B가 가장 고르다.

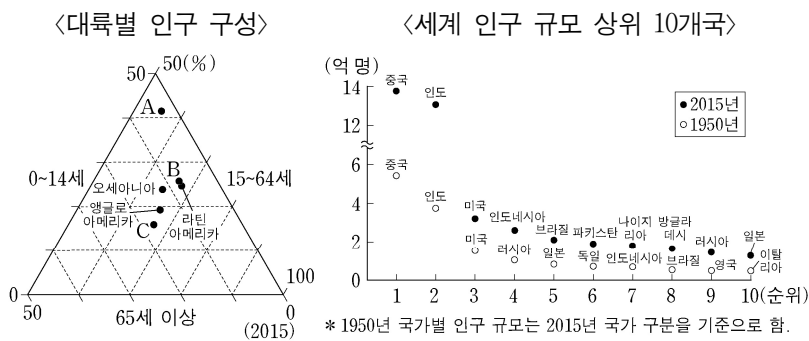
- ① 가, 다 ② 가, 리 ③ 나, 다
 ④ 가, 나, 리 ⑤ 나, 다, 리

11. 지도의 A~C 하천에 대한 설명으로 옳지 않은 것은? [3점]



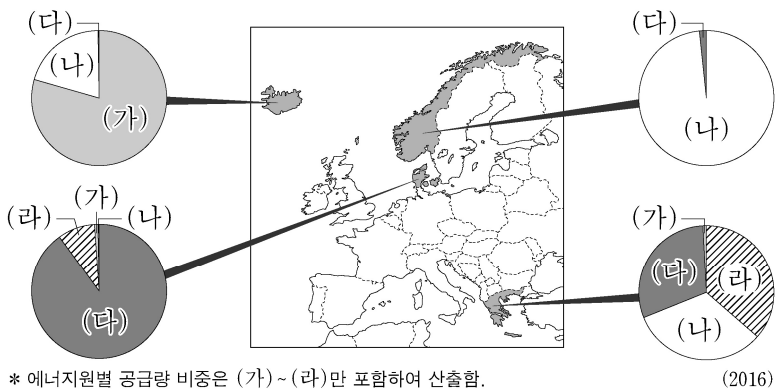
- ① A는 하구의 결빙으로 인해 봄철에 범람이 자주 발생한다.
- ② B는 인도양으로 유입된다.
- ③ C는 유역 면적이 세계에서 가장 넓은 하천이다.
- ④ A와 C는 건조 기후 지역을 관통하는 외래 하천이다.
- ⑤ B는 C보다 하구에서 계절에 따른 유량 변동률이 크다.

12. 다음 자료에 대한 분석으로 옳지 않은 것은?



- ① 총부양비가 가장 높은 대륙은 A이다.
- ② B는 유소년 부양비가 노년 부양비보다 높다.
- ③ 인구 규모 1위 국가와 10위 국가의 인구 차이는 증가하였다.
- ④ 인구 규모 상위 10개국 중 C에 속한 국가의 수는 감소하였다.
- ⑤ 2015년 인구 규모 상위 10개국에 속한 국가의 수는 A가 B보다 많다.

13. 그래프는 지도에 표시된 네 국가의 에너지원별 공급량 비중을 나타낸 것이다. 이에 대한 설명으로 옳은 것은? (단, (가)~(라)는 수력, 지열, 태양광(열), 풍력 중 하나임.)

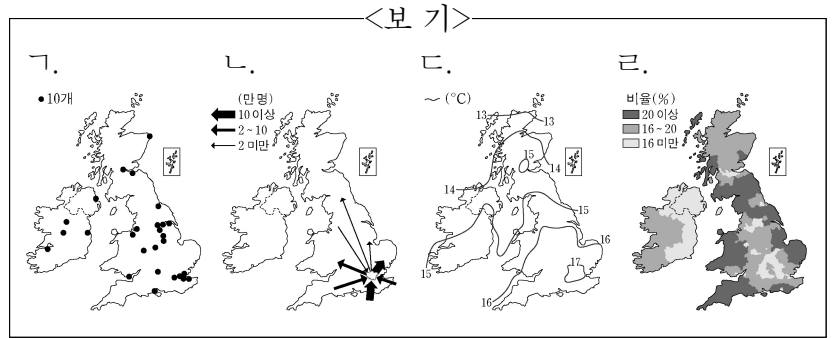


- ① (가)는 낙차가 크고 수량이 풍부한 지역이 생산에 유리하다.
- ② (나)는 연간 일조량이 많은 지역이 생산에 유리하다.
- ③ (다)는 바람이 지속적으로 많이 부는 지역이 생산에 유리하다.
- ④ (라)는 해령이 위치한 곳에서 이용이 활발하다.
- ⑤ 세계 전체 에너지 공급량에서 차지하는 비중은 (가)~(라) 중 (다)가 가장 크다.

14. 다음 글의 밑줄 친 (가), (나) 지리 정보를 지도로 표현할 때, 가장 적합한 통계 지도 유형을 <보기>에서 고른 것은? [3점]

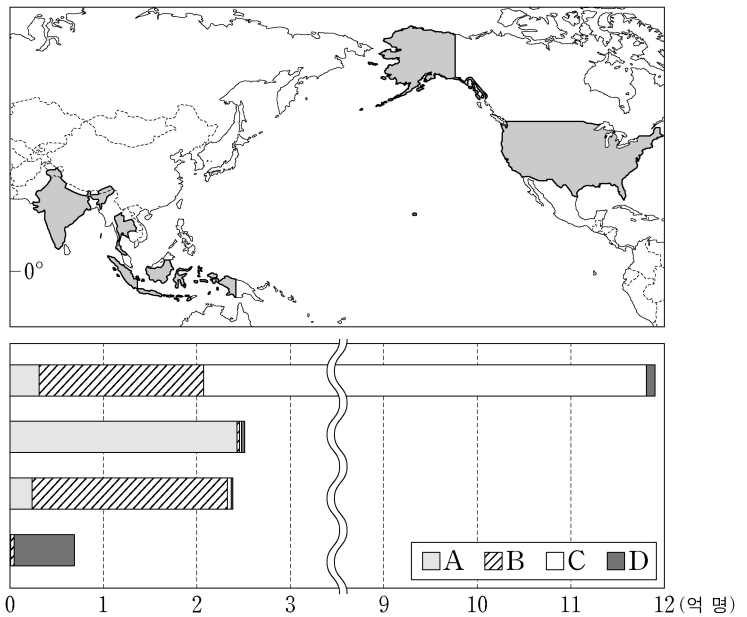
영국 내 이민자 수는 2011년 약 750만 명으로 1991년에 비해 약 2배 정도로 증가하였다. 국제 연합이 발간한 (가) 2010년 국가 간 인구 이동 자료를 보면, 인도 등 옛 식민지 국가들과 경제 사정이 좋지 않은 유럽 국가로부터의 이동이 영국으로의 인구 이동의 대부분을 차지하고 있다.
- □□신문, 2016년 □월 □일 -

영국의 유럽 연합(EU) 탈퇴 여부를 묻는 국민 투표의 (나) 행정 구역별 찬성 비율을 보면, 스코틀랜드와 북아일랜드에서는 50%를 넘지 못한 반면 잉글랜드와 웨일스에서는 찬성 의견이 과반을 넘은 것으로 나타났다. 특히 잉글랜드 중북부에서 찬성 의견이 크게 우세한 것으로 나타났다.
- ○○뉴스, 2016년 ○월 ○일 -



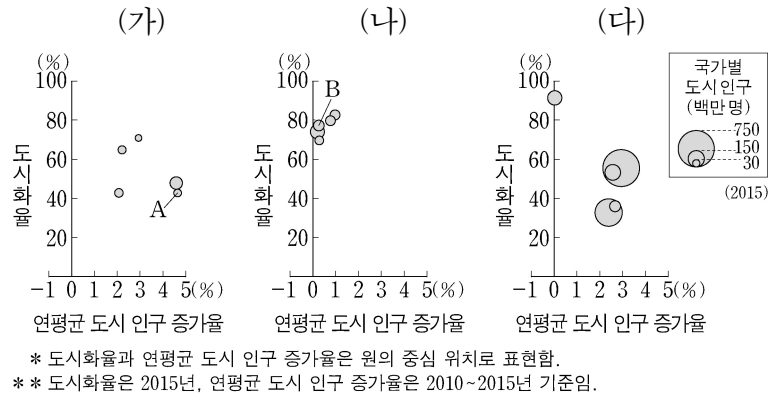
- ① (가) (나) ② (가) (나) ③ (가) (나)
- ④ (나) (라) ⑤ (다) (가)

15. 그래프는 지도에 표시된 네 국가의 A~D 종교별 신자 수를 나타낸 것이다. 이에 대한 설명으로 옳은 것은? (단, A~D는 불교, 이슬람교, 크리스티교, 힌두교 중 하나임.) [3점]



- ① A는 보편 종교, B는 민족 종교로 분류된다.
- ② C는 하나의 신만을 믿는 유일신교이다.
- ③ D의 최대 성지에는 모스크와 카바 신전이 있다.
- ④ C와 D의 발상지는 서남아시아에 위치한다.
- ⑤ 전 세계 신자 수는 A>B>C>D 순으로 많다.

16. 그래프는 대륙별 도시 인구 상위 5개 국가의 도시화 특성을 나타낸 것이다. 이에 대한 설명으로 옳지 않은 것은? (단, (가)~(다)는 아시아, 아프리카, 유럽 중 하나임.) [3점]



- ① (가)는 (나)보다 세계 인구에서 차지하는 비중이 높다.
- ② (나)는 (다)보다 산업화 시작 시기가 이른다.
- ③ A는 B보다 1인당 국내 총생산(GDP)이 적다.
- ④ 중국은 인도보다 연평균 도시 인구 증가율이 낮다.
- ⑤ 15개국 중 도시 인구가 촌락 인구보다 많은 국가의 수는 절반 이상이다.

17. 다음은 세계 지리 수업 장면의 일부이다. 교사의 질문에 옳은 대답을 한 학생을 고른 것은?

(가)는 장기간의 가뭄, 과도한 방목 등이 원인이에요.

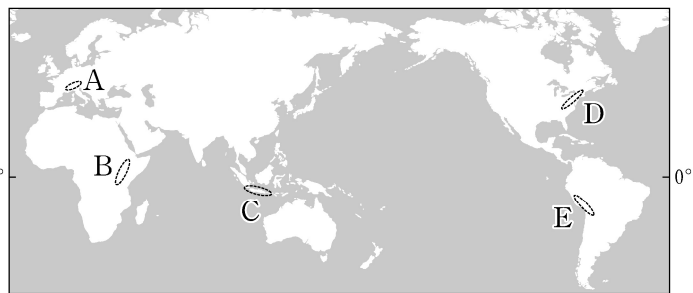
(가)로 드러난 호수 바닥 대부분을 농경지로 이용하고 있어요.

(나)의 주요 원인 중 하나로 온실 가스 증가를 들 수 있어요.

(나)에 대응하기 위해 국제 사회는 환경 보호를 위한 바젤 협약을 체결했어요.

- ① 갑, 을 ② 갑, 병 ③ 을, 병 ④ 을, 정 ⑤ 병, 정

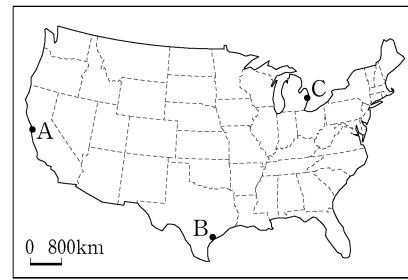
18. 지도에 표시된 A~E 지역에 대한 설명으로 옳은 것은? [3점]



- ① A에서는 새로운 지각이 지속적으로 형성되고 있다.
- ② B의 산지 대부분은 신생대 습곡 작용으로 형성되었다.
- ③ C에는 시·원생대에 조산 운동을 받은 후 침식을 받아 형성된 고원이 나타난다.
- ④ D는 두 판이 분리되는 경계로 화산 활동이 활발하다.
- ⑤ E에서는 두 판의 충돌로 형성된 높고 험준한 산지가 나타난다.

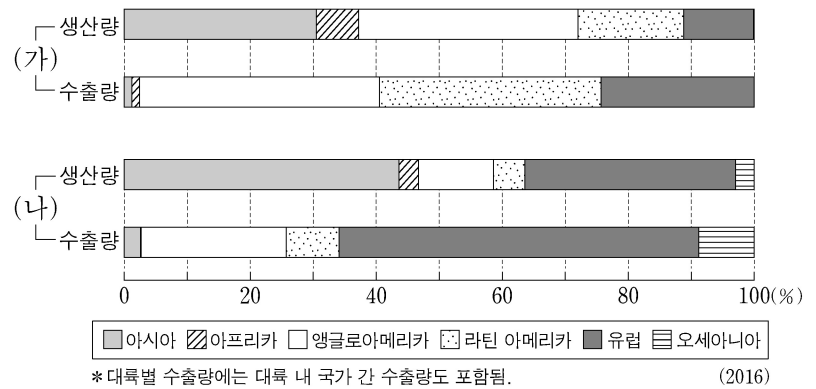
19. 다음 자료의 (가), (나)를 지도의 A~C에서 고른 것은?

- (가) 도시의 특징
- 편리한 수운과 주변의 지하자원을 바탕으로 중화학 공업 발달
 - 1900년대 초 ○○사 설립 이후 자동차 산업 성장
 - 제조업 침체 지역인 '러스트 벨트'에 위치
- (나) 도시의 특징
- 면화 집산지와 선적 항구로 발달
 - 1900년대 초 주변에서 석유가 발견된 이후 석유 화학 산업의 중심지로 성장
 - 항공 우주국을 중심으로 첨단 우주 항공 산업 발달



- | | | | | | |
|-----|-----|-----|-----|-----|-----|
| (가) | (나) | (가) | (나) | (가) | (나) |
| ① A | B | ② A | C | ③ B | A |
| ④ C | A | ⑤ C | B | | |

20. 그래프는 식량 작물 (가), (나)의 대륙별 생산량과 수출량 비중을 나타낸 것이다. 이에 대한 옳은 설명을 <보기>에서 고른 것은? (단, (가), (나)는 밀, 쌀, 옥수수 중 하나임.) [3점]



- <보 기>
- ㄱ. (가)는 대부분 아시아의 계절풍 기후 지역에서 재배된다.
 - ㄴ. (나)의 최대 생산국은 중국이다.
 - ㄷ. (가)는 (나)보다 가축의 사료로 이용되는 비중이 높다.
 - ㄹ. (가)와 (나)의 기원지는 동일한 대륙에 위치한다.

- ① ㄱ, ㄴ ② ㄱ, ㄷ ③ ㄴ, ㄷ ④ ㄴ, ㄹ ⑤ ㄷ, ㄹ

* 확인 사항

- 답안지의 해당란에 필요한 내용을 정확히 기입(표기)했는지 확인 하시오.