

제 4 교시

사회탐구 영역(사회·문화)

성명 수험 번호

1. 밑줄 친 ㉠~㉣과 같은 현상의 일반적인 특징에 대한 질문에 모두 옳게 응답한 학생은?

㉠ 바닷물에서 소금을 얻기는 의외로 까다롭다. 3.5% 정도의 염분이 들어 있는 바닷물에서 소금을 얻으려면, ㉡ 염전을 조성해야 한다. 이를 위해서는 풍부한 일조량과 적당한 ㉢ 조수 간만의 차가 필요하다. 이러한 조건들을 모두 갖춘 우리나라 서해안은 ㉣ 천일염 생산의 최적지로 유명하다.

질문	갑	을	병	정	무
㉠과 같은 현상은 개연성의 원리가 적용되는가?	×	○	×	○	○
㉡과 같은 현상은 존재 법칙의 지배를 받는가?	×	○	×	×	×
㉢과 같은 현상은 물가치적인 현상인가?	○	×	○	○	○
㉣과 같은 현상은 보편성과 특수성이 공존하는가?	○	○	×	×	○

(○: 예, ×: 아니오)

- ① 갑 ② 을 ③ 병 ④ 정 ⑤ 무

2. (가), (나)는 사회 계층화 현상을 설명하는 서로 다른 이론이다. 이에 대한 옳은 설명을 <보기>에서 고른 것은?

(가) 사회 구조 차원에서 볼 때, 부·명예·권력의 분배가 똑같은 원칙에 의해 결정되는 것은 아니다. 가령 명예의 분배는 시장의 작동 원리뿐만 아니라 사회적 관습이나 가치관에 의해서도 결정된다. 어떤 경우, 명예를 중시하는 사람들은 돈이 많다고 자랑하는 사람들을 멸시하기도 한다.
 (나) 자본주의 사회의 불평등 구조 배후에는 자본, 기계, 원료 등 생산에 필요한 물질에 대한 소유 여부가 존재한다. 이를 소유한 집단은 그들의 이익을 정당화하는 관념을 마치 사회의 보편적 가치인 것처럼 모든 구성원에게 주입한다.

—<보기>—

ㄱ. (가)는 (나)에 비해 동일한 경제적 위치에 기반한 강한 귀속 의식을 강조한다.
 ㄴ. (가)는 (나)와 달리 이분화된 불평등 구조를 설명하기에 용이하다.
 ㄷ. (나)는 (가)와 달리 지위 불일치 현상을 설명하는 데 적합하지 않다.
 ㄹ. (가), (나)는 모두 사회 불평등 현상에 경제적 요인이 작용한다고 본다.

- ① ㄱ, ㄴ ② ㄱ, ㄷ ③ ㄴ, ㄷ ④ ㄴ, ㄹ ⑤ ㄷ, ㄹ

3. 사회 집단과 사회 조직의 유형 A~E에 대한 설명으로 옳은 것은? [3점]

○ A와 B는 구성원 간의 접촉 방식에 따라 분류한 것으로 A는 구성원들이 대면 접촉을 통해 전인격적인 관계를 맺는 집단이다.
 ○ C와 D는 구성원의 결합 의지에 따라 분류한 것으로 C는 구성원의 선택 의지에 의해 결합된 집단이다.
 ○ E는 다원화된 현대 사회에서 공통 관심과 목표를 가진 사람들이 자발적으로 결성한 집단이다.

- ① A에서는 B와 달리 특정 목적을 달성하기 위한 인간관계가 주로 나타난다.
 ② D에서는 E와 달리 구성원의 가입과 탈퇴가 자유롭다.
 ③ A, D에서는 모두 형식적 인간관계가 주로 나타난다.
 ④ B, C에서는 모두 법적 제재보다 관습적 제재가 주로 적용된다.
 ⑤ 시민 단체와 이익 집단은 모두 C이면서 E에 속한다.

4. 표는 자료 수집 방법을 구분한 것이다. A~D의 일반적인 특징에 대한 설명으로 옳은 것은? (단, A~D는 각각 면접법, 실험법, 질문지법, 참여 관찰법 중 하나이다.)

질문	자료 수집 방법			
	A	B	C	D
질적 자료를 수집하는 데 용이한가?	×	○	○	×
연구 대상자와의 언어적 상호 작용이 필수적인가?	×	×	○	○

(○: 예, ×: 아니오)

- ① A는 B보다 일상생활을 심층적으로 파악하기 어렵다.
 ② B는 C보다 예상치 못한 상황에 대한 통제가 용이하다.
 ③ C는 D보다 조사 대상자로부터 깊이 있는 답변을 유도하기 어렵다.
 ④ D는 A보다 대규모 집단을 대상으로 자료를 수집하기 어렵다.
 ⑤ A, D는 B, C보다 연구자의 편견이 개입될 가능성이 크다.

5. 밑줄 친 ㉠~㉣에 대한 설명으로 옳은 것은? [3점]

'청소년의 친구 관계와 비행 간의 인과 관계'를 연구 주제로 선택한 갑은 ㉠ '비행 친구와의 교제가 많을수록 비행 경험이 많아진다.'라는 가설과 ㉡ '비행 경험이 많을수록 비행 친구와의 교제가 많아진다.'라는 서로 다른 가설을 세웠다. 갑은 전국의 고등학생 중 ㉢ 도시 지역 남학생 500명과 ㉣ 농촌 지역 여학생 500명을 무작위로 추출하여 ㉤ 자신의 비행 횟수, ㉥ 비행 경험이 있는 친구의 수 등을 포함하는 ㉦ 설문 조사를 실시하였다. 분석 결과, 두 가설 중에 후자를 수용하는 ㉧ 결론을 내렸다.

- ① ㉢과 ㉣은 모두 실험 집단이다.
 ② ㉤을 알아보기 위해 수집한 자료는 2차 자료이다.
 ③ ㉥은 ㉠ 가설의 독립 변수와 ㉡ 가설의 종속 변수를 조작적으로 정의한 것이다.
 ④ ㉦에서는 연구 대상자의 주관적 인식을 묻지 않아야 한다.
 ⑤ ㉧은 모집단을 대상으로 일반화할 수 있다.

2 사회탐구 영역 (사회·문화)

6. 다음에서 공통적으로 나타나는 사회·문화 현상의 탐구 태도에 대한 진술로 가장 적절한 것은? [3점]

- 사회학자의 임무는 어떤 사회·문화 현상에 대해 정확하게 보고하는 것이다. 사회학자의 보고에는 그의 취향이나 선호가 반영되지 않아야 한다.
- 사회학의 연구 대상은 경험한 것이나 경험할 수 있는 것에 한정되어야 한다. 또한 사회학자는 인간의 삶과 행위의 관찰 과정에서 제3자의 관점을 취해야 한다.

- ① 사회·문화 현상을 보는 관점이 다양할 수 있음을 인정해야 한다.
- ② 사회·문화 현상의 탐구 시 주관적 가치와 이해관계를 배제해야 한다.
- ③ 사회·문화 현상의 탐구 시 해당 사회의 문화적 맥락을 고려해야 한다.
- ④ 사회·문화 현상의 복잡성을 인정하고 이면의 원인 파악을 위해 노력해야 한다.
- ⑤ 사회·문화 현상에 대한 연구 결과가 사회에 미칠 수 있는 영향을 고려해야 한다.

7. 밑줄 친 ㉠~㉣에 대한 설명으로 옳은 것은? [3점]

□□영화제에서 ㉠ 신인상을 받으셨습니다. 영화계에 입문한 계기는 무엇입니까?

기자

○○대학 시절 인문학부의 ㉡ 공연 관람 동아리 활동을 통해 ㉢ 연극배우가 되겠다고 결심 하였습니다. 졸업 후, ㉣ ◇◇대학 연극학과에 합격하였지만 영화 오디션을 통해 주연으로 발탁되어 입학 을 포기하고 영화배우가 되었습니다.

영화배우 갑

올해 새로운 대중 영화에 출연하셨고 △△ 독립 영화제 ㉤ 집행 위원장까지 맡으셨는데요, 어려운 점은 없나요?

기자

독립 영화제의 홍보에 힘쓰시, 제가 출연한 영화의 홍보에 힘쓰시 ㉥ 고민이 큼니다.

영화배우 갑

- ① ㉠은 갑의 역할에 대한 보상이다.
- ② ㉠과 ㉢은 모두 공식적 사회화 기관이다.
- ③ ㉢과 ㉣은 모두 갑의 성취 지위이다.
- ④ ㉢에서 갑은 재사회화를 경험하였다.
- ⑤ ㉤은 갑의 역할 갈등이다.

8. (가), (나)에 나타난 개인과 사회의 관계를 바라보는 관점에 대한 설명으로 옳은 것은?

- (가) 사회화는 사회가 바람직하다고 여기는 행위 양식을 개인에게 내면화 시키는 과정이다. 개인은 주어진 행위 양식 이외에 다른 선택이 있다는 사실조차 인식하지 못한다. 사회 속 개인의 어떠한 행위 양식도 개인이 스스로 만들어 내는 경우는 없다.
- (나) 사회화는 단순히 정보를 받아들이는 일방적인 과정이 아니라, 자신의 상황에 따라 외부의 대상을 재구성하고 그것에 의미를 부여하는 동적인 과정이다. 대상은 현실 세계에 객관적으로 존재하는 것처럼 보이지만, 정작 실재하는 것은 개별 행위자들이 대상에 부여하는 다양한 의미이다.

- ① (가)의 관점은 사회가 개인의 외부에서 독자적으로 작동한다고 본다.
- ② (나)의 관점은 개인이 사회에 의해 구조화된 행동을 한다고 본다.
- ③ (가)의 관점은 (나)의 관점과 달리 사회 현상은 개인의 자율적인 의지에 의해 만들어진다고 본다.
- ④ (나)의 관점은 (가)의 관점과 달리 개인은 사회 속에서만 존재 의미를 가질 수 있다고 본다.
- ⑤ (가), (나)의 관점은 모두 개인의 자율성이 사회 규범의 구속성 보다 우선한다고 본다.

9. 밑줄 친 ㉠~㉣에 나타난 문화의 속성에 대한 옳은 설명을 <보기>에서 고른 것은?

갑국의 ○○는 면발을 물에 끓여 먹던 △△에서 유래한 것이다. ○○는 ㉠ 기름에 튀겨 면발을 가공하는 기술이 △△에 접목되어 새롭게 만들어진 것이다. ㉡ 쌀 위주의 식생활을 하는 갑국에서 밀가루 음식인 ○○가 처음에는 국민들의 관심을 끌지 못했다. 그러나 국민들은 ○○를 ㉢ 간편하게 먹을 수 있다는 것을 알게 되었고, 갑국 정부는 쌀 부족으로 인한 식량 문제를 해결하기 위해 분식을 장려하였다. 이제 ○○는 ㉣ 국민 대다수가 즐겨 먹는 음식이 되었다.

- <보기> —
- ㄱ. ㉠은 전승된 문화를 바탕으로 새로운 문화가 창출된다는 것을 보여 준다.
 - ㄴ. ㉢은 문화가 후천적으로 습득된다는 것을 보여 준다.
 - ㄷ. ㉣은 ㉠과 달리 문화 현상이 고정된 것이 아니라 지속적으로 변화함을 보여 준다.
 - ㄹ. ㉠, ㉣은 모두 문화가 구성원의 사고와 행동을 구속한다는 것을 보여 준다.

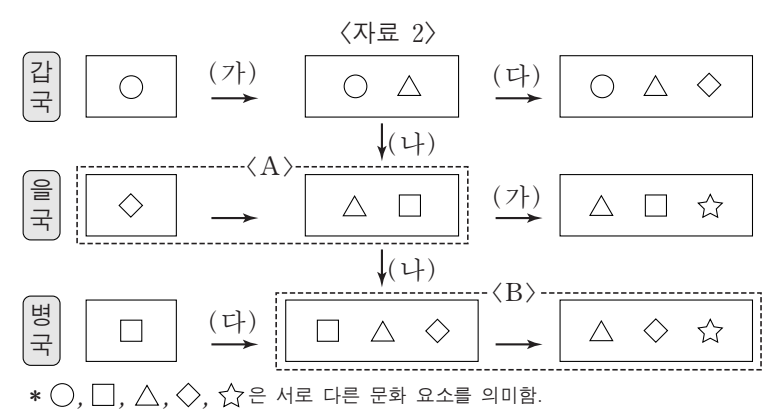
- ① ㄱ, ㄴ ② ㄱ, ㄷ ③ ㄴ, ㄷ ④ ㄴ, ㄹ ⑤ ㄷ, ㄹ

10. 다음 자료에 대한 옳은 분석만을 <보기>에서 있는 대로 고른 것은? [3점]

<자료 1>은 문화 변동의 요인을 (가)~(다)로 분류한 것이며, <자료 2>는 갑~병국의 문화 변동 과정을 도식화한 것이다. 단, (가)~(다)는 각각 발견, 발명, 직접 전파 중 하나이며, 제시된 것 이외의 다른 문화 변동은 없다.

<자료 1>

질문	문화 변동의 요인	(가)	(나)	(다)
문화 변동의 내재적 요인인가?		예	아니요	예
존재하지 않았던 새로운 문화 요소를 만들어 내었는가?		아니요	아니요	예



- <보기> —
- ㄱ. A, B에는 모두 문화 요소의 추가 및 소멸 과정이 포함되어 있다.
 - ㄴ. 갑국에서 발명으로 나타난 문화 요소는 병국에서도 나타났다.
 - ㄷ. 갑국에서 (가)로 인해 나타난 문화 요소는 (나)로 인해 병국으로 전달되었다.
 - ㄹ. 을국에는 병국에서와 달리 자국의 문화 요소와 갑국의 문화 요소가 공존하고 있다.

- ① ㄱ, ㄴ ② ㄱ, ㄹ ③ ㄷ, ㄹ
④ ㄱ, ㄴ, ㄷ ⑤ ㄴ, ㄷ, ㄹ

11. (가), (나)의 사례에 대한 설명으로 옳은 것은?

(가) 인터넷 및 스마트폰의 보급으로 누구나 온라인 게임을 손쉽게 접할 수 있게 되었다. 이제 온라인 게임은 청소년뿐만 아니라 중장년층 및 노년층까지 전 세대가 즐기는 대중적 문화가 되었다.
 (나) 최근 청소년들은 그들끼리만 통하는 언어를 사용한다. 인터넷 용어를 축약하여 표현하거나, 자음만으로 의사를 표현하는 등의 방법으로 신조어와 은어를 만들어 사용한다. 기성세대가 청소년들의 언어문화를 이해하지 못하여, 세대 간 의사소통의 장애가 발생하고 있다.

- ① (가)에서는 물질문화 변동으로 인해 하위문화가 전체 문화로 변화되었다.
- ② (나)에서는 하위문화로 인해 세대 문화 간의 이질성이 약화되었다.
- ③ (가)는 (나)와 달리 문화 지체 현상을 포함하고 있다.
- ④ (나)는 (가)와 달리 반문화의 범위가 확장된 사례이다.
- ⑤ (가), (나)는 모두 특정 집단의 문화가 기존의 주류 문화를 대체한 사례이다.

12. 다음과 같이 A~C를 분류할 때, 이에 대한 옳은 설명을 <보기>에서 고른 것은? (단, A~C는 각각 농업 사회, 산업 사회, 정보 사회 중 하나이다.) [3점]

질문	사회	A	B	C
1차 산업 중심의 전통적인 사회인가?	(가)	(가)	(나)	(다)
(라)	아니오	예	아니오	


— <보기> —
 가. (가)가 '예' 라면, 가정과 일터의 분리 정도는 A<B로 나타난다.
 나. (다)가 '예' 라면, 구성원 간의 비대면 접촉 정도는 A<C로 나타난다.
 다. (가)가 '예', (라)가 '양방향 미디어가 보편적으로 사용되는 사회인가?' 라면, 전자 상거래 비중은 B>C로 나타난다.
 르. (다)가 '예', (라)가 '업무의 표준화 방식이 보편화되기 시작하였는가?' 라면, 기술 발전의 속도는 A<B로 나타난다.

- ① 가, 나 ② 가, 다 ③ 나, 다 ④ 나, 르 ⑤ 다, 르
13. 다음 대화에 나타난 갑, 을의 일탈 이론에 대한 설명으로 옳은 것은? [3점]


통계에 따르면, 범죄자의 다수는 하루 계층 출신인 것으로 나타났습니다. 이에 대한 의견을 말씀해 주십시오.

누구나 물질적 풍요를 원하지만 하루 계층 사람들은 상류 계층에 비해서 제도적 수단이 부족하여 불법적 수단을 더 많이 선택하기 때문입니다.


하류 계층 사람들의 행동에 대한 부정적 인식과 그에 따른 사회적 반응의 결과라고 생각합니다. 하루 계층의 행동을 더 위험하게 생각하여 범죄로 규정할 가능성이 크기 때문입니다.



사회자



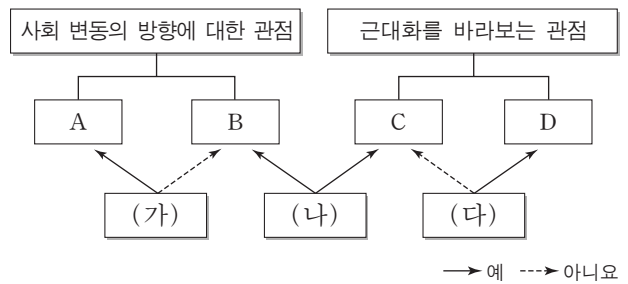
갑



을

- ① 갑의 이론은 일탈 행동이 타인과의 상호 작용에서 비롯된다고 본다.
- ② 을의 이론은 부정적 자아가 형성되어 일탈 행동이 반복된다고 본다.
- ③ 갑의 이론은 을의 이론과 달리 일탈 행동을 미시적 관점에서 바라보고 있다.
- ④ 을의 이론은 갑의 이론과 달리 일탈을 규정하는 객관적 기준이 존재한다고 본다.
- ⑤ 갑, 을의 이론 모두 일탈 행동에 대한 대책으로 강력한 사회 통제를 강조한다.

14. 그림은 사회 변동에 대한 관점 A~D를 구분한 것이다. 이에 대한 옳은 설명만을 <보기>에서 있는 대로 고른 것은? (단, A~D는 각각 근대화론, 순환론, 종속 이론, 진화론 중 하나이다.)



— <보기> —
 가. (가)가 '사회가 일정한 양상을 반복하면서 변동한다고 보는가?' 라면, B는 A와 달리 미래를 예측하는 데 적합하다.
 나. (나)가 '서구 중심적이라는 비판을 받는가?' 라면, (다)에는 '후진국 저발전의 원인을 외부에서 찾는가?' 가 적절하다.
 다. B가 진화론이라면, (가)에는 '사회 발전을 단순한 사회에서 복잡한 사회로의 변동으로 보는가?' 가 적절하다.
 르. C가 근대화론이라면, (다)에는 '선진국과 후진국 간의 불평등한 역학 관계에 주목하는가?' 가 적절하다.

- ① 가, 나 ② 가, 다 ③ 다, 르
- ④ 가, 나, 르 ⑤ 나, 다, 르

15. 다음 자료에 대한 옳은 분석만을 <보기>에서 있는 대로 고른 것은? [3점]

표는 갑국의 종교별 신도 현황 중 일부를 나타낸 것이다. 갑국의 전체 인구는 2,000만 명이다. 단, 갑국에는 종교가 A, B종교 이외에 없으며, 두 종교를 동시에 믿는 사람은 없다.

(단위: %)

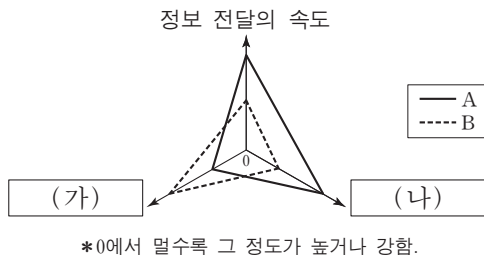
구분	남성 신도	여성 신도	전체 신도
A종교	25.0	25.0	25.0
B종교	12.5	25.0	20.0

*남성(여성) 신도 비율 = $\frac{\text{해당 종교를 믿는 남성(여성) 인구}}{\text{남성(여성) 인구}} \times 100$
 **전체 신도 비율 = $\frac{\text{해당 종교를 믿는 인구}}{\text{전체 인구}} \times 100$

— <보기> —
 가. 종교를 가진 인구보다 종교를 가지지 않은 인구가 많다.
 나. A종교를 믿는 전체 인구 중 남성 신도가 차지하는 비율은 25%이다.
 다. B종교를 믿는 여성 인구는 B종교를 믿는 남성 인구의 3배이다.
 르. A종교를 믿는 남성 인구와 B종교를 믿는 여성 인구는 같다.

- ① 가, 다 ② 가, 르 ③ 나, 르
- ④ 가, 나, 다 ⑤ 나, 다, 르

16. 그림은 대중 매체 A, B의 일반적인 특징을 비교한 것이다. 이에 대한 옳은 설명을 <보기>에서 고른 것은? (단, A, B는 각각 인쇄 매체, 뉴미디어 중 하나이다.) [3점]



- <보기> —
- ㄱ. A는 B보다 정보 확산의 시·공간적 제약이 크다.
 - ㄴ. B는 A보다 정보 생산자와 소비자 간의 경계가 뚜렷하다.
 - ㄷ. (가)에는 '정보 전달자와 수용자 간의 상호 작용성'이 적절하다.
 - ㄹ. (나)에는 '정보 재가공의 용이성'이 적절하다.

- ① ㄱ, ㄴ ② ㄱ, ㄷ ③ ㄴ, ㄷ ④ ㄴ, ㄹ ⑤ ㄷ, ㄹ

17. 우리나라 사회 보장 제도 A, B의 일반적 특징에 대한 설명으로 옳은 것은?

- 2008년 7월부터 시행된 이 제도는 A의 하나로서, 국민 건강 보험 가입자 또는 그 피부양자 가운데 고령이나 노인성 질병 등으로 일상생활을 혼자서 수행하기 어려운 사람들에게 신체 활동 또는 가사 활동 지원 등의 장기 요양 급여를 판정 등급에 따라 제공한다.
- 2014년 7월부터 시행된 이 제도는 B의 하나로서, 국민연금의 혜택을 충분히 누리지 못하고 빈곤을 겪고 있는 노인을 위해 마련되었다. 만 65세 이상이며, 가구의 소득 인정액이 기준액 이하인 사람들을 수혜 대상으로 한다.

- ① A는 B에 비해 빈곤층 자활 지원의 성격이 강하다.
- ② A는 B와 달리 국가와 지방자치단체가 비용을 전액 부담하는 것을 원칙으로 한다.
- ③ B는 A에 비해 소득 재분배 효과가 크다.
- ④ B는 A에 비해 사전 예방적 성격이 강하다.
- ⑤ A, B는 모두 수혜자 부담의 원칙이 적용된다.

18. 표에 대한 분석으로 옳지 않은 것은? [3점]

<갑국의 경력 단절 여성 규모와 사유>

(단위: %)

구 분	2011년	2012년	2013년	2014년	2015년	
15~64세 기혼 여성 인구 변화율	0	2	-2	0	0	
경력 단절 여성 비율	20	20	20	20	20	
경력 단절 사유	결혼	47	46	45	40	37
	임신·출산	20	24	21	20	24
	육아	25	26	30	31	32
	기타	8	4	4	9	7
	합계	100	100	100	100	100

* 15~64세 기혼 여성 = $\frac{(\text{당해 연도 15~64세 기혼 여성 수}) - (\text{전년도 15~64세 기혼 여성 수})}{\text{전년도 15~64세 기혼 여성 수}} \times 100$
 ** 경력 단절 여성 비율 = $\frac{\text{경력 단절 여성 수}}{\text{15~64세 기혼 여성 수}} \times 100$

- ① 15~64세 기혼 여성의 수는 2012년이 2013년보다 많다.
- ② 경력 단절 여성의 수는 2011년이 2015년보다 많다.
- ③ 결혼으로 인한 경력 단절 여성의 비율은 줄어들고 있다.
- ④ 임신·출산으로 인한 경력 단절 여성의 수는 2011년이 2014년보다 적다.
- ⑤ 육아로 인한 경력 단절 여성의 수가 가장 많은 해는 2015년이다.

19. 사회·문화 현상을 바라보는 A~C의 관점에 대한 옳은 설명을 <보기>에서 고른 것은? (단, A~C는 각각 기능론, 갈등론, 상징적 상호 작용론 중 하나이다.)

학교와 학교 교육에 대한 서로 다른 관점이 존재한다. A의 관점은 C의 관점과 달리 학교 교육은 사회적 합의에 기초한 지배적 가치를 다양한 집단의 구성원들에게 전수하여 사회 질서 유지에 기여한다고 본다. B의 관점은 A, C의 관점과 달리 능동적 존재로서의 학생들이 학교와 학교 교육에 대해 부여하는 다양한 의미와 그 해석에 주목한다.

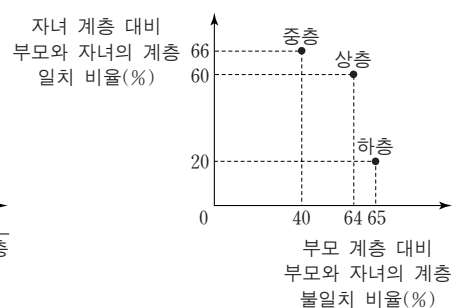
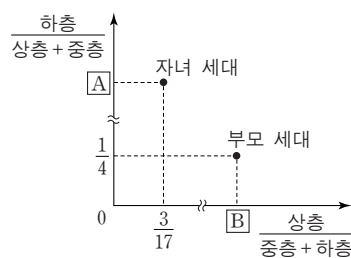
- <보기> —
- ㄱ. A의 관점은 학교 교육이 지배 집단의 가치를 전수시킨다고 본다.
 - ㄴ. B의 관점은 학교 교육에 대한 교사와 학생의 상황 정의에 주목한다.
 - ㄷ. C의 관점은 학교 교육이 사회에서 필요한 인력을 적재적소에 배치하는 데 기여한다고 본다.
 - ㄹ. A, C의 관점은 거시적, B의 관점은 미시적 관점으로 분류할 수 있다.

- ① ㄱ, ㄴ ② ㄱ, ㄷ ③ ㄴ, ㄷ ④ ㄴ, ㄹ ⑤ ㄷ, ㄹ

20. 다음 자료는 갑국의 세대 간 계층 이동 현황을 나타낸 것이다. 이에 대한 분석으로 옳은 것은?

<세대별 계층의 상대적 비율>

<세대 간 계층 이동 현황>



* 모든 부모의 자녀는 1명이고, 갑국의 계층은 상층, 중층, 하층으로만 구분한다.
 ** 부모 세대 상층에서 자녀 세대 중층으로 이동한 인구는 부모 세대 상층에서 자녀 세대 하층으로 이동한 인구는 같다.

- ① 세대 간 계층 유지 비율이 이동 비율보다 크다.
- ② 부모 세대 하층 대비 부모와 자녀가 모두 하층인 비율은 A보다 작다.
- ③ 부모 세대 중층 대비 부모 세대가 중층이고 자녀 세대가 하층인 비율은 B보다 작다.
- ④ 자녀 세대 계층 대비 부모와 자녀의 계층 불일치 비율은 상층이 가장 크다.
- ⑤ 부모 세대 상층에서 자녀 세대 하층으로 이동한 인구는 부모 세대 하층에서 자녀 세대 중층으로 이동한 인구보다 많다.

* 확인 사항
 ○ 답안지의 해당란에 필요한 내용을 정확히 기입(표기)했는지 확인하십시오.