


제 4 교시

사회탐구 영역(사회·문화)

성명 수험 번호

1. 밑줄 친 ㉠~㉣과 같은 현상의 일반적 특징에 대한 옳은 설명을 <보기>에서 고른 것은?



— <보기> —

ㄱ. ㉠과 같은 현상은 특수성을 지닌다.
 ㄴ. ㉡과 같은 현상은 인간의 의지가 개입되어 나타난다.
 ㄷ. ㉢과 같은 현상은 ㉣과 같은 현상에 비해 인과 관계가 분명하다.
 ㄹ. ㉣과 같은 현상은 ㉢과 같은 현상과 달리 확실성의 원리를 따른다.

- ① ㄱ, ㄴ ② ㄱ, ㄷ ③ ㄴ, ㄷ ④ ㄴ, ㄹ ⑤ ㄷ, ㄹ

2. (가), (나)에 나타난 사회·문화 현상을 보는 서로 다른 관점에 대한 설명으로 가장 적절한 것은?

(가) 사랑하는 사람들이 빨간 장미 꽃다발을 주고받는 이유는 무엇일까요? 연인에게 빨간 장미는 단순히 꽃이 아니라 꽃말에 담겨 있는 열정적 사랑을 전하는 상징물이기 때문입니다.
 (나) 우리가 선물을 받았을 경우 상대방에게 답례를 하는 이유는 무엇일까요? 답례를 함으로써 선물을 한 사람이 일방적으로 손해를 본다는 마음을 갖지 않도록 해야만 그 관계가 지속될 수 있기 때문입니다.

- ① (가)에서는 개인과 개인 간의 관계가 비용과 보상을 고려한 합리적 선택을 통해 이루어진다고 본다.
 ② (나)에서는 개인과 개인 간의 관계가 의미와 해석을 공유하는 과정을 통해 형성된다고 본다.
 ③ (가)에서는 인간이 의미를 추구하는 존재임을, (나)에서는 인간이 이익을 추구하는 존재임을 가정한다.
 ④ (가)에서는 전략적 사고에 기반한 인간 관계에, (나)에서는 상항 정의를 매개로 한 인간 관계에 주목한다.
 ⑤ (가), (나) 모두에서는 인간의 자율성과 능동성을 간과한다.

3. 다음 사례에 대한 옳은 설명을 <보기>에서 고른 것은?

- 교사라는 꿈을 실현한 갑은 학교에 처음 도입된 '스마트 교실'의 운영을 위해 퇴근 후 교육연수원에서 연수를 받고 있다. 그런데 부모님의 갑작스러운 입원으로 연수를 그만두어야 할지 고민 중이다.
- 직장 생활에 만족하지 못하는 회사원 을은 요리사의 꿈을 실현하고자 매일 퇴근 후 요리 학원을 다니며 한식 조리사 자격증을 준비하고 있다. 하지만 아내가 반대하여 학원을 그만두어야 할지 고민 중이다.

— <보기> —

ㄱ. 갑은 공식적 사회화 기관에서 재사회화를 경험하고 있다.
 ㄴ. 을은 비공식적 사회화 기관에서 예기 사회화를 경험하고 있다.
 ㄷ. 을은 갑과 달리 소속 집단과 준거 집단이 일치하지 않는다.
 ㄹ. 갑, 을 모두 서로 다른 성취 지위 사이에서 역할 갈등을 경험하고 있다.

- ① ㄱ, ㄴ ② ㄱ, ㄷ ③ ㄴ, ㄷ ④ ㄴ, ㄹ ⑤ ㄷ, ㄹ

4. 밑줄 친 ㉠~㉣에 대한 옳은 설명을 <보기>에서 고른 것은? [3점]

○ 연구 주제: 고등학생의 스포츠 활동과 행복 간의 관계 연구
 ○ 연구 가설: ㉠ 스포츠 활동 참여도가 고등학생의 생활 만족도에 긍정적인 영향을 미칠 것이다.
 ○ 자료 수집
 • 조사 대상: ㉡ A 지역 남자 고등학생 1,000명
 • 조사 내용: ㉢ 학교 생활 만족도, 교우 관계 만족도, 주당 스포츠 활동 참여 시간
 • 자료 수집 방법: ㉣ 질문지법
 ○ 자료 분석 결과

주당 스포츠 활동 참여 시간	만족도 평균(5점 만점)	
	학교 생활	교우 관계
2시간 미만	3.4	3.2
2시간 이상 ~ 5시간 미만	4.1	4.1
5시간 이상	4.6	4.7

— <보기> —

ㄱ. ㉠은 독립 변수이다.
 ㄴ. ㉡은 모집단의 특성을 대표한다.
 ㄷ. ㉢은 독립 변수와 종속 변수에 대한 조작적 정의에 해당한다.
 ㄹ. ㉣에서는 연구 대상의 주관적 인식을 묻지 않아야 한다.

- ① ㄱ, ㄴ ② ㄱ, ㄷ ③ ㄴ, ㄷ ④ ㄴ, ㄹ ⑤ ㄷ, ㄹ

5. (가), (나)에 나타난 개인과 사회의 관계를 보는 관점에 대한 설명으로 가장 적절한 것은?

(가) 사회는 개인의 외부에 존재한다. 개인은 각자의 사회적 역할을 수행하면서 사회 유지와 발전에 기여한다.
 (나) 개인이 없으면 사회도 없다. 개인의 권리와 안전을 지키기 위해 개개인이 합의하여 만든 것이 사회이다.

- ① (가)에서는 사회가 개인의 총합 이상이라고 본다.
- ② (가)에서는 개인의 속성이 사회의 속성을 결정한다고 본다.
- ③ (나)에서는 사회가 발전하면 개인도 발전한다고 본다.
- ④ (나)에서는 개인이 사회에 의해 구조화된 행동을 한다고 본다.
- ⑤ 사회 문제 해결을 위해 (가)에서는 개인의 의식 개선, (나)에서는 사회 제도의 개혁을 강조한다.

6. 일탈 행동 이론 (가), (나)에 대한 설명으로 옳은 것은? [3점]

(가) 누구나 일탈 행동을 할 수는 있지만, 그들 모두가 일탈자가 되는 것은 아니다. 누군가의 일탈 행동이 알려지게 되어 사람들이 그를 일탈자로 대하면, 그 역시 스스로를 일탈자로 받아들이게 된다.
 (나) 일탈 행동도 사회화 과정을 거친다. 일탈 행동은 일탈자들과 빈번히 만나 의사소통하면서 학습된다. 단지 일탈 행동뿐만 아니라 그 행동을 정당화하는 가치와 태도까지 내면화하게 된다.

- ① (가)는 차별적 교제를 일탈 행동의 원인으로 강조한다.
- ② (가)는 일탈 행동 자체보다는 그에 대한 사회의 반응에 주목한다.
- ③ (나)는 무규범 상태를 일탈 행동의 원인으로 강조한다.
- ④ (나)는 일탈 행동을 규정하는 합의된 기준이 없다고 본다.
- ⑤ (가), (나) 모두 일탈 행동에 대한 대책으로 강력한 사회 통제를 강조한다.

7. 다음은 갑의 일기이다. 밑줄 친 ㉠~㉣에 대한 설명으로 옳은 것은? [3점]

○월 ○일

방학한 지 3일째, 운종일 바빴다. 오전에는 ㉠ ☆☆고등학교에서 운영하는 논술 특강을 들었고, 오후에는 ㉡ 교내 댄스 동아리 모임에서 공연 연습을 하였다. 저녁에는 청소년 인권 관련 ㉢ 시민 단체가 주최하는 인권 영화제에 ㉣ 가족과 함께 다녀왔다.
 나름 뿌듯한 하루~

- ① ㉠은 구성원들의 선택 의지에 따라 형성된 1차 집단이다.
- ② ㉡은 공동 사회이면서 자발적 결사체이다.
- ③ ㉢은 공익을 추구하는 이익 사회이다.
- ④ ㉠, ㉢ 모두 비공식 조직이면서 갑의 내집단이다.
- ⑤ ㉡, ㉣ 모두 친밀감을 바탕으로 형성된 2차 집단이다.

8. 밑줄 친 ㉠~㉣에 대한 설명으로 옳은 것은?

인도네시아 토라자 부족은 ㉠ 대부분의 사회와 마찬가지로 부모가 죽으면 고인을 떠나보내는 의식을 치른다. 그런데 이 부족의 ㉡ 장례 문화에는 독특한 점이 있다. ㉢ 장례식을 치를 때 물소를 잡는 고유한 풍습이 있다는 점이다. 부족 사람들에게 물소는 고인이 저세상으로 갈 때 타고 가는 교통수단이라는 의미인 동시에 저세상에서의 편안한 생활을 보장해주는 재산으로 여겨진다. 만약 ㉣ 죽은 자의 자녀들이 물소를 잡지 않으면 그들은 부족 사회에서 지탄의 대상이 된다. 한편 장례식에서 부족 사람들은 ㉤ 고인의 가족과 화해하는 의식을 가지는데, 이 의식은 부족 사회의 결속력을 높이는 데 중요한 역할을 한다.

- ① ㉠은 문화가 개별 사회마다 고유한 특수성을 지니고 있음을 보여 준다.
- ② ㉡에서의 '문화'는 청소년 문화에서의 '문화'와 달리 좁은 의미로 사용된 것이다.
- ③ ㉢은 문화 현상이 고정된 것이 아니라 지속적으로 변화함을 보여 준다.
- ④ ㉣은 문화란 한 사회의 구성원이 함께 향유하는 생활양식임을 보여 준다.
- ⑤ ㉤은 구성원의 욕구 충족을 위한 기술이나 도구에 해당하는 문화 요소이다.

9. 다음은 어느 모둠이 제출한 연구 계획서와 그에 대한 교사의 평가이다. 밑줄 친 ㉠에 해당하는 내용으로 적절한 것을 <보기>에서 고른 것은? [3점]

<연구 계획서>

◇◇모둠

이 연구에서는 결혼 이후 여성의 여가 생활 현황에 대해 알아보고자 한다. 이를 위해 다문화 지원 센터를 방문하여 결혼 이후 여성을 면접할 수 있는지를 소장에게 확인할 것이다. 그리고 그날 센터를 방문한 결혼 이후 여성 모두에게 연구 목적과 방법을 설명한 후, 그들 전부를 대상으로 별도의 공간에서 한 명씩 면접할 것이다. 면접 자료를 분석할 때는 연구의 타당성 확보를 위해 면접 내용 중 연구자가 기대한 것과 다른 내용이 있더라도 수정하지 않고 그대로 분석에 반영할 것이다. 연구 보고서를 제출할 때는 연구의 신뢰성 확보를 위해 연구 대상의 이름을 밝힐 것이다.

<교사의 평가>

연구 계획서를 성실하게 작성했네요. 그런데 이 계획서에는 연구 윤리 측면에서 몇 가지 ㉠ 문제점이 있어요. 실제 연구를 수행할 때는 이 점을 보완해 주세요.

—<보기>—

㉠. 연구 대상에게 연구 관련 정보를 사전에 제공하지 않는다.
 ㉡. 연구 대상에게 면접 참여에 대한 동의를 구하는지가 드러나지 않는다.
 ㉢. 자료를 분석할 때 연구자가 가치 중립적 태도를 지키지 않는다.
 ㉣. 연구 결과를 보고할 때 연구 대상의 익명성을 보장하지 않는다.

- ① ㉠, ㉡ ② ㉠, ㉢ ③ ㉡, ㉣ ④ ㉡, ㉣ ⑤ ㉢, ㉣

10. 다음 사례에 대한 옳은 설명을 <보기>에서 고른 것은? [3점]

- A국이 B국을 정복하여 문화 이식 정책을 시행한 결과, B국에서는 A국 언어가 널리 쓰이게 되면서 B국 언어를 더 이상 사용하지 않게 되었다.
- A국에 유학하여 A국 언어를 학습한 C국의 상류층 자녀들은 귀국 후에도 A국 언어를 사용하였다. 이후 A국 언어가 확산되면서 C국에서는 A국 언어도 널리 쓰이게 되었다.

————— < 보 기 > —————

ㄱ. B국에서는 외재적 요인에 의한 문화 변동이 일어났다.
 ㄴ. C국에서는 강제적 문화 접변이 나타났다.
 ㄷ. B국에서는 문화 동화, C국에서는 문화 공존이 나타났다.
 ㄹ. B국에서는 직접 전파, C국에서는 간접 전파로 인한 문화 변동이 일어났다.

- ① ㄱ, ㄴ ② ㄱ, ㄷ ③ ㄴ, ㄷ ④ ㄴ, ㄹ ⑤ ㄷ, ㄹ

11. 사회 불평등 현상을 보는 관점 A, B에 대한 설명으로 옳은 것은? [3점]

구분	관점 A	관점 B
사회 불평등 현상의 발생 원인은 무엇인가?	사회적 역할의 중요도에 따른 보상의 차등 분배	(가)
희소가치의 배분 방식은 어떻게 결정되는가?	(나)	권력 유지를 위한 기득권 집단의 결정

- ① A는 사회 불평등 현상이 지배와 피지배 관계에서 비롯된다고 본다.
- ② B는 사회 불평등 현상을 불가피한 것으로 본다.
- ③ A는 B와 달리 개인의 성취동기가 지위 변동에 미치는 영향력을 간과한다는 한계가 있다.
- ④ (가)에는 '개인의 능력 차이에 따른 보상의 차등 분배'가 적절하다.
- ⑤ (나)에는 '사회의 효율적 운영을 위한 사회 구성원의 합의'가 적절하다.

12. 표는 산업 사회와 정보 사회의 특징을 비교한 것이다. (가), (나)에 들어갈 내용으로 옳은 것은? (단, 산업 사회와 정보 사회는 각각 A와 B 중 하나이다.)

비교 기준	비교 결과
지식·정보·서비스 산업의 비중	A > B
(가)	A < B
(나)	A > B

- | | |
|----------------|---------------|
| (가) | (나) |
| ① 정보 격차 정도 | 관료제 조직의 비중 |
| ② 면대면 소통의 비중 | 전자 상거래의 비중 |
| ③ 사생활 침해의 가능성 | 가정과 일터의 통합 정도 |
| ④ 소품종 대량 생산 비중 | 업무 방식의 표준화 정도 |
| ⑤ 사이버 일탈 행동 빈도 | 의사 결정의 분권화 정도 |

13. 문화 이해의 태도 (가)~(다)에 대한 설명으로 옳은 것은?

자기 문화와 다른 문화를 대할 때 (가)은/는 해당 문화의 관점에서 그 의미와 가치를 파악하려고 노력한다. 이와 달리 (나)은/는 자기 문화의 관점을 내세워 다른 문화가 지닌 가치를 낮게 평가한다. 한편, (다)은/는 다른 문화를 우월하게 보고 자기 문화의 가치를 평가절하한다.

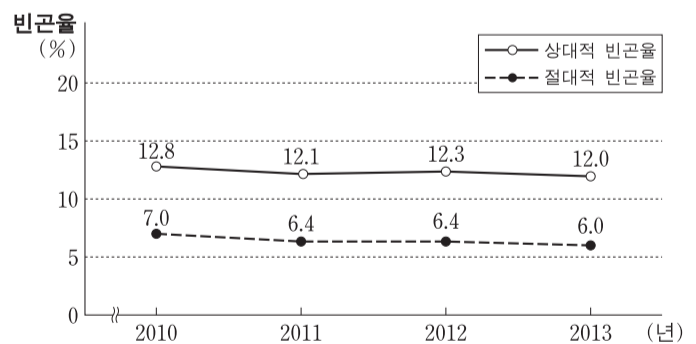
- ① (가)는 문화 다양성 유지를 용이하게 한다.
- ② (나)는 다른 문화의 수용에 적극적이다.
- ③ (다)는 자기 문화의 주체성 형성에 도움이 된다.
- ④ (나), (다) 모두 모든 문화의 고유한 가치를 존중한다.
- ⑤ (가)는 (나), (다)와 달리 문화를 평가의 대상으로 간주한다.

14. (가), (나)에 나타난 사회적 소수자에 대한 내용으로 옳지 않은 것은?

(가) 갑은 자국에서는 대학을 졸업한 우수한 인재로 대접받았지만, A국에서는 이주 노동자로서 차별을 당하고 있다.
 (나) B국에서는 흑인이 인구의 다수를 차지하지만, 권력을 독점한 소수의 백인이 흑인의 공직 참여 기회를 제한하고 있다.

- ① (가)는 역차별에 의해 사회적 소수자가 나타남을 보여 준다.
- ② (가)는 특정 사회의 사회적 소수자가 다른 사회에서는 사회적 소수자가 아닐 수 있음을 보여 준다.
- ③ (나)는 사회적 소수자가 사회적으로 불평등한 대우를 받고 있음을 보여 준다.
- ④ (나)는 사회적 소수자가 집단의 크기에 의해 결정되는 것은 아님을 보여 준다.
- ⑤ (가), (나) 모두 특정 집단이 주류 집단과 다른 특성을 보인다는 이유로 사회적 소수자가 될 수 있음을 보여 준다.

15. 자료는 갑국의 빈곤율을 나타낸 것이다. 이에 대한 분석으로 옳은 것은? (단, 갑국 모든 가구의 구성원 수는 동일하다.) [3점]



* 상대적 빈곤율(%): 전체 가구 중 상대적 빈곤 가구(가구 소득이 중위 소득의 50% 미만인 가구)의 비율
 ** 절대적 빈곤율(%): 전체 가구 중 절대적 빈곤 가구(가구 소득이 최저 생계비 미만인 가구)의 비율
 *** 중위 소득: 전체 가구를 소득순으로 나열했을 때 한 가운데 위치한 가구의 소득

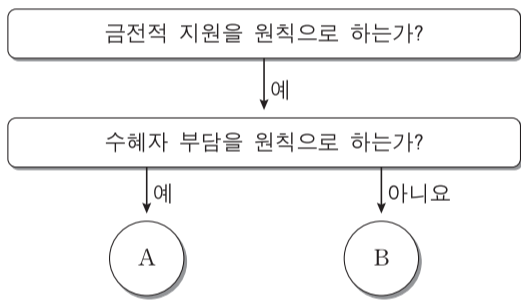
- ① 2010년에 상대적 빈곤 가구는 모두 절대적 빈곤 가구이다.
- ② 2011년에 상대적 빈곤 가구의 인구는 절대적 빈곤 가구의 인구보다 2배 이상 많다.
- ③ 전년과 대비하여 2012년에 상대적 빈곤 가구의 수는 증가했고 절대적 빈곤 가구의 수는 변함이 없다.
- ④ 2013년에 중위 소득은 같은 해 최저 생계비의 2배이다.
- ⑤ 제시된 모든 연도에서 중위 소득 대비 최저 생계비의 비율은 50% 미만이다.

16. 가족을 보는 갑, 을의 관점에 부합하는 설명으로 옳은 것은?



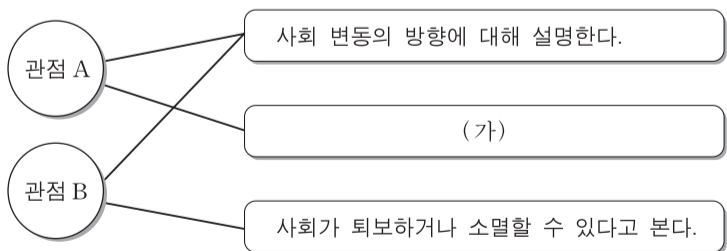
- ① 갑은 가족 내 구성원 간의 갈등을 자연스럽게 정상적인 현상으로 이해한다.
- ② 갑은 불평등한 가족 관계가 가족 구성원의 사회화를 통해 고착화된다고 본다.
- ③ 을은 안정적인 가족 관계를 위해 가족 내의 성별 분업이 필요하다고 본다.
- ④ 을은 가족 구성원이 역할을 제대로 수행하지 못해서 가족 문제가 발생한다고 본다.
- ⑤ 갑, 을 모두 가족 제도를 사회 구조와 연관하여 본다.

17. 자료는 우리나라 사회 보장 제도의 세 가지 유형 중에서 A, B 두 가지 유형을 분류한 것이다. 이에 대한 설명으로 옳은 것은?



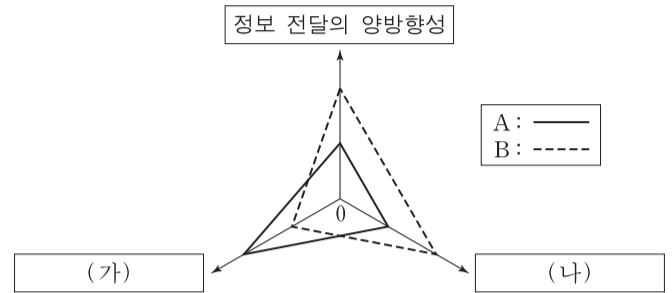
- ① A는 대상자가 수혜 정도에 따라 복지 비용을 부담한다.
- ② A는 B에 비해 사후 처방의 성격이 강하다.
- ③ A는 B와 달리 의무 가입을 원칙으로 한다.
- ④ B는 A와 달리 소득 재분배 효과가 있다.
- ⑤ B는 A에 비해 상호 부조의 성격이 강하다.

18. 자료는 사회 변동을 보는 관점 A, B의 공통점과 차이점을 나타낸 것이다. 이에 대한 설명으로 옳은 것은? (단, A와 B는 각각 진화론과 순환론 중 하나이다.) [3점]



- ① A는 사회 변동의 유형이 사회마다 다르다고 본다.
- ② A는 과거의 사회 변동만을 설명한다는 비판을 받고 있다.
- ③ B는 사회 변동에 의해 사회가 더 복잡하게 분화한다고 본다.
- ④ B는 서구 중심적 사고라는 비판을 받고 있다.
- ⑤ (가)에 들어갈 내용으로 '사회 변동이 곧 발전이나 진보를 의미한다고 본다.'가 적절하다.

19. 그림은 매체 A, B의 특징을 비교한 것이다. 이에 대한 옳은 설명을 <보기>에서 고른 것은? (단, A와 B는 각각 인쇄 매체와 뉴미디어 중 하나이다.) [3점]



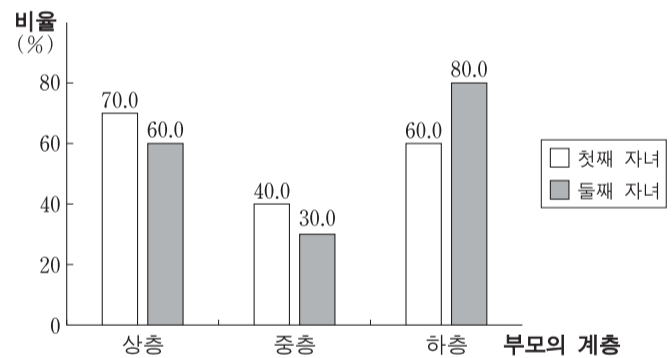
* 0에서 멀수록 그 정도가 높거나 강함.

— <보기> —

- ㄱ. A는 B에 비해 정보 확산의 시공간적 제약이 적다.
- ㄴ. B는 A에 비해 정보의 복제와 재가공이 쉽다.
- ㄷ. (가)에는 '매체에 대한 수용자의 영향력'이 적절하다.
- ㄹ. (나)에는 '정보 전달의 속도'가 적절하다.

- ① ㄱ, ㄴ ② ㄱ, ㄷ ③ ㄴ, ㄷ ④ ㄴ, ㄹ ⑤ ㄷ, ㄹ

20. 자료는 부모와 자녀 간의 계층 일치 비율을 나타낸 것이다. 이에 대한 옳은 분석을 <보기>에서 고른 것은? (단, 모든 부모의 자녀는 2명이며, 부모의 계층 구성은 상층 : 중층 : 하층 = 1 : 3 : 1이다.) [3점]



— <보기> —

- ㄱ. 첫째 자녀 중 세대 간 하강 이동 비율은 50% 이상이다.
- ㄴ. 둘째 자녀 중 세대 간 수직 이동 비율은 50% 이하이다.
- ㄷ. 부모의 계층이 자녀에게 대물림된 비율은 둘째 자녀보다 첫째 자녀에서 더 높다.
- ㄹ. 상층 부모의 둘째 자녀와 하층 부모의 첫째 자녀 중에서 세대 간 이동을 한 사람의 수는 같다.

- ① ㄱ, ㄴ ② ㄱ, ㄷ ③ ㄴ, ㄷ ④ ㄴ, ㄹ ⑤ ㄷ, ㄹ

* 확인 사항
○ 답안지의 해당란에 필요한 내용을 정확히 기입(표기)했는지 확인하십시오.