

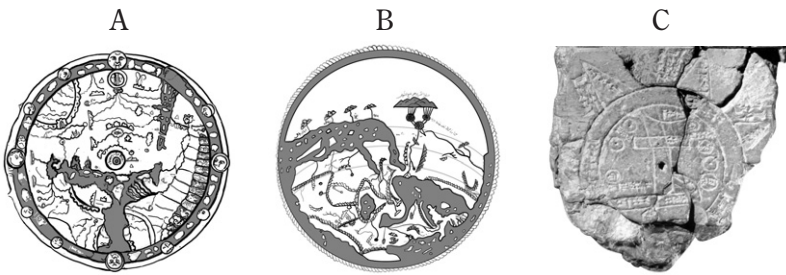
제 4 교시

사회탐구 영역(세계 지리)

성명 수험 번호

1. 다음 글의 (가), (나)에서 설명하는 세계 지도를 A~C에서 고른 것은? [3점]

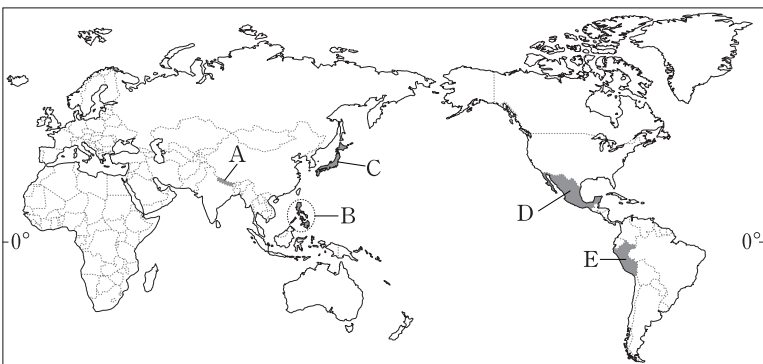
(가) 제작 당시 이슬람 세계의 세계관을 반영하고 있다. 메카가 있는 아라비아 반도를 지도의 중심에 두고, 남쪽이 지도의 위쪽에 오도록 하여 세계를 묘사하였다.
 (나) 육지가 바다 위에 떠 있다는 당시 사람들의 관념을 반영하고 있다. 세계의 중심에 바빌론이 위치한다고 생각했으며, 이곳을 가로질러 유프라테스 강이 흐르는 것으로 묘사하였다.



- | | | | | | |
|---|-----|-----|---|-----|-----|
| | (가) | (나) | | (가) | (나) |
| ① | A | B | ② | A | C |
| ③ | B | A | ④ | B | C |
| ⑤ | C | A | | | |

2. 다음 자료는 수행 평가 보고서이다. (가)~(다)에 해당하는 국가를 지도의 A~E에서 고른 것은? [3점]

〈주제: 신기 조산대에 위치한 국가의 화폐에서 지리적 내용 찾아보기〉		
국가	화폐	화폐에서 찾은 지리적 내용
(가)		7,100여 개의 많은 섬으로 이루어진 국가 지도와 활화산인 마운 산이 표현되어 있음.
(나)		잉카 문명의 한 갈래인 치무 왕국의 유적지가 6,000미터 내외의 높은 산지를 배경으로 하여 표현되어 있음.
(다)		세계 최고봉인 에베레스트 산과 불교의 상징물인 불상이 표현되어 있음.

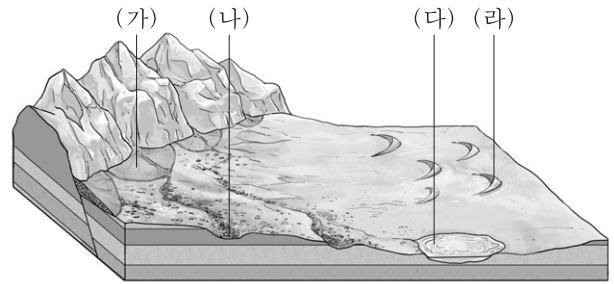


- | | | | | | | | |
|---|-----|-----|-----|---|-----|-----|-----|
| | (가) | (나) | (다) | | (가) | (나) | (다) |
| ① | A | B | C | ② | B | D | E |
| ③ | B | E | A | ④ | C | D | A |
| ⑤ | C | E | D | | | | |

3. 다음 자료는 생태 기행 다큐멘터리 촬영을 위한 계획안이다. (다) 지역에서의 주요 촬영 내용으로 가장 적절한 것은?

촬영 경로	촬영 내용
	(가) 울루루·카타추타 국립 공원의 원주민 전통 문화 경관
	↓
	(나) 세계 최대 규모인 산호초 해안의 생태계
	↓
	(다) <input type="text"/>

- ① 찬정수를 이용하는 대규모 목양 지역
 - ② 사막과 오지 경관이 나타나는 아웃백 지역
 - ③ 초원과 관목이 어우러진 광활한 사바나 경관
 - ④ 활화산과 간헐천, 지열 발전소가 분포하는 화산 지대
 - ⑤ 덩굴 식물로 뒤엉켜 있고 수목 밀도가 높은 열대 우림 경관
4. 그림은 건조 지형의 모식도이다. (가)~(라) 지형에 대한 옳은 설명을 <보기>에서 고른 것은? (단, 바른한, 선상지, 와디, 플라야만 고려함.)



— <보기> —

ㄱ. (가)는 경사 급변점을 중심으로 발달한다.
 ㄴ. (나)에는 강수 시 일시적으로 물이 흐른다.
 ㄷ. (다)의 물은 주로 관개용수로 이용된다.
 ㄹ. (라)는 주로 바람의 침식 작용으로 형성된다.

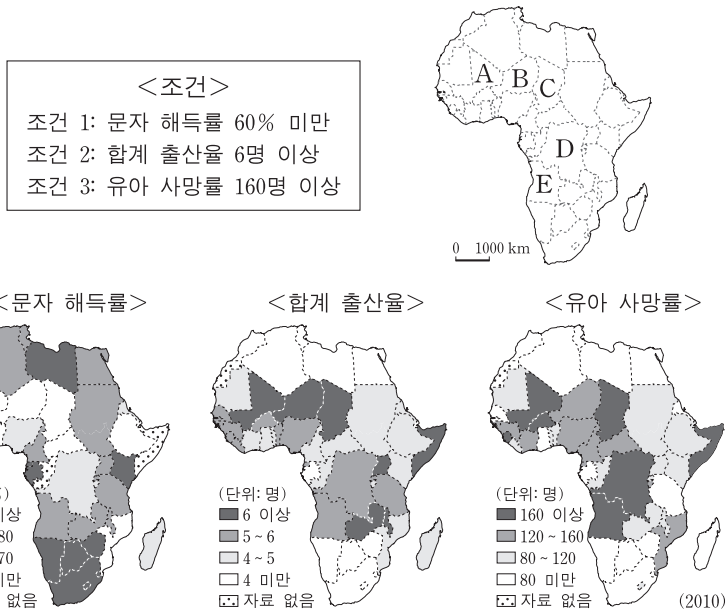
- ① ㄱ, ㄴ ② ㄱ, ㄷ ③ ㄴ, ㄷ ④ ㄴ, ㄹ ⑤ ㄷ, ㄹ
5. 다음 자료의 밑줄 친 ㉠~㉣에 대한 추론으로 적절하지 않은 것은? [3점]

1833년 1월 29일
 아침 일찍 비글 해협의 북쪽 수로로 들어가니 경치가 전보다 더 장엄해진다. 이곳에서 바라본 북쪽에는 ㉠ 1,000미터 이상의 우뚝 솟은 산지가 등뼈처럼 놓여 있다. 산꼭대기는 ㉡ 만년설로 덮여 있고, ㉢ 급경사의 골짜기에 걸린 수많은 폭포가 아래에 있는 ㉣ 좁고 긴 해협으로 떨어지고 있다. 곳곳의 ㉤ 계곡에는 멋진 빙하들이 해안선 부근까지 펼쳐져 있는데, 이 빙하들에서 보이는 녹색석 같은 파란 색깔보다 더 아름다운 것은 상상하기 어렵다.
 - 찰스 다윈, 『비글호 항해기』 -

- ① ㉠은 두 판이 만나 형성된 신기 조산대의 일부일 것이다.
- ② ㉡의 고도 한계선은 빙기보다 간빙기에 더 낮았을 것이다.
- ③ ㉢은 지류 빙하가 흘렀던 골짜기에 물이 흘러 생겼을 것이다.
- ④ ㉣은 빙식곡이 침수되어 형성된 피오르일 것이다.
- ⑤ ㉤의 말단부에서는 빙퇴석들을 볼 수 있을 것이다.

2 사회탐구 영역 (세계 지리)

6. 다음 <조건>을 모두 만족하는 국가에 어린이를 위한 국제 기금을 지원하고자 한다. A~E 중 지원 대상 국가를 고른 것은?



- ① A, B ② A, C ③ B, E ④ C, D ⑤ D, E

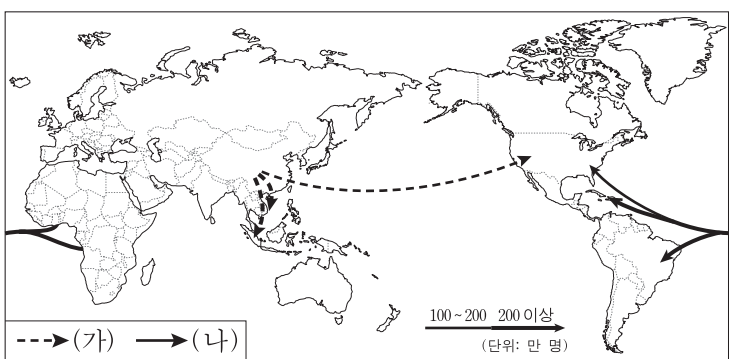
7. 다음 글은 두 지역의 축제를 정리한 것이다. (가), (나) 지역의 상대적인 기후 특징을 그래프와 같이 나타낼 때 A, B 항목으로 가장 적절한 것은? [3점]

○ (가)의 축제
 프랑스 남부의 휴양지로 유명한 이 지역에서는 해마다 2월 말에서 3월 초에 걸쳐 레몬 축제가 열린다. 축제 기간 즈음에는 가로수와 정원수 등 눈에 보이는 나무마다 달린 레몬들로 도시 전체가 온통 노란색으로 변한다.

○ (나)의 축제
 발트 해 연안에 위치한 러시아의 이 지역에서는 매년 6월이면 하얀 밤을 즐기 위한 백야 축제가 개최된다. 이 지역 사람들은 1년의 반 이상을 겨울로 보내기 때문에, 휴가가 길고 만물이 풍성한 여름을 백야 축제로 만끽하는 것이다.



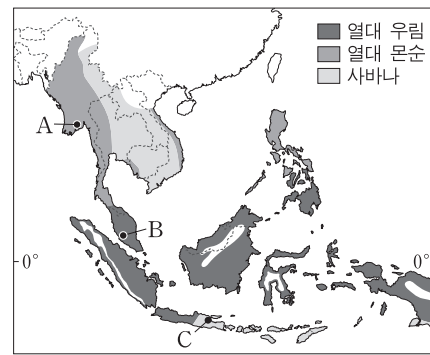
8. 지도에 나타난 (가), (나) 인구 이동에 대한 옳은 설명을 <보기>에서 고른 것은? (단, 20세기 초 이전의 이동만 고려함.)



<보기>
 ㄱ. (가)는 관광과 여가를 위한 일시적 이동이다.
 ㄴ. (가)는 정착지의 원주민 문화를 크게 쇠퇴시켰다.
 ㄷ. (나)는 주로 유럽계 백인이 주도한 강제적 이동이다.
 ㄹ. (나)는 주로 플랜테이션을 위한 노동력 공급으로 이어졌다.

- ① ㄱ, ㄴ ② ㄱ, ㄷ ③ ㄴ, ㄷ ④ ㄴ, ㄹ ⑤ ㄷ, ㄹ

9. 지도는 동남아시아의 열대 기후 지역을 나타낸 것이다. A~C 도시의 기후 특성에 대한 옳은 설명을 <보기>에서 고른 것은? [3점]



<보기>
 ㄱ. A는 B보다 6~8월의 강수 집중률이 높다.
 ㄴ. A는 C보다 7월 강수량이 많다.
 ㄷ. C는 B보다 연 강수량이 많다.
 ㄹ. A~C 모두 기온의 연교차가 일교차보다 크다.

- ① ㄱ, ㄴ ② ㄱ, ㄷ ③ ㄴ, ㄷ ④ ㄴ, ㄹ ⑤ ㄷ, ㄹ

10. 다음은 수업의 한 장면이다. 발표한 내용이 적절한 학생만을 있는 대로 고른 것은?

자료를 보고 추론한 내용을 발표해 볼까요?

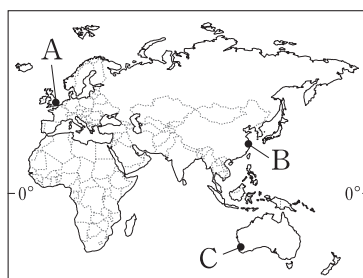
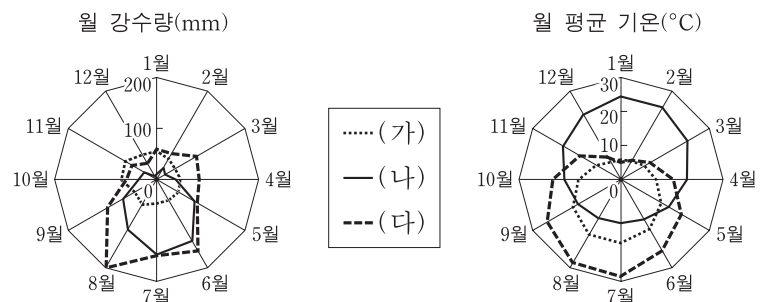
같은 모양 다른 맛! 나라마다 다른 ◇◇햄버거
 패스트푸드의 대명사인 '◇◇햄버거' 회사는 ㉠ 세계 각국에 수많은 매장을 두고 있다. ㉡ 모든 매장의 옥외 광고 간판과 점원 서비스는 매우 유사하지만, 각 국가마다 특별한 메뉴를 판매하고 있다. ㉢ 인구가 10억 명이 넘는 인도에서는 인도식 치즈인 파니르와 매운 소스를 넣은 메뉴를 개발하였고, 노르웨이에서는 연어를 좋아하는 노르웨이인들의 입맛을 사로잡기 위하여 ㉣ 연어를 구워 야채와 함께 호밀 빵에 넣은 메뉴를 개발했다.

갑 을 병 정

㉠을 보니 이 회사는 본사와 해외의 여러 지점들로 이루어진 다국적 기업인 것 같아요.
 ㉡을 보니 이 회사는 상품에 대한 표준화된 이미지를 추구하고 있는 것 같아요.
 ㉢을 보니 이 회사는 해외 진출 시 노동비 절감 요인을 가장 크게 고려한 것 같아요.
 ㉣을 보니 이 회사는 각 국가의 문화적 특성을 반영한 현지화 전략을 추구한 것 같아요.

- ① 갑, 을 ② 갑, 병 ③ 병, 정
 ④ 갑, 을, 정 ⑤ 을, 병, 정

11. 그래프는 세 지역의 월 강수량과 월 평균 기온을 나타낸 것이다. (가)~(다) 지역을 지도의 A~C에서 고른 것은?



- | | (가) | (나) | (다) |
|---|-----|-----|-----|
| ① | A | B | C |
| ② | A | C | B |
| ③ | B | A | C |
| ④ | B | C | A |
| ⑤ | C | B | A |

12. 다음 자료의 (가) 해안과 비교한 (나) 해안의 상대적 특성을 A~E에서 고른 것은? [3점]

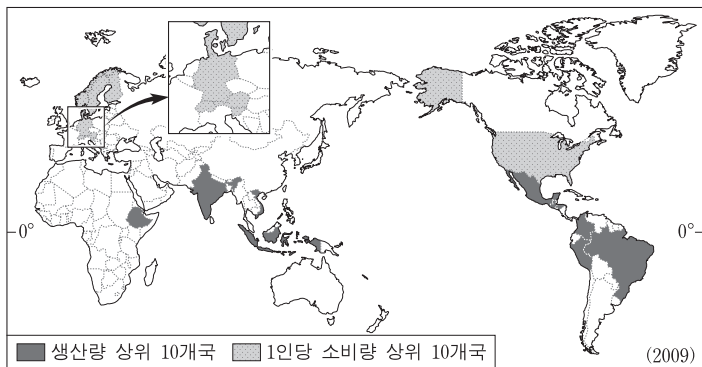
이 지역에서 널리 나타나는 (가) 해안은 독특한 경관을 형성하고 있는 긴 연안 사주와 석호, 사구 등으로 이루어져 있다. 연안 사주의 금빛 백사장에는 일광욕과 해수욕을 즐기려는 많은 사람들로 붐빈다.

이 지역에서 널리 나타나는 (나) 해안에는 유네스코 생물권 보존 구역으로 지정된 넓은 습지가 펼쳐져 있다. 주변 해역은 수심이 얕고, 만이 육지 안으로 깊게 들어가 있으며, 조력 발전에 유리한 조건을 갖추고 있다.

조수 간만의 차이 (㎝) (작음) (큼) 연안류의 영향 퇴적물의 평균 입자 크기

① A
② B
③ C
④ D
⑤ E

13. 지도는 어떤 기호 작물의 생산량과 1인당 소비량 상위 10개국을 나타낸 것이다. 이에 대한 옳은 설명을 <보기>에서 고른 것은? [3점]

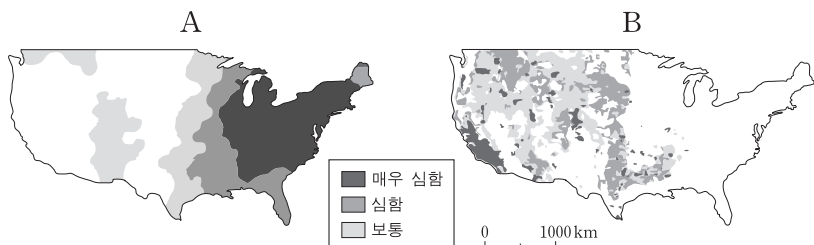


<보기>

ㄱ. 주로 잎을 원료로 하여 상품으로 가공한다.
 ㄴ. 생산량이 가장 많은 국가는 아프리카에 위치한다.
 ㄷ. 원료를 볶아 분쇄하여 음료를 만드는 데 이용한다.
 ㄹ. 건기와 우기가 뚜렷한 열대 기후가 재배에 유리하다.

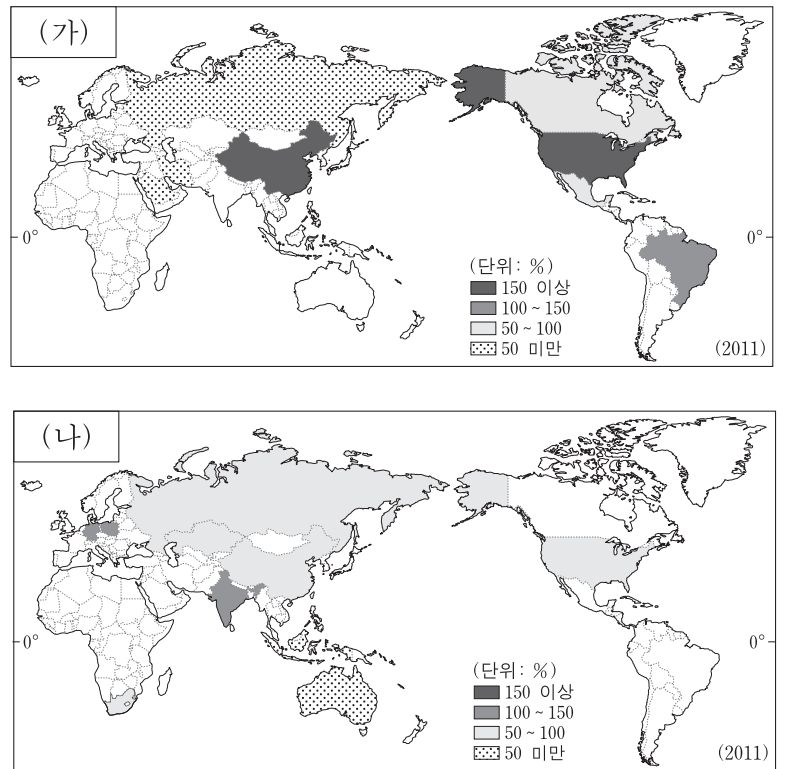
- ① ㄱ, ㄴ ② ㄱ, ㄷ ③ ㄴ, ㄷ ④ ㄴ, ㄹ ⑤ ㄷ, ㄹ

14. 지도는 A, B 환경 문제가 나타나는 지역을 표현한 것이다. A, B에 대한 설명으로 가장 적절한 것은?



- ① A는 강풍을 동반한 많은 비로 홍수와 풍수해를 일으킨다.
 ② A는 오존층 파괴로 인한 자외선 투과량 증가로 발생한다.
 ③ B는 호수의 산성화나 구조물 및 건물의 부식을 일으킨다.
 ④ B는 관개용수의 과도한 이용이나 강수량 부족에 의해 발생한다.
 ⑤ 국제 사회는 A, B에 대한 공동 대책으로 교토 의정서를 채택하였다.

15. 지도는 화석 에너지 (가), (나)의 생산량 대비 소비량 비중을 나타낸 것이다. (가), (나)에 대한 옳은 설명을 <보기>에서 고른 것은? (단, 생산량 상위 10개국만 표시함.) [3점]

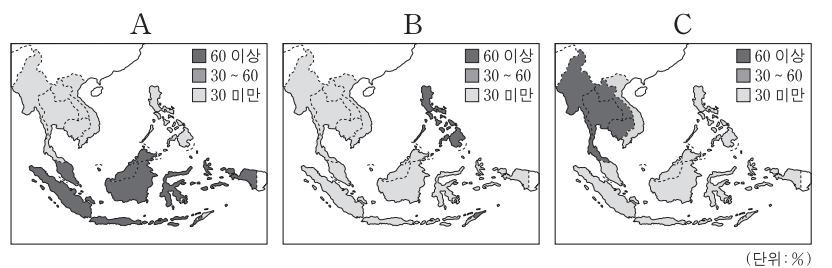


<보기>

ㄱ. (가)는 냉동 액화 기술의 발달로 국제 이동이 증가하였다.
 ㄴ. (가)는 (나)보다 오래된 지층에 주로 매장되어 있다.
 ㄷ. (가)는 (나)보다 국제 정세 불안에 따른 가격 변동이 큰 편이다.
 ㄹ. (나)는 (가)보다 세계 1차 에너지 소비량에서 차지하는 비중이 낮다.

- ① ㄱ, ㄴ ② ㄱ, ㄷ ③ ㄴ, ㄷ ④ ㄴ, ㄹ ⑤ ㄷ, ㄹ

16. 지도는 A~C 종교의 신자가 동남아시아 각 국가의 인구에서 차지하는 비율을 나타낸 것이다. 이에 대한 옳은 설명을 <보기>에서 고른 것은?



<보기>

ㄱ. A는 소고기 먹는 것을 금기하며, 사원에는 다양한 모습의 신들이 그림이나 조각으로 표현되어 있다.
 ㄴ. B의 여성 신자들은 천으로 머리카락의 일부를 가리며, 종교 경관으로는 첨탑이 있는 둥근 지붕의 모스크가 유명하다.
 ㄷ. C는 사리가 봉안된 탑을 신성시하며, 사원의 형태는 각 지역의 전통 건축 양식과 결합하여 다양하게 나타난다.
 ㄹ. A~C는 모두 특정 민족이나 국가를 넘어 세계 여러 지역으로 확산된 보편 종교이다.

- ① ㄱ, ㄴ ② ㄱ, ㄷ ③ ㄴ, ㄷ ④ ㄴ, ㄹ ⑤ ㄷ, ㄹ

