

2007학년도 대학수학능력시험 문제지

제 4 교시

사회탐구 영역(사회·문화)

성명 수험 번호

- 자신이 선택한 과목의 문제지인지 확인하십시오.
- 문제지에 성명과 수험 번호를 정확히 써 넣으십시오.
- 답안지에 성명과 수험 번호를 써 넣고, 또 수험 번호와 답을 정확히 표시하십시오.
- 과목을 선택한 순서대로 풀고, 답은 답안지의 '제1선택'란에서부터 차례대로 표시하십시오.
- 문항에 따라 배점이 다르니, 각 물음의 끝에 표시된 배점을 참고하십시오. 3점 문항에만 점수가 표시되어 있습니다. 점수 표시가 없는 문항은 모두 2점입니다.

1. 다음 글에서 친구가 주장하는 사회 과학 연구 방법의 일반적인 특징을 <보기>에서 모두 고른 것은?

“정말 이해할 수 없는 보고서야.”
친구는 중얼거리면서 나에게 보고서를 보여 주었다.
“연구자는 직관이나 상황 맥락에 의존할 것이 아니라 자료를 계량화하고 분석한 후 결론을 내려야 해. 그래야만 사회적 현상들 사이에 존재하는 인과 관계를 파악할 수 있기 때문이지.” 친구는 불만스럽게 말했다.

- <보기> —
- ㄱ. 가설을 검증하기 위한 목적으로 자료를 수집한다.
 - ㄴ. 연구자의 감정 이입을 통해 사회 현상을 이해한다.
 - ㄷ. 법칙 발견을 통해 사회 현상을 설명하고 예측하고자 한다.
 - ㄹ. 자연 과학의 연구 방법을 사회 현상 연구에 적용할 수 없다고 본다.

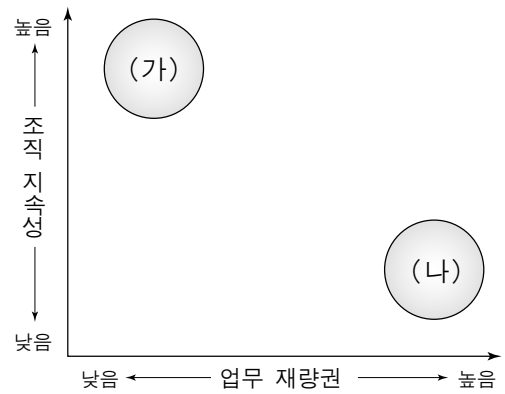
- ① ㄱ, ㄴ ② ㄱ, ㄷ ③ ㄴ, ㄷ ④ ㄴ, ㄹ ⑤ ㄷ, ㄹ

2. 그림은 학생이 작성한 형성 평가지다. 밑줄 친 부분에 들어갈 교사의 평가 내용으로 가장 적절한 것은?

형성 평가지(서술형)	3학년 00반 00번 성명: □□□
문제 : 개인과 사회의 관계에 관한 두 가지 입장 중 자신이 지지하는 의 주장을 서술하십시오.	
사회는 개인 간 계약의 산물이다. 따라서 사회 현상을 바르게 파악하기 위해서는 개인의 행동 양식에 초점을 맞추어야 한다. 예를 들어 최고의 기량을 가진 선수들로 을 만들면 그 은 최고가 된다. 이렇게 본다면 사회는 개인들의 향보다 크며 그 자체로서 어떤 본질적인 속성을 지 다고 할 수 있다.	
평가 : 이 글은 _____	

- ① 명목론을 일관되게 서술하고 있군요.
- ② 서로 다른 두 입장을 혼동하고 있군요.
- ③ 두 입장에 대해 균형적인 관점을 취하고 있군요.
- ④ 개인보다 사회를 중시하는 입장의 예를 제시하고 있군요.
- ⑤ 유기체적 사회관으로 개인주의를 보완하자는 입장이군요.

3. 그림은 사회 조직 유형을 도식화한 것이다. (가), (나)에 대한 적절한 설명을 <보기>에서 모두 고른 것은? [3점]



- <보기> —
- ㄱ. (가)는 신속한 의사 결정으로 환경 변화에 능동적으로 대처할 수 있다.
 - ㄴ. (나)는 조직에 대한 다양한 요구를 만족시킬 수 있는 유연한 조직 구조를 가진다.
 - ㄷ. (가)는 (나)에 비해 업무가 명확히 분화되어 있어 책임 소재가 분명하다.
 - ㄹ. (나)는 (가)에 비해 규약과 절차에 따른 업무 처리를 중시한다.

- ① ㄱ, ㄴ ② ㄱ, ㄷ ③ ㄴ, ㄷ ④ ㄴ, ㄹ ⑤ ㄷ, ㄹ

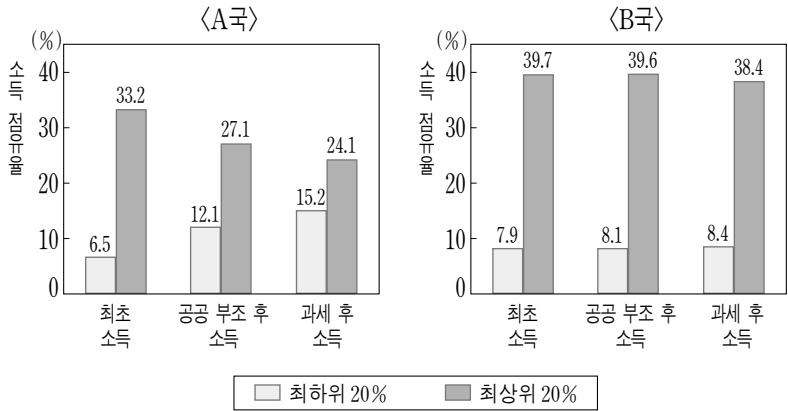
4. 다음 학생들의 대화에 관한 설명으로 적절하지 않은 것은? [3점]

갑 : 나는 용기를 보면 고향 할머니 집에서 간장 담그던 일이 생각나. 우리 조상들은 음식을 저장하고 숙성시키는 데 이런 용기를 사용했지.
을 : 집집마다 장독대에 죽 늘어선 용기 모습을 어느 나라에서나 볼 수 있는 것은 아니야. 다른 나라는 어떨까? 다른 나라에서는 어떻게 음식을 저장하는지 알아 보면 우리 음식 문화의 특징을 더 잘 알 수 있을 거라고 생각해.
병 : 어떤 지역의 음식 문화를 제대로 이해하려면 그 지역의 지리적 환경, 역사적 변천, 사회 경제적 여건 등도 아울러 살펴봐야 해.

- ① 갑은 용기를 특정 문화의 상징이라고 보고 있다.
- ② 을은 문화의 다양성과 특수성의 측면에 주목하고 있다.
- ③ 을은 다른 문화에 대한 이해가 자문화 이해에 도움을 준다는 입장이다.
- ④ 병은 문화란 여러 문화 요소가 유기적으로 연결되어 있는 총체라는 입장이다.
- ⑤ 병은 문화가 한 지역 사회를 유지하고 계승하는 수단으로 작용한다고 보고 있다.

2 사회탐구 영역 (사회·문화)

5. 그래프는 A, B국의 계층별 소득 점유율 변화를 나타낸 것이다. 이에 대한 옳은 해석과 추론을 <보기>에서 모두 고른 것은? [3점]



<보기>

- ㄱ. A국에서는 공공 부조로 인해 최하위 20%의 소득은 증가하였고, 최상위 20%의 소득은 감소하였다.
- ㄴ. A국은 B국에 비해 빈곤에 대한 사회적 책임을 강조하고 있다.
- ㄷ. 과세를 통한 소득 불평등 완화 효과는 B국이 A국에 비해 작다.
- ㄹ. 저소득층을 위한 공공 부조 정책의 효과는 B국이 A국에 비해 크다.

- ① ㄱ, ㄴ ② ㄴ, ㄷ ③ ㄴ, ㄹ
- ④ ㄱ, ㄴ, ㄷ ⑤ ㄱ, ㄷ, ㄹ

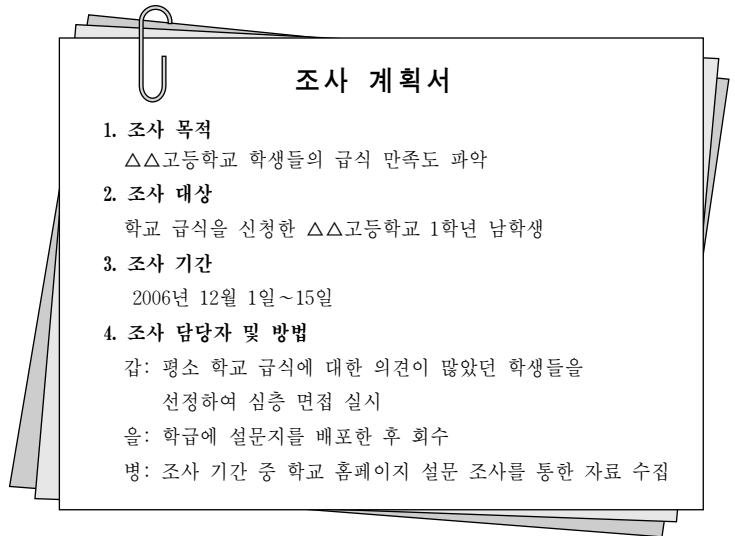
6. 다음 글에 나타난 두 사람의 정보 사회관에 대한 설명으로 적절하지 않은 것은?

갑 : 정보 사회에서는 산업 사회에서 강조된 표준화, 대량화, 권력 집중의 원리가 다원화, 개인화, 분권화와 같은 사회 원리에 의해 대체될 것이다. 또한 사회적, 정치적, 경제적 영역에서 일상적 삶의 모습은 이전 사회와는 구조적으로 다를 것이다. 따라서 불리한 위치에 있던 사람들도 새로운 기회를 가질 수 있게 된다.

을 : 정보 사회는 새로운 사회가 아니라 근대성의 출현과 함께 등장한 사회다. 사회의 제반 영역에서 정보의 중요성이 커진 것은 사실이지만, 그것은 이윤의 극대화를 추구하는 자본의 논리 때문이지 정보와 정보 기술 자체의 특성 때문은 아니다. 정보 사회의 특성이라고 하는 여러 현상들은 산업 사회의 발달과 더불어 시작되었으며 20세기 말에 가속도가 붙고 있을 뿐이다.

- ① 갑은 정보 사회를 낙관적인 관점에서 인식하고 있다.
- ② 갑은 정보 사회에서 다품종 소량 생산 방식이 확대될 것이라고 본다.
- ③ 갑은 정보 사회를 산업 사회 뒤에 나타난 새로운 성격의 사회라고 본다.
- ④ 을은 정보 기술의 중요성이 자본의 중요성보다 더 작다고 본다.
- ⑤ 을은 산업 사회의 모순이 정보 사회에서 해결될 것이라고 본다.

7. 그림은 △△고등학교 학생회가 작성한 조사 계획서의 일부다. 이에 대한 설명으로 옳지 않은 것은? [3점]



- ① 표본 집단의 대표성 확보가 어려울 것이다.
- ② 질적 자료와 양적 자료를 모두 수집할 수 있을 것이다.
- ③ 갑은 을에 비해 깊이 있는 자료 수집이 가능할 것이다.
- ④ 을은 갑에 비해 피조사자와 정서적 유대를 형성해야 할 것이다.
- ⑤ 병은 갑에 비해 자료의 통계적 분석이 용이할 것이다.

8. 다음 글의 밑줄 친 ㉠~㉣에 대한 설명으로 옳은 것은? [3점]

개발 도상국에 진출한 일부 ㉠다국적 기업의 현지 근로자는 그 기업 본국의 경영 방식을 따르고 있다. 이러한 현상에도 불구하고 문화에 대한 인식 차이는 여전히 남아 있다. ㉡외국인 경영자는 본국과 현지 사이의 문화 및 민족성 차이를 강조한다. 예를 들어 직장에서 윗사람이 자리를 비울 때 현지 근로자는 일의 집중력이 떨어지는 데 비해 본국 근로자는 그렇지 않다는 점을 내세워 현지 근로자의 자율성이 낮다고 지적한다. 반면 현지 근로자는 ㉢다국적 기업이 현지에 토착화할 것과 자신들의 ㉣문화적 고유성을 존중해 줄 것을 요구한다. 이러한 상황에서 현지 근로자와 함께 근무하는 본국 근로자는 본국과 현지 사이의 ㉤문화적 차이를 '문명'과 '미개'의 위계적 서열로 인식하기도 한다.

- ① ㉠은 문화 전파, ㉡은 문화 접변의 사례로 볼 수 있다.
- ② ㉠은 재사회화, ㉢은 문화 지체에 해당한다.
- ③ ㉡이 가진 태도는 문화 상대주의 관점에 해당한다.
- ④ ㉢과 ㉣을 요구하는 것은 자문화 중심주의에 해당한다.
- ⑤ ㉤을 극복하기 위해서는 ㉡이 가진 태도가 필요하다.

9. 다음 사례들을 종합하여 도출한 결론으로 가장 적절한 것은?

- 불임 부부를 중심으로 입양이 늘고 있다.
- 자녀를 낳지 않고 사는 맞벌이 부부, 이른바 딩크(DINK)족이 늘고 있다.
- 유럽에서는 법적으로 가족의 지위를 인정받는 동성(同性) 부부가 늘고 있다.

- ① 수평적 부부 관계가 약화되고 있다.
- ② 가족의 사회화 기능이 강화되고 있다.
- ③ 혈연 중심의 가족관이 약화되고 있다.
- ④ 가족의 양육과 보호 기능이 강화되고 있다.
- ⑤ 가풍과 가치관의 세대 간 전승이 강화되고 있다.

(사회·문화)

사회탐구 영역

10. 그림은 선거에 출마한 어느 후보자의 홍보물이다. 밑줄 친 ㉠~㉣에 대한 설명으로 옳은 것은? [3점]

약 력

㉠ ◇◇대학교 정치외교학과 졸업(1976)

㉡ ○ 환경 시민 연대 대표(1990~1992)

㉢ ◇◇대학교 동문회 부회장(1998~2000)

㉣ □□시 △△향우회 회장(2001~2002)

㉤ 재경 ◇ 종친회 회장(2003~현재)

- ① ㉠은 1차적 사회화 기관에 해당한다.
- ② ㉡은 공통의 관심사를 기초로 형성된 비공식 조직이다.
- ③ ㉢은 특정한 목적을 위해 조직된 자발적 결사체다.
- ④ ㉣은 인간 관계가 친밀하고 가입과 탈퇴가 자유롭지 못하다.
- ⑤ ㉤은 자연 발생적인 관계를 매개로 형성된 공동 사회다.

11. 표에 대한 옳은 해석을 <보기>에서 모두 고른 것은? [3점]
<계층 구성 요소별 위치의 세대 간 일치 여부>

아버지	이름	갑			을			병		
	계층	상류층			중류층			하류층		
	계층 구성 요소	재산	위신	권력	재산	위신	권력	재산	위신	권력
자녀와 일치 여부		+	+	-	-	-	-	-	+	+

* + : 일치 - : 불일치
* 아버지 세대의 경우 재산, 위신, 권력의 위치가 자신이 속한 계층과 일치함.

— <보기> —

ㄱ. 갑의 자녀는 갑에 비해 정치적 영향력이 작다.
 ㄴ. 을의 자녀는 을에 비해 계층적 위치가 낮다.
 ㄷ. 병의 자녀는 빈곤의 대물림 현상을 극복하였다.
 ㄹ. 자녀 세대에서 위신이 가장 높은 사람은 병의 자녀다.

- ① ㄱ, ㄴ ② ㄱ, ㄷ ③ ㄴ, ㄷ ④ ㄴ, ㄹ ⑤ ㄷ, ㄹ

12. 다음 글에 나타난 문화의 속성에 기초한 진술을 <보기>에서 모두 고른 것은?

이탈리아에서 하얀 국화는 조문(弔問)의 의미로 사용된다. 만약 어떤 사람의 집 앞에 장례식장으로 가야 할 순백의 국화 화환이 잘못 배달되었다면, 그것을 본 마을 사람들은 그 집에 사는 누군가가 죽은 것으로 생각할 것이다. 그리고 하얀 국화를 그 집 앞에 놓으며 애도를 표할 것이다.

— <보기> —

ㄱ. 문화는 사회의 유지와 통합에 기여한다.
 ㄴ. 문화를 통해 타인의 사고 방식과 행동을 예측한다.
 ㄷ. 이전 세대의 문화를 토대로 새로운 문화가 창출된다.
 ㄹ. 하나의 문화 요소가 변화하면 연쇄적인 변동이 나타난다.

- ① ㄱ, ㄴ ② ㄱ, ㄷ ③ ㄴ, ㄷ ④ ㄴ, ㄹ ⑤ ㄷ, ㄹ

[13~14] 다음 자료를 보고 물음에 답하십시오.

○○신문

노인 문제, 새로운 양상으로 전개

농촌과 도시를 막론하고 80세 이상의 독거 노인들이 증가하고 있다(아래 표 참조). 이에 따라 노인들이 겪는 외로움, 질병, 빈곤 등의 문제도 더욱 심화되고 있다. ... (중략) ... 이러한 노인 문제의 원인은 급속한 사회 변동으로 인한 가족 해체의 가속화에서 찾을 수 있다.

<80세 이상 노인 인구의 가구 형태별 분포> (단위: %)

지역	연도	인구 (천 명)	1인 가구	1세대 가구	2세대 가구	3세대 이상 가구
도시	1995	200	7	7	20	66
	2000	269	11	10	23	56
농촌	1995	170	15	13	32	40
	2000	200	20	17	31	32

13. 위 자료의 밑줄 친 부분과 같은 관점에서 사회 문제를 보고 있는 것은? [3점]

- ① 불평등한 사회 구조를 개혁함으로써 사회 문제가 해결될 수 있다.
- ② 집단 간 불화, 대립 등의 긴장 상태로 인해 사회 문제가 발생한다.
- ③ 사회 문제라고 의미가 부여된 행위를 할 때 사회 문제가 발생한다.
- ④ 주도적인 집단의 사람들이 자신들의 관점에서 사회 문제를 규정한다.
- ⑤ 사회 제도들 간의 보완적 체계를 확립함으로써 사회 문제가 해결될 수 있다.

14. 위 표에 대한 해석으로 옳은 것은?

- ① 도시보다 농촌에서 80세 이상 노인이 더 많이 증가했다.
- ② 1995년 80세 이상 독거 노인은 농촌이 도시보다 2배 이상 많다.
- ③ 2000년 도시에서는 핵가족보다 확대 가족 형태로 거주하는 80세 이상 노인이 더 많다.
- ④ 1995년 도시에서는 80세 이상 노인 중 독거 노인이 자녀 세대와 함께 사는 노인보다 더 많다.
- ⑤ 80세 이상 노인이 거주하는 가족 형태로 볼 때 농촌에 비해 도시에서 세대 간 유대가 더 약하다.

15. 다음 글을 통해 적절하게 추론한 것을 <보기>에서 모두 고른 것은?

파푸아 뉴기니의 고산 지대에서 행해지던 돼지 도살과 고기 처분 의례는 1970년대 중반부터 '싱싱 비즈니스'라는 상업화된 축제로 바뀌었다. 과거 이 의례가 인근 마을과의 사회·정치적 통합과 화합의 장이었다면, 지금은 마을 간 부의 축적과 집단 우월성 확보를 위한 경쟁의 장이 되고 있다. 즉, 축제의 형식을 빌어 거대한 시장이 형성되고 있는 것이다. 축제가 성공했다는 것은 축제를 조직한 마을에 많은 양의 돈이 유입되었다는 것을 의미한다. 한편, 이로 인해 원주민 사회에서는 빈부 격차가 커지기 시작하였다.

— <보기> —

ㄱ. 축제를 통해 사회적 희소 자원이 배분된다.
 ㄴ. 축제의 의미는 시대 변화에 따라 달라진다.
 ㄷ. 축제가 상업화될수록 집단 간 정치적 결속이 강화된다.
 ㄹ. 계층 분화가 진전될수록 축제의 종교적 성격이 부각된다.

- ① ㄱ, ㄴ ② ㄱ, ㄷ ③ ㄴ, ㄷ ④ ㄴ, ㄹ ⑤ ㄷ, ㄹ

