

2007학년도 대학수학능력시험 문제지

제 4 교시

사회탐구 영역(경제)

성명 수험 번호

- 자신이 선택한 과목의 문제지인지 확인하십시오.
- 문제지에 성명과 수험 번호를 정확히 써 넣으십시오.
- 답안지에 성명과 수험 번호를 써 넣고, 또 수험 번호와 답을 정확히 표시하십시오.
- 과목을 선택한 순서대로 풀고, 답은 답안지의 '제1선택'란에서부터 차례대로 표시하십시오.
- 문항에 따라 배점이 다르니, 각 물음의 끝에 표시된 배점을 참고하십시오. 3점 문항에만 점수가 표시되어 있습니다. 점수 표시가 없는 문항은 모두 2점입니다.

1. 다음 사례를 통해 도출할 수 있는 결론으로 가장 적절한 것은?

다국적 택배 회사 ○○사는 유럽에서 빠른 배달 속도를 강조하기 위해 자동차 경주를 소재로 광고하여 성공하였다. 하지만 이 광고는 한국에서 별 효과를 보지 못했다. 자동차 경주가 유럽에서는 축구와 더불어 인기 스포츠였으나, 한국에서는 덜 알려졌기 때문이었다. 이에 ○○사는 한국에서 가족주의 전통이 강하다는 것을 고려하여 “가족의 행복까지 전해 드립니다!”라는 문구를 사용했다.

- ① 문화는 상품화되어 국경을 자유롭게 넘나든다.
- ② 사회 문화적 배경은 경제 행위에 영향을 미친다.
- ③ 세계화의 진전은 국가 간의 경제 의존도를 높인다.
- ④ 경제 생활은 사회의 정치 발전 정도에 따라 다르다.
- ⑤ 다국적 기업의 광고 내용은 국내법의 적용을 받는다.

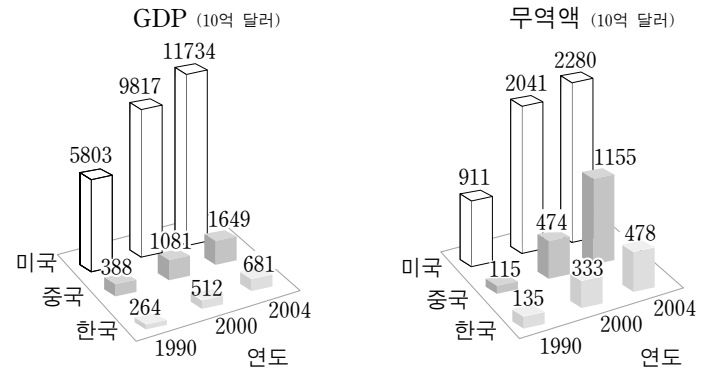
2. 다음 사례로부터 옳게 추론한 내용을 <보기>에서 모두 고른 것은?

갑이 운영하는 놀이방에서는 오후 6시까지 아이들을 돌본다. 그러나 많은 부모들은 오후 6시가 넘어서 아이들을 데리러 온다. 그 때문에 일과가 모두 끝난 후에도 아이들을 돌보는 교사를 남겨 두어야 한다. 부모들의 지각을 막기 위해서 갑은 부모가 늦을 때 10분당 2,000원의 벌금을 부과하였다. 그러자 지각하는 부모가 오히려 늘어났다. 이에 갑이 벌금을 10분당 5,000원으로 올리자 비로소 지각하는 부모가 없어졌다.

<보기>
 ㄱ. 지각하는 부모는 경제적 유인에 반응하지 않는다.
 ㄴ. 지각하는 부모는 기회비용을 고려한 선택을 한다.
 ㄷ. 지각하는 부모는 갑에게 추가적인 비용을 발생시킨다.
 ㄹ. 10분당 벌금을 올릴수록 갑의 벌금 수입은 증가한다.

- ① ㄱ, ㄴ ② ㄱ, ㄷ ③ ㄴ, ㄷ ④ ㄴ, ㄹ ⑤ ㄷ, ㄹ

3. 그래프에 대한 옳은 설명을 <보기>에서 모두 고른 것은? [3점]

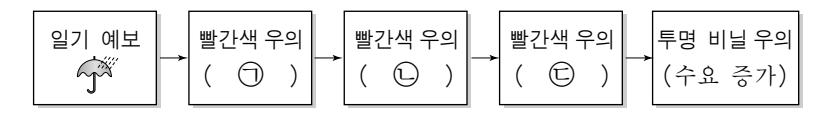


<보기>
 ㄱ. 2000년의 무역 의존도는 한국보다 미국이 높다.
 ㄴ. 세계화는 무역액 증가를 설명할 수 있는 요인 중의 하나이다.
 ㄷ. 1990~2004년의 무역액 증가율이 가장 높은 국가는 중국이다.

- ① ㄱ ② ㄴ ③ ㄷ ④ ㄱ, ㄴ ⑤ ㄴ, ㄷ

4. 다음 사례를 인과 관계에 따라 정리할 때, ㉠~㉣에 들어갈 내용을 바르게 짝지은 것은? [3점]

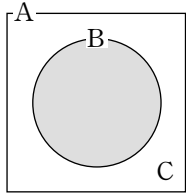
6월 24일 새벽 4시에 월드컵 16강을 가리기 위해 대한민국과 스위스가 격돌한다. 이날 전국적으로 비가 온다는 일기 예보가 나오자, 빗속에서 붉은 악마 티셔츠 대신 빨간색 우의를 입고 길거리 응원에 나서겠다는 시민들이 빨간색 우의를 찾고 있다. 그런데 빨간색 원단을 구하기 어렵기 때문에, 우의업자가 추가로 생산할 수 있는 빨간색 우의의 양에는 한계가 있다. 이에 따라 빨간색 우의의 가격이 변하게 되자, 빨간색 우의를 찾던 사람들 중 일부가 투명 비닐 우의를 찾고 있다.



- ㉠ ① 수요 증가 ② 수요 증가 ③ 수요 증가 ④ 가격 상승 ⑤ 가격 상승
- ㉡ ① 초과공급 발생 ② 초과수요 발생 ③ 초과수요 발생 ④ 초과공급 발생 ⑤ 초과수요 발생
- ㉢ ① 가격 상승 ② 가격 상승 ③ 판매량 감소 ④ 가격 하락 ⑤ 판매량 증가

2 사회탐구 영역 (경제)

5. 그림의 A~C에 대한 옳은 설명을 <보기>에서 모두 고른 것은?

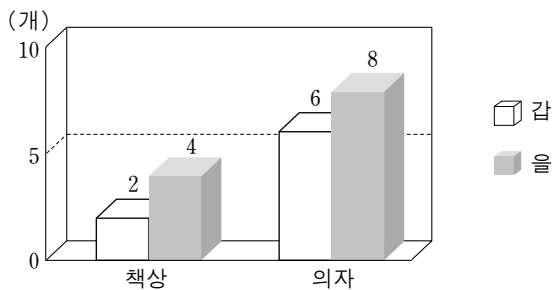


A : 한 국가 내에서 실제로 이루어진 모든 생산
 B : 정부가 조사해 발표한 GDP
 C : A-B

ㄱ. A에는 외국인이 국내에서 생산한 것이 포함된다.
 ㄴ. B에는 국내에서 사용되는 수입품이 포함된다.
 ㄷ. C에 해당하는 생산도 국민들의 후생 수준에 영향을 미친다.
 ㄹ. 지하 경제의 규모가 커질수록 A에 대한 B의 비중이 증가할 것이다.

- ① ㄱ, ㄴ ② ㄱ, ㄷ ③ ㄴ, ㄷ ④ ㄴ, ㄹ ⑤ ㄷ, ㄹ

6. 그래프는 갑과 을이 각각 한 시간 동안에 생산한 책상의 개수와 각각 한 시간 동안에 생산한 의자의 개수를 나타낸 것이다. 옳은 설명을 <보기>에서 모두 고른 것은? [3점]



ㄱ. 갑은 의자, 을은 책상 생산에 비교우위를 가지고 있다.
 ㄴ. 을은 두 재화 생산에 모두 절대우위를 가지고 있다.
 ㄷ. 을이 책상 한 개를 생산하는 데 따른 기회비용은 의자 1/2개이다.

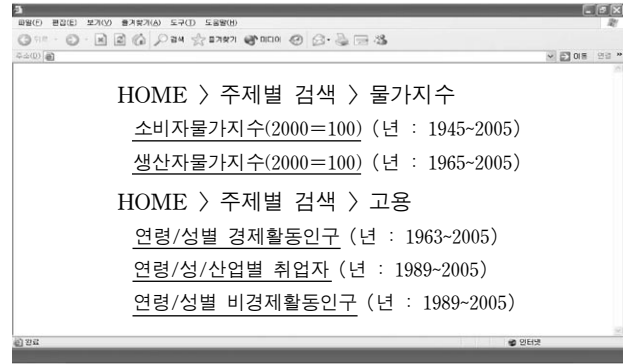
- ① ㄱ ② ㄴ ③ ㄷ ④ ㄱ, ㄴ ⑤ ㄴ, ㄷ

7. 표는 수요와 공급이 변할 때, 균형 가격과 균형 거래량의 변화를 나타낸 것이다. ㉠~㉤에 들어갈 내용을 바르게 짝지은 것은? [3점]

(㉠) 측면 (㉡) 측면	(㉢) 측면	(㉣) 측면		
		불변	증가	감소
불변	가격 불변	가격 하락	가격 상승	가격 상승
	거래량 불변	거래량 증가	거래량 증가	거래량 감소
증가	가격 (㉤)	가격 불분명	가격 상승	가격 상승
	거래량 증가	거래량 증가	거래량 증가	거래량 불분명
감소	가격 하락	가격 하락	가격 불분명	가격 불분명
	거래량 감소	거래량 (㉤)	거래량 감소	거래량 감소

- | | | | |
|------|----|----|-----|
| ㉠ | ㉡ | ㉢ | ㉣ |
| ① 공급 | 수요 | 상승 | 불분명 |
| ② 공급 | 수요 | 상승 | 감소 |
| ③ 공급 | 수요 | 하락 | 증가 |
| ④ 수요 | 공급 | 하락 | 증가 |
| ⑤ 수요 | 공급 | 상승 | 불분명 |

8. 다음 웹 페이지의 밑줄 친 항목을 클릭하면 해당 통계가 나온다. 이 통계를 이용하여 수행할 수 있는 활동을 <보기>에서 모두 고른 것은? [3점]

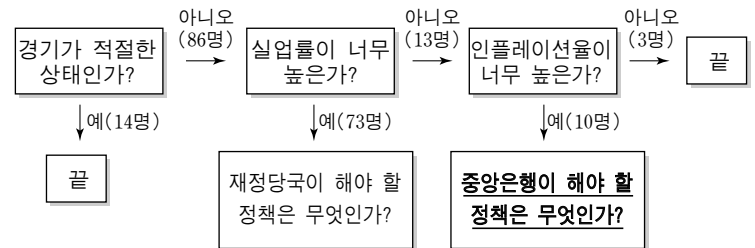


ㄱ. 1990년의 실업률 계산하기
 ㄴ. 1990년대의 필립스 곡선 그리기
 ㄷ. 1990년대의 실질 임금 상승률 구하기
 ㄹ. 1990년과 2005년의 여성 경제활동참가율 비교하기

* 필립스 곡선 : 실업률과 인플레이션율의 관계를 그린 곡선

- ① ㄱ, ㄷ ② ㄱ, ㄹ ③ ㄴ, ㄷ
 ④ ㄱ, ㄴ, ㄹ ⑤ ㄴ, ㄷ, ㄹ

[9~10] 그림은 어느 고등학교 경제 동아리가 100명의 학생을 대상으로 실시한 설문 조사의 흐름도 및 그 결과이다. 물음에 답하시오.



9. 설문 조사에 대한 옳은 분석을 <보기>에서 모두 고른 것은? [3점]

ㄱ. 경기, 실업률, 인플레이션율을 고려하고 있다.
 ㄴ. 스태그플레이션이라고 생각하는 응답자의 수를 알 수 없다.
 ㄷ. 경기 침체보다 경기 과열이라고 생각하는 응답자 수가 더 많다.
 ㄹ. 한 응답자가 재정정책과 통화정책을 동시에 제시할 수 있도록 설계되어 있다.

- ① ㄱ, ㄴ ② ㄱ, ㄷ ③ ㄴ, ㄷ ④ ㄴ, ㄹ ⑤ ㄷ, ㄹ

10. 그림의 밑줄 친 질문에 대한 답변으로 적절한 것은?

- ① 금리 인하 ② 세율 인하 ③ 보유 국채 매각
 ④ 정부 지출 축소 ⑤ 지급준비율 인하

(경제)

사회탐구 영역

3

11. 그림의 대화를 통해 추론한 내용으로 적절한 것을 <보기>에서 모두 고른 것은?



<보기>

- ㄱ. 위 작품의 진품의 공급 곡선은 수직이다.
- ㄴ. 위 작품의 진품 가격은 희소성과 관련이 있다.
- ㄷ. 위 작품의 진품 소유자는 진품의 공급을 독점하고 있다.
- ㄹ. 모방한 작품의 가격이 낮은 이유는 수요 곡선이 비탄력적이기 때문이다.

- ① ㄱ, ㄴ ② ㄴ, ㄷ ③ ㄷ, ㄹ
- ④ ㄱ, ㄴ, ㄷ ⑤ ㄴ, ㄷ, ㄹ

12. 다음 사례로부터 옳게 추론한 내용을 <보기>에서 모두 고른 것은? [3점]

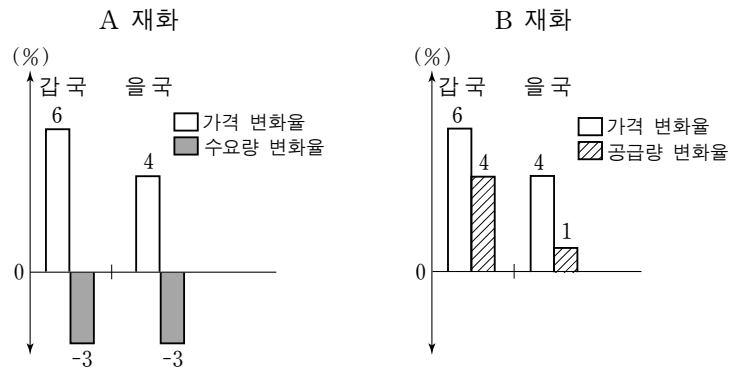
세계의 많은 대도시들은 교통 혼잡 문제로 골머리를 앓고 있다. 경제학자들은 이에 대해 도로 통행료 징수 제도를 해답으로 제시한다. 그러나 세계의 어느 도시도 싱가포르가 시도하기 전까지는 이 제도를 도입할 엄두를 내지 못했다. 싱가포르의 도심 주변에 통행료 징수기를 설치하여 이용한 도로, 이용 시간대 등을 토대로 도심에 진입하는 차량에 대해 통행료를 징수하고 있다.

<보기>

- ㄱ. 통행료를 징수하는 도로는 국방과 같은 공공재이다.
- ㄴ. 통행료를 징수함으로써 도로의 최적 이용량을 유도하고자 한다.
- ㄷ. 통행료를 징수하는 것은 도로 이용의 사적 비용이 사회적 비용보다 크기 때문이다.
- ㄹ. 통행료를 징수하지 않는 경우 누구나 이용할 수 있지만 혼잡에 따른 경합성이 있다.

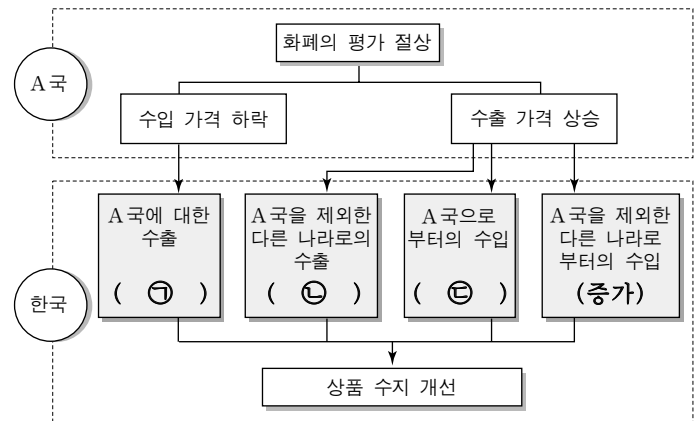
- ① ㄱ, ㄴ ② ㄱ, ㄷ ③ ㄴ, ㄷ ④ ㄴ, ㄹ ⑤ ㄷ, ㄹ

13. 그래프는 A, B 재화의 가격 탄력성을 구하기 위한 자료이다. 이와 관련된 설명으로 적절하지 않은 것은? [3점]



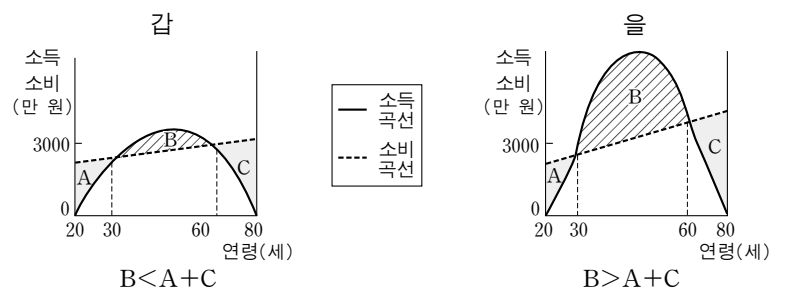
- ① A 재화의 가격을 인상할 경우 판매 수입이 증가할 것이다.
- ② A 재화의 양국 간 수요 탄력성 차이가 대체재 때문이라면 을국에는 갑국보다 대체재가 더 많을 것이다.
- ③ B 재화의 공급 탄력성은 갑국이 을국보다 크다.
- ④ B 재화는 공산품보다 농산물의 공급 탄력성을 설명하는 예로 더 적합하다.
- ⑤ 어떤 재화의 수요, 공급 탄력성이 갑국의 A, B 재화와 같다면 수요가 크게 변화해도 가격은 거의 변화하지 않는다.

14. 그림은 경쟁국인 A국 화폐의 평가 절상이 우리나라의 상품 수지에 영향을 미치는 경로를 나타낸 것이다. ㉠~㉣에 들어갈 효과를 바르게 짝지은 것은? [3점]



- ① ㉠ 증가 ㉡ 증가 ㉢ 감소 ② ㉠ 증가 ㉡ 감소 ㉢ 증가
- ③ ㉠ 증가 ㉡ 감소 ㉢ 감소 ④ ㉠ 감소 ㉡ 증가 ㉢ 증가
- ⑤ ㉠ 감소 ㉡ 증가 ㉢ 감소

15. 그래프는 갑, 을 두 사람의 소득과 소비 곡선을 나타낸 것이다. 이에 대한 설명으로 옳지 않은 것은?



- ① B 영역은 저축을 나타낸다.
- ② 소득의 합계는 갑보다 을이 크다.
- ③ 갑과 을의 소득이 발생하는 기간은 30년이다.
- ④ 갑의 경우 소득의 합계보다 소비의 합계가 크다.
- ⑤ 소비는 계속 증가하지만 소득은 증가하다가 감소한다.

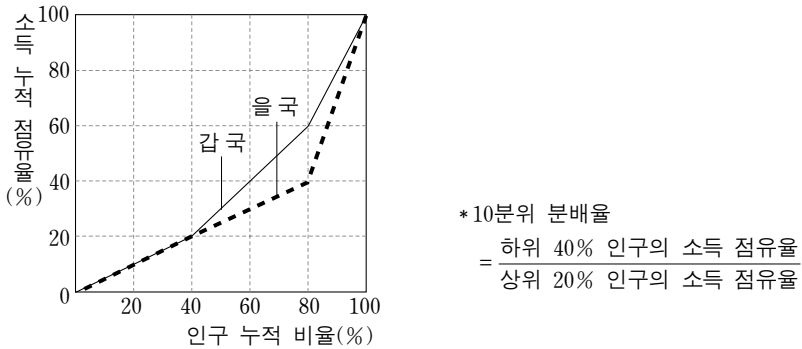
4 사회탐구 영역 (경제)

16. 다음은 경기 상태를 요약한 글이다. ㉠~㉣에 대하여 잘못 설명한 학생은?

실물경제는 건설투자가 부진하고 ㉠ 민간소비가 주춤하지만 ㉡ 수출이 호조세를 유지하고 설비투자도 증가세를 이어가고 있다. 경상수지는 상품수지 흑자 축소와 ㉢ 서비스수지 적자 확대 등으로 적자를 나타냈다. ㉣ 물가는 안정세를 보이고 있으나 경기 회복과 ㉤ 고유가에 따른 상승압력이 지속되고 있다.

- ① 갑 : 소비자의 경제 전망이 부정적이면 ㉠의 현상이 발생할 수 있어.
- ② 을 : 기업의 해외 시장 개척으로 ㉡과 같은 현상이 발생할 수 있어.
- ③ 병 : 외국에 대한 무상 원조가 증가하면 ㉢을 초래할 수 있어.
- ④ 정 : ㉣은 거시경제정책의 중요한 목표 중의 하나야.
- ⑤ 무 : ㉤은 비용상승 인플레이션을 유발하는 원인이지.

17. 그래프는 갑국과 을국의 로렌츠 곡선이다. 이에 대한 설명으로 옳지 않은 것은?



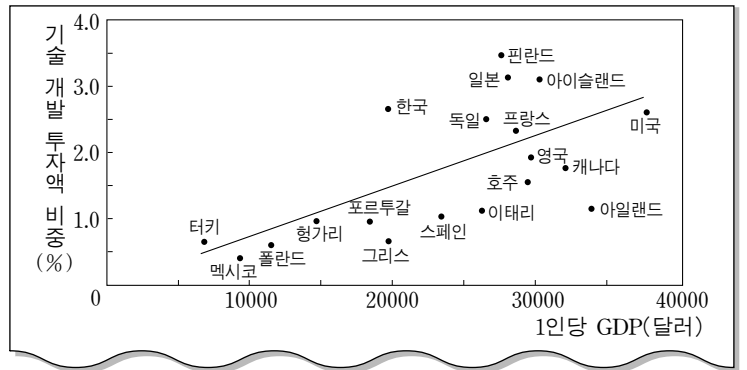
- ① 지니계수는 갑국이 을국보다 작다.
- ② 10분위 분배율은 갑국이 을국보다 크다.
- ③ 중위 40~80% 인구의 소득 점유율은 갑국이 을국보다 높다.
- ④ 갑국이 누진세제와 복지정책을 강화하면 지니계수가 작아진다.
- ⑤ 을국의 상위 20% 인구의 소득 점유율이 높아지면 로렌츠 곡선에서 그 인구에 해당하는 부분은 위쪽 방향으로 이동한다.

18. 100억 원을 갖고 있는 갑회사는 A, B 프로젝트 중 B 프로젝트에 투자하기로 했다. 갑회사의 결정이 합리적 선택이 되려면, B 프로젝트 투자 자금 200억 원에 대한 연간 예상 수익률의 최저 수준은? (단, 각 프로젝트의 기간은 1년이다.) [3점]

- A 프로젝트는 80억 원의 투자 자금이 소요되고, 연 10.0%의 수익률로 8억 원의 수익이 예상되며, 남은 돈은 연 5.0%의 금리로 예금한다.
- B 프로젝트는 200억 원의 투자 자금이 소요되고, 부족한 돈은 연 5.0%의 금리로 대출받는다.

- ① 5.0% ② 6.5% ③ 7.0% ④ 7.5% ⑤ 10.0%

19. 선생님이 수업 시간에 나누어 준 그래프이다. 이를 이용해 해결할 수 있는 과제가 아닌 것은?

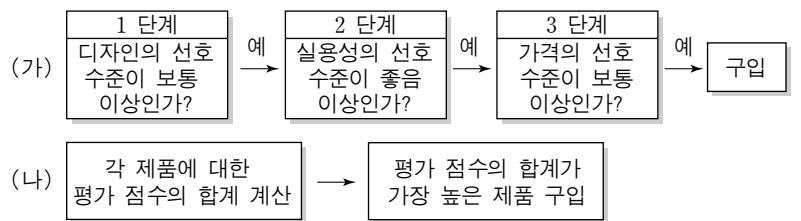


*기술 개발 투자액 비중(%) = $\frac{\text{기술 개발 투자액}}{\text{GDP}} \times 100$

- ① 1인당 GDP가 가장 큰 국가는?
- ② 한국의 1인당 기술 개발 투자액은?
- ③ 기술 개발 투자액이 가장 적은 국가는?
- ④ 1인당 GDP와 기술 개발 투자액 비중의 관계는?
- ⑤ 1인당 GDP가 한국보다 크지만 기술 개발 투자액 비중이 작은 국가는?

20. A~C 제품에 대한 조사 결과를 바탕으로 (가) 또는 (나)의 의사 결정 방식을 적용하여 하나의 제품을 구입하고자 한다. 이에 대한 옳은 설명을 <보기>에서 모두 고른 것은?

평가 기준 제품	디자인		실용성		가격	
	선호 수준	평가 점수	선호 수준	평가 점수	선호 수준	평가 점수
A	중음	4	매우 좋음	5	나쁨	2
B	중음	4	보통	3	보통	3
C	보통	3	중음	4	보통	3



- <보기>
- ㄱ. (가)에서 의사 결정 단계의 순서가 바뀌면 구입하는 제품이 달라진다.
 - ㄴ. (나)에서는 다른 어떤 평가 기준보다 예산 문제를 중요하게 다루고 있다.
 - ㄷ. (가)와 (나) 중에 어느 방식을 택하느냐에 따라 구입하는 제품이 다르다.
 - ㄹ. 각 평가 기준의 선호 수준과 평가 점수 사이에는 정(正)의 관계가 존재한다.

- ① ㄱ, ㄴ ② ㄱ, ㄷ ③ ㄴ, ㄷ ④ ㄴ, ㄹ ⑤ ㄷ, ㄹ

* 확인 사항
○ 답안지의 해당란에 필요한 내용을 정확히 기입(표기)했는지 확인하십시오.