

제 4 교시

사회탐구 영역(사회·문화)

성명  수험번호

- 자신이 선택한 과목의 문제지인지 확인하십시오.
- 문제지에 성명과 수험 번호를 정확히 써 넣으시오.
- 답안지에 성명과 수험 번호를 써 넣고, 또 수험 번호와 답을 정확히 표시하십시오.
- 과목을 선택한 순서대로 풀고, 답은 답안지의 '제1선택'란에서부터 차례대로 표시하십시오.
- 문항에 따라 배점이 다르니, 각 물음의 끝에 표시된 배점을 참고하십시오. 3점 문항에만 점수가 표시되어 있습니다. 점수 표시가 없는 문항은 모두 2점입니다.

1. 다음 글에 나타난 개인과 사회를 바라보는 관점과 일치하는 진술을 <보기>에서 모두 고른 것은?

동양 문화권에서는 자신의 이익보다 사회와의 조화를 추구하고, 개인의 권리보다 집단에 대한 의무를 우선시하였다. 또한 공동체의 목표 달성을 위한 개인의 희생은 명예이며 숭고한 의무라고 여겼다. 이처럼 공동체를 우선시하는 사람을 군자라 칭송하였다.

<보 기>

- ㄱ. 개인은 사회의 그림자다.
- ㄴ. 사회는 개인의 합 이상이다.
- ㄷ. 개인을 알면 사회는 저절로 알게 된다.
- ㄹ. 역사와 사회를 변화시키는 것은 개인들의 힘이다.

- ① ㄱ, ㄴ    ② ㄱ, ㄷ    ③ ㄴ, ㄷ    ④ ㄴ, ㄹ    ⑤ ㄷ, ㄹ

2. 다음 글을 통해 추론한 내용으로 옳은 것을 <보기>에서 모두 고른 것은?

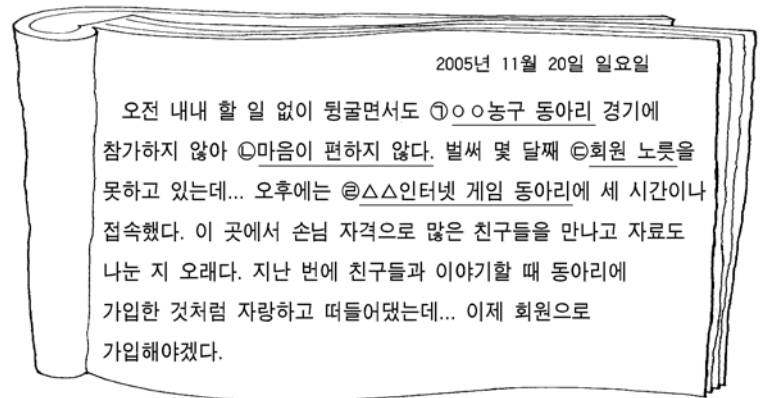
이혼이 증가하면서 한부모 가족과 재혼 가족이 크게 늘어나고 있다. 또한 다양한 형태의 가족도 증가할 것으로 예상된다. 이와 같은 현상은 여권 신장이라는 사회적 요인과 함께 개인의 가치관 변화에 기인하고 있다. 이러한 경향을 반영하여 2005년 3월에 민법이 개정되었다. 개정된 민법은 호주에 관한 규정을 삭제하고, 혼인 신고 시에 부모의 협의에 의해 자녀가 어머니의 성도 따를 수 있도록 하였으며, 생계를 같이 하는 배우자의 직계 혈족 등을 포함하도록 가족의 범위를 확대하였다. 또한 여성에 대한 6개월 재혼 금지 규정을 삭제하고, 동성 동본 간 혼인 제한의 범위를 축소하였다.

<보 기>

- ㄱ. 가치관의 변화에 부응할 수 있도록 핵가족을 장려하였다.
- ㄴ. 가족 해체를 규제하기 위하여 법적 해결책을 마련하였다.
- ㄷ. 사회 변화를 반영하여 가족 개념을 새롭게 정립하고자 하였다.
- ㄹ. 가족 내에서 양성 평등의 가치가 실현될 수 있는 제도적 기반이 마련되었다.

- ① ㄱ, ㄴ    ② ㄱ, ㄷ    ③ ㄴ, ㄷ    ④ ㄴ, ㄹ    ⑤ ㄷ, ㄹ

3. 다음은 갑의 일기이다. 밑줄 친 부분에 대한 타당한 설명을 <보기>에서 모두 고른 것은? [3점]

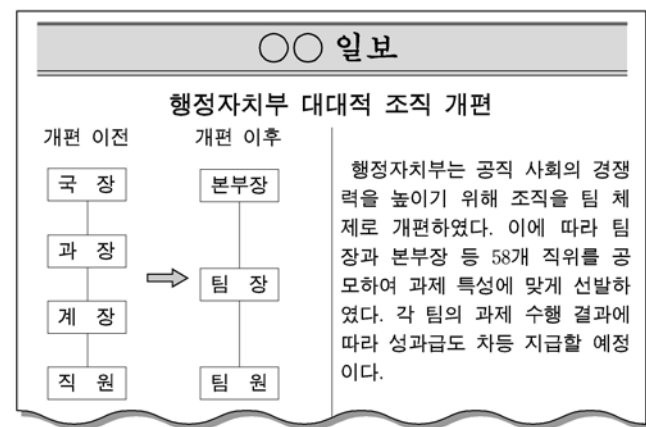


<보 기>

- ㄱ. ㉠은 이익 사회이며 자발적 결사체이다.
- ㄴ. ㉡은 역할 갈등, ㉢은 역할 행동에 해당된다.
- ㄷ. ㉣은 갑이 회원이 된 이후부터 갑의 준거 집단이 될 수 있다.
- ㄹ. ㉤은 실제 대면 접촉이 어렵다는 한계가 있더라도 사회 집단으로 볼 수 있다.

- ① ㄱ, ㄴ    ② ㄱ, ㄹ    ③ ㄴ, ㄷ  
④ ㄱ, ㄷ, ㄹ    ⑤ ㄴ, ㄷ, ㄹ

4. 다음은 정부의 조직 개편에 관한 신문 기사의 일부이다. 이와 같은 개편에 의해 나타날 수 있는 변화로 옳은 것을 <보기>에서 모두 고른 것은?

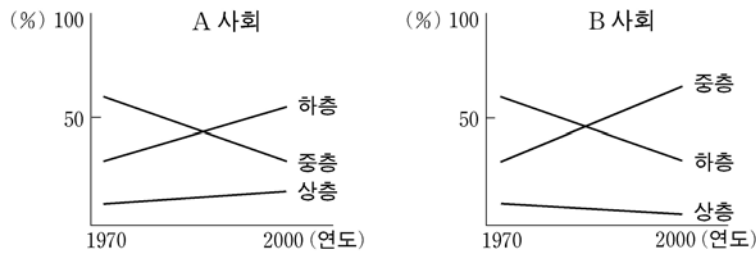


<보 기>

- ㄱ. 개인의 업무가 세분화되고 재량권이 높아질 것이다.
- ㄴ. 계층적 조직 문화가 약화되고 능력 중심 구조가 형성될 것이다.
- ㄷ. 조직의 효율성은 낮아지나 개인의 창의성은 높아질 것이다.
- ㄹ. 사회 변화와 국민의 요구에 유연하게 대처할 수 있을 것이다.

- ① ㄱ, ㄷ    ② ㄴ, ㄹ    ③ ㄷ, ㄹ  
④ ㄱ, ㄴ, ㄷ    ⑤ ㄱ, ㄴ, ㄹ

5. 그래프는 사회 이동에 따른 계층 구성의 비율 변화를 보여준다. 이에 대한 적절한 설명을 <보기>에서 모두 고른 것은? [3점]



<보 기>  
 ㄱ. A는 폐쇄적 계층 구조를 가지고 있다.  
 ㄴ. A의 계층 구조는 다이아몬드형에서 피라미드형으로 변화하였다.  
 ㄷ. B는 A와 달리 양극화 현상이 완화되었다.  
 ㄹ. B는 A에 비해 상층의 세습이 심화되고 있다.

- ① ㄱ, ㄴ      ② ㄱ, ㄹ      ③ ㄴ, ㄷ  
 ④ ㄱ, ㄷ, ㄹ      ⑤ ㄴ, ㄷ, ㄹ

6. 표는 어떤 연구 내용을 요약한 것이다. 이에 대한 설명으로 가장 타당한 것은? [3점]

주제	물 사용 방식이 기생충 감염에 미치는 영향
조사 지역	전국에서 기생충 감염률이 가장 높은 마을
자료 수집	○ 주민들의 물 사용 행위 관찰 및 주민 면접 ○ 기생충 감염 경로에 대한 전문가 면접
분석 결과	○ 물을 살아있다고 인식하여 끓이지 않은 채 식수로 사용하고 있다. ○ 분노가 퇴비로 이용되어 물이 오염된다. ○ 물 속의 감염원이 음식물에 지속적으로 침투한다.

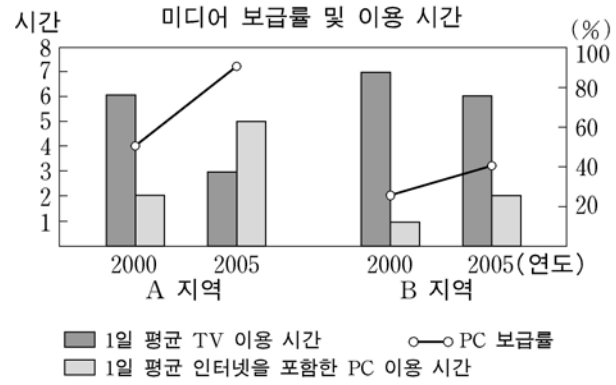
- ① 이 연구는 비교 연구를 목적으로 설계되었다.  
 ② 가설을 설정하지 않아 결론의 신뢰도가 낮다.  
 ③ 상관 관계 입증 가능한 주제가 선정되었다.  
 ④ 조사 지역은 모집단에 대한 표본의 대표성을 고려하여 선정되었다.  
 ⑤ 조사 지역 선정과 자료 수집 과정에서 통계적 자료가 활용되지 않았다.

7. 다음 자료를 통해 알 수 있는 내용으로 가장 타당한 것은?

1998년 49만 명 정도였던 독거 노인의 수가 꾸준히 늘어 2004년에는 70만 명에 이르렀다. 많은 독거 노인들이 한때는 가족들 사이에서 어른 대접을 받으며 지냈다. 그러나 급속한 사회·경제적 변동 과정에서 불가피하게 자녀와 따로 살게 된 노인들이 늘어난 것이다. 독거 노인들의 다수는 월 30만원 미만의 적은 소득으로 살아가고 있으며, 외로움과 질병으로 인해 이중 삼중의 고통을 겪는 사례도 적지 않다. 한편, 여성의 평균 수명이 더욱 높은 수준을 유지하는 가운데 독거 노인 중 여성의 비중이 점점 더 높아지고 있다.

- ① 독거 노인의 남녀 평균 소득 격차가 커지고 있다.  
 ② 개인주의적 가치관이 여성 독거 노인에게 확산되고 있다.  
 ③ 독거 노인 문제는 가부장제의 약화에 따라 일시적으로 발생한다.  
 ④ 저소득층 독거 노인의 인권이 보호받지 못할 가능성이 높다.  
 ⑤ 독거 노인 문제는 자본주의 사회에서 일상적으로 나타나는 일탈 사례이다.

8. 그래프에 대한 타당한 설명을 <보기>에서 모두 고른 것은? [3점]



<보 기>  
 ㄱ. A는 B에 비해 정보 기기의 보급 속도가 더 빠르다.  
 ㄴ. A는 B에 비해 개인 정보의 유출 가능성이 더 높다.  
 ㄷ. 뉴미디어 이용 시간이 늘어나면 전체 미디어 이용 시간도 늘어난다.  
 ㄹ. 가상 공동체를 이용한 두 지역 간 사회 통합을 위한 투자는 B에 우선되어야 한다.

- ① ㄱ, ㄴ      ② ㄴ, ㄷ      ③ ㄷ, ㄹ  
 ④ ㄱ, ㄴ, ㄹ      ⑤ ㄱ, ㄷ, ㄹ

9. 다음 두 사례를 종합하여 내린 결론으로 가장 타당한 것은?

○ 벨라네시아의 정치 지도자인 빅맨(Big Man)의 권력은 개인적인 것이다. 빅맨은 개인적으로 추종자를 만들어 그 지위를 획득한다. 추종자들은 경쟁하는 지도자들을 중심으로 이합집산을 거듭하기 때문에 빅맨의 지위는 불안정하다.  
 ○ 폴리네시아의 추장은 제도화된 추종과 지도의 관계를 형성한다. 지도력은 추장의 지위에 내재되어 있고, 신성한 혈통을 가진 사람만 추장이 될 수 있다고 믿는다. 추장의 지위는 장남에게 계승될 정도로 안정적이다.

- ① 권력이 제도화되어 있을수록 더 우월한 사회이다.  
 ② 정치 지도자는 추종자들의 의사에 의해 결정된다.  
 ③ 추종과 지도의 관계는 혈통의 신성성에 의해 형성된다.  
 ④ 권력의 획득 방법은 권력의 안정성을 결정하는 요인이다.  
 ⑤ 지도자가 되기 위한 개인적 노력은 권력 획득에 필수적이다.

10. 그림은 제일 교포들이 사용하는 문패의 모습이다. 이를 문화 변동의 관점에서 설명할 때 가장 적절한 것은?



- ① 새로운 문화 요소를 거부하는 문화 복고 운동이다.  
 ② 한 문화가 다른 문화를 흡수해 버린 문화 동화이다.  
 ③ 전파와 새로운 발명이 결합된 자극 전파의 사례이다.  
 ④ 문화 접변 과정에서 문화적 정체성을 유지하려는 노력이다.  
 ⑤ 물질 문화와 비물질 문화의 차이로 인한 문화 지체 현상이다.

[11~12] 다음 자료를 읽고 물음에 답하시오.

**○○ 신문**

<p>청소년의 게임 중독 방지를 위해 온라인 게임 셧다운(shut down) 제도를 도입하자는 주장이 제기되었다. 이 제도는 자정부터 오전 6시까지</p>	<p>청소년의 온라인 게임 접속이 자동으로 중단되도록 하는 것으로서, 현재 이 제도의 도입 여부를 놓고 찬반 의견이 제시되고 있다.</p>
--	---

<제도 도입 여부에 대한 토론>

게임 시장이 활성화되면 국가 경제에 크게 기여할 것입니다. 그리고 청소년이 자신의 의사에 따라 절제하면 되는 것이지 제도를 만들어서 게임을 못하게 막을 필요는 없어요. 나이가 어리다는 이유로 청소년이 차별을 받아서도 안 됩니다.

**철수**

우리 사회의 앞날을 위해 청소년은 열심히 공부해야 합니다. 게임에 빠져 밤을 새우지 않도록 강력한 제도를 통해 보호해 주어야 해요. 우리의 국가 경쟁력은 바로 청소년에게 달려 있으니까요.

**영희**

11. 두 사람의 토론에 대한 설명으로 가장 적절한 것은?

- ① 철수는 청소년의 자율과 건강 보호를 중시하고 있다.
- ② 철수는 청소년의 권리와 산업의 발전을 강조하고 있다.
- ③ 철수는 기업 경쟁력 강화와 청소년의 안전을 중시하고 있다.
- ④ 영희는 가족 간의 유대 강화와 경제 성장을 강조하고 있다.
- ⑤ 영희는 국가의 청소년 보호와 법 앞의 평등 보장을 주장하고 있다.

12. 표는 위의 제도 도입에 대한 두 가지 의견 조사 결과이다. 이에 대해 바르게 설명한 학생을 <보기>에서 모두 고른 것은? [3점]

조사 주체	□□ 온라인 게임 업체(A)	△△ 학부모 단체(B)	
조사 방식	홈페이지에서 온라인 투표	전화 조사	
응답자	네티즌 27,865명	중고생 자녀를 둔 부모 500명과 중고생 100명	
질문 문항	국가가 강제로 청소년의 온라인 게임을 종료시킴으로써 청소년을 차별하는 셧다운 제도 도입에 대해 어떻게 생각하십니까?	자정이 되면 청소년의 온라인 게임 접속이 자동으로 중단되도록 하는 셧다운 제도 도입에 대해 어떻게 생각하십니까?	
결과	찬성	30%	80%
	반대	64%	14%
	잘 모름	6%	6%

<보 기>

갑: 응답자 규모가 큰 A의 조사 결과를 일반화하는 것이 좋아.  
 을: B의 조사 결과는 학부모와 중고생 각각의 여론을 대표하고 있어.  
 병: A는 B에 비해 비용이 적게 들고 자발적 참여를 이끌어 내기에 용이한 조사 방식을 택했어.  
 정: A는 이 제도에 대한 반대 유도 성격의 문항을, B는 정보 제공 성격의 문항을 사용하였군.

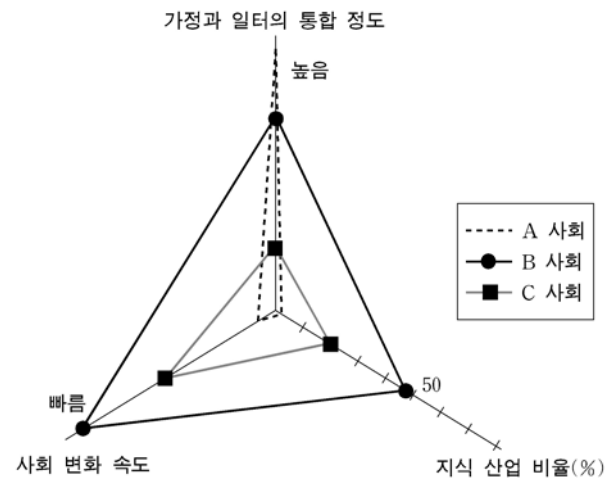
- ① 갑, 을                      ② 갑, 병                      ③ 병, 정
- ④ 갑, 을, 정                ⑤ 을, 병, 정

13. 다음 두 사례를 종합하여 내린 결론으로 가장 타당한 것은?

- 수려한 경관으로 유명한 ○○ 지역 주민들은 골프장 건설에 대한 지방 자치 단체의 허가 방침을 저지하고, 아름다운 자연 환경을 관광 자원으로 개발하였다. 그 결과 소득도 증대되고 자연 환경도 보호되는 성과를 거두었다.
- 아마존 유역은 지구의 허파라 불릴 정도로 산림이 울창한 곳이지만 대규모 개발로 인한 산림 파괴 문제가 심각해지고 있다. 이에 따라 정부는 원주민들의 삶의 질을 개선하기 위한 개발은 허용하되 개발의 범위와 한도를 정하였다.

- ① 환경과 성장의 조화를 전제로 하는 개발이 중요하다.
- ② 거점 개발로 인한 문제는 균형 개발을 통해 해결 가능하다.
- ③ 정부와 지역 주민 간의 긴밀한 협조를 통한 개발이 중요하다.
- ④ 개발이 성공을 거두기 위해서는 상향식 의사 결정이 중요하다.
- ⑤ 전지구적 차원의 생태계 보호를 위해 지역의 자연 환경을 보존하는 것이 중요하다.

14. 그림에 나타난 A, B, C 사회의 특징에 대한 설명으로 옳은 것은? [3점]



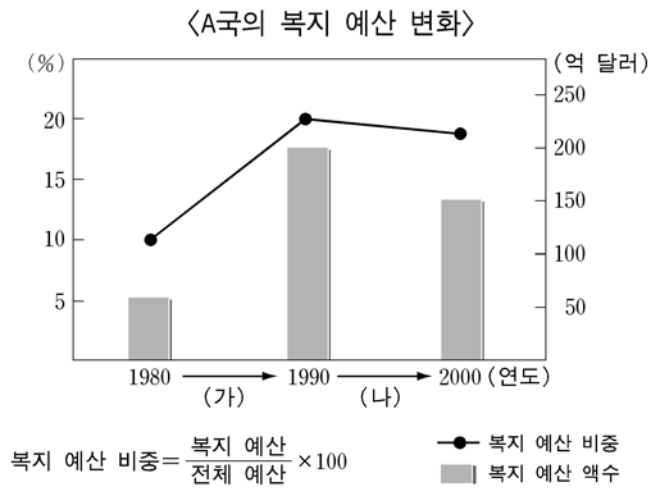
- ① A는 B에 비해 인간 소외 현상이 더 나타난다.
- ② A는 C에 비해 대규모의 자본을 더 필요로 한다.
- ③ B는 C에 비해 탈규격화 경향이 더 나타난다.
- ④ C에서 다품종 소량 생산 방식이 가장 많이 나타난다.
- ⑤ C는 B에 비해 수평적 사회 관계가 더 나타난다.

15. 다음 사례에 나타난 문화 이해의 관점에 대한 설명으로 가장 적절한 것은? [3점]

갑은 친구로부터 실내복을 선물 받았다. 며칠 동안 서재에서 실내복을 입고 있으니 그 동안 사용하던 책상이 실내복과는 어울리지 않는다는 생각이 들어 책상을 새 것으로 바꾸었다. 그러자 이번에는 장식장이 어색해 보이기 시작하였다. 그는 장식장, 카펫을 차례로 바꾸고 서재의 모든 소품을 새롭게 장만하여 서로 통일성을 가질 수 있도록 하였다.

- ① 문화의 보편성과 특수성을 이해하려는 노력을 말한다.
- ② 집단 내의 일체감과 자부심을 고양시키는 기능이 있다.
- ③ 전체를 떠난 부분은 의미를 규정하기 어렵다는 인식이다.
- ④ 다른 사회의 문화를 편견없이 이해하기 위한 기본 전제이다.
- ⑤ 선진 사회의 문화를 우수한 것으로 받아들여 문화적 주체성이 상실될 우려가 있다.

16. 다음 (가), (나)의 복지 예산 변화를 통해 A국이 대처하고자 한 문제점으로 볼 수 있는 것을 바르게 짝지은 것은?



- |  |  |
|--|--|
| <p>(가)</p> <ul style="list-style-type: none"> <li>① 소득 불평등 심화</li> <li>② 정부의 재정 적자 심화</li> <li>③ 국민의 조세 부담 증가</li> <li>④ 저소득층 고령 인구 증가</li> <li>⑤ 사회적 소수자 집단 증가</li> </ul> | <p>(나)</p> <ul style="list-style-type: none"> <li>정부의 재정 적자 심화</li> <li>국민의 조세 부담 증가</li> <li>사회적 소수자 집단 증가</li> <li>소득 불평등 심화</li> <li>저소득층 고령 인구 증가</li> </ul> |
|--|--|

17. 표는 전국 도시 인구의 증가 추세와 그 요인을 나타낸 것이다. 이에 대한 설명으로 옳은 것은? [3점]

연도	전국 도시 인구 증가(천 명)	도시 인구 증가 요인(%)			
		자연 증가	순이동*	권역 확대	시 승격
1971~1975	3,842	47	45	3	5
1976~1980	4,638	46	40	4	10
1981~1985	5,506	44	37	1	18
1986~1990	5,866	35	27	6	32
1991~1995	2,727	73	7	1	19
1996~2000	1,719	62	13	0	25

\*순이동=전입-전출

- ① 도시 인구의 증가 속도는 계속 빨라지고 있다.
- ② 도시 인구 증가의 가장 중요한 요인은 이촌 현상이다.
- ③ 1971년부터 1990년 사이의 이촌 인구는 점차 줄어들었다.
- ④ 자연 증가에 의한 도시 인구의 증가는 1991~1995년에 가장 컸다.
- ⑤ 1986~1990년에는 행정 구역 변화가 도시 인구 증가의 가장 중요한 요인이었다.

18. 다음 대화의 의미를 모두 포함하는 사례로 가장 적절한 것은?



- ① 게시판의 글을 사실 확인 없이 대량으로 유포한다.
- ② 상품에 대한 허위 과장 광고를 통해 폭리를 취한다.
- ③ 친구들과의 대화를 위해 시사 프로그램을 시청한다.
- ④ 자신의 입장과 다른 견해에 대하여 악의적 댓글을 단다.
- ⑤ 연예인이 유행시킨 소품을 사용하면서 연예인처럼 행동한다.

19. 다음은 미국 어느 도시의 공간 구조를 특정한 관점에서 연구한 결과의 일부이다.

『중의 기원』 이래로 유기체의 구조와 변화를 환경에 대한 적응 과정으로 연구해 온 생태학은 도시의 공간 구조와 인간 행위를 이해하는 데 활용될 수 있다. 예컨대, 도시는 하나의 유기체로서 ‘공생’, ‘경쟁’, ‘침입’과 같은 생태학적 과정에 의해 구조적으로 분화되어 도시 공간 간의 연관 관계가 나타난다. (중략) 상공업 활동이 밀집한 중심 지대 둘레에는 접이 지대가 있다. 이 지대는 거주지로 적합하지 않아 집값이 가장 저렴하다. 그래서 주로 이민자들이 모여 살고 있으며 범죄율이 높다는 특징을 가지고 있다.

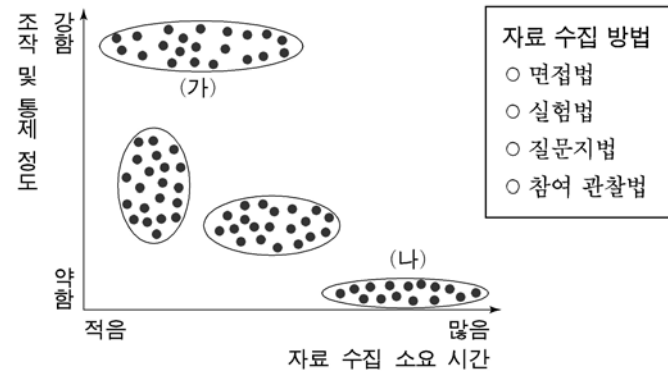
접이 지대에서 발생한 일탈의 원인을 위 연구와 같은 관점에서 추측하고 있는 학생을 <보기>에서 모두 고른 것은? [3점]

〈보 기〉

갑: 지배적인 문화에 이민자 집단이 저항했기 때문일 거야.  
 을: 이민자 집단에서 목표와 수단외 괴리가 있었기 때문일 거야.  
 병: 백인이 자신들의 사회·경제적 조건을 보호·유지시키는 법을 만들었기 때문일 거야.  
 정: 이민자 집단 간의 상이한 가치와 규범이 갈등을 일으켜 공동체 유대가 약화되었기 때문일 거야.

- ① 갑, 병
- ② 을, 정
- ③ 병, 정
- ④ 갑, 을, 정
- ⑤ 을, 병, 정

20. 그림은 사회 과학 연구에 사용되는 여러 가지 자료 수집 방법들을 네 유형으로 도식화한 것이다. (가), (나)에 대한 적절한 설명을 <보기>에서 모두 고른 것은? [3점]



〈보 기〉

ㄱ. (가)는 법적, 윤리적 문제가 심각하게 발생할 수 있으므로 매우 제한적으로만 사용된다.  
 ㄴ. (가)는 소수의 연구 대상자로부터 깊이있는 정보를 얻을 수 있으나 주관적 판단이 개입될 가능성이 높다.  
 ㄷ. (나)는 언어나 문자로 의사 소통하기 어려운 대상을 조사하기에 적합하다.  
 ㄹ. (나)는 (가)에 비해 자료 수집 과정에서 예상하지 못한 변수가 발생할 가능성이 더 높다.

- ① ㄱ, ㄴ
- ② ㄱ, ㄹ
- ③ ㄴ, ㄷ
- ④ ㄱ, ㄷ, ㄹ
- ⑤ ㄴ, ㄷ, ㄹ

\* 확인 사항

- 답안지의 해당란에 필요한 내용을 정확히 기입(표기)했는지 확인 하시오.