

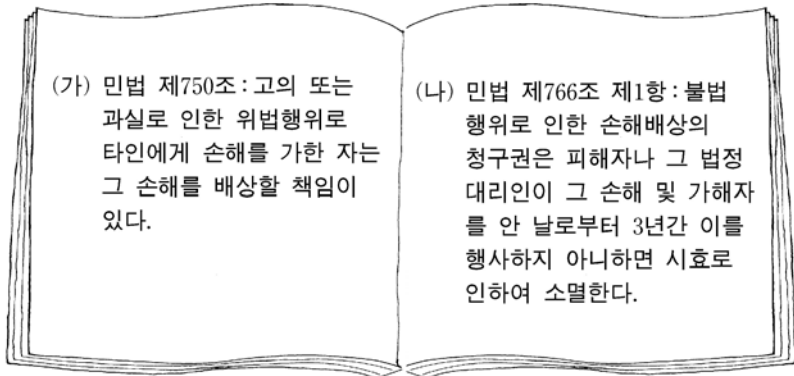
제 4 교시

사회탐구 영역(법과 사회)

성명  수험번호

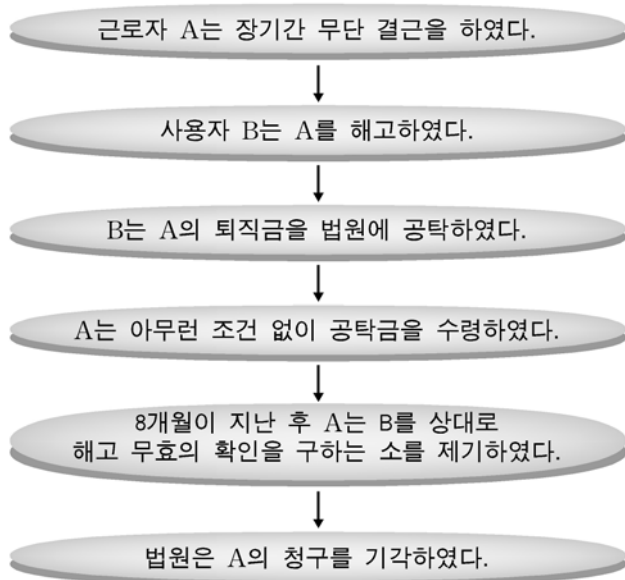
- 자신이 선택한 과목의 문제지인지 확인하십시오.
- 문제지에 성명과 수험 번호를 정확히 써 넣으시오.
- 답안지에 성명과 수험 번호를 써 넣고, 또 수험 번호와 답을 정확히 표시하십시오.
- 과목을 선택한 순서대로 풀고, 답은 답안지의 '제1선택'란에서부터 차례대로 표시하십시오.
- 문항에 따라 배점이 다르니, 각 물음의 끝에 표시된 배점을 참고하십시오. 3점 문항에만 점수가 표시되어 있습니다. 점수 표시가 없는 문항은 모두 2점입니다.

1. 다음 법규정에 대한 설명으로 옳은 것은? [3점]



- ① (가)에 의한 책임은 무과실책임이다.
- ② (가)는 '각자에게 그의 몫을 주라'는 법언과 관련이 있다.
- ③ (나)에 의하면 개인의 권리 행사는 무제한으로 인정된다.
- ④ (나)는 '권리 위에 잡자는 자는 보호받지 못한다'는 법언과 관련이 없다.
- ⑤ (가)와 (나)는 채무불이행에 관한 규정이다.

2. 다음 사례에서 법원이 적용한 법원칙으로 가장 적절한 것은?



- ① 명확성의 원칙
- ② 신의성실의 원칙
- ③ 일사부재리의 원칙
- ④ 유추해석금지의 원칙
- ⑤ 사유재산권 존중의 원칙

3. 다음 자료에 관한 설명으로 옳은 것을 <보기>에서 모두 고른 것은?

대법원은 ①도 의회가 제정한 자치 법규가 ②한·칠레 FTA (대한민국정부와 칠레공화국정부 간의 자유무역협정) ③조에 위반된다고 판시하였다.

<보 기>

- ㄱ. ①은 규칙을 의미한다.
- ㄴ. ①은 법령에 위반되지 않아야 한다.
- ㄷ. ②은 국내법과 같은 효력을 가진다.
- ㄹ. ③은 ②에 우선하는 효력을 가진다.

- ① ㄱ, ㄴ    ② ㄱ, ㄷ    ③ ㄴ, ㄷ    ④ ㄴ, ㄹ    ⑤ ㄷ, ㄹ

4. 다음 사례와 관련한 설명으로 옳은 것은? [3점]

사랑에 빠진 갑은 날마다 을의 대문 앞에서 을이 만나주기를 기다렸다. 갑의 계속된 행위에 지긋지긋하게 싫증이 난 을은 어느 날 물동이 가득 구정물을 떠서 갑에게 퍼부었다. 그러나 다음 날에도 갑이 다시 대문 앞에 나타나자 을은 아예 물동이 자체를 갑의 머리를 향해 던져버렸다. 물동이에 맞아 상처를 입은 갑은 을을 고소하였고, 을은 상해죄로 기소되어 재판이 진행 중이다.

- ① 원고는 갑이 되고, 피고인은 을이 된다.
- ② 을은 기소되었기 때문에 무죄로 추정되지 않는다.
- ③ 갑은 재판에서 상해의 사실을 입증해야 한다.
- ④ 상해에 대한 법원의 해석은 유권해석이다.
- ⑤ 을이 판결에 불복하면 상급 법원에 항고할 수 있다.

5. 다음 사례에 대하여 법적으로 옳게 판단한 학생을 <보기>에서 모두 고른 것은?

한정재산자 갑은 법정대리인 을의 동의를 얻어 〇〇전자상가의 상인 병과 김치냉장고 1대를 100만원에 구입하는 계약을 체결하였다.

<보 기>

- A: 갑의 재산법상의 행위능력은 미성년자의 경우와 같다.
- B: 을은 갑의 행위무능력을 이유로 이 계약을 취소할 수 없어.
- C: 갑이 을의 동의를 얻었다 하더라도 이 계약은 무효야.
- D: 행위무능력자 제도의 목적은 병을 보호하기 위한 것이야.

- ① A, B    ② B, C    ③ C, D
- ④ A, B, D    ⑤ A, C, D

6. 다음 질의에 대한 법률상담소의 법적 조언으로 가장 적절한 것은? [3점]

저의 남편은 해외에 진출한 건설회사에 취업하고 있었습니다. 4년 전에 “이제 일을 다 마쳤으니 귀국하겠다.”라는 편지가 온 이래로 지금까지 남편의 행방을 알 수 없습니다. 그 동안 남편의 소식을 알려고 백방으로 뛰어 다녔으나 모두 허사였고, 이제는 지칠 대로 지쳤습니다. 이러한 사정을 잘 아는 미혼인 갑이 과거는 잊고 자기와 같이 새 생활을 꾸려보자고 합니다. 갑과 재혼하기 위하여 남편과의 관계를 어떻게 정리하면 되겠습니까?

- ① 사정은 딱하지만 법적으로 아무런 방법이 없습니다.
- ② 재판상 이혼을 청구하고, 재산분할도 청구할 수 있습니다.
- ③ 먼저 남편의 사망신고를 하고, 갑과 혼인신고를 하면 됩니다.
- ④ 실종선고를 청구할 수 있으며, 실종선고를 받게 되면 남편은 사망한 것으로 추정됩니다.
- ⑤ 인정사망으로 확인되면 남편은 사망한 것으로 간주되므로, 관공서에 인정사망을 신청하면 됩니다.

7. 다음은 상속에 관한 민법 규정이다.

제1000조 (상속의 순위) ① 상속에 있어서는 다음 순위로 상속인이 된다.

1. 피상속인의 직계비속
2. 피상속인의 직계존속
3. 피상속인의 형제자매
4. 피상속인의 4촌 이내의 방계혈족

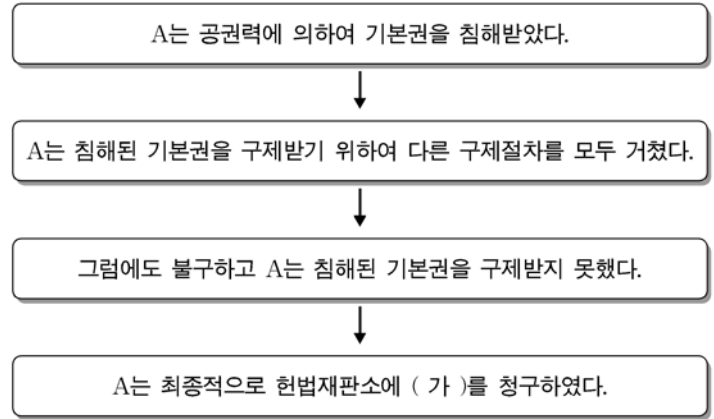
제1001조 (대습상속) 전조 제1항 제1호와 제3호의 규정에 의하여 상속인이 될 직계비속 또는 형제자매가 상속개시 전에 사망하거나 결격자가 된 경우에 그 직계비속이 있는 때에는 그 직계비속이 사망하거나 결격된 자의 순위에 갈음하여 상속인이 된다.

위 규정을 참조하여 다음 사례에서 할아버지의 재산에 대한 상속인을 모두 고른 것은? [3점]

갑은 만 21세로 3년 전에 부모님을 여의고 할아버지와 함께 살고 있었다. 그런데 6개월 전에 할아버지가 사망하였고 유족으로는 큰 아버지 을, 작은 아버지 병, 결혼한 고모 정이 있다.

- ① 갑                      ② 을, 병                      ③ 갑, 을, 병
- ④ 을, 병, 정            ⑤ 갑, 을, 병, 정

8. 다음에서 (가)에 해당하는 권리구제수단은?



- ① 탄핵심판            ② 정당해산심판        ③ 위헌법률심판
- ④ 권한쟁의심판      ⑤ 헌법소원심판

9. 다음 조항들이 규정하는 기본권에 관한 설명으로 옳지 않은 것은?

(가) 모든 국민은 법 앞에 평등하다(제11조 제1항).  
 (나) 모든 국민은 직업선택의 자유를 가진다(제15조).  
 (다) 모든 국민은 법률이 정하는 바에 의하여 선거권을 가진다(제24조).  
 (라) 모든 국민은 헌법과 법률이 정한 법관에 의하여 법률에 의한 재판을 받을 권리를 가진다(제27조 제1항).  
 (마) 모든 국민은 인간다운 생활을 할 권리를 가진다(제34조 제1항).

- ① (가)에서 합리적 차별은 허용된다.
- ② (나)는 직업을 선택하거나 영위할 수 있는 사회적 기본권이다.
- ③ (다)는 개인이 국정에 참여할 수 있는 공권이다.
- ④ (라)는 기본권을 보장하기 위한 기본권의 성격을 가진다.
- ⑤ 생활 능력이 없는 국민이 국가로부터 보호를 받는 것은 (마)와 관련이 있다.

10. 다음 자료에서 기술하고 있는 권리와 관련된 설명으로 옳은 것을 <보기>에서 모두 고른 것은?

지적 창작물을 독점적으로 이용할 수 있는 권리로서, 잠재적 발명자 또는 저작자로 하여금 발명 또는 저작물의 창작에 보다 많은 노력과 지식 그리고 자본을 투입하도록 유인하는 경제적 인센티브로 기능한다.

—<보 기>—

ㄱ. 저작권은 존속기간이 있는 권리이다.  
 ㄴ. 특허권과 의장권은 이 권리에 포함된다.  
 ㄷ. 카피레프트(copyleft)선언은 이 권리의 독점적 행사를 옹호한다.

- ① ㄱ                      ② ㄴ                      ③ ㄱ, ㄴ                      ④ ㄱ, ㄷ                      ⑤ ㄴ, ㄷ

11. 다음은 환경오염에 대한 법적 구제수단이다. 이에 대한 설명으로 옳은 것은? [3점]

(가) 오염물질 배출시설에서 배출되는 오염물질의 배출허용 기준을 설정한다.  
 (나) 준사법적 분쟁해결기구를 통하여 환경분쟁을 소송외적 방법으로 신속·공정하게 해결한다.  
 (다) 사업장 등에서 발생하는 오염물질로 인하여 사람의 생명 또는 신체에 피해가 발생한 때에는 당해 사업자는 그 피해를 배상하여야 한다.

- ① (가)는 사후적 구제수단이다.
- ② (나)는 절차법적 구제수단이다.
- ③ (다)는 예방적 구제수단이다.
- ④ (가)와 (다)는 사법(私法)적 구제수단이다.
- ⑤ (나)와 (다)는 행정법원의 관할이다.

12. 다음에서 추론할 수 있는 내용을 <보기>에서 모두 고른 것은?

형벌은 범죄자 자신을 위해서든 시민사회를 위해서든 어떤 다른 목적을 달성하기 위한 수단일 수 없다. 즉 형벌은 범죄자가 앞으로 죄를 범하지 않도록 하기 위하여 부과되는 것이 아니라, 범죄자가 죄를 범하였기 때문에 부과되는 것이다. 그리고 범죄는 위법한 악행이므로 범죄를 행한 자에게 그 범죄행위에 상응하는 해악을 가하는 것이 바로 형벌이다. 따라서 범죄자는 죄를 범한 만큼 처벌되어야 하며, 사회질서유지를 위하여 지나치게 무겁게 처벌되어서는 안 된다.

<보 기>  
 ㄱ. 형벌의 본질은 범죄자에 대한 응징이다.  
 ㄴ. 형벌의 보완수단으로 보호처분제도가 필요하다.  
 ㄷ. '눈에는 눈, 이에는 이'라는 법언과 관련이 있다.  
 ㄹ. 형벌은 범죄자를 교육하기 위하여 부과되는 것이다.  
 ㅁ. 인간의 존엄성을 침해하는 사형제도는 폐지되어야 한다.

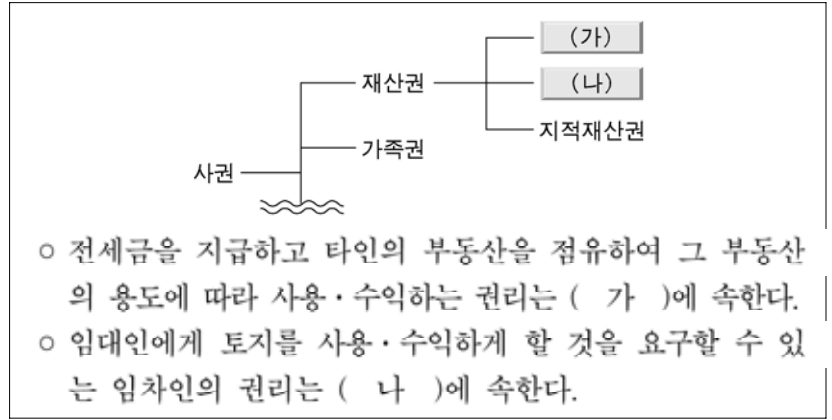
- ① ㄱ, ㄷ                      ② ㄴ, ㄹ                      ③ ㄱ, ㄴ, ㄷ
- ④ ㄱ, ㄷ, ㅁ                ⑤ ㄷ, ㄹ, ㅁ

13. 다음과 같은 내용을 가진 형사정책 수단은?

○ 일정 시간을 무보수로 사회에 유익한 근로를 하게 한다.  
 ○ 사회에 대한 범죄피해 배상 및 속죄의 기회를 제공한다.  
 ○ 범죄자에 대한 처벌효과를 거두면서도 구금에 필요한 예산을 절감할 수 있다.

- ① 선고유예                  ② 집행유예                  ③ 손해배상
- ④ 노역장 유치              ⑤ 사회봉사명령

14. 다음은 권리의 분류를 나타낸 자료의 일부이다. (가), (나)의 법적 성질을 비교한 것으로 옳은 것을 <보기>에서 모두 고른 것은? [3점]



<보 기>  
 ㄱ. (가)의 객체는 급부이고, (나)의 객체는 물건이다.  
 ㄴ. (가)는 공시가 필요하지만, (나)는 공시가 필요하지 않다.  
 ㄷ. (가)는 모든 사람에게 주장할 수 있지만, (나)는 특정인에게만 주장할 수 있다.  
 ㄹ. 계약자유 원칙은 (가)에는 적용되지만, (나)에는 적용되지 않는다.

- ① ㄱ, ㄴ    ② ㄱ, ㄹ    ③ ㄴ, ㄷ    ④ ㄴ, ㄹ    ⑤ ㄷ, ㄹ

15. 자료 (가)에서의 조치와 (나)에서의 표시를 통하여 각각 보호받을 수 있는 소비자보호법상의 소비자의 기본적 권리를 <보기>에서 모두 고른 것은?

○○ 일보      2005년 ○월 ○일

**유해 △△ 식품  
폐기처분하기로**

식품의약품안전청은 시중에서 유통되고 있는 △△ 식품을 수거해 검사한 결과 일부 제품에서 유해물질이 검출되어 해당 제품을 전량 폐기처분하기로 하였다.

□□ 리면

**조리법**

개봉 표시선까지 뚜껑을 열고 스프를 넣은 후 응기 안쪽 표시선까지 끓는 물(270ml)을 부은 다음 뚜껑을 닫고 5분간 기다린 후 잘 저어서 드십시오

<보 기>  
 ㄱ. 건강하고 쾌적한 환경에서 생활할 권리  
 ㄴ. 물품 및 용역을 선택함에 있어서 필요한 지식 및 정보를 제공받을 권리  
 ㄷ. 모든 물품 및 용역으로 인한 생명·신체 및 재산상의 위해로부터 보호받을 권리  
 ㄹ. 소비자 스스로의 권익을 옹호하기 위하여 단체를 조직하고 이를 통하여 활동할 수 있는 권리

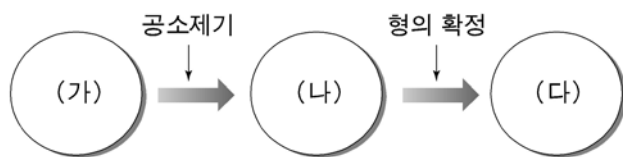
- ① ㄱ, ㄴ    ② ㄱ, ㄷ    ③ ㄴ, ㄷ    ④ ㄴ, ㄹ    ⑤ ㄷ, ㄹ

16. 다음 글의 밑줄 친 '이것'에 해당하는 사례로 가장 적절한 것은? [3점]

교도관이 징역형이 확정된 자를 교도소에 수용하는 행위는 위법성 조각사유 중의 하나인 이것에 해당하여 범죄가 성립되지 아니한다.

- ① 가게에서 물건을 훔치고 있는 자를 가게 종업원이 붙잡은 경우
- ② 수일 전 자신의 지갑을 훔쳐간 소매치기를 잡아 지갑을 되찾은 경우
- ③ 치료 불가능한 암환자로부터 진지한 승낙을 받고 그 암환자를 살해한 경우
- ④ 총을 들고 협박하는 은행 강도로부터 자신을 방어하기 위하여 그 강도를 밀쳐 넘어뜨려 상해를 입힌 경우
- ⑤ 길을 지나가는데 멧돼지가 공격해 오자 이를 피하기 위하여 급한 나머지 주인의 허락 없이 이웃집에 들어간 경우

17. 다음은 형사소송의 절차를 도식화한 것이다. 이에 대한 설명으로 옳은 것을 <보기>에서 모두 고른 것은? [3점]



<보 기>

ㄱ. (가)단계에서 영장 없이 체포된 현행범인도 자기에게 불리한 진술을 거부할 권리가 있다.  
 ㄴ. (나)단계에서 사실의 인정은 증거에 의하여야 한다.  
 ㄷ. (나)단계에서 구속된 피고인은 검찰청에 보석을 청구할 수 있다.  
 ㄹ. (다)단계에서 가석방된 자는 가석방 기간 중 원칙적으로 수강명령을 이행하여야 한다.

- ① ㄱ, ㄴ                      ② ㄷ, ㄹ                      ③ ㄱ, ㄴ, ㄷ
- ④ ㄱ, ㄴ, ㄹ                ⑤ ㄴ, ㄷ, ㄹ

18. 다음 사례에 대한 행정법적 구제수단으로 적절한 것을 <보기>에서 모두 고른 것은?

○ 갑은 ○○시가 수도 공사 중 방치한 웅덩이에 실족하여 골절상을 입었다.  
 ○ 을은 법령이 정한 요건을 갖추어 음식점 영업허가를 신청하였지만 △△시장은 아무런 의사표시를 하지 않고 계속 방치하였다.

<보 기>

ㄱ. 취소소송                      ㄴ. 행정상 손해배상  
 ㄷ. 행정상 손실보상            ㄹ. 부작위위법확인소송

- ① ㄱ, ㄴ    ② ㄱ, ㄷ    ③ ㄴ, ㄷ    ④ ㄴ, ㄹ    ⑤ ㄷ, ㄹ

19. 다음 사례와 관련한 법적 판단으로 옳은 것을 <보기>에서 모두 고른 것은? [3점]

만 13세인 갑은 친구인 을과 놀이를 하다가 말다툼 끝에 을에게 돌을 던져 3주의 치료를 요하는 상해를 입혔다. 갑의 부모는 아들이 잘못된 일이므로 을의 부모에게 사과하고 치료비를 부담하려고 하였는데, 을의 부모는 많은 돈을 요구하였다. 갑의 부모가 이를 거절하자 을의 부모는 갑을 상해죄로 고소하였다.

<보 기>

ㄱ. 촉법소년인 갑은 관할 소년부에 송치되어 보호처분을 받을 수 있다.  
 ㄴ. 갑이 형사처벌을 받는 경우에는 을에 대한 손해배상책임이 면제된다.  
 ㄷ. 법원은 갑에게 벌금형을 선고하기 위하여 필요한 경우에 판결전 조사제도를 이용할 수 있다.  
 ㄹ. 상해죄에 대한 갑의 보호관찰이 종료되었다고 검사는 갑을 상해죄로 다시 공소제기할 수 있다.

- ① ㄱ            ② ㄴ            ③ ㄱ, ㄷ        ④ ㄱ, ㄹ        ⑤ ㄷ, ㄹ

20. (가), (나) 판결에 관한 설명으로 옳은 것을 <보기>에서 모두 고른 것은? [3점]

(가) 병역거부가 오직 양심상 결정에 따른 것이라면 병역의무의 이행을 거부할 '정당한 사유'에 해당하여 입영기피로 인한 처벌을 받지 아니한다.  
 (나) 병역의무가 제대로 이행되지 않아 국가의 안전보장이 이루어지지 않는다면 국민의 인간으로서의 존엄과 가치도 보장될 수 없음은 불을 보듯 명확한 일이다. 양심적 병역거부자의 양심의 자유가 국가의 안전보장보다 우월한 가치라고는 할 수 없다.

<보 기>

ㄱ. (가)는 개인의 양심의 자유보다 국가의 존립을 더 우선시한다.  
 ㄴ. (가)에 의하면 양심적 병역거부가 인정된다.  
 ㄷ. (나)는 양심의 자유를 상대적 자유로 본다.  
 ㄹ. (나)에 의하면 양심에 따라 병역의무의 이행을 거부할 수 있다.

- ① ㄱ, ㄴ    ② ㄱ, ㄷ    ③ ㄱ, ㄹ    ④ ㄴ, ㄷ    ⑤ ㄷ, ㄹ

\* 확인 사항  
 ○ 답안지의 해당란에 필요한 내용을 정확히 기입(표기)했는지 확인하십시오.