


제 4 교시

직업탐구 영역 (상업 경제)

성명 수험 번호 - 제 () 선택

1. 다음 모자간의 대화 장면에서 ○○회사가 도입하게 될 정보 시스템으로 적절한 것은?



- ① CRM ② CVO ③ ERP
- ④ POS ⑤ RFID

2. 다음 (가), (나) 사례에 공통적으로 나타난 상업의 기능으로 가장 적절한 것은?

(가) ○○(주)는 화주가 요구하는 당일 배송 서비스를 제공하고 있다. 최근 늘어난 배송 물량에 대응하기 위한 차량 증차가 필요하여 은행에서 자금을 대출받았다.

(나) 보부상인 △△씨는 상품을 지게에 지고 하루에 왕복할 수 있는 거리의 장터까지 30~40여 리를 걸어서 이동하였고, 이동 거리를 상품 가격에 반영하여 팔았다.

- ① 자금의 불일치 해소 기능
- ② 장소적 불일치 해소 기능
- ③ 정보의 불일치 해소 기능
- ④ 품질의 불일치 해소 기능
- ⑤ 경제적 손실 위험 해소 기능

3. 다음은 ○○(주)의 운송 수단 도입 결정을 위한 회의록의 일부이다. 해상 운송 대비 ○○(주)가 도입하게 될 운송 수단이 갖는 특징으로 적절한 것만을 <보기>에서 고른 것은?

○○(주)의 운송 수단 도입 결정을 위한 회의록

- 회의 주제: 현실 상황을 반영한 육상 운송 수단 도입
- 현실 상황
 - 고객들의 상품 구입이 수시로 이루어져 부정기적으로 상품을 운송할 필요가 있음.
 - 고객 서비스 제고를 위해 고객이 상품을 가정에서 편리하게 받을 수 있도록 해 주는 문전 운송이 필요함.

<보 기>

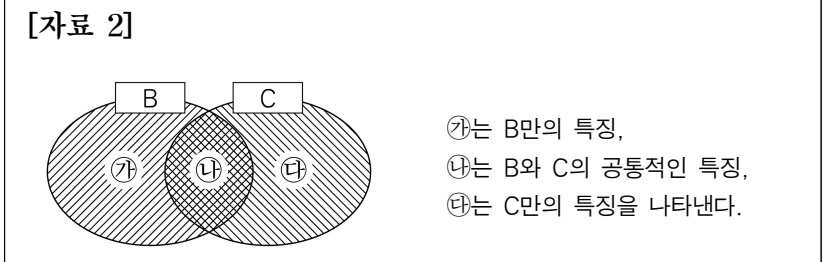
㉠. 기후의 영향을 많이 받는다.
 ㉡. 원거리 운송 시 운임이 저렴하다.
 ㉢. 소량 화물을 운송하는 데 적합하다.
 ㉣. 원활한 기동성으로 신속한 운송이 가능하다.

- ① ㉠, ㉡ ② ㉠, ㉢ ③ ㉡, ㉣ ④ ㉢, ㉣ ⑤ ㉣, ㉣

4. 다음 [자료 1]은 질문의 답변에 따라 경쟁 매매의 종류 A~C를 구분한 것이고, [자료 2]는 B, C의 특징을 그림으로 나타낸 것이다. 이에 대한 설명으로 적절한 것만을 <보기>에서 고른 것은? (단, A~C는 경매, 경매매, 입찰 판매 중 각각 하나이다.) [3점]

[자료 1]

질문	경쟁 매매의 종류		
	A	B	C
관공서에서 재산을 처분할 때 주로 사용하는가?	아니요	예	아니요
한 사람의 판매자와 다수의 구매자가 가격을 경쟁하는가?	아니요	예	예



<보 기>

㉠. ㉠에는 '구두로 가격 신청을 받는다.'가 들어갈 수 있다.
 ㉡. ㉡에는 '최고 가격으로 가격이 결정된다.'가 들어갈 수 있다.
 ㉢. ㉢에는 '입찰 공고를 통해서 거래하는 방식이다.'가 들어갈 수 있다.
 ㉣. A는 코스닥 시장에서 주식 거래 시, C는 중앙도매시장에서 농산물 거래 시 주로 이용된다.

- ① ㉠, ㉡ ② ㉠, ㉢ ③ ㉡, ㉣ ④ ㉢, ㉣ ⑤ ㉣, ㉣

5. 표는 A, B국의 고용 관련 자료이다. 이를 분석한 내용으로 옳은 것만을 <보기>에서 있는 대로 고른 것은? [3점]

<A, B국의 고용 관련 자료>

구분	A국	B국
총인구(명)	400	210
노동 가능 인구(명)	300	100
경제 활동 인구(명)	160	70
비경제 활동 인구(명)	㉠	××
고용률(%)	40	63
실업률(%)	25	10

<보 기>

㉠. ㉠에는 140이 들어간다.
 ㉡. A국은 B국보다 경제 활동 참가율이 낮다.
 ㉢. A국의 취업자 수는 120명, B국의 실업자 수는 7명이다.

- ① ㉠ ② ㉡ ③ ㉠, ㉢ ④ ㉡, ㉢ ⑤ ㉠, ㉡, ㉢

2 (상업 경제)

직업탐구 영역

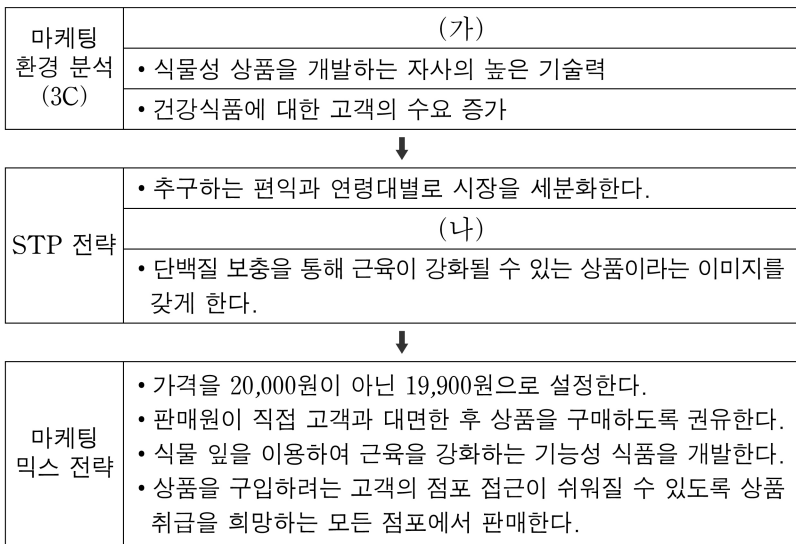
6. 다음 강사가 설명하고 있는 ○○기업의 경영 혁신 기법으로 가장 적절한 것은?

여러 기업들이 자사의 경쟁 우위를 강화하려는 경영 혁신을 추진하고 있습니다. 실례로 ○○기업은 유사한 부서를 통합하고, 직무 체계를 축소하여 조직의 효율성을 높이고 있습니다.



- ① 벤치마킹 ② 아웃소싱 ③ 다운사이징
④ 식스 시그마 ⑤ 전략적 제휴

7. 다음은 ○○식품(주)의 마케팅 전략 수립 과정을 나타낸 것이다. 이에 대한 설명으로 적절하지 않은 것은?



- ① (가)에는 '경쟁 기업들의 다양한 신제품 출시'가 들어갈 수 있다.
② (나)에는 '상품 매출액 30% 증가를 목표로 설정한다.'가 들어갈 수 있다.
③ 마케팅 믹스 전략에서 심리적 가격 전략을 활용하고 있다.
④ 마케팅 믹스 전략에서 인적 판매 촉진 전략을 활용하고 있다.
⑤ 마케팅 믹스 전략에서 개방적 유통 경로 전략을 활용하고 있다.

8. 다음은 A~D 간에 이루어진 무역 대금 결제 과정을 나타낸 것이다. A~D 중에서 (가)의 당사자로 옳은 것만을 <보기>에서 있는 대로 고른 것은? [3점]

우리나라의 수출업자인 A기업은 미국의 수입업자인 B기업과 운동화를 거래하기 위해서 신용장 없이 화환어음을 거래 은행에 제시하고 대금 지급 요청을 의뢰하는 대금 결제 방식으로 무역 계약을 체결하였다.

(중략)

A기업은 유가증권인 (가)에 선적서류를 첨부한 화환어음을 자신의 거래 은행인 C은행에 송부하고 운동화 대금 지급 요청을 의뢰하였다. 의뢰를 받은 C은행은 B기업의 거래 은행인 D은행에 화환어음을 송부하고 대금 지급 요청을 의뢰하였고, D은행은 B기업으로부터 대금을 지급받고 선적서류를 인도하였다. 이후, 운동화 대금은 C은행을 거쳐 A기업에 지급되었다.

<보 기>

- ㄱ. 발행인은 A기업이다.
ㄴ. 지급인은 D은행이다.
ㄷ. 수취인은 B기업이다.

- ① ㄱ ② ㄴ ③ ㄱ, ㄷ ④ ㄴ, ㄷ ⑤ ㄱ, ㄴ, ㄷ

9. 다음 수행 평가 보고서에서 (가)에 들어갈 한국은행의 주요 업무와 (나)에 들어갈 통화 정책 수단으로 옳은 것은?

수행 평가 보고서

주제: 한국은행의 주요 업무와 통화 정책 수단의 사례 조사

- 한국은행의 주요 업무
 - (가): 한국은행은 금융 기관들 간 주고받을 채권과 채무가 발생할 때, 이 기관들 간 자금 결제가 원활하게 이루어질 수 있도록 한은금융망을 운영한다.
(중략)
- 통화 정책 수단의 사례
 - (나): 국내 시중은행이 당일 영업시간에 일시적으로 부족한 지급 결제 자금을 한국은행으로부터 실시간 지원을 받고, 당일 상환 마감시간까지 지원받은 금액을 상환하였다.

- | | |
|---------------|----------|
| (가) | (나) |
| ① 은행의 은행 | 특별 대출 |
| ② 은행의 은행 | 일중 당좌 대출 |
| ③ 은행의 은행 | 자금 조정 대출 |
| ④ 지급 결제 제도 운영 | 일중 당좌 대출 |
| ⑤ 지급 결제 제도 운영 | 자금 조정 대출 |

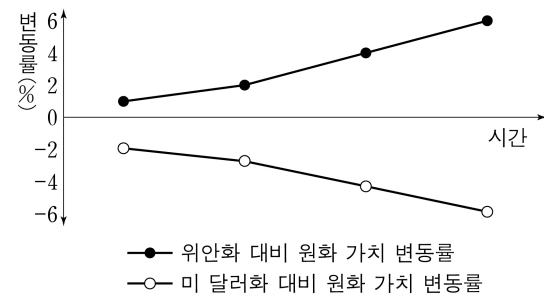
10. 다음 [현재 상황]과 [위안화, 미 달러화 대비 원화 가치 변동률]에 따라 A기업이 선택할 수 있는 대금 결제 방식으로 적절한 것만을 <보기>에서 있는 대로 고른 것은? (단, 대금 결제 통화는 수입국의 통화이고, 수출 대금 수취 시 원화로 즉시 환전한다.) [3점]

[현재 상황]

우리나라의 A기업은 중국의 B기업에 신용장 방식으로 노트북을 수출할 예정이다. 그리고 미국의 C기업에 추심 방식으로 태블릿을, 미국의 D기업에 송금 방식으로 프린터를 수출할 예정이다.

A기업은 위안화, 미 달러화 대비 원화 가치의 변동 추이를 고려하여 수출 계약 시점 대비 결제 시점에서 환차손을 더 작게 하거나, 환차익을 더 크게 하는 대금 결제 방식을 선택하려고 한다.

[위안화, 미 달러화 대비 원화 가치 변동률]*




* 위안화, 미 달러화 대비 원화 가치의 변동 추이는 지속될 것으로 예상하고, 가상으로 나타낸 것임.

<보 기>

- ㄱ. B기업으로 수출 시 Usance L/C 방식보다 At Sight L/C 방식을 선택할 것이다.
ㄴ. C기업으로 수출 시 D/A 방식보다 D/P 방식을 선택할 것이다.
ㄷ. D기업으로 수출 시 CWO 방식보다 CAD 방식을 선택할 것이다.

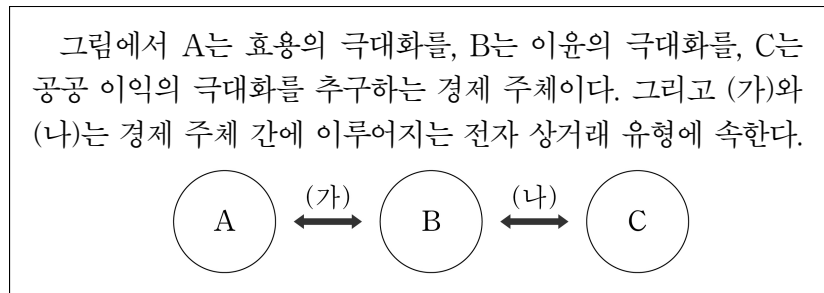
- ① ㄱ ② ㄴ ③ ㄱ, ㄷ ④ ㄴ, ㄷ ⑤ ㄱ, ㄴ, ㄷ

11. 다음은 기업 경영 환경에 대한 인터뷰 장면이다. 전문가가 언급한 내용이 속하는 일반 환경으로 가장 적절한 것은?



- ① 경제적 환경 ② 국제적 환경
- ③ 자연적 환경 ④ 정치·법률적 환경
- ⑤ 사회·문화적 환경

12. 다음 경제 주체 A~C에 대한 설명과 전자 상거래 유형 (가), (나)에 해당하는 사례로 적절한 것만을 <보기>에서 고른 것은?



<보 기>

ㄱ. B와 C는 민간 경제를 구성한다.
 ㄴ. 생산물 시장에서 A는 생산물을 소비하고, B는 생산물을 공급한다.
 ㄷ. (가)에 해당하는 사례에는 '○○씨는 정부24 사이트를 통해 토지대장을 발급받았다.'가 있다.
 ㄹ. (나)에 해당하는 사례에는 '△△기업이 국세청의 홈택스 사이트를 통해 세금을 납부하였다.'가 있다.

- ① ㄱ, ㄴ ② ㄱ, ㄷ ③ ㄴ, ㄷ ④ ㄴ, ㄹ ⑤ ㄷ, ㄹ

13. 다음은 우리나라 국제수지를 구성하는 항목 중 어느 항목에 대한 설명이다. 이 항목에 계상되는 거래 사례로 적절한 것은? (단, 모든 거래는 거주자와 비거주자 간의 거래이다.) [3점]

이 항목은 자산 소유권의 무상이전, 거래 상대방의 자산 취득 또는 처분과 관련된 현금 이전이나 채권자에 의한 채무면제 등을 기록한다. 또한, 무형자산의 취득과 처분이 포함되는 비생산·비금융자산의 취득 및 처분을 기록한다.

- 한국은행, 「우리나라 국제수지 통계의 이해」 일부 수정 -

- ① 국내 기업이 해외 기업의 판매권을 취득하였다.
- ② 국내 기업이 해외에서 외화 증권을 발행하였다.
- ③ 해외 직접 투자자가 국내 기업의 주식을 취득하였다.
- ④ 해외 기업이 국내 기업의 상표권을 사용하고 대가를 지급하였다.
- ⑤ 국내 기업이 해외 직접 투자자의 지분에 대해 배당금을 지급하였다.

14. 다음은 갑씨의 금융 상품 투자 현황이다. 이에 대한 설명으로 옳은 것은? [3점]

갑씨의 금융 상품 투자 현황

- 우체국의 정기에금에 2백만 원 예치
- ○○은행이 발행한 3개월 만기 양도성예금증서에 1천만 원 투자
- 코스피 시장에서 A 종목 주식 1천 주를 당일 고가에 매도, B 종목 주식 1천 주를 당일 저가로 매수

주식 시세표
(202×년 ××월 ××일)

KOSPI 지수 2,500.00(▲20.00) (단위: 원)

종목명	시가	고가	저가	종가	전일비
A 종목	13,000	13,000	9,000	11,000	▲ 1,000
B 종목	13,000	13,000	10,000	10,000	▽ 2,000

- ① B 종목의 당일 개장 가격은 상한가였다.
- ② 당일 장 종료 시점의 코스피 지수는 기준 시점(1980.1.4.)보다 25배 상승하였다.
- ③ 갑씨가 자본 시장에서 매매한 금액은 3천 3백만 원이다.
- ④ 갑씨가 만기일 전에 중도 해지가 가능한 금융 상품에 투자한 금액은 1천만 원이다.
- ⑤ 갑씨가 예금자보호법으로 보호받을 수 있는 금융 상품에 투자한 금액은 1천 2백만 원이다.

15. 다음은 수입국인 A국의 [무역 상황]과 A~D국 간 [경제 통합 상황]을 나타낸 것이다. 이에 따라 A국에서 나타날 수 있는 경제 현상으로 적절한 것만을 <보기>에서 있는 대로 고른 것은? (단, 경제 통합 형태는 B. Balassa의 분류에 따른다.) [3점]

[무역 상황]

- A국은 B~D국의 카메라 대당 수입 가격*을 비교해서 매년 최저 가격 기준으로 수입국을 결정하여 수입하고 있고, B~D국으로부터의 카메라 수입 단가와 수입 관세율은 다음과 같다.

국가	수입 단가(US \$)	수입 관세율(%)
B	70	30
C	60	40
D	80	20

*수입 가격 = 수입 단가 + 수입 관세, 수입 관세 = 수입 단가 × 수입 관세율

[경제 통합 상황]

- 2021년 A~D국 간 체결된 경제 통합 협정은 없음.
- 2022년 A국은 B국과 역내 관세를 철폐하는 FTA 협정을 체결하고 즉시 발효함.
- 2023년 A~C국은 공동 시장 협정을 체결한 후 즉시 발효하고, 이에 따라 역내국에 대해서는 수입 관세를 철폐하고, 역외국에 대해서는 공동 관세율 50%를 부과함.

<보 기>

ㄱ. 2023년 B, C국과 공동으로 금융 정책을 수립하였을 것이다.
 ㄴ. 2021년 대비 2022년 관세 수입은 대당 US \$24 감소하였을 것이다.
 ㄷ. 2022년 대비 2023년 카메라 수입 가격은 대당 US \$14 하락하였을 것이다.

- ① ㄱ ② ㄴ ③ ㄱ, ㄷ ④ ㄴ, ㄷ ⑤ ㄱ, ㄴ, ㄷ

4 (상업 경제)

직업탐구 영역

16. 다음은 지식 재산권에 속하는 어느 권리의 침해 관련 기사이다. 이에 해당하는 권리로 적절한 것은?

△△언론사는 자사 출판물에 대한 배타적 권리가 침해당했다며, 인공 지능 관련 회사인 □□기업을 상대로 소송을 제기했다. 이 언론사는 “자사가 발행한 많은 기사들이 □□기업의 챗봇 학습에 무단으로 도용되어 손해를 입었다.”라고 주장하였다.
- ○○신문, 2023년 12월 28일 자 -

- ① 저작권 ② 특허권 ③ 상표권
- ④ 디자인권 ⑤ 실용신안권

17. 다음 보험 가입 사례에 나타난 보험 관련 당사자 A~E 씨에 대한 설명으로 적절한 것만을 <보기>에서 고른 것은? [3점]

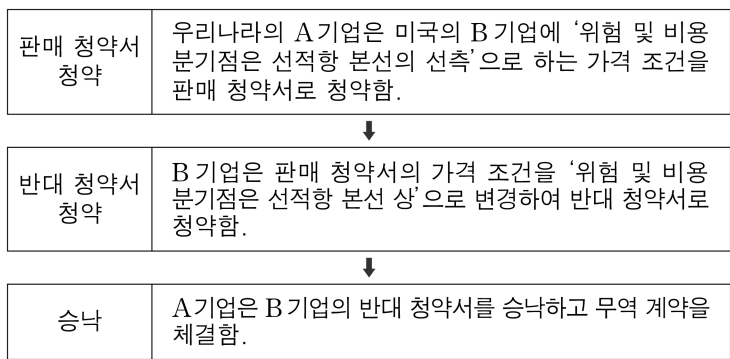
- A 씨는 B 씨가 사망했을 때 C 씨가 보험금을 받을 수 있도록 보험회사에 생명 보험을 가입하고 보험료를 납부하였다.
- D 씨와 E 씨는 매매 계약을 체결한 후, 채무자 D 씨는 채권자 E 씨에 대한 채무 이행을 보증하기 위해 보증보험회사에 이행 보증 보험을 가입하고 보험료를 납부하였다.

<보 기>

ㄱ. A 씨는 보험 계약 체결 전 중요 사항을 보험회사에 고지할 의무가 있다.
 ㄴ. B 씨와 E 씨는 피보험자이다.
 ㄷ. A 씨와 D 씨는 실손에 따라 보상받는 보험에 가입하였다.
 ㄹ. A 씨는 보험 계약 체결 시 B 씨와 C 씨의 서면 동의를 얻어야 한다.

- ① ㄱ, ㄴ ② ㄱ, ㄷ ③ ㄴ, ㄷ ④ ㄴ, ㄹ ⑤ ㄷ, ㄹ

18. 다음은 A, B기업의 청약과 승낙 과정이다. ‘판매 청약서에서 청약한 가격 조건’ 대비 ‘계약이 체결된 가격 조건’에 따라 무역 업무를 수행하는 기업의 변경 상황으로 적절한 것만을 <보기>에서 있는 대로 고른 것은? (단, 해상·내수로 운송에 적용되는 인코텀스 2010의 가격 조건만 고려한다.) [3점]



<보 기>

ㄱ. 수출국의 수출 통관 절차를 이행하는 기업은 B기업으로 변경이 없다.
 ㄴ. 선적항에서 본선 적재 비용을 부담하는 기업은 B기업에서 A기업으로 변경된다.
 ㄷ. 선박회사와 해상 운송 계약을 체결하는 기업은 A기업에서 B기업으로 변경된다.

- ① ㄱ ② ㄴ ③ ㄱ, ㄷ ④ ㄴ, ㄷ ⑤ ㄱ, ㄴ, ㄷ

[19~20] 다음은 A, B국의 [상품 특화 및 무역 거래]와 [수입 후 상품 단위당 판매 가격 구성]을 나타낸 것이다. 물음에 답하시오.

[상품 특화 및 무역 거래]

- A, B국만 존재하고, 양국은 에어컨과 세탁기 상품만 생산한다. 노동이 유일한 생산 요소이고 노동의 질은 동일하며, 생산 요소의 국제적 이동은 불가능하고 무역에 따른 제비용은 없다. 그 외 리카도의 비교생산비설 적용 조건은 충족되었다고 가정한다.
- 노동자 수는 A국이 9명, B국이 18명이며, 에어컨과 세탁기 각각 1단위를 생산하는 데 투입된 노동자 수는 다음과 같다.

구분	에어컨	세탁기
A국	6명	3명
B국	8명	10명

- 리카도의 비교생산비설에 따라 A, B국은 한 가지 상품만 특화하여 생산하고, 양국은 특화한 상품을 환거래 없이 1:1로 교역하는 연계 무역을 활용하여 거래하고 있다.

[수입 후 상품 단위당 판매 가격 구성]

- 위 A국이 수입한 상품과 B국이 수입한 상품은 자국의 여러 유통 업자를 거쳐 소매상까지 유통되었다. 소매상은 자신이 구매할 상품의 매입 가격, 매입 운임 등을 반영하여 단위당 판매 가격 구성을 다음과 같이 산정하여 판매하였다.

(단위: US \$)

구분	에어컨	세탁기
매입 가격	1,000	1,200
매입 운임	60	100
매입 보험료	40	20
영업비	100	80
이익	매입 제비용의 50%	

19. 위 A, B국의 상황을 분석한 내용으로 옳은 것만을 <보기>에서 고른 것은? [3점]

<보 기>

ㄱ. A, B국이 특화한 상품 1단위 생산에 따른 A국의 기회비용은 0.8단위이고, B국의 기회비용은 0.5단위이다.
 ㄴ. 특화 후, A국은 특화한 상품을 3단위, B국은 특화한 상품을 2.25단위 생산할 수 있다.
 ㄷ. A국의 소매상이 판매한 상품의 판매 가격 구성에서 단위당 이폭은 US \$150이다.
 ㄹ. B국의 소매상이 판매한 상품의 판매 가격 구성에서 단위당 판매 원가는 매입 원가보다 US \$100 더 크다.

- ① ㄱ, ㄴ ② ㄱ, ㄷ ③ ㄴ, ㄷ ④ ㄴ, ㄹ ⑤ ㄷ, ㄹ

20. 위 A국과 B국 간 거래에서 활용하고 있는 연계 무역의 종류로 옳은 것은?

- ① 물물 교환 ② 제품 환매 ③ 대응 구매
- ④ 삼각 무역 ⑤ 스위치 무역

*** 확인 사항**

○ 답안지의 해당란에 필요한 내용을 정확히 기입(표기)했는지 확인하시오.