

제 4 교시 **직업탐구 영역** (생활 서비스 산업의 이해)

성명 수험 번호 - 제 [] 선택

1. 다음 기사에 나타난 주생활에 적용된 환경으로 가장 적절한 것은?

△△하우징페어에 전시된 모델하우스는 사용자가 시간과 장소에 상관없이 자유롭게 네트워크에 접속할 수 있는 환경을 갖추고 있다. 이 모델하우스 안의 가전 기기, 냉난방 조절 장치 등이 네트워크에 연결되어 사용자가 언제 어디서나 장치들의 상태를 확인하고 제어할 수 있다.
- ○○신문, 2019년 2월 14일 자 -

- ① 리사이클링 ② 유비쿼터스 ③ 솔라 시스템
- ④ 패시브 하우스 ⑤ 듀플렉스 하우스

2. 다음 채용 공고문을 통해 알 수 있는 직업 (가)에 대한 설명으로 옳은 것을 <보기>에서 고른 것은? (단, 한국표준직업분류에 근거한다.)

채용 공고문
즐거운 여행 문화를 선도할 인재를 모집합니다.
[채용 분야 및 인원] (가) ○ 명
[주요 업무] 여행 상품 기획, 관광 코스 총감독 업무
[우대 조건] 외국어 능력 우수자 우대
... (후략) ...

<보 기>
㉠. 여행 상품으로 개발되지 않은 지역을 답사하는 일을 한다.
㉡. 동일한 세분류 항목에 속하는 직업에는 국내여행 안내원이 있다.
㉢. 관광 진흥법에 의한 관광 사업의 종류 중 ‘여행업’에 종사하는 직업이다.
㉣. 문화유산, 풍습, 해당 지역의 역사 등에 관한 전문적인 해설을 제공하는 일을 한다.

- ① ㉠, ㉡ ② ㉠, ㉢ ③ ㉡, ㉣ ④ ㉢, ㉣ ⑤ ㉣, ㉣

3. 다음 일기를 통해 알 수 있는 직업에 대한 설명으로 옳은 것을 <보기>에서 고른 것은? (단, 한국표준직업분류에 근거한다.)

2019년 7월 3일
직장 생활을 하는 여성들이 늘면서 우리 회사도 점점 바빠지는 것 같다. 어제는 나의 담당 업무인 오이소박이 담기를 아침 일찍부터 시작하였다. 소금에 미리 절여두었던 오이에 각종 양념을 알맞은 비율로 버무리 두었더니 오늘은 알맞게 익었다. 소비자들의 상품평이 좋아서 제품 주문이 늘어날 때마다 이 일에 대한 보람도 커진다.

<보 기>
㉠. 직업 예시로 김치 제조 종사원이 있다.
㉡. 소분류 항목 중 ‘식품가공 관련 기능 종사자’에 속한다.
㉢. 사용 식품의 신선도를 검사하고 함유 열량의 단위를 계산하는 일을 한다.
㉣. 고객이 주문한 조리 메뉴를 확인하고 조리해 필요한 재료를 준비하는 일을 한다.

- ① ㉠, ㉡ ② ㉠, ㉢ ③ ㉡, ㉣ ④ ㉢, ㉣ ⑤ ㉣, ㉣

4. 다음 수행 평가 보고서를 통해 알 수 있는 직업 (가)에 대한 설명으로 옳은 것만을 <보기>에서 있는 대로 고른 것은? (단, 한국표준직업분류에 근거한다.) [3점]

수행 평가 보고서
3학년 1반 이름: ○○○
[주제] 의생활 서비스 분야 중 (가)의 업무 탐색
[업무 내용] 고객의 요구에 따라 남성 의복 제작
[업무 순서] 1~5단계를 순차적으로 모두 진행

1단계 색상, 스타일 등을 고객과 상의	2단계 고객의 인체 치수 측정	3단계 패턴 모형 제작	4단계 의복 부분품 접합	5단계 가봉 및 디자인 수정
--------------------------	---------------------	-----------------	------------------	--------------------

<보 기>
㉠. 패션 소비 시장의 동향을 파악하는 일을 한다.
㉡. 동일한 세분류 항목에 속하는 직업에는 양장 제조원이 있다.
㉢. 고객의 치수에 따라 표준 원형 본을 제도하고 주문에 따라 본을 개조하는 일도 한다.

- ① ㉠ ② ㉢ ③ ㉠, ㉡ ④ ㉡, ㉢ ⑤ ㉠, ㉡, ㉢

5. 다음 대화에서 학생 A~C가 체험한 내용에 대한 설명으로 옳은 것만을 <보기>에서 있는 대로 고른 것은? (단, 한국표준직업분류에 근거한다.) [3점]

선생님: 지난주 체험한 직업에 대하여 소감을 이야기해 볼까요?
학생 A: 저는 전통 건축 기법을 이용하여 한옥을 설계하고 시공하는 체험을 했는데 신기했어요.
학생 B: 저는 우리 주변에서 식용할 수 있는 잎, 열매 등을 이용하여 차를 만드는 체험을 했는데 재미있었어요.
학생 C: 저는 연구소에서 식품 개발 과정을 체험했는데, 제품을 개발할 때는 연구자로서 신제품 정보에 대한 비밀 유지 등 지켜야 할 연구 윤리가 있음을 알게 되었어요.

<보 기>
㉠. 학생 A가 체험한 직업은 전통 건물 건축원이다.
㉡. 학생 B가 체험한 직업은 조리사의 기술을 향상시키기 위해 교육하는 일을 한다.
㉢. 학생 C가 알게 된 직업윤리는 특수 직업윤리에 해당한다.
㉣. 학생 C가 체험한 직업은 대분류 항목 중 ‘전문가 및 관련 종사자’에 속한다.

- ① ㉠, ㉡ ② ㉡, ㉢ ③ ㉢, ㉣
④ ㉠, ㉡, ㉢ ⑤ ㉠, ㉢, ㉣

2 (생활 서비스 산업의 이해) 직업탐구 영역

6. 다음 진로 상담 일지에서 알 수 있는 학생 A, B의 희망 직업에 대한 설명으로 옳은 것을 <보기>에서 고른 것은? (단, 한국표준 직업분류에 근거한다.)

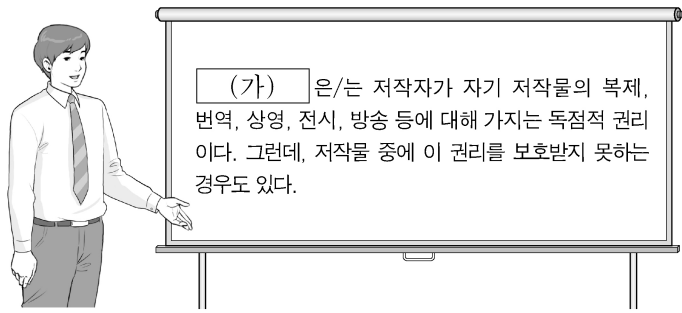
학생	진로 상담 일지	2019년 ○월 ○일
A	쓰러진 등산객을 응급 구조하는 모습을 보며 응급 환자에 대하여 상담·구조 및 이송 업무를 수행하는 일을 희망하게 됨. 심폐소생술 관련 자격증 취득 방법을 안내함.	
B	3대가 함께 생활하며 노인에 대한 이해와 배려심이 높음. 노인성 질환으로 인해 독립적인 일상생활을 수행하기 어려운 노인들의 집에 직접 방문하여 가사 지원 서비스를 제공하는 일을 희망함. 관련 직업을 함께 탐색하기로 함.	

<보기>

- ㄱ. A의 희망 직업에는 응급 구조사가 있다.
- ㄴ. A의 희망 직업은 환자 이송 시 해결하기 곤란한 상황에서는 의사의 지시로 응급처치 하는 일을 한다.
- ㄷ. B의 희망 직업은 요양 병원 의료 서비스에 대한 상담과 안내를 실시하는 일을 한다.
- ㄹ. A, B의 희망 직업은 세분류 항목 중 '보건 의료 관련 관리자'에 속한다.

- ① ㄱ, ㄴ ② ㄱ, ㄷ ③ ㄴ, ㄷ ④ ㄴ, ㄹ ⑤ ㄷ, ㄹ

7. 다음 강연에서 (가)를 침해한 사례에 해당하는 것만을 <보기>에서 있는 대로 고른 것은? [3점]



<보기>

- ㄱ. 유명한 시인의 시를 메모지에 옮겨 적어 자신의 방 벽에 붙여 두고 자주 읽어 보았다.
- ㄴ. 학교에서 교육 목적으로 수행 평가의 지문에 작가의 풍경 사진을 출처와 함께 복사하여 사용하였다.
- ㄷ. 유료로 판매되는 가수의 음원 파일을 저작자의 허락 없이 인터넷 블로그에 첨부하여 다운로드 수 있게 하였다.

- ① ㄱ ② ㄷ ③ ㄱ, ㄴ ④ ㄴ, ㄷ ⑤ ㄱ, ㄴ, ㄷ

8. 다음 직업명 맞추기 퍼즐의 빈칸에 들어갈 직업 (가), (나)에 대한 설명으로 옳은 것만을 <보기>에서 있는 대로 고른 것은? (단, 한국표준직업분류에 근거한다.) [3점]

	<p>[가로 열쇠]</p> <p>(가) 한국 음식을 만들기 위하여 각종 식료품을 준비하고 조리하는 일을 함.</p> <p>[세로 열쇠]</p> <p>(나) 떡을 제조하기 위하여 재료를 분쇄, 반죽, 성형하여 찌거나 익히는 일을 함.</p>
--	---

<보기>

- ㄱ. (가)는 업체의 의뢰를 받아 조리법을 개발하는 일을 한다.
- ㄴ. (가)는 튀기기, 굽기 등의 방식으로 한국 전통 음식을 만드는 일을 한다.
- ㄷ. (나)와 동일한 소분류 항목에 속하는 직업에는 정육 가공원 및 도축원이 있다.

- ① ㄱ ② ㄷ ③ ㄱ, ㄴ ④ ㄴ, ㄷ ⑤ ㄱ, ㄴ, ㄷ

9. 다음 회의 내용에서 알 수 있는 A, B 씨의 직업에 대한 설명으로 옳은 것을 <보기>에서 고른 것은? (단, 한국표준직업분류에 근거한다.)

팀장 : 미용 박람회에서 한국의 전통미를 응용할 방법을 말씀해 보세요.
 A 씨 : 저는 『규합총서』에 기록된 눈썹 형태에 대한 시조 '심미요'를 주제로 참가자에게 메이크업 시범을 보이고 메이크업에 관한 조언을 하겠습니다.
 B 씨 : 저는 참가자의 손톱 관리를 하고 한국의 전통 오방색과 태극 문양을 활용한 손톱 장식을 붙여 주겠습니다.

<보기>

- ㄱ. A 씨의 직업은 얼굴형태, 피부색 등에 맞게 화장을 해주는 일을 한다.
- ㄴ. B 씨의 직업은 공중위생관리법의 적용을 받는다.
- ㄷ. B 씨의 직업은 고객의 피부 및 체형을 관리하기 위해 필요한 각종 관리방법을 시행하는 일을 한다.
- ㄹ. A, B 씨의 직업은 세분류 항목 중 '기타 미용 관련 서비스 종사원'에 속한다.

- ① ㄱ, ㄴ ② ㄱ, ㄷ ③ ㄴ, ㄷ ④ ㄴ, ㄹ ⑤ ㄷ, ㄹ

10. 다음 글에 제시된 고객관리시스템에 대한 설명으로 옳은 것만을 <보기>에서 있는 대로 고른 것은? [3점]

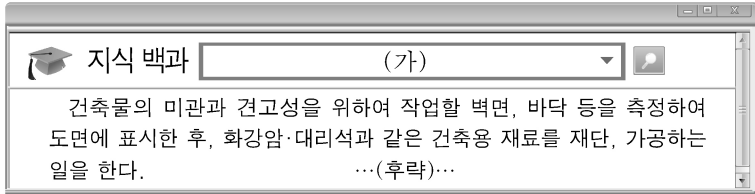
저희 체형 관리실의 컴퓨터에는 고객관리시스템 소프트웨어가 설치되어 있습니다. 고객의 자료를 고객관리시스템에 등록하면, 고객관리시스템은 데이터베이스관리시스템을 통해 고객 자료를 관리합니다. 고객관리시스템은 이 자료를 이용하여 생일을 맞은 고객의 휴대전화로 할인 쿠폰 이미지를 문자 서비스로 전송합니다.

<보기>

- ㄱ. 고객관리시스템은 운영체제에 해당한다.
- ㄴ. 고객의 자료를 등록하는 과정은 정보 수집에 해당한다.
- ㄷ. 할인 쿠폰 이미지는 MMS(Multimedia Messaging Service)로 발송할 수 있다.

- ① ㄱ ② ㄴ ③ ㄱ, ㄷ ④ ㄴ, ㄷ ⑤ ㄱ, ㄴ, ㄷ

11. 다음은 주생활 서비스 분야 직업을 검색한 결과이다. 직업 (가)에 대한 설명으로 옳은 것만을 <보기>에서 있는 대로 고른 것은? (단, 한국표준직업분류에 근거한다.) [3점]



<보 기>

ㄱ. 중분류 항목 중 '건설 및 채굴 관련 기능직'에 속한다.
 ㄴ. 건축용 석재를 지시된 치수나 모양으로 절단하는 일을 한다.
 ㄷ. 코르크를 사용하여 파이프, 덕트 등의 노출면을 싸고 고정시키는 일을 한다.

- ① ㄱ ② ㄷ ③ ㄱ, ㄴ ④ ㄴ, ㄷ ⑤ ㄱ, ㄴ, ㄷ

12. 다음 가정 통신문에서 ㉠, ㉡의 일을 하는 직업에 대한 설명으로 옳은 것을 <보기>에서 고른 것은? (단, 한국표준직업분류에 근거한다.)

○○어린이집 가정 통신문	
우리 원에서는 전문가를 초청하여 원아들에게 다양한 체험 프로그램을 제공합니다.	
해바라기반(만 1세)	나비반(만 4세)
〈오감 발달 동요 들려주기〉 다양한 악기를 사용하여 오감 발달에 도움이 되는 동요를 들려주는 프로그램을 진행합니다.	〈영화 속 주인공 되기〉 ㉠가발, 수염, 전문가용 페이스 페인팅 물감을 사용하여 원아의 체격에 맞게 영화 주인공으로 분장해 줍니다.
★ 다음 주에도 우리 원에서는 ㉡만 1세 원아에 적합한 보육 계획을 세우고 다양한 프로그램을 교육하겠습니다.	

<보 기>

ㄱ. ㉠ 직업의 직업 예시로 스타일리스트가 있다.
 ㄴ. ㉠ 직업은 얼굴 생김새, 특징, 체격을 고려하여 특수한 목적에 맞도록 분장하는 일을 한다.
 ㄷ. ㉡ 직업은 소분류 항목 중 '고객 서비스 관리자'에 속한다.
 ㄹ. ㉡ 직업은 유아의 정서 및 지능 발달을 위하여 그림책, 장난감 등을 준비하고 지도하는 일을 한다.

- ① ㄱ, ㄴ ② ㄱ, ㄷ ③ ㄴ, ㄷ ④ ㄴ, ㄹ ⑤ ㄷ, ㄹ

13. 다음 정보 처리 시스템의 활용 사례에 제시된 ㉠~㉣에 대한 설명으로 옳은 것을 <보기>에서 고른 것은? [3점]

○○마트에서 매출 관리를 위해 판매시점정보관리시스템을 활용하고 있다. 손님이 구입할 상품의 바코드를 ㉠리더기로 읽으면 구매 내역이 하드디스크에 저장된 후, 가격이 ㉡모니터에 나타난다. 손님이 결제를 하면 ㉢프린터로 영수증이 인쇄된다. 이렇게 저장된 모든 구매 내역들은 중앙처리장치에서 합산되어 하루의 총매출액을 확인 할 수 있다.

<보 기>

ㄱ. ㉠은 프로그램과 자료를 저장하는 장치에 해당한다.
 ㄴ. ㉡는 명령을 해독하여 실행하는 장치에 해당한다.
 ㄷ. ㉢는 명령과 자료의 처리 결과를 출력하는 장치에 해당한다.
 ㄹ. ㉠~㉣는 컴퓨터의 하드웨어에 속한다.

- ① ㄱ, ㄴ ② ㄱ, ㄷ ③ ㄴ, ㄷ ④ ㄴ, ㄹ ⑤ ㄷ, ㄹ

14. 다음 안내문에서 알 수 있는 직업 (가), (나)에 대한 설명으로 옳은 것만을 <보기>에서 있는 대로 고른 것은? (단, 한국표준직업분류에 근거한다.)

학부모 직업 특강 안내

[주제] 학부모가 들려주는 직업 이야기
 [일자] 2019년 7월 15일
 [프로그램]

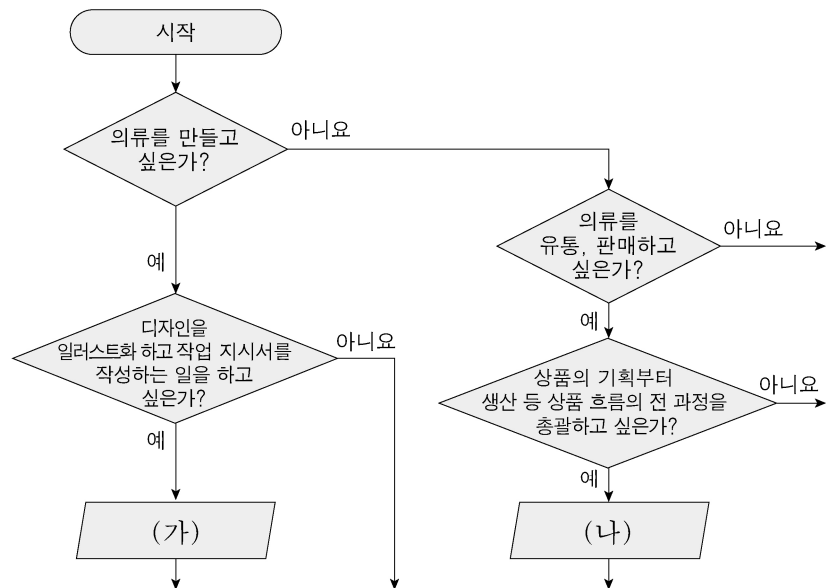
직업	특강 내용
(가)	• 객실 안내 서비스를 제공하며 느끼는 보람 • 고객의 짐 운반 서비스 방법
(나)	• 다양한 커피를 만들고 제공하며 느끼는 보람

<보 기>

ㄱ. (가)의 직업 예시로 벨맨이 있다.
 ㄴ. (나)의 직업은 조주된 음료를 웨이터에게 인계하는 일을 한다.
 ㄷ. (가), (나)의 직업은 대분류 항목 중 '서비스 종사자'에 속한다.

- ① ㄱ ② ㄴ ③ ㄱ, ㄷ ④ ㄴ, ㄷ ⑤ ㄱ, ㄴ, ㄷ

15. 다음은 '의생활 서비스 분야 직업 찾기' 순서도의 일부이다. 직업 (가), (나)에 대한 설명으로 옳은 것만을 <보기>에서 있는 대로 고른 것은? (단, 한국표준직업분류에 근거한다.) [3점]



<보 기>

ㄱ. (가)는 피팅 모델을 통해 견본품을 평가하고 미비점을 수정·보완 하는 일을 한다.
 ㄴ. (나)의 직업 예시로 의류 MD가 있다.
 ㄷ. (가), (나)에 속한 직업은 소분류 항목 중 '섬유 제조 및 가공 기계 조작원'에 속한다.

- ① ㄱ ② ㄷ ③ ㄱ, ㄴ ④ ㄴ, ㄷ ⑤ ㄱ, ㄴ, ㄷ

4 (생활 서비스 산업의 이해) 직업탐구 영역

16. 다음 A~C 씨의 사례에 적용되는 근로자 관련 법규에 대해 옳게 설명한 것만을 <보기>에서 있는 대로 고른 것은?

- A 씨는 얼마 전에 공장에서 큰 화재가 발생되었는데, 신속하게 공장 작업을 중지하고 직원들을 안전하게 대피시킨 후 상급자에게 보고하였습니다.
- B 씨는 선택적 근로시간제를 활용해서 오전에는 칠순의 어머님 병간호를 하고, 오후에는 회사에서 근무를 하고 있습니다.
- C 씨는 퇴직 후, 수령 나이가 되어 근무했던 회사와 개인이 공동으로 부담한 공적 재원에서 매달 일정 금액을 지급받아 편안하게 노후를 즐기고 있습니다.

<보기>

- ㄱ. A 씨의 사고 대처 행위는 산업안전보건법에 근거한다.
- ㄴ. B 씨의 근로 형태는 근로기준법에 근거한다.
- ㄷ. C 씨가 일정 금액을 지급 받는 것은 국민연금법에 근거한다.

- ① ㄱ ② ㄴ ③ ㄱ, ㄷ ④ ㄴ, ㄷ ⑤ ㄱ, ㄴ, ㄷ

17. 다음 업무 과정을 통해 알 수 있는 A 씨의 직업에 대한 설명으로 옳은 것만을 <보기>에서 있는 대로 고른 것은? (단, 한국표준직업분류에 근거한다.)

실무 담당자 A 씨는 업무 과정을 순서대로 수행한다.	
업무 과정	1. 고객의 얼굴이나 머리 형태에 따라 알맞은 스타일 권유
	2. 고객 요구에 따른 스타일 선택
	3. 헤어 커트, 헤어 퍼머먼트 웨이브 시술
	4. 스타일 마무리

<보기>


- ㄱ. 미용사(피부) 면허가 필요하다.
- ㄴ. 소분류 항목 중 '디자이너'에 속한다.
- ㄷ. 의식이나 의상에 어울리는 머리 모양을 꾸며주는 일을 한다.

- ① ㄱ ② ㄷ ③ ㄱ, ㄴ ④ ㄴ, ㄷ ⑤ ㄱ, ㄴ, ㄷ

18. 다음은 의생활 서비스 분야 직업에 대한 수업 장면이다. 직업 (가)에 대한 설명으로 옳은 것만을 <보기>에서 있는 대로 고른 것은? (단, 한국표준직업분류에 근거한다.) [3점]

학습 주제 : 의생활 서비스 분야 직업의 세계

- 직업: (가)
- 주요 업무: 명세서 확인·검토와 생산 장비 조작
 - 명세서 항목: 원사 종류
 - 제조 직물 무늬
 - 제조 직물 조직
- 생산 장비 유형: 직조기
- 편직기



<보기>

- ㄱ. 직업 예시로 직물 패턴사가 있다.
- ㄴ. 기계를 조작하여 섬유로부터 실을 만드는 일을 한다.
- ㄷ. 소분류 항목 중 '직물·신발 관련 기계 조작원 및 조립원'에 속한다.

- ① ㄱ ② ㄷ ③ ㄱ, ㄴ ④ ㄴ, ㄷ ⑤ ㄱ, ㄴ, ㄷ

19. 다음 현장 실습 계획서를 통해 알 수 있는 직업에 대한 설명으로 옳은 것만을 <보기>에서 있는 대로 고른 것은? (단, 한국표준직업분류에 근거한다.)

현장 실습 계획서			
성명	○○○	실습 기간	2019. 8. 5. ~ 8. 14.
실습 내용			
중점 사항	• 바닥, 벽체 등에 물이 스며들지 않는지 반복하여 확인하기		
실습 항목	<ul style="list-style-type: none"> • 시공면 검사 및 요철 부분 다듬기 • 모르타르 입히기 • 아스팔트 접착제를 시공면에 바르기 • 루핑을 깔고 보호용 시멘트 바르기 		

<보기>

- ㄱ. 벽, 천장 등에 단열재를 시공하는 일을 한다.
- ㄴ. 소분류 항목 중 '건축 마감 관련 기능 종사자'에 속한다.
- ㄷ. 배관을 시설하고 연결 부위를 봉합, 납땜, 용접하여 밀봉하는 일을 한다.

- ① ㄱ ② ㄴ ③ ㄱ, ㄷ ④ ㄴ, ㄷ ⑤ ㄱ, ㄴ, ㄷ

20. 다음은 진로 박람회 게시판의 일부이다. ㉠, ㉡의 직업에 대한 설명으로 옳은 것만을 <보기>에서 있는 대로 고른 것은? (단, 한국표준직업분류에 근거한다.) [3점]

게시판			
○○학과		△△학과	
교육 과정	보건간호, 간호의 기초, 환경관리, 공중보건학 등	교육 과정	콘택트렌즈학, 물리광학, 생리학, 안과학 등
목표	각종 ㉠ 의료기관에서 의사, 간호사의 지시 하에 환자의 간호 및 진료에 관련된 보조 업무를 하는 인력 양성 ...(후략)...	목표	국민 안보건 의료에 이바지 하는 ㉡ 안경 및 콘택트렌즈를 처방하고 맞추어 주는 인력 양성 ...(후략)...

<보기>

- ㄱ. ㉠의 직업은 전문대학 졸업 이상의 학력이 요구된다.
- ㄴ. ㉠의 직업은 의료기구 및 물품에 대한 소독·살균하는 일을 한다.
- ㄷ. ㉡의 직업은 의학적 치료가 요구되는 경우는 안과 의사에게 보내는 일을 한다.
- ㄹ. ㉠, ㉡의 직업은 소분류 항목 중 '보건 의료 관련 종사자'에 속한다.

- ① ㄱ, ㄴ ② ㄱ, ㄷ ③ ㄴ, ㄹ
④ ㄱ, ㄷ, ㄹ ⑤ ㄴ, ㄷ, ㄹ

* 확인 사항
○ 답안지의 해당란에 필요한 내용을 정확히 기입(표기)했는지 확인 하시오.