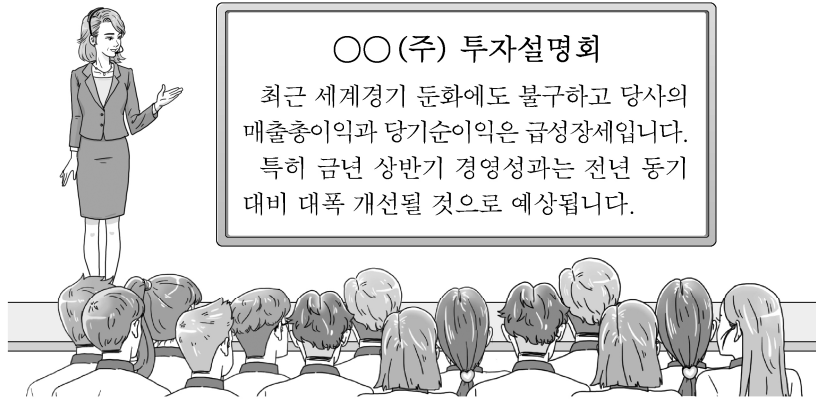


2 (회계 원리)

직업탐구 영역

6. 다음은 ○○(주)의 투자설명회 장면이다. 이에 나타난 회계정보가 모두 표시되는 재무제표로 가장 적절한 것은? (단, 일반기업회계 기준을 적용한다.)



- ① 재무상태표 ② 손익계산서 ③ 현금흐름표
④ 자본변동표 ⑤ 이익잉여금처분계산서

7. 다음은 ○○(주)의 제4기 [외상매출금 대손 관련 자료]이다. (가)의 금액으로 옳은 것은? (단, 일반기업회계기준을 적용하고, 회계기간은 매년 1월 1일부터 12월 31일까지이며, 제시된 자료 외의 것은 고려하지 않는다.) [3점]

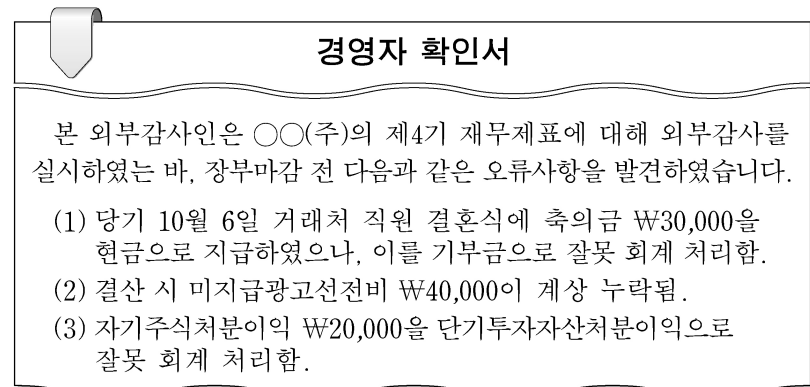
[외상매출금 대손 관련 자료]

| 분개장 | | | | |
|-------|--|----|-------|-------|
| 날짜 | 적요 | 원면 | 차변 | 대변 |
| 10 1 | (대손충당금) (외상매출금) 대손 처리 | 생 | 6,000 | 6,000 |
| 12 31 | (대손상각비) (대손충당금) 대손 추산액에 대한 결산 정리 | 락 | (가) | ××× |

• 대손충당금 기초 잔액: ₩10,000
• 대손충당금 기말 잔액: ₩12,000

- ① ₩2,000 ② ₩8,000 ③ ₩10,000
④ ₩12,000 ⑤ ₩14,000

8. 다음은 ○○(주)의 경영자 확인서 일부이다. 오류 사항을 모두 정정하지 않았을 경우 ○○(주)의 제4기 영업이익에 미치는 영향으로 옳은 것은? (단, 일반기업회계기준을 적용하고, 회계기간은 매년 1월 1일부터 12월 31일까지이며, 제시된 자료 외의 것은 고려하지 않는다.) [3점]



- ① ₩40,000 과대 계상 ② ₩40,000 과소 계상
③ ₩70,000 과대 계상 ④ ₩70,000 과소 계상
⑤ ₩90,000 과대 계상

9. 다음은 ○○상점의 수정 전 잔액시산표 일부와 [결산 정리 사항]이다. 2018년 기말 손익계산서에 표시되는 각 항목의 금액으로 옳은 것을 <보기>에서 고른 것은? (단, 회계기간은 매년 1월 1일부터 12월 31일까지이고, 제시된 자료 외의 것은 고려하지 않는다.) [3점]

| 잔액시산표(수정 전) | | | |
|---------------|----|---------------|--------|
| 2018년 12월 31일 | | | |
| ○○상점 | | (단위: 원) | |
| 차변 | 원면 | 계정과목 | 대변 |
| 400,000 | | 현 이 월 상 | 금 품 |
| 50,000 | | · | · |
| · | | · | · |
| | | 자 매 매 | 금 출 |
| | 생 | 본 | 입 |
| 1,200,000 | 락 | 보 | 여 |
| 120,000 | | 험 | 료 |
| 80,000 | | 유 형 자 산 처 분 이 | 익 |
| | | 이 자 비 | 용 |
| 6,000 | | | 30,000 |
| ××× | | | ××× |

[결산 정리 사항]

- 기말상품재고액은 ₩150,000이다.
- 급여 미지급분 ₩70,000을 계상하다.
- 이자비용 선급분 ₩1,000을 계상하다.

<보 기>

- ㄱ. 매출원가는 ₩1,250,000이다.
ㄴ. 판매비와관리비는 ₩200,000이다.
ㄷ. 영업이익은 ₩430,000이다.
ㄹ. 영업외비용은 ₩5,000이다.

- ① ㄱ, ㄴ ② ㄱ, ㄷ ③ ㄴ, ㄹ
④ ㄴ, ㄹ ⑤ ㄷ, ㄹ

10. 다음은 ○○상점의 업무용으로 사용 중인 화물차에 대한 현금 지출 내역서 일부이다. 이를 회계 처리한 결과가 2018년 기말 재무제표에 미치는 영향으로 옳은 것을 <보기>에서 고른 것은? (단, 일반기업회계기준을 적용하고, 회계기간은 매년 1월 1일부터 12월 31일까지이며, 제시된 자료 외의 것과 감가상각은 고려하지 않는다.)

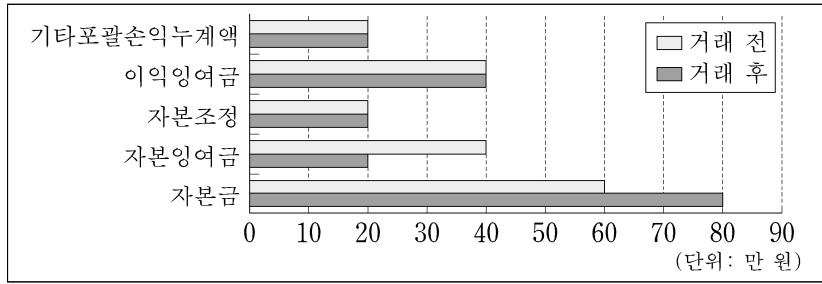
| 현금 지출 내역서 | | | |
|---------------|--------------------------------|----------|------------|
| 2018년 12월 31일 | | | |
| 결재 | 담당 | 과장 | 부장 |
| | 인 | 인 | 인 |
| 지출명 | 업무용으로 사용 중인 화물차를 당일 수리 후 현금 지급 | | |
| 금 액 | ₩540,000 | | |
| 적 요 | 내역 | 금액 | 비고 |
| | 브레이크 오일 교환 | ₩40,000 | 제동 능력 원상회복 |
| | 엔진 교체 | ₩500,000 | 내용연수 연장 |

<보 기>

- ㄱ. 유동자산이 ₩40,000 감소한다.
ㄴ. 비유동자산이 ₩500,000 증가한다.
ㄷ. 당기순이익이 ₩540,000 감소한다.
ㄹ. 판매비와관리비가 ₩40,000 증가한다.

- ① ㄱ, ㄴ ② ㄱ, ㄷ ③ ㄴ, ㄹ
④ ㄴ, ㄹ ⑤ ㄷ, ㄹ

11. 그래프는 ○○(주)의 자본 항목 간 잔액 변동을 나타낸 것이다. 이와 같은 변동의 원인이 되는 거래로 옳은 것은? (단, 일반기업 회계기준을 적용하고, 제시된 자료 외의 것은 고려하지 않는다.) [3점]



- ① 이익준비금을 자본에 전입하다.
- ② 주식을 현금으로 매입 소각하다.
- ③ 자금 확보를 위해 신주를 액면발행하다.
- ④ 이익잉여금을 재원으로 현금배당을 하다.
- ⑤ 주식발행초과금을 재원으로 무상증자를 하다.

12. 다음은 ○○(주)의 업무용 건물 [감가상각 관련 자료]이다. 이를 통해 알 수 있는 내용으로 옳은 것은? (단, 회계기간은 매년 1월 1일부터 12월 31일까지이고, 제시된 자료 외의 것은 고려하지 않는다.) [3점]

[감가상각 관련 자료]

- 거래
2017년 1월 1일 업무용 건물을 ₩900,000(내용연수 5년, 잔존가치 ₩50,000)에 구입하고, 취득세 및 등기비용 ₩100,000을 현금으로 지급하다.
- 업무용 건물에 적용할 수 있는 감가상각 방법

A방법 매 회계연도 동일한 금액의 감가상각비를 인식하는 방법

B방법 기초 장부금액에 정률(상각률 45%)을 곱하여 구한 금액을 매 회계연도 감가상각비로 인식하는 방법

- ① 2017년 1월 1일 취득원가는 ₩900,000이다.
- ② B방법은 정액법이다.
- ③ B방법을 적용할 경우 2017년 결산 시 이월자산표에 표시되는 업무용 건물의 장부금액은 ₩450,000이다.
- ④ 2017년 결산 시 감가상각비는 A방법을 적용하여 계산한 금액이 B방법을 적용하여 계산한 금액보다 크다.
- ⑤ 2018년 결산 시 이월자산표에 표시되는 감가상각누계액은 B방법을 적용하여 계산한 금액이 A방법을 적용하여 계산한 금액보다 크다.

13. 다음은 ○○(주)의 제4기 [단기매매증권 관련 자료]이다. 이를 모두 회계 처리하는 경우 제4기 말 단기매매증권의 장부금액으로 옳은 것은? (단, 일반기업회계기준을 적용하고, 회계기간은 매년 1월 1일부터 12월 31일까지이며, 제시된 자료 외의 것은 고려하지 않는다.)

[단기매매증권 관련 자료]

- 10월 11일 A주식 100주(1주당 액면금액 ₩5,000)를 1주당 ₩7,000에 취득하고 대금은 현금으로 지급하다.
- 11월 8일 A주식 60주를 1주당 ₩9,000에 처분하고 대금은 현금으로 받다.
- 12월 31일 결산 시 보유 중인 A주식의 공정가치를 1주당 ₩6,000으로 평가하다.

- ① ₩200,000
- ② ₩240,000
- ③ ₩360,000
- ④ ₩600,000
- ⑤ ₩700,000

14. 다음은 자산 간 금액의 변동을 일으키는 거래에 대한 수업 장면이다. (가), (나)에 들어갈 계정과목으로 적절한 것은? (단, 일반기업 회계기준을 적용하고, 제시된 자료 외의 것은 고려하지 않는다.)

요약하면 유동자산과 비유동자산 간 금액이 변동된 원인은 당기 중에 (가)을 매출/처분하여 받은 현금 4억 원으로 즉시 (나)을 매입/취득하였기 때문입니다.

자산 간 금액의 변동 (단위: 억 원)

- | | | |
|---|--------|-------|
| | (가) | (나) |
| ① | 상품 | 투자부동산 |
| ② | 자기주식 | 상품 |
| ③ | 투자부동산 | 자기주식 |
| ④ | 만기보유증권 | 투자부동산 |
| ⑤ | 매도가능증권 | 상품 |

15. 다음은 갑상품만을 매매하는 ○○(주)의 제7기 [재고자산 관련 자료]와 손익계산서 일부이다. 제7기 손익계산서에 표시되는 매출원가를 계산한 금액으로 옳은 것은? (단, 일반기업회계기준을 적용하고, 제시된 자료 외의 것은 고려하지 않는다.) [3점]

[재고자산 관련 자료]

| 월 일 | 적 요 | 인 수 | | | 인 도 | | | 잔 액 | | |
|-------|------|-------|-----|---------|-------|-----|---------|-----|-----|---------|
| | | 수량 | 단가 | 금액 | 수량 | 단가 | 금액 | 수량 | 단가 | 금액 |
| 1 1 | 전기이월 | 100 | 600 | 60,000 | | | | 100 | 600 | 60,000 |
| 8 11 | 매 입 | 900 | 700 | 630,000 | | | | 100 | 600 | 60,000 |
| 9 12 | 매 출 | | | | 100 | 600 | 60,000 | 900 | 700 | 630,000 |
| 12 31 | 차기이월 | | | | 700 | 700 | 490,000 | 200 | 700 | 140,000 |
| | | 1,000 | | 690,000 | 1,000 | | 690,000 | | | |

- 기말상품재고 관련 자료
- 실제 재고 수량: 190개
- 순실현가능가치: @₩600

손익계산서

제7기 2018년 1월 1일부터 2018년 12월 31일까지
제6기 2017년 1월 1일부터 2017년 12월 31일까지

○○(주) (단위: 원)

| 과 목 | 당기 | 전기 |
|----------|-------|-----|
| 영업외비용 | ××× | ××× |
| 재고자산감모손실 | 2,100 | - |

- ① ₩550,000
- ② ₩554,900
- ③ ₩566,900
- ④ ₩573,900
- ⑤ ₩576,000


4 (회계 원리)

직업탐구 영역

16. 다음은 ○○상점이 받은 컨설팅 보고서의 일부이다. 이에 나타난 키오스크 관련 거래가 ○○상점의 제8기 말 재무제표에 미친 영향에 대한 설명으로 옳은 것만을 <보기>에서 있는 대로 고른 것은? (단, 회계기간은 매년 1월 1일부터 12월 31일까지이며, 제시된 자료 외의 것은 고려하지 않는다.)

컨설팅 보고서

1. 키오스크(무인 결제 단말기) 취득 이유
 - 고객의 대기 시간을 줄이기 위해 계산대 추가
 - 제8기 초 키오스크를 현금 매입하여 추가된 계산대에 배치
2. 키오스크 관련 거래가 ○○상점의 제8기 말 재무제표에 미친 영향
 - 키오스크 취득으로 비품이 증가
 - 키오스크 취득 대금의 즉시 지급을 위해 제8기 초 은행으로부터 자금을 조달하여 차입금(연 이자율 2%, 매년 말 이자 지급, 3년 후 원금 전액 상환)이 증가
 - 위 차입금에 대한 이자를 지급하여 비용 발생



<보 기>

ㄱ. 비유동자산이 증가한다.
 ㄴ. 비유동부채가 증가한다.
 ㄷ. 자본이 증가한다.

- ① ㄱ ② ㄷ ③ ㄱ, ㄴ
 ④ ㄴ, ㄷ ⑤ ㄱ, ㄴ, ㄷ

17. 다음은 ○○(주)의 [외화외상매출금 관련 자료]이다. (가), (나)에 들어갈 금액으로 옳은 것은? (단, 일반기업회계기준을 적용하고, 회계기간은 매년 1월 1일부터 12월 31일까지이며, 제시된 자료 외의 것은 고려하지 않는다.) [3점]

[외화외상매출금 관련 자료]

매출장

| 날짜 | 적 요 | 금액 |
|-------|---|-----|
| 10 15 | 해외 거래처에 상품 100개를 단위당 US \$2(총액 US \$200)로 외상매출하다. | ××× |

- 외화외상매출금 일부 회수 분개
 11월 30일 (차변) 보통예금 ××× (대변) 외화외상매출금 140,000 외환차익 (가)
- 외화외상매출금 환산 분개
 12월 31일 (차변) 외화환산손실 6,000 (대변) 외화외상매출금 6,000
- 외화 매출과 회수 및 환산 시 적용할 환율

| 날짜 | 10월 15일 (외화 매출 시) | 11월 30일 (외화 회수 시) | 12월 31일 (외화 환산 시) |
|----------|----------------------|----------------------|----------------------|
| ₩/US \$1 | ₩1,000 | ₩1,050 | (나) |

- (가) (나)
- ① ₩2,500 ₩800
 ② ₩3,500 ₩800
 ③ ₩3,500 ₩900
 ④ ₩7,000 ₩800
 ⑤ ₩7,000 ₩900

18. 다음은 ○○상점의 당좌예금출납장 일부와 [거래] 및 단기차입금 계정이다. 이를 모두 회계 처리할 경우 당기 말 재무상태표에 표시되는 단기차입금을 계산한 금액으로 옳은 것은? (단, 회계기간은 매년 1월 1일부터 12월 31일까지이고, 제시된 자료 외의 것은 고려하지 않는다.) [3점]

당좌예금출납장

| 날짜 | 적 요 | 예 입 | 인 출 | 차·대 | 잔 액 |
|------|------|---------|-----|-----|---------|
| 12 1 | 전월이월 | 200,000 | | 차 | 200,000 |

- 거래은행과 ₩500,000 한도의 당좌차월 계약이 체결되어 있으며, 결산 시 당좌차월 계정 잔액은 단기차입금 계정에 통합하여 재무상태표에 표시한다.

[거래]
 12/14 비품을 ₩50,000에 처분하고 대금은 당좌예입하다.
 12/22 상품 ₩400,000을 매입하고 대금은 당좌수표를 발행하여 지급하다.
 12/26 상품을 ₩100,000에 매출하고 대금은 당점발행 당좌수표로 받다.

단기차입금

| | | | | | |
|------|--------|---------|------|---------|---------|
| 5/10 | 보통 예 금 | 250,000 | 1/ 1 | 전 기 이 월 | 450,000 |
|------|--------|---------|------|---------|---------|

- ① ₩150,000 ② ₩200,000 ③ ₩250,000
 ④ ₩300,000 ⑤ ₩350,000

[19~20] 다음은 ○○(주)의 [사채 발행 및 상환 관련 자료]이다. 물음에 답하시오. (단, 회계기간은 매년 1월 1일부터 12월 31일까지 이고, 제시된 자료 외의 것은 고려하지 않는다.)

[사채 발행 및 상환 관련 자료]

- 발행일: 2016년 1월 1일
- 만기일: 2018년 12월 31일
- 액면 금액: ₩1,000,000
- 액면이자율: 연 5%
- 사채발행비: 없음
- 유효이자율: 연 5%
- 이자 지급일: 매년 12월 31일(현금 지급)
- 2016년 1월 1일 전액 만기 상환 조건으로 발행하여 현금 수취
- 2018년 1월 1일 사채 전액을 ₩1,020,000에 현금으로 매입하여 상환

19. 위 자료에서 사채 발행일의 거래와 동일한 거래 요소의 결합 관계가 나타나는 거래로 옳은 것은?

- ① 업무용 컴퓨터 ₩50,000을 외상으로 구입하다.
 ② 투자용 토지 ₩1,000,000을 현금으로 구입하다.
 ③ 사무실 임차료 ₩100,000을 현금으로 지급하다.
 ④ 당좌수표를 발행하여 미지급금 ₩300,000을 상환하다.
 ⑤ 보유 중인 주식에 대한 배당금 ₩10,000을 현금으로 받다.

20. 위 자료를 통해 알 수 있는 내용으로 옳은 것을 <보기>에서 고른 것은? [3점]

<보 기>

ㄱ. 사채 관련 이자비용은 매 회계연도 감소한다.
 ㄴ. 2016년 1월 1일의 사채 발행 금액은 ₩1,000,000이다.
 ㄷ. 2016년 결산 시 이월시산표에 표시되는 사채의 장부금액은 2017년 결산 시 보다 적다.
 ㄹ. 2018년 1월 1일 사채상환손실은 ₩20,000이다.

- ① ㄱ, ㄴ ② ㄱ, ㄷ ③ ㄴ, ㄷ ④ ㄴ, ㄹ ⑤ ㄷ, ㄹ

* 확인 사항
 ○ 답안지의 해당란에 필요한 내용을 정확히 기입(표기)했는지 확인 하시오.