

제 4 교시

직업탐구 영역(생활 서비스 산업의 이해)

성명  수험번호

1. 다음 기사에 나타난 생활 서비스 산업의 트렌드로 가장 적절한 것은?

최근 △△업체는 150개의 센서가 내장되어 있는 바디슈트를 선보였다. 이 슈트를 입고 스마트폰으로 연결하면 허리와 가슴둘레 같은 기본적인 치수는 물론 목, 손목둘레까지 인체 모든 부위의 치수 데이터를 얻을 수 있다. 이 데이터는 의류 제품 검색이나 구입에 활용될 뿐만 아니라 온라인 쇼핑의 큰 단점인 제품 사이즈에 대한 불만을 해소하는 데 활용될 전망이다.  
- ○○신문, 2018년 7월 13일 자 -

- ① 액티브 웨어의 일반화                      ② 리사이클링 패션의 확대
- ③ 유니버설 디자인의 추구                    ④ 정보기술과 패션의 융합
- ⑤ 녹색 인증 섬유 산업의 표준화

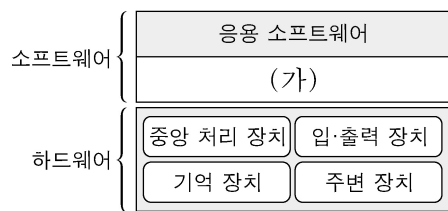
2. 다음 대화에서 A, B씨의 직업에 대한 설명으로 적절한 것만을 <보기>에서 있는 대로 고른 것은? (단, 한국표준직업분류에 근거한다.) [3점]

A 씨: 오늘은 수술 환자가 있어서 수술 준비를 도왔어. 의사의 지시로 간호 보조 업무와 진료 보조 업무를 하는 날보다 수술 환자가 있을 때는 더 긴장되고 힘들어. 너는 오늘 하루 어땠어?  
B 씨: 나는 그 수술 환자의 수술 과정이 녹음된 테이프의 내용을 기록했어. 그리고 환자들의 질환을 등록하고 의료정보 통계를 생성하느라 바쁜 하루였어.

<보 기>  
ㄱ. A 씨의 직업은 의료기구 및 물품을 소독·살균하는 일을 한다.  
ㄴ. B 씨 직업의 역할과 자격은 응급의료에 관한 법률에 근거한다.  
ㄷ. A 씨와 B 씨의 직업은 동일한 소분류 항목에 속한다.

- ① ㄱ                      ② ㄴ                      ③ ㄱ, ㄷ                      ④ ㄴ, ㄷ                      ⑤ ㄱ, ㄴ, ㄷ


3. 그림의 컴퓨터 시스템 체계에서 (가)에 대한 설명으로 옳은 것만을 <보기>에서 있는 대로 고른 것은?



<보 기>  
ㄱ. 시스템 소프트웨어에 해당된다.  
ㄴ. 종류로는 워드프로세서, 스프레드시트가 있다.  
ㄷ. HTTP를 사용하여 웹 페이지를 보여주는 프로그램이다.

- ① ㄱ                      ② ㄴ                      ③ ㄱ, ㄷ                      ④ ㄴ, ㄷ                      ⑤ ㄱ, ㄴ, ㄷ

4. 다음 선배와의 인터뷰에서 A, B씨의 직업에 대한 설명으로 적절한 것을 <보기>에서 고른 것은? (단, 한국표준직업분류에 근거한다.)



<보 기>  
ㄱ. A 씨의 직업 관련 국가기술자격에는 패션 머천다이징 산업 기사가 있다.  
ㄴ. A 씨의 직업은 매장 내 인력을 총괄 관리하며, 고객에게 상품 정보를 제공하는 일을 한다.  
ㄷ. B 씨의 직업 관련 국가기술자격에는 양복 기능사, 양장 기능사가 있다.  
ㄹ. B 씨의 직업은 옷감에 재단선을 표시하고 재단기를 조작하여 자르는 일을 한다.

- ① ㄱ, ㄴ                      ② ㄱ, ㄷ                      ③ ㄴ, ㄷ                      ④ ㄴ, ㄹ                      ⑤ ㄷ, ㄹ

5. 다음 대화에서 A, B씨의 직업에 대한 설명으로 적절한 것을 <보기>에서 고른 것은? (단, 한국표준직업분류에 근거한다.) [3점]

A 씨: 지난번에 소개해 주신 ○○호텔에 취업을 했습니다. 제가 만든 칵테일에 대한 손님들의 반응이 좋아서 요즘 다양한 맛과 향을 가진 칵테일을 조주하고 있습니다. 취업에 도움을 주셔서 감사합니다.  
B 씨: 축하합니다. ○○호텔에서 제가 근무하는 취업정보센터로 구인 요청이 왔을 때, A 씨는 관련 자격증도 있고 적성 검사와 상담을 한 결과, 그 일에 적합하다고 판단했습니다. 그래서 A 씨께 직업 관련 정보 및 채용 정보를 제공해 드렸는데 취업을 하게 되어 저도 보람을 느낍니다.

<보 기>  
ㄱ. A 씨의 직업 예시로 소믈리에가 있다.  
ㄴ. A 씨의 직업은 중분류 항목 중 '조리 및 음식 서비스직'에 속한다.  
ㄷ. B 씨의 직업은 창업상담, 경력개발상담 등의 업무를 수행하는 일을 한다.  
ㄹ. B 씨 직업의 경우 일정의 교육과정을 이수하면 무시험으로 2급 자격증을 취득할 수 있다.

- ① ㄱ, ㄴ                      ② ㄱ, ㄷ                      ③ ㄴ, ㄷ                      ④ ㄴ, ㄹ                      ⑤ ㄷ, ㄹ

6. 다음 의류 산업 강연에서 ㉠~㉣의 일을 하는 직업에 대한 설명으로 적절한 것만을 <보기>에서 있는 대로 고른 것은? (단, 한국표준 직업분류에 근거한다.) [3점]

옷이 매장에 진열되기 2년 전, 세계○○○협회에서 패션에 적용될 유행색이 결정됩니다. 6개월 뒤 ㉠ 유행색으로 염색된 다양한 원사들을 제조하여 전시회에 선보이고, 다시 6개월 후 이 ㉡ 원사들로 여러 직물들을 제작하여 발표합니다. 그리고 유명 패션 업체에서는 이 원단으로 ㉢ 옷을 디자인하고 제작하여 6개월 후 파리, 밀라노, 서울 등에서 다양한 패션쇼를 열게 됩니다.



<보 기>

- ㉠. ㉠의 직업은 방직기와 방사기를 조작하는 일을 한다.
- ㉡. ㉡의 직업은 원사의 종류, 제조 직물의 조직과 무늬에 대한 명세서를 검토하는 일을 한다.
- ㉢. ㉢의 직업은 피팅 모델을 통해 견본품을 평가하고 미비점을 수정·보완하는 일을 한다.

- ① ㉠      ② ㉡      ③ ㉠, ㉡      ④ ㉡, ㉢      ⑤ ㉠, ㉡, ㉢

7. 다음 공사 요구서의 (가)~(라)에 대한 설명으로 적절한 것들 <보기>에서 고른 것은? (단, 한국표준직업분류에 근거한다.) [3점]

**주택 리모델링 공사 요구서**      요구자: ○○○

• 다음과 같이 리모델링 공사를 요구합니다.

1. 완공 요구 일자: 2018년 10월 19일
2. 요구 조건
  - (가) 주택 내부 공간이 넓어 보이도록 흰색 페인트로 시공
  - (나) 침실 벽은 무채색 계열의 실크 벽지로 시공
  - (다) 거실 바닥은 밝은색 대리석으로 시공
  - (라) 건물 정면의 외벽은 격자무늬와 거친 질감으로 시공

<보 기>

- ㉠. (가)는 익스테리어에 해당한다.
- ㉡. (나)의 직업은 중분류 항목 중 '기타 기능 관련직'에 속한다.
- ㉢. (다)의 직업 관련 국가기술자격에는 타일 기능사가 있다.
- ㉣. (라)는 파사드를 계획한 것이다.

- ① ㉠, ㉡      ② ㉠, ㉢      ③ ㉡, ㉢      ④ ㉡, ㉣      ⑤ ㉢, ㉣

8. 다음 뉴스를 통해 알 수 있는 내용으로 적절한 것만을 <보기>에서 있는 대로 고른 것은?



○○군은 전국 생산량의 60%를 차지하는 지역 대파의 우수성과 특징 등을 널리 알리고자 QR 코드를 활용한 마케팅을 시작했다고 밝혔습니다. 스마트폰으로 QR 코드를 인식하면 해당 상품에 대한 생산 이력과 ○○대파의 효능에 대한 정보를 볼 수 있습니다.

<보 기>

- ㉠. 그레이징(grazing) 현상이 나타나고 있다.
- ㉡. 컨버전스(convergence) 마케팅을 사용하고 있다.
- ㉢. QR 코드에 담긴 상품의 정보는 정보 원천에 따라 나누었을 때 개인적 정보 원천에 해당한다.

- ① ㉠      ② ㉡      ③ ㉠, ㉡      ④ ㉡, ㉢      ⑤ ㉠, ㉡, ㉢

9. 다음 근로자 상담 게시판의 ㉠~㉣에 대한 설명으로 적절한 것만을 <보기>에서 있는 대로 고른 것은? (단, 한국표준직업분류에 근거한다.) [3점]

상담 게시판

저는 ○○제과점에서 ㉠ 빵, 케이크, 파이, 과자 등을 만드는 일을 5명의 직원들과 함께 하고 있습니다. 최근 제과점 상황이 좋지 않다는 이유로 ㉡ 최저 임금보다 1,000원이 적은 시급으로 계산된 월급을 받고 있습니다. 그리고 ㉢ 연장근로수당을 받는 조건으로 매일 1시간 일찍 나와서 준비하고 1시간 늦게 퇴근하는데 그 2시간을 제외한 8시간에 대한 급여만 받았습니디. 제가 연장근로수당을 요구하자 사장님은 ㉣ 아직 계약기간이 남았는데도 출근을 정지할 것을 통보했고, 출근해도 업무를 주지 않습니다. 어떻게 하면 좋을까요?

<보 기>

- ㉠. ㉠의 직업 관련 국가기술자격에는 제과 기능장이 있다.
- ㉡. ㉡의 경우는 임금채권보장제도에 의해 보장받을 수 있다.
- ㉢. ㉢의 경우는 근로기준법에 근거하여 사업자가 법적 처분을 받을 수 있다.
- ㉣. ㉣의 경우는 근로자의 권리 중 취업 청구권을 행사할 수 있다.

- ① ㉠, ㉡      ② ㉡, ㉢      ③ ㉢, ㉣  
④ ㉠, ㉡, ㉣      ⑤ ㉠, ㉢, ㉣

10. 다음 계획안에서 (가)~(다)의 직업에 대한 설명으로 적절한 것들 <보기>에서 고른 것은? (단, 한국표준직업분류에 근거한다.) [3점]

**패션 잡지 화보 촬영 계획**  
- ○○ 스포츠 웨어 -

- 촬영 날짜: 2018년 9월 14일
- 촬영 장소: △△산, □□빌딩
- 촬영 일정 및 업무 분담

시간	직업	담당업무
10:00~12:00	(가)	모델이 밀리터리(military) 이미지를 나타내도록 역동적인 포즈와 강인한 얼굴 표정 연출을 지도함.
13:00~14:00	(나)	카키 색상과 베이지, 브라운 계열 색상으로 구성된 바지와 점퍼, 패딩 코트를 조합하여 연출함.
14:00~15:00	(다)	남성다운 쇼트 헤어에 어울리는 위장 무늬와 어두운 계열의 눈화장과 립스틱으로 연출함.
15:00~18:00	사진작가	깊은 산과 숲, 이와 대비되는 고층 빌딩을 배경으로 사진을 촬영함.

<보 기>

- ㉠. (가)의 직업은 다른 사람들에게 주는 인상을 관리, 창조해 주는 일을 한다.
- ㉡. (나)의 직업은 옷과 액세서리, 메이크업 등을 조화시켜 전체적인 멋을 기획, 조정, 통제하는 일을 한다.
- ㉢. (다)의 직업은 남성 고객의 머리카락이나 수염을 자르거나 다듬어주는 일을 한다.
- ㉣. (나)와 (다)의 직업은 세분류 항목 중 '기타 미용 관련 서비스 종사원'에 속한다.

- ① ㉠, ㉡      ② ㉠, ㉢      ③ ㉡, ㉢      ④ ㉡, ㉣      ⑤ ㉢, ㉣

11. 다음 관광 안내문에서 ㉠~㉣에 대한 설명으로 적절한 것만을 <보기>에서 있는 대로 고른 것은? (단, 한국표준직업분류에 근거한다.) [3점]

○○군의 세 가지 봄 ‘편백숲, 청태전, 유채꽃’

㉠ 한국관광공사가 추천하는 생태 관광

- 추천 여행 코스  
1일차: 청태전 티로드 → △△강 생태습지원 → 편백숲  
2일차: □□다원 → 하늘빛수목원 → 유채마을 → 전망대
- 여행 안내  
㉠ 문화 관광 및 숲·자연환경 해설사의 해설을 들을 수 있음.  
㉡ 전통차를 고객의 기호에 맞게 전문적으로 만드는 사람이 다원 내 찻집에서 삼국 시대부터 내려오는 고유 발효차인 청태전을 제공함.

<보기>

㉠ ㉠은 관광 산업을 위한 비영리 목적의 단체이다.  
㉡ ㉡의 직업은 문화유산, 풍습, 해당 지역의 역사 등에 대해 전문적인 해설을 제공하는 일을 한다.  
㉢ ㉢의 직업과 동일한 소분류 항목에 속하는 직업에는 웨이터가 있다.

- ① ㉠      ② ㉢      ③ ㉠, ㉡      ④ ㉡, ㉢      ⑤ ㉠, ㉡, ㉢

12. 다음 수업 장면에서 학생 A~C가 희망하는 직업에 대한 설명으로 적절한 것만을 <보기>에서 있는 대로 고른 것은? (단, 한국표준직업분류에 근거한다.)

여러분들의 장래 희망은 무엇인가요?

학생 A

저는 전통 건축 기법을 이용하여 한옥, 사원, 궁궐 등의 전통 건축물을 설계하고 시공하는 일을 하고 싶어요.

학생 B

저는 맥주 양조장에서 맥주 제조의 전 공정을 관리하는 일을 하고 싶어요.

학생 C

저는 사회복지 프로그램의 개발 및 운영업무에 전반적으로 관여하는 일을 하고 싶어요.

<보기>

㉠ 학생 A의 희망 직업 관련 국가전문자격에는 문화재 수리 기술자가 있다.  
㉡ 학생 B의 희망 직업은 브루마스터이다.  
㉢ 학생 C의 희망 직업은 공공복지 서비스의 전달을 위한 대상자 선정 작업, 복지 조치, 생활지도 등의 일을 한다.  
㉣ 학생 A~C의 희망 직업은 모두 대분류 항목 중 ‘관리자’에 속한다.

- ① ㉠, ㉢      ② ㉠, ㉣      ③ ㉡, ㉣  
④ ㉠, ㉡, ㉢      ⑤ ㉡, ㉢, ㉣

13. 다음 [규칙]에 따라 직업에 대한 [명제]를 모두 풀었을 때, 말의 최종 위치로 옳은 것은? (단, 한국표준직업분류에 근거한다.)

[규칙]

- [명제]는 (가)~(다)까지 순서대로 풀다.
- 말은 [명제]가 참이면 실선(→), 거짓이면 점선(---)을 따라 한 칸만 이동한다.

순서	[명제]
(가)	한복 제조원은 원단의 종류와 색상을 정하고 옷감에 수를 놓기도 한다.
(나)	여행 상품 개발자의 관련 국가전문자격에는 관광 통역 안내사가 있다.
(다)	떡 제조원은 중분류 항목 중 ‘가사·음식 및 판매 관련 단순 노무직’에 속한다.

- ① A      ② B      ③ C      ④ D      ⑤ E

14. 다음 대화에서 학생 A, B가 체험한 직업에 대한 설명으로 적절한 것만을 <보기>에서 고른 것은? (단, 한국표준직업분류에 근거한다.)

<보기>

㉠ 학생 A의 체험 직업은 소분류 항목 중 ‘영양사’에 속한다.  
㉡ 학생 A의 체험 직업은 조리 담당자의 조리 및 위생 상태를 관리하는 일을 한다.  
㉢ 학생 B의 체험 직업은 건축설비 기술자이다.  
㉣ 학생 B의 체험 직업은 수평기·측연추 등을 사용하여 석재의 정위치 상태와 무늬·형태를 점검하는 일을 한다.

- ① ㉠, ㉡      ② ㉠, ㉢      ③ ㉡, ㉣      ④ ㉡, ㉣      ⑤ ㉢, ㉣

15. 다음 내용에서 A 씨의 직업에 대한 설명으로 적절한 것만을 <보기>에서 있는 대로 고른 것은? (단, 한국표준직업분류에 근거한다.) [3점]

**든든한 노후의 동반자 A 씨**

올해 89세인 이○○ 할머니는 노인장기요양보험제도를 통해 A 씨를 만나게 되었습니다. 할머니는 5년 전 남편과 사별한 후 홀로 살면서 말수가 줄어들고 기억력도 나빠졌습니다. A 씨는 할머니의 집을 방문하여 말벗도 되어드리고, 진료가 있는 날에는 할머니를 병원에 모셔다 드릴 뿐만 아니라 목욕, 운동 보조 등을 꼼꼼하게 챙깁니다. 이런 A 씨를 두고 할머니는 “자식보다 낫다.”라고 말합니다.

<보기>

㉠ 수급자에게 방문간호 서비스를 제공한다.  
㉡ 직업의 역할과 자격은 노인복지법에 근거를 두고 있다.  
㉢ 중분류 항목 중 ‘보건·사회복지 및 종교 관련직’에 속한다.

- ① ㉠      ② ㉡      ③ ㉠, ㉢      ④ ㉡, ㉢      ⑤ ㉠, ㉡, ㉢

16. 다음 일기에서 A, B씨의 직업에 대한 설명으로 적절한 것을 <보기>에서 고른 것은? (단, 한국표준직업분류에 근거한다.)

2018년 8월 24일

부모님의 오래된 집을 수리하였다. 오전에는 A씨가 와서 벽체에 물이 스며드는 것을 방지하기 위하여 모르타르를 시공면에 발랐다. 오후에는 깨진 창문을 보수하기 위해 유리를 절단하여 틀에 끼우고 고정하는 일을 하는 B씨가 다녀갔다. 늘 미뤄왔던 일을 해결하여 마음이 편안해졌다.

<보 기>

- ㄱ. A씨의 직업 관련 국가기술자격에는 방수 기능사가 있다.
- ㄴ. A씨의 직업은 중분류 항목 중 '공학 전문가 및 기술직'에 속한다.
- ㄷ. B씨의 직업은 유리 부착원이다.
- ㄹ. B씨의 직업은 건축물의 표면 부식을 방지하기 위해 도료를 칠하는 일을 한다.

- ① ㄱ, ㄴ    ② ㄱ, ㄷ    ③ ㄴ, ㄷ    ④ ㄴ, ㄹ    ⑤ ㄷ, ㄹ

17. 다음 글에서 ㉠~㉣에 대한 설명으로 적절한 것만을 <보기>에서 있는 대로 고른 것은? (단, 한국표준직업분류에 근거한다.)

저의 어머니는 ○○음식점에서 ㉠비빔밥, 불고기 등의 한국 전통음식을 조리하는 일을 하고 있습니다. 제가 ㉡조리 기능장 자격을 취득하여 △△호텔 주방장이 된 것은 어머니의 영향이 큼니다. 어머니께서는 항상 ㉢성실하고 책임감 있게 자신의 역할을 다하는 것은 물론 청결한 조리 환경에서 신선한 재료를 사용하고 전문성을 갖춘 조리사가 되라고 말씀하십니다.

<보 기>

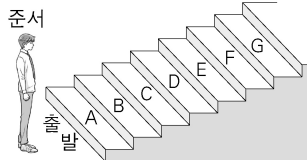
- ㄱ. ㉠의 직업은 중분류 항목 중 '식품가공 관련 기능직'에 속한다.
- ㄴ. ㉡의 자격은 조리 기능사 자격 취득 후 동일 직무 분야에서 3년의 실무 경험을 쌓아야 응시할 수 있다.
- ㄷ. ㉢는 보편적 직업윤리에 해당한다.

- ① ㄱ    ② ㄷ    ③ ㄱ, ㄴ    ④ ㄴ, ㄷ    ⑤ ㄱ, ㄴ, ㄷ

18. 다음 [조건]에 따라 보건·복지 관련 직업에 대한 [명제]를 모두 풀었을 때, 준서의 최종 위치로 옳은 것은? (단, 한국표준직업분류에 근거한다.) [3점]

[조건]

- 모든 [명제]는 한 번씩만 판단한다.
- [명제]가 참이면 이동 계단 수만큼 올라가고, 거짓이면 이동하지 않는다.



[명제]	이동 계단 수
보육교사의 자격은 영유아보육법에 규정되어 있다.	1계단
안마사는 소분류 항목 중 '보건 의료 관련 종사자'에 속한다.	2계단
응급 구조사는 환자 이송 시 해결하기 어려운 문제에 대해서는 지도 의사와 유·무선통신으로 협의하여 조치한다.	4계단

- ① A    ② C    ③ D    ④ E    ⑤ G

19. 다음 광고에서 (가)~(다)의 일을 하는 직업에 대한 설명으로 적절한 것만을 <보기>에서 있는 대로 고른 것은? (단, 한국표준 직업분류에 근거한다.) [3점]

공지 사항-할인 이벤트

**수험생 할인 이벤트**

• 저희 ○○뷰티 샵에서는 수험생들을 위해 특별 할인 행사를 진행합니다. 연말까지 수험표를 가지고 오시면 아래의 할인 혜택을 받을 수 있습니다.

서비스 항목	할인 혜택
(가) 헤어 퍼머넌트, 헤어 컬러링 & 헤어 커트	30% 할인
(나) 피부 상태 분석 & 마사지, 팩 등을 이용한 관리	40% 할인
(다) 손 마사지, 손톱 정리, 매니큐어 작업 및 장식	50% 할인

오늘 하루 동안 보이지 않음

<보 기>

- ㄱ. (가)의 직업은 의료기기나 의약품을 사용하여 눈썹 손질을 할 수 있다.
- ㄴ. (나)의 직업은 피부 유형에 맞는 화장품의 종류를 설명하고 제모하는 일을 한다.
- ㄷ. (다)의 직업은 미용사(네일) 면허나 미용사(종합) 면허가 필요하다.
- ㄹ. (가)~(다)의 직업은 모두 공중위생관리법의 적용을 받는다.

- ① ㄱ, ㄴ    ② ㄱ, ㄷ    ③ ㄷ, ㄹ  
④ ㄱ, ㄴ, ㄹ    ⑤ ㄴ, ㄷ, ㄹ

20. 다음 기사에 나타난 피해를 예방하기 위한 방법으로 적절한 것을 <보기>에서 고른 것은?

추석이 다가오면서 스미싱 피해가 급증하고 있어 각별한 주의가 요구된다. 직장인 A씨는 추석을 일주일 앞두고 커피 전문점의 이름이 적힌 할인 쿠폰 제공 문자 메시지를 받았다. 무심코 문자 속 인터넷 주소를 클릭한 A씨는 스마트폰으로 소액 결제가 발생한 사실을 나중에 알게 되었다.

- ○○신문, 2018년 9월 19일 자 -

<보 기>

- ㄱ. 스마트폰의 비밀번호를 주기적으로 변경한다.
- ㄴ. 가입한 통신사에 소액 결제 서비스 차단을 요청한다.
- ㄷ. 발신인이 불분명한 문자 메시지에 포함된 링크는 클릭하여 확인한 후 삭제한다.
- ㄹ. 스마트폰용 백신 프로그램을 설치한 후 주기적으로 업데이트 하고 악성 코드를 검사한다.

- ① ㄱ, ㄴ    ② ㄱ, ㄷ    ③ ㄴ, ㄷ    ④ ㄴ, ㄹ    ⑤ ㄷ, ㄹ

\* 확인 사항

- 답안지의 해당란에 필요한 내용을 정확히 기입(표기)했는지 확인 하시오.