

제 4 교시

직업탐구 영역 (생활 서비스 산업의 이해)

성명 수험번호

1. 다음 글에서 알 수 있는 직업에 대한 설명으로 적절한 것을 <보기>에서 고른 것은? (단, 한국표준직업분류에 근거한다.)

이 직업은 중세 유럽에서 식품 보관을 담당하며 영주의 식사 전에 음식의 안전 여부를 알려주는 ‘쑴(somme)’이라는 직책에서 유래되었다고 한다. 19세기에 들어오면서부터 이 직업의 업무는 손님이 주문한 요리와 어울리는 와인을 추천하는 일로 변화되었다.

<보 기>
 가. 이 직업은 소믈리에이다.
 나. 세분류 항목 중 ‘웨이터’에 속한다.
 다. 시각적인 요소를 고려하여 음식을 아름답게 꾸미는 일을 한다.
 리. 음료에 대한 전문 지식을 가지고 칵테일을 조주하여 고객에게 제공하는 일을 한다.

- ① 가, 나 ② 가, 다 ③ 나, 다 ④ 나, 리 ⑤ 다, 리

2. 다음 글에 나타난 생활 서비스 산업의 트렌드로 가장 적절한 것은?

소비자는 모바일 앱을 통해 언제, 어디서나 자신의 아바타 (avatar)를 이용하여 원하는 컬러, 무늬, 디테일 등을 직접 선택하고 그 제품을 3차원 가상공간에서 착용해 본 후 주문할 수 있다. 최근 패션 업체에서 이 서비스를 제공하고 있어 누구나 자신이 소비자인 동시에 디자이너가 될 수 있다.

- ① 기능성 신소재 첨단화 ② 유비쿼터스와 패션의 융합
 ③ 바이오 섬유 산업의 도래 ④ 녹색 인증 섬유 산업 표준화
 ⑤ 프레타포르테 패션의 확산

3. 다음 회의 내용에서 알 수 있는 A 씨의 직업에 대한 설명으로 적절한 것을 <보기>에서 고른 것은? (단, 한국표준직업분류에 근거한다.)

소장: 고객이 의뢰한 패시브 하우스 공사 건입니다. 담당자께서는 진행 상황을 말씀해 주시기 바랍니다.
 A 씨: 차갑거나 더운 공기가 주택 내부로 유입되지 못하도록 발포 폴리스티렌을 벽에 시공하였습니다.

<보 기>
 가. 전기 공사를 수행한다.
 나. 소분류 항목 중 ‘건설 관련 기능 종사자’에 속한다.
 다. 건물 표면의 열에너지 흐름을 작게 하거나 차단하는 일을 한다.
 리. 다양한 종류의 단열재를 절단, 설비, 고정시키기 위하여 수공구 및 동력 공구를 사용하는 일을 한다.

- ① 가, 나 ② 가, 다 ③ 나, 다 ④ 나, 리 ⑤ 다, 리

4. 다음 인터뷰에서 알 수 있는 ㉠~㉣의 직업에 대한 설명으로 적절한 것을 <보기>에서 고른 것은? (단, 한국표준직업분류에 근거한다.) [3점]



<보 기>
 가. ㉠의 직업은 특수한 목적에 맞도록 분장하는 일을 한다.
 나. ㉡의 직업은 행동 수정 요법과 같은 비의료적인 서비스를 제공하는 일을 한다.
 다. ㉢의 직업은 매장 내 인력을 총괄 관리하며 재고를 파악하는 일을 한다.
 리. ㉠과 ㉡의 직업은 세분류 항목 중 ‘기타 미용 관련 서비스 종사원’에 속한다.

- ① 가, 나 ② 가, 다 ③ 나, 다 ④ 나, 리 ⑤ 다, 리

5. 다음 활동지에서 알 수 있는 직업 (가), (나)에 대한 설명으로 적절한 것을 <보기>에서 고른 것은? (단, 한국표준직업분류에 근거한다.)

직업 탐색	
3학년 ○반 ○번 이름: ○○○	
직업	직무 사례
(가)	행인이 호흡 곤란을 호소하면서 쓰러졌다. 시민의 신고를 받고 출동한 △△는 현장에 도착해 환자의 상태를 확인한 후, 구급차로 환자를 병원에 이송하면서 의사 지시를 받아 조치를 취했다.
(나)	노인 장기 요양 보험의 전달자인 □□는 치매 판정을 받은 65세 어르신 식사 돕기, 목욕시키기, 세탁 및 청소 등의 서비스를 제공했다.

<보 기>
 가. (가)의 직업 예시로는 병원 코디네이터가 있다.
 나. (가)는 출동 사항과 처치 내용을 기록하고 이를 담당 의사에게 보고하는 일을 한다.
 다. (나)의 역할과 자격은 노인 복지법에 근거를 두고 있다.
 리. (나)는 의사의 처방에 따라 환자의 신체 기능 장애를 완화하는 일을 한다.

- ① 가, 나 ② 가, 다 ③ 나, 다 ④ 나, 리 ⑤ 다, 리

6. 다음 기사에서 나타난 의류 산업에 대한 설명으로 적절한 것을 <보기>에서 고른 것은?

최근 패션 업계에서는 폐기물을 재활용한 제품이 출시되어 좋은 반응을 얻고 있다. △△브랜드는 페플라스틱을 재활용한 러닝화를 출시하기 시작하여 축구 유니폼, 아웃도어 등으로 폐기물 재활용 제품을 점차 확대하고 있다. □□브랜드는 버려지는 이월 상품을 재활용해 전혀 다른 상품으로 만든 컬렉션을 출시했다.
- ○○신문, 2018년 7월 3일 자 -

<보 기>

- ㄱ. 소비주의를 지향하는 패션 산업이다.
- ㄴ. 소재의 지속 가능성을 강조한 패션 산업이다.
- ㄷ. 리사이클링(recycling)을 지향하는 패션 산업이다.
- ㄹ. 상품의 수명이 짧은 패스트 패션 산업에 해당한다.

- ① ㄱ, ㄴ ② ㄱ, ㄷ ③ ㄴ, ㄷ ④ ㄴ, ㄹ ⑤ ㄷ, ㄹ

7. 다음 대화에서 알 수 있는 A, B 씨의 직업에 대한 설명으로 적절한 것만을 <보기>에서 있는 대로 고른 것은? (단, 한국표준 직업분류에 근거한다.) [3점]

A 씨: 저는 의뢰인이 처한 개인적·사회적 문제를 진단하고 평가하여 문제가 해결되도록 지원해 주는 담당자입니다. 이번에 취약 계층을 대상으로 하는 안경 지원 사업에 필요한 안경을 구입하려고 합니다.
B 씨: 네, 대상자와 함께 방문하시면 제가 시력을 검사하고 적합한 안경을 맞춰 드리겠습니다.

<보 기>

- ㄱ. A 씨 직업의 자격 기준은 사회 복지 사업법에 규정되어 있다.
- ㄴ. B 씨의 직업에 종사하기 위해서는 안경사 면허를 취득해야 한다.
- ㄷ. B 씨 직업과 동일한 소분류 항목에 속하는 직업에는 안마사가 있다.

- ① ㄱ ② ㄴ ③ ㄱ, ㄷ ④ ㄴ, ㄷ ⑤ ㄱ, ㄴ, ㄷ

8. 다음은 저작물 사용에 관한 대화이다. ㉠에 해당하는 사례로 적절한 것을 <보기>에서 고른 것은?

A 씨: 시각 장애 어린이들을 위한 한국 전래 동화를 점자로 발행하려고 해요. 저작권자의 허락을 받아야 하나요?
전문가: 시각 장애인을 위해서는 공표된 저작물을 점자로 복제할 수 있습니다. 이는 ㉠ 저작권자의 허락 없이 저작물을 사용할 수 있는 사례에 해당합니다.

<보 기>

- ㄱ. 교과서 그림을 스캔하여 학교 지필평가 문제를 출제하는데 활용하였다.
- ㄴ. 타인의 블로그에서 저작권이 있는 사진을 스크랩하여 공개적으로 개인 블로그에 출처 없이 게시하였다.
- ㄷ. 토론 주제와 관련된 시사적인 기사를 발췌·복사하여 수업 시간에 출처와 함께 모둠원들에게 제시하였다.
- ㄹ. 최신 가요 음원 파일들을 음악 서비스 업체에서 구입하여 USB 메모리에 복사한 후 친구들에게 판매하였다.

- ① ㄱ, ㄴ ② ㄱ, ㄷ ③ ㄴ, ㄷ ④ ㄴ, ㄹ ⑤ ㄷ, ㄹ

9. 다음 안내장에서 알 수 있는 ㉡~㉣의 직업에 대한 설명으로 적절한 것만을 <보기>에서 있는 대로 고른 것은? (단, 한국표준 직업분류에 근거한다.) [3점]

금강송 숲길로 떠나는 힐링 소풍
몸과 마음이 먼저 알아주는 말이 필요 없는 힐링 트레킹

• 일정

10:00 ~ 11:00	금강송 숲길 걷기
11:00 ~ 11:30	전통 사찰 관람
11:30 ~ 12:30	㉡ 떡을 제조 하는 자와 함께하는 두툼떡 만들기

• 비고

- ㉡ 여행 전반에 대한 일정을 설명하고 관광지로 인솔하는 자가 동행합니다.
- ㉢ 외국인 여행객의 여행 기간 동안 외국인 여행객을 관광지까지 인솔하고 통역하는 자와 함께 합니다.

<보 기>

- ㄱ. ㉡의 직업은 소분류 항목 중 '식품가공 관련 기능 종사자'에 속한다.
- ㄴ. ㉢의 직업은 여행객에게 관광지 및 관광 대상물을 설명하거나 안내하는 일을 한다.
- ㄷ. ㉣ 직업의 관련 국가전문자격에는 관광 통역 안내사가 있다.

- ① ㄱ ② ㄴ ③ ㄱ, ㄷ ④ ㄴ, ㄷ ⑤ ㄱ, ㄴ, ㄷ

10. 다음 인터뷰에서 알 수 있는 A, B 씨의 직업에 대한 설명으로 적절한 것만을 <보기>에서 있는 대로 고른 것은? (단, 한국표준 직업분류에 근거한다.) [3점]

장마가 예보되었습니다. 장마 대비 사전 점검 및 피해예방과 관련해 어떤 일을 하시나요?

저는 장맛비로 인해 빗물이 지붕의 균열을 따라 스며들지 않도록 아스팔트 루핑(asphalt roofing)을 바르는 일을 합니다.

저는 빌딩에 전기 사고가 일어나지 않도록 전기, 기계 등 건축 설비에 관련된 기술적 업무를 수행하고, 전기 설비의 안전성도 점검합니다.

<보 기>

- ㄱ. A 씨의 직업 관련 국가기술자격에는 타일 기능사가 있다.
- ㄴ. A 씨의 직업은 소분류 항목 중 '건축 마감 관련 기능 종사자'에 속한다.
- ㄷ. B 씨의 직업은 건물 내부 장식을 계획하고 가구 배치 등 내부 설계의 도안을 작성하는 일을 한다.

- ① ㄱ ② ㄴ ③ ㄱ, ㄷ ④ ㄴ, ㄷ ⑤ ㄱ, ㄴ, ㄷ

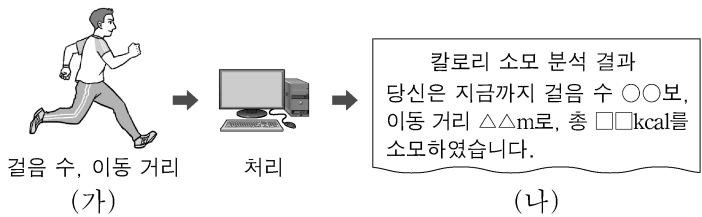
11. 다음은 근로자의 권리와 의무에 대한 사례이다. A, B 씨에 대한 설명으로 적절한 것을 <보기>에서 고른 것은? [3점]

A 씨: 저는 한 달 전부터 하루 8시간씩 햄버거를 굽거나 용기에 담는 일을 해요. 사장님께서 처음 한 달은 수습 기간이라고 최저 임금의 10%를 제하고 월급을 줬어요.
B 씨: 저는 ○○업체에서 다양한 커피 음료를 제조하며 고객을 응대하는 일을 해요. 얼마 전 매장에서 손님이 바닥에 쏟은 커피에 제가 미끄러져 골절 진단을 받았는데 업무상 재해가 인정되면 치료비와 임금의 일부를 지급받을 수 있대요.

<보기>
ㄱ. A 씨는 임금채권보장제도를 통해 보상받을 수 있다.
ㄴ. A 씨의 직업은 한국표준직업분류의 소분류 항목 중 '음식 관련 단순 종사원'에 속한다.
ㄷ. B 씨의 직업은 브루 마스터이다.
ㄹ. B 씨는 산업재해보상보험제도의 보상을 받을 수 있다.

- ① ㄱ, ㄴ ② ㄱ, ㄷ ③ ㄴ, ㄷ ④ ㄴ, ㄹ ⑤ ㄷ, ㄹ

12. 다음은 디지털 헬스 케어 관련 정보 처리 과정을 나타낸 것이다. (가), (나)에 대한 설명으로 적절한 것만을 <보기>에서 있는 대로 고른 것은?



<보기>
ㄱ. (가)에서 측정된 걸음 수와 이동 거리는 정보를 체계화하고 일반화한 지식에 해당한다.
ㄴ. (나)는 이용하는 사람에 상관없이 동일한 가치를 갖는다.
ㄷ. (나)는 (가)에서 측정된 걸음 수와 이동 거리를 가공·처리 해서 얻은 결과물로서 정보에 해당한다.

- ① ㄱ ② ㄷ ③ ㄱ, ㄴ ④ ㄴ, ㄷ ⑤ ㄱ, ㄴ, ㄷ


13. 다음 게시판에 나타난 직업 (가), (나)에 대한 설명으로 적절한 것을 <보기>에서 고른 것은? (단, 한국표준직업분류에 근거한다.)

이달의 우수 사원		○○호텔
성명	△△△	□□□
직업	(가)	(나)
근무 부서	레스토랑	프린트 오피스
선정 이유	프랑스 정통 요리 기법으로 끓인 감자수프와 구운 송아지 스테이크 메뉴로 고객에게 큰 호응을 얻음.	정문에서 고객을 맞이하고 짐을 운반하는 주된 업무를 하던 중 급작스레 쓰러진 여행객을 병원까지 모셔다 드림.

<보기>
ㄱ. (가)의 직업 예시로는 제빵사가 있다.
ㄴ. (가)는 고객이 주문한 메뉴를 확인하고 필요한 재료를 준비하여 조리한다.
ㄷ. (나)는 소분류 항목 중 '여가 서비스 종사자'에 속한다.
ㄹ. (나)는 호텔 종사자들을 지휘·감독하는 일을 한다.

- ① ㄱ, ㄴ ② ㄱ, ㄷ ③ ㄴ, ㄷ ④ ㄴ, ㄹ ⑤ ㄷ, ㄹ

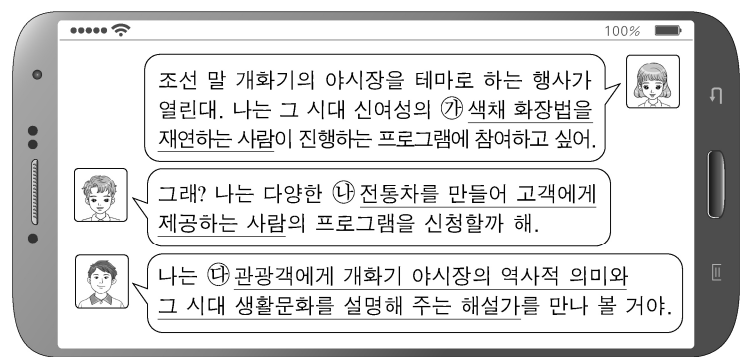
14. 다음 진로 콘서트에서 알 수 있는 A, B 씨의 직업에 대한 설명으로 적절한 것만을 <보기>에서 있는 대로 고른 것은? (단, 한국표준 직업분류에 근거한다.) [3점]



<보기>
ㄱ. A 씨의 직업은 섬유에 일정한 혼합물을 결합하는 기계를 조작하는 일을 한다.
ㄴ. A 씨의 직업은 소비자의 요구에 맞추어 소재와 부자재를 선택하고 작업 지시서를 작성하는 일을 한다.
ㄷ. B 씨의 직업은 소분류 항목 중 '의복 제조 관련 기능 종사자'에 속한다.

- ① ㄱ ② ㄴ ③ ㄱ, ㄷ ④ ㄴ, ㄷ ⑤ ㄱ, ㄴ, ㄷ

15. 다음 대화에서 ㉠~㉣의 직업에 대한 설명으로 적절한 것만을 <보기>에서 있는 대로 고른 것은? (단, 한국표준직업분류에 근거한다.) [3점]



<보기>
ㄱ. ㉠ 직업의 업무 범위는 공중위생관리법에 규정되어 있다.
ㄴ. ㉡의 직업은 피부 성향에 맞는 피부 관리법에 대해 조언하는 일을 한다.
ㄷ. ㉢의 직업은 소분류 항목 중 '조리사'에 속한다.
ㄹ. ㉣의 직업은 관광 자원에 대한 관광객의 이해를 돕기 위해 전문적인 해설을 제공하는 일을 한다.

- ① ㄱ, ㄴ ② ㄴ, ㄷ ③ ㄷ, ㄹ
④ ㄱ, ㄴ, ㄹ ⑤ ㄱ, ㄷ, ㄹ

16. 다음 회의 내용에서 알 수 있는 A, B씨의 직업에 대한 설명으로 적절한 것을 <보기>에서 고른 것은? (단, 한국표준직업분류에 근거한다.) [3점]

여름철 식중독 대책 회의

팀장: 우리 사업장의 식중독 예방에 대한 업무 계획을 제시해 보세요.
 A 씨: 제가 담당하는 단체 급식소의 위생 상태를 점검하고 전염 병원체와 공기 중 유해 물질을 통제하도록 중점 지도하겠습니다.
 B 씨: 저는 식단을 작성할 때 가급적 가열 조리 메뉴를 포함하고, HACCP을 준수하여 조리하도록 지도하겠습니다.

<보 기>

ㄱ. A 씨의 직업은 음식 서비스의 운영을 기획·조정하는 일을 한다.
 ㄴ. B 씨의 직업은 영양사이다.
 ㄷ. B 씨의 직업은 식품 원료인 농산물의 잔류 농약에 대한 정량·정성 분석하는 일을 한다.
 ㄹ. A, B 씨의 직업은 모두 중분류 항목 중 '보건 사회 복지 및 종교 관련직'에 속한다.

- ① ㄱ, ㄴ ② ㄱ, ㄷ ③ ㄴ, ㄷ ④ ㄴ, ㄹ ⑤ ㄷ, ㄹ

17. 다음 게시판의 ㉠, ㉡에 대한 설명으로 옳은 것을 <보기>에서 고른 것은?

○○게임 테스터 모집

저희 회사에서는 ㉠○○게임의 정식 유료 버전 발매를 앞두고 더 나은 게임 서비스를 위해 ㉡○○게임의 베타 버전을 점검할 '게임 테스터'를 모집합니다. 전 세계 스마트폰 이용자라면 누구나 참여할 수 있으며, 참가자 전원에게는 게임 아이템을 무료로 제공하오니 많은 참여 바랍니다.

<보 기>

ㄱ. ㉠는 해당 소프트웨어를 홍보하기 위해 기능 제한을 두고 배포하는 프로그램이다.
 ㄴ. ㉡는 테스트를 목적으로 일반에게 공개하는 프로그램이다.
 ㄷ. ㉠와 ㉡는 응용 소프트웨어에 해당한다.
 ㄹ. ㉡는 ㉠보다 프로그램 완결성이 높다.

- ① ㄱ, ㄴ ② ㄱ, ㄷ ③ ㄴ, ㄷ ④ ㄴ, ㄹ ⑤ ㄷ, ㄹ

18. 다음 일기 내용에서 ㉠~㉣의 직업에 대한 설명으로 적절한 것을 <보기>에서 고른 것은? (단, 한국표준직업분류에 근거한다.) [3점]

2018년 3월 10일

어머니께 물려받은 웨딩드레스를 결혼식 날 입기로 결정했다. 드레스 밑단에 ㉠레이스를 덧달고 옷 길어도 늘어 주는 일을 하는 사람에게 리폼을 의뢰했다. 오후에는 ㉡웨딩 헤어와 티아라 장식을 해 줄 사람을 만나러 헤어숍에 들렀다. 그리고 ㉢손톱의 큐티클 정리와 컬러링을 해 주는 사람에게 예약을 했다.

<보 기>

ㄱ. ㉠의 직업 관련 국가기술자격으로는 양장 기능사가 있다.
 ㄴ. ㉡의 직업에 종사하려면 미용사(일반) 또는 미용사(종합) 면허를 받아야 한다.
 ㄷ. ㉢의 직업은 피부 상태를 분석·관리하고 제모하는 일을 한다.
 ㄹ. ㉡와 ㉢의 직업은 세분류 항목 중 '메이크업 아티스트 및 분장사'에 속한다.

- ① ㄱ, ㄴ ② ㄱ, ㄷ ③ ㄴ, ㄷ ④ ㄴ, ㄹ ⑤ ㄷ, ㄹ

19. 다음 알림장에서 (가), (나)의 내용을 작성한 사람의 직업에 대한 설명으로 적절한 것만을 <보기>에서 있는 대로 고른 것은? (단, 한국표준직업분류에 근거한다.)

알 림 장				
2018년 4월 9일		푸른파도반 류하빈 날씨 ☀		
이유식	오전 간식 점심	복어살애호박죽 진밥, 개살탕국	수면 배변	1회 오후 1~2시 기저귀 같이 3회
가정으로	하빈이가 자동차 카드로 '빠방' 놀이를 한 후 인형 없이도 낮잠을 잘 잤어요. 간식과 점심도 남김없이 잘 먹어서 칭찬해 주었어요.			
원으로	선생님, 제가 내일 간호사의 지시로 진료 업무를 보조해야 해서, 퇴근 후 오후 7시까지 데리러 갈게요.			

<보 기>

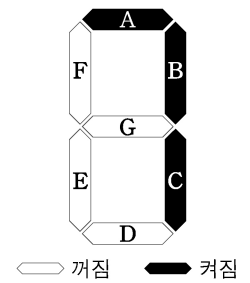
ㄱ. (가)의 직업은 소분류 항목 중 '사회복지 관련 종사자'에 속한다.
 ㄴ. (가)의 직업은 유아의 연령, 발육 정도에 적합한 연간 및 일일 보육 계획을 세우는 일을 한다.
 ㄷ. (나)의 직업은 의무기록 정보의 서식을 개발·관리하는 일을 한다.

- ① ㄱ ② ㄷ ③ ㄱ, ㄴ ④ ㄴ, ㄷ ⑤ ㄱ, ㄴ, ㄷ

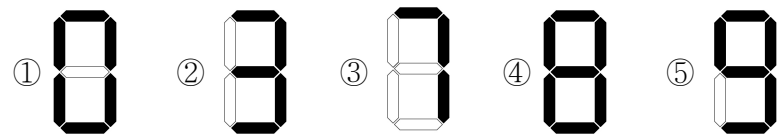
20. 다음은 [조건]에 따라 동작하는 LED 숫자 표시 장치이다. [명제]를 모두 판단하여 표시되는 결과로 옳은 것은? [3점]

[조건]

- LED 표시 장치는 7개로 구성되어 있다.
- A, B, C는 항상 켜진다.
- D, E, F, G는 각각 해당 [명제]를 판단하여 참이면 켜지고, 거짓이면 켜지지 않는다.



[명제]	LED 표시 장치
미용 국가기술자격의 등급은 2단계로 구분된다.	D
작업 중지권은 노동 3권에 해당된다.	E
클라크(Clark, C. G.)의 산업 분류에 의하면 제조업은 2차 산업에 속한다.	F
고용 보험은 4대 사회 보험에 해당한다.	G



* 확인 사항
 ○ 답안지의 해당란에 필요한 내용을 정확히 기입(표기)했는지 확인 하시오.