

제 4 교시

# 직업탐구 영역(회계 원리)

성명  수험번호

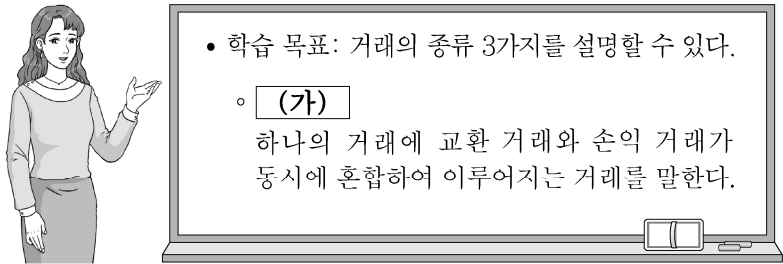
1. 다음은 회계의 분류에 대한 과제 수행 보고서의 일부이다. (가)에 들어갈 정보 이용자로 가장 적절한 것은?

**과제 수행 보고서** 작성자: A

- 주제: 정보 이용자에 따른 회계의 분류
  - 재무회계
    - 정보 이용자: ×××
    - 정보이용 목적: 투자, 신용 평가 등의 경제적 의사 결정
    - 보고 양식: 재무제표 및 부속명세서
  - 관리회계
    - 정보 이용자: (가)
    - 정보이용 목적: 경영 계획과 통제 등의 경영 의사 결정
    - 보고 양식: 제한 없음.

- ① 경영자    ② 거래처    ③ 소비자    ④ 채권자    ⑤ 투자자

2. 다음은 거래의 종류에 대한 수업 장면이다. (가)에 해당하는 거래로 옳은 것은?



• 학습 목표: 거래의 종류 3가지를 설명할 수 있다.

- (가) 하나의 거래에 교환 거래와 손익 거래가 동시에 혼합하여 이루어지는 거래를 말한다.

- ① 재산세 ₩50,000을 현금으로 지급하다.  
 ② 단기대여금에 대한 이자 ₩30,000이 보통예금으로 입금되다.  
 ③ 장부금액 ₩200,000의 업무용 토지를 ₩250,000에 처분하고 대금은 현금으로 받다.  
 ④ 비품을 ₩100,000에 구입하고 ₩50,000은 현금으로 지급하고 잔액은 외상으로 하다.  
 ⑤ 업무용 자동차를 ₩300,000에 구입하고 취득세 ₩20,000과 함께 현금으로 지급하다.

3. 다음 기사에 나타난 거래 내용을 △△(주)의 입장에서 분개할 때 차변 계정과목과 동일한 비용의 분류 항목에 속하는 계정과목으로 옳은 것을 <보기>에서 고른 것은?

△△(주)는 도서나 음반, 공연 및 스포츠 경기 입장권을 구입하여 거래처 접대에 사용함으로써 거래처의 만족도가 높아지고 기업의 이미지도 향상되었다.  
 - ○○신문, 2018년 2월 3일 자 -

- <보 기>
- ㄱ. 보험료    ㄴ. 통신비    ㄷ. 재해손실    ㄹ. 기타의대손상각비

- ① ㄱ, ㄴ    ② ㄱ, ㄷ    ③ ㄴ, ㄷ    ④ ㄴ, ㄹ    ⑤ ㄷ, ㄹ

4. 다음은 ○○(주)의 제5기 [거래]와 이를 [잘못 분개하여 전기한 총계정원장]이다. 이를 정정하지 않았을 경우 제5기 재무제표에 미치는 영향으로 옳은 것을 <보기>에서 고른 것은? (단, 제시된 자료 외의 것은 고려하지 않는다.) [3점]

[거래]  
1월 25일 당월분 급여 ₩3,000,000 중 소득세 ₩100,000을 차감한 잔액을 현금으로 지급하다.

[잘못 분개하여 전기한 총계정원장]

현금					
1/ 1	전기이월	×××	1/25	급 여	2,900,000
급여					
1/25	현 금	2,900,000			

- <보 기>
- ㄱ. 자산이 과소 계상                      ㄴ. 부채가 과소 계상  
 ㄷ. 자본이 과소 계상                      ㄹ. 비용이 과소 계상

- ① ㄱ, ㄴ    ② ㄱ, ㄷ    ③ ㄴ, ㄷ    ④ ㄴ, ㄹ    ⑤ ㄷ, ㄹ

5. 다음은 ○○(주)의 2017년 결산일 현재 [금고에 보관 중인 실제 자산 내역]과 현금출납장의 일부이다. 이를 통해 알 수 있는 (가)의 금액으로 옳은 것은? (단, 회계기간은 매년 1월 1일부터 12월 31일 까지이고, 제시된 자료 외의 것은 고려하지 않는다.) [3점]

[금고에 보관 중인 실제 자산 내역]

- 지폐 및 주화: ₩30,000
- 송금수표: ₩100,000
- 거래처 발행의 당좌수표: ₩140,000
- 양도성 예금 증서: ₩10,000
- 거래처 발행의 6개월 후 만기의 약속어음: ₩30,000

**현금출납장**

날짜	적 요	수입	지출	잔액
12 30	외상 매출 대금 회수	200,000		(가)
31	잡손실		20,000	×××
"	차기이월		×××	
		×××	×××	

- ① ₩270,000    ② ₩290,000    ③ ₩300,000  
 ④ ₩320,000    ⑤ ₩330,000

6. 다음은 ○○(주)의 외상매입금 관련 대화 장면이다. 대화에 나타난 거래를 ○○(주)의 입장에서 분개할 때 이와 동일한 거래 요소의 결합 관계가 나타나는 거래로 옳은 것은?



- ① 건물 임대료 ₩100,000을 현금으로 받다.
- ② 수도 요금 ₩100,000을 현금으로 납부하다.
- ③ 현금 ₩100,000을 출자하여 영업을 시작하다.
- ④ 외상매출금 ₩100,000을 동점 발행 수표로 받다.
- ⑤ 단기차입금 ₩100,000을 자기앞수표로 상환하다.

7. 다음은 개인기업인 ○○상점의 제5기 [상품 관련 자료]와 손익 계정이다. 이를 통해 제5기 영업이익을 계산한 금액으로 옳은 것은? (단, 일반기업회계기준을 적용하고, 회계기간은 매년 1월 1일부터 12월 31일까지이며, 제시된 자료 외의 것은 고려하지 않는다.) [3점]

[상품 관련 자료]

- 기초상품재고액 : ₩50,000      • 순매입액 : ₩600,000
- 기말상품재고액 : 장부 재고 수량 100개(@₩1,000), 실제 재고 수량 80개(감모 수량 중 15개는 정상적이고 나머지는 비정상적임.)

손익			
12/31 매	입	×××	12/31 매
"	급	여 100,000	"
"	채고자산감모손실	×××	이 자 수 익
"	자 본 금	×××	
1,000,000			1,000,000

- ① ₩280,000
- ② ₩285,000
- ③ ₩300,000
- ④ ₩335,000
- ⑤ ₩385,000

8. 다음은 ○○(주)의 사내 게시판 내용이다. 이를 실행하여 분개할 때 차변 계정과목으로 옳은 것은?

**\* 유기견과 함께해요! \***

우리 회사는 매달 동물 보호 차원에서 △△구청 유기견센터에 후원금을 현금으로 전달하고, 유기견 돌봄 봉사 활동을 실시하고 있습니다. 이번 달 일정을 알려 드리오니 관심 있는 사원들의 많은 참여 바랍니다.

- 일시: 2018. 7. 14.(토) 09:00 ~ 13:00  
- 장소: △△구청 유기견센터

○○(주) 총무팀장

- ① 기부금
- ② 임차료
- ③ 접대비
- ④ 복리후생비
- ⑤ 세금과공과

9. 다음은 ○○(주)의 [사채 발행 관련 자료]와 [거래]이다. 이를 회계 처리한 후 알 수 있는 내용으로 옳은 것은? (단, 회계기간은 매년 1월 1일부터 12월 31일까지이고, 제시된 자료 외의 것은 고려하지 않는다.) [3점]

[사채 발행 관련 자료]

- 발행일 : 2016년 1월 1일
- 만기일 : 2018년 12월 31일
- 액면금액 : ₩100,000
- 발행금액 : ₩95,196
- 액면이자율 : 연 10%
- 유효이자율 : 연 12%
- 이자 지급일 : 매년 12월 31일(연 1회 현금 지급)
- 사채발행비 : 없음.
- 2017년 12월 31일 총계정원장

사채할인발행차금			
1/ 1	전기이월	3,380	
			12/31 이자비용
			" 차기이월
		3,380	1,594
			1,786
			3,380

[거래]

2018년 1월 1일 위 사채 전액을 ₩98,000에 현금으로 매입 상환하다.

- ① 2017년 1월 1일 사채의 장부금액은 ₩98,214이다.
- ② 2017년 결산 시 실제 지급되는 이자는 ₩12,000이다.
- ③ 2017년 결산 후 손익 계정에 대체되는 이자비용은 ₩11,594이다.
- ④ 2018년 매입 상환 전 사채의 장부금액은 ₩98,406이다.
- ⑤ 2018년 1월 1일 매입 상환 시 사채상환손실은 ₩214이다.

10. 다음은 개인기업인 ○○상점의 제2기 손익 계정과 이월자산표이다. 이를 통해 알 수 있는 내용으로 옳은 것을 <보기>에서 고른 것은? (단, 회계기간은 매년 1월 1일부터 12월 31일까지이고, 제시된 자료 외의 것은 고려하지 않는다.) [3점]

손익			
12/31 매	입	350,000	12/31 매
"	급	여 100,000	"
"	임차료	50,000	출
"	이자비용	50,000	임
"	자 본 금	430,000	대
980,000			940,000
			40,000

**이월자산표**

2017년 12월 31일


○○상점		(단위 : 원)	
차변	원면	계정과목	대변
600,000		현	금
10,000		선	료
70,000		이	차
	생	월	품
		외	50,000
	락	상	40,000
		매	20,000
		입	570,000
		금	680,000
		이	
		자	
		본	
		금	
680,000			680,000

<보 기>

- ㄱ. 당기 판매가능상품액은 ₩420,000이다.
- ㄴ. 당기분 임대료는 ₩40,000이다.
- ㄷ. 당기분 임차료는 ₩10,000이다.
- ㄹ. 당기순이익은 ₩140,000이다.

- ① ㄱ, ㄴ
- ② ㄱ, ㄷ
- ③ ㄴ, ㄷ
- ④ ㄴ, ㄹ
- ⑤ ㄷ, ㄹ

11. 다음은 신입 사원 채용을 위한 면접 장면이다. 면접관의 질문에 옳게 대답한 지원자만을 있는 대로 고른 것은? (단, 일반기업회계 기준을 적용한다.) [3점]



- ① A      ② B      ③ A, C      ④ B, C      ⑤ A, B, C

12. 다음은 ○○(주)의 [자본 관련 자료]이다. 2017년 기중 자본 관련 거래를 회계 처리한 후 (가)의 금액으로 옳은 것은? (단, 일반기업회계기준을 적용하고, 회계기간은 매년 1월 1일부터 12월 31일까지이며, 제시된 자료 외의 것은 고려하지 않는다.) [3점]

[자본 관련 자료]

• 연도별 자본 내역

항목 \ 연도	2016년 12월 31일	2017년 12월 31일
자본금	₩500,000	×××
자본잉여금	₩500,000	×××
자본조정	(-) ₩10,000	×××
기타포괄손익누계액	₩20,000	₩20,000
이익잉여금	₩90,000	₩100,000
자본총계	₩1,100,000	(가)

• 2017년 기중 자본 관련 거래

3월 2일 자본금의 10%를 현금 ₩40,000에 유상감자하다.  
7월 3일 보유 중인 자기주식 10주(취득원가 1주당 ₩1,000)를 현금 ₩20,000(1주당 ₩2,000)에 처분하다.

- ① ₩1,060,000      ② ₩1,070,000      ③ ₩1,080,000  
④ ₩1,090,000      ⑤ ₩1,100,000

13. 다음은 ○○(주)의 당좌예금출납장과 [총계정원장]의 일부이다. (가)에 들어갈 계정과목으로 옳은 것은? (단, 일반기업회계기준을 적용하고, 제시된 자료 외의 것은 고려하지 않는다.)

당좌예금출납장

날짜	적요	예입	인출	차·대	잔액
4/1	전월이월	5,000,000		차	5,000,000
4/3	발행 주식의 납입금	600,000		차	5,600,000

[총계정원장]

자본금			
	1/1	전기이월	10,000,000
	4/3	당좌예금	500,000
	(가)		
	1/1	전기이월	2,000,000
	4/3	당좌예금	100,000

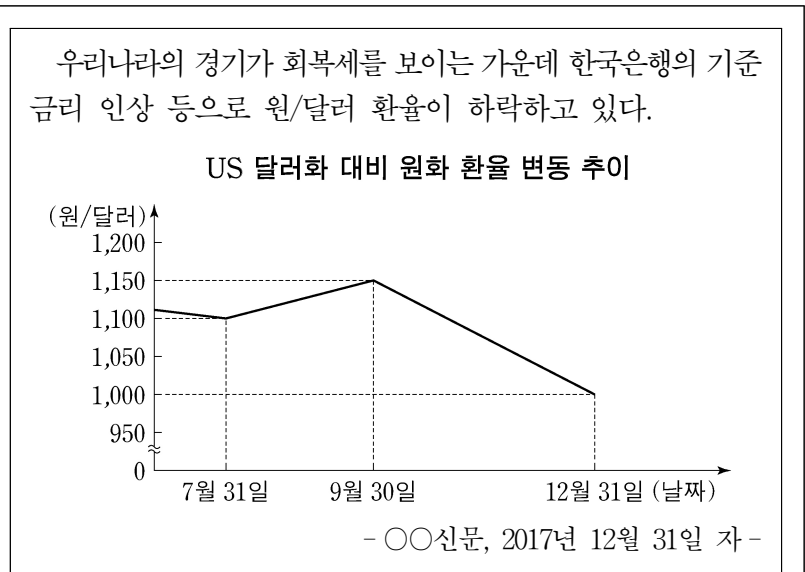
- ① 감자차손      ② 감자차익      ③ 자기주식  
④ 주식발행초과금      ⑤ 주식할인발행차금

14. 다음은 ○○(주)가 사원 출장 시 가지급금으로 처리하였던 여비 개산액에 대한 출장비 정산서이다. 이를 정산한 회계 처리 결과가 재무제표에 미치는 영향으로 옳은 것은? (단, 일반기업회계기준을 적용하고, 제시된 자료 외의 것은 고려하지 않는다.)

출장비 정산서		결재	담당	과장	팀장
		(인)	(인)	(인)	(인)
출장자	A 사원	출장 목적	신규 거래처 방문		
가지급금	₩200,000	출장 기간	2018년 7월 2~3일		
사용 내역		금액			
숙박비		₩100,000			
식대		₩80,000			
잔액 현금 반납		₩20,000			
위와 같이 출장비 지출 내역을 보고하오니 정산하여 주시기 바랍니다. 2018년 7월 5일					

- ① 유동자산이 ₩20,000 증가한다.  
② 유동부채가 ₩200,000 감소한다.  
③ 영업이익이 ₩200,000 감소한다.  
④ 영업외비용이 ₩180,000 증가한다.  
⑤ 판매비와관리비가 ₩180,000 증가한다.

15. 다음은 2017년 환율 관련 기사와 △△(주)의 [거래]이다. [거래]를 회계 처리한 결과에 대한 설명으로 옳은 것은? (단, 일반기업회계 기준을 적용하고, 회계기간은 매년 1월 1일부터 12월 31일까지이며, 제시된 자료 외의 것은 고려하지 않는다.) [3점]



[거래]

7월 31일 해외 거래처에서 상품을 US \$2,000에 외상으로 매입하다.  
9월 30일 외화외상매입금 중 US \$1,000를 원화로 상환하다.  
12월 31일 결산일에 외화외상매입금 US \$1,000를 원화로 환산하다.

- ① 9월 30일 외환차익이 ₩50,000 발생한다.  
② 9월 30일 외화환산손실이 ₩50,000 발생한다.  
③ 9월 30일 외화외상매입금이 ₩1,150,000 감소한다.  
④ 12월 31일 외화환산이익이 ₩100,000 발생한다.  
⑤ 12월 31일 외화외상매입금의 장부금액은 ₩1,100,000이다.

16. 다음은 ○○(주)의 2017년 단기매매증권 관련 [총계정원장]의 일부이다. 이를 통해 알 수 있는 내용으로 옳은 것만을 <보기>에서 있는 대로 고른 것은? (단, 일반기업회계기준을 적용하고, 회계기간은 매년 1월 1일부터 12월 31일까지이며, 제시된 자료 외의 것은 고려하지 않는다.) [3점]

[총계정원장]									
단기매매증권									
10/ 2	현	금	600,000	11/10	현	금	300,000		
12/31	단기투자자산평가이익		30,000	12/31	차	기	이	월	330,000
			<u>630,000</u>					<u>630,000</u>	
단기투자자산처분이익									
12/31	(가)		15,000	11/10	현	금	15,000		

<보 기>  
 가. (가)에 들어갈 계정과목은 손익이다.  
 나. 11월 10일 단기매매증권의 처분 시 수령한 현금은 ₩300,000이다.  
 다. 12월 31일 결산 시 단기매매증권의 공정가치는 ₩330,000이다.

- ① 가      ② 나      ③ 가, 다      ④ 나, 다      ⑤ 가, 나, 다

17. 다음은 ○○(주)의 거래를 기입한 전표이다. 이를 통해 2018년 7월 4일 거래를 추정하여 분개한 것으로 옳은 것은?

출금 전표			
No. 21		담당	과장
2018년 7월 4일		(인)	(인)
계정과목	×××	거 래 처	△△(주)
적 요		금 액	
신상품 판매 촉진을 위한 현수막 제작			5 0 0 0 0
합 계			₩ 5 0 0 0 0

- ① (차변) 현금      50,000      (대변) 매출      50,000  
 ② (차변) 현금      50,000      (대변) 선수금      50,000  
 ③ (차변) 소모품비      50,000      (대변) 현금      50,000  
 ④ (차변) 광고선전비      50,000      (대변) 현금      50,000  
 ⑤ (차변) 경상개발비      50,000      (대변) 현금      50,000

18. 다음은 ○○(주)의 재무상태 개선 관련 대화이다. 재무이사가 제시할 개선 방안에 해당하는 거래로 적절한 것은? (단, 제시된 자료 외의 것은 고려하지 않는다.) [3점]

대표이사: 우리 회사 재무상태를 살펴본 결과 유동자산이 유동부채보다 적어 단기 부채 상환 능력이 부족해 보입니다.	○○(주) 재무상태 유동자산      ₩ 300,000 비유동자산    ₩ 700,000 유동부채      ₩ 340,000 비유동부채    ₩ 260,000 자본            ₩ 400,000
재무이사: 네, 유동자산이 유동부채보다 많도록 개선할 필요가 있습니다. 개선 방안을 마련하겠습니다.	

- ① 상품 ₩50,000을 외상으로 매입하다.  
 ② 외상매출금 ₩50,000을 현금으로 받다.  
 ③ 지급어음 ₩50,000을 현금으로 지급하다.  
 ④ 상품 ₩100,000을 주문받고 계약금 ₩50,000을 현금으로 받다.  
 ⑤ 장부금액 ₩60,000의 비업무용 건물을 ₩50,000에 처분하고 대금은 현금으로 받다.

[19~20] 다음은 ○○(주)의 제4기 수정 전 잔액시산표 일부와 [결산 정리 사항] 및 손익계산서 일부이다. 물음에 답하시오. (단, 일반기업회계기준을 적용하고, 제시된 자료 외의 것은 고려하지 않는다.)

잔액시산표(수정 전)			
○○(주)      2017년 12월 31일      (단위: 원)			
차 변	원면	계정과목	대 변
280,000		현	금
100,000		당	좌
200,000		외	예
20,000		이	상
∴		생	출
			금
			품
			∴
500,000		매	출
200,000		매	입
45,000		급	여
60,000		소	비
		이	용
		자	∴
×××			×××

[결산 정리 사항]  
 • 전기에 대한 처리하였던 외상매출금 ₩20,000을 자기앞수표로 회수하다.  
 • 소모품 미사용액 ₩15,000을 계상하다.  
 • 이자비용 미지급분 ₩10,000을 계상하다.

손익계산서	
제4기 2017년 1월 1일부터 2017년 12월 31일까지	
○○(주)      (단위: 원)	
과 목	당 기
매출총이익	×××
판매비와관리비	×××
급여	200,000
×××	(가)
영업이익	×××
영업외비용	×××
(나)	×××

19. 위 자료의 [결산 정리 사항]을 회계 처리한 후 재무상태표에 표시되는 현금및현금성자산의 금액으로 옳은 것은?

- ① ₩380,000      ② ₩400,000      ③ ₩415,000  
 ④ ₩580,000      ⑤ ₩600,000

20. 위 자료의 [결산 정리 사항]을 회계 처리한 후 손익계산서의 (가)의 금액과 (나)에 들어갈 계정과목으로 옳은 것은?

- |           |      |           |      |
|-----------|------|-----------|------|
| (가)       | (나)  | (가)       | (나)  |
| ① ₩15,000 | 소모품비 | ② ₩30,000 | 소모품비 |
| ③ ₩30,000 | 이자비용 | ④ ₩45,000 | 이자비용 |
| ⑤ ₩70,000 | 이자비용 |           |      |

\* 확인 사항  
 ○ 답안지의 해당란에 필요한 내용을 정확히 기입(표기)했는지 확인하시오.