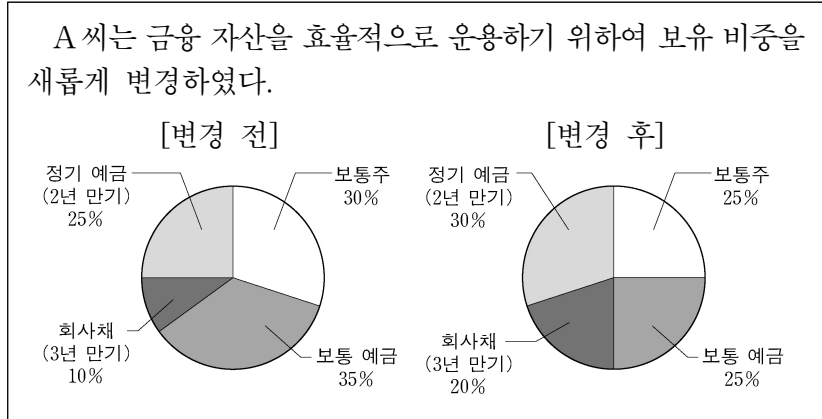


6. 다음은 A 씨의 금융 자산 보유 비중이다. [변경 전] 대비 [변경 후]의 금융 자산 보유 비중에 대한 설명으로 옳은 것을 <보기>에서 고른 것은? (단, 제시된 자료 외의 것은 고려하지 않는다.) [3점]



<보 기>

ㄱ. 자본 증권에 해당하는 금융 자산의 총비중이 증가하였다.
 ㄴ. 요구불 예금에 해당하는 금융 자산의 총비중이 감소하였다.
 ㄷ. 배당을 받을 수 있는 금융 자산의 총비중이 증가하였다.
 ㄹ. 장기 금융 상품에 속하는 금융 자산의 총비중이 감소하였다.

- ① ㄱ, ㄴ ② ㄱ, ㄷ ③ ㄴ, ㄷ
 ④ ㄴ, ㄹ ⑤ ㄷ, ㄹ

7. 다음은 A 씨의 상업 활동 내용이다. 이에 나타난 상업의 기능으로 적절한 것을 <보기>에서 고른 것은? (단, 제시된 자료 외의 것은 고려하지 않는다.)

A 씨는 자동차가 필요하여 ○○(주)의 자동차 제품 카탈로그를 통해 자동차의 디자인, 가격 및 성능에 대한 내용을 확인하고 구입을 결정하였다. 그리고 자동차 구입에 부족한 금액은 금융기관의 자동차 구매 고객 전용 대출 상품을 이용하여 해결하였다.

<보 기>

ㄱ. 자금 융통 기능
 ㄴ. 정보 불일치 해소 기능
 ㄷ. 장소적 불일치 조절 기능
 ㄹ. 위험에 따른 손실 보상 기능

- ① ㄱ, ㄴ ② ㄱ, ㄷ ③ ㄴ, ㄷ
 ④ ㄴ, ㄹ ⑤ ㄷ, ㄹ

8. 다음 사례에 해당하는 보험에 대한 설명으로 옳은 것은? [3점]

○○(주) 인사 담당자 A 씨는 근로복지공단에서 주관한 직무 교육에 참가하였다. 근로자의 고용 안정 사업과 직업 능력 개발 등을 위한 장려금을 지원하고 근로자가 실직 시 실업 급여를 지급하여 재취업을 준비할 수 있도록 지원하는 보험 제도에 관하여 상세한 설명을 들었다.

- ① 산업 정책 보험에 속한다.
 ② 소득 재분배 효과가 있다.
 ③ 저축성 기능을 가진 보험이다.
 ④ 근로자가 보험료를 전액 부담한다.
 ⑤ 만기 시 납입한 보험료를 환급받는다.

9. 다음 대화에 나타난 ○○(주)의 유통 경로 정책에 대한 설명으로 옳은 것만을 <보기>에서 있는 대로 고른 것은?

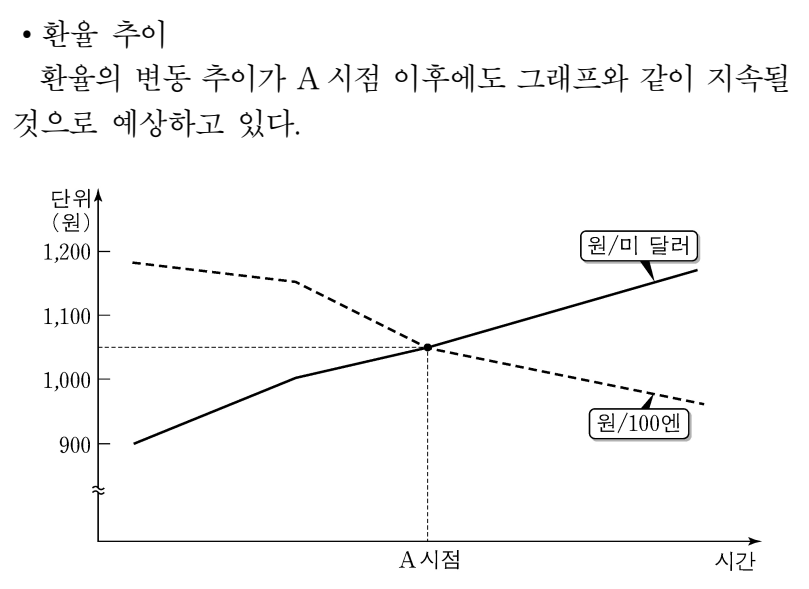


<보 기>

ㄱ. 경쟁 회사 제품의 판매를 금지한다.
 ㄴ. 개방적 유통 경로 정책에 해당한다.
 ㄷ. 다른 유통 경로 정책에 비해 판매처 통제가 어렵다.

- ① ㄱ ② ㄴ ③ ㄱ, ㄷ
 ④ ㄴ, ㄷ ⑤ ㄱ, ㄴ, ㄷ

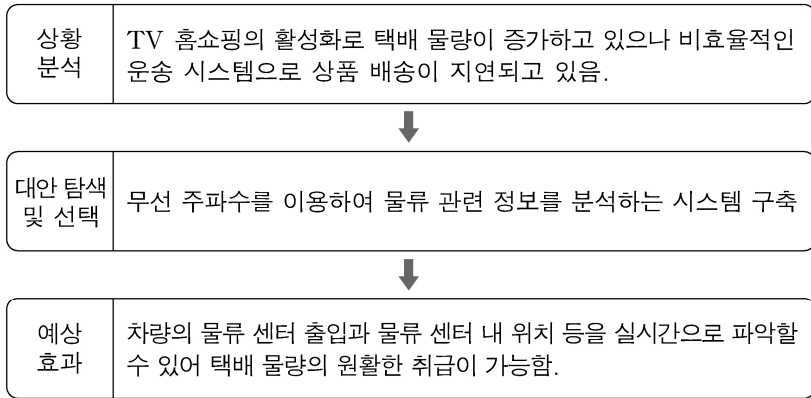
10. 다음은 원화의 환율 변동 추이와 우리나라 ○○(주)의 국제 거래 결제 방식을 나타낸 것이다. A 시점 이후의 상황을 고려하여 ○○(주)가 취할 수 있는 방안으로 가장 적절한 것은? (단, 환율만 고려하며, 제시된 자료 외의 것은 고려하지 않는다.) [3점]



• 결제 방식
 국제 거래에서 대금 지급 시 원화를 해당국의 통화로 환전 후 결제하고, 대금 수취 시 해당국 통화로 하며 원화로 환전한다.

- ① 일본에서 시행 예정인 직원 연수를 조기에 시행한다.
 ② 일본에 소재한 ○○(주) 소유 건물의 매각 시기를 연기한다.
 ③ 미국에서 차입한 미 달러화 표시 부채의 상환 기한을 연장한다.
 ④ 미국 건설사에 발주한 현지 공장 건설 대금을 조기에 지급한다.
 ⑤ 일본에 수출하는 상품의 가격 경쟁력이 상승하여 수출 물량을 늘린다.

16. 다음은 ○○물류(주)의 물류 시스템 도입 과정이다. 이에 따라 도입될 물류 시스템으로 가장 적절한 것은?



- ① EDI 시스템 ② EOS 시스템 ③ POS 시스템
④ RFID 시스템 ⑤ Unit-Load 시스템

17. 다음은 우리나라 ○○의류(주)의 SWOT 분석 자료이다. 분석 결과를 토대로 향후 채택할 수 있는 무역 형태로 가장 적절한 것은? [3점]

강점(S)	약점(W)
<ul style="list-style-type: none"> 의류 생산 설비 및 우수 디자인 인력 보유 제품 생산 설비 완비 및 직접 제조 능력 보유 우수 연구 개발 능력 및 기술 특허 보유로 원가 절감 가능 	<ul style="list-style-type: none"> 유통과 무역의 경험이 부족함. 자사 브랜드의 해외 인지도가 매우 낮음. 자금력 부족으로 해외 판매망 확보 곤란
기회(O)	위협(T)
<ul style="list-style-type: none"> 한국 의류 제조 기술력에 대한 해외 기업의 높은 평가 해외 기업들의 제품 개발 및 제조 위탁 관련 주문 증가 	<ul style="list-style-type: none"> 유가 상승 및 원자재 가격 상승 유행에 민감하고 짧은 제품 수명 주기로 빈번한 상품 브랜드 교체 비용 발생

- ① 플랜트 수출 ② 스위치 무역
③ 국제 프랜차이즈 ④ 녹다운(knock down) 수출
⑤ 주문자 개발 생산[ODM] 수출

18. 다음은 우리나라의 경제 상황을 가상으로 구성한 것이다. 이와 관련하여 한국은행이 취할 수 있는 통화신용정책으로 적절한 것을 <보기>에서 고른 것은? (단, 제시된 자료 외의 것은 고려하지 않는다.) [3점]

한국은행은 올해 국내 경제가 3% 수준의 성장세를 나타낼 것으로 보이며, 소비자 물가도 3.5% 상승할 것으로 전망하였다. 국제 유가 상승과 생활필수품 가격 인상 등으로 내년에는 물가 오름세가 더욱 높아질 것으로 예상되어, 한국은행은 이를 안정화하기 위한 통화신용정책을 운용하겠다고 발표하였다.

<보 기>

ㄱ. 국·공채를 매입한다.
ㄴ. 기준 금리를 인하한다.
ㄷ. 통화안정증권을 발행한다.
ㄹ. 시중은행의 지급준비율을 인상한다.

- ① ㄱ, ㄴ ② ㄱ, ㄷ ③ ㄴ, ㄷ ④ ㄴ, ㄹ ⑤ ㄷ, ㄹ

19. 다음 기사에 나타난 무형 재화에 대한 설명으로 옳은 것은?

△△시는 지역 농수산물 31개 품목에 특허청으로부터 등록 출원 받은 공동 상표를 사용할 수 있도록 하였다. 이번 공동 상표 사용으로 인해 △△시 지역 농수산물 품질의 신뢰도를 높이면서 공동으로 판매 촉진 활동을 진행할 수 있게 되었다. △△시는 공동 상표 사용 승인을 받은 품목에 대하여 판로 확대를 위한 지원을 할 예정이다.

- ○○신문, 2018년 4월 3일 자 -

- ① 저작권법에 의하여 보호받는다.
② 물품의 최초 발명에 대한 독점적 권리이다.
③ 권리의 존속 기간은 등록일로부터 20년이다.
④ 타 상품과 식별되는 기호, 문자 등에 부여하는 권리이다.
⑤ 물품의 형상, 구조의 실용적 개선 등에 부여하는 권리이다.

20. 다음은 경제 협정의 [체결 전]과 [체결 후]를 나타낸 것이다. [체결 후] A~D국의 입장에서 나타날 수 있는 경제 현상으로 적절한 것을 <보기>에서 고른 것은? (단, 제시된 자료 외의 것은 고려하지 않는다.) [3점]

[체결 전]

- A, B, C, D국 간 경제 협정이 체결되어 있지 않음.
- 각국은 상호 간 10% 이상의 독자적인 수입 관세율을 적용하고 있음.
- A국은 B, C, D국으로부터 갑 상품을 수입하고 있으며, 수입 단가와 수입 관세율은 아래와 같음.

국가	수입 단가(달러/개)	수입 관세율(%)
B국	120	20
C국	110	30
D국	100	40

• 갑 상품은 동일하며, 수입 가격은 '수입 단가 + 수입 관세' 임.

[체결 후]

- A국과 B국은 FTA 협정을 체결 및 발효함.
- C국과 D국은 관세동맹 협정을 체결 및 발효함.

FTA

A국

B국

관세동맹

C국

D국

• 회원국 간의 수입 관세는 철폐되고, 회원국과 비회원국 간의 수입 관세는 체결 전과 동일하게 부과함.

<보 기>

ㄱ. A국은 D국에서 갑 상품을 수입할 때 개당 40달러의 관세 수입이 줄어들 것이다.
ㄴ. A국 기업은 B~D국 중 B국에서 갑 상품을 수입할 때 수입 가격이 가장 낮아질 것이다.
ㄷ. B국은 A국과 C국에 각각 다른 관세율을 적용할 것이다.
ㄹ. C국과 D국 간 생산 요소 이동이 자유로워질 것이다.

- ① ㄱ, ㄴ ② ㄱ, ㄷ ③ ㄴ, ㄷ ④ ㄴ, ㄹ ⑤ ㄷ, ㄹ

* 확인 사항

○ 답안지의 해당란에 필요한 내용을 정확히 기입(표기)했는지 확인 하시오.