

제 4 교시

# 직업탐구 영역(인간 발달)

성명  수험번호

1. 다음 글을 어린이집에 다니는 아동의 입장에서 볼 때, ㉠~㉣에 해당하는 환경 체계에 대한 설명으로 옳은 것만을 <보기>에서 있는 대로 고른 것은? (단, 브론펜브레너의 생태학적 체계 이론에 근거한다.)

○○연구원은 2세 미만 영아를 둔 부모를 대상으로 자녀 양육 실태를 조사하였다. 연구 결과에 의하면 자녀를 ㉠가정에서 양육하는 경우가 가장 많았고, ㉡부모가 재직 중인 직장에서 운영하는 ㉢어린이집을 이용하여 자녀를 양육하는 경우가 그 다음으로 높게 나타났다. 기타 의견으로 가정 내 육아 지원을 위한 ㉣국가 수준의 정책 수립에 대한 필요성이 제기되었다.

<보 기>  
 가. ㉠은 외체계에 속한다.  
 나. ㉡는 거시 체계에 속한다.  
 다. ㉢와 ㉣는 동일 체계에 속한다.  
 리. ㉢와 ㉣의 관계는 중간 체계에 해당한다.

- ① 가, 나      ② 가, 다      ③ 다, 리  
 ④ 가, 나, 리      ⑤ 나, 다, 리

2. 다음 관찰 기록 보고서에서 신생아의 반사 운동 (가)~(다)에 대한 설명으로 옳은 것만을 <보기>에서 있는 대로 고른 것은?

반사 운동	자 극	반 응	결과
(가)	아기의 손바닥을 손가락이나 물건으로 건드린다.	손가락이나 물건을 꼭 잡는다.	✓
(나)	아기의 발바닥을 간지럽힌다.	발가락을 폈다가 오므린다.	✓
(다)	갑자기 큰 소리를 내거나 아기의 자세를 변화시킨다.	팔을 폈다가 안으로 꺾인듯이 움츠리는 행동을 보인다.	✓

<보 기>  
 가. (가)는 파악 반사이다.  
 나. (나)는 신생아기에 사라진다.  
 다. (다)는 바빈스키 반사이다.

- ① 가      ② 다      ③ 가, 나      ④ 나, 다      ⑤ 가, 나, 다


3. 다음 연구 (가), (나)에 사용된 연구 방법에 대한 설명으로 적절한 것만을 <보기>에서 있는 대로 고른 것은? [3점]

(가) ○○대학교 연구 팀은 11세와 15세 학생 각각 500명을 대상으로 하루 평균 인터넷 사용 시간에 대한 설문 조사를 1회 실시하였다.  
 (나) △△재단은 65세에 은퇴한 사람 100명을 대상으로 은퇴 후 생활 만족도 변화를 10년 동안 추적 조사하였다.

<보 기>  
 가. (가)의 방법은 종단적 접근 방법이다.  
 나. (나)의 방법은 측정 도구에 대한 기억 효과가 나타날 수 있다.  
 다. (나)의 방법은 연령 증가에 따른 개인의 발달적 변화를 알 수 있다.

- ① 가      ② 나      ③ 가, 다      ④ 나, 다      ⑤ 가, 나, 다

4. 다음 수업 상황에서 아동 A, B가 사용한 기억 전략에 대한 설명으로 적절한 것만을 <보기>에서 있는 대로 고른 것은? [3점]



<보 기>  
 가. 아동 A의 기억 전략은 조직화이다.  
 나. 아동 B의 기억 전략은 반복 시연이다.  
 다. 아동 B의 기억 전략은 기억할 항목을 의미있게 연결하여 외우는 것이다.

- ① 가      ② 다      ③ 가, 나      ④ 나, 다      ⑤ 가, 나, 다

5. 다음 프로이트의 심리성적 이론 (가), (나) 단계를 에릭슨의 심리사회적 이론에 근거하여 분석한 내용으로 옳은 것만을 <보기>에서 있는 대로 고른 것은?

(가) 리비도가 항문에 집중되어 대소변의 보유와 배설을 통해 쾌감을 느끼는 시기이므로 배변 훈련이 중요하다.  
 (나) 리비도가 구강 부위에 집중되어 물건을 빠는 행동을 통해 쾌감을 느끼는 시기이므로 수유 시 구강을 통한 쾌락 추구가 중요하다.


<보 기>

ㄱ. (가) 단계에서 부정적 경험과 실패를 하는 경우 열등감을 가지게 된다.  
 ㄴ. (나) 단계에서 주 양육자와의 긍정적인 관계를 통해 신뢰감을 형성한다.  
 ㄷ. (가)와 (나) 단계는 친밀성 대 고립감 단계보다 먼저 나타난다.

- ① ㄱ    ② ㄴ    ③ ㄱ, ㄷ    ④ ㄴ, ㄷ    ⑤ ㄱ, ㄴ, ㄷ

6. 다음은 피아제의 인지 발달 이론에 근거한 실험이다. 이 실험을 통해 알 수 있는 아동 A가 속한 시기의 발달 특성으로 옳은 것만을 <보기>에서 있는 대로 고른 것은? [3점]

실험자: 튤립 5송이와 장미 3송이가 있어.  
 튤립이 많을까? 장미가 많을까?  
 아동 A: 튤립이요.  
 실험자: 꽃과 튤립 중 뭐가 더 많을까?  
 아동 A: 튤립이요.  
 실험자: 꽃과 튤립 중에 튤립이 더 많다고?  
 아동 A: 네, 튤립이 더 많아요.



<보 기>

ㄱ. 가설적 사고를 한다.  
 ㄴ. 물활론적 사고를 한다.  
 ㄷ. 인공론적 사고를 한다.

- ① ㄱ    ② ㄴ    ③ ㄱ, ㄷ    ④ ㄴ, ㄷ    ⑤ ㄱ, ㄴ, ㄷ

7. 다음 일기에 나타난 ㉠에 대한 설명으로 적절한 것만을 <보기>에서 있는 대로 고른 것은?

○월 ○○일  
 요즘 엄마가 많이 달라지신 것 같아 걱정이다. 어제는 갑자기 덥다고 하시면서 문을 활짝 열어 났다가 다시 춥다고 하시면서 두꺼운 옷을 입으셨다. 밤에 잠도 거의 못 주무시는 것 같다. 그래서 책을 찾아봤는데 ㉠ 생식기에서 비생식기로 이행되는 시기에 이런 증상이 나타나기도 한다는 것을 알게 되었다.

<보 기>

ㄱ. 골밀도가 증가한다.  
 ㄴ. 안면 홍조가 나타날 수 있다.  
 ㄷ. 에스트로겐 분비가 급격히 증가한다.

- ① ㄱ    ② ㄴ    ③ ㄱ, ㄷ    ④ ㄴ, ㄷ    ⑤ ㄱ, ㄴ, ㄷ

8. 다음 A~C씨의 대화를 통해 유추할 수 있는 중년기 적응 유형에 대한 설명으로 적절한 것을 <보기>에서 고른 것은? (단, 파렐과 로젠버그의 적응 유형에 근거한다.) [3점]

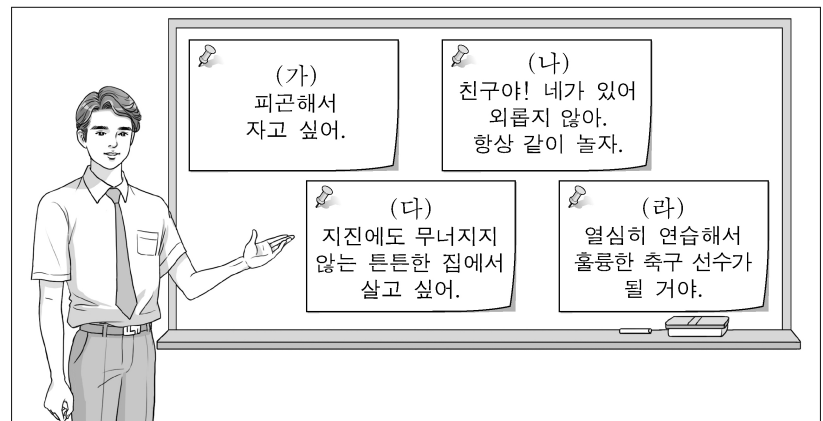
# ○○상점이 문을 닫게 되면서 실직을 하게 된 종업원 A~C씨가 자기 생각을 말하고 있다.  
 A씨: 가게 상황이 어려워서 그런 건데 받아들여야지. 그동안 일만 하고 살아서 만날 친구도 없는데... 세상에 혼자 남겨진 것 같아.  
 B씨: 나는 받아들일 수 없어! 어떻게 나한테 이런 일이 생길 수 있어! 내 인생은 너무 불행해.  
 C씨: 이참에 인생 2막을 시작하지 뭐. 한 살이라도 젊었을 때 새로운 인생을 개척하게 된 것만으로도 만족해.

<보 기>

ㄱ. A씨는 정체감 위기 유형에 해당한다.  
 ㄴ. B씨는 억압된 우울 유형에 해당한다.  
 ㄷ. B씨가 속한 유형의 사람은 자기 혐오감에 빠지기 쉽다.  
 ㄹ. C씨가 속한 유형의 사람은 위기를 부정하거나 거부한다.

- ① ㄱ, ㄴ    ② ㄱ, ㄷ    ③ ㄴ, ㄷ    ④ ㄴ, ㄹ    ⑤ ㄷ, ㄹ

9. 다음은 수업 장면이다. 사례 (가)~(라)를 매슬로의 욕구 위계 이론에 따라 하위 단계부터 순서대로 바르게 배열한 것은?



- ① (가) - (다) - (나) - (라)    ② (가) - (라) - (다) - (나)  
 ③ (다) - (가) - (라) - (나)    ④ (다) - (라) - (가) - (나)  
 ⑤ (라) - (다) - (나) - (가)

10. 다음은 인간 발달 쟁점에 대한 하나의 관점이다. 이 관점을 지지하는 설명으로 적절한 것만을 <보기>에서 있는 대로 고른 것은?

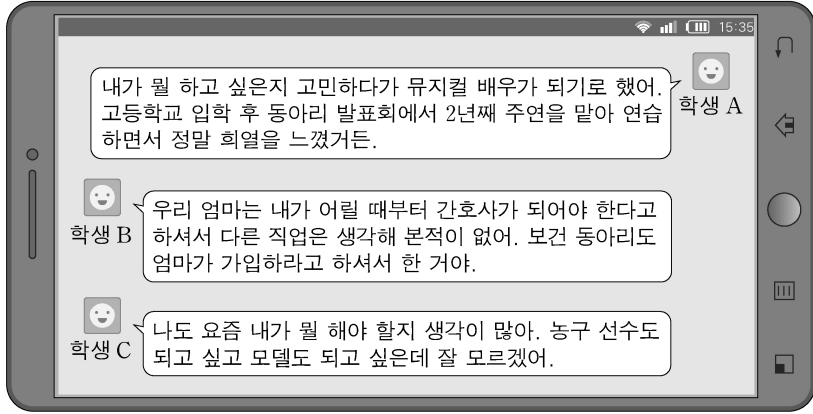
인간의 발달은 생물학적 요인에 의해 결정된다고 본다. 예를 들어 인간은 아무리 많이 먹는다고 하더라도 3m 이상 자랄 수 없다.

<보 기>

ㄱ. 스키너가 대표적인 학자이다.  
 ㄴ. 발달은 학습에 의해서 결정된다.  
 ㄷ. 발달에서 유전적 기제가 중요하다고 본다.

- ① ㄱ    ② ㄷ    ③ ㄱ, ㄴ    ④ ㄴ, ㄷ    ⑤ ㄱ, ㄴ, ㄷ

11. 다음 대화에서 학생 A~C를 마르시아 이론에 근거하여 분석한 것으로 옳은 것만을 <보기>에서 있는 대로 고른 것은? [3점]

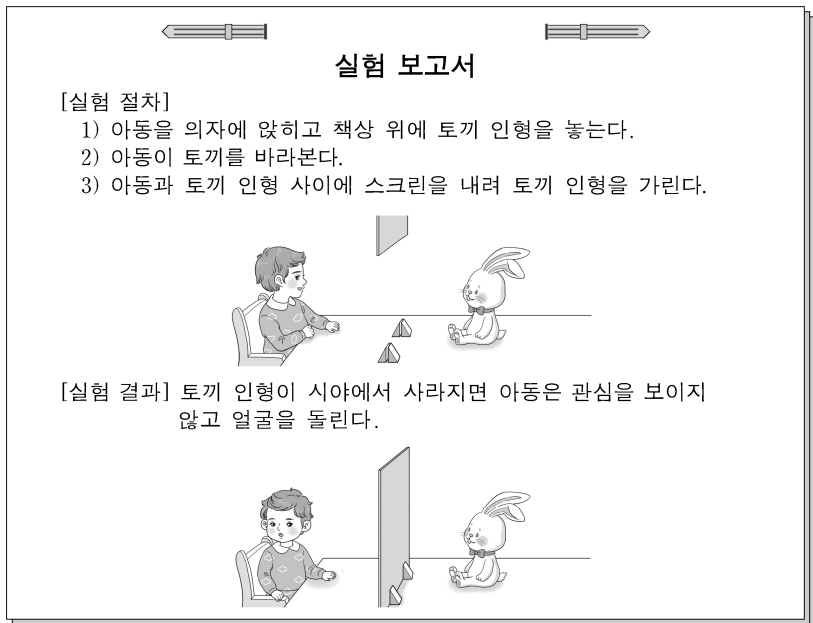


<보 기>

ㄱ. 학생 A는 자아 정체감 혼미 유형에 해당한다.  
 ㄴ. 학생 B는 자아 정체감 위기의 경험이 없다.  
 ㄷ. 학생 C는 자아 정체감 유예 유형에 해당한다.

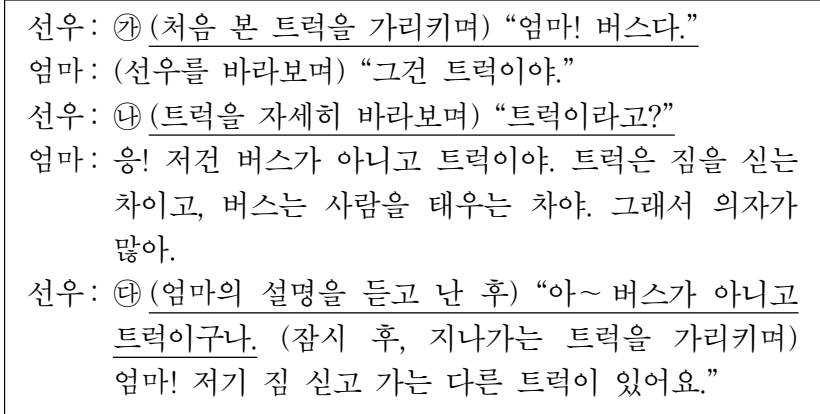
- ① ㄱ      ② ㄴ      ③ ㄱ, ㄷ      ④ ㄴ, ㄷ      ⑤ ㄱ, ㄴ, ㄷ

12. 다음 실험 보고서의 아동이 속해 있는 시기의 발달 특성에 대한 설명으로 옳은 것은? (단, 피아제의 인지 발달 이론에 근거한다.)



- ① 서열화가 가능하다.  
 ② 탈중심화를 보인다.  
 ③ 자아존중감을 형성한다.  
 ④ 체계적·조합적 사고를 한다.  
 ⑤ 감각 기관과 운동 기능을 통해 세상을 인식한다.

13. 다음 대화에서 ㉠~㉣를 피아제의 인지 발달 이론에 근거하여 분석한 것으로 옳은 것만을 <보기>에서 있는 대로 고른 것은? [3점]



<보 기>

ㄱ. ㉠은 조절이 나타난다.  
 ㄴ. ㉡은 인지적 불균형 상태에 해당한다.  
 ㄷ. ㉢은 갖고 있는 도식에 맞추어 동화가 나타난다.

- ① ㄱ      ② ㄴ      ③ ㄱ, ㄷ      ④ ㄴ, ㄷ      ⑤ ㄱ, ㄴ, ㄷ

14. 다음 글에서 알 수 있는 인간 발달 이론에 대한 설명으로 적절한 것만을 <보기>에서 있는 대로 고른 것은? [3점]

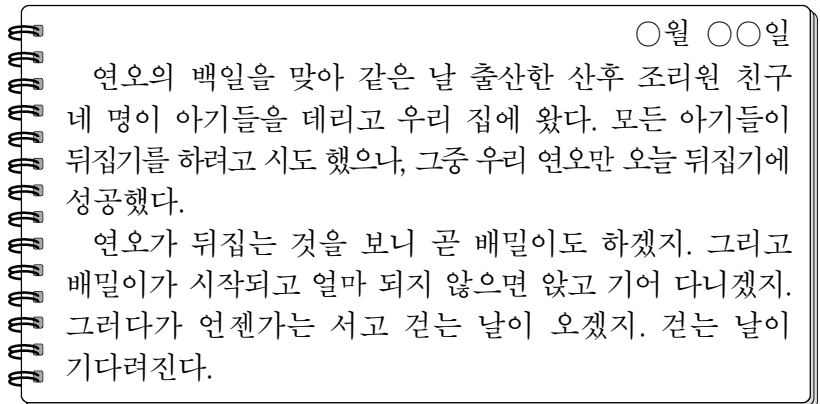
인간은 자극을 주면 반응하는 단순한 로봇이 아니라 스스로 사고할 줄 아는 인지적 능력을 지닌 사회적 존재이다. 따라서 사회적 관계 속에서 관찰과 모방을 통해 새로운 행동을 학습할 수 있다. 이 이론의 대표적인 학자는 반두라이다.

<보 기>

ㄱ. 대리적 강화를 강조한다.  
 ㄴ. 전 생애 과정에서 수행해야 할 발달 과업이 있다.  
 ㄷ. 생물학적으로 프로그램화된 결정적 시기를 강조한다.

- ① ㄱ      ② ㄴ      ③ ㄱ, ㄷ      ④ ㄴ, ㄷ      ⑤ ㄱ, ㄴ, ㄷ

15. 다음 육아 일기에 나타난 발달의 원리로 옳은 것만을 <보기>에서 있는 대로 고른 것은?



<보 기>

ㄱ. 발달에는 개인차가 있다.  
 ㄴ. 발달에는 일정한 순서가 있다.  
 ㄷ. 발달영역 간에는 상호 연관성이 있다.

- ① ㄱ      ② ㄷ      ③ ㄱ, ㄴ      ④ ㄴ, ㄷ      ⑤ ㄱ, ㄴ, ㄷ

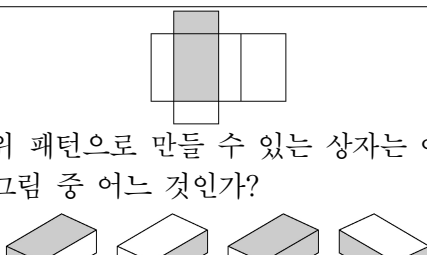
16. 다음 대화에서 정우가 속한 시기의 발달 특성에 대한 설명으로 옳은 것만을 <보기>에서 있는 대로 고른 것은? (단, 피아제의 인지 발달 이론에 근거한다.) [3점]



<보 기>  
 가. 보존 개념을 획득한다.  
 나. 자율적 도덕성을 획득한다.  
 다. 집단적 독백이 두드러진다.

- ① 가    ② 다    ③ 가, 나    ④ 나, 다    ⑤ 가, 나, 다

17. 다음은 지능 유형의 요소를 측정하는 자료의 일부이다. 지능 유형 (가), (나)에 대한 설명으로 옳은 것을 <보기>에서 고른 것은? (단, 혼과 캐틀의 지능 유형에 근거한다.) [3점]

지능 유형	측정 요소	측정 질문의 예
(가)	어휘력	• '카펫'의 의미를 말하십시오. • '전화기'의 의미를 말하십시오.
(나)	공간 지각	 <p>• 위 패턴으로 만들 수 있는 상자는 아래 그림 중 어느 것인가?</p>

<보 기>  
 가. (가)는 유동성 지능이다.  
 나. (가)는 타고난 지능을 말한다.  
 다. (나)는 새로운 상황에 대한 적응력과 관련된다.  
 리. (가)는 (나)보다 문화적 영향을 더 많이 받는다.

- ① 가, 나    ② 가, 다    ③ 나, 다    ④ 나, 리    ⑤ 다, 리

18. 다음 관찰 일지에 나타난 학생 A의 행동을 가드너의 다중 지능 이론에 근거하여 분석한 내용으로 적절한 것만을 <보기>에서 있는 대로 고른 것은?

작성자: 담임교사 ○○○

관찰 일지			
일자	△월 △△일	대상	4학년 학생 A
학생 A는 그림 그리기와 만들기에 탁월한 재능을 보이고 있다. 미술 시간에는 친구들보다 우수한 작품을 많이 만든다. 그러나 학생 A는 식물 관찰이나 자연 체험 학습 활동에는 흥미가 없어서 늘 소극적으로 참여하며, 친구들의 기분을 적절하게 이해하는 능력이 떨어져 사소한 다툼을 자주 일으킨다.			

<보 기>  
 가. 공간적 지능에서 강점을 보인다.  
 나. 대인 관계 지능에서 강점을 보인다.  
 다. 자연주의적 지능에서 약점을 보인다.

- ① 가    ② 나    ③ 가, 다    ④ 나, 다    ⑤ 가, 나, 다

19. 다음 수행 평가 보고서에 제시된 성공적 노화에 대한 이론 (가), (나)에 대한 설명으로 옳은 것만을 <보기>에서 있는 대로 고른 것은? (단, (가)와 (나)는 각각 유리 이론, 활동 이론 중 하나이다.) [3점]

**수행 평가 보고서**  
 ○학년 ○반 이름: △△△  
 과제: 성공적 노화에 대한 이론 조사하기

이론	조사 내용
(가)	직위나 역할로부터의 이탈 과정을 순순히 받아들이고, 나아가서는 이탈을 적극적으로 바라는 것을 성공적 노화로 본다.
(나)	노년기에도 역할이나 관계, 직위를 유지하려고 노력하는 것을 성공적 노화로 본다.

<보 기>  
 가. (가)는 은퇴가 인생에 대한 만족감에 긍정적인 영향을 미친다고 본다.  
 나. (나)는 역할로부터의 이탈이 자아 통합을 도와줄 수 있는 효율적인 방법이라고 본다.  
 다. (나)는 사회관계 안에서 활동적인 노인이 삶의 만족도나 자아 개념이 높은 것으로 본다.

- ① 가    ② 나    ③ 가, 다    ④ 나, 다    ⑤ 가, 나, 다

20. 다음은 UCC 제작 계획서의 일부이다. ㉠, ㉡에 나타난 청소년기의 행동 특성에 대한 설명으로 옳은 것을 <보기>에서 고른 것은?

**UCC 제작 계획서**  
 제작: ○○학교 1학년 3반 3모둠  
 제 목: 모두가 똑같은 롱 패딩  
 줄거리: 현주는 아침 식사를 가족과 함께 하고 있다. 엄마에게 ㉠ 친구들이 입으니까 자기도 친구들과 똑같은 유행 롱 패딩을 사야 한다고 말한다. 엄마는 작년엔 샀던 점퍼를 입으라고 하는데, 현주는 유행이 지난 점퍼를 입고 다니니까 ㉡ 친구들이 자기만 쳐다보는 것 같다고 투덜거린다.  
 (후략)

<보 기>  
 가. ㉠은 개인적 우화에 해당하는 행동 특성이다.  
 나. ㉠에 나타난 행동 특성은 소속감과 안정감을 줄 수 있다.  
 다. ㉡은 상상적 관중에 해당하는 행동 특성이다.  
 리. ㉡에 나타난 행동 특성으로 인해 집단 이기주의가 유발된다.

- ① 가, 나    ② 가, 다    ③ 나, 다    ④ 나, 리    ⑤ 다, 리

\* 확인 사항  
 ○ 답안지의 해당란에 필요한 내용을 정확히 기입(표기)했는지 확인 하시오.