



[6~7] 다음은 A닷컴의 판매 행사에 관한 내용이다. 물음에 답하시오.

A닷컴은 계열사의 백화점, 대형마트, 슈퍼마켓, 홈쇼핑, 가전 할인 매장, 편의점 등과 공동으로 '스마트픽' 이용 고객에게 가격 할인과 더불어 다양한 경품과 혜택을 제공하는 행사를 실시하고 있다. 스마트픽은 A닷컴 인터넷몰에서 대금 결제 후 고객이 지정한 백화점이나 편의점 등에서 주문한 상품을 찾을 수 있는 쇼핑 서비스를 말한다. A닷컴은 이번 행사에서 스마트픽 주문 후 경품에 응모하여 당첨된 고객을 대상으로 핸드백, 뷔페 식사권, 영화 관람권 등을 증정한다.

6. 윗글에 나타난 쇼핑 서비스의 상거래 방식에 대한 설명으로 적절한 것을 <보기>에서 고른 것은?

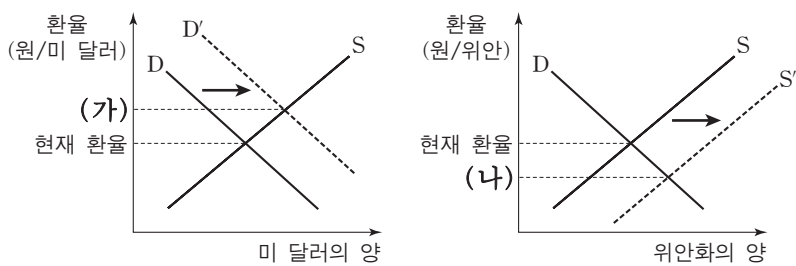
- <보기> —
- ㄱ. G2C 전자상거래 유형에 해당한다.
  - ㄴ. 고객에 대해 일방적 마케팅을 실시한다.
  - ㄷ. 온라인과 오프라인이 혼합된 서비스 방식이다.
  - ㄹ. 시간과 공간의 제약 없이 대금 결제가 가능하다.

- ① ㄱ, ㄴ                      ② ㄱ, ㄷ                      ③ ㄴ, ㄷ
- ④ ㄴ, ㄹ                      ⑤ ㄷ, ㄹ

7. 윗글에 나타난 촉진 전략과 같은 유형의 사례로 적절한 것은?

- ① 구매 장려를 위한 쿠폰 제공
- ② TV나 잡지에 기업 및 상품 소개
- ③ 카탈로그를 이용한 커뮤니케이션 활동
- ④ 별도의 대가를 지불하지 않는 언론 보도
- ⑤ 판매원이 직접 고객과 대면하는 마케팅 활동

8. 그래프는 국내 외환 시장에서 외환의 수요와 공급에 따른 환율 변동을 나타낸 것이다. 현재 환율이 (가) 또는 (나)로 변동될 수 있는 원인으로 적절한 것을 <보기>에서 고른 것은? (단, 미국과는 미 달러, 중국과는 위안화로 거래하고, 제시된 자료 외의 것은 고려하지 않는다.) [3점]



- <보기> —
- ㄱ. 미국인들의 한국 내 여행 경비 사용액 증가
  - ㄴ. 국내 한국 기업의 미국 증권 시장 투자액 증가
  - ㄷ. 국내 한국 기업에 취업한 중국인의 본국 송금액 증가
  - ㄹ. 국내 한국 기업이 중국 기업에 수출한 대금 회수액 증가

- ① ㄱ, ㄴ                      ② ㄱ, ㄷ                      ③ ㄴ, ㄷ
- ④ ㄴ, ㄹ                      ⑤ ㄷ, ㄹ

9. 다음 보고서에 나타난 ○○(주)의 2016년 자금 조달 및 운용 결과에 대한 설명으로 옳은 것을 <보기>에서 고른 것은? (단, 제시된 자료 외의 것은 고려하지 않는다.) [3점]

2016년 자금 조달 및 운용 보고서

○○(주) 재무관리팀

- 자금 조달
  - 유상 증가 15억 원
  - 사채 발행 3억 원
  - 은행 차입금 2억 원
- 자금 운용
  - 공장 증설 13억 원
  - 기계 설비 구입 5억 원
  - 제품 원재료 구입 2억 원

- <보기> —
- ㄱ. 산업 금융으로 운용한 금액은 13억 원이다.
  - ㄴ. 직접 금융으로 조달한 금액은 18억 원이다.
  - ㄷ. 만기가 있는 자본 증원으로 조달한 금액은 5억 원이다.
  - ㄹ. 자금 조달액 중 자기 자본에 해당하는 금액이 타인 자본보다 10억 원 많다.

- ① ㄱ, ㄴ                      ② ㄱ, ㄷ                      ③ ㄴ, ㄷ
- ④ ㄴ, ㄹ                      ⑤ ㄷ, ㄹ

10. 다음은 A씨의 재무 설계에 관한 내용이다. 변경 전 대비 변경 후 재무 설계에 대한 설명으로 옳은 것을 <보기>에서 고른 것은? [3점]


월 소득 200만 원인 A씨는 재무 설계사의 상담을 받은 후, 재무 설계를 다음과 같이 변경하였다. (단위: 만 원)

지출 항목	변경 전	변경 후
암 보험	15	12
화재 보험	5	3
종신 보험	30	-
개인 연금 보험	-	35
가계 당좌 예금	25	20
정기 적금	50	60
채권형(국·공채) 적립식 펀드	20	-
주식형 적립식 펀드	-	20
소비성 지출	55	50
총액	200	200

- <보기> —
- ㄱ. 생명 보험에 해당하는 지출 금액이 증가되었다.
  - ㄴ. 요구불 예금에 해당하는 지출 금액이 감소되었다.
  - ㄷ. 적립식 펀드는 안정성이 높은 펀드 상품으로 변경되었다.
  - ㄹ. 비례 보상의 원칙이 적용되는 보험의 지출 금액이 증가되었다.

- ① ㄱ, ㄴ                      ② ㄱ, ㄷ                      ③ ㄴ, ㄷ
- ④ ㄴ, ㄹ                      ⑤ ㄷ, ㄹ

11. 다음 뉴스를 통해 알 수 있는 무형 재화에 대한 설명으로 옳은 것은?



외국에서 한국 기업들의 브랜드를 무단 선점하거나 도용하는 침해 사례가 급격히 늘고 있어 대책이 시급합니다. A국에서는 브랜드를 먼저 등록하는 자가 그 권리를 가지는 선출원주의를 채택하고 있기 때문에 한국 기업의 피해 사례가 증가하고 있습니다.

- ① 신지식재산권에 해당한다.
- ② 물품의 최초 발명에 대한 독점적 권리이다.
- ③ 물품의 형상이나 구조의 실용적 개선에 대한 권리이다.
- ④ 한국 내 법적 권리의 존속 기간은 출원일로부터 20년이다.
- ⑤ 타 상품과 식별되는 기호, 문자, 도형에 부여되는 권리이다.

12. 다음은 ○○씨가 구입한 주식과 관련된 내용이다. A, B 종목에 대한 설명으로 옳은 것은? [3점]

○○씨는 증권 계좌를 개설하여 유가증권 시장에서 A 종목을, 코스닥 시장에서 B 종목을 구입하였고, 금일의 주식 시세는 다음과 같다.

(단위: 원)

종목	증가	등락	시가	고가	저가
A	110,000	▲ 10,000	90,000	110,000	90,000
B	15,000	▲ 1,000	14,000	16,000	12,000

- ① A는 최소 주문 단위가 10주이다.
- ② A는 금일 장중에 상한가를 기록하였다.
- ③ B의 주가는 코스피 지수에 반영된다.
- ④ B의 금일 시가는 전일 증가와 동일하다.
- ⑤ A와 B는 발행 시장에서 매매된다.

13. 다음 내용에 나타난 ○○(주)의 물적 유통 전략으로 적절한 것을 <보기>에서 고른 것은?

원두커피 전문점 프랜차이즈 업체인 ○○(주)는 최근 들어 자사 커피에 대한 소비자들의 선호도가 높아져 매출액이 크게 증가하였다. 왜냐하면 우수한 품질의 원두를 이용하여 만든 커피를 타사 커피전문점의 절반 가격으로 판매하기 때문이다. 전에는 국내 수입업자로부터 수시로 생두를 소량으로 매입하여 가맹점에 공급하였지만, 지금은 커피 산지와 협약을 통해 생두를 직접 대량으로 매입하여 냉장창고에 입고한 후 가맹점에 공급하고 있다. 또한 테이크아웃(take-out)으로 판매한 커피의 용기를 반납할 경우 소비자에게 100원을 환불해 주는 판매 정책을 통해 환경 보호에도 앞장서고 있다.

— <보기> —

ㄱ. 보관 비용 절감	ㄴ. 회수 물류 활동 도입
ㄷ. 원재료의 유통 경로 단축	ㄹ. 개방적 유통 경로 정책 도입

- ① ㄱ, ㄴ
- ② ㄱ, ㄷ
- ③ ㄴ, ㄷ
- ④ ㄴ, ㄹ
- ⑤ ㄷ, ㄹ

14. 다음은 수출상이 제시한 청약서의 일부와 이에 대한 수입상의 [변경 요구 사항]이다. 이를 반영하여 작성할 매매 계약서의 내용으로 옳은 것은? (단, 가격 조건은 인코텀즈 2010에 의한다.)

**청약서**

당사는 다음과 같은 조건으로 물품을 판매할 것을 청약합니다.

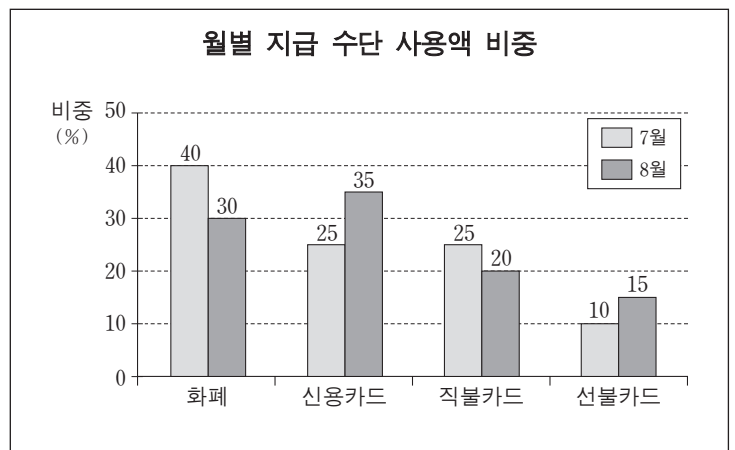
품명	올리브유
수량	2,000리터(liters)
품질 결정 방법	견품
대금 결제 조건	T/T
물품 가격 조건	CFR Busan US\$10.00/liter
분쟁 해결 조건	중재
⋮	⋮

[변경 요구 사항]

- 물품 인도 장소는 같으나 해상 운임은 수입상이 부담한다.
- 품질은 세계적으로 유명한 ○○기업의 제품으로 결정한다.
- 분쟁 해결은 법적 효력이 같으나 재판에 의한 방법으로 한다.
- 대금 결제 조건은 일람 출금 환어음을 추심하는 방식으로 한다.

- ① 분쟁 해결 조건은 조정이다.
- ② 물품 가격 조건은 FOB이다.
- ③ 품질 결정 방법은 FAQ이다.
- ④ 대금 결제 조건은 D/A 방식이다.
- ⑤ 수량 결정 시기는 양륙 수량 조건이다.

15. 그래프는 A씨의 월별 지급 수단 사용액 비중이다. 7월 대비 8월의 지급 수단 사용액 비중에 대해 A씨 입장에서의 설명으로 옳은 것을 <보기>에서 고른 것은? (단, 월별 총사용액은 동일하다.)



— <보기> —

- ㄱ. 결제 방식이 상환급인 지급 수단 사용액의 비중이 감소하였다.
- ㄴ. 일정 금액을 충전하여 사용하는 지급 수단 사용액의 비중이 증가하였다.
- ㄷ. 예금 잔액 한도 내에서 사용하는 지급 수단 사용액의 비중이 증가하였다.
- ㄹ. 일정 금액 한도 내에서 현금 서비스를 받을 수 있는 지급 수단 사용액의 비중이 감소하였다.

- ① ㄱ, ㄴ
- ② ㄱ, ㄷ
- ③ ㄴ, ㄷ
- ④ ㄴ, ㄹ
- ⑤ ㄷ, ㄹ

