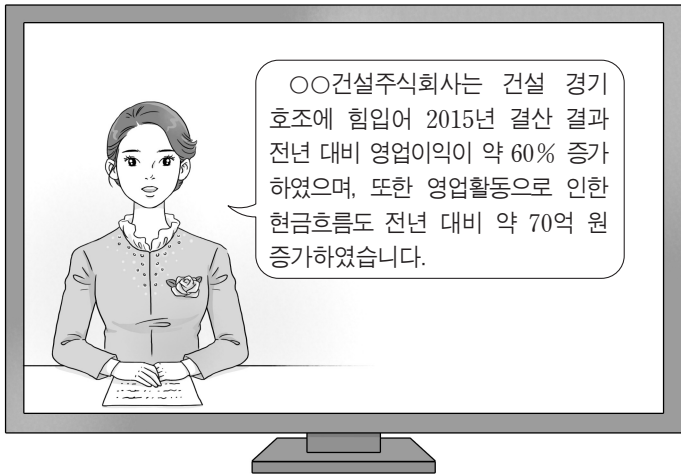


제 4 교시

직업탐구 영역(회계 원리)

성명 수험 번호

1. 다음 뉴스 내용에 나타난 회계 정보를 파악하기 위해 필요한 재무제표로 적절한 것을 <보기>에서 고른 것은? (단, 일반기업 회계기준을 적용한다.)



<보기>

ㄱ. 자본변동표 ㄴ. 손익계산서
 ㄷ. 재무상태표 ㄹ. 현금흐름표

- ① ㄱ, ㄴ ② ㄱ, ㄷ ③ ㄴ, ㄷ
 ④ ㄴ, ㄹ ⑤ ㄷ, ㄹ

2. 다음은 OO(주)의 2015년 기말 [단기매매증권 보유 현황]과 결산 시 A 주식과 B 주식의 평가에 대해 [잘못한 결산 수정 분개]이다. 이를 정정하지 않을 경우 재무제표에 미치는 영향으로 옳은 것을 <보기>에서 고른 것은? (단, 일반기업회계기준을 적용하고, 회계기간은 매년 1월 1일부터 12월 31일까지이며, 제시된 자료 외의 것은 고려하지 않는다.) [3점]

[단기매매증권 보유 현황]

구분	보유 수량	액면 금액	취득원가 (2015년 9월 7일 취득)	공정가치 (2015년 12월 31일)
A 주식	10주	@₩5,000	@₩6,000	@₩6,500
B 주식	10주	@₩5,000	@₩7,000	@₩8,000

[잘못한 결산 수정 분개]
 (차변) 단기매매증권 45,000 (대변) 단기투자자산평가이익 45,000

<보기>

ㄱ. 유동자산의 과대 계상 ㄴ. 영업이익의 과소 계상
 ㄷ. 영업외수익의 과대 계상 ㄹ. 영업외비용의 과소 계상

- ① ㄱ, ㄴ ② ㄱ, ㄷ ③ ㄴ, ㄷ
 ④ ㄴ, ㄹ ⑤ ㄷ, ㄹ

3. 다음은 OO(주)의 거래를 기입한 전표이다. 이를 통해 OO(주)의 2016년 8월 26일 거래를 추정하여 분개한 것으로 옳은 것은?

출금 전표				담당	과장	부장
2016년 8월 26일				평기	교우	현우
No. 15						
계정과목	× × ×	거래처	△△상점			
적 요			금 액			
상품 외상 대금 지급			5	0	0	0
합 계			₩	5	0	0

- ① (차변) 현금 50,000 (대변) 미수금 50,000
 ② (차변) 현금 50,000 (대변) 외상매출금 50,000
 ③ (차변) 가지급금 50,000 (대변) 현금 50,000
 ④ (차변) 미지급금 50,000 (대변) 현금 50,000
 ⑤ (차변) 외상매입금 50,000 (대변) 현금 50,000

4. 다음은 비용의 분류에 관한 수행 평가 보고서 일부이다. (가)의 항목에 속하는 계정과목이 나타나는 거래로 옳은 것은?

수행 평가 보고서

주제: 일반기업회계기준에서 비용의 분류

2. (가)

상품과 용역의 판매활동 또는 기업의 관리와 유지에서 발생하는 비용으로 매출원가에 속하지 아니하는 모든 영업비용을 포함하며, 당해 비용을 표시하는 적절한 항목으로 구분한다.

- ① 화재로 인하여 상품 ₩10,000이 소실되다.
 ② 소득세예수금 ₩10,000을 현금으로 납부하다.
 ③ 당월분 전화요금 ₩10,000을 현금으로 납부하다.
 ④ 결산 시 현금 부족액 ₩10,000의 원인을 알 수 없다.
 ⑤ 단기차입금에 대한 이자 ₩10,000을 현금으로 지급하다.

5. 다음 기사에서 △△(주)가 지출한 비용의 계정과목으로 옳은 것은?

△△(주)는 □□시에 태풍 피해 복구 성금으로 현금 15억 원을 전달하였다. 회사 관계자는 “이번에 태풍과 폭우 피해를 입은 수재민들이 하루빨리 역경을 딛고 일어나길 기원하는 마음으로 성금을 전달하였다.”라고 밝혔다.
 - ○○신문, 2016년 10월 7일 자 -

- ① 기부금 ② 퇴직급여 ③ 소모품비
 ④ 경상개발비 ⑤ 세금과공과

6. 다음은 ○○(주)의 2015년 수정 후 잔액시산표 일부와 [결산 정리 후 발견된 오류 사항]이다. 이를 정정하여 회계 처리한 후 재무상태표에 표시되는 미처분이익잉여금 금액으로 옳은 것은? (단, 일반기업회계기준을 적용하고, 제시된 자료 외의 것은 고려하지 않는다.) [3점]

잔액시산표(수정 후)			
2015년 12월 31일			
○○(주)		(단위: 원)	
차 변	원면	계정과목	대 변
∴		∴	∴
	생	자 본	1,000,000
		미 처 분 이 익 잉 여	200,000
	락	매	600,000
		단 기 투 자 자 산 처 분 이	15,000
340,000		매	
110,000		입	
× × ×		여	
			× × ×

[결산 정리 후 발견된 오류 사항]

- 결산 시 미지급급여 ₩10,000의 계상이 누락됨.
- 자기주식처분이익 ₩15,000을 단기투자자산처분이익으로 잘못 회계 처리함.

- ① ₩335,000 ② ₩340,000 ③ ₩350,000
 ④ ₩355,000 ⑤ ₩375,000

7. 다음 출장 보고서의 업무 내용에 나타난 거래를 ○○(주) 입장에서 회계 처리한 결과에 대한 설명으로 옳은 것을 <보기>에서 고른 것은?

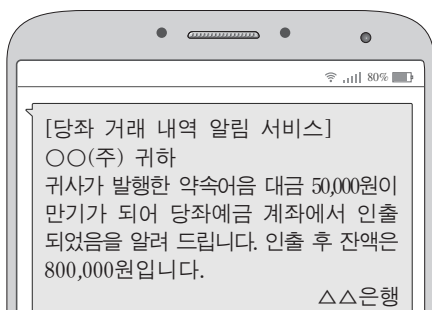
출장 보고서			
○○(주) 2016년 10월 12일			
출장 일자	2016년 10월 12일	성명	× × ×
출장 목적	신상품 홍보 및 판매를 위해 거래처 △△(주) 방문		
업무 내용	△△(주)에서 상품 100개(@₩10,000)를 주문받고 계약금 ₩100,000을 현금으로 받아 즉시 당좌 예입함.		

— < 보 기 > —

ㄱ. 유동자산이 증가한다. ㄴ. 유동부채가 증가한다.
 ㄷ. 비유동부채가 감소한다. ㄹ. 매출원가가 감소한다.

- ① ㄱ, ㄴ ② ㄱ, ㄷ ③ ㄴ, ㄷ ④ ㄴ, ㄹ ⑤ ㄷ, ㄹ

8. 다음 메시지에 나타난 거래를 ○○(주)가 분개할 때 거래 요소의 결합관계가 동일하게 나타나는 거래로 옳은 것은?



- ① 상품 ₩50,000을 외상으로 매입하다.
 ② 외상매출금 ₩50,000을 현금으로 받다.
 ③ 여비교통비 ₩50,000을 현금으로 지급하다.
 ④ 단기대여금에 대한 이자 ₩50,000을 현금으로 받다.
 ⑤ 외상매입금 ₩50,000을 당좌 수표를 발행하여 지급하다.

9. 다음은 ○○(주)의 비유동자산 변동 상황에 관한 설명 장면이다. (가), (나)의 계정과목으로 적절한 것은? (단, 일반기업회계기준을 적용하고, 제시된 자료 외의 것은 고려하지 않는다.)

이와 같이 유형자산과 무형자산 간 금액이 변동된 원인은 기업 경쟁력 강화를 위해 당기 중에 (가)을/를 처분하여 확보한 현금으로 (나)을 취득하였기 때문입니다.

- (가) (나)
- ① 토지 건물
 ② 토지 특허권
 ③ 토지 투자부동산
 ④ 상표권 특허권
 ⑤ 상표권 투자부동산

10. 다음은 ○○(주)의 [사채 관련 자료]이다. (가), (나)의 금액으로 옳은 것은? (단, 회계기간은 매년 1월 1일부터 12월 31일까지이고, 제시된 자료 외의 것은 고려하지 않는다.) [3점]

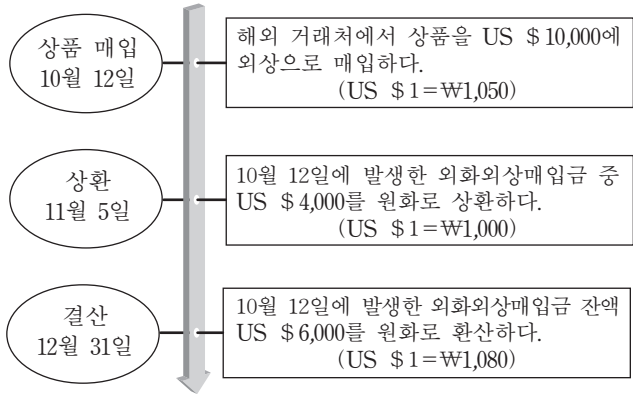
[사채 관련 자료]

- 사채 발행 관련 자료
 - 발 행 일: 2014년 1월 1일
 - 액 면 금 액: ₩1,000,000
 - 만 기 일: 2016년 12월 31일 (전액 만기 상환)
 - 액면이자율: 연 8%
 - 이자 지급일: 매년 12월 31일 (연 1회 현금 지급)
 - 사채발행비: 없음
- 사채할인발행차금 상각표 일부

날짜	유효이자	액면이자	사채할인 발행차금상각액	장부금액
2014년 1월 1일	—	—	—	₩950,263
2014년 12월 31일	× × ×	(가)	× × ×	₩965,289
2015년 12월 31일	₩96,529	× × ×	× × ×	(나)

- (가) (나)
- ① ₩80,000 ₩980,315
 ② ₩80,000 ₩981,818
 ③ ₩80,000 ₩983,321
 ④ ₩95,026 ₩980,315
 ⑤ ₩95,026 ₩981,818

11. 다음은 ○○(주)의 2015년 외화외상매입금과 관련된 거래이다. 이를 회계 처리한 결과에 대한 설명으로 옳은 것을 <보기>에서 고른 것은? (단, 일반기업회계기준을 적용하고, 회계기간은 매년 1월 1일부터 12월 31일까지이며, 제시된 자료 외의 것은 고려하지 않는다.) [3점]



<보기>

ㄱ. 11월 5일 외화외상매입금이 ₩4,000,000 감소한다.
 ㄴ. 11월 5일 외환차익이 ₩200,000 발생한다.
 ㄷ. 12월 31일 외화외상매입금이 ₩180,000 증가한다.
 ㄹ. 12월 31일 외화환산손실이 ₩480,000 발생한다.

- ① ㄱ, ㄴ ② ㄱ, ㄷ ③ ㄴ, ㄷ ④ ㄴ, ㄹ ⑤ ㄷ, ㄹ

12. 다음은 ○○(주)의 유상증자 공고 일부와 [자본 관련 자료]이다. 이를 통해 알 수 있는 내용으로 옳은 것은? (단, 일반기업회계기준을 적용하고, 자기주식은 없으며, 제시된 자료 외의 것은 고려하지 않는다.) [3점]

○○(주) 유상증자(신주 발행) 공고

유상증자(신주 발행) 공고

- 신주의 종류와 수: 보통주 100주
- 신주 발행금액: 1주당 ₩7,000 (1주당 액면금액 ₩5,000)
- 신주 인수 방법: 공고일로부터 3일 이내 신주 인수를 위한 현금 납입을 완료하여야 함.

[자본 관련 자료]

- 증자 전
 - 발행 주식 수: 보통주 200주 (1주당 액면금액 ₩5,000)
 - 자본 총액: ₩1,800,000
- 증자 후
 - 발행 주식 수: 보통주 300주

- ① 증자 전 자본금은 ₩800,000이다.
 ② 증자 시 자본잉여금이 ₩700,000 증가한다.
 ③ 증자 시 이익잉여금이 ₩200,000 증가한다.
 ④ 증자 후 자본금은 ₩1,700,000이다.
 ⑤ 증자 후 자본 총액은 ₩2,500,000이다.

13. 다음은 ○○(주)의 [대손 관련 자료]이다. 2015년 결산 시 손익 계정에 대체되는 대손상각비 금액으로 옳은 것은? (단, 회계기간은 매년 1월 1일부터 12월 31일까지이고, 어음 거래는 없으며, 제시된 자료 외의 것은 고려하지 않는다.) [3점]

[대손 관련 자료]

- 2015년 거래
 - 10월 15일 외상매출금 중 ₩15,000이 회수 불가능하게 되어 대손 처리하다.
 - 11월 23일 전기에 대손 처리한 외상매출금 ₩10,000을 현금으로 회수하다.
 - 12월 31일 결산 시 외상매출금 기말 잔액에 대해 대손충당금을 설정하다.
- 2014년과 2015년 결산 후 계정 잔액

구분	2014년 12월 31일	2015년 12월 31일
외상매출금	₩4,500,000	₩5,500,000
대손충당금	₩45,000	₩55,000

- ① ₩5,000 ② ₩10,000 ③ ₩15,000
 ④ ₩25,000 ⑤ ₩55,000

14. 다음은 개인기업인 ○○상점의 2015년 자본금 계정과 [기중 경영 성과 및 자본 변동 내역]이다. (가)의 금액으로 옳은 것은? [3점]

자본금

12/31 인 출 금	×××	1/ 1 전 기 이 월	650,000
" 차 기 이 월	(가)	12/31 손 익	×××
	×××		×××

[기중 경영 성과 및 자본 변동 내역]

- 수 익 총 액 ₩450,000 • 비 용 총 액 ₩340,000
- 추가 출자액 ₩40,000 • 인 출 액 ₩50,000

- ① ₩670,000 ② ₩710,000 ③ ₩750,000
 ④ ₩770,000 ⑤ ₩850,000

15. 다음은 ○○(주)의 [거래]와 이를 기입한 분개장의 일부이다. 이와 관련하여 2015년 결산 시 ○○(주)가 수행해야 할 결산 수정 분개로 옳은 것은? (단, 회계기간은 매년 1월 1일부터 12월 31일까지이고, 임차료는 매월 균등하며, 제시된 자료 외의 것은 고려하지 않는다.)

[거래]

2015년 10월 1일 사무실 임차 계약을 하고 1년분 임차료 ₩360,000을 현금으로 지급하다. (계약 기간은 2015년 10월 1일부터 2016년 9월 30일까지이다.)

분개장

날짜	적 요	원면	차변	대변
10 1	(임차료)	생	360,000	
	(현 금)	락		360,000
	1년분 임차료 현금 지급			

- ① (차변) 손익 270,000 (대변) 임차료 270,000
 ② (차변) 임차료 90,000 (대변) 미지급임차료 90,000
 ③ (차변) 임차료 270,000 (대변) 미지급임차료 270,000
 ④ (차변) 선급임차료 90,000 (대변) 임차료 90,000
 ⑤ (차변) 선급임차료 270,000 (대변) 임차료 270,000

16. 다음은 ○○(주)의 업무용 [비품 관련 자료]와 2015년 비품감가상각누계액 계정이다. 이를 통해 알 수 있는 내용으로 옳은 것만을 <보기>에서 있는 대로 고른 것은? (단, 제시된 자료 외의 것은 고려하지 않는다.)

[비품 관련 자료]	
취득 관련 자료	처분 관련 자료
- 취득 일: 2014년 1월 1일	- 처분 일: 2016년 1월 1일
- 구입 가격: ₩2,900,000	- 처분 금액: ₩1,000,000
- 구입 부대 비용: ₩100,000	


비품감가상각누계액					
12/31	차기이월	2,125,200	1/ 1 전기이월	1,380,000	
			12/31	×××	745,200
		<u>2,125,200</u>			<u>2,125,200</u>

<보기>
 가. 비품의 감가상각 방법은 정액법이다.
 나. 비품의 취득원가는 ₩3,000,000이다.
 다. 비품 처분 시 유형자산처분이익은 ₩125,200이다.

- ① 가 ② 나 ③ 가, 다 ④ 나, 다 ⑤ 가, 나, 다

17. 다음은 ○○(주)의 손익 변동에 대한 공시 일부와 이와 관련된 대화 장면이다. (가)에 들어갈 항목으로 가장 적절한 것은? (단, 일반기업회계기준을 적용하고, 제시된 자료 외의 것은 고려하지 않는다.) [3점]

전자공시시스템			
본 문 매출액 등 변동 내용 공시			
○○(주)			
1. 매출액 등 변동 내용	당기	전기	증감 금액
- 영업이익	₩1,300,000	₩1,300,000	-
- 법인세비용차감전순이익	₩120,000	₩300,000	₩180,000 감소



- ① 매출액 ② 매출원가 ③ 영업외비용
 ④ 영업외수익 ⑤ 판매비와관리비

18. 다음은 개인기업인 ○○상점의 근로계약서 일부이다. 기타 근로 조건의 활동비를 지출한 후 회계 처리할 때 나타나는 비용 계정 과목으로 옳은 것은? (단, 제시된 자료 외의 것은 고려하지 않는다.)

근로계약서
 ○○상점과 김△△(영업직)는 다음과 같이 근로 계약을 체결한다. (중략)
 4. 기타 근로 조건
 ○○상점은 종업원의 복지 증진을 위하여 다음의 항목을 지원한다.
 - 종업원 취미 활동비 (연 1회 ₩200,000 한도로 현금 실비 지급)

- ① 접대비 ② 복리후생비 ③ 광고선전비
 ④ 수도광열비 ⑤ 수수료비용

[19~20] 다음은 개인기업인 ○○상점의 제5기 상품재고장 일부와 손익 계정 및 [기말 상품 재고 관련 자료]이다. 물음에 답하십시오. (단, 일반기업회계기준을 적용하고, 제시된 자료 외의 것은 고려하지 않는다.)

상품재고장										
품명: 갑상품 (단위: 개, 원)										
(선입선출법)										
월일	적 요	인 수			인 도			잔 액		
		수량	단가	금액	수량	단가	금액	수량	단가	금액
1/ 1	전기이월	100	500	50,000				100	500	50,000
12/ 31	차기이월				200	600	120,000			

손익							
12/31	매	입	602,000	12/31	매	출	750,000
"	급	여	30,000	"	이	자	수
"	보	험	20,000	"	익		20,000
"	이	자	비				
"	재	고	자				
"	자	본	금				
			×××				×××
			×××				×××

[기말 상품 재고 관련 자료]
 - 실제 재고 수량: 190개 (단, 감모 수량 중 5개는 정상적인 감모이고, 나머지는 비정상적인 감모이다.)
 - 순실현가능가치: @₩500

19. 위 자료를 통해 알 수 있는 내용으로 옳은 것을 <보기>에서 고른 것은? [3점]

<보기>
 가. 당기 순매출액은 ₩750,000이다.
 나. 당기 매출총이익은 ₩148,000이다.
 다. 당기 판매비와관리비는 ₩60,000이다.
 르. 당기순이익은 ₩108,000이다.

- ① 가, 나 ② 가, 다 ③ 나, 다 ④ 나, 르 ⑤ 다, 르

20. 위 자료에서 당기 순매입액을 계산한 금액으로 옳은 것은? [3점]

- ① ₩532,000 ② ₩644,000 ③ ₩647,000
 ④ ₩650,000 ⑤ ₩653,000

* 확인 사항
 ○ 답안지의 해당란에 필요한 내용을 정확히 기입(표기)했는지 확인하십시오.