


제 4 교시

직업탐구 영역(상업 경제)

성명 수험 번호

1. 다음 자료를 통해 알 수 있는 국제 환경 협약으로 옳은 것은?



이 협약은 습지와 물새 서식지를 보호하고, 동식물의 서식지 기능과 생물자원의 생산 및 정화 기능을 갖춘 습지를 보전하기 위한 국제 협약이다. 이는 국경을 넘나들며 이동하는 물새를 국제 자원으로 규정하고, 가입국이 습지를 보전하는 정책을 이행하도록 의무화하고 있다. 우리나라는 1997년 7월에 이 협약에 가입하였다.

— 나태준, 『국제 환경 협약의 이해』 일부 수정 —

- ① 런던 협약
- ② 바젤 협약
- ③ 람사르 협약
- ④ 기후 변화 협약
- ⑤ 생물 다양성 협약

2. 다음 주식 시세표의 (가), (나) 종목에 대한 설명으로 옳은 것을 <보기>에서 고른 것은? [3점]

다음은 한국거래소에서 거래되는 주식 시세표의 일부이다.

주식 시세표
(2016년 ×월 ××일 종가)

KOSDAQ 지수 700 (단위: 원, 주)

종목명	종가	등락	거래량	고가	저가
(가)	17,000	▽300	39,000	18,000	16,000
○○전자	10,000	▲1,000	122,000	11,500	9,000

KOSPI 지수 2000 (단위: 원, 주)

종목명	종가	등락	거래량	고가	저가
(나)	18,800	▽300	39,000	20,000	18,500
△△제지	12,000	▲500	32,000	13,000	12,000

— <보기> —

ㄱ. (가) 종목은 상장 기업 주식이다.
 ㄴ. (나) 종목이 속하는 지수는 기준 시점에 비해 2배 상승하였다.
 ㄷ. (가) 종목은 (나) 종목에 비해 당일 가격 변동 폭이 크다.
 ㄹ. (가) 종목의 가격 제한 폭은 30%, (나) 종목은 15%이다.

- ① ㄱ, ㄴ
- ② ㄱ, ㄷ
- ③ ㄴ, ㄷ
- ④ ㄴ, ㄹ
- ⑤ ㄷ, ㄹ

3. 다음은 보험 가입 사례이다. 이에 나타난 보험의 공통점으로 옳은 것은?

[사례 1]
 신입 사원 A씨는 본인의 중대한 과실이나 횡령, 배임 등으로 회사가 입게될 손해를 보상하는 보험인 신원보증보험에 가입했고 ○○(주)의 재무부서에서 근무하고 있다.

[사례 2]
 △△(주)에 입사한 신입 사원 B씨는 출퇴근용으로 자동차를 구입하고, 자동차종합보험에 가입하였다.

- ① 인보험에 속한다.
- ② 회사가 일정액을 부담하는 보험이다.
- ③ 의무적으로 가입해야 하는 보험이다.
- ④ 만기 시 납입한 보험료를 돌려 받는다.
- ⑤ 실제 손해 정도에 따라 보상 금액이 달라진다.

[4~5] 다음은 ○○무역(주)의 신입 사원 연수에서 실시한 판매 청약서 작성 내용에 대한 자료의 일부이다. 물음에 답하시오. (단, 제시된 자료 외의 것은 고려하지 않는다.)

영업부장은 신입 사원이 작성한 판매 청약 내용을 확인하고, 다음과 같이 수정해 주었다.

신입 사원이 작성한 판매 청약서		영업부장이 수정한 판매 청약서	
품 목	냉동 수산물	냉동 수산물	
품질 조건	FAQ	GMQ	
수량 조건	100 박스	100kg	
선적 시기	2016년 4월	2016년 4월~5월	
대금 지급	D/A	D/P	
인도 장소	본선 갑판	생산자 창고	

4. 위 자료에서 신입 사원이 작성한 판매 청약서와 비교하여 영업부장이 수정한 판매 청약서에 대한 설명으로 옳은 것은? [3점]

- ① 선적 가능한 기간이 줄어든다.
- ② 수량 조건은 개수 단위로 변경된다.
- ③ 수출상의 상품 인도 위험 부담은 증가한다.
- ④ 수입상의 수입 대금 지급 시기가 늦어진다.
- ⑤ 품질 조건은 판매 적격 품질 조건으로 변경된다.

5. 위 자료에 나타난 상업의 주체에 대한 설명으로 옳은 것을 <보기>에서 고른 것은?

— <보기> —

ㄱ. 일정한 수수료를 받는다.
 ㄴ. 경업 금지 의무를 가진다.
 ㄷ. 위탁을 받아 자기 명의로 거래한다.
 ㄹ. 특정 상인에 종속되어 대외적 영업 활동을 보조한다.

- ① ㄱ, ㄴ
- ② ㄱ, ㄷ
- ③ ㄴ, ㄷ
- ④ ㄴ, ㄹ
- ⑤ ㄷ, ㄹ

6. 다음은 A씨가 창업을 준비하는 과정에서 작성한 컨설팅 의뢰서의 일부이다. 이에 해당하는 창업 절차의 단계로 가장 적절한 것은?

컨설팅 의뢰서

- 아 이 템 : 이어폰 소독기
- 목표 고객 : 20대~30대 직장인
- 의뢰 날짜 : 2016년 4월 11일
- 주요 내용
 - 시장에서 기술적 우위를 차지할 수 있는 기술성 확인
 - 예상 소요 비용과 예상 수익 파악을 통한 경제성 확인
 - 판매할 제품이 시장 경쟁에서 성공할 가능성에 대한 시장성 확인

- ① 사업성 분석
- ② 창업 목표 설정
- ③ 창업자의 관심 분야 분석
- ④ 인적·물적 자원의 조달과 구성
- ⑤ 창업 분야 결정과 아이디어 모색

7. 다음은 ○○(주)의 브랜드 네이밍 전략에 관한 내용이다. (가), (나)에 대한 설명으로 적절한 것만을 <보기>에서 있는 대로 고른 것은? [3점]

○○(주)는 탄산음료를 판매하는 회사로 모든 제품에 △△라는 하나의 기업 브랜드를 사용해 왔다. 하지만 최근 건강에 대한 관심이 높아지면서 탄산음료의 매출액이 하락하고 있다. 이에 따라 다양한 종류의 과즙 음료를 개발하여 새로운 브랜드로서 신제품 이미지를 부각시키기 위해 브랜드 네이밍(Brand naming) 전략을 (가)에서 (나)로 변경할 예정이다.

(가) 기업에서 생산된 모든 제품에 하나의 브랜드 네이밍 전략	⇒	(나) 기존 이미지를 벗어난 제품별 새로운 브랜드 네이밍 전략
---------------------------------------	---	---------------------------------------

— <보기> —

- ㄱ. (가)는 공동 브랜드 네이밍 전략이다.
- ㄴ. (나)는 (가)보다 신제품 도입 시 마케팅 비용이 더 많이 소요된다.
- ㄷ. (나)는 (가)보다 기업 이미지 악화 시 개별 제품 판매에 미치는 영향이 크다.

- ① ㄱ ② ㄴ ③ ㄱ, ㄷ ④ ㄴ, ㄷ ⑤ ㄱ, ㄴ, ㄷ

8. 다음은 금융 상품 판매를 위한 은행원 간의 대화 내용이다. 이에 나타난 금융 상품으로 옳은 것은?

1. 기업을 대상으로 한 금융 상품 판매를 늘리면 좋겠습니다.

2. 네, 최근 기업 고객이 늘어서 가능할 것 같습니다.

3. 그럼, 기업들이 수표를 직접 발행하여 대금 결제를 할 수 있는 예금이 필요하겠네요.

4. 맞습니다. 이 예금은 기업의 현금 출납에 따른 번거로움을 줄일 수 있습니다.

지점장 차장

- ① 정기적금 ② 당좌예금 ③ 정기예금
- ④ 보통예금 ⑤ 양도성 예금 증서

9. 다음에 나타난 상업의 보조 기능으로 적절한 것만을 <보기>에서 있는 대로 고른 것은?

조선 후기 우리나라 최초의 여성 상인 거상 김만덕은 제주도에서 혼한 우황을 비싸게 사들여 육지에 내다 팔았고, 육지에서 곡물을 사들여 제주도로 운반해 와서 창고에 보관하였다가 겨울에 값싸게 팔아서 굶주린 백성들을 살렸다.

- 이경화, 『구원의 여인 김만덕』 일부 수정 -

— <보기> —

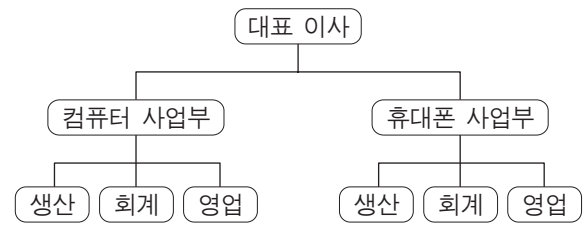
- ㄱ. 경제적 손실을 보상하는 기능
- ㄴ. 시간적 불일치를 조절하는 기능
- ㄷ. 장소적 불일치를 조절하는 기능

- ① ㄱ ② ㄴ ③ ㄱ, ㄷ ④ ㄴ, ㄷ ⑤ ㄱ, ㄴ, ㄷ

[10~11] 다음은 ○○(주)의 경영 관리 활동에 관한 내용이다. 물음에 답하시오.

다수의 공공 기관은 구매하려는 제품 금액이 일정 금액 이상인 경우 입찰 공고하여 제품을 구매하고 있다. ○○(주)는 공공 기관의 입찰 공고에 따라 입찰에 참여하여 낙찰받는 방식으로 제품을 판매하고 있어 가장 단순한 수직적 조직 형태로도 회사를 경영하는데 어려움이 없었다.

그러나 새로운 시장 개척을 위해 재화와 서비스의 가치를 높이는 다른 제품군을 개발하고, 이질적인 시장 변화에 빠르게 대처하는데 기존 조직으로는 한계가 있어, 그림과 같이 제품별 조직 형태로 개편하고자 한다.



10. 위 자료에 나타난 다수의 공공 기관들이 채택하고 있는 경쟁 매매 방법에 대한 설명으로 가장 적절한 것은?

- ① 위탁 매매의 일종이다.
- ② 균형 가격으로 가격이 결정되는 방법이다.
- ③ 서면으로 가격을 제시받을 수 있는 매매 방법이다.
- ④ 적상법이나 적하법을 이용하여 가격을 경쟁시킨다.
- ⑤ 판매자와 구매자 간 동시 경쟁으로 가격이 결정된다.

11. 위 자료에서 개편될 조직 형태가 갖는 특징으로 적절한 것을 <보기>에서 고른 것은?

— <보기> —

- ㄱ. 사업부 간의 상하 관계가 뚜렷하다.
- ㄴ. 사업부별로 조직의 권한이 분산된다.
- ㄷ. 사업부별로 독립적 운영이 이루어진다.
- ㄹ. 사업부의 스태프 조직이 강화되어 있다.

- ① ㄱ, ㄴ ② ㄱ, ㄷ ③ ㄴ, ㄷ ④ ㄴ, ㄹ ⑤ ㄷ, ㄹ

12. 다음은 ○○(주)가 당면한 문제를 해결하기 위한 해외 시장 진출 과정이다. (가)에 대한 설명으로 옳은 것만을 <보기>에서 있는 대로 고른 것은? [3점]

문제 상황	<ul style="list-style-type: none"> • 우수한 교육 콘텐츠를 보유하고 있으나, 국내 교육 사업 시장의 경쟁이 치열하여 수익이 감소되고 있음. • 해외에 직접 투자를 하기에는 자본력에 한계가 있음.
-------	--



해결 방안	<ul style="list-style-type: none"> • 해외 가맹점 계약을 통해 자사의 교육 콘텐츠 제공 • 해외 가맹비와 함께 매출액에 따른 수수료 수입으로 수익 증대
-------	--




실행	<ul style="list-style-type: none"> • 해결 방안을 모두 충족시킬 수 있는 (가) 방식으로 해외 진출
----	--

— <보기> —

- ㄱ. 가맹점에 관리 시스템을 일괄 제공한다.
- ㄴ. 가맹점에 상표나 상호 사용권을 제공한다.
- ㄷ. 가맹점에 상품 판매권과 기술을 제공한다.

- ① ㄱ ② ㄴ ③ ㄱ, ㄷ ④ ㄴ, ㄷ ⑤ ㄱ, ㄴ, ㄷ

13. 다음은 환율과 관련된 뉴스이다. 이에 따라 우리나라 기업들이 취할 수 있는 대안으로 적절한 것을 <보기>에서 고른 것은? (단, 엔화와 환율만 고려하며, 환전을 전제로 한다.) [3점]



일본 수출에 비상이 걸렸습니다. 엔화 대비 원화 가치가 상승하고 있습니다. 정부의 발표에 따르면, 앞으로도 원화 가치가 지속적으로 상승할 것으로 예상되고 있습니다. 이에 따라 앞으로 기업들이 환차손을 극복하기 위한 대안을 마련할 필요가 있습니다.

— <보기> —

- ㄱ. 엔화로 대출받은 금액을 조기에 상환한다.
- ㄴ. 일본으로 수출할 때 현재 시점의 환율로 선물환 계약을 체결한다.
- ㄷ. 일본에서 수입할 때 수입 대금을 조기에 지급하는 계약을 체결한다.
- ㄹ. 일본 건설사에 발주한 일본 지역 물류 센터 공사 대금 지급을 늦춘다.

- ① ㄱ, ㄴ ② ㄱ, ㄷ ③ ㄴ, ㄷ ④ ㄴ, ㄹ ⑤ ㄷ, ㄹ

14. 다음에 나타난 [사용 중인 지급 수단] 대비 [변경할 지급 수단]에 대한 설명으로 옳은 것을 <보기>에서 고른 것은?

[사용 중인 지급 수단]
A 씨는 가맹점에서 상품을 구입하면 A 씨의 예금 계좌에서 판매자의 예금 계좌로 구매 대금이 바로 이체되는 지급 수단을 사용하고 있다. 그런데 상품 구매 시 지급 수단의 가맹점이 아니라는 이유로 결제를 거절당했다. 이 지급 수단의 문제점은 가맹점의 수가 적고, 24시간 사용할 수 없다는 것이다.

[변경할 지급 수단]
사용 중인 지급 수단의 문제를 해결하기 위해 구매 시 통장에 잔액이 없어도 지급 수단의 가맹점에서 일정 한도까지 상품을 구매하고, 구매 대금을 매월 특정일에 결제할 수 있는 지급 수단으로 변경할 예정이다.

— <보기> —

- ㄱ. 일정 금액을 충전하여 사용할 수 있다.
- ㄴ. 카드에 표시된 금액 내에서 사용이 가능하다.
- ㄷ. 현금 서비스 한도액만큼 대출을 받을 수 있다.
- ㄹ. 상환금에서 후급으로 대금 지급 방법이 변경된다.

- ① ㄱ, ㄴ ② ㄱ, ㄷ ③ ㄴ, ㄷ ④ ㄴ, ㄹ ⑤ ㄷ, ㄹ

[15~16] 다음은 ○○(주)가 통지받은 신용장의 일부이다. 물음에 답하시오.

○○(주)는 △△(주)와 무역 계약을 체결하고, 다음과 같은 신용장을 통지받았다.

신 용 장	
개설 은행	A 은행
개설 일자	2016년 6월 1일
개설 의뢰인	△△(주)
수익자	○○(주)
통지 은행	B 은행
매입 은행	C 은행
환어음 지급 기일	일람 후 60일
금액(가격 조건)	US\$ 10,000 (DAT NEWYORK PORT)
선적항/양륙항	인천항/뉴욕항
최종 목적지	보스턴
선적 서류	선화 증권, 상업 송장, 보험 증권

15. 위 자료에 대한 설명으로 옳은 것은? [3점]

- ① △△(주)는 환어음을 발행한다.
- ② 일람 출금 신용장 방식에 해당한다.
- ③ B 은행은 환어음 대금 지급을 보증한다.
- ④ A 은행은 C 은행에 환어음 대금을 결제한다.
- ⑤ 수입업자는 대금 지급 후 선적 서류를 받는다.

16. 위 자료에 나타난 가격 조건에 따라 수출업자가 이행해야 할 의무로 옳은 것을 <보기>에서 고른 것은? [3점]

— <보기> —

- ㄱ. 수입 통관 및 관세를 납부해야 한다.
- ㄴ. 보스턴까지의 운송비를 부담해야 한다.
- ㄷ. 수출 물품에 대한 해상 운송 계약을 체결해야 한다.
- ㄹ. 뉴욕항에 도착한 선박에서 물품을 내린 상태로 인도해야 한다.

- ① ㄱ, ㄴ ② ㄱ, ㄷ ③ ㄴ, ㄷ ④ ㄴ, ㄹ ⑤ ㄷ, ㄹ

17. 다음은 A국의 [2014년 경상수지]와 [2015년 경상 거래 및 자본·금융 거래]이다. 2014년 대비 2015년 경상수지에 대한 설명으로 옳은 것은? (단, 제시된 자료 외의 것은 고려하지 않는다.) [3점]

[2014년 경상수지] (단위: US 달러)

경상수지	85억 흑자
상품수지	90억 흑자
서비스수지	7억 적자
본원소득수지	5억 흑자
이전소득수지	3억 적자

[2015년 경상 거래 및 자본·금융 거래] (단위: US 달러)

- 상품 수입 대금 100억 지급
- 상품 수출 대금 200억 수취
- 유니세프 구호 기금 1억 지급
- 국제 라이선싱 계약으로 2억 수취
- 해외 투자 채권에 대한 이자 4억 수취
- 해외 기업에 대한 주식 투자 대금 7억 지급
- 해외 기업에 물품 운송비 및 보험료 10억 지급
- 1년 미만의 외국인 근로자에 대한 임금 3억 지급

- ① 경상수지는 흑자 폭이 축소되었다.
- ② 이전소득수지는 흑자로 전환되었다.
- ③ 상품수지는 흑자 폭에 변화가 없었다.
- ④ 서비스수지는 1억 달러만큼 적자 폭이 확대되었다.
- ⑤ 본원소득수지는 2억 달러만큼 흑자 폭이 축소되었다.

18. 다음은 ○○(주)의 자금 조달 결과 보고서이다. 이에 대한 설명으로 옳은 것을 <보기>에서 고른 것은? [3점]

자금 조달 결과 보고서

2016년 5월 25일

- 제목: 생산 설비 증설을 위한 자금 조달
- 자금 조달 내역
 - 은행 대출로 15억 원 조달
 - 회사채 발행으로 20억 원 조달
 - 보통주 유상 증자로 40억 원 조달
- 기대 효과
 - 필요 자금 조달로 생산 설비 확충 가능
 - 장기 자본 조달로 안정적 자금 운용 가능

— <보기> —

ㄱ. 배당을 해야 하는 조달 금액은 20억 원이다.
 ㄴ. 타인 자본보다 자기 자본으로 조달한 금액이 많다.
 ㄷ. 원리금을 상환해야 하는 조달 금액은 35억 원이다.
 ㄹ. 직접 금융 시장보다 간접 금융 시장에서 조달한 금액이 많다.

- ① ㄱ, ㄴ ② ㄱ, ㄷ ③ ㄴ, ㄷ ④ ㄴ, ㄹ ⑤ ㄷ, ㄹ

19. 다음은 ○○유통의 상품 배송 관련 질문과 답변 내용이다. 이를 통해 알 수 있는 물적 유통 시스템으로 적절한 것은?

HOME | LOG OUT | 공지 사항 | 사이트 맵

Q&A 코너

Q 2일 전에 ○○유통에 주문한 상품이 어디쯤 배송되고 있는지 알 수가 없네요. 부모님 생신 선물로 내일 드려야 하는데 오늘 도착할 수 있나요?

A 고객님께 불편을 드려 죄송합니다.
 우리 회사는 상품 배송 차량에 대한 운행 정보 및 위치를 실시간으로 추적하는 시스템을 운영하고 있습니다. 우리 회사 홈페이지의 배송 정보 조회 메뉴에서 배송 상태를 확인하실 수 있습니다. 지금 확인해 보니, 금일 오후 5시경에 도착할 예정입니다.

- ① CVO ② EDI ③ EOS ④ POS ⑤ SCM

20. 다음은 경제 협정 체결 전·후 상황을 나타낸 것이다. [경제 협정 체결 전 상황] 대비 [경제 협정 체결 후 상황]에 대한 설명으로 적절한 것만을 <보기>에서 있는 대로 고른 것은? (단, 제시된 자료 외의 것은 고려하지 않는다.) [3점]

[경제 협정 체결 전 상황]

- A국 ○○상사(주)는 모니터를 수출 단가 US \$100로 B~D국에 수출을 하고 있다.
- B~D국의 수입 관세율은 다음과 같다.

국가	품목	수입 관세율
B국	모니터	20%
C국		25%
D국		30%

[경제 협정 체결 후 상황]

- A~D국은 그림과 같이 경제 협정을 체결하였으며, 각각의 협정이 발효되었다.
- 경제 협정 발효 후 A국에 대한 수입 관세율은 다음과 같다.

국가	품목	수입 관세율
B국	모니터	10%
C국		즉시 철폐
D국		즉시 철폐

— <보기> —

ㄱ. B국은 A국으로부터 모니터를 10대 수입할 때 관세 수입이 200달러 줄어든다.
 ㄴ. C, D국은 비회원국에 대해서 동일한 수입 관세율을 적용한다.
 ㄷ. B~D국이 A국으로부터 모니터를 수입할 때 D국의 수입 가격 인하 효과가 가장 크다.

- ① ㄱ ② ㄴ ③ ㄱ, ㄷ ④ ㄴ, ㄷ ⑤ ㄱ, ㄴ, ㄷ

* 확인 사항
 ○ 답안지의 해당란에 필요한 내용을 정확히 기입(표기)했는지 확인 하시오.