

제 4 교시

# 직업탐구 영역(회계 원리)

성명  수험 번호

1. 다음은 결산과 관련한 수업 장면이다. (가)의 절차에서 수행하는 업무 내용으로 적절한 것은?



- ① 분개장 마감
  - ② 현금흐름표 작성
  - ③ 상품재고장 마감
  - ④ 총계정원장 마감
  - ⑤ 결산 정리 사항 수정 기입
2. 다음은 ○○(주)의 현금 지출 내역서 일부이다. 5월 3일과 5월 17일의 거래 내용을 분개할 때 차변 계정과목으로 옳은 것은?

현금 지출 내역서			담당	과장	부장	
			결재	한국	교육	평가
월일	내역	금액				
5월 3일	영업부 판매 사원의 결혼 축의금	₩50,000				
5월 17일	△△ 복지 재단에 무상 기부	₩100,000				

- |         |        |
|---------|--------|
| 5월 3일   | 5월 17일 |
| ① 기부금   | 기부금    |
| ② 기부금   | 복리후생비  |
| ③ 복리후생비 | 접대비    |
| ④ 복리후생비 | 기부금    |
| ⑤ 복리후생비 | 복리후생비  |
3. 다음은 개인기업인 ○○상점의 제2기 이월자산표와 [기중 수익 및 비용 총액]을 나타낸 것이다. 이를 통해 제2기의 기초 자본을 계산한 금액으로 옳은 것은? (단, 제시된 자료 외의 것은 고려하지 않는다.)

이월자산표			
○○상점 2015년 12월 31일 (단위: 원)			
차변	원면	계정과목	대변
300,000	생 략	현금	
100,000		당좌예금	
200,000		이월상품	
200,000		토지	
		외상매입금	100,000
		장기차입금	200,000
		자본금	xxx
xxx			xxx

[기중 수익 및 비용 총액]  
 • 수익 총액 ₩2,000,000      • 비용 총액 ₩1,600,000

- ① ₩100,000
- ② ₩400,000
- ③ ₩600,000
- ④ ₩800,000
- ⑤ ₩900,000

4. 다음은 ○○(주)의 거래를 기입한 전표이다. 이를 통해 알 수 있는 거래 요소의 결합 관계와 동일하게 나타나는 거래로 옳은 것은?

출금 전표				담당	과장	부장
No. 121				한국	교육	평가
2016년 4월 28일						
계정과목	보험료	거래처	△△보험(주)			
적요			금액			
본사 건물의 화재 보험료 납부			2	0	0	0
합계			₩	2	0	0

- ① 현금 ₩20,000을 당좌예입하다.
- ② 종업원 급여 ₩20,000을 현금으로 지급하다.
- ③ 업무용 컴퓨터를 ₩20,000에 외상으로 구입하다.
- ④ 외상매입금 ₩20,000을 약속어음을 발행하여 지급하다.
- ⑤ 단기차입금 ₩20,000을 당좌수표를 발행하여 지급하다.

5. 다음은 ○○(주)의 제3기 단기매매증권과 관련된 거래이다. 이를 회계 처리한 결과에 대한 설명으로 옳은 것을 <보기>에서 고른 것은? (단, 일반기업회계기준을 적용하고, 제시된 자료 외의 것은 고려하지 않는다.) [3점]

11월 10일	△△(주)가 발행한 주식 300주(액면금액 1주당 ₩5,000)를 1주당 ₩6,000에 취득하고 대금은 수수료 ₩30,000과 함께 당좌수표를 발행하여 지급하다.
11월 20일	위 주식 중 100주를 1주당 ₩7,000에 처분하고 수수료 ₩10,000을 차감한 잔액은 현금으로 받다.
12월 31일	결산 시 보유 중인 위 주식의 공정가치를 1주당 ₩8,000으로 평가하다.

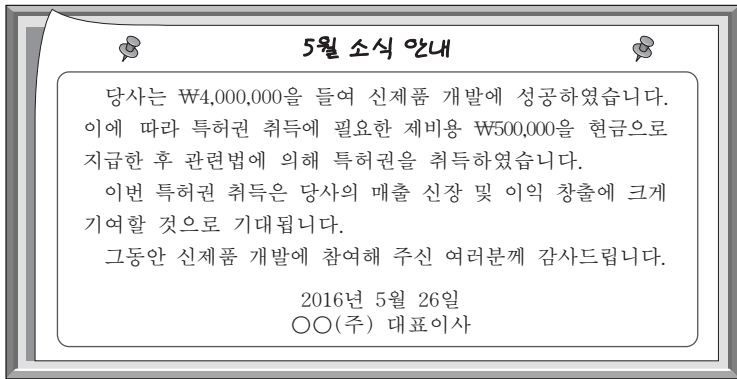
— <보기> —

- ㄱ. 취득 시 취득원가는 ₩1,830,000이다.
- ㄴ. 처분 시 단기매매증권의 처분 이익이 ₩110,000 발생한다.
- ㄷ. 결산 시 단기매매증권의 평가 이익이 ₩400,000 발생한다.
- ㄹ. 결산 시 이월자산표에 표시되는 단기매매증권은 ₩1,600,000이다.

- ① ㄱ, ㄴ
- ② ㄱ, ㄷ
- ③ ㄴ, ㄷ
- ④ ㄴ, ㄹ
- ⑤ ㄷ, ㄹ



11. 다음은 ○○(주)가 취득한 자산에 대한 안내문이다. 이에 나타난 거래 내용을 분개하는 경우 차변 계정과목이 속하는 자산의 분류 항목으로 옳은 것은? (단, 일반기업회계기준을 적용한다.)



- ① 당좌자산            ② 재고자산            ③ 투자자산
- ④ 유형자산            ⑤ 무형자산

12. 다음은 ○○(주)의 영업 실적과 관련된 대화 장면이다. (가)에 들어갈 방안으로 적절한 것은?



- ① 본사 건물의 난방비를 줄이는
- ② 불우 이웃 돕기 성금을 많이 내는
- ③ 종업원 퇴직 시 퇴직금을 인상하는
- ④ 투자 목적의 건물을 장부금액보다 낮게 처분하는
- ⑤ 은행으로부터 더 많은 대출을 받아 그에 대한 이자를 늘리는

13. 다음은 개인기업인 ○○상점의 제4기 말 수정 전 잔액시산표 일부와 [기말 상품 재고 관련 자료]이다. 이를 통해 매출총이익을 계산한 금액으로 옳은 것은? (단, 일반기업회계기준을 적용하고, 상품 매매의 회계 처리는 3분법에 의하며, 제시된 자료 외의 것은 고려하지 않는다.) [3점]

**잔액시산표(수정 전)**  
2015년 12월 31일 (단위: 원)

○○상점			
차변	원면	계정과목	대변
50,000	생 략	이 월 상 품 지 급 어 자 본 금 매 출 매 입	300,000
			1,000,000
			670,000
580,000			

[기말 상품 재고 관련 자료]

- 장부 재고 수량: 100개 (매입 원가 @₩1,000)
- 실제 재고 수량: 90개 (감모 수량 중 4개는 정상적이며, 나머지는 비정상적임.)

- ① ₩130,000            ② ₩134,000            ③ ₩136,000
- ④ ₩140,000            ⑤ ₩146,000

[14~15] 다음은 ○○(주)의 업무용 [건물 관련 거래]와 [감가상각 방법]을 나타낸 것이다. 물음에 답하시오. (단, 회계기간은 매년 1월 1일부터 12월 31일까지이고, 제시된 자료 외의 것은 고려하지 않는다.)

[건물 관련 거래]

- 2013년 1월 1일 ○○(주)는 △△건설(주)와 건물 신축 계약을 체결하고 총 공사 대금 ₩1,000,000 중 계약금 ₩100,000을 현금으로 지급하다.
- 2014년 1월 1일 위 신축 중인 건물이 완공되어 인수하고 잔금 ₩900,000과 취득세 등 ₩50,000을 현금으로 지급한 후, 건물을 사용하기 시작하다.
- 2014년 12월 31일 결산 시 위 건물에 대해 감가상각을 하다.
- 2015년 11월 19일 위 건물 유리창이 파손되어 원상회복을 위한 교체 비용 ₩30,000을 자기앞수표로 지급하다.
- 2015년 12월 31일 결산 시 위 건물에 대해 감가상각을 하다.

[감가상각 방법]

- 감가상각 계산 방법** 내용연수는 10년, 잔존가치는 ₩50,000으로 추정하였으며, 회계연도가 경과함에 따라 건물의 장부금액이 매년 일정하게 감소하는 방법으로 결정함.
- 감가상각 기장 방법** 재무상태표에 표시하는 방법은 건물의 취득원가에서 감가상각누계액을 차감하는 형식으로 결정함.

14. 위 자료를 회계 처리하는 경우 알 수 있는 내용으로 옳은 것을 <보기>에서 고른 것은? [3점]

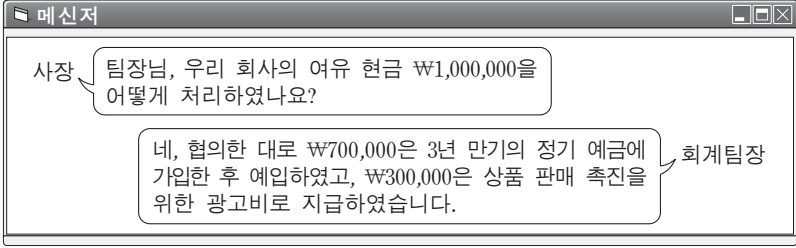
- < 보 기 > —
- ㄱ. 2014년 1월 1일 건물의 취득원가는 ₩1,050,000이다.
  - ㄴ. 2014년 12월 31일 결산 시 손익 계정에 대체되는 건물의 감가상각비는 ₩105,000이다.
  - ㄷ. 2015년 12월 31일 결산 후 건물의 장부금액은 ₩850,000이다.
  - ㄹ. 2015년 12월 31일 결산 후 재무상태표에 표시되는 건물의 감가상각누계액은 ₩100,000이다.

- ① ㄱ, ㄴ    ② ㄱ, ㄷ    ③ ㄴ, ㄷ    ④ ㄴ, ㄹ    ⑤ ㄷ, ㄹ

15. 위 자료에서 2015년 11월 19일 거래의 분개로 옳은 것은?

	차변		대변
① 건물	30,000	현금	30,000
② 건물	30,000	당좌예금	30,000
③ 수선비	30,000	현금	30,000
④ 수선비	30,000	당좌예금	30,000
⑤ 건설중인자산	30,000	현금	30,000

16. 다음은 ○○(주)의 현금 운용과 관련된 메신저상의 내용이다. 이에 나타난 거래 내용을 회계 처리하는 경우 재무제표에 미치는 결과에 대한 설명으로 옳은 것만을 <보기>에서 있는 대로 고른 것은? (단, 제시된 자료 외의 것은 고려하지 않는다.)



— < 보 기 > —  
 ㄱ. 유동자산이 감소한다.  
 ㄴ. 비유동자산이 증가한다.  
 ㄷ. 당기순이익이 증가한다.

- ① ㄱ      ② ㄷ      ③ ㄱ, ㄴ      ④ ㄴ, ㄷ      ⑤ ㄱ, ㄴ, ㄷ

17. 다음은 ○○(주)의 제5기 외상매출금 관련 대손충당금 계정과 [기중 거래 및 결산 정리 사항]이다. 이를 회계 처리하는 경우 결산 시 손익 계정에 대체되는 대손상각비 금액으로 옳은 것은? (단, 제시된 자료 외의 것은 고려하지 않는다.) [3점]

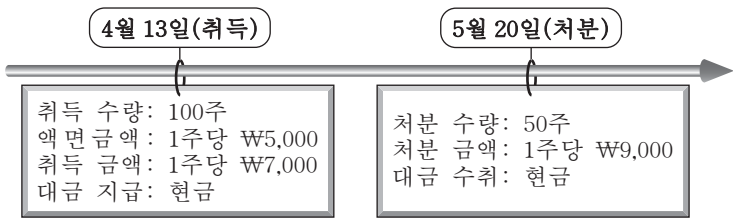
대손충당금

	1/1 전기이월 30,000
--	-----------------

[기중 거래 및 결산 정리 사항]  
 10월 5일 외상매출금 중 ₩90,000이 회수 불가능하게 되어 대손 처리하다.  
 12월 31일 결산 시 외상매출금 기말 잔액 ₩2,000,000에 대하여 ₩20,000의 대손을 추산하다.

- ① ₩20,000      ② ₩30,000      ③ ₩50,000  
 ④ ₩80,000      ⑤ ₩110,000

18. 다음은 ○○(주)의 2015년 자기주식 취득과 처분에 관한 거래 내용을 나타낸 것이다. 이를 회계 처리한 결과에 대한 설명으로 옳은 것을 <보기>에서 고른 것은? (단, 일반기업회계기준을 적용하고, 회계기간은 매년 1월 1일부터 12월 31일까지이며, 제시된 자료 외의 것은 고려하지 않는다.) [3점]



— < 보 기 > —  
 ㄱ. 자본금이 ₩350,000 증가한다.  
 ㄴ. 당좌자산이 ₩250,000 감소한다.  
 ㄷ. 자본잉여금이 ₩100,000 증가한다.  
 ㄹ. 이익잉여금이 ₩350,000 감소한다.

- ① ㄱ, ㄴ      ② ㄱ, ㄷ      ③ ㄴ, ㄷ      ④ ㄴ, ㄹ      ⑤ ㄷ, ㄹ

19. 다음은 개인기업인 ○○상점의 제6기 손익 계정과 이를 마감한 후 발견한 [오류 사항]이다. [오류 사항]을 정정하여 반영한 후의 영업이익을 계산한 금액으로 옳은 것은? (단, 제시된 자료 외의 것은 고려하지 않는다.) [3점]

손익

12/31 매 입 500,000	12/31 매 출 700,000
" 임 차 료 90,000	" 이 자 수 익 100,000
" 이 자 비 용 20,000	
" 자 본 금 190,000	
800,000	800,000

[오류 사항]  
 • 당기 이자수익 미수분 ₩40,000 계상 누락  
 • 당기 임차료 미지급분 ₩20,000 계상 누락

- ① ₩90,000      ② ₩130,000      ③ ₩140,000  
 ④ ₩180,000      ⑤ ₩200,000

20. 다음은 ○○(주)의 [사채 발행 관련 자료]와 제3기 재무상태표 및 손익계산서 일부이다. 이를 통해 알 수 있는 내용으로 옳은 것은? (단, 일반기업회계기준을 적용하고, 손익계산서에 표시된 이자 비용은 사채에 대한 이자이며, 제시된 자료 외의 것은 고려하지 않는다.) [3점]

[사채 발행 관련 자료]  
 • 발행일: 2014년 1월 1일  
 • 만기일: 2016년 12월 31일 (만기 상환)  
 • 액면금액: ₩500,000  
 • 이자 지급일: 매년 12월 31일 (연 1회)  
 • 사채할인발행차금 상각 방법: 유효이자율법  
 • 사채발행비는 없음.

**재무상태표**

제3기 2015년 12월 31일 현재  
제2기 2014년 12월 31일 현재

○○(주)	과 목	당 기	전 기
	:	:	:
	사채	500,000	500,000
	사채할인발행차금	(33,899)	(62,626)

**손익계산서**

제3기 2015년 1월 1일부터 2015년 12월 31일까지  
제2기 2014년 1월 1일부터 2014년 12월 31일까지

○○(주)	과 목	당 기	전 기
	:	:	:
	이자비용	78,727	74,345

- ① 사채의 액면이자율은 유효이자율보다 높다.  
 ② 2014년 1월 1일 사채의 발행금액은 ₩437,374이다.  
 ③ 2014년 결산 시 사채할인발행차금 상각액은 ₩28,727이다.  
 ④ 2015년 결산 시 실제 지급된 사채 이자 금액은 ₩50,000이다.  
 ⑤ 2015년 결산 후 사채의 장부금액은 ₩471,273이다.

\* 확인 사항  
 ○ 답안지의 해당란에 필요한 내용을 정확히 기입(표기)했는지 확인 하시오.