

제 4 교시

직업탐구 영역 (인간 발달)

성명 수험 번호

1. 다음은 배란에서 출생까지의 과정을 나타낸 것이다. (가), (나)의 특징으로 옳은 것을 <보기>에서 고른 것은?



<보 기>
 가. (가) 시기는 배아기이다.
 나. (가) 시기에 수정란이 난관을 통해 자궁으로 이동한다.
 다. (나) 시기에 신체 기관이 빠른 속도로 형성된다.
 리. (나) 시기에 성별의 구분이 외형적으로 가능하다.

- ① 가, 나 ② 가, 다 ③ 나, 다
 ④ 나, 리 ⑤ 다, 리

2. 다음은 두 아이의 행동에 대한 사례이다. 이와 관련된 인간 발달 이론에 대한 설명으로 옳은 것을 <보기>에서 고른 것은? [3점]

○ 병원에서 주사를 맞은 이후로 진혁이는 흰 옷을 입은 사람을 보면 울어 버린다.
 ○ 빗자루로 혼난 적이 있는 민희는 엄마가 청소하려고 빗자루를 들자 다른 방으로 도망가 버렸다.

<보 기>
 가. 문화적 요소의 영향을 중요하게 본다.
 나. 성숙이론과 반대되는 관점을 갖고 있다.
 다. 인간 발달에서 정서적인 측면을 강조하고 있다.
 리. 인간을 자극에 반응하는 수동적인 존재로 이해한다.

- ① 가, 나 ② 가, 다 ③ 나, 다
 ④ 나, 리 ⑤ 다, 리

3. 다음은 세 노인의 일상생활에 대한 욕구를 나타낸 것이다. (가)~(다)를 매슬로의 위계적 욕구에 근거하여 볼 때, 낮은 단계부터 바르게 배열한 것은?

(가)	(나)	(다)
몸도 아프고, 모아 놓은 돈도 없고 앞으로 어떻게 먹고 살지 걱정이예요. 누군가 도와주면 좋겠어요.	우리 지역을 위한 자원봉사도 하면서 젊었을 때 하고 싶었던 대학공부를 이제라도 시작하고 싶어요.	요즘 너무 외로워요. 가족들이 자주 찾아와 주었으면 좋겠어요. 그러면 손자와 손녀도 자주 볼 수 있을 텐데...

- ① (가) - (나) - (다) ② (가) - (다) - (나)
 ③ (나) - (가) - (다) ④ (다) - (가) - (나)
 ⑤ (다) - (나) - (가)

4. 다음 실험을 통해서 알 수 있는 영아의 발달 특성으로 가장 적절한 것은? [3점]

○ 대상 : 영아 60명
 ○ 방법 : A, B 집단으로 나누어 눈가리개로 씌운 후, A 집단은 (가)를, B 집단은 (나)를 각각 빨게 하였다. 그리고 난 후, 눈가리개를 벗기고 (가)와 (나)를 동시에 제시하였다.
 ○ 결과 : A 집단은 (가)를, B 집단은 (나)를 더 오랫동안 주시하였다.

- ① 유사한 사물의 특징을 범주화한다.
 ② 가공의 세계와 현실 세계를 구분한다.
 ③ 사물의 부분을 보고 전체를 이해한다.
 ④ 특정 감각 정보를 통해 다른 감각 정보를 파악한다.
 ⑤ 잠깐 눈에 보이지 않는 대상이라도 어딘가 존재한다는 것을 안다.

5. 다음 글의 (가)에 들어갈 용어에 대한 설명으로 옳은 것만을 <보기>에서 있는 대로 고른 것은?

모 회사의 신입 사원인 26세 A씨는 어렵게 얻은 일자리이지만 적성에 맞지 않아 하루에도 열두 번씩 이직에 대한 고민을 하고 있다. 이로 인해 A씨는 과도한 (가) 와/과 피로를 느껴 가만히 있어도 가슴이 두근거리고 잠을 제대로 이룰 수 없어 몸이 많이 쇠약해져 있는 상태이다.
 (가) 은/는 원래 물리학 용어로 '물체에 가해지는 물리적 힘'을 의미하는 것인데, 의학에서는 '개체에 부담을 주는 육체적, 정신적 자극에 생체가 나타내는 반응'을 의미한다.
 - 이하 생략 -

<보 기>
 가. 청년기에 최고 수준에 도달한다.
 나. 뇌졸중, 심장 질환을 유발하는 요인 중 하나이다.
 다. 특정 사건이 원인이 되는지의 여부는 개인에 따라 달라질 수 있다.
 리. 심한 경우 아동기에 성장 호르몬의 분비가 잠시 중단 되기도 한다.

- ① 가, 나 ② 가, 리 ③ 다, 리
 ④ 가, 나, 다 ⑤ 나, 다, 리

6. 다음은 아동의 인지 발달 수준을 알아보기 위한 실험이다. (가), (나)의 실험 결과가 나타나는 시기의 발달 특성으로 옳은 것을 <보기>에서 고른 것은? [3점]


실험 보고서

○ 실험 명 : 서열화


○ 실험 방법

- 1) 길이가 서로 다른 막대기를 제시한다.
- 2) 길이가 짧은 것부터 긴 순서대로 배열하도록 한다.

○ 실험 결과



(가)



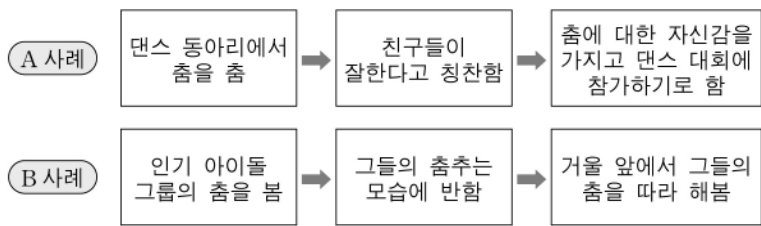
(나)

<보 기>

ㄱ. (가)의 반응을 보이는 시기에는 물활론적 사고가 나타난다.
 ㄴ. (가)의 반응을 보이는 시기에는 상위 유목이 하위 유목을 포함하는 관계를 이해한다.
 ㄷ. (나)의 반응을 보이는 시기에는 보존 개념을 획득한다.
 ㄹ. (나)의 반응을 보이는 시기에는 자아 중심적 사고를 한다.

- ① ㄱ, ㄷ ② ㄱ, ㄹ ③ ㄴ, ㄷ
 ④ ㄴ, ㄹ ⑤ ㄷ, ㄹ

7. 다음 A, B 사례를 설명할 수 있는 이론으로 옳은 것을 <보기>에서 고른 것은?





<보 기>

ㄱ. 관찰학습 이론
 ㄴ. 인본주의 이론
 ㄷ. 인지발달 이론
 ㄹ. 조건형성 이론

- | | | |
|---|------|------|
| | A 사례 | B 사례 |
| ① | ㄱ | ㄴ |
| ② | ㄴ | ㄷ |
| ③ | ㄷ | ㄱ |
| ④ | ㄹ | ㄱ |
| ⑤ | ㄹ | ㄴ |

8. 다음은 아동의 인지 발달 수준을 알아보기 위한 실험이다. 반응 2가 나타나기 시작하는 시기에 적절한 부모의 역할만을 <보기>에서 있는 대로 고른 것은? (단, 프로이트의 심리성적 발달 이론에 근거한다.) [3점]

1차 제시	2차 제시
두 줄의 동전을 일정한 간격으로 놓는다. 	아래 줄 동전의 간격을 더 넓힌다. 
질문	질문
두 줄의 동전 수는 같은가요, 아니면 한 쪽이 더 많은가요?	두 줄의 동전 수는 같은가요, 아니면 한 쪽이 더 많은가요?
반응 1	반응 2
같아요.	둘 다 똑같아요, 간격만 넓혔을 뿐이잖아요.

<보 기>

ㄱ. 지나치게 엄격한 대소변 훈련을 하지 않는다.
 ㄴ. 또래와의 원만한 관계를 형성할 수 있도록 지원한다.
 ㄷ. 성의 문제를 주체적이면서도 건강하게 해결하도록 지원한다.

- ① ㄱ ② ㄴ ③ ㄱ, ㄷ
 ④ ㄴ, ㄷ ⑤ ㄱ, ㄴ, ㄷ

9. 다음 운동 능력이 나타나기 시작하는 시기의 발달 특성으로 옳은 것을 <보기>에서 고른 것은?

- 신발 끈을 묶을 수 있다.
- 젓가락을 능숙하게 사용한다.
- 평균대 위에서 균형을 잡고 걷는다.

<보 기>

ㄱ. 격리 불안이 시작된다.
 ㄴ. 논리적 사고가 가능하다.
 ㄷ. 타율적 도덕성이 나타난다.
 ㄹ. 언어를 통한 자아 통제가 가능하다.

- ① ㄱ, ㄴ ② ㄱ, ㄷ ③ ㄴ, ㄷ
 ④ ㄴ, ㄹ ⑤ ㄷ, ㄹ

10. 다음은 영아기 발달 특성에 대한 퀴즈이다. <답안지>에서 정답을 모두 맞힌 학생을 고른 것은?

영아기 발달 특성 퀴즈

3학년 △반 ○○○

* 맞으면 ○, 틀리면 ×로 답하시오.

가. 신생아에 비해 렘(REM) 수면 시간이 길다. ()
 나. 7개월 경에는 깊이에 대한 지각 능력이 나타난다. ()
 다. 이 시기의 중요한 운동 능력은 걷기와 대상잡기이다. ()
 라. 6개월 경에는 치아가 나오므로 반고형식 음식의 섭취가 가능하다. ()

<답안지>

	국화	나영	상희	윤정	태현
가	×	×	○	○	○
나	○	○	×	×	○
다	○	○	×	×	○
라	○	×	×	○	○

- ① 국화 ② 나영 ③ 상희 ④ 윤정 ⑤ 태현

11. 다음 대화에서 알 수 있는 아동의 발달 시기에 나타나는 특징으로 옳은 것을 <보기>에서 고른 것은? [3점]



- ㄱ. 성충동이 잠복한다.
- ㄴ. 직관적 사고를 한다.
- ㄷ. 근면성의 발달과제를 획득한다.
- ㄹ. 상징적 놀이의 발달 수준을 보인다.

- ① ㄱ, ㄴ ② ㄱ, ㄷ ③ ㄴ, ㄷ
- ④ ㄴ, ㄹ ⑤ ㄷ, ㄹ

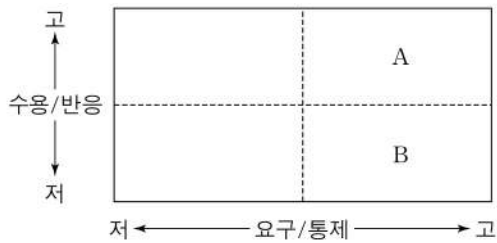
12. 다음 글과 관련 있는 인간 발달의 특성으로 적절한 것만을 <보기>에서 있는 대로 고른 것은?

- 부모는 아이의 거울이다.
- 아이들 앞에서는 찬물도 못 마신다.
- 늑대와 함께 지내면 짙는 것을 배운다.

- <보 기>
- ㄱ. 행동은 경험의 산물이다.
 - ㄴ. 발달은 분화와 통합의 과정이다.
 - ㄷ. 인간은 '의미 있는 타인'을 통해 학습한다.

- ① ㄱ ② ㄴ ③ ㄱ, ㄷ
- ④ ㄴ, ㄷ ⑤ ㄱ, ㄴ, ㄷ

13. 그림은 바움린드가 제시한 부모의 양육 유형을 도식화한 것이다. A, B에 대한 설명으로 옳은 것을 <보기>에서 고른 것은? [3점]



- <보 기>
- ㄱ. A는 권위적 양육 유형이다.
 - ㄴ. A 유형 부모는 규율을 명확히 전달하면서도 애정적이다.
 - ㄷ. B 유형 부모는 통제나 지시를 많이 사용하지만 정서적 지지의 정도는 낮다.
 - ㄹ. B 유형 부모의 자녀는 A 유형 부모의 자녀보다 자신감이 더 높다.

- ① ㄱ, ㄴ ② ㄱ, ㄷ ③ ㄴ, ㄷ
- ④ ㄴ, ㄹ ⑤ ㄷ, ㄹ

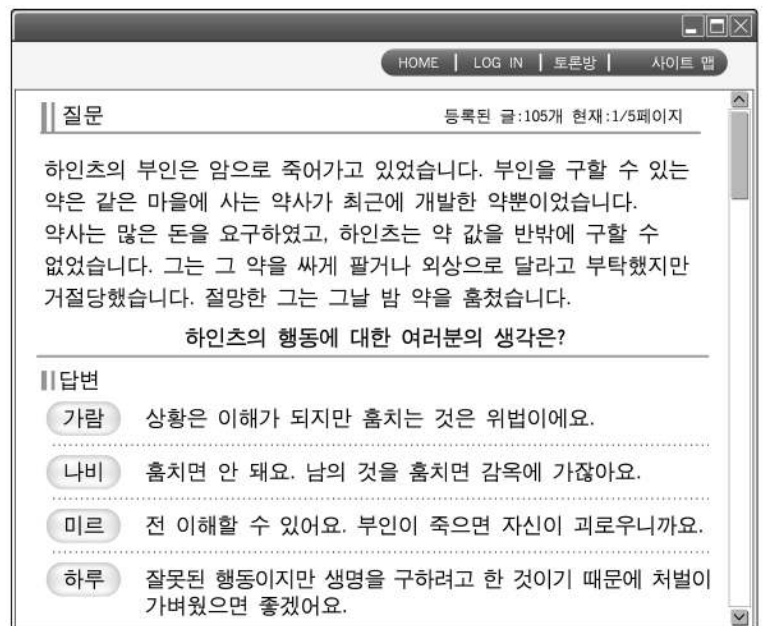
14. 그림은 기억의 인출 과정을 알 수 있는 대화이다. (가), (나)에 나타난 인출 방법의 특징으로 옳은 것을 <보기>에서 고른 것은? [3점]



- <보 기>
- ㄱ. (가)는 오지선다형 객관식 문제를 풀 때 사용한다.
 - ㄴ. (나)는 단기 기억 내에 저장되어 있는 정보를 인출하는 과정이다.
 - ㄷ. (가)는 (나)보다 저장된 정보를 인출하는 과정이 더 용이하다.
 - ㄹ. (가)는 회상이고, (나)는 재인이다.

- ① ㄱ, ㄴ ② ㄱ, ㄷ ③ ㄴ, ㄷ
- ④ ㄴ, ㄹ ⑤ ㄷ, ㄹ

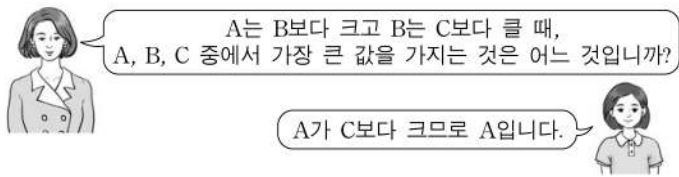
15. 다음은 학습 토론방에 올라온 글이다. 콜버그의 도덕성 발달 이론에 근거하여 볼 때, 옳은 것을 <보기>에서 고른 것은?



- <보 기>
- ㄱ. 가람은 인습적 도덕 수준에 해당한다.
 - ㄴ. 나비는 후인습적 도덕 수준에 해당한다.
 - ㄷ. 하루는 개인주의적 도덕 단계에 해당한다.
 - ㄹ. 미르는 하루보다 더 낮은 도덕 수준이다.

- ① ㄱ, ㄷ ② ㄱ, ㄹ ③ ㄴ, ㄷ
- ④ ㄴ, ㄹ ⑤ ㄷ, ㄹ

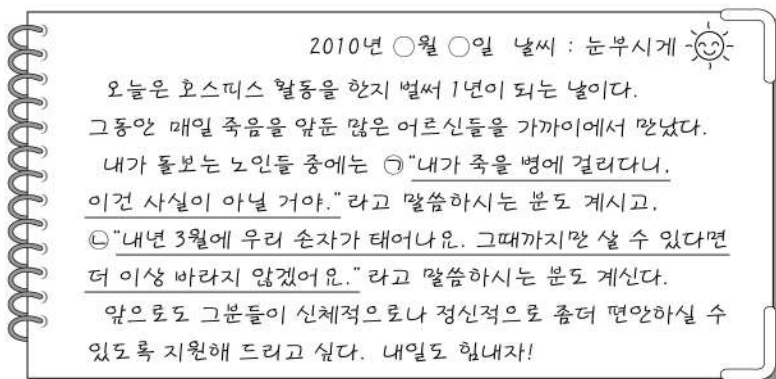
16. 다음은 인지 발달 수준을 알아보기 위한 질문이다. 답변을 통해 알 수 있는 발달 시기의 특성으로 옳은 것을 <보기>에서 고른 것은? [3점]



<보 기>
 ㄱ. 가역성과 보상성의 원리를 이해하기 시작한다.
 ㄴ. 본인이 원하는 것을 해 주는 사람을 친구로 생각한다.
 ㄷ. 다른 사람들이 자신의 행동을 주시하고 있다고 생각한다.
 ㄹ. 급격한 신체적·생리적 발달을 경험하면서 외모와 이성에 대해 관심을 갖는다.

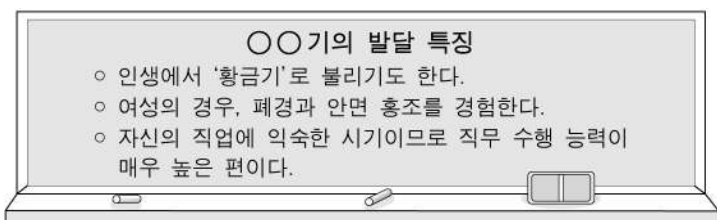
- ① ㄱ, ㄴ ② ㄱ, ㄷ ③ ㄴ, ㄷ
 ④ ㄴ, ㄹ ⑤ ㄷ, ㄹ

17. 다음은 호스피스 간호 일기이다. 큐블러로스가 제시한 '죽음 전의 심리적 변화' 중 ㉠, ㉡에 해당하는 심리 상태로 옳은 것은?



- | | | | |
|------|----|------|----|
| ㉠ | ㉡ | ㉠ | ㉡ |
| ① 부정 | 분노 | ② 부정 | 흥정 |
| ③ 분노 | 우울 | ④ 분노 | 흥정 |
| ⑤ 우울 | 부정 | | |

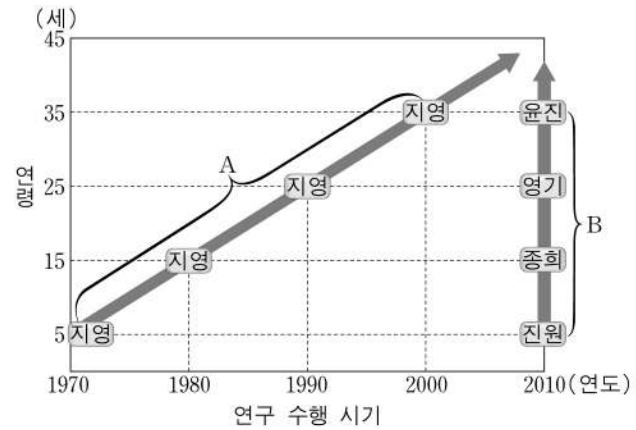
18. 다음은 ○○기의 발달 특징이다. 에릭슨의 심리 사회적 발달 이론에 근거하여 볼 때, 이 시기의 발달과업을 성취하기 위하여 기대되는 모습을 <보기>에서 고른 것은? [3점]



<보 기>
 ㄱ. 젊은 세대를 가르치고 지도한다.
 ㄴ. 자신의 인생을 통합적으로 수용한다.
 ㄷ. 직장과 지역 사회에 도움이 되는 일을 한다.
 ㄹ. 자기 주변 세계에 호기심을 갖고 적극적으로 탐색한다.

- ① ㄱ, ㄴ ② ㄱ, ㄷ ③ ㄴ, ㄷ
 ④ ㄴ, ㄹ ⑤ ㄷ, ㄹ

19. 다음은 두 가지 연구방법을 설명하는 그림이다. A, B 연구방법에 대한 설명으로 옳은 것만을 <보기>에서 있는 대로 고른 것은? (단, 지영은 동일 인물이다.) [3점]



<보 기>
 ㄱ. A 연구방법에서는 연습 효과의 영향이 나타날 수 있다.
 ㄴ. A 연구방법은 영아기에 관찰된 친사회성이 청소년기까지 지속되는지를 연구하는 데 적합하다.
 ㄷ. B 연구방법은 5세 유아들의 성별에 따른 공격성 차이를 연구하는 데 적합하다.
 ㄹ. A 연구방법은 B 연구방법보다 연구 수행 기간이 더 짧다.

- ① ㄱ, ㄴ ② ㄱ, ㄹ ③ ㄷ, ㄹ
 ④ ㄱ, ㄴ, ㄷ ⑤ ㄴ, ㄷ, ㄹ

20. 대화에 나타난 A, B 노인의 성격 유형으로 옳은 것은?



- | | |
|---------|-------|
| A 노인 | B 노인 |
| ① 자학형 | 성숙형 |
| ② 무장방어형 | 흔들의자형 |
| ③ 무장방어형 | 성숙형 |
| ④ 흔들의자형 | 무장방어형 |
| ⑤ 흔들의자형 | 성숙형 |

* 확인 사항
 ○ 답안지의 해당란에 필요한 내용을 정확히 기입(표기)했는지 확인 하시오.