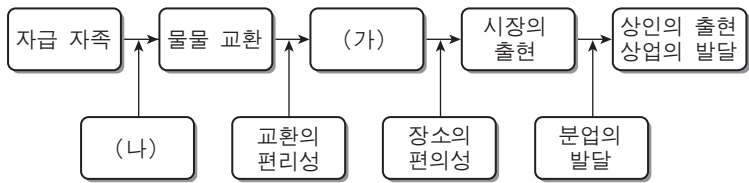


제 4 교시

직업탐구 영역(상업경제)

성명 수험 번호

1. 그림은 상업의 발달 과정과 동기를 나타낸 것이다. (가), (나)에 해당하는 내용으로 가장 적절한 것은?



- | | |
|------------|------------|
| (가) | (나) |
| ① 화폐의 출현 | 보관 기능의 발달 |
| ② 화폐의 출현 | 잉여 생산물의 발생 |
| ③ 도소매업의 발달 | 금융 기능의 발달 |
| ④ 도소매업의 발달 | 보관 기능의 발달 |
| ⑤ 도소매업의 발달 | 잉여 생산물의 발생 |

2. 다음은 ○○상품에 대한 매매 사례이다. 이에 대한 설명으로 옳은 것만을 <보기>에서 있는 대로 고른 것은?

△△씨가 발명한 ○○상품에 대한 매매를 10명의 CEO들이 참여한 가운데 진행자의 절차(구두 표현과 손짓 등)에 따라 진행하였다. 그 결과 1,000만 원의 매입 제시 가격으로 시작된 ○○상품은 150억 원을 제시한 CEO에게 최종 판매되었다.

<보기>

ㄱ. 경매 방법이 사용되었다.
 ㄴ. 매매 가격 결정 방법으로 적상법이 사용되었다.
 ㄷ. 완전 경쟁 시장에서 균형 가격으로 매매 가격이 결정되었다.

- ① ㄱ ② ㄷ ③ ㄱ, ㄴ
 ④ ㄴ, ㄷ ⑤ ㄱ, ㄴ, ㄷ

3. 다음은 인코텀즈 2000의 가격 조건과 관련된 무역 상담 사례이다. (가), (나)에 들어갈 조건으로 옳은 것은? [3점]

< 무역 상담 Q&A 게시판 >

• 질문자(ID:commerce)
 안녕하세요. 우리 회사는 수입업자로서 현재 수출업자의 공장에서 물품을 인수하는 (가) 가격 조건을 이용하고 있으나, 수출업자가 물품을 수입 통관하여 주는 (나) 가격 조건으로 변경하고자 합니다. 요즘은 무역업체의 실태는 어떠한지요?

• 답변(ID:economy)
 예, 여전히 CIF 가격 조건을 선호하고 있습니다.

- | | | | |
|-------|-----|-------|-----|
| (가) | (나) | (가) | (나) |
| ① EXW | DDU | ② EXW | DDP |
| ③ EXW | DAF | ④ FOB | DDU |
| ⑤ FOB | DDP | | |

4. 다음은 우리나라 기업들의 해외 진출 사례이다. (가)~(다)에 대한 설명으로 옳은 것만을 <보기>에서 있는 대로 고른 것은?

[3점]

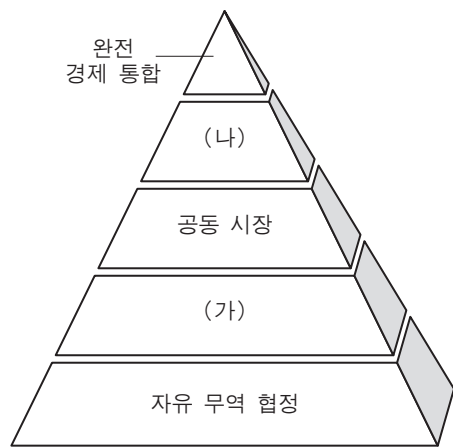
(가) A 기업은 베트남에 공장과 설비를 설치한 후 일정 기간 운영하고 발주자에게 양도하기로 하였다.
 (나) B 기업은 태국의 완제품에 대한 고율 관세를 피하기 위해 반제품으로 수출하고 현지에서 조립하기로 하였다.
 (다) C 기업은 필리핀 정부가 주문한 중화학 공업 분야의 공장을 건설해서 가동 직전까지 준비해 준 후 인도하기로 하였다.

<보기>

ㄱ. (가)에서 A 기업의 투자 대금은 운영 수익으로 회수한다.
 ㄴ. (나)는 플랜트 수출의 한 형태이다.
 ㄷ. (가)의 목적은 로열티 획득이고, (나)는 OEM 방식의 수출이다.

- ① ㄱ ② ㄷ ③ ㄱ, ㄴ
 ④ ㄴ, ㄷ ⑤ ㄱ, ㄴ, ㄷ

5. 그림은 경제 통합 단계를 나타낸 것이다. (가)에서 (나)의 단계로 이동했을 때 추가되는 내용으로 옳은 것을 <보기>에서 고른 것은?



<보기>

ㄱ. 회원국 간 관세를 철폐한다.
 ㄴ. 회원국 간 노동의 이동이 자유롭다.
 ㄷ. 비회원국에 대한 공동의 관세를 적용한다.
 ㄹ. 회원국 간 경제 정책의 협조, 조정 및 공동 경제 정책을 수립한다.

- ① ㄱ, ㄴ ② ㄱ, ㄷ ③ ㄴ, ㄷ
 ④ ㄴ, ㄹ ⑤ ㄷ, ㄹ

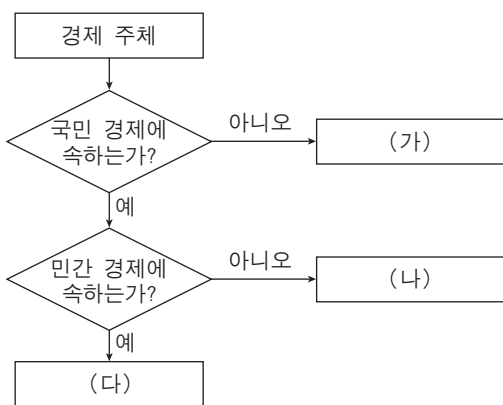
6. 표는 운송 수단의 특성에 따라 운송 수단의 유형을 구분한 것이다. (가), (나)에 대한 설명으로 옳은 것은?

운송 수단의 유형	철도 운송	(가)	해상 운송	(나)
속도(speed)	3	2	4	1
이용의 용이성(availability)	2	1	4	3
신뢰도(dependability)	2	1	3	4
수송 능력(capability)	2	3	1	4
단위당 비용(cost per ton/mile)	2	3	1	4

* 숫자 1은 가장 유리한 상황, 4는 가장 불리한 상황을 의미함.
- 임영균 외 2인, 『유통관리』 -

- ① (가)는 근거리 또는 중거리 운송에 적합하다.
- ② (나)는 철도 운송보다 운임이 저렴하다.
- ③ (나)는 해상 운송보다 1회 운송량 규모가 크다.
- ④ (가)는 (나)보다 날씨의 영향을 많이 받는다.
- ⑤ (나)는 (가)보다 door to door에 적합한 운송 수단이다.

7. 그림은 경제 주체를 구분한 것이다. (가)~(다)에 대한 설명으로 옳은 것을 <보기>에서 고른 것은?



<보기>

- ㄱ. (가)는 무역의 주체이다.
- ㄴ. (나)는 소비와 생산의 주체이다.
- ㄷ. (다)는 국민 복지 향상을 목적으로 한다.
- ㄹ. (나)는 (다)에게 조세를 납부한다.

- ① ㄱ, ㄴ ② ㄱ, ㄷ ③ ㄴ, ㄷ
- ④ ㄴ, ㄹ ⑤ ㄷ, ㄹ

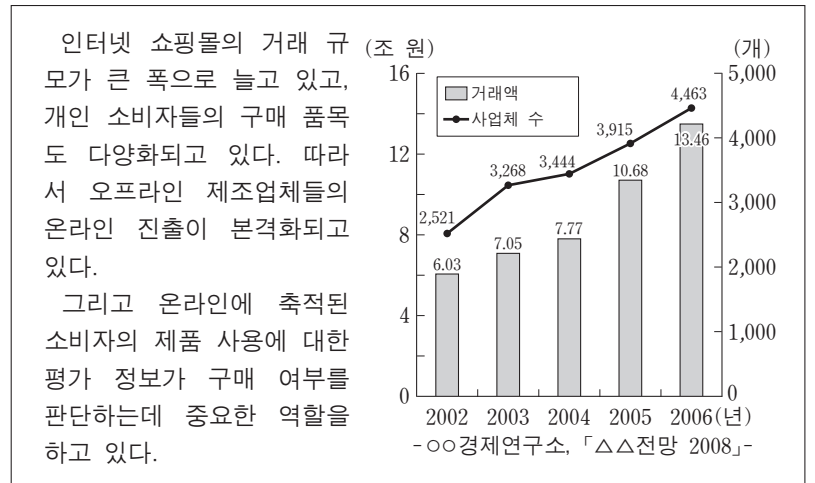
8. 다음은 방카슈랑스에 대한 설명이다. (가)에 들어갈 내용으로 가장 적절한 것은?

2003년부터 우리나라에서 시행된 방카슈랑스란 은행 등 금융 기관이 보험 회사와 제휴하여 대리점이나 중개사 자격을 겸하면서 보험 상품도 함께 팔 수 있도록 한 새로운 형태의 금융 서비스로 은행과 보험의 합성어이다.

방카슈랑스를 도입한 보험 회사는 은행 점포망을 통해 판매 채널을 확보함으로써 보험료를 인하할 수 있고 (가) 문제점도 해결할 수 있을 것으로 기대하고 있다.

- ① 보험 사고율이 점차 높아지는
- ② 영업 조직의 유지비가 많이 드는
- ③ 신속한 보험 사고 처리가 어려운
- ④ 보험 계약자들의 해약률이 높아지는
- ⑤ 보험 계약자의 계약 변경이나 해지가 불편한

9. 다음은 인터넷 쇼핑물의 성장 추이를 나타낸 것이다. 이와 같은 성장이 가능하게 된 배경을 추론한 것으로 적절한 것을 <보기>에서 고른 것은?



<보기>

- ㄱ. EDI를 통한 C2C 거래가 활성화되었을 것이다.
- ㄴ. 소비자의 긍정적인 제품 사용 후기가 늘어났을 것이다.
- ㄷ. 중간상의 발달로 인하여 거래 규모가 증가되었을 것이다.
- ㄹ. 소비자의 욕구를 충족시키기 위해 다양화된 전문 쇼핑몰들이 생겨났을 것이다.

- ① ㄱ, ㄴ ② ㄱ, ㄷ ③ ㄴ, ㄷ
- ④ ㄴ, ㄹ ⑤ ㄷ, ㄹ

10. 다음은 ○○기업의 영업 정책 계획서의 일부이다. 이를 통해 알 수 있는 내용으로 적절한 것을 <보기>에서 고른 것은? [3점]

영업 정책 계획서

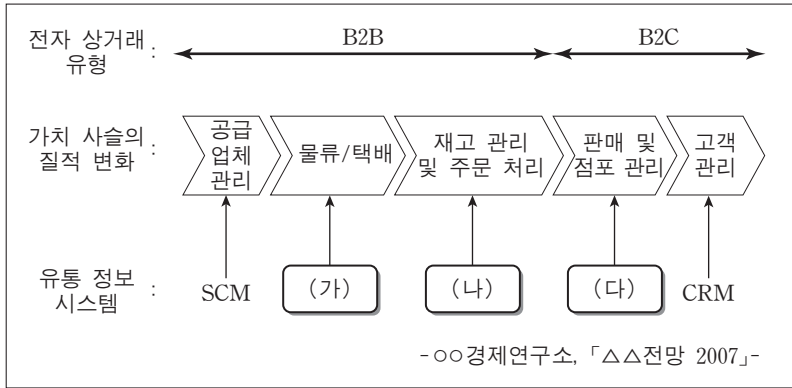
- 영업 목표 : 시장 점유율 확대
- 유통 정책 : 자사 상품의 시장 노출 극대화
- 판매 정책 :
 - 상품은 단일 모델로 대량 출시하며, 구매 충동 유발을 위한 점두 광고 활용
 - 소비자가 심리적으로 싸다고 느낄 수 있도록 가격 책정

<보기>

- ㄱ. 다양한 소비자의 욕구를 반영할 예정이다.
- ㄴ. 개방적 유통 경로 정책을 사용할 계획이다.
- ㄷ. 신문, 잡지 등의 대중 매체에 광고할 계획이다.
- ㄹ. 대량 생산을 통한 저가 판매 전략을 추진할 예정이다.

- ① ㄱ, ㄴ ② ㄱ, ㄷ ③ ㄴ, ㄷ
- ④ ㄴ, ㄹ ⑤ ㄷ, ㄹ

11. 그림은 유통업의 디지털 기술 활용 사례이다. (가)~(다)를 도입하였을 때 나타날 현상으로 적절한 것만을 <보기>에서 있는 대로 고른 것은? (단, CVO, EOS, POS에 한정한다.) [3점]

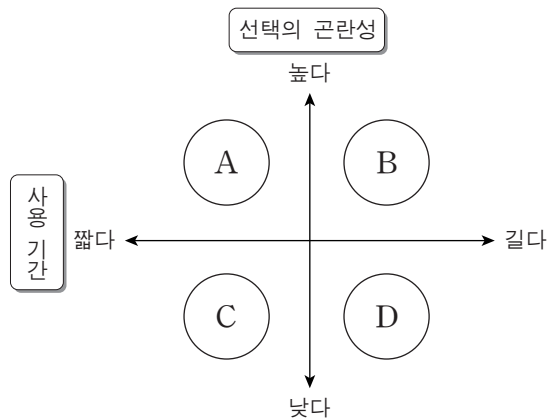


<보기>
 ㄱ. (가)는 배차 관리를 실시간으로 하여 공차율을 줄일 수 있다.
 ㄴ. (가)에서 생성된 정보는 (다)의 정보보다 최종 소비자 관리에 효과적으로 활용될 수 있다.
 ㄷ. (나)는 (다)의 정보를 기반으로 상품을 자동 주문 처리할 수 있다.

- ① ㄱ ② ㄴ ③ ㄱ, ㄷ
 ④ ㄴ, ㄷ ⑤ ㄱ, ㄴ, ㄷ

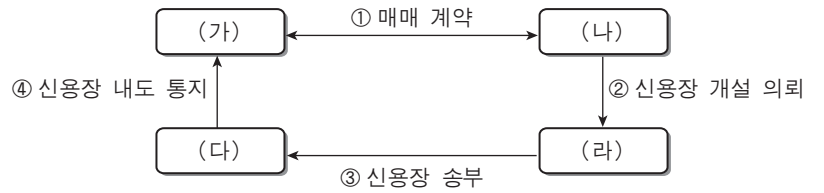
12. 다음 (가)~(라)의 사례에 나타난 소비재의 특성으로 적절한 것을 그림 A~D에서 고른 것은? (단, 제시된 소비재의 비교에 한정한다.)

(가) 값은 슈퍼마켓에서 아이스크림을 구매하였다.
 (나) 을은 자동차 대리점에서 승용차를 구매하였다.
 (다) 병은 철물점에서 가정용 공구 세트를 구매하였다.
 (라) 정은 한의원에서 30일분의 치료약을 구매하였다.



- | | (가) | (나) | (다) | (라) |
|---|-----|-----|-----|-----|
| ① | A | B | C | D |
| ② | A | C | B | D |
| ③ | C | B | A | D |
| ④ | C | B | D | A |
| ⑤ | D | C | A | B |

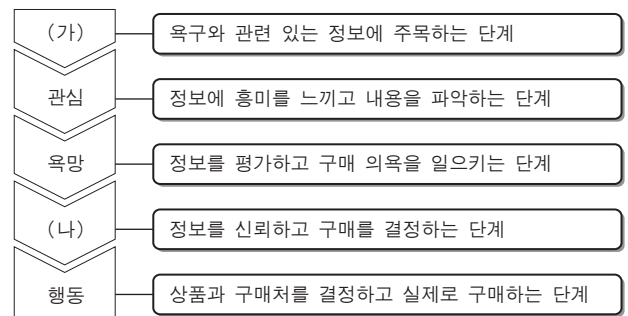
13. 그림은 신용장에 의한 대금 결제 과정의 일부이다. (가)~(라)에 대한 설명으로 옳은 것만을 <보기>에서 있는 대로 고른 것은? [3점]



<보기>
 ㄱ. (다)는 매입 은행의 기능을 수행할 수 있다.
 ㄴ. (가)는 수익자, (라)는 신용장의 대금 지급을 약속하는 은행이다.
 ㄷ. (나)가 (라)로부터 받는 운송 서류 중 물품을 대표하는 서류는 본선 수취증(M/R)이다.

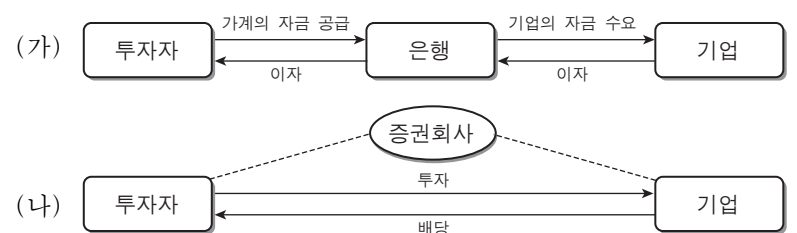
- ① ㄱ ② ㄷ ③ ㄱ, ㄴ
 ④ ㄴ, ㄷ ⑤ ㄱ, ㄴ, ㄷ

14. 다음은 소비자 구매 심리 과정에 대한 내용이다. (가), (나)의 단계에서 가장 높은 판매 촉진 효과를 나타내는 수단으로 적절한 것은? [3점]



- | (가) | (나) |
|---------|-------|
| ① 광고 | 홍보 |
| ② 광고 | 인적 판매 |
| ③ 할인 쿠폰 | 홍보 |
| ④ 할인 쿠폰 | 직접 우편 |
| ⑤ 할인 쿠폰 | 인적 판매 |

15. 그림은 기업의 자금 조달 방식을 구분한 것이다. (가), (나)에 대한 설명으로 옳은 것을 <보기>에서 고른 것은? [3점]



<보기>
 ㄱ. (가)의 투자자는 기업이 파산하면 원금을 보장받지 못한다.
 ㄴ. (가)의 투자자는 자기 자금이 투자된 기업을 알 수 있다.
 ㄷ. (가)의 투자자는 (나)의 투자자보다 수익률 변동이 작다.
 ㄹ. (가)의 기업이 조달한 자금은 타인 자본이고, (나)는 자기 자본이다.

- ① ㄱ, ㄴ ② ㄱ, ㄷ ③ ㄴ, ㄷ
 ④ ㄴ, ㄹ ⑤ ㄷ, ㄹ

16. 그림은 증권 시세 정보를 나타낸 것이다. (가), (나)에 대한 설명으로 옳지 않은 것은? (단, 증가를 기준으로 한다.)

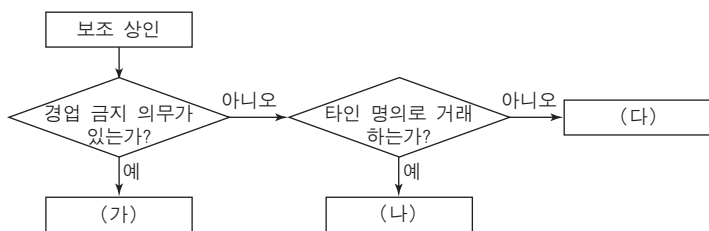
코스피 지수			코스닥 지수		
시가	1,391.80	▼7.35 -0.53%	시가	517.64	▼3.29 -0.63%
전일지수	1,399.15		전일지수	520.93	
고가	1,397.21	거래량(천주) 217,920	고가	520.75	거래량(천주) 460,870
저가	1,386.92	거래대금(백만) 1,876,442	저가	517.38	거래대금(백만) 1,120,496
총 915종목 상승↑5 상승▲226 하락▼518 하한가↓0			총 1,031종목 상승↑5 상승▲318 하락▼613 하한가↓3		

(가)

(나)

- ① (가) 시장에서 거래된 주식은 상장 기업의 주식이다.
- ② (가)의 코스피 지수는 1980년 1월 4일을 기준으로 13.918배 상승하였다.
- ③ (나) 시장에서 하루 가격 제한 폭까지 오른 종목 수는 5종목이다.
- ④ (가)와 (나) 시장에서 주식 매매는 경매매 방식으로 이루어진다.
- ⑤ (가)와 (나) 시장에서 거래되는 주식의 최저 매매 단위는 10주이다.

17. 그림은 경업 금지 의무와 거래상의 명의로 보조 상인을 구분한 것이다. (가)~(다)에 대한 설명으로 옳은 것은? [3점]



- ① (가)의 거래상 명의로는 자신의 명의로 한다.
- ② (가)는 거래 쌍방으로부터 수수료를 받는다.
- ③ (나)는 거래 기간이 일시적이다.
- ④ (다)는 거간이라고도 한다.
- ⑤ (나)는 불특정 다수, (다)는 특정인을 대상으로 거래를 한다.

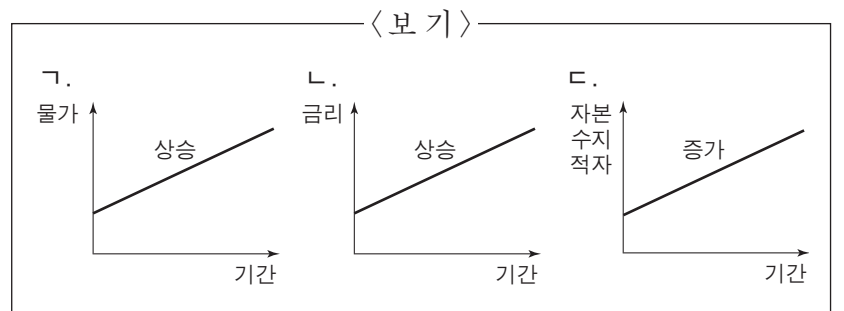
18. 그림은 수입상과 수출상의 대화 내용이다. 이에 나타난 품질 결정 방법에 대한 설명으로 적절한 것은?



- ① 견본 매매 방법을 의미한다.
- ② ISO, KS 등에 의해서 정해진 규격에 따라 거래한다.
- ③ 특정 기업의 상품임을 표시하는 방법에 의해 결정된다.
- ④ 상품의 종류, 치수 등의 내용을 기재한 서류에 의하여 결정하는 방법이다.
- ⑤ 외관상으로 품질을 정하기 어려운 상품에 적용되며 FAQ 방식도 있다.

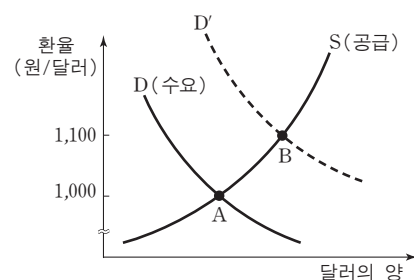
19. 다음은 한국은행이 발표한 통화 신용 정책 내용이다. 이와 같은 정책을 추진하게 된 경제 상황으로 적절한 것만을 <보기>에서 있는 대로 고른 것은? (단, 통화량만 고려한다.) [3점]

- 기준 금리를 현행 2%에서 2.5%로 조정
- 지급 준비율을 현행 10%에서 13%로 조정
- 채권 시장에서 기관 투자자에게 국채를 매각



- ① ㄱ
- ② ㄴ
- ③ ㄱ, ㄷ
- ④ ㄴ, ㄷ
- ⑤ ㄱ, ㄴ, ㄷ

20. 그래프는 환율이 결정되는 상황을 나타낸 것이다. 이에 대한 설명으로 옳은 것만을 <보기>에서 있는 대로 고른 것은? [3점]



- <보기>
- ㄱ. 수요 곡선이 D에서 D'로 이동하면 원화는 절하된다.
 - ㄴ. 달러의 수요와 공급이 일치하는 수준에서 환율이 결정된다.
 - ㄷ. 환율이 A에서 B로 이동하면 달러 보유자는 환차익을 얻는다.

- ① ㄱ
- ② ㄴ
- ③ ㄱ, ㄷ
- ④ ㄴ, ㄷ
- ⑤ ㄱ, ㄴ, ㄷ

* 확인 사항

- 답안지의 해당란에 필요한 내용을 정확히 기입(표기)했는지 확인하십시오.