

제 4 교시

# 직업탐구 영역(회계원리)

성명  수험 번호

1. 그림은 거래 요소의 결합관계에 대한 수업 장면이다. 선생님의 질문에 대한 답으로 옳은 것은?



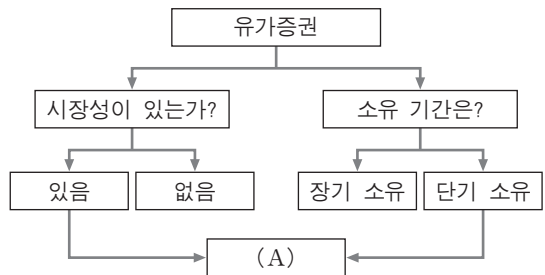
- ① 부채의 감소      ② 비용의 발생      ③ 수익의 소멸
- ④ 자본의 감소      ⑤ 자산의 증가

2. 다음은 ○○기업의 소액현금 사용 내역이다. 이를 회계 처리한 결과로 옳은 것은? (단, 소액현금은 월말 보고와 동시에 보급한다.) [3점]

( 7 )월 소액현금 사용 내역		
<b>1. 월초 내역</b>		
- 전월 이월액	₩200,000	₩200,000
<b>2. 소액현금 지출 내역</b>		
- 우편요금	₩15,000	
- 수도요금	35,000	
- 전화요금	20,000	
- 전기요금	30,000	
- 소모품 구입비	50,000	₩150,000
<b>3. 월말 내역</b>		
- 사용 후 잔액	₩50,000	
- 당좌수표 수령액	150,000	₩200,000

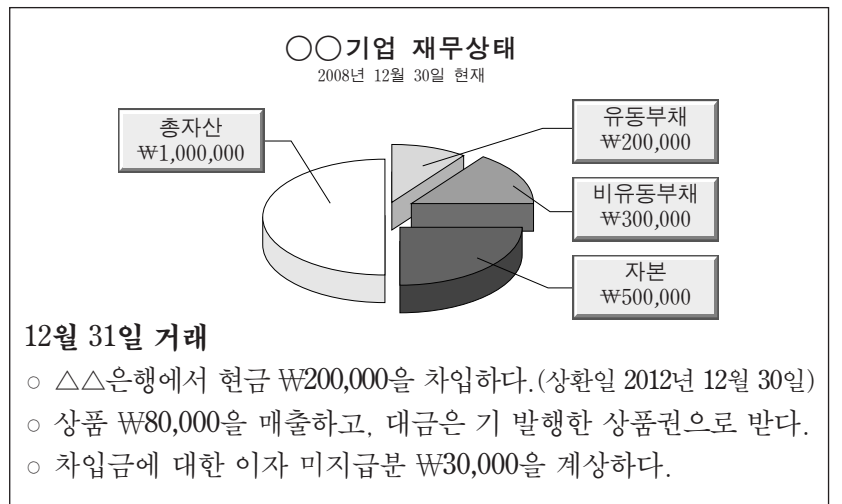
- ① 7월 1일 대변은 당좌예금 ₩200,000이다.
- ② 7월 31일 차변은 소액현금 ₩50,000이다.
- ③ 7월 31일 차변의 통신비는 ₩20,000이다.
- ④ 7월 31일 대변은 당좌예금 ₩200,000이다.
- ⑤ 7월 31일 차변의 수도광열비는 ₩65,000이다.

3. 다음은 유가증권 분류 방법의 일부이다. (A)의 계정과목으로 옳은 것은?



- ① 단기매매증권      ② 만기보유증권      ③ 매도가능증권
- ④ 장기금융상품      ⑤ 지분법적용투자주식

4. 다음 자료는 ○○기업의 재무상태와 거래를 나타낸 것이다. 제시된 거래를 회계 처리한 후 유동부채의 금액을 계산한 것으로 옳은 것은? [3점]



- ① ₩150,000      ② ₩230,000      ③ ₩320,000
- ④ ₩350,000      ⑤ ₩430,000

5. 다음은 ○○기업의 보험금 청구에 관한 거래를 기입한 분개장의 일부이다. (A)의 계정과목으로 옳은 것은? (단, 감가상각의 회계 처리는 직접법으로 한다.)

분개장				
(단위: 원)				
월일	적요	원면	차변	대변
8 19	(미결산) (차량운반구) △△보험회사에 도난 차량 보험금 청구	생략	5,000,000	5,000,000
27	(미수금) 제작 (미결산) (A) △△보험회사로부터 보험금 지급 통보		6,000,000	5,000,000 1,000,000

- ① 미수수익      ② 보험차익      ③ 외환차익
- ④ 자산수증이익      ⑤ 유형자산처분이익

6. 다음은 ○○기업의 상품 매입 관련 거래와 매입처 원장의 일부이다. (가)~(다)에 대한 내용으로 옳은 것만을 <보기>에서 있는 대로 고른 것은? [3점]

7/10 △△기업에서 상품을 매입하고 대금은 외상으로 하다.  
 갑상품 20개 @₩10,000 ₩200,000  
 단, 동점 부담의 운임 ₩20,000을 현금으로 지급하다.

13 7월 10일 매입한 상품 중 파손품 2개를 반품하다.

15 △△기업에서 상품을 매입하고 대금은 외상으로 하다.  
 갑상품 10개 @₩30,000 ₩300,000  
 단, 당점 부담의 운임 ₩30,000을 현금으로 지급하다.

7/13	(가)	20,000	7/1	전월이월	20,000
			10	매 입	(나)
			15	매 입	(다)

<보기>

ㄱ. (가)는 환입이다.  
 ㄴ. (나)는 ₩180,000이다.  
 ㄷ. (다)는 ₩300,000이다.

- ① ㄱ                      ② ㄷ                      ③ ㄱ, ㄴ
- ④ ㄴ, ㄷ                ⑤ ㄱ, ㄴ, ㄷ

7. 다음은 ○○기업이 집행한 지출결의서이다. 이를 회계 처리할 때 사용한 차변 계정과목과 동일한 계정과목을 발생시키는 거래로 옳은 것은?

과장	부장	사장
결재	인	인

매출처와의 지속적인 거래를 위하여 다음과 같이 필요 경비를 청구합니다.

- 다 음 -

- △△기업의 영업사원 식음료 지원비  
- 이십만 원(₩200,000)
- 기업의 영업사원 경조비  
- 10인, 삼십만 원(₩300,000). 끝.

2009년 9월 1일  
 청구인 홍길동

- ① 거래처 직원 회식비 ₩20,000을 지급하다.
- ② 거래처의 창고를 ₩2,000,000에 임차하다.
- ③ 거래처로부터 현금 ₩500,000을 차입하다.
- ④ 본사 직원들의 방한복 ₩500,000을 구입하다.
- ⑤ 본사의 사무실 냉방기기 ₩500,000을 구입하다.

8. 다음은 ○○기업의 사원이 제출한 출장비 정산서이다. 정산 후의 회계 처리로 옳은 것은?

1. 출장비 당좌수표 수령액		₩500,000
2. 출장비 지출액		
· 숙박비	₩200,000	
· 교통비	100,000	₩300,000
3. 출장비 잔액		
· 현금 반납		₩200,000

- ① (차변) 현금            200,000            (대변) 가지급금    200,000
- ② (차변) 가지급금    500,000            (대변) 당좌예금    500,000
- ③ (차변) 여비교통비   300,000            (대변) 가지급금    300,000
- ④ (차변) 여비교통비   300,000            (대변) 가지급금    500,000
- 현금            200,000
- ⑤ (차변) 여비교통비   300,000            (대변) 당좌예금    500,000
- 현금            200,000

9. 그림은 계정의 기입 방법에 대한 협동 학습 장면이다. 정화의 질문에 바르게 대답한 학생을 고른 것은?



- ① 미란, 바다            ② 미란, 영희            ③ 바다, 영희
- ④ 바다, 하늘            ⑤ 영희, 하늘

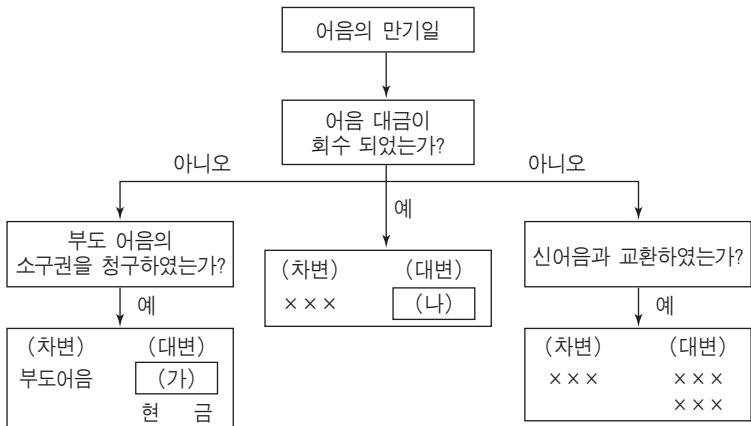
10. 다음은 ○○기업의 잔액시산표 일부와 감가상각 관련 내용을 나타낸 것이다. 제5기 결산 시 계상할 감가상각비 금액으로 옳은 것은? (단, 감가상각 방법은 정액법이다.) [3점]

○○기업                      2008년 12월 31일                      (단위: 원)			
차 변	원면	계 정 과 목	대 변
:		:	:
100,000		이 월 상 품	
5,000,000	생	건 물 감 가 상 각 누 계 액	500,000
2,100,000	락	차 량 운 반 구	
900,000		건 설 중 인 자 산	
		외 상 매 입 금	1,500,000

• 회계기간 : 제5기 2008.01.01 - 2008.12.31  
 • 건물 : 내용연수 10년, 잔존가액 ₩0  
 • 차량운반구 : 2008.01.01 취득, 내용연수 5년, 잔존가액 ₩100,000  
 • 건설 중인 자산의 완공 예정일 : 2010.12.31

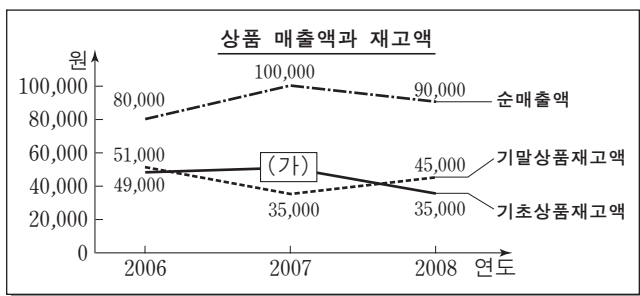
- ① ₩850,000            ② ₩870,000            ③ ₩900,000
- ④ ₩920,000            ⑤ ₩990,000

11. 다음은 매출채권인 어음 만기일의 회계 처리에 관한 내용이다. (가), (나)의 계정과목으로 옳은 것은? (단, 회수된 어음에 대한 이자는 없다.)



- |         |      |
|---------|------|
| (가)     | (나)  |
| ① 미수금   | 부도어음 |
| ② 받을어음  | 당좌예금 |
| ③ 받을어음  | 받을어음 |
| ④ 대손충당금 | 받을어음 |
| ⑤ 대손충당금 | 부도어음 |

12. 다음 자료는 ○○기업의 상품 매출액과 재고액 및 손익계산서의 일부이다. (가), (나)에 해당하는 금액으로 옳은 것은? [3점]



**손익계산서(보고식)**  
제3기 2008년 1월 1일부터 2008년 12월 31일까지  
○○기업 (단위: 원)

과 목	금 액
매 출 액	
매 출 원 가	
기 초 상 품 재 고 액	
당 기 매 입 액	60,000
기 말 상 품 재 고 액	
매 출 총 이 익	(나)

※기업회계기준서 제21호(2006.12.31. 이후 부터 시행) 전에는 손익계산서 과목란의 항목 구분 번호를 표기하였다.

- |           |         |
|-----------|---------|
| (가)       | (나)     |
| ① ₩45,000 | ₩20,000 |
| ② ₩49,000 | ₩20,000 |
| ③ ₩49,000 | ₩40,000 |
| ④ ₩51,000 | ₩20,000 |
| ⑤ ₩51,000 | ₩40,000 |

13. 다음은 개인회사인 ○○기업의 회계자료이다. 2007년과 2008년의 기말자본을 계산한 것으로 옳은 것은?

**수익·비용과 자본 변동** (단위: 원)

구분	2007년 12월 31일	2008년 12월 31일
총수익	2,000,000	3,000,000
총비용	1,200,000	1,900,000
추가출자	-	200,000
인출액	100,000	-

※2007년 기초자본은 ₩1,000,000이다.

- |              |            |
|--------------|------------|
| 2007년        | 2008년      |
| ① ₩1,000,000 | ₩2,300,000 |
| ② ₩1,700,000 | ₩2,600,000 |
| ③ ₩1,700,000 | ₩3,000,000 |
| ④ ₩1,800,000 | ₩2,600,000 |
| ⑤ ₩1,800,000 | ₩3,000,000 |

14. 다음은 ○○(주)의 감자에 관한 내용이다. 이를 회계 처리한 후 나타날 자본 변동을 설명한 내용으로 옳은 것은? (단, 주식매입 수수료는 없다.) [3점]

- 감자 주식 : 보통주 3,000주
- 주식액면가 : 1주당 ₩1,000
- 감자 방법 : 현금 매입 소각
- 매입가액 : 1주당 ₩900
- 감자 주식의 할인발행차금 미상각 잔액 : ₩100,000

- ① 자본금이 증가한다.
- ② 이익잉여금이 증가한다.
- ③ 자본잉여금이 증가한다.
- ④ 자본조정 금액은 변화가 없다.
- ⑤ 기타포괄손익누계액이 증가한다.

15. 다음은 ○○기업의 원천징수 납부에 관한 내용이다. 이를 회계 처리한 결과로 옳은 것만을 <보기>에서 있는 대로 고른 것은? [3점]

**원천징수 납부 내역서(3월 급여분)** (단위: 원)

구분	소득세	건강보험료		국민연금		납부액
		본인부담분	회사부담분	본인부담분	회사부담분	
성명	원천징수분					
홍길동	130,000	50,000	50,000	60,000	60,000	350,000
이영희	70,000	20,000	20,000	40,000	40,000	190,000
계	280,000	120,000	120,000	130,000	130,000	780,000

- < 보 기 > —
- ㄱ. 예수금 ₩530,000이 감소한다.
  - ㄴ. 복리후생비 ₩250,000이 발생한다.
  - ㄷ. 세금과공과 ₩410,000이 발생한다.


- |        |           |        |
|--------|-----------|--------|
| ① ㄱ    | ② ㄷ       | ③ ㄱ, ㄴ |
| ④ ㄴ, ㄷ | ⑤ ㄱ, ㄴ, ㄷ |        |

16. 다음 밑줄 친 ㉠, ㉡을 회계 처리할 때, 차변 계정과목으로 옳은 것은?

기업들이 직원들의 사기 진작과 기업 이미지 향상을 위하여 다양한 제도를 도입하고 있다.  
 회사 내에 마일리지 제도를 도입해 ㉠고객의 칭찬, 사내 업무 향상을 위한 제안, 봉사 활동 참여 등에 마일리지를 부여하고 누적된 마일리지에 따라 상품권 또는 현금을 지급하고 있다.  
 그 뿐만 아니라 ㉡당사의 판매용 상품을 요양원에 무상으로 지원해 주고 있다.

- |          |       |
|----------|-------|
| ㉠        | ㉡     |
| ① 복리후생비  | 매입    |
| ② 복리후생비  | 기부금   |
| ③ 현금성자산  | 매입    |
| ④ 현금성자산  | 복리후생비 |
| ⑤ 상품권선수금 | 기부금   |

17. 그림은 ○○기업의 결산 전 원장 잔액을 나타낸 것이다. 이에 근거하여 순손익을 계산한 것으로 옳은 것은?



- |               |               |
|---------------|---------------|
| ① 순손실 ₩5,000  | ② 순손실 ₩10,000 |
| ③ 순손실 ₩20,000 | ④ 순이익 ₩5,000  |
| ⑤ 순이익 ₩10,000 |               |

18. 다음은 ○○기업의 자산 처분에 관한 거래이다. 이를 모두 회계 처리한 결과가 재무제표에 미치는 영향으로 옳은 것은? [3점]

1/15 기계장치 1대를 ₩800,000에 처분하고 대금은 현금으로 받다. (취득원가 ₩1,500,000, 감가상각누계액 ₩800,000)  
 19 소유하고 있던 △△주식회사 주식 100주를 처분하고 대금은 당좌예입하다. (전기 말 공정가액 1주당 ₩15,000, 처분가액 1주당 ₩25,000)  
 20 전기 이월상품 1,000개(원가 @₩1,000)를 @₩500에 처분하고 대금은 외상으로 하다.

- ① 유동자산이 ₩800,000 증가한다.
- ② 당기순이익이 ₩600,000 증가한다.
- ③ 비유동자산이 ₩800,000 감소한다.
- ④ 영업외비용이 ₩500,000 증가한다.
- ⑤ 영업외수익이 ₩1,000,000 증가한다.

19. 그림은 결산 시 재고조사에 관한 대화이다. 이에 나타난 거래를 회계 처리한 결과로 옳은 것은? [3점]



- ① 매출원가가 감소한다.
- ② 영업비용이 감소한다.
- ③ 영업외비용이 증가한다.
- ④ 판매비와관리비가 증가한다.
- ⑤ 재고자산평가이익이 발생한다.

20. 다음은 ○○기업의 상품매출 거래를 잘못 기입한 전표이다. 이를 <수정 전표>와 같이 수정할 때, (가)~(다)의 계정과목으로 옳은 것은? (단, 상품매매의 기장은 3분법이고, 전표 훼손은 없다.) [3점]

8월 5일 △△유통에 상품 ₩300,000(100개, @₩3,000)을 매출하고, 부가가치세 10%를 포함한 대금은 외상으로 하다. 단, 거래처 부담 운임 ₩5,000은 현금으로 지급하다.

대체전표	
2009년 8월 5일	
외상매출금 335,000	매출 335,000

<수정 전표>

출금전표		대체전표	
2009년 8월 5일		2009년 8월 5일	
(가) 5,000		(나) 30,000	(다) 30,000

- |         |       |          |
|---------|-------|----------|
| (가)     | (나)   | (다)      |
| ① 매출    | 매출    | 부가가치세대금금 |
| ② 매출    | 매출    | 부가가치세예수금 |
| ③ 운반비   | 매출    | 부가가치세예수금 |
| ④ 운반비   | 외상매출금 | 부가가치세대금금 |
| ⑤ 외상매출금 | 외상매출금 | 부가가치세대금금 |

\* 확인 사항  
 ○ 답안지의 해당란에 필요한 내용을 정확히 기입(표기)했는지 확인하십시오.