

2007학년도 대학수학능력시험 문제지

제 4 교시

직업탐구 영역(상업경제)

성명  수험 번호

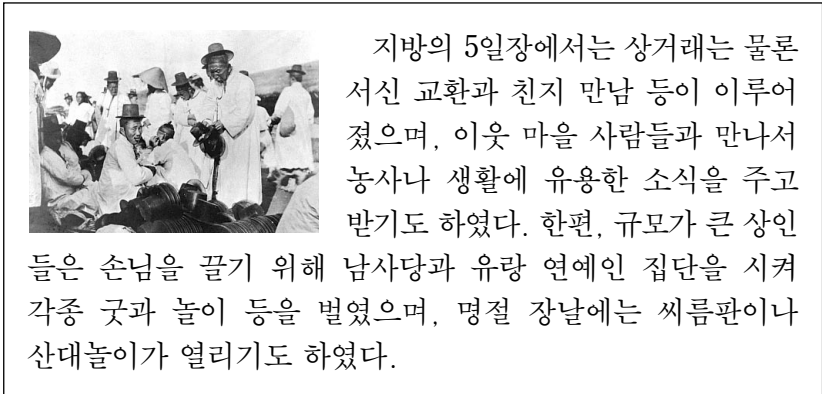
- 자신이 선택한 과목의 문제지인지 확인하십시오.
- 문제지에 성명과 수험 번호를 정확히 써 넣으십시오.
- 답안지에 성명과 수험 번호를 써 넣고, 또 수험 번호와 답을 정확히 표시하십시오.
- 과목을 선택한 순서대로 풀고, 답은 답안지의 '제1선택'란에서부터 차례대로 표시하십시오.
- 문항에 따라 배점이 다르니, 각 물음의 끝에 표시된 배점을 참고하십시오. 3점 문항에만 점수가 표시되어 있습니다. 점수 표시가 없는 문항은 모두 2점입니다.

1. 다음은 터널 개통식 뉴스 장면이다. (가)에 들어갈 내용으로 가장 적절한 것은?



- ① 금융 비용
- ② 홍보 비용
- ③ 물적 유통 비용
- ④ 연구 개발 비용
- ⑤ 정보 통신 비용

2. 다음은 조선시대 장터에 관한 내용이다. 이와 관련된 설명으로 옳지 않은 것은?



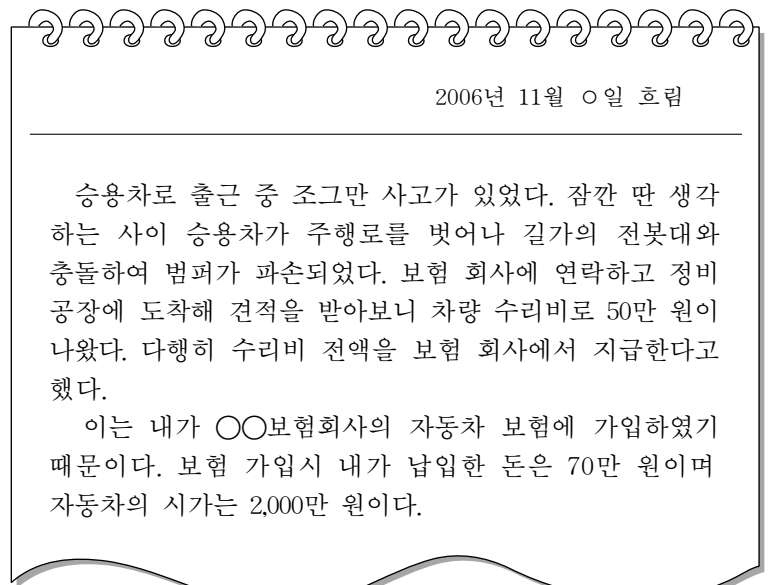
- ① 장터는 추상적 시장이었다.
- ② 장터는 유통 기능을 하였다.
- ③ 장터는 문화적 기능을 하였다.
- ④ 장터에서는 정보 교환이 이루어졌다.
- ⑤ 장터의 상인들은 판촉 활동을 하였다.

3. 다음 퍼즐에서 가로 (가)에 들어갈 해외 시장 진입 방식에 대한 설명으로 옳은 것은?

가로 (가) 특허권, 노하우 등의 사용을 허락해 주고 대가를 받는다.						
			프			
			랜			
			차			
	(가)	이				
		징				

- ① 유형 무역에 해당된다.
- ② 로열티 수입을 목적으로 한다.
- ③ 대가로 받은 금액은 상품 수지에 포함된다.
- ④ 대상 기업에 대한 직접 경영 참가를 목적으로 한다.
- ⑤ 국제 경영 능력이 풍부한 경우에 주로 이용되는 방식이다.

4. 다음 일기에 나타난 보험 관련 내용에 대한 설명으로 옳은 것을 <보기>에서 고른 것은?

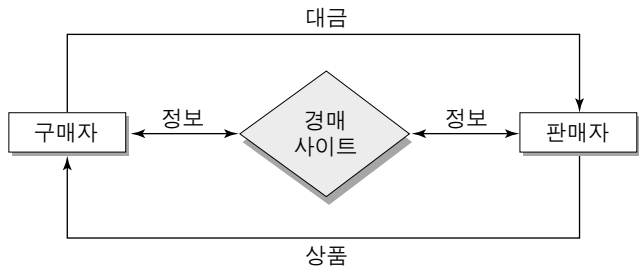


- <보기> —
- ㄱ. ○○보험회사는 보험자이다.
  - ㄴ. 차량 수리비 50만 원은 보험 가액이다.
  - ㄷ. 자동차의 시가 2,000만 원은 보험금이다.
  - ㄹ. 보험 회사에 납입한 70만 원은 보험료이다.

- ① ㄱ, ㄴ
- ② ㄱ, ㄷ
- ③ ㄴ, ㄷ
- ④ ㄴ, ㄹ
- ⑤ ㄷ, ㄹ

# 2 직업탐구 영역 (상업경제)

5. 그림과 같은 형태의 인터넷 경매 사이트에 대한 설명으로 옳은 것을 <보기>에서 고른 것은?



<보기>

ㄱ. 점포형 소매상의 일종이다.  
 ㄴ. 사이트 운영자는 주로 매매 차익을 목적으로 한다.  
 ㄷ. 전통적인 경매 방식보다 시간적·공간적 제약이 적다.  
 ㄹ. 사이트 운영자와 이용자들은 정보 통신 윤리를 준수해야 한다.

- ① ㄱ, ㄴ                      ② ㄱ, ㄹ                      ③ ㄴ, ㄷ  
 ④ ㄴ, ㄹ                      ⑤ ㄷ, ㄹ

6. 다음과 같은 내용으로 거래를 하는 경우, 수출자에게 가장 유리한 가격 조건인 것은? [3점]

수 출 자 : ○○자동차(주)  
 수 입 자 : ABC Motors  
 상 품 명 : 승용차(모델 X-6)  
 수 량 : 100대  
 거래 단가 : 대당 US \$ 25,000

- ① CFR                      ② CIF                      ③ DDP  
 ④ EXW                      ⑤ FOB

7. 다음은 ○○음료(주)의 신제품 판매 동향 보고서이다. 이 기업이 가장 중점을 두어야 할 대책으로 적절한 것은?

신제품 판매 동향 보고서

□ 요약

대상 제품 : 새로 개발한 △△음료수  
 영업 활동 : 시장에 판매하면서 동시에 대규모 TV 광고 실시  
 판매 실적 : 예상 판매 목표의 30%미만으로 매우 부진함  
 원인 분석 : 조사 결과 소비자들이 우리 브랜드를 잘 알고 있지만, 독특한 향을 싫어하기 때문에 판매 실적이 부진한 것으로 밝혀짐

○○음료(주) 영업부장    홍길동

- ① 제품 특성을 개선한다.  
 ② 판매 가격을 인하한다.  
 ③ 판매 점포를 확대한다.  
 ④ 홍보 자료를 배포한다.  
 ⑤ TV 광고 횟수를 늘린다.

8. 다음은 주식 시세표의 일부이다. 이에 대한 설명으로 옳은 것은? [3점]

○○신문                      2006년 ○월 ○일			
코스닥 지수			
568.25 +12.77P (+2.30%) ▲			
종 목	종 가	전일비	거래량
A 은행	6,120	▲ 120	650
B 통신	10,600	▽ 100	400
C 섬유	4,235	▲ 135	170
D 무역	11,500	↑ 1,500	1,000

- ① A 은행의 어제 종가는 5,470원이다.  
 ② B 통신의 오늘 거래 최저가를 알 수 있다.  
 ③ C 섬유의 오늘 거래 가격 변동폭을 알 수 있다.  
 ④ D 무역의 주가는 가격 제한폭까지 상승하였다.  
 ⑤ 코스닥 시장의 모든 종목이 2.3%씩 상승하였다.

9. 다음 글에서 밑줄 친 매입 방법의 특성에 해당하는 것을 <보기>에서 고른 것은? [3점]

청과물 가게를 개업한 철수는 상품의 특성상 산지에서 직접 배달이 가능한 거래처를 선정하였다. 또한 상품의 신선도를 고려해서 필요할 때마다 수시로 매입하는 방법을 채택하였다.

<보기>


ㄱ. 상품 회전이 빠른 편이다.  
 ㄴ. 보관 비용이 많이 소요된다.  
 ㄷ. 매입시 가격 할인을 받는데 유리하다.  
 ㄹ. 시세 하락시 재고 누적에 의한 손실 위험이 적다.

- ① ㄱ, ㄴ                      ② ㄱ, ㄹ                      ③ ㄴ, ㄷ  
 ④ ㄴ, ㄹ                      ⑤ ㄷ, ㄹ

10. 다음 판례에서 (가)에 해당하는 보조 상인에 대한 설명으로 옳은 것은? [3점]

“어떤 자가 제조 회사와 대리점 총판 계약이라고 하는 명칭의 계약을 체결하였다고 하여 곧바로 상법 제87조의 ( 가 ) 으로 되는 것은 아니고, 그 계약 내용을 실질적으로 살펴 ( 가 ) 인지의 여부를 판단하여야 하는바, ...” <하략>

-「대법원 판례」-

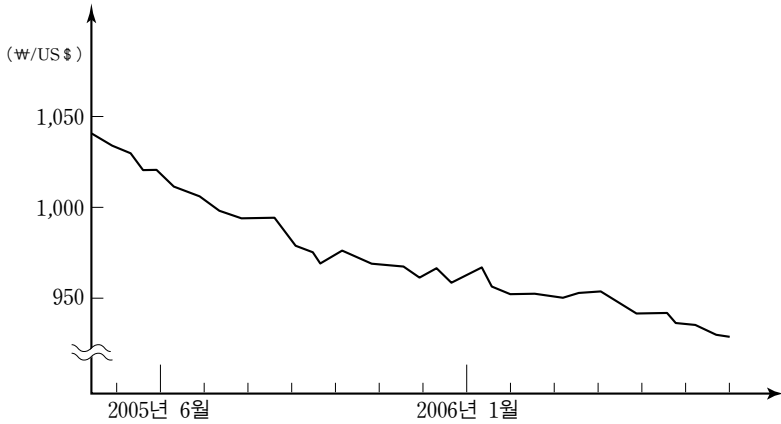


- ① 거래 기간이 일시적이다.  
 ② 자기 명의로 상품을 매매한다.  
 ③ 거래가 이루어진 각 당사자로부터 보수를 받는다.  
 ④ 상업 사용인이 아니면서 일정한 상인을 위하여 일한다.  
 ⑤ 임의로 동종 영업을 하는 다른 회사의 이사가 될 수 있다.

(상업경제)

직업탐구 영역

11. 그래프와 같은 환율 추세가 지속된다고 가정할 때, 합리적인 경제 행위에 해당하는 것을 <보기>에서 고른 것은? (단, 외화는 미 달러화이며, 환율 이외의 요인은 고려하지 않는다.) [3점]



<보기>

- ㄱ. 보유하고 있는 외화의 환전은 최대한 늦춘다.
- ㄴ. 해외 송금을 하기 위한 환전은 최대한 늦춘다.
- ㄷ. 해외 출장 후 남은 외화는 귀국 즉시 원화로 바꾼다.
- ㄹ. 수입 대금을 지불하기 위한 환전은 가능한 일찍 한다.

- ① ㄱ, ㄴ                      ② ㄱ, ㄹ                      ③ ㄴ, ㄷ
- ④ ㄴ, ㄹ                      ⑤ ㄷ, ㄹ

12. 다음 글에서 밑줄 친 곤충에 비유할 수 있는 기업을 <보기>에서 모두 고른 것은?

후기 공룡의 화석이 툰드라 지대처럼 열악한 지역에서 발견되는 이유는 그들이 따뜻한 곳의 숲을 다 먹어치워서 황폐화되자, 추운 북쪽까지 먹이를 찾아 옮겨가야 했기 때문이다. 이에 반해, 공룡보다 훨씬 약한 존재였던 곤충들은 자기에게 먹이를 대어주는 현화 식물\*을 위해 가루받이를 해줌으로써 곤충과 현화 식물 모두가 번성하게 된 것이다.

\* 현화 식물 : 꽃이 피는 식물

—윤석철, 『경영경제인생 45강좌』—

<보기>

- ㄱ. 친환경적인 경영 활동에 중점을 두는 기업
- ㄴ. 고객 만족을 위해 소비자 상담실을 운영하는 기업
- ㄷ. 하청 업체에게 납품 단가를 대폭 인하하도록 요구하는 기업

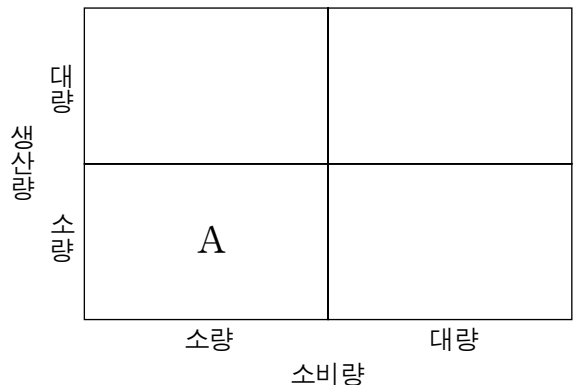
- ① ㄱ                              ② ㄷ                              ③ ㄱ, ㄴ
- ④ ㄴ, ㄷ                      ⑤ ㄱ, ㄴ, ㄷ

13. 다음 대화에서 김 대리가 작성해야 할 유가 증권에 해당하는 것은? [3점]



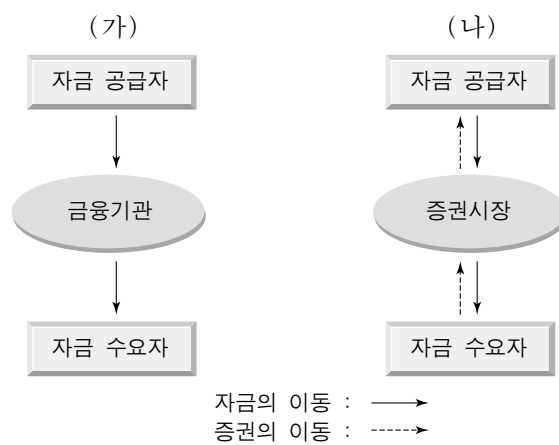
- ① 보험 증권                      ② 상업 송장
- ③ 선화 증권                      ④ 화환 어음
- ⑤ 수출 신고 필증

14. 그림은 생산량과 소비량을 기준으로 유통 경로를 구분한 것이다. A에 해당하는 유통 경로에 대한 설명으로 가장 적절한 것은?



- ① 가장 단순한 유통 경로이다.
- ② 신발, 치약, 라면 등의 유통이 해당된다.
- ③ 유통 경로에 수집, 중계 및 분산 기관을 필요로 한다.
- ④ 기업 간에 공업용 원재료를 거래하는 유통 경로이다.
- ⑤ 수집한 원료를 공장에서 가공하기 위한 유통 경로이다.

15. 다음 (가)와 (나)는 서로 다른 형태의 자금 흐름을 나타낸 것이다. 이에 대한 설명으로 옳지 않은 것은? [3점]



- ① 은행 대출을 통한 자금 조달은 (가)에 해당한다.
- ② 사업 확장을 위한 사채 발행은 (나)에 해당한다.
- ③ (가)에서의 금융 거래는 간접 금융에 해당한다.
- ④ 주식 발행을 통한 자금의 조달은 (나)에 해당한다.
- ⑤ 자금을 회수하지 못할 위험은 (가)의 경우가 더 크다.

# 4 직업탐구 영역 (상업경제)

16. 다음은 금융통화위원회의 회의 장면이다. (가)에 들어갈 수 있는 통화 정책으로 가장 적절한 것은? [3점]



- ① 재할인율을 인하
- ② 국·공채를 매입
- ③ 화폐를 추가 발행
- ④ 지급 준비율을 인하
- ⑤ 콜 금리를 현 수준에서 유지

17. 다음 자료는 A, B 두 가구점의 판매 가격 구성 요소이다. 두 상점 간 마진(이폭)의 차액은? [3점]

A 가구점		B 가구점	
○ 매 입 가 격	₩ 5,000,000	○ 매 입 가 격	₩ 5,000,000
○ 매 입 운 임	₩ 100,000	○ 매 입 운 임	₩ 80,000
○ 종업원 급료	₩ 280,000	○ 영 업 비	₩ 180,000
○ 광 고 비	₩ 80,000	○ 희 망 이 익	₩ 600,000
○ 희 망 이 익	₩ 500,000		

- ① ₩ 80,000                      ② ₩ 100,000                      ③ ₩ 120,000
- ④ ₩ 200,000                      ⑤ ₩ 280,000

18. 다음 글에 나타난 결제 방법에 관한 설명으로 옳은 것을 <보기>에서 고른 것은?

한국에서는 가맹 은행이 제공한 칩을 내장한 휴대 전화가 이미 지갑의 역할을 하기도 한다. 이러한 휴대 전화를 가진 고객이 물건을 사면서 이 전화기로 결제하면 고객의 계좌에서 바로 돈이 자동으로 인출된다.  
-앨빈 토플러, 『부의 미래』-

— <보기> —

ㄱ. 후불 결제 방식이다.  
 ㄴ. 전자 지불의 일종이다.  
 ㄷ. 신용 카드형 지불 방식이다.  
 ㄹ. 정보 통신 기술을 응용한 것이다.

- ① ㄱ, ㄴ                      ② ㄱ, ㄷ                      ③ ㄱ, ㄹ
- ④ ㄴ, ㄷ                      ⑤ ㄴ, ㄹ

19. 표는 타이어에 대한 관세율 및 수출입공고의 일부이다. 이에 관한 설명으로 옳은 것을 <보기>에서 고른 것은? [3점]

품목 번호	품 명	관세율(%)	수입 요령
4011-20-1010	버스용 타이어	8	
4011-30-0000	항공기용 타이어	5	한국우주산업진흥협회의 승인을 받아야 수입할 수 있음

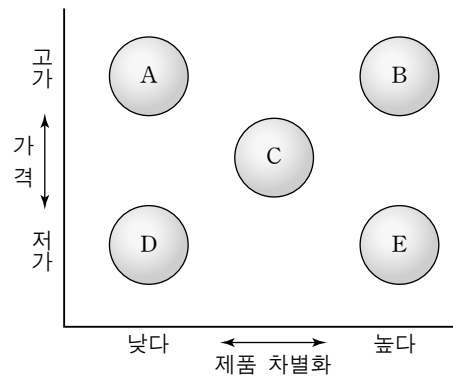
— <보기> —

ㄱ. 버스용 타이어에는 수입 승인제가 적용된다.  
 ㄴ. 버스용은 항공기용보다 수입 관세 장벽이 높다.  
 ㄷ. 항공기용 타이어에는 수입 할당제가 적용된다.  
 ㄹ. 항공기용 타이어 수입에는 비관세 장벽이 있다.

- ① ㄱ, ㄴ                      ② ㄱ, ㄷ                      ③ ㄴ, ㄷ
- ④ ㄴ, ㄹ                      ⑤ ㄷ, ㄹ

20. 다음은 ○○전자(주)가 채택한 국제 경영 전략이다. 이에 해당하는 것을 그림에서 고른 것은?

○○전자(주)는 2001년에 100% 단독 투자하여 인도에 가전 제품 생산 공장을 설립하였다. 전 세계적으로 똑같은 제품을 인도에서도 그대로 판매하는 S사와 달리, 이 회사는 현지 시장의 사정에 맞는 제품을 개발해서 판매하였다. 또한 경쟁 제품에 비해 품질이 우수하다고 인식하도록 하기 위해 비싸게 파는 전략을 택하였는데, 이것이 적중해서 높은 매출액을 달성 하였다.



- ① A                                      ② B                                      ③ C
- ④ D                                      ⑤ E

\* 확인 사항  
 ○ 답안지의 해당란에 필요한 내용을 정확히 기입(표기)했는지 확인 하시오.