

2007학년도 대학수학능력시험 문제지


제 4 교시

직업탐구 영역(회계원리)

성명 수험 번호

- 자신이 선택한 과목의 문제지인지 확인하시오.
- 문제지에 성명과 수험 번호를 정확히 써 넣으시오.
- 답안지에 성명과 수험 번호를 써 넣고, 또 수험 번호와 답을 정확히 표시하시오.
- 과목을 선택한 순서대로 풀고, 답은 답안지의 '제1선택'란에서부터 차례대로 표시하시오.
- 문항에 따라 배점이 다르니, 각 물음의 끝에 표시된 배점을 참고하시오. 3점 문항에만 점수가 표시되어 있습니다. 점수 표시가 없는 문항은 모두 2점입니다.

1. 그림은 거래 요소의 결합 관계에 대한 수업 장면이다. 선생님의 질문에 대한 답으로 옳은 것은?



- ① 급여 ₩80,000을 현금으로 지급하다.
- ② 현금 ₩70,000을 거래 은행에 당좌예입하다.
- ③ 6개월 분 임대료 ₩30,000을 현금으로 받다.
- ④ 상품 ₩50,000을 매입하고 대금은 외상으로 하다.
- ⑤ 업무용 책상 ₩20,000을 구입하고 대금은 월말에 지급하기로 하다.

2. 다음은 ○○주식회사의 단기매매증권과 관련된 거래 내역이다. 이에 대한 설명으로 옳은 것을 <보기>에서 모두 고른 것은?

구분	취 득	처 분	평 가
일자	2005년 12월 12일	2005년 12월 19일	2005년 12월 31일
수량	A사 보통주 100주	A사 보통주 50주	A사 보통주 50주
금액	₩4,000,000	₩1,950,000	₩2,200,000

<보기>

- ㄱ. 1주당 취득원가는 ₩40,000이다.
- ㄴ. 단기매매증권처분손실은 ₩250,000이다.
- ㄷ. 단기매매증권평가이익은 ₩200,000이다.

- ① ㄱ ② ㄴ ③ ㄱ, ㄷ
- ④ ㄴ, ㄷ ⑤ ㄱ, ㄴ, ㄷ

3. 다음 (가)~(다)의 거래를 분개할 때 차변 계정과목에 해당하는 것을 바르게 짝지은 것은?

- (가) 신축 중인 건물의 공사 대금 5억 원을 현금으로 지급하다.
- (나) 투자 목적으로 건물을 취득하고, 그 대금 10억 원을 현금으로 지급하다.
- (다) 업무용 건물을 취득하고, 그 대금 15억 원을 당좌수표를 발행하여 지급하다.

- | | (가) | (나) | (다) |
|----------|--------|--------|-----|
| ① 건물 | 투자부동산 | 건설중인자산 | |
| ② 투자부동산 | 건물 | 건설중인자산 | |
| ③ 투자부동산 | 건설중인자산 | 건물 | |
| ④ 건설중인자산 | 건물 | 투자부동산 | |
| ⑤ 건설중인자산 | 투자부동산 | 건물 | |

4. 그림은 상품 매출에 관한 내용이다. 10월 28일 현재의 순매출액으로 옳은 것은? (단, 운반비는 당점 부담임) [3점]



- ① ₩450,000 ② ₩480,000 ③ ₩500,000
- ④ ₩520,000 ⑤ ₩550,000

5. 다음의 밑줄 친 부분을 회계 처리할 때 사용하는 계정과목으로 옳은 것은? [3점]

신기술 개발로 기업 가치 상승

△△공단에 입주한 기업들이 기술 개발을 위해 쏟아 넣는 금액은 1년에 5천억 원을 넘는다. 이 공단 상공인협회 홍보담당이사는 “신기술 개발에 많은 금액을 투입하여 상업화에 성공한 기업들은 소비자들의 욕구를 충실히 반영한 제품을 생산하여 판매하기 때문에 엄청난 기업 가치를 올리고 있다.” 고 했다.

(이하 생략)
-○○신문, 2006. 10. 17.-

- ① 개발비 ② 연구비 ③ 영업권
- ④ 저작권 ⑤ 경상개발비

2 직업탐구 영역 (회계원리)

6. 다음 매출처원장을 이용하여 산출한 외상매출금 미회수액으로 옳은 것은? [3점]

매출처원장			
갑회사			
10/ 1 전월이월	100,000	10/14 현 금	150,000
10/10 매 출	300,000		
을회사			
10/ 1 전월이월	50,000	10/ 9 현 금	50,000
10/ 7 매 출	200,000		

- ① ₩200,000 ② ₩250,000 ③ ₩450,000
 ④ ₩500,000 ⑤ ₩650,000

7. 다음 대화에 나타난 거래의 회계 처리 결과로 옳은 것을 <보기>에서 고른 것은?



— <보기> —
 가. 부채의 증가 나. 자본의 증가
 다. 자산의 증가 르. 영업이익의 증가

- ① 가, 나 ② 가, 다 ③ 나, 르
 ④ 나, 르 ⑤ 다, 르

8. 다음에서 사원의 대답에 대한 근거가 되는 재무제표로 옳은 것은?

투자자 : 오늘 신문에서 상반기 영업실적이 부진했다는 기사를 읽었는데 사실입니까?
 사 원 : 네, 매출이 다소 부진하여 영업이익이 감소한 것은 사실이지만, 보유하고 있던 유가증권을 처분하여 상당한 시세차익을 얻었습니다. 그래서 금년도 상반기 경영성과는 전년도 상반기에 비해 다소 개선되었습니다.

- ① 대차대조표 ② 손익계산서
 ③ 현금흐름표 ④ 결손금처리계산서
 ⑤ 이익잉여금처분계산서

9. 다음은 본사 건물의 감가상각에 관한 내용이다.

- 취득일 : 2006년 1월 1일
- 취득 원가 : 20억 원
- 내용 연수 : 10년
- 잔존 가액 : 1억 원
- 감가상각 방법 : 정액법
- 결산일 : 매년 12월 31일

위 감가상각 방법 대신 정률법을 적용할 때 2006년의 결산 재무제표에 나타날 차이를 <보기>에서 고른 것은? (단, 정률법의 상각율은 25.9%임) [3점]

— <보기> —
 가. 당기순이익의 증가 나. 영업외비용의 감소
 다. 건물 장부가액의 감소 르. 판매비와관리비의 증가

- ① 가, 나 ② 가, 다 ③ 나, 르
 ④ 나, 르 ⑤ 다, 르

10. 다음은 ○○주식회사 업무 일지의 일부이다. A와 B를 회계 처리할 때 사용하는 계정과목을 바르게 짝지은 것은?

업 무 일 지		
작성자 : 홍길동		
일자	2006년 10월 25일 수요일	비고
업 무 내 용	1. 위문 행사 가. 시간 : 10:00 ~ 13:00(3시간) 나. 장소 : △△양로원 다. 내용 : 방한복 기증 라. 비용 : 5백만 원 ← A	
	2. 홍보 행사 가. 시간 : 16:00 ~ 18:00(2시간) 나. 장소 : 전국 주요 도시 다. 내용 - 제품 판매 촉진 거리 홍보 - 고급 이어폰 무료 증정 라. 비용 : 1천만 원 ← B	

- A B
 ① 기부금 접대비
 ② 기부금 광고선전비
 ③ 접대비 기부금
 ④ 접대비 광고선전비
 ⑤ 광고선전비 기부금

(회계원리)

직업탐구 영역

11. 다음에서 (가)로 해야 할 분개를 (나)로 했을 때 나타나는 현상으로 옳은 것은? [3점]

〈거래〉
업무용 차량운반구가 고장이 나서 원상 회복을 위해 수리하고, 그 대금 ₩500,000을 현금으로 지급하다.

〈분개〉
(가) 옳은 분개
(차변) 수 선 비 500,000 (대변) 현 금 500,000

(나) 옳지 않은 분개
(차변) 차량운반구 500,000 (대변) 현 금 500,000

- ① 부채의 과대 계상 ② 비용의 과소 계상
- ③ 수익의 과대 계상 ④ 자본의 과소 계상
- ⑤ 자산의 과소 계상

12. 다음 분개장에 기입된 거래에 대한 설명으로 옳은 것을 <보기>에서 고른 것은?

분개장

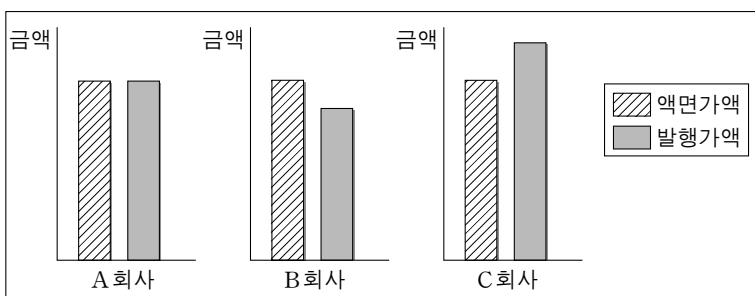
월	일	적요	원면	차변	대변
7	28	제좌 (현금) (수도광열비) (세금과공과) 수도요금과 자동차세 현금 지급	생략	70,000 30,000	100,000

〈보기〉

ㄱ. 교환 거래이다.
ㄴ. 손익 거래이다.
ㄷ. 자산을 증가시킨다.
ㄹ. 당기순이익을 감소시킨다.

- ① ㄱ, ㄷ ② ㄱ, ㄹ ③ ㄴ, ㄷ
- ④ ㄴ, ㄹ ⑤ ㄷ, ㄹ

13. 그래프는 회사별 사채의 액면가액과 발행가액을 비교하여 나타낸 것이다. 이와 관련된 설명으로 옳은 것은?



- ① A회사는 할인발행하였다.
- ② A회사는 사채할인발행차금이 발생하였다.
- ③ B회사는 사채할증발행차금이 발생하였다.
- ④ C회사는 할증발행하였다.
- ⑤ C회사는 이익잉여금이 발생하였다.

14. 다음은 ○○주식회사에 대한 기업 분석 보고서의 일부이다. 이 보고서에 나타난 재무상태의 변화로 옳은 것은? [3점]

기업 분석 보고서

1. 회사명 : ○○주식회사
2. 업종 : 철강 제조업
3. 주력 제품 : 스테인리스 강판

7. 분석 개요
위 회사는 기계 장치와 공장 등 생산 설비에 약 5백억 원을 투자하였다. 이를 위한 자금은 은행에서 장기로 차입하여 조달하였다. 그러나 이러한 투자는 국내외 경기가 호전되지 않아 생산된 제품의 과잉 재고를 초래하였다.

(중략)

2006. 10. 9.
△△증권 기업 분석팀

- ① 고정부채의 증가 ② 유동부채의 감소
- ③ 유형자산의 감소 ④ 재고자산의 감소
- ⑤ 투자자산의 증가

15. 다음 계정을 이용하여 전표의 (A)와 (B)에 들어갈 내용을 바르게 짝지은 것은? (단, 3전표제를 채택함) [3점]

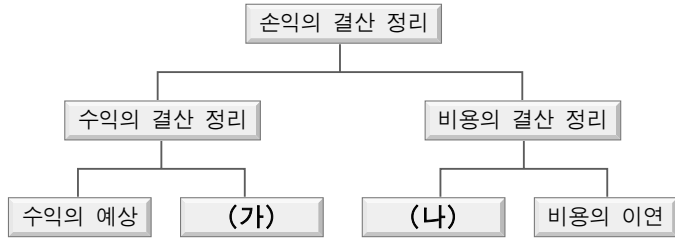
현금	
1/ 1 전 기 이 월 500,000	1/ 7 외상매입금 150,000
	1/16 매 입 200,000

(A)		과장	필목	대리	이민	계	박종우
No. 1	2006년 1월 16일						
과목	(B)	거래처명	○○ 회사				
적요			금 액				
○○ 회사에서 갑상품 200개 @₩1,000 매입					200	0000	
합	계				₩200	0000	

- (A) (B)
- ① 입금전표 현금
- ② 입금전표 매입
- ③ 출금전표 매입
- ④ 출금전표 외상매출금
- ⑤ 대체전표 현금

4 직업탐구 영역 (회계원리)

16. 다음 (가)와 (나)에 해당하는 거래를 <보기>에서 골라 바르게 짝지은 것은? [3점]



— <보기> —

ㄱ. 선수 이자 ₩30,000을 계상하다.
 ㄴ. 미지급 수수료 ₩50,000을 계상하다.
 ㄷ. 영업용 건물에 대하여 ₩100,000을 감가상각하다.

- | | | |
|---|------------|------------|
| | <u>(가)</u> | <u>(나)</u> |
| ① | ㄱ | ㄴ |
| ② | ㄱ | ㄷ |
| ③ | ㄴ | ㄱ |
| ④ | ㄴ | ㄷ |
| ⑤ | ㄷ | ㄴ |

17. 다음 거래의 회계 처리 결과로 옳은 것을 <보기>에서 고른 것은?

회계부장은 출장 중인 영업부장이 ₩50,000,000의 판매 계약을 체결하고, 계약금 ₩5,000,000과 상품 외상 대금 회수액 ₩3,000,000을 당좌예금 계좌에 입금한 것을 확인하다.

— <보기> —

ㄱ. 가수금의 증가 ㄴ. 선수금의 증가
 ㄷ. 외상매입금의 감소 ㄹ. 외상매출금의 감소

- | | | |
|--------|--------|--------|
| ① ㄱ, ㄴ | ② ㄱ, ㄷ | ③ ㄴ, ㄷ |
| ④ ㄴ, ㄹ | ⑤ ㄷ, ㄹ | |

18. 다음 집합 손익계정을 이용하여 손익을 계산할 때 (A)와 (B)의 항목에 해당하는 금액을 바르게 짝지은 것은? [3점]

손 익			
매 입	750,000	매 출	1,200,000
급 여	100,000	이 자 수 익	80,000
대손상각비	30,000		
임 차 료	10,000		
보 험 료	40,000		
잡 손 실	20,000		

(손익계산)
매 출 액
-매 출 원 가
매 출 총 이익
- (A)
영 업 이 익
+영 업 외 수 익
- (B)
경 상 이 익

- | | |
|------------|------------|
| <u>(A)</u> | <u>(B)</u> |
| ① ₩150,000 | ₩40,000 |
| ② ₩160,000 | ₩20,000 |
| ③ ₩160,000 | ₩40,000 |
| ④ ₩180,000 | ₩10,000 |
| ⑤ ₩180,000 | ₩20,000 |

19. 그림의 대화에 나타난 거래를 회계 처리할 때 대변 계정과목으로 옳은 것은? [3점]



- | | |
|-----------|---------|
| ① 받을어음 | ② 대손상각비 |
| ③ 대손충당금 | ④ 외상매출금 |
| ⑤ 대손충당금환입 | |

20. 다음 창업 계획서에 따라 창업한 경우, 창업일 현재 대차대조표의 자본금으로 옳은 것은?

창업 계획서	
내 용	비 고
5. 자금 조달 내역	
가. 출자 내역	
1) 현금 : ₩5,000,000	
2) 비품 : ₩2,000,000	
나. 차입 내역	
1) 단기차입금 : ₩1,500,000	
2) 장기차입금 : ₩3,000,000	
다. 특기 사항	
1) 출자할 현금 전액은 만기가 도래한 정기에금을 인출하여 납입	

- | | | |
|--------------|--------------|--------------|
| ① ₩2,000,000 | ② ₩4,500,000 | ③ ₩5,000,000 |
| ④ ₩7,000,000 | ⑤ ₩8,000,000 | |

* 확인 사항
 ○ 답안지의 해당란에 필요한 내용을 정확히 기입(표기)했는지 확인 하시오.