

제 4 교시

사회탐구 영역 (사회 · 문화)

성명 수험 번호

- 자신이 선택한 과목의 문제지인지 확인하십시오.
- 문제지에 성명과 수험 번호를 정확히 써 넣으시오.
- 답안지에 성명과 수험 번호를 써 넣고, 또 수험 번호와 답을 정확히 표시하십시오.
- 과목을 선택한 순서대로 풀고, 답은 답안지의 '제1선택'란에서부터 차례대로 표시하십시오.
- 문항에 따라 배점이 다르니, 각 물음의 끝에 표시된 배점을 참고하십시오. 3점 문항에만 점수가 표시되어 있습니다. 점수 표시가 없는 문항은 모두 2점입니다.

1. 다음 밑줄 친 (가)와 (나)의 관점에 대한 옳은 설명을 <보기>에서 모두 고른 것은?

가족은 사회를 구성하는 가장 기초적인 집단이다. 가족과 가족 구성원간의 관계에 대해서 (가) "가족은 가족 구성원의 집합체에 불과하다"라고 주장하는 사람이 있는 반면, (나) "가족은 가족 구성원의 사고와 행동을 지배하는 독립된 존재다"라고 주장하는 사람도 있다.

— <보기> —

ㄱ. (가)의 관점에 따르면 가풍이 개인의 인성을 결정한다.
 ㄴ. (가)의 관점에서는 개인을 떠난 가족이란 있을 수 없다고 본다.
 ㄷ. (나)의 관점에서는 배우자를 선택할 때 개인의 특성보다 집안의 배경을 더 중시한다.
 ㄹ. (나)의 관점에서는 가족 해체의 원인을 가족 구조보다 개인의 행동 양식에서 찾는다.

- ① ㄱ, ㄴ ② ㄱ, ㄷ ③ ㄴ, ㄷ
 ④ ㄴ, ㄹ ⑤ ㄷ, ㄹ

2. 다음 밑줄 친 ㉠~㉣에 대한 설명으로 적절한 것은? [3점]

추천서

지원 모집 단위	㉠사회 과학 대학
지원자 성명/성별	(성명) 홍길동 ㉡(성별) 남
㉢학급 회장 역임 기간	2005년 3월 ~ 2006년 2월

위 학생은 학급 회장으로서 ㉣솔선수범하고 타의 모범이 되어 귀 ㉣대학교 리더십 전형에 추천합니다.

2006년 7월 일
 ○○고등학교장(직인)

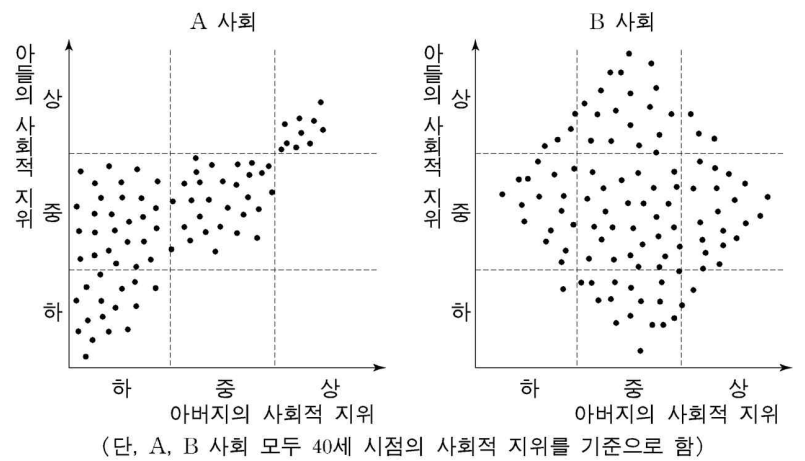
- ① ㉠은 홍길동의 준거 집단이자 이익 사회다.
 ② ㉡과 같은 성격의 지위에는 장남, 남편 등이 있다.
 ③ ㉢의 역할은 개인마다 동일한 방식으로 수행된다.
 ④ ㉣은 역할 수행보다 역할 기대가 더 클 때 내리는 평가다.
 ⑤ ㉣은 2차적 사회화 기관으로 비공식 조직이다.

3. 다음 사례들에 해당하는 개념을 바르게 짝지은 것은?

(가) 남태평양 원주민들은 조상이 새를 통해 선물을 보내준다는 믿음을 가지고 있었다. 백인과의 접촉 과정에서 새로운 운송 수단을 접하게 된 이들은 조상이 비행기나 배를 통해 대규모 선물을 보내주기를 기원하는 의례를 행하게 되었다.
 (나) 최근 인도네시아의 고립된 도서 지역에 텔레비전이 보급되었다. 한국의 드라마와 대중 음악이 알려지자, 이 지역 주민은 한국 연예인의 이름을 외우고 한국 노래를 유행처럼 부르게 되었다.
 (다) 라틴 아메리카 도시 빈민 거주지에는 특유의 생활 양식이 존재한다. '빈곤의 문화'라 불리는 이 생활 양식은 불안정한 직업과 저소득, 조기 취업, 현재 중심적 태도 등과 같은 속성을 갖는다.

- | | | | |
|---------|-----|-------|-------|
| | (가) | (나) | (다) |
| ① 문화 융합 | | 간접 전파 | 하위 문화 |
| ② 문화 병존 | | 직접 전파 | 하위 문화 |
| ③ 문화 융합 | | 간접 전파 | 반문화 |
| ④ 문화 동화 | | 자극 전파 | 반문화 |
| ⑤ 문화 동화 | | 직접 전파 | 저항 문화 |

4. 그림은 A, B 사회의 사회 계층을 나타낸 것이다. 이에 대해 바르게 추론한 것을 <보기>에서 모두 고른 것은? [3점]



— <보기> —

ㄱ. A 사회는 아들 세대보다 아버지 세대에서 사회의 안정도가 더 높다.
 ㄴ. A 사회는 피라미드형에서 다이아몬드형으로 계층 구조가 변화하였다.
 ㄷ. A 사회는 B 사회에 비해 성취 지위에 의해 개인의 지위가 결정되는 경향이 더 강하다.
 ㄹ. B 사회는 A 사회에 비해 세대 간의 지위 상관성이 더 약하다.

- ① ㄱ, ㄴ ② ㄱ, ㄷ ③ ㄴ, ㄷ
 ④ ㄴ, ㄹ ⑤ ㄷ, ㄹ

11. 표는 우리나라 도시와 농촌의 부양비 변화 추이를 나타낸 것이다. 이에 대한 옳은 설명을 <보기>에서 모두 고른 것은? [3점]

(단위 : %)

구 분		1960년	1980년	2000년
총부양비	전국	86.0	60.5	39.4
	도시	77.9	53.9	37.0
	농촌	89.4	70.3	50.0
유소년 부양비	전국	79.9	54.3	29.2
	도시	74.0	49.9	29.5
	농촌	82.4	60.8	28.0
노년 부양비	전국	6.0	6.2	10.2
	도시	3.9	3.9	7.5
	농촌	7.1	9.6	22.0

* 총부양비 = 유소년 부양비[(0~14세 인구/15~64세 인구)×100] + 노년 부양비[(65세 이상 인구/15~64세 인구)×100]
 * 부양 인구 = 15~64세 인구

—<보기>—

ㄱ. 총부양비로 보아 1960년에는 피부양 인구보다 부양 인구가 더 많다.
 ㄴ. 도시와 농촌 간 총부양비 격차는 1980년에 가장 크다.
 ㄷ. 2000년 농촌에서 노인 인구는 유소년 인구보다 더 많다.
 ㄹ. 노년 부양비 증가로 보아 농촌의 노인 인구는 증가하였다.

- ① ㄱ, ㄴ ② ㄱ, ㄷ ③ ㄴ, ㄷ
 ④ ㄴ, ㄹ ⑤ ㄷ, ㄹ

12. 다음 글에 나타난 제임스의 연구 태도에 대한 비판으로 적절한 것을 <보기>에서 모두 고른 것은?

제임스는 공원에서 데이트를 즐기는 남녀들에 대해 연구하고자 했다. 그는 6개월 동안 청소부로 취직하여 공원 관리를 하면서 이곳을 자주 방문하는 남녀들의 데이트 행태와 애정 표현에 대한 자료를 수집하였다. 그 후 그는 이들 남녀의 사회 경제적 배경을 알아보기로 했다. 데이트족의 차량 번호를 기록한 후 도로 안전국에 가서 건강 관련 연구를 한다면서 차량 주인의 이름과 주소를 알아냈다. 그리고 난 후 연구 대상자의 집을 찾아가서 건강 관련 설문 조사를 한다며 자신의 연구에 필요한 자료를 수집하였다. 제임스가 제출한 최종 보고서에는 데이트족의 행동 양식과 사회 경제적 배경이 설명으로 자세히 기록되어 있었다.

—<보기>—

ㄱ. 연구 대상자의 사생활을 존중해야 한다.
 ㄴ. 정확한 연구를 위해 다양한 연구 방법을 사용해야 한다.
 ㄷ. 연구 대상자에게 연구 목적과 결과의 활용을 밝혀야 한다.
 ㄹ. 제3자의 가치 중립적인 입장에서 탐구하는 태도를 가져야 한다.

- ① ㄱ, ㄴ ② ㄱ, ㄷ ③ ㄴ, ㄷ
 ④ ㄴ, ㄹ ⑤ ㄷ, ㄹ

13. 다음 글을 통해 추론할 수 있는 멕시코 농민의 행동이나 태도를 <보기>에서 모두 고른 것은? [3점]

멕시코 전통 사회의 농민들은 '좋은 것의 양이 제한되어 있다'는 생각을 가지고 있다. 이들은 자신들이 바라는 것, 예를 들어 권력, 부, 사랑, 자녀, 명예 등의 양이 항상 일정하게 존재한다고 여긴다. 이런 시각에서 볼 때, 한 개인이 평균 이상의 부를 획득하는 것은 다른 사람에게 돌아갈 몫을 빼앗아 온 것으로 이해되며, 같은 맥락에서 강력한 정치적 지도자의 등장도 경계된다.

—<보기>—

ㄱ. 노골적 칭찬을 받는 것을 꺼린다.
 ㄴ. 생산 과정에 최대의 노력을 투입한다.
 ㄷ. 외부로부터의 변화를 수용하는데 소극적이다.
 ㄹ. 과시적 소비를 통해 사회적 명망을 높이려고 한다.

- ① ㄱ, ㄴ ② ㄱ, ㄷ ③ ㄴ, ㄹ ④ ㄱ, ㄷ, ㄹ ⑤ ㄴ, ㄷ, ㄹ

14. 다음 글에 나타난 조○○의 문화 이해 관점을 비판하기 위한 논거로서 가장 적절한 것은?

조○○는 동남아 섬 지역의 성인식에는 다른 부족 사람의 목숨을 빼앗는 과정이 있었으며, 이를 성공적으로 수행한 경우에만 성인으로 인정될 수 있었다는 내용의 책을 읽었다. 이 책은 남성의 용맹성을 중시하는 전통과 환경적, 인구학적 특성이 이러한 관습을 유지시켜 왔다고 설명하고 있었다. 이 관습을 어떻게 이해해야 할 것인지를 고민하던 조○○는 "맞아, 이 관습이 이 지역의 독특한 사회 문화적, 환경적 맥락에서 형성된 것이라면 그 가치가 인정되어야 해"라고 중얼거렸다.

- ① 보편성과 다양성은 동전의 양면과 같다.
 ② 문화 요소들은 전체와 연결되어 기능한다.
 ③ 모든 문화에 적용되는 보편적인 가치가 존재한다.
 ④ 문화적 특성은 환경에 적응하는 과정에서 형성된다.
 ⑤ 문화적 관습은 존재할 만한 이유가 있어서 존재한다.

15. 정부 조직의 성격이 A에서 B로 바뀔 때 기대되는 효과로 옳은 것을 <보기>에서 모두 고른 것은?

구분	A	B
정부 역할	노 젓기	방향 잡기
서비스 공급	독점적	경쟁적
관리 방식	규칙 중심	과업 중심

—<보기>—

ㄱ. 불확실하고 복잡한 정책 환경에 유연하게 대처할 수 있을 것이다.
 ㄴ. 구성원 간에 담당 업무의 경계가 분명해져 행정의 합리성이 높아질 것이다.
 ㄷ. 기업이 정신과 시장 원리 도입으로 공공 부문의 효율성이 높아질 것이다.
 ㄹ. 절차나 지침이 강화됨에 따라 명확하고 일관성 있는 정책 추진이 가능할 것이다.

- ① ㄱ, ㄴ ② ㄱ, ㄷ ③ ㄴ, ㄹ ④ ㄱ, ㄷ, ㄹ ⑤ ㄴ, ㄷ, ㄹ

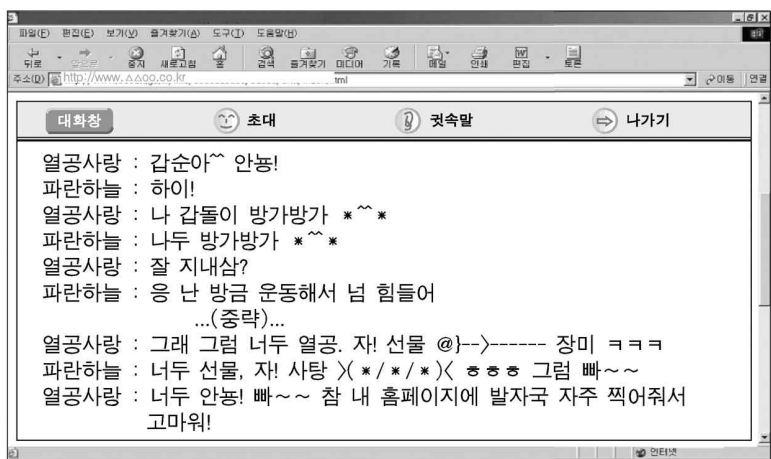
16. (가)에서 강조하는 내용과 관련이 가장 깊은 연구 단계를 (나)에서 고른 것은? [3점]

(가) 현실은 여러 변인이 얽히고 설켜 관계로 되어 있어서 이런 관계를 적절히 고려하지 못하면 독립 변인과 종속 변인 사이의 인과 관계를 잘못 파악할 수 있다. 따라서 인과 관계 입증을 위해서는 두 변인에 영향을 미칠 수 있는 다른 요소를 배제하여야 한다.

(나) 영수는 ① 새로운 학습 방법이 기존 학습 방법보다 효과가 있을 것이라는 가설을 설정하였다. 이 가설을 검증하기 위해 ㉠ 학교에서 임의로 두 반을 선정하여 ㉡ 지능, 성적, 학습 태도 등이 유사함을 사전 검사로 확인한 후 ㉢ 한 학급에는 새로운 방법을 적용하고 다른 학급은 평소대로 수업을 실시하였다. 그 후 ㉣ 객관식 형태의 사후 검사를 통해 효과를 검증하였다.

- ① ㉠ ② ㉡ ③ ㉢ ④ ㉣ ⑤ ㉤

17. 그림을 통해 파악한 내용으로 적절하지 않은 것은?



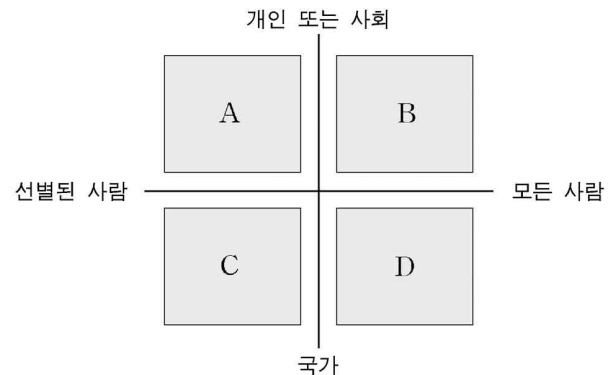
- ① 표준어의 훼손
 ② 메시지의 쌍방향 교류
 ③ 언어 표현 방식의 다양화
 ④ 가상 공간을 통한 관계 유지
 ⑤ 신상 정보 공개로 인한 사생활 침해

18. 다음 글의 관점에서 빈곤 문제를 바라본 진술로 가장 적절한 것은? [3점]

우리는 사회의 상층과 하층간의 차이가 그들의 무능이나 나태로 인해 발생한다고 생각하고 있다. 이런 생각 때문에 사회 계급은 기능적 분화에 따라 보편적으로 존재하는 것이며 사회 질서를 위한 필수 요소라고 주장하는 사람까지 있다. 그러나 나는 이 주장에 동의할 수 없다. 왜냐하면 사회 계급은 상호 대립적인 이해 관계의 산물이기 때문이다.

- ① 빈곤층도 사회 구조 속에서 주어진 역할을 담당하고 있다.
 ② 빈곤 문제는 희소 자원의 불공정한 분배에 따라 발생한다.
 ③ 생산성을 높이기 위해서는 빈곤층의 재사회화 과정이 필요하다.
 ④ 빈곤의 원인은 빈곤층이 공유하고 있는 문화적 가치에서 찾아야 한다.
 ⑤ 빈곤 문제 해결을 위해서는 보수를 차등 지급하여 성취 동기를 부여할 필요가 있다.

19. 그림은 복지 서비스의 역사적 발전 단계에서 나타난 여러 유형을 복지 서비스의 제공 주체와 대상을 기준으로 모델화한 것이다. (가)와 (나)에 해당하는 것을 그림에서 찾아 바르게 짝지은 것은? [3점]

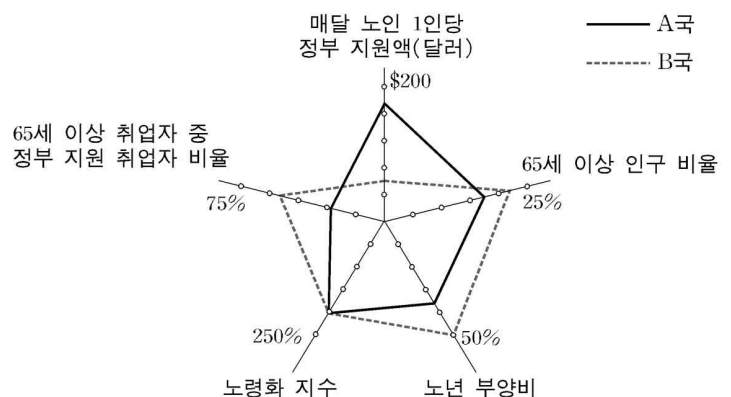


(가) 이 유형은 제도적 수단을 통해 사회 구성원의 사회적 위험을 예방하는 것을 목적으로 하며, 복지가 보편적 권리로 인식된다.

(나) 이 유형은 빈곤의 책임이 개인에게 있다고 인식되어 여유있는 자에 의해 사후적으로 복지가 이루어지며, 복지가 자선으로 인식된다.

- | | | | | | |
|---|-----|-----|---|-----|-----|
| | (가) | (나) | | (가) | (나) |
| ① | A | C | ② | B | C |
| ③ | C | A | ④ | D | A |
| ⑤ | D | B | | | |

20. 그림은 A국과 B국의 노인 관련 지표를 나타낸 것이다. 그림에 대한 설명으로 적절한 것을 <보기>에서 모두 고른 것은? [3점]



* 노령화 지수 = (65세 이상 인구 / 0~14세 인구) × 100
 * 노년 부양비 = (65세 이상 인구 / 15~64세 인구) × 100

<보기>

ㄱ. A국은 B국에 비해 0세~14세 인구의 비중이 더 크다.
 ㄴ. B국은 A국에 비해 15세~64세 인구의 비중이 더 작다.
 ㄷ. B국은 A국에 비해 노인 복지 분야에서 생산적 복지 정책을 사용하고 있다.
 ㄹ. 정부 지원 금액과 정부 지원 취업자 비율로 보아 A국은 B국에 비해 노인들의 만족도가 더 높다.

- ① ㄱ, ㄷ ② ㄱ, ㄹ ③ ㄴ, ㄷ
 ④ ㄱ, ㄴ, ㄹ ⑤ ㄴ, ㄷ, ㄹ

* 확인 사항
 ○ 답안지의 해당란에 필요한 내용을 정확히 기입(표기)했는지 확인 하시오.