

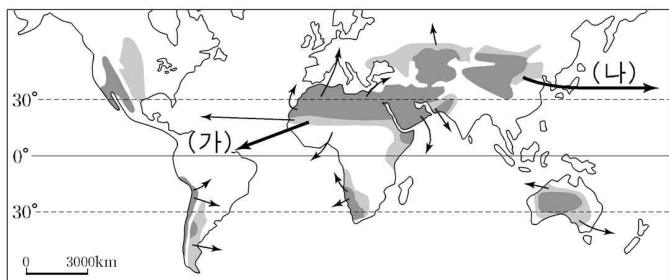
제 4 교시

사회 탐구 영역 (세계 지리)

성명  수험 번호

- 자신이 선택한 과목의 문제지인지 확인하시오.
- 문제지에 성명과 수험 번호를 정확히 써 넣으시오.
- 답안지에 성명과 수험 번호를 써 넣고, 또 수험 번호와 답을 정확히 표시하시오.
- 과목을 선택한 순서대로 풀고, 답은 답안지의 '제1선택'란에서부터 차례대로 표시하시오.
- 문항에 따라 배점이 다르니, 각 물음의 끝에 표시된 배점을 참고하시오. 3점 문항에만 점수가 표시되어 있습니다. 점수 표시가 없는 문항은 모두 2점입니다.

1. 지도는 모래 먼지의 이동 경로를 나타낸 것이다. (가), (나)의 이동에 영향을 미치는 바람을 바르게 짝지은 것은? [3점]



- |       |     |
|-------|-----|
| (가)   | (나) |
| ① 무역풍 | 편서풍 |
| ② 편서풍 | 무역풍 |
| ③ 극동풍 | 편서풍 |
| ④ 무역풍 | 극동풍 |
| ⑤ 편서풍 | 극동풍 |

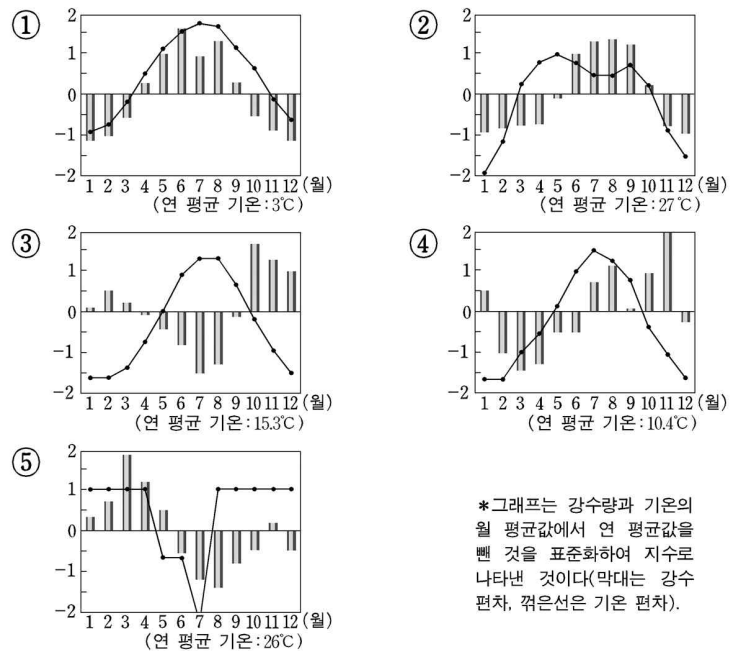

2. 다음은 해외 여행을 다녀 온 학생이 자신의 블로그에 올린 글의 일부이다. 자료를 통해 이 지역에 대해 알 수 있는 사실을 <보기>에서 모두 고른 것은?

2005년 8월 ○○일  
 오전 9시 정각에 인천 공항을 출발하여 4시간 30분 만에 '하노이'에 도착하였다. 공항의 시계는 오전 11시 30분을 가리키고 있었다. 이 나라의 수도인 하노이는 한자로는 '河内'로 쓰는데, 나중에 보니 '하롱[下龍]' 등 다른 곳도 한자와 관련된 지명들이 많았다. 공항을 나서자 매우 습하고 더웠다. 지도를 보니 하노이는 북회귀선 가까이에 있는 도시였다. 시내로 가는 도로의 양 옆에는 넓은 경지가 펼쳐져 있었다. 가이드의 설명에 의하면 최근 농업 생산량이 급증하여 식량을 수출하는 나라가 되었다고 한다.

- 〈보기〉
- ㄱ. 열대 우림 기후가 나타난다.
  - ㄴ. 중국 문화의 영향을 받았다.
  - ㄷ. 밀의 생산량과 수출량이 많다.
  - ㄹ. 동경 105°를 표준 경선으로 사용한다.

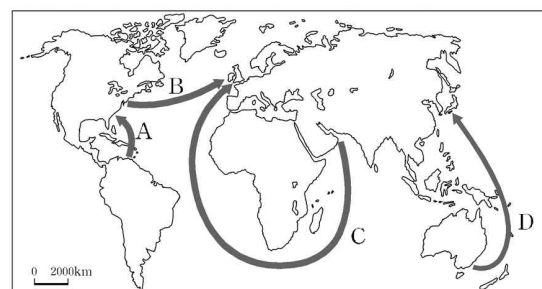
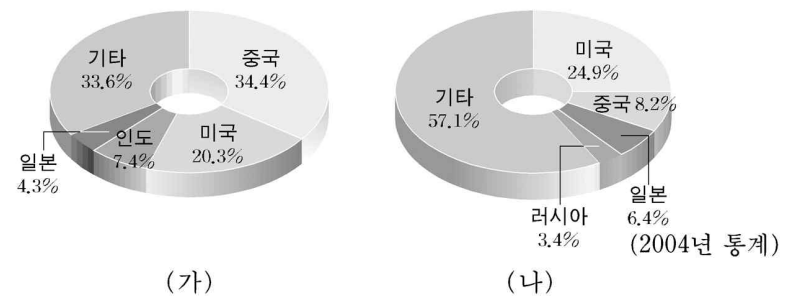
- ① ㄱ, ㄴ    ② ㄱ, ㄷ    ③ ㄴ, ㄷ    ④ ㄴ, ㄹ    ⑤ ㄷ, ㄹ

3. 자료를 통해 알 수 있는 이 지역의 기후 특성과 관련이 깊은 그래프는? [3점]



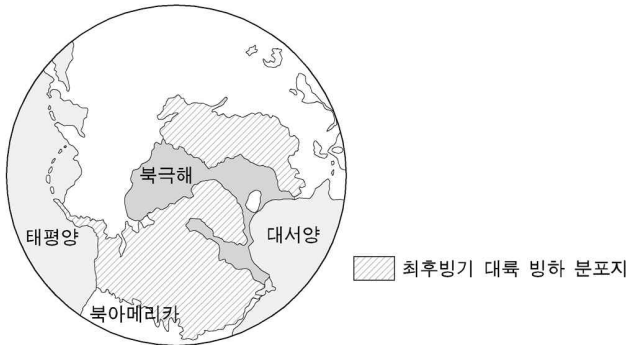
\* 그래프는 강수량과 기온의 월 평균값에서 연 평균값을 뺀 것을 표준화하여 지수로 나타낸 것이다(막대는 강수 편차, 꺾은선은 기온 편차).

4. (가), (나)는 두 에너지 자원의 총소비량에 대한 국가별 점유율을 각각 나타낸 것이다. 제시된 지도에서 각 자원의 국제 간 주요 이동을 찾아 바르게 짝지은 것은?



- |        |      |        |      |
|--------|------|--------|------|
| (가)    | (나)  | (가)    | (나)  |
| ① A, B | C, D | ② A, C | B, D |
| ③ A, D | B, C | ④ B, C | A, D |
| ⑤ B, D | A, C |        |      |

5. 지도의 빗금 친 지역에서 현재 볼 수 있는 지리적 현상으로 옳지 않은 것은? [3점]



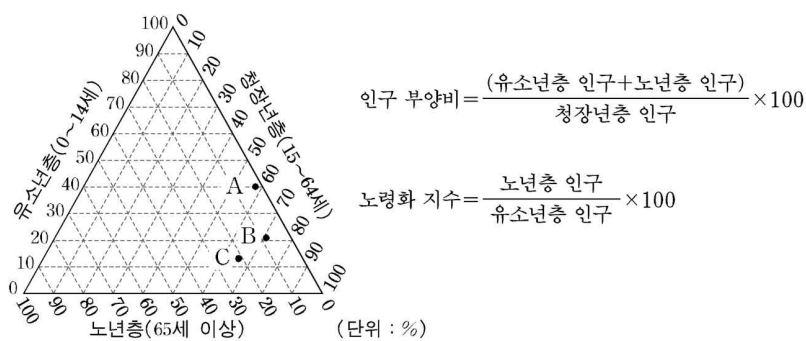
- ① 동결과 용해에 의해 형성된 구조토가 분포한다.
- ② 북극해 연안에는 침엽수림이 넓게 분포하고 있다.
- ③ 영구 동토층에 기둥을 박아서 지은 건물들이 나타난다.
- ④ 석유와 천연가스 등의 개발에 따른 환경 문제가 발생하고 있다.
- ⑤ 피오르 지형이 발달하여 해안선의 드나듦이 많고 길이가 길다.

6. 지도에 표시된 A 지역의 커피 농장을 방문하고 정리한 글이다. 밑줄 친 내용 중 옳지 않은 것은?

우리는 광대한 평원이 펼쳐진 ㉠팜파스 지역에 있는 한 농장을 방문하였는데 규모가 매우 컸다. 여기 사람들은 이러한 대농장을 주로 ㉡'파젠다'라고 불렀다. 이곳 대농장에서는 ㉢수출을 목적으로 한 상품 작물이 주로 재배된다고 한다. 농장에서 만난 한 주민은 대농장들이 ㉣자영농의 성장을 저해하고 빈부 격차를 벌려 놓았다고 말했다. 우리가 찾아간 농장에서는 건기인 5~8월에 커피를 수확한 후 다국적 기업에 판다고 한다. 그런데 세계 여러 곳에서 커피를 많이 생산하게 되면서 가격 변화가 심해져 여기 농장들은 ㉤다양한 작물을 재배하는 경우가 늘고 있다고 한다.

- ① ㉠      ② ㉡      ③ ㉢      ④ ㉣      ⑤ ㉤

7. 그래프를 보고 A~C 국가의 인구 특성에 대한 추론으로 옳은 것을 <보기>에서 모두 고른 것은? [3점]



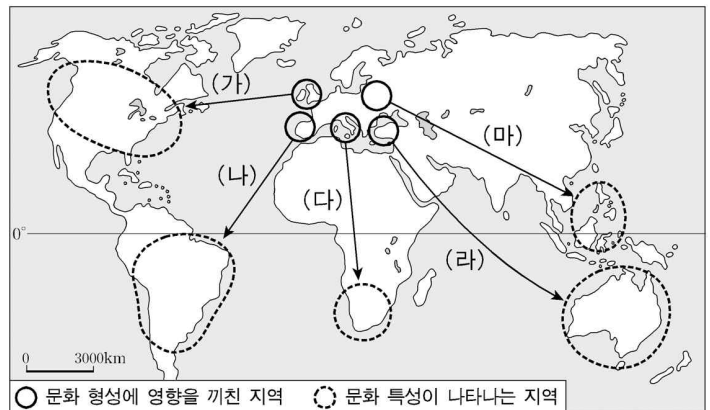
<보기>

ㄱ. A는 B보다 출생률은 높으나 사망률은 낮을 것이다.  
 ㄴ. B는 A보다 인구 부양비가 낮을 것이다.  
 ㄷ. C는 A에 비해 저출산이 주요 인구 문제일 것이다.  
 ㄹ. C는 B보다 노령화 지수가 낮을 것이다.

- ① ㄱ, ㄴ      ② ㄱ, ㄷ      ③ ㄴ, ㄷ      ④ ㄴ, ㄹ      ⑤ ㄷ, ㄹ

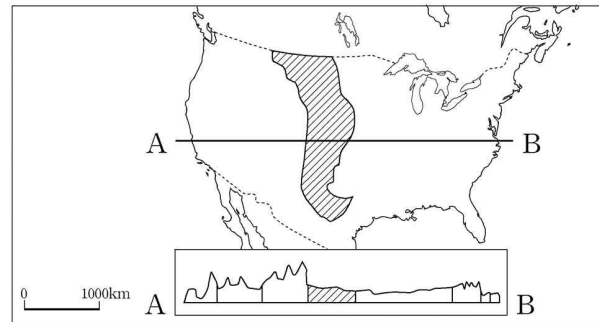
8. 자료와 같은 문화 특성이 나타나는 지역과 이에 직접 영향을 끼친 지역을 지도에 바르게 표시한 것은?

○ 그들은 식민지에도 중앙의 대광장이 중심이 되는 격자형 가로망을 계획하고 거기에 맞춰 도시들을 건설했다. 대광장 주변에는 종교적 기능을 수행하는 대성당뿐만 아니라 효율적인 식민 통치를 위한 관공서들을 세웠다.  
 ○ □□마을에 있는 성당 내부의 마리아 상은 하얀 의상의 마리아와는 달리 화려한 무늬의 옷을 입고, 까만 머리에 황금빛 피부를 한 원주민 모습이다.



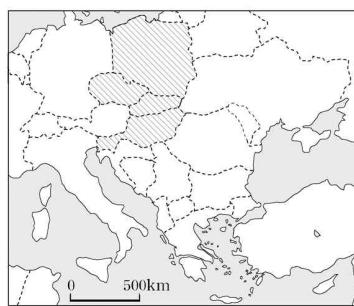
- ① (가)      ② (나)      ③ (다)      ④ (라)      ⑤ (마)

9. 지도의 빗금 친 지역에 관한 설명으로 옳지 않은 것은?



- ① 토양이 비옥하여 세계적인 농업 지대를 형성한다.
- ② 이 지역을 흐르는 하천은 멕시코 만으로 유입된다.
- ③ 농장 노예로 유입된 흑인 후손의 인구 비율이 높다.
- ④ 남북 방향 산맥들의 바람의지 지역으로 건조한 편이다.
- ⑤ 기복이 작아 서부 개척 시대에 육상 이동이 수월하였다.

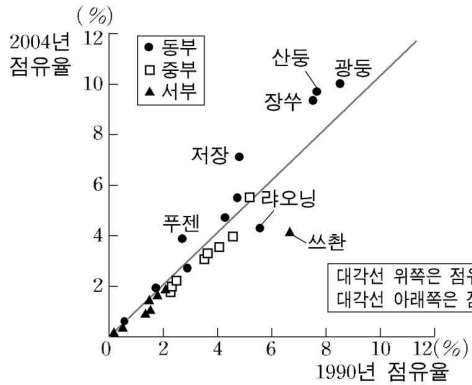
10. 지도의 빗금 친 지역에서 자료와 같은 현상이 나타나는 이유로 적절하지 않은 것은? [3점]



전자 통신 회사와 자동차 회사들을 포함한 다국적 기업들이 이 지역에 공장을 건설하고 투자를 확대하고 있다.

- ① 근로자 월 평균 임금이 서유럽보다 낮기 때문이다.
- ② 성장세에 있는 이 지역 시장을 선점하기 위해서이다.
- ③ 각국 정부가 공장 건설에 유리한 조건을 제공하기 때문이다.
- ④ 유럽 연합 가입으로 서유럽 시장에 대한 수출이 쉬워졌기 때문이다.
- ⑤ 국가 간 자본의 이동에 유리한 유로화를 단일 통화로 사용하기 때문이다.

11. 그래프는 중국의 각 성(省)·시(市)별 GDP 점유율 변화를 나타낸 것이다. 이에 대한 해석으로 옳은 것을 <보기>에서 모두 고른 것은? [3점]

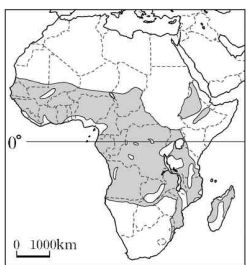


〈보기〉

ㄱ. 점유율이 가장 크게 상승한 곳은 동부의 '광둥'이다.  
 ㄴ. 동부와 중부 간의 점유율 격차는 더욱 크게 벌어졌다.  
 ㄷ. 지역 내 점유율의 격차는 세 지역 중 서부가 가장 크다.  
 ㄹ. 지역별 점유율은 두 시기 모두 '서부<중부<동부'의 순으로 나타난다.

- ① ㄱ, ㄴ    ② ㄱ, ㄷ    ③ ㄴ, ㄷ    ④ ㄴ, ㄹ    ⑤ ㄷ, ㄹ

12. (가) 지도에 표시된 지역에서 행해지는 (나) 농업에 관련된 특징으로 적절한 것은?



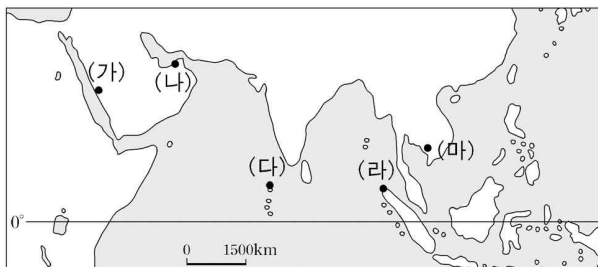
(가)

대부분 열대인 이 지역의 기후 환경 조건에 적응한 농업 형태로 수년 간 한 곳에서 농사를 짓다가 다른 곳으로 이동한다.

(나)

- ① 상품 작물 대신 곡물 재배 위주로 바뀌고 있다.  
 ② 이 농업의 한계는 최한월 평균 기온에 따라 결정된다.  
 ③ 인구 증가에 따른 식량 확보를 위해 휴경 기간이 단축되고 있다.  
 ④ 생태계 파괴를 줄일 수 있는 농법으로 국제 기구에서 장려하고 있다.  
 ⑤ 가족 노동 중심의 농업에서 국가 주도의 집단 농업 방식으로 변화하고 있다.

13. 세계지리 수업에서 (가)~(마) 지역을 이해하는 데 필요한 사진 자료로 적절하지 않은 것은?

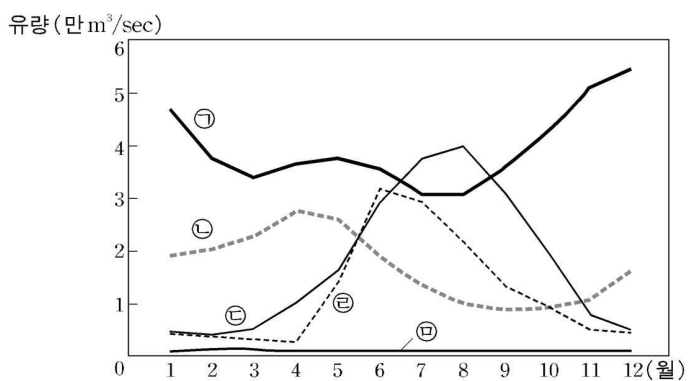


- ① (가) : '하지(hadj)'를 맞아 이슬람 성지를 찾는 순례객  
 ② (나) : 오일 달러를 이용한 인공 섬 개발 현장  
 ③ (다) : 해수면 상승으로 사라져 가는 산호 해안  
 ④ (라) : 지진해일 이후 관광 인프라 재건을 위한 피해 복구 현장  
 ⑤ (마) : 세계 최대 도시 국가의 마천루

14. (나)그래프는 (가)의 5개 하천에 대한 유량 변화를 나타낸 것이다. 하천 유량의 연중 변화는 유역 분지의 기후 환경을 반영한다고 할 때, A 하천에 해당하는 것은? [3점]



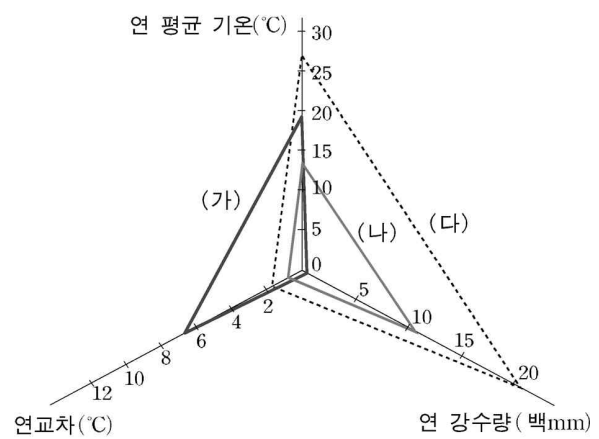
(가)



(나)

- ① ㉠    ② ㉡    ③ ㉢    ④ ㉣    ⑤ ㉤

15. (가)~(다)의 기후 특색이 나타나는 지역에 대해 추론한 내용으로 옳은 것을 <보기>에서 모두 고른 것은? [3점]



〈보기〉

- ㄱ. (가)는 강수량보다 증발량이 많을 것이다.  
 ㄴ. (가)와 (다)는 일교차가 연교차보다 작을 것이다.  
 ㄷ. (나)는 (다)보다 해발 고도가 높을 것이다.  
 ㄹ. (나)는 고위도에, (다)는 저위도에 위치할 것이다.

- ① ㄱ, ㄴ    ② ㄱ, ㄷ    ③ ㄴ, ㄷ    ④ ㄴ, ㄹ    ⑤ ㄷ, ㄹ

