

제 4 교시

사회 탐구 영역 (국사)

성명		수험 번호																		
----	--	-------	--	--	--	--	--	--	--	--	--	--	--	--	--	--	--	--	--	--

- 자신이 선택한 과목의 문제지인지 확인하시오.
- 문제지에 성명과 수험 번호를 정확히 써 넣으시오.
- 답안지에 성명과 수험 번호를 써 넣고, 또 수험 번호와 답을 정확히 표시하시오.
- 과목을 선택한 순서대로 풀고, 답은 답안지의 '제1선택'란에서부터 차례대로 표시하시오.
- 문항에 따라 배점이 다르니, 각 물음의 끝에 표시된 배점을 참고하시오. 3점 문항에만 점수가 표시되어 있습니다. 점수 표시가 없는 문항은 모두 2점입니다.

1. 역사에 대한 다음의 관점을 보여주는 것을 <보기>에서 모두 고른 것은?

기록으로서의 역사는 과거의 사실을 토대로 역사가가 이를 조사하고 연구하여 재구성한 것이다. 이 과정에는 필연적으로 역사가의 가치관과 같은 주관적 요소가 개입하게 된다.

<보기>

- ㉠ 부여씨가 망하고 고씨가 망한 다음, ㉡ 김씨가 남방을 차지하고 대씨가 북방을 차지하여 발해라 하였으니 이것을 남북국이라 한다.
- ㉢ 918년에 고려가 건국되고 1392년에 조선이 그 뒤를 이었다. ㉣ 일천년의 긴 역사를 두 왕조가 이끌어 간 것은 세계 역사상 드문 일이다.

- ① ㉠, ㉡ ② ㉠, ㉢ ③ ㉡, ㉣ ④ ㉡, ㉣ ⑤ ㉢, ㉣

2. 다음은 교사가 제시한 수행 평가 자료이다. 이를 이용한 탐구 활동에서 학생들이 내린 결론으로 옳은 것을 <보기>에서 모두 고른 것은?

- 어려서 아버지를 잃은 이승장이 학문에 뜻을 두자 의붓 아버지는 자신의 아들과 함께 가업에 종사하라고 하였다. 그러자 그의 어머니는 "내가 비록 수절하지는 못했으나, 이 애를 공부시키지 못한다면 내세에 어찌 그의 아버지를 만날 수 있겠는가."라고 하여 기어이 국학에 유학시켰다. 얼마 후 이승장은 과거에 급제하였다.
- 일찍이 나익희의 어머니가 자녀에게 재산을 나누어 줄 때 그에게 노비 40명을 더 주자 사양하며 말하기를, "제가 외 아들로써 다섯 누이들 사이에 있는데 어찌 이를 받겠습니까."라고 하니, 어머니 또한 옳게 여겨 그의 뜻을 따랐다.

<보기>

- ㄱ. 제사를 받들기 위해 양자를 들였다.
- ㄴ. 여성도 자기 몫의 재산을 가질 수 있었다.
- ㄷ. 가정에서 여성의 지위가 남성 못지않았다.
- ㄹ. 재혼한 여성의 자식을 사회적으로 차별하였다.


- ① ㄱ, ㄴ ② ㄱ, ㄷ ③ ㄴ, ㄷ ④ ㄴ, ㄹ ⑤ ㄷ, ㄹ

3. 다음 보고서에 나타난 공예품에 대한 설명으로 옳은 것은? [3점]

○ 회색 또는 회흑색의 태토 위에 백토로 표면을 분장한 후 구워낸 도자기이다.

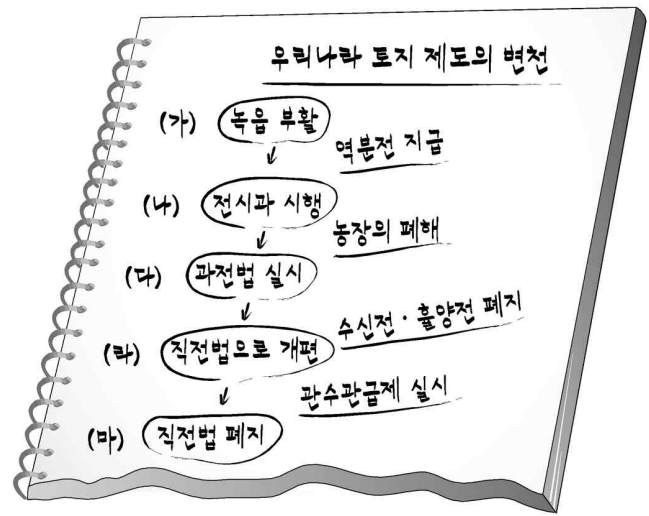
○ 인화, 상감, 박지, 철화, 담금 분장 등 다양한 기법이 사용되었으며, 모란, 연꽃, 나비, 물고기 등 여러 문양도 보인다.

○ 그릇의 형태는 이전 시기의 기형을 토대로 풍만하고 울동적인 형태로 변형되었으며, 안정감 있고 실용적인 그릇 모양들이 많다.



- ① 담백함과 순백의 고상함을 풍겨 선비들이 애용하였다.
- ② 송의 자기 기술을 받아들여 11세기경에 이르러 독자적인 색깔을 구현해 냈다.
- ③ 그윽한 색과 다양한 형태를 지녔으며, 전라도 강진·부안이 생산지로 유명하다.
- ④ 소박하고 천진스러운 무늬가 어우러져 있으며, 16세기부터 점차 그 생산이 줄어들었다.
- ⑤ 나전칠기나 은입사 공예에서 사용된 기술을 응용하여 무늬를 새겼으며, 12세기 중엽에 나타났다.

4. 다음은 '경제 구조와 경제 생활'이라는 대단원 학습을 마친 학생이 정리한 노트의 일부이다. 각 단계에 대한 학생의 해석으로 옳지 않은 것은? [3점]



- ① (가)는 귀족들의 강력한 요구에 따라 이루어졌다.
- ② (가)에서 (나)로 변화하면서 관료들의 토지 지배권이 강화되었다.
- ③ (다)는 국가의 재정과 신진 사대부의 경제 기반 확보를 목적으로 하였다.
- ④ (다)에서 (라)로의 변화는 세습으로 인한 과전의 부족 때문이었다.
- ⑤ (마)를 전후하여 관료들의 토지 사유가 확대되고 지주제가 더욱 발달하였다.


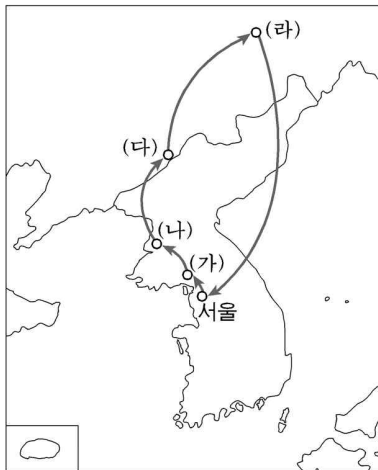
5. 다음은 조선 시대 어느 관리의 상소문이다. 그의 주장으로 가장 적절한 것은?

어제 역관과 의관을 권장하기 위해 능통하고 재주가 있는 자를 동서 양반에 발탁하여 쓰라는 특별 명령을 듣고 놀랐습니다. …(중략)… 농부와 장인, 상인, 점술사, 의원은 모두 국가에 없어서는 안 될 존재입니다. 그 가운데 농업은 백성을 살리는 근본이며 예악은 나라를 다스리는 근본이니 의관이나 역관에 비한다면 만 배나 중요합니다. 이제 의술과 역술을 장려하기 위해 문무 관직에 등용하려고 하시니, 그렇다면 예악을 장려하기 위해 악공을 발탁하고, 농업을 권장하려고 농부를 발탁하시겠습니까.

- 성종실록 -

- ① 문무 양반의 증가를 막아야 한다.
- ② 전문적인 기술자를 우대해야 한다.
- ③ 농민에게 신분 상승 기회를 주어야 한다.
- ④ 상업 활동에 대한 통제를 강화해야 한다.
- ⑤ 관직의 수를 늘리고 관직을 개방해야 한다.

6. 지도에 표시된 대로 답사를 준비한다고 할 때, 자료집에 실을 그림을 <보기>에서 골라 경로에 맞게 배열한 것은? [3점]



- (가) (나) (다) (라)
- ① 가 → 나 → 다 → 라
 - ② 가 → 나 → 라 → 다
 - ③ 나 → 가 → 라 → 다
 - ④ 나 → 가 → 다 → 라
 - ⑤ 라 → 다 → 나 → 가

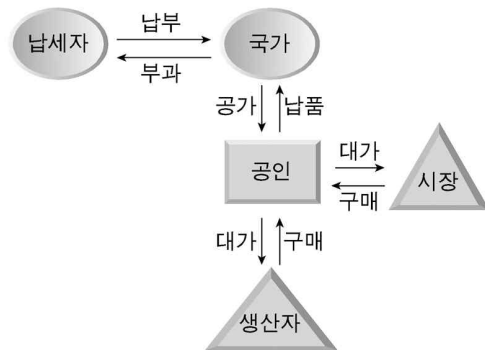
7. 다음의 교서를 반포한 왕이 시행한 정책으로 옳은 것을 <보기>에서 모두 고른 것은? [3점]

양역을 절반으로 줄이라고 명하였다. 왕이 하교하였다. “구전은 한 집안에서 거둘 때 주인과 노비의 명분이 문란해지고, 결포는 이미 정해진 세율이 있어 더 부과하기 어렵다. 호포나 결포는 모두 문제점이 있으므로 이제 1필로 줄이도록 결정할 것이니 경들은 대책을 강구하라.”

- <보기>
- ㄱ. 전세는 풍흉에 관계 없이 토지 1결당 미곡 4두를 내게 하였다.
 - ㄴ. 친위 부대를 창설하여 왕권을 뒷받침할 수 있는 군사적 기반을 갖추었다.
 - ㄷ. 서원을 대폭 정리하고 이조 전랑이 후임자를 스스로 천거하는 관행을 없앴다.
 - ㄹ. 혼련도감·금위영·어영청 세 군영이 도성을 나누어 방위하는 체제를 정비하였다.

- ① ㄱ, ㄴ ② ㄱ, ㄷ ③ ㄴ, ㄷ ④ ㄴ, ㄹ ⑤ ㄷ, ㄹ

8. 그림은 조선 후기 어느 수취 제도의 운영 과정을 그린 것이다. 이에 대한 설명으로 옳은 것을 <보기>에서 모두 고른 것은?



- <보기>
- ㄱ. 토지가 없거나 적은 농민의 부담이 늘어났다.
 - ㄴ. 상품 화폐 경제가 한층 발전하는 계기가 되었다.
 - ㄷ. 부족한 국가 재정을 보완하기 위한 시책이었다.
 - ㄹ. 토지에 부과되는 결작의 부담이 소작 농민에게 돌아갔다.

- ① ㄱ, ㄴ ② ㄱ, ㄷ ③ ㄴ, ㄷ ④ ㄴ, ㄹ ⑤ ㄷ, ㄹ

9. 고려 시대에 다음과 같은 주장을 한 사람의 견해로 가장 적절한 것은?

광종이 남을 헐뜯고 간사한 말을 믿어 죄 없는 사람을 많이 죽이고는, 그 죄과를 없애고자 각종의 법회를 수시로 열어 재(齋)를 올리고 수많은 결식 승려에게 공양을 하느라 백성의 고혈을 짜내고 재정을 탕진한 것은 한 나라의 임금으로서 지극히 잘못된 일이다.

- ① 불교 교단을 통합, 정비해야 한다.
- ② 연등회와 팔관회를 축소해야 한다.
- ③ 유교와 불교는 이름만 다를 뿐 진실은 같다.
- ④ 승려는 예불과 독경뿐 아니라 노동에도 힘써야 한다.
- ⑤ 승려도 자신의 행동을 진정으로 참회하는 수행에 힘써야 한다.

10. 다음과 같은 형식의 시조가 널리 유행한 시기의 문화적 특징으로 옳은 것은? [3점]

두꺼비 파리를 물고 두엄 위에 치달아 앉아
건넌산 바라보니 백송골이 떠 있거늘 가슴이 선뜻하여
풀쩍 뛰어내리다가 두엄 아래 자빠져 버렸구나.
마침 나였기 망정이지 피멍들 뻔하였도다.

- ① 무덤 안벽에 생전의 생활 모습을 표현한 그림을 그렸다.
- ② 악곡과 악보를 정리하여 아악이 궁중 음악으로 발전하였다.
- ③ 민간에 구전되는 이야기를 한문으로 기록한 패관 문학이 성행하였다.
- ④ 우리의 자연과 일상적인 모습을 소재로 삼아 그리는 화풍이 유행하였다.
- ⑤ 관리들의 기이한 행적과 서민들의 풍속, 감정이 실려 있는 설화 문학이 발달하였다.

[11~12] 다음 지도를 보고 물음에 답하십시오.



11. ㉠~㉥에서 이루어진 상업 활동에 대한 설명으로 옳지 않은 것은?

- ① ㉠ - 세종 때부터 매년 중국과 정기적인 무역이 이루어졌다.
- ② ㉡ - 청에서 비단과 약재를 수입하고 은과 인삼을 수출하였다.
- ③ ㉢ - 허생전에는 과일 등 각종 물품이 활발히 거래된 곳으로 나타나 있다.
- ④ ㉣ - 18세기 말에 선상의 활동이 두드러지면서 포구에서 장시가 열렸다.
- ⑤ ㉥ - 조선 후기에 일본에 쌀과 무명을 팔고 은과 구리, 황, 후추 등을 수입하였다.

12. 흥경래의 난이 일어난 시기에 (가)~(다) 지역에서 있었던 사실을 <보기>에서 골라 바르게 짝지은 것은? [3점]

— <보기> —

ㄱ. 정제두가 거주하면서 양명학 연구와 제자 양성에 힘썼다.
 ㄴ. 신유박해로 유배된 정약용은 목민심서 등 많은 서적을 저술하였다.
 ㄷ. 탐관 오리와 토호의 탐학에 저항하는 농민 봉기가 일어나 전국적으로 확산되었다.

- ① (가) - ㄱ ② (가) - ㄴ ③ (나) - ㄱ
- ④ (나) - ㄴ ⑤ (다) - ㄷ

13. 그림에서와 같은 업무를 수행한 고려 시대 관원들의 또 다른 직무의 사례로 적절하지 않은 것은? [3점]



- ① 뇌물을 주고 벼슬을 얻은 관원의 임명장에 서명하지 않았다.
- ② 판사의 품계를 상향 조정하는 법안 개정예 동의하지 않았다.
- ③ 근무 성적이 나쁜 관원을 정기 인사 때 지방으로 좌천시켰다.
- ④ 특산물의 추가 진상을 지시한 왕명이 옳지 않다고 반박하였다.
- ⑤ 왕이 자주 민가에서 유희를 즐기자 그러면 안 된다고 간하였다.

14. 다음은 단군의 건국 이야기이다. ㉠~㉥에서 선진적 이주 세력과 후진적 토착 세력의 통합을 가장 잘 보여 주고 있는 것은?

㉠ 옛날 환인의 아들 환웅이 천부인 3개와 3,000의 무리를 이끌고 ㉡ 태백산 신단수 아래 내려왔는데 이 곳을 신시라 하였다. ㉢ 그는 풍백, 우사, 운사로 하여금 인간의 360여 가지의 일을 주관하게 하였는데 그 중에서 곡식, 생명, 질병, 형벌, 선악 등 다섯 가지 일이 가장 중요한 것이었다. ㉣ 이로써 인간 세상을 교화시키고 널리 인간을 이롭게 하였다. 이때 곰과 호랑이가 사람이 되기를 원하였는데, 곰은 21일 만에 여자로 태어났다. ㉤ 환웅이 임시로 변하여 웅녀와 혼인하여 아들을 낳았다.

- ① ㉠ ② ㉡ ③ ㉢ ④ ㉣ ⑤ ㉤

15. (가)와 (나)에 해당하는 시기에 대한 설명으로 옳지 않은 것은?

(가) 사료왕의 시호는 진지대왕이다. 태건 8년(576)에 왕위에 올랐다. 나라를 다스린지 4년 만에 정치가 문란하여 어지러워졌고 음란함에 빠져 귀족들이 그를 폐위시켰다.
 (나) 신문왕이 교서를 내렸다. "임금을 섬기는 법은 충성을 다하는 것이 근본이요, 신하의 도리는 두 마음을 갖지 않는 것이 으뜸이다. 병부령인 이찬 군관은 반역자 김흠돌 등과 관계하여 역모 사실을 알고도 일찍 말하지 아니하였다. 군관과 만아들은 스스로 목숨을 끊게 하고 온나라에 포고하여 두루 알게 하라."

- ① (가) 시기에는 화백 회의를 통하여 왕을 추대하기도 하였다.
- ② (가) 시기에는 지방 세력들이 중앙 정부에 반대하는 움직임을 보였다.
- ③ (나) 시기에는 왕권과 결탁한 6두품 세력이 부각되었다.
- ④ (나) 시기에는 왕명을 받들고 기밀을 관장하는 집사부 시중의 권한이 강화되었다.
- ⑤ (가)에서 (나)로의 변화는 통일 전쟁기에 국왕의 역할이 강화되면서 일어났다.

16. 두 그림과 관련이 있는 인물에 대한 설명으로 옳은 것은? [3점]

一 佛 一 心 一 時 一 正 一 覺 一 生 一 形
 一 身 一 無 一 是 一 即 一 方 一 成 一 實 一 證 一 思 一 不 一 意 一 思
 一 即 一 功 一 念 一 別 一 佛 一 實 一 大 一 人 一 如 一 衆
 一 多 一 九 一 象 一 即 一 一 切 一 隨 一 海 一 入 一 能 一 出 一 常
 一 切 一 世 一 一 念 一 隨 一 別 一 印 一 三 一 昧 一 中 一 實 一 共
 一 走 一 如 一 亦 一 中 一 難 一 分 一 無 一 然 一 冥 一 理 一 和
 一 世 一 互 一 相 一 即 一 仍 一 不 一 兼 一 生 一 隨 一 器 一 得 一 利 一 益 一 是
 一 相 一 二 一 無 一 體 一 惟 一 法 一 回 一 源 一 本 一 源 一 者 一 行 一 故
 一 請 一 智 一 所 一 知 一 非 一 餘 一 佛 一 德 一 實 一 莊 一 嚴 一 法 一 界
 一 中 一 法 一 說 一 真 一 性 一 實 一 境 一 妙 一 無 一 隨 一 家 一 歸 一 意 一 實
 一 多 一 不 一 切 一 理 一 一 無 一 妙 一 名 一 想 一 尼 一 分 一 得 一 資 一 印 一 實
 一 切 一 動 一 一 語 一 一 無 一 不 一 勤 一 必 一 疑 一 光 一 以 一 權 一 疑 一 疑
 一 本 一 來 一 寂 一 無 一 名 一 守 一 不 一 得 一 無 一 緣 一 善 一 巧 一 窮
 一 中 一 一 成 一 緣 一 隨 一 性 一 自 一 來 一 觀 一 東 一 道 一 中 一 觀 一 實 一 生

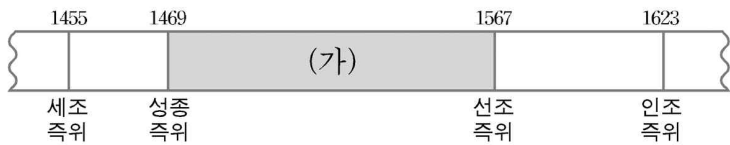


화엄일승법계도

영주 부석사

- ① 화엄종을 중심으로 교종을 통합하려 하였다.
- ② 보살의 실천행을 펴고 국왕의 지원으로 화엄 사상을 정비하였다.
- ③ 6두품 지식인들과 함께 고려 사회 건설에 사상적 바탕을 마련해 주었다.
- ④ 일심 사상을 바탕으로 다른 종파들과 사상적 대립을 조화시키고자 하였다.
- ⑤ 화엄 사상을 바탕으로 교단을 형성하고 아미타 신앙과 함께 관음 신앙을 이끌었다.

17. 연표의 (가) 시기에 (나)와 같은 주장을 한 정치 세력에 대한 설명으로 옳은 것은?



(나) 중국 한나라의 현량과 제도를 따라 어진 이를 천거하여 등용해야 합니다. 비록 한두 사람이 천거에 빠진다 하더라도 주저할 것이 없이 시행해야 합니다. 공론(公論)이 없으면 그만이지만 공론이 있으니 좋은 일을 폐지해서는 안 됩니다. 옳습니까?

- ① 막대한 토지를 소유한 대지주층이었다.
- ② 성리학에만 국한하지 않고 민간 신앙 등을 포용하였다.
- ③ 소격서 폐지와 소학 보급 등을 주요 정책으로 삼았다.
- ④ 중앙의 권력을 바탕으로 향촌 사회를 장악하려고 하였다.
- ⑤ 관학파의 학풍을 계승하여 문물 제도 정비에 크게 기여하였다.

18. 다음은 조선 시대 일본과의 관계를 정리한 것이다. 이와 관련된 서술로 옳은 것을 <보기>에서 모두 고른 것은? [3점]

- (가) 이종무는 병선 227척, 병사 17,000명을 이끌고 쓰시마 섬을 토벌하였다.
- (나) 신숙주는 일본에 다녀와 전문기인 『해동제국기』를 썼다.
- (다) 안용복은 울릉도에 출몰하는 일본 어민을 내쫓았다.

—<보기>—

- ㄱ. (가)로 인하여 일본으로부터 왜구의 근절을 약속받았다.
- ㄴ. (나)를 계기로 조선은 군사 문제를 전담하는 비변사를 설치하였다.
- ㄷ. (다)는 울릉도와 독도가 조선의 영토임을 확인하는 계기가 되었다.
- ㄹ. (가), (나) 이후 일본과의 교류가 일시적으로 단절되었다.

- ① ㄱ, ㄴ ② ㄱ, ㄷ ③ ㄴ, ㄷ ④ ㄴ, ㄹ ⑤ ㄷ, ㄹ

19. 다음 두 관료의 묘지명에서 밑줄 친 부분에 대한 추론 중 옳은 것을 <보기>에서 모두 고른 것은? [3점]

양원준	임익돈
할아버지 : 정위를 받음	할아버지 : 공부상서(3품)를 지냄
아버지 : 검교첨사를 지냄	아버지 : 함문지후(7품)를 지냄
1089년 : 태어남	1163년 : 태어남
11△△년 : 음서로 벼슬살이 시작	11△△년 : ㉠음서로 벼슬살이 시작
1143년 : 어사대 중승(4품)에 임명	1215년 : 병부원외랑(6품)에 임명
1151년 : ㉡추밀원 승선(3품)에 임명	1220년 : ㉢소부감(4품)에 임명
1156년 : ㉣중서시랑평장사(2품)에 임명	1225년 : 삼사사(3품)에 임명
1158년 : 죽음	1227년 : 죽음
유족 : 부인 노씨와 3남 1녀	유족 : 부인 박씨와 4남 2녀

—<보기>—

- ㄱ. ㉡ : 추밀의 일원으로 도병마사 회의에 참여했을 것이다.
- ㄴ. ㉣ : 과전, 녹봉 및 공음전 등을 국가로부터 받았을 것이다.
- ㄷ. ㉠ : 아버지 음서의 혜택을 받아 벼슬을 시작하였을 것이다.
- ㄹ. ㉢ : 아들은 국가감의 유학부에 입학할 수 있었을 것이다.

- ① ㄱ, ㄴ ② ㄱ, ㄷ ③ ㄴ, ㄹ
- ④ ㄱ, ㄷ, ㄹ ⑤ ㄴ, ㄷ, ㄹ

20. 다음 자료를 읽은 학생들의 추론으로 적절하지 않은 것은?

- 발해 무왕 8년(726), 왕이 말하기를 “흑수말갈이 당나라에 벼슬을 청하면서 우리에게 알리지 않았으니, 이는 반드시 당나라와 우리를 앞뒤에서 치려는 것이다.”라고 하였다.
- 무왕 9년(727), 사신 고인의 등 24인을 일본에 파견하여 국서를 전했다.
- 신라 성덕왕 30년(731), 일본국의 병선 3백 척이 신라의 동쪽 변경을 습격했다. 왕이 군대를 보내 일본군을 물리쳤다.
- 성덕왕 32년(733), 발해가 당의 등주를 공격하였다. 당 현종이 신라에 원병을 청하자 왕은 병력을 출동시켜 발해의 남쪽 지방을 치게 했다.

- ① 아영 - 당은 신라를 이용해 발해를 견제했어.
- ② 지원 - 발해는 일본과 연결하여 신라를 견제했어.
- ③ 태희 - 발해가 팽창하자 흑수말갈이 당에 접근했어.
- ④ 현준 - 발해는 여러 말갈족들을 복속시키고 요동으로 진출했어.
- ⑤ 윤구 - 당과 흑수말갈의 연결에 대응하여 발해는 군사 행동을 했어.

* 확인 사항
 ○ 답안지의 해당란에 필요한 내용을 정확히 기입(표기)했는지 확인 하시오.