

제 4 교시

사회탐구 영역 (한국 지리)

성명 수험 번호

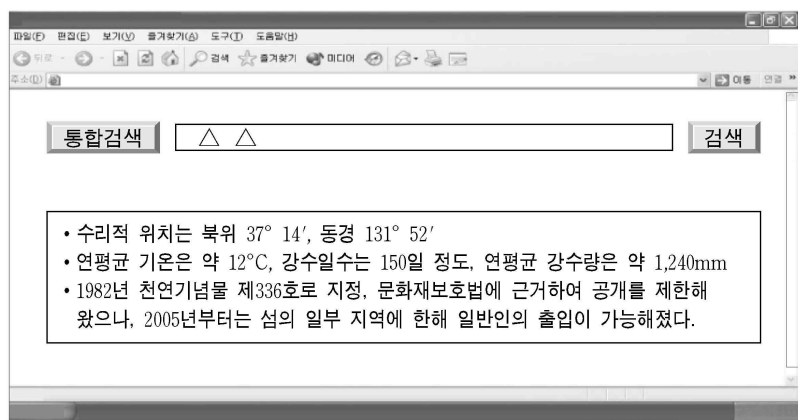
- 자신이 선택한 과목의 문제지인지 확인하십시오.
- 문제지에 성명과 수험 번호를 정확히 써 넣으시오.
- 답안지에 성명과 수험 번호를 써 넣고, 또 수험 번호와 답을 정확히 표시하십시오.
- 과목을 선택한 순서대로 풀고, 답은 답안지의 '제1선택'란에서부터 차례대로 표시하십시오.
- 문항에 따라 배점이 다르니, 각 물음의 끝에 표시된 배점을 참고하십시오. 3점 문항에만 점수가 표시되어 있습니다. 점수 표시가 없는 문항은 모두 2점입니다.

1. 다음 글은 어떤 학생이 작성한 답사 보고서이다. 밑줄 친 현상이 나타난 원인으로 가장 적절한 것은? [3점]

주제	경기 북부 지역의 자연 및 인문 환경
일시	2006. 3. 27 ~ 3. 30(3박 4일)
<p>..... 며칠 전에는 최고 기온이 19.4℃까지 올라갔는데, 답사 이틀째인 28일에는 바람이 강하게 불기 시작하더니 <u>최고 기온이 6.2℃로 뚝 떨어졌고</u>, 29일 새벽에는 <u>-3.9℃까지 내려갔다</u>. 오후부터 간간히 내리던 비는 결국 함박눈으로 바뀌어 나머지 일정을 취소하고 숙소로 이동해야만 했다.</p>	

- ① 북태평양 기단이 한반도를 점령
- ② 후퇴하던 시베리아 기단의 일시적인 확장
- ③ 오호츠크해 기단에서 강한 북동 기류 유입
- ④ 오호츠크해 기단과 북태평양 기단이 만나서 정체
- ⑤ 고기압에 이어 양쯔강 유역에서 저기압이 우리나라로 이동

2. 그림은 △△ 지역에 대한 인터넷 검색 결과이다. △△ 지역에 대한 설명으로 옳지 않은 것을 <보기>에서 고른 것은? [3점]

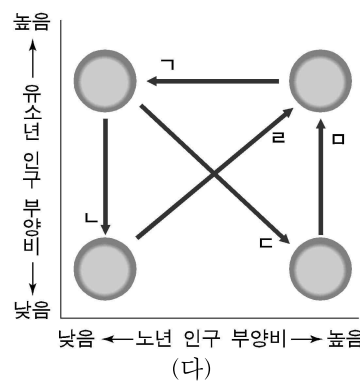
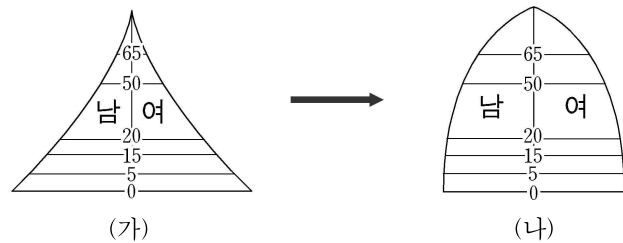


<보 기>

이 곳은 ㉠우리나라의 동쪽 끝에 위치한다. ㉡섬 전체가 환경사의 순상 화산을 이루고 있으며, ㉢과랑 침식에 의한 해식에, 해식동, 시 스택 등의 지형이 발달하였다. 그리고 이 지역 주변은 ㉣조경 수역을 이루고 있어 어족 자원이 풍부하고, ㉤인근 해저에는 경제적 가치가 있는 고체 천연 가스(하이드레이트)가 분포하는 것으로 알려져 있다.

- ① ㉠ ② ㉡ ③ ㉢ ④ ㉣ ⑤ ㉤

3. 인구 구조가 (가)에서 (나)로 변했을 때, 인구 부양비의 변화를 (다)에서 고른 것은? [3점]

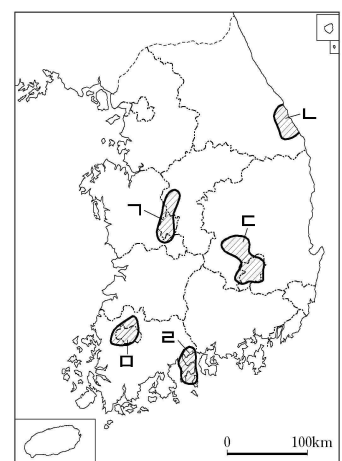


- 유소년 인구 부양비 = (0~14세 인구/15~64세 인구)×100
- 노년 인구 부양비 = (65세 이상 인구/15~64세 인구)×100

- ① 가 ② 나 ③ 다 ④ 라 ⑤ 마

4. (가)는 어느 공업 지역에 입주한 기업가들의 대화 내용이다. 이에 해당하는 공업 지역을 (나)에서 고른 것은?

A : 수도권에서 공장 확장이 어려워 이전했는데, 정말 잘 온 것 같아.
 B : 육상 교통 여건이 좋아서 많이 편리하잖아.
 A : 행정 지원을 포함한 각종 혜택도 큰 도움이 되었어.
 B : 인근에 대단위 연구단지가 있어 고급 인력 및 기술을 활용하기가 좋아.



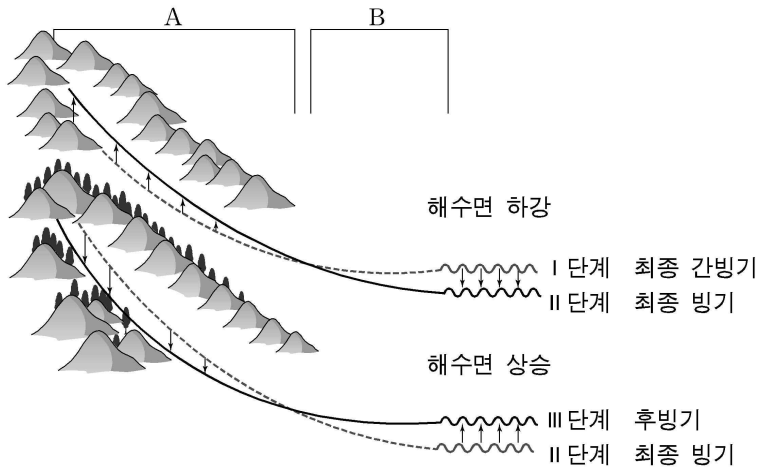
- ① 가 ② 나 ③ 다 ④ 라 ⑤ 마

5. 다음 글의 밑줄 친 부분에 대한 설명으로 옳지 않은 것은?

우리나라 대하천의 상류에서는 ㉠하방침식이 우세하여 깊고 좁은 골짜기가 만들어진다. ㉡운반 중인 자갈들은 기반암과 부딪쳐 마모된다. 중류에서는 퇴적지형이 소규모로 나타나며 ㉢하중도가 형성되기도 한다. 하류에서는 비교적 넓은 범람원이 발달하며, 그 위를 흐르는 ㉣작은 지류들은 곡류한다. 그리고 하구에서는 ㉤갯벌이나 삼각주를 볼 수 있다.

- ① ㉠ - 대하천의 상류에서는 유량이 풍부하기 때문이다.
- ② ㉡ - 자갈은 상류에서 멀리 운반될수록 둥글게 된다.
- ③ ㉢ - 퇴적물의 양이 많고 유속이 느려지는 곳에 잘 형성된다.
- ④ ㉣ - 유로 이동에 제한을 받지 않는 자유곡류이다.
- ⑤ ㉤ - 조차가 큰 해안에서 잘 발달한다.

6. 그림을 보고 학생들이 발표한 내용으로 옳지 않은 것은?



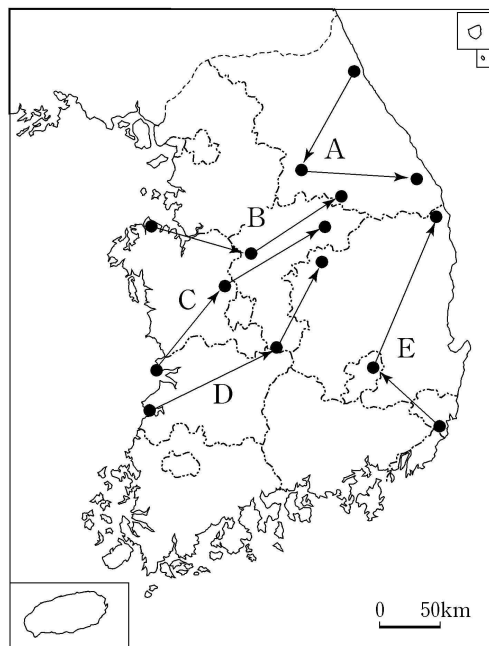
발표 주제 : 기후 변동에 따른 하천 작용의 변화

교사 : 최종 빙기에는 어떤 현상이 나타났었는지 말해봅시다.
 종헌 : 해수면이 하강하니까 B 부분이 깊게 파였을 것입니다.
 민영 : A에서는 식생피복이 빈약하고 기계적 풍화도 활발해졌을 것입니다.
 현숙 : 그럼 A에는 많은 퇴적물이 쌓였을 것입니다.
 교사 : 그러면 후빙기에는 어떤 현상이 나타났을까요?
 민호 : 침식기준면이 낮아졌을 것입니다.
 경란 : B에서는 퇴적이 활발해졌을 것입니다.

- ① 종헌 ② 민영 ③ 현숙 ④ 민호 ⑤ 경란

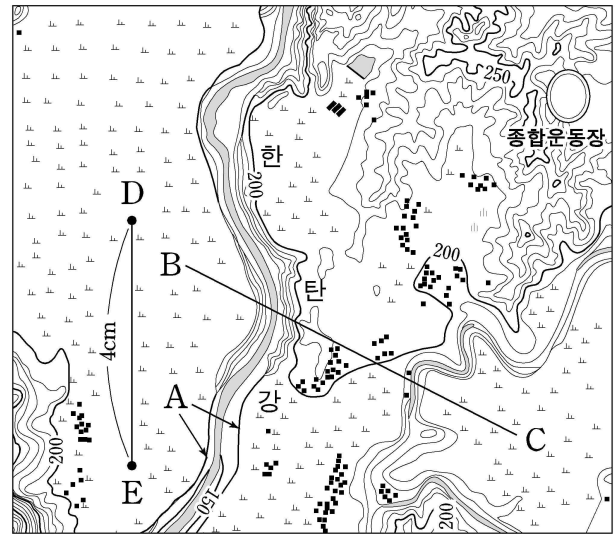
7. 다음 글은 학생이 작성한 여행기의 일부이다. 여행 경로를 바르게 나타낸 것은? [3점]

○ 첫째 날 : 1991년에 시작된 이 사업은 중단과 재개를 거듭하다가, 2006년에 길이 33km의 방조제 물막이 공사를 완료하였다고 한다.....
 ○ 둘째 날 :과도한 수도권집중과 지역 불균형을 해소하기 위하여 중앙행정기관 12부 4처 2청 등을 이곳으로 이전하기로 했다고 한다.....
 ○ 셋째 날 : 중유석이 풍부한 석회 동굴과 석회암의 용식으로 형성된 돌리네가 곳곳에 분포하고 있었다.....



- ① A ② B ③ C ④ D ⑤ E

8. 지도를 읽고 분석한 내용으로 옳지 않은 것은? [3점]

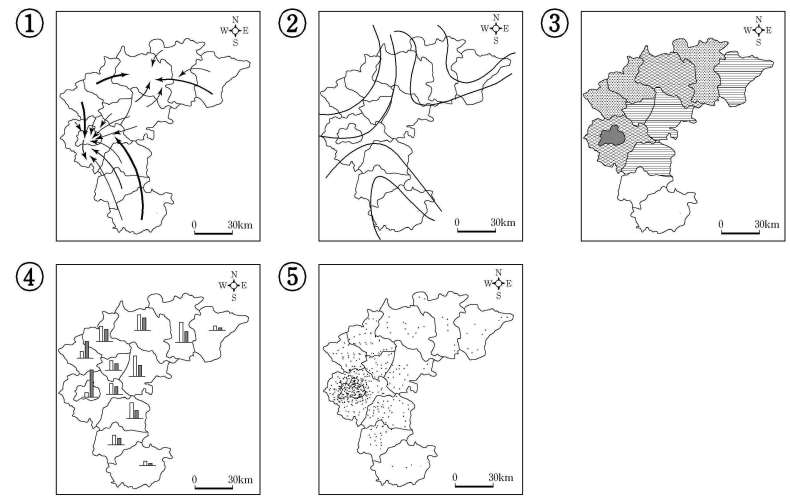


- ① A는 수직에 가까운 절벽이다.
 ② B-C의 단면 형태는 [] 이다.
 ③ D-E의 실제 거리는 2km이다.
 ④ 농경지는 대부분 논으로 이용된다.
 ⑤ 종합운동장은 E의 북동쪽에 위치한다.

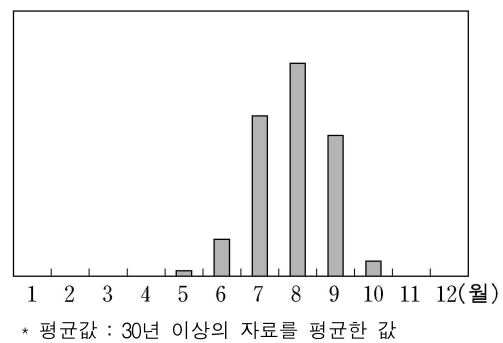
9. 표는 ○○지역의 시군별 정당 지지도를 나타낸 것이다. 이를 한 장의 통계 지도로 표현하고자 할 때 가장 적합한 유형은?

(단위 : %)

정당 \ 지역	△△시	□□시	◇◇군	...
A당	27	38	27	...
B당	25	17	22	...
C당	33	11	23	...

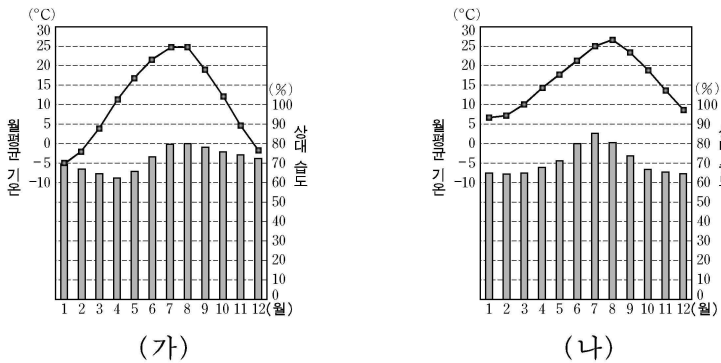


10. 그래프는 어떤 기후 요소의 월별 평년값을 나타낸 것이다. 이에 해당하는 것은?



- ① 제주도의 일조시수 ② 영동 지방의 결빙일수
 ③ 남서 해안 지역의 안개일수 ④ 중부 내륙 지방의 무상일수
 ⑤ 우리나라에 태풍이 불어 온 횟수

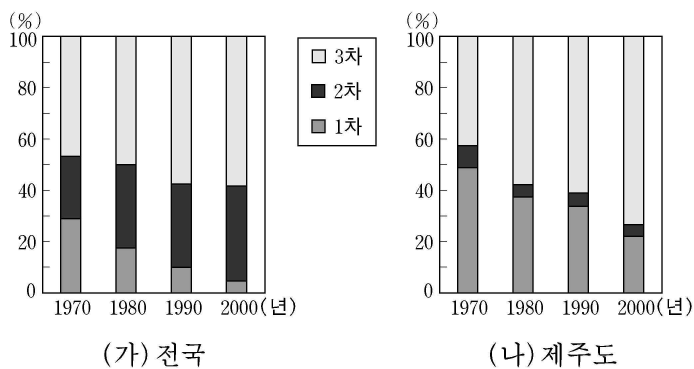
11. (가)와 (나)는 어느 두 지역의 기후 그래프이다. 이를 통해 각 지역의 특성을 추론한 내용으로 옳지 않은 것은? [3점]



* 상대 습도(%) : (어떤 기온의 수증기압/어떤 기온의 포화 수증기압) × 100

- ① (가)는 냉대 기후에 속할 것이다.
- ② (가)의 산발 발생 가능성은 봄철에 가장 높을 것이다.
- ③ (나)에는 난대림이 자랄 것이다.
- ④ (가), (나) 모두 여름철에 고온다습할 것이다.
- ⑤ (가)는 (나)보다 해양의 영향을 많이 받을 것이다.

12. (가), (나)는 산업별 생산액 구성비의 변화를 나타낸 것이다. 이에 대한 설명으로 옳은 것을 <보기>에서 모두 고른 것은?



<보 기>

- ㄱ. 제주도의 경제는 2차 산업이 주도하고 있다.
- ㄴ. 제주도는 전국에 비해 1차 산업의 비중이 높다.
- ㄷ. 제주도는 3차 산업의 비중이 점차 높아지고 있다.
- ㄹ. 제주도와 전국의 산업별 생산액 구조는 동일하다.

- ① ㄱ, ㄴ ② ㄱ, ㄷ ③ ㄴ, ㄷ ④ ㄴ, ㄹ ⑤ ㄷ, ㄹ

13. 표를 통해 탐구할 수 있는 주제로 적절한 것을 <보기>에서 모두 고른 것은? (단위: mm, %)

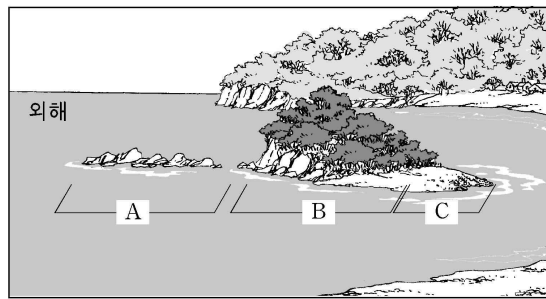
지역	여름 강수량(A)	연 강수량(B)	(A/B)×100
서울	809.2	1,344.3	60.2
인천	661.3	1,152.3	57.4
대구	553.2	1,027.7	53.8
⋮	⋮	⋮	⋮
전국 평균	680.5	1,316.9	51.7

<보 기>

- ㄱ. 다목적 댐을 건설하는 이유
- ㄴ. 유역 변경식 발전소를 건설한 이유
- ㄷ. 범람원에 집을 지을 때 터돋음을 했던 이유
- ㄹ. 울릉도의 가옥에서 우데기를 만들었던 이유

- ① ㄱ, ㄴ ② ㄱ, ㄷ ③ ㄴ, ㄷ ④ ㄴ, ㄹ ⑤ ㄷ, ㄹ

14. 그림은 남해안의 어떤 섬을 스케치한 것이다. 이에 대한 설명으로 옳은 것을 <보기>에서 모두 고른 것은? [3점]

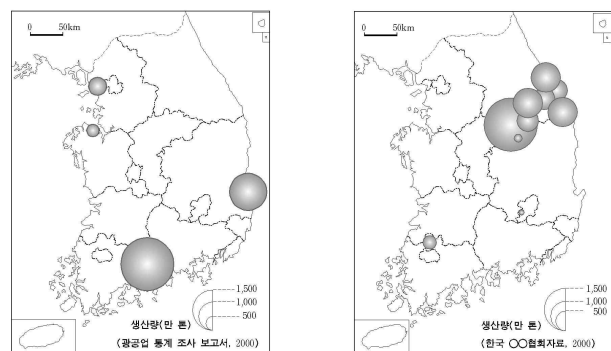


<보 기>

- ㄱ. A는 파랑의 영향을 직접 받는다.
- ㄴ. B의 왼쪽 사면은 침식이 진행되지 않는다.
- ㄷ. C에는 자갈과 모래가 쌓여 사주가 성장한다.
- ㄹ. A의 높이가 B보다 낮은 주된 요인은 기반암 때문이다.

- ① ㄱ, ㄴ ② ㄱ, ㄷ ③ ㄴ, ㄷ ④ ㄴ, ㄹ ⑤ ㄷ, ㄹ

15. (가), (나)는 어느 공업의 분포를 나타낸 것이다. 각 공업의 특징을 설명한 것으로 옳은 것은?

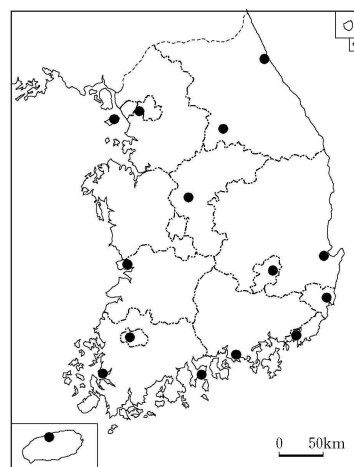


(가)

(나)

- ① (가)는 저렴하고 풍부한 노동력을 찾아서 입지한다.
- ② (가)는 부패하거나 변질되기 쉬운 원료를 사용한다.
- ③ (나)는 원료의 대부분을 수입에 의존한다.
- ④ (나)는 제조 과정에서 원료에 비해 제품의 무게가 감소한다.
- ⑤ (가)와 (나)는 1960년대 우리나라의 공업화를 주도하였다.


16. 지도는 특정 운송 수단과 관련된 시설이 입지한 곳을 나타낸다. 해당 운송 수단의 특징으로 옳은 것은? (단, 이 시설은 지도에 표시된 곳에만 입지한다.) [3점]



- ① 국내외 연결 유리, 신속성, 높은 운송비
- ② 신속성, 높은 문전 연결성, 연계 교통망 구축
- ③ 소량 수송, 단거리 수송에 유리, 높은 문전 연결성
- ④ 대량 승객 수송, 대형 화물의 대량 수송, 높은 안전성
- ⑤ 휴양 여행, 대형 화물의 대량 수송, 장거리 수송에 유리

17. 다음 글은 고전(古典)의 일부를 번역한 것이다. 이 글의 내용과 관련 있는 지형이 잘 나타난 지도는? [3점]

…… 바라다보면 주위가 모두 산으로 둘러싸이고, 그 봉우리들이 높고 높아서 …<중략>… 고만고만한 언덕이 꾸불꾸불 이어지고, 누른 눈발은 가로세로 펼쳐져 있어 ……

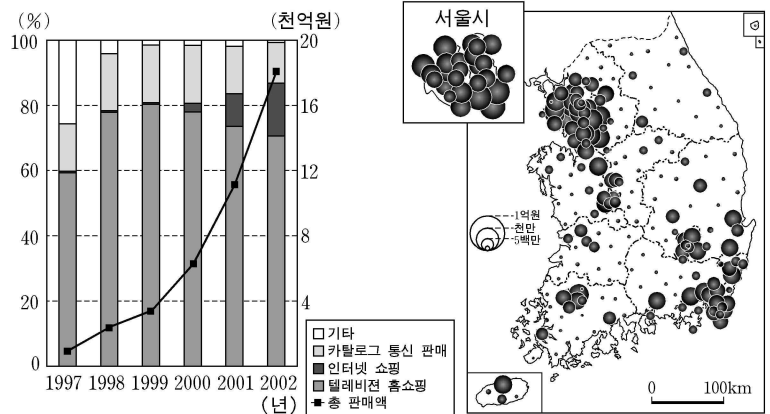


18. 다음 글은 우리나라의 해외 자원 개발에 관한 기사 일부이다. 이를 통해 추론한 내용으로 적절하지 않은 것은?

○ 우리나라는 자원 무기화에 대응하여 해외 유전 개발에 착수하였고, 드디어 산유국의 꿈을 이루게 되었다. 마리브 유전과 베트남 광구 성공 사례를 포함하여 예멘, 인도네시아, 이집트, 오만 등 세계 각지에서 현재 70여 개 사업을 추진하고 있다.
○ 국제 목재 시장이 동남아 국가들의 정세 변동으로 요동치자, ○○ 기업은 조림 사업에 직접 뛰어 들었다. 이 기업은 남태평양 △△ 섬에서 8,000만 평의 땅을 구입하여 25년 만에 세계적인 인공 열대림을 조성하였다. 원목 생산이 본격적으로 이루어지면, 우리나라 연간 원목 수입량의 절반 이상이 충당될 정도이다.

- ① 자원 확보 경로가 다변화될 수 있다.
- ② 해외에서 다양한 자원의 개발이 가능하다.
- ③ 자원 공급의 불균형과 불안정이 완화될 수 있다.
- ④ 자원 공급 문제는 대외적 요인과의 관계가 깊다.
- ⑤ 새로운 종류의 대체 자원 개발이 촉진될 수 있다.

19. (가), (나)는 우리나라의 대표적인 홈쇼핑 기업인 ○○ 회사에 관한 자료이다. 이에 대한 해석으로 옳은 것을 <보기>에서 모두 고른 것은?

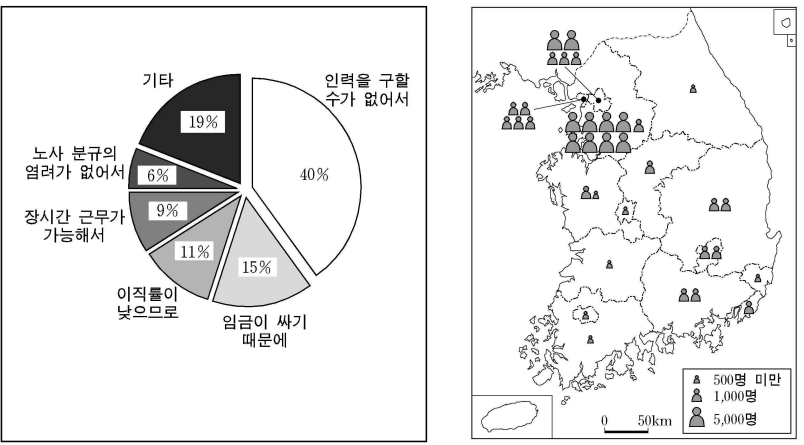


(가) 홈쇼핑 매출별 판매액 추이 (나) 인터넷 쇼핑 판매액의 지역 분포
* (나)는 3, 6, 9, 12월 셋째주 금요일 판매액의 합계에 기초함.

<보 기>
 ㄱ. 인터넷 쇼핑 판매액은 도시보다 농촌이 많다.
 ㄴ. 인터넷 쇼핑 판매액은 서울에서 멀어질수록 계속 감소한다.
 ㄷ. 인터넷 쇼핑 판매액 비중이 최근 가장 빠르게 성장하고 있다.
 ㄹ. (나)는 인구 특성과 정보통신기반시설 활용의 지역 차이와 관련이 있다.

- ① ㄱ, ㄴ ② ㄱ, ㄷ ③ ㄴ, ㄷ ④ ㄴ, ㄹ ⑤ ㄷ, ㄹ

20. (가), (나)는 우리나라 제조업의 미숙련 외국인 노동자 고용에 관한 자료이다. 이에 대한 설명으로 옳은 것을 <보기>에서 모두 고른 것은? [3점]



(가) 고용 이유에 대한 설문 결과 (나) 시도별 분포

<보 기>
 ㄱ. 외국인 노동자는 수도권에 집중되어 있다.
 ㄴ. 외국인 노동자의 분포는 대기업 생산시설의 분포와 일치한다.
 ㄷ. 외국인 노동자 고용은 미숙련 노동력의 부족 문제를 완화시킨다.
 ㄹ. 외국인 노동자를 고용하는 가장 큰 이유는 장시간 근무가 가능하기 때문이다.

- ① ㄱ, ㄴ ② ㄱ, ㄷ ③ ㄴ, ㄷ ④ ㄴ, ㄹ ⑤ ㄷ, ㄹ

* 확인 사항
 ○ 답안지의 해당란에 필요한 내용을 정확히 기입(표기)했는지 확인 하시오.