

제 4 교시

사회탐구 영역 (정치)

성명		수험 번호																	
----	--	-------	--	--	--	--	--	--	--	--	--	--	--	--	--	--	--	--	--

- 자신이 선택한 과목의 문제지인지 확인하십시오.
- 문제지에 성명과 수험 번호를 정확히 써 넣으시오.
- 답안지에 성명과 수험 번호를 써 넣고, 또 수험 번호와 답을 정확히 표시하십시오.
- 과목을 선택한 순서대로 풀고, 답은 답안지의 '제1선택'란에서부터 차례대로 표시하십시오.
- 문항에 따라 배점이 다르니, 각 물음의 끝에 표시된 배점을 참고하십시오. 3점 문항에만 점수가 표시되어 있습니다. 점수 표시가 없는 문항은 모두 2점입니다.

1. (가)에 들어갈 대화 내용으로 가장 적절한 것은?



- ① 재산권의 공공성이 강조되기 시작했네요.
- ② 절대 군주의 정치적 중립성이 확고해졌네요.
- ③ 통치 권력이 시민으로부터 비롯된다고 보았겠네요.
- ④ 정부의 적극적인 역할로 복지 사회가 이루어졌겠네요.
- ⑤ 시민의 권리를 보장하기 위해 정부의 권한이 커졌겠네요.

2. 다음 글에 나타난 변경된 선거 제도에 대한 설명으로 적절한 것을 <보기>에서 모두 고른 것은? [3점]

유권자들의 투표 방식은 계속 변해 왔다. 지방 선거의 경우, 시·도의 정당별 지역구 후보의 득표수를 합산하여 정당별로 광역 비례 대표 의원을 배정해 왔다. 하지만 2002년부터 유권자들은 광역 비례 대표 의원 선출을 위해 정당 명부식 투표를 했다. 최근 비례 대표 의원은 기초 의회까지 확대되었다. 즉, 유권자들은 2006년부터 기초 의회도 의원 정수의 10%를 정당 명부식 투표를 통해 비례 대표 의원으로 선출하게 되었다. 결국 유권자들은 지방 의회 구성을 위해 모두 4표를 행사하게 되었다.

<보 기>

- ㄱ. 유권자는 기초 의회 구성을 위해 2표를 행사한다.
- ㄴ. 광역 의원 선거의 경우 정당 공천제가 실시되지 않는다.
- ㄷ. 광역 및 기초 의원 후보 선정 과정에 유권자들의 참여 폭이 증대된다.
- ㄹ. 비례 대표 의원 선출 과정에 유권자들의 의사가 보다 충실하게 반영된다.

- ① ㄱ, ㄴ ② ㄱ, ㄹ ③ ㄴ, ㄷ
- ④ ㄱ, ㄷ, ㄹ ⑤ ㄴ, ㄷ, ㄹ

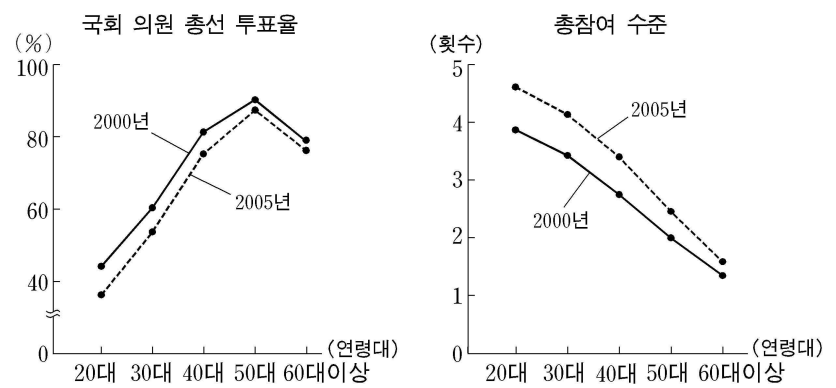
3. 다음 (가), (나)에 나타난 정치 체제에 대한 설명으로 적절한 것은?

(가) 1972년 유신 헌법 아래의 제4공화국에서 대통령은 연임 제한 없이 국민의 직접 선거로 구성된 통일 주체 국민 회의에서 선출되었다. 통일 주체 국민 회의는 국회 의원 정수의 3분의 1에 해당하는 수의 국회 의원을 선출하였다. 또한 정기 국회 회기는 단축되었고 대법관을 포함한 모든 법관을 대통령이 임명하였다.

(나) 1987년 제9차 개헌으로 탄생한 제6공화국에서는 국민이 직접 선거를 통해 5년 단임의 임기를 갖는 대통령을 선출하고, 국무 총리는 대통령을 보좌하며 행정 각 부를 통할하게 하였다. 또한 국회의 권한을 강화하였으며 사법권의 독립을 제고하고 헌법 재판 기관의 권한을 확대하였다.

- ① (가)의 경우 대통령의 권한이 엄격한 삼권 분립 원칙에 따라 행사된다.
- ② (가)의 경우 의회 구성 방법이 다원화되어 입법 활동이 활성화된다.
- ③ (나)의 경우 국정 연속성이 떨어질 수 있는 단점을 가지고 있다.
- ④ (나)의 경우 국무 총리가 국정 운영의 중심으로 내각과 의회를 주도한다.
- ⑤ (나)에 비해 (가)는 국회가 국민에 대한 정치적 책임에 민감한 정부 형태이다.

4. 그래프는 A국의 정치 과정에 대한 자료이다. 이를 바탕으로 수행할 수 있는 탐구 과제로 적절하지 않은 것은? [3점]



* 총참여 수준 : 진정서 서명, 상품 구매·불매 운동 참가, 시민 운동 참가, 정치 집회 및 시위 참가, 언론 기관·공직자 접촉, 정치 자금 기부 등의 평균 참여 횟수를 말하며 총선 투표율은 제외함.

- ① 세대 간 정치 참여 수준 조사
- ② 세대 간 총선 투표 참여율의 변화 조사
- ③ 각 세대별 시민 단체 선호도 비교 조사
- ④ 각 세대별 정치 참여 유형의 변화 조사
- ⑤ 투표와 투표 이외의 정치 참여 비교 조사

5. 다음 글의 요지와 가장 부합하는 진술을 한 사람은?

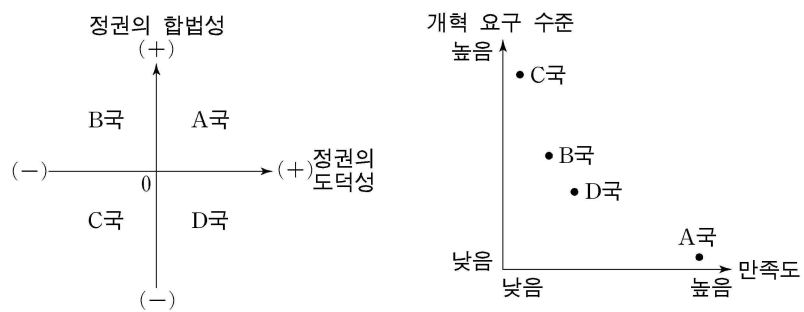
민주주의는 시민의 참여와 지배를 전제하고 있다. 오늘날 대부분의 국가는 국민 자치의 이상을 실현하기 위해 신임과 책임 및 통제의 원리에 입각한 대의 민주주의를 실시하고 있다. 그런데 시민들의 정치에 대한 관심이 낮아지고 있으며, 각종 선거의 참여율도 지속적으로 하락하여 대표자의 정치적 정당성은 약화되고 있다. 또한 공직자는 출마 당시의 공약과는 달리 소속된 정당이나 개인의 이익에 따라 정책 결정을 하기도 한다. 따라서 일반 시민이 정치적 의사 결정 과정에 영향력을 행사하는 참여 민주주의가 이러한 문제의 해결책으로 제시되고 있다.

- ① 갑 : 참여 민주주의는 직접 민주주의 실현의 전제 조건이야.
- ② 을 : 공정한 선거의 실시는 대의 민주주의의 성공을 보장하지.
- ③ 병 : 대표자의 대표성이 커지면 참여 민주주의가 실현될 수 있어.
- ④ 정 : 공약에 부합하는 정책을 결정하면 참여 민주주의가 실현될 거야.
- ⑤ 무 : 능동적인 정치 참여는 부당한 정치 권력을 견제하는 수단이야.

6. 다음 글을 바탕으로 그림을 설명한 것으로 가장 적절한 것은?

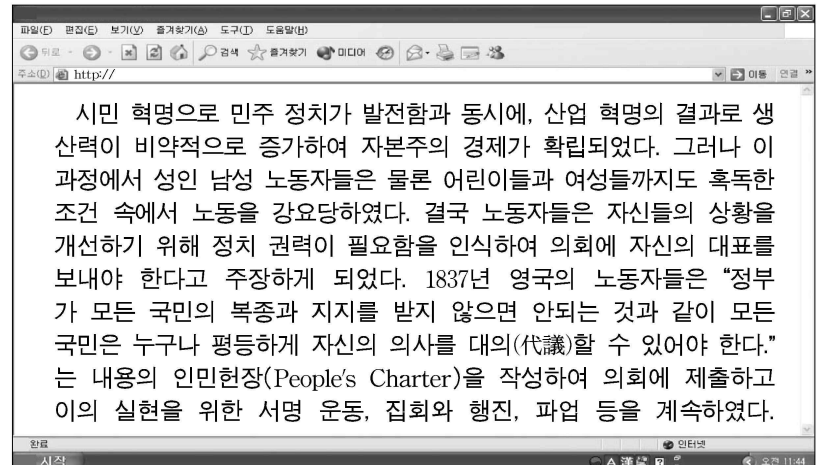
[3점]

정권의 정당성을 합법성과 도덕성의 측면에서 파악한다면, 합법성은 정치 권력 획득이 적법 절차에 따라 이뤄지는지의 여부에 달려 있으며, 도덕성은 정치 권력의 행사가 사회적 기본 가치나 민주 사회의 이념에 부합하는지의 여부로 판단된다. 또한 이러한 정당성 여부가 정권에 대한 만족도와 개혁 요구 수준으로 측정되는 국민의 정권에 대한 정치적 태도를 결정한다.



- ① A국은 B국에 비해 정권의 정당성이 확보되어 있으며 정권에 대한 만족도와 개혁 요구 수준이 상대적으로 높다.
- ② A국은 C국에 비해 정권의 정당성이 확보되어 있으며 정권에 대한 만족도는 높고 개혁 요구 수준은 낮다.
- ③ A국은 D국에 비해 정권의 합법성을 갖추고 있으며 정권에 대한 만족도와 개혁 요구 수준이 상대적으로 낮다.
- ④ 정권의 정당성 확보 측면에서 국가들을 순서대로 나열하면 A > B > C > D 이다.
- ⑤ 정권에 대한 개혁 요구 수준 측면에서 국가들을 순서대로 나열하면 D > C > B > A 이다.

7. 다음은 수업 시간에 제시된 자료이다. 이를 활용할 수 있는 수업의 주제로 적절하지 않은 것은?



- ① 대의제의 한계와 직접 민주제 도입
- ② 정치 참여 확대와 국민 주권 강화
- ③ 참정권의 확보와 시민의 권리 보장
- ④ 시민 혁명의 한계와 기본권의 확대
- ⑤ 보통 선거 제도와 대중 민주주의의 발전

[8~9] 다음 글을 읽고 물음에 답하시오.

A국에서는 유권자들이 정당에 투표하며, 정당의 득표율에 따라 정당별로 의원 당선자를 결정한다. 최근 치러진 총선에서는 ○○당이 전체 의석의 55%를 획득하여 45%를 차지한 △△당을 누르고 재집권에 성공했다. 의회에서 수상으로 선출된 ○○당 대표는 각료 일부를 교체하는 개각을 단행했다. 이 나라에서 대통령은 의회에서 선출되며 국가 원수로서 상징적 역할을 수행한다.

한편, B국은 국민이 대통령을 직접 선출한다. 당선을 위해서는 과반수를 득표해야 하며 1차 투표에서 과반수 득표자가 없을 경우 상위 2명을 대상으로 2차 투표를 실시한다. 최근 선거에서는 □□당 후보가 1차 투표에서 53%를 득표했다. 재선에 성공한 대통령은 기존 각료를 모두 유임시켰다. 총선의 경우, B국은 선거구마다 최다 득표자 1인을 의원으로 선출한다. 지난 총선에서는 ◇◇당이 제1당으로 전체 의석의 45%를 차지했고, 8개 정당이 의회에 진출했다.

8. 위 글로부터 도출할 수 있는 국정 운영과 관련한 설명으로 가장 적절한 것은?

- ① A국에서는 장관과 의원의 겸직이 금지된다.
- ② B국에서는 국가 원수와 행정 수반이 분리된다.
- ③ A국이 B국에 비해 국민 의사 수렴에 불리하다.
- ④ A국이 B국에 비해 입법부와 행정부의 관계가 유기적이다.
- ⑤ A국이 B국에 비해 대통령의 국민에 대한 정치적 책임성이 높다.

9. 위 내용과 관련된 진술로 가장 적절한 것은? [3점]

- ① A국에서는 의원의 지역 대표성이 강화된다.
- ② A국에서는 후보 중심의 선거 운동이 확산된다.
- ③ B국에서는 득표율과 의석률의 차이가 축소된다.
- ④ B국에서는 입법 과정에서 정당 간 연합이 요구된다.
- ⑤ A, B국 모두 정국 안정에 용이한 정당제 유형이다.

10. 다음 글과 일치하지 않는 견해는?

일반 시민들은 정치에 대하여 무지하고 수동적이며 합리적 판단 능력을 가지고 있지 않다. 그들은 정치에 관심도 없을 뿐만 아니라 설사 관심을 가지고 참여한다 하더라도 자신의 이기적·당파적인 입장을 벗어나기 어렵다. 반면 엘리트는 창의적이고 정치적 합리성을 가지고 있을 뿐만 아니라 자신의 입장을 벗어나 공익을 고려할 수 있다.

- ① 공공 정책은 시민들의 타협과 협상의 결과물이어야 한다.
- ② 시민은 사회적 책임성이 결여된 충동적 행동을 하기 쉽다.
- ③ 현대 사회의 정책이나 제도의 수립은 전문가에게 맡겨야 한다.
- ④ 시민의 역할은 유능한 지도자를 선출하는 것에 국한되어야 한다.
- ⑤ 중요한 정치적 결정은 대중의 영향을 받지 않는 정치가에게 맡겨야 한다.

11. 다음 글에 나타난 공천 방식의 변화로 나타날 수 있는 효과를 <보기>에서 모두 고른 것은? [3점]

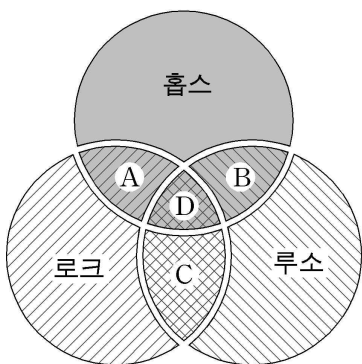
시민과 정부의 연결 고리로서 정당은 선거 과정에 참여하며 공직 후보자를 추천한다. 과거에는 소수의 당 간부가 선거에 나설 후보자를 결정했다. 하지만 최근에는 당원의 참여를 통해 후보자를 선정하는 상향식 방법이 사용되고 있다. 나아가 일반 국민도 자발적 신청을 통해 공직 후보 선출 과정에 참여하기도 한다. 후보자 선출을 위한 선거인단 구성에 있어 당원과 일반 국민의 비율은 정당에 따라 다양하다.

<보 기>

- ㄱ. 정권의 정당성 부여
- ㄴ. 정부와 의회의 관계 긴밀화
- ㄷ. 국민의 능동적 정치 참여 유도
- ㄹ. 정당 내 의사 결정 과정의 민주화
- ㅁ. 시민에 대한 정치 학습 기회 제공

- ① ㄱ, ㄴ ② ㄴ, ㄷ ③ ㄱ, ㄴ, ㄹ
- ④ ㄱ, ㄷ, ㅁ ⑤ ㄷ, ㄹ, ㅁ

12. 그림은 세 학자의 사회 계약론을 비교하여 도식화한 것이다. A~D에 대한 설명으로 옳은 것은? [3점]



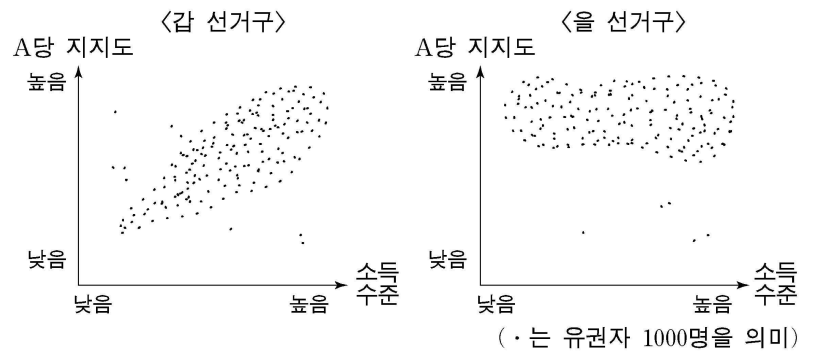
- ① A는 주권이 군주에게 있다는 것이다.
- ② B는 인간의 본성이 악하다는 것이다.
- ③ C는 국민이 주권을 가져야 한다는 것이다.
- ④ D는 적극적 자유를 보장해야 한다는 것이다.
- ⑤ D는 인간의 자연 상태가 자유롭고 평화롭다는 것이다.

13. 다음 사례에 나타난 언론의 기능으로 가장 적절한 것은?

- A국 ○○방송은 식품 영양 학자 △△박사의 건강 요법 프로그램을 시리즈로 방영하였는데, 그 결과 많은 사람들이 건강에 대한 관심을 보이고 식생활 개선에 동참하게 되었다.
- B국 □□대학교에서 3개 도시를 대상으로 방송을 통한 심장병 예방 캠페인을 벌였는데, 그 결과 이 도시 지역 주민들의 심장병 예방에 효과가 있음이 밝혀졌다.

- ① 사회 계몽과 공익 증진에 기여한다.
- ② 사회 통합과 집단 간 갈등 해소에 기여한다.
- ③ 사회 지도층에 대한 감시와 비판의 역할을 수행한다.
- ④ 사회적 쟁점에 대한 신속한 보도로 여론 형성을 돕는다.
- ⑤ 사회 문제에 대한 정확한 보도로 국민의 알 권리를 충족시킨다.

14. 그래프는 소득 수준과 A당 지지도의 관계를 나타낸 것이다. 이에 대한 적절한 해석을 <보기>에서 모두 고른 것은? [3점]



<보 기>

- ㄱ. 갑 선거구의 경우, 소득 수준이 높을수록 A당에 대한 지지도가 높게 나타났다.
- ㄴ. 을 선거구의 경우, 소득 수준과 A당 지지도는 상관 관계가 거의 없는 것으로 나타났다.
- ㄷ. A당은 을 선거구보다 갑 선거구에서 승리할 가능성이 높다.
- ㄹ. 소득 수준이 낮은 유권자들의 A당 지지도는 갑 선거구보다 을 선거구에서 낮게 나타났다.

- ① ㄱ, ㄴ ② ㄱ, ㄹ ③ ㄴ, ㄷ
- ④ ㄱ, ㄷ, ㄹ ⑤ ㄴ, ㄷ, ㄹ

15. 다음 당선자 결정 방식의 목표로 가장 적절한 것은? [3점]

유권자들은 두 명의 후보를 선정하여 제1, 제2 선호를 표시하여 투표한다. 총 69표 중, 후보 A는 20표, B는 13표, C는 21표, D는 15표를 각각 제1 선호표로 얻어 과반수 득표자가 없다. 따라서 제1 선호 투표에서 상위 1, 2위를 제외한 후보의 제2 선호 투표 결과를 상위 1, 2위의 제1 선호 득표수에 합산, 최다 득표자를 당선자로 한다. B 후보를 제1 선호로 한 경우 제2 선호 투표 결과, A는 8표, C는 3표이고, D 후보를 제1 선호로 한 경우 제2 선호 투표 결과, A는 8표, C는 4표이다. 결과적으로 36표를 얻은 A 후보가 선출된다.

- ① 선거 공영제 확대 ② 대표의 정당성 강화
- ③ 평등 선거의 원칙 실현 ④ 직접 선거의 원칙 실현
- ⑤ 유권자의 투표 참여 확대

16. 다음 (가)~(다)에 대한 적절한 설명을 <보기>에서 모두 고른 것은? [3점]

- (가) 세상을 있는 그대로 방임해 둔다는 말은 들었어도, 세상을 다스린다는 말은 못 들었다. 세상을 있는 그대로 두는 것은 사람들의 본성이 오염될까 염려해서요, 세상을 방임해 두는 것은 사람들의 덕성이 변할까 염려해서이다.
- (나) 자기가 서고 싶으면 남을 서게하고, 자기가 달성하고 싶으면 남을 달성하게 하라. 이는 남의 입장에서 자기를 비추어 볼 수 있어야 한다는 것이다.
- (다) 지금이 바로, 어둡고 외진 인종 차별의 계곡에서 벗어나 햇살 환히 비추는 인종 간의 정의(正義)의 길에 들어설 때입니다. 지금이 바로, 인종 간의 불의(不義)라는 모래 위에서 형제애라는 단단한 바위 위로 올라서야 할 때입니다.

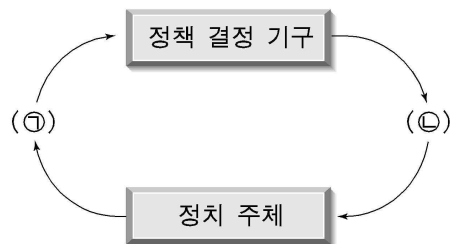
<보 기>

- ㄱ. (가)는 정치 참여의 중요성을 강조하고 있다.
- ㄴ. (나)는 민주적 생활 양식 중 관용과 관련이 있다.
- ㄷ. (다)는 모든 인간을 평등하게 취급하며 권리에 있어서도 평등하다는 것이다.
- ㄹ. (가), (나), (다) 모두 천부 인권설을 배경으로 하고 있다.

- ① ㄱ, ㄴ ② ㄱ, ㄷ ③ ㄴ, ㄷ ④ ㄴ, ㄹ ⑤ ㄷ, ㄹ

17. 다음 내용을 바탕으로 한 진술로 적절하지 않은 것은? [3점]

- 전쟁의 위협과 궁핍을 경험한 세대는 고도 경제 성장, 방위력 증강, 물가 안정 등 '물질적 가치'를 추구한다. 반면 물질적 풍요 속에서 성장한 전후(戰後)세대는 환경 개선, 정치 참여와 언론 자유 확대 등 '탈(脫)물질적 가치'를 추구하며, 보다 많은 정치적 참여 수단을 활용한다. 사회가 정치적으로 안정되고 물질적으로 풍요해지면 탈물질적 가치를 추구하는 사람들의 비율이 증가하게 되고, 이들은 민주주의의 성장과 삶의 질을 중시하는 정치로의 변화를 적극 요구하게 된다.
- 정책 결정 과정



- ① 전후 세대는 이전 세대에 비해 ㉠에서 다양한 사회 조직에 참여하는 경향이 강하다.
- ② 전후 세대는 이전 세대에 비해 ㉠에서 표현의 자유를 확보하기 위한요구가 활발하다.
- ③ 전후 세대는 이전 세대에 비해 ㉡에서 경제적 부와 안정을 위한 정책에 더 많은 관심을 가지고 있다.
- ④ 전후 세대는 이전 세대에 비해 ㉡에서 환경 보호 법안의 제정과 집행에 더 많은 관심을 가지고 있다.
- ⑤ 전후 세대가 많아지면 ㉠과 ㉡의 과정이 보다 민주적으로 운영된다.

18. 그림은 연설자가 침략자를 비판하면서 주장한 것이다. 여기서 강조하고 있는 '망국'의 원인을 가장 적절하게 표현한 것은?



- ① 국민의 정치 참여가 제한되어 있었기 때문이다.
- ② 법치주의에 의한 통치가 이루어지지 않았기 때문이다.
- ③ 국민의 자유권적 기본권이 보장되지 않았기 때문이다.
- ④ 국민이 주권 의식을 가지고 행동하지 않았기 때문이다.
- ⑤ 국가가 견제와 균형의 원리로 운영되지 않았기 때문이다.

19. 다음 기사를 통해 도출할 수 있는 내용으로 가장 적절한 것은?

○○신문

마우스 하나로 장벽을 깨다

"인터넷이 정치를 바꾼다." 1990년대 이후 젊은 세대들은 정치에 무관심하다는 것이 사회의 통념이었다. 그런데 온라인 공간의 정보 접근이 활발한 젊은 세대들은 전자 게시판에 자유롭게 정치적 의사 표현을 하고, 온라인상에서 오피니언 리더로 새롭게 탄생하며 인터넷 여론을 주도하고 있다. 20~30대를 가입자로 하는 ○○단체의 홈페이지에는 지난 3개월간 1만 여건의 정치 관련 게시물이 올려졌다. 누구라도 손쉽게 자신의 의사를 대중에게 전파할 수 있는 사이버 공간에서 젊은 세대들은 정치 평론가의 역할을 수행할 뿐만 아니라 적극적인 정치적 요구와 의사를 표출하고 있다.

- ① 모든 연령대의 정치적 관심과 참여가 제고되고 있다.
- ② 세대 간 정보 공유로 정보 독점 현상이 완화되고 있다.
- ③ 특정 집단의 정치적 이익을 위한 정보 조작이 발생하고 있다.
- ④ 일부의 의사 과다 표출로 정치 권력의 정당성이 약화되고 있다.
- ⑤ 참여 수단 다양화로 20~30대 정치 참여 수준이 높아지고 있다.

20. 다음 글에서 찾을 수 있는 헌법의 기본 원리를 실현하기 위한 노력으로 가장 적절한 것은?

지금 우리는 세계 질서가 어디로 가게 될지 확신을 갖지 못하고 있습니다. 그러나 어디로 가야 할지는 분명합니다. 21세기 새로운 국제 질서는 강대국과 약소국, 그리고 중견국을 포함한 모든 나라가 공존하며 함께 이익을 누리는 공동 번영의 질서가 되어야 합니다.

- ① 동북아 패권 장악을 위해 군사력을 강화한다.
- ② 자원 확보를 위해 지역 분쟁에 적극 개입한다.
- ③ 유엔 내 강대국에 대항하기 위해 약소국 간 동맹을 강화한다.
- ④ 국제 평화 유지 및 난민 구호 활동에 능동적으로 참가한다.
- ⑤ 인권 탄압국에 대해서는 빈곤국이라 할지라도 인도주의적 지원을 증진한다.

* 확인 사항

- 답안지의 해당란에 필요한 내용을 정확히 기입(표기)했는지 확인 하시오.