

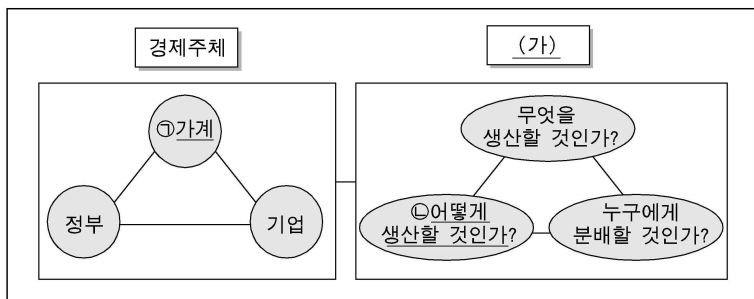
제 4 교시

사회탐구 영역 (경제)

성명  수험 번호

- 자신이 선택한 과목의 문제지인지 확인하십시오.
- 문제지에 성명과 수험 번호를 정확히 써 넣으시오.
- 답안지에 성명과 수험 번호를 써 넣고, 또 수험 번호와 답을 정확히 표시하십시오.
- 과목을 선택한 순서대로 풀고, 답은 답안지의 '제1선택'란에서부터 차례대로 표시하십시오.
- 문항에 따라 배점이 다르니, 각 물음의 끝에 표시된 배점을 참고하십시오. 3점 문항에만 점수가 표시되어 있습니다. 점수 표시가 없는 문항은 모두 2점입니다.

1. 그림에서 밑줄 친 부분에 대한 설명으로 옳지 않은 것은? [3점]



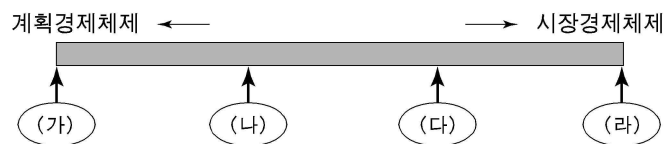
- ① 희소성으로 인하여 (가)가 발생한다.
- ② 시장경제체제는 주로 가격기구, 계획경제체제는 주로 정부의 명령이나 계획으로 (가)를 해결한다.
- ③ ㉠은 소비를 하는데 있어서 주로 소득 수준, 재화와 서비스의 가격을 고려한다.
- ④ ㉡은 팀제 도입, 공장의 해외 이전 등과 밀접한 관계가 있다.
- ⑤ ㉢은 ㉡을 결정함에 있어 이윤 극대화를 추구한다.

2. 다음 글의 밑줄 친 부분에 대한 설명으로 옳지 않은 것은?

『논어』에 나오는 ‘과유불급(過猶不及)’은 ‘지나침은 모자람만 못하다’라는 뜻이다. 그런데 이 말의 본래 취지는 ‘지나쳐도 좋지 않고 모자라도 좋지 않다’는 것이다. 과유불급의 논리는 가계의 소비 활동이나 저축 활동에도 적용될 수 있다. 가계의 소비가 적절하게 이루어질 경우에는 ㉠나라 경제에 도움이 되지만, 지나친 소비를 하거나 사회적인 관점에서 ㉡비합리적인 소비가 급증하는 경우에는 ㉢나라 경제에 부담을 줄 수 있다. 저축 또한 마찬가지다. 적정 수준의 저축은 나라 경제에 ㉣긍정적인 영향을 주지만, 과도한 저축은 ㉤부정적인 영향을 끼칠 수 있다.

- ① ㉠은 적절한 소비가 상품 판매와 생산 증가를 통해 경제 성장에 기여할 수 있음을 시사한다.
- ② ㉡의 사례로 과시 소비와 충동 소비를 들 수 있다.
- ③ ㉢의 사례로 자원의 낭비, 외채(外債)의 감소를 들 수 있다.
- ④ ㉤의 사례로 투자 재원의 확보를 통한 성장 잠재력의 확충을 들 수 있다.
- ⑤ ㉤의 사례로 소비 위축에 따른 경기 침체를 들 수 있다.

3. 그림에 제시된 경제체제와 <보기>의 관련 내용을 연결하고자 할 때, (가)~(라)에 들어갈 순서로 가장 적절한 것은?

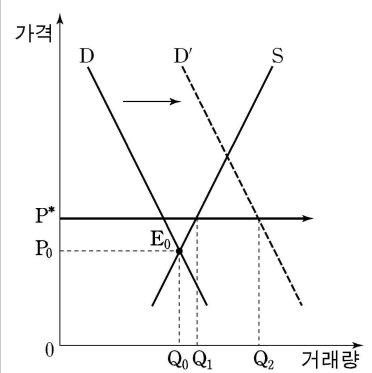


- <보 기>
- ㉠. 모든 경제문제는 ‘보이지 않는 손’에 의해 자연스럽게 해결될 수 있다.
  - ㉡. 사회주의의 잡초를 심을지언정, 자본주의의 싹을 키워서는 안 된다.
  - ㉢. 가격기구는 본질적으로 큰 문제가 없으므로 고장이 났을 때만 수리하면 된다.
  - ㉣. 생산 수단은 공유화하되, 경우에 따라서는 자원 배분을 시장에 맡길 수도 있다.

- ① ㉡-㉢-㉣-㉠
- ② ㉡-㉣-㉠-㉢
- ③ ㉡-㉣-㉢-㉠
- ④ ㉢-㉠-㉡-㉣
- ⑤ ㉢-㉡-㉠-㉣

4. 자료에 대한 옳은 설명을 <보기>에서 모두 고른 것은? [3점]

오른쪽 그림은 ○○지역의 신규 아파트 수요곡선(D)과 공급곡선(S)을 나타낸 것이다. 그런데 최근 신규 아파트 분양에 대한 관심이 높아지면서 D가 D'로 급격히 이동하였다. 이에 정부는 ○○지역 신규 아파트의 분양 가격을 P\*로 규제하려고 한다.



- <보 기>
- ㉠. P\*로의 가격 규제는 분양 가격 상승을 억제하기 위한 것이다.
  - ㉡. P\*로 분양 가격을 규제하면, Q1Q2만큼 초과 수요가 발생할 것이다.
  - ㉢. D에서 D'로의 수요곡선 이동은 인구 감소가 하나의 원인이었을 것이다.
  - ㉣. P\*로 분양 가격을 규제하면, 신규 아파트의 공급량은 Q0보다 적을 것이다.

- ① ㉠, ㉡
- ② ㉠, ㉢
- ③ ㉡, ㉣
- ④ ㉡, ㉣
- ⑤ ㉢, ㉣

5. 다음 글의 밑줄 친 내용이 시사하는 것으로 가장 적절한 것은?

1950년대에 경제 선진국이었던 ○○국은 새로운 변화에 적응하지 못해 1984년에 외환 위기를 겪었고, 1인당 국민소득도 세계 20위권 밖으로 밀려났다. 그러나 ○○국은 1984년에 정치·경제·사회 전반에 걸쳐 각종 혁신적인 국가 개혁 조치를 취하였다. 그 결과, 경제협력개발기구(OECD) 국가 중 간섭과 규제가 심한 나라에서 이제는 투명하고 개방적이며 기업하기 좋은 나라가 되었다.

- ① 사회의 안전과 공익 증진을 위한 규제를 강화해야 한다.
- ② 불필요한 정부 개입을 줄여 시장의 효율성을 높여야 한다.
- ③ 모든 문제가 시장에서 해결되므로 정부 규제는 불필요하다.
- ④ 시장실패를 해결하기 위해 정부의 적극적인 역할이 요구된다.
- ⑤ 국가 주도의 개발 정책 추진을 위해 혁신적인 개혁이 필요하다.

6. 다음 글은 '시장'과 '규제'를 비유적인 방법으로 대조시켜 본 것이다. 밑줄 친 부분에 대한 설명으로 적절하지 않은 것은?

일상 생활에서 ㉠쥐를 잡는 방법은 크게 두 가지다. 하나는 ㉡빗자루를 이용하는 것이고, 다른 하나는 ㉢고양이를 활용하는 것이다. 빗자루를 가지고 쥐를 잡는 경우에는 온 집안을 뒤지느라 소란을 떠는 것에 비해, 잡은 쥐의 양은 많지 않다. ㉣어떤 경우에는 빗자루를 잘못 휘두르는 바람에 가구까지 파손하기도 한다. 그러나 고양이를 활용해서 쥐를 잡는 경우에는, 적어도 ㉤가구가 파손되거나 소음으로 고통받을 가능성은 별로 없다. 왜냐하면 고양이가 조심스럽게, 그리고 조용히 쥐를 잡아주기 때문이다. 물론 그렇다고 고양이 쥐를 완벽하게 잡아준다고 말하는 것은 아니다.

- ① ㉠은 경제문제를 의미한다.
- ② ㉡은 가격기구를 의미한다.
- ③ ㉢을 중시하는 사회에서는 형평성보다 효율성을 우선시한다.
- ④ ㉣은 정부실패 현상을 의미한다.
- ⑤ ㉤의 이유는 '보이지 않는 손'이 작동하기 때문이다.

7. 어느 학자가 쓴 글의 일부이다. 밑줄 친 어부의 경제 활동에 대한 옳은 설명을 <보기>에서 모두 고른 것은? [3점]

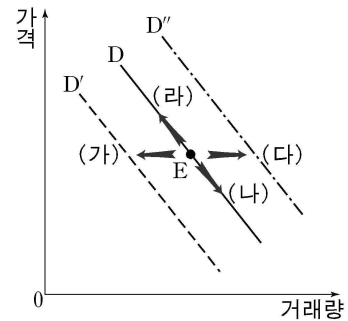
과거 영국 청어 잡이 어부들의 고민은 먼 바다에서 잡은 청어를 어떻게 하면 싱싱하게 육지로 가져오는가 하는 것이었다. 잡은 뒤 며칠이 지난 청어는 반은 죽었거나 살아 있어도 싱싱하지 않았기 때문이다. 그러나 유독 한 어부가 잡은 청어는 항상 싱싱했다. 그 비결은 배의 저장 탱크에 청어를 잡아 먹는 큰 물고기를 넣어 자신이 잡은 청어의 일부를 잡아먹게 하는 것이었다. 그러면 나머지 청어는 살기 위해 먼 항해에도 활발하게 움직였다. 그 결과, 그는 싱싱한 청어를 비싸게 팔 수 있었다.

<보 기>

- ㄱ. 기회비용을 고려한 합리적 선택
- ㄴ. 무임승차에 의한 사익의 극대화
- ㄷ. 창의적인 사고를 통한 생산성 향상
- ㄹ. 공정한 경쟁을 통한 공공 이익의 추구

- ① ㄱ, ㄴ    ② ㄱ, ㄷ    ③ ㄱ, ㄹ    ④ ㄴ, ㄷ    ⑤ ㄷ, ㄹ

8. 그래프는 만년필의 시장 수요 또는 수요량이 어떤 원인에 의하여 최초의 E점에서 변화하는 방향을 나타낸 것이다. 그 원인과 변화 방향을 바르게 짝지은 것은? [3점]



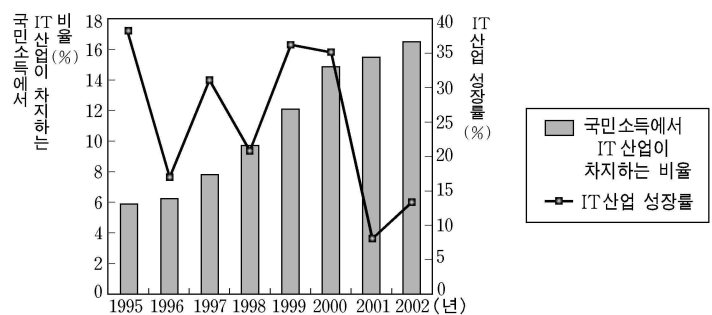
- | 원인          | 변화 방향 |
|-------------|-------|
| ① 잉크 가격 상승  | (다)   |
| ② 잉크 가격 하락  | (나)   |
| ③ 볼펜 가격 상승  | (가)   |
| ④ 볼펜 가격 하락  | (나)   |
| ⑤ 만년필 가격 상승 | (라)   |

9. 그림은 외부효과와 관련된 두 가지 상반된 상황을 나타낸 것이다. 이에 대한 설명으로 적절하지 않은 것은? [3점]



- ① (가)에서는 사회 전체가 필요로 하는 양보다 많이 생산된다.
- ② (가)는 '원님 덕에 나팔 분다'라는 속담의 의미와 관련이 있다.
- ③ (나)에서 개인적 비용은 사회적 비용보다 적다.
- ④ (나)를 해결하기 위해서 환경 개선 부담금을 부과할 수 있다.
- ⑤ (가)와 (나) 모두 자원이 비효율적으로 배분된다.

10. 그래프는 ○○국에서 IT(정보통신) 산업 성장률과 국민소득에서 IT 산업이 차지하는 비율을 나타낸 것이다. 옳은 설명을 <보기>에서 모두 고른 것은?



<보 기>

- ㄱ. 국민소득이 매년 증가하였다.
- ㄴ. IT 산업은 매년 5% 이상의 성장률을 보이고 있다.
- ㄷ. 국민소득에서 IT 산업이 차지하는 비율이 매년 증가하였다.
- ㄹ. IT 산업 성장률의 변동 폭이 국민소득에서 IT 산업이 차지하는 비율의 변동 폭보다 작았다.

- ① ㄱ, ㄴ    ② ㄱ, ㄷ    ③ ㄴ, ㄷ    ④ ㄴ, ㄹ    ⑤ ㄷ, ㄹ

11. 표는 ○○국 경제에서 부존 자원과 생산 기술을 이용하여 생산할 수 있는 자전거와 노트의 최대 생산량 조합을 나타낸 것이다. 옳은 설명을 <보기>에서 모두 고른 것은? [3점]

(단위 : 대, 만권)

최대 생산량 조합	A	B	C	D	E
자전거	95	85	70	50	25
노트	1	2	3	4	5

<보 기>

ㄱ. 자전거 50대와 노트 3만권의 생산은 불가능하다.  
 ㄴ. A에서 E로 노트의 생산을 늘릴수록 노트 생산에 따른 기회비용은 증가한다.  
 ㄷ. B에서 C로 이동할 때, 노트 1권의 추가 생산에 따른 기회비용은 자전거  $\frac{3}{2,000}$  대이다.  
 ㄹ. A, B, C, D, E에서는 어느 한 재화의 생산량을 감소시키지 않고도 다른 재화의 생산량을 증가시킬 수 있다.

- ① ㄱ, ㄴ    ② ㄱ, ㄷ    ③ ㄴ, ㄷ    ④ ㄴ, ㄹ    ⑤ ㄷ, ㄹ

12. 다음 글을 읽고 적절한 추론을 <보기>에서 모두 고른 것은? [3점]

○○기업 연구소가 자사 제품에 대한 수요의 가격 탄력성을 추정한 결과, 녹차 수요의 가격 탄력성은 1.5, 홍차 수요의 가격 탄력성은 1, 그리고 커피 수요의 가격 탄력성은 0.5로 나타났다.

<보 기>

ㄱ. 녹차 가격을 인상하면, 녹차의 판매 이윤은 증가한다.  
 ㄴ. 홍차 가격을 10% 인상하더라도 홍차의 판매 수입은 변하지 않는다.  
 ㄷ. 녹차 가격을 인하하고 커피 가격을 인상하면, 총 판매 수입은 증가한다.  
 ㄹ. 녹차, 홍차, 커피 가격을 똑같은 비율로 인상하더라도 총 판매 수입은 변하지 않는다.

- ① ㄱ, ㄴ    ② ㄴ, ㄷ    ③ ㄷ, ㄹ  
 ④ ㄱ, ㄴ, ㄹ    ⑤ ㄴ, ㄷ, ㄹ

13. 표는 호밀 빵(X재)의 시장 수요와 시장 공급을 나타낸 것이다. 옳은 설명을 <보기>에서 모두 고른 것은?

(단위 : 원, 개)

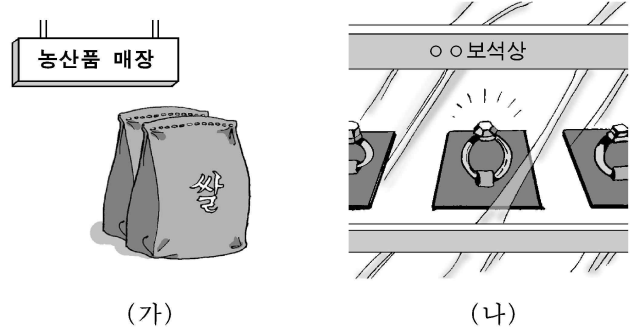
가 격( $P_x$ )	30	40	50	60	70
수요량( $D_x$ )	100	90	80	70	60
공급량( $S_x$ )	60	70	80	90	100

<보 기>

ㄱ. 호밀 빵의 수요곡선은  $D_x = -P_x + 130$ 로 표시된다.  
 ㄴ. 대체재인 옥수수 빵의 가격이 크게 상승하면, 호밀 빵의 가격은 50원 이상으로 상승할 것이다.  
 ㄷ. 호밀 빵의 가격이 60원으로 주어질 경우, 호밀 빵은 20개의 초과공급이 발생하여 시장 가격이 하락할 것이다.  
 ㄹ. “호밀 빵이 다이어트에 좋다”라는 신문 보도가 나오면, 호밀 빵의 균형 가격은 상승하고 균형 거래량은 감소할 것이다.

- ① ㄱ, ㄹ    ② ㄴ, ㄷ    ③ ㄷ, ㄹ  
 ④ ㄱ, ㄴ, ㄷ    ⑤ ㄱ, ㄷ, ㄹ

14. 그림은 수요의 가격 탄력성이 매우 다른 종류의 두 재화를 나타낸 것이다. 적절한 추론을 <보기>에서 모두 고른 것은?



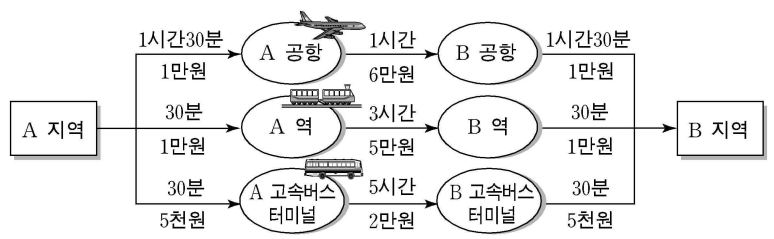
<보 기>

ㄱ. (가) 수요량의 변화율이 (나) 수요량의 변화율보다 가격의 변화율에 상대적으로 더 민감하다.  
 ㄴ. 성수기의 콘도 이용 가격이 비수기에 비해 높은 이유를 설명하는 데는, (가) 수요의 가격 탄력성이 (나) 수요의 가격 탄력성보다 더 적합하다.  
 ㄷ. 공연장의 객석이 비어 있음에도 불구하고 공연 기획사가 관람료를 깎아주지 않는 이유를 설명하는 데는, (가) 수요의 가격 탄력성이 (나) 수요의 가격 탄력성보다 더 적합하다.  
 ㄹ. 백화점이 구두 가격을 할인한 결과, 구두 판매에 따른 수입이 늘어나는 이유를 설명하는 데는, (나) 수요의 가격 탄력성이 (가) 수요의 가격 탄력성보다 더 적합하다.

- ① ㄱ, ㄴ    ② ㄴ, ㄷ    ③ ㄷ, ㄹ  
 ④ ㄱ, ㄴ, ㄹ    ⑤ ㄴ, ㄷ, ㄹ

15. 자료에서 갑의 합리적 의사 결정에 대한 옳은 설명을 <보기>에서 모두 고른 것은?

오전 8시 현재 A 지역에 있는 갑은 편도 교통비 8만원 이내에서 당일 낮 12시까지 B 지역에 도착해야 한다. 그림은 갑이 여러 교통 수단의 소요 시간과 금액에 대해 조사한 내용이다.(단, 교통 수단을 이용하는 데 따른 추가적인 시간이나 비용은 들지 않고, 교통 수단에 대한 만족도는 동일하다고 가정한다.)



<보 기>

ㄱ. 기차를 이용하는 것이 합리적이다.  
 ㄴ. 시간이라는 자원이 희소하여 선택의 문제가 발생한다.  
 ㄷ. 교통 수단으로서 기차와 고속버스만을 고려하고 있다.  
 ㄹ. 시간을 절약하기 위해서는 비행기보다 고속버스를 이용하는 것이 합리적이다.

- ① ㄱ, ㄴ    ② ㄱ, ㄷ    ③ ㄴ, ㄷ    ④ ㄴ, ㄹ    ⑤ ㄷ, ㄹ

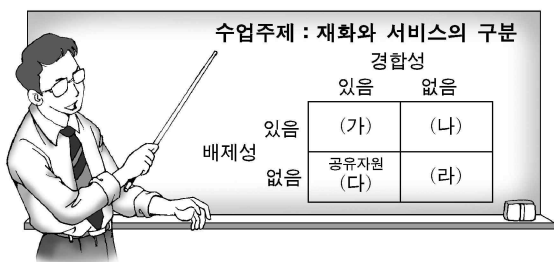
16. 그림과 같은 상황이 동시에 발생한다고 가정할 때, 대형 TV 시장에서 예상되는 균형 가격과 균형 거래량의 변화를 바르게 짚지은 것은? [3점]



균형 가격      균형 거래량

- ① 상승      감소
- ② 하락      증가
- ③ 불분명      증가
- ④ 불분명      감소
- ⑤ 불분명      불분명

17. 김 교사는 경합성과 배제성의 유무에 따라 재화와 서비스를 다음과 같이 구분했다. 적절한 추론을 <보기>에서 모두 고른 것은? [3점]

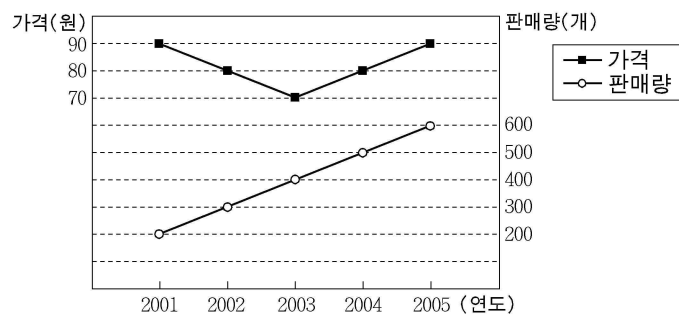


<보 기>

- ㄱ. (가)는 책이나 라면과 같은 사적 재화를 의미한다.
- ㄴ. (나)는 유선 방송처럼 사용료를 내야만 소비할 수 있다.
- ㄷ. (다)는 공유자원인 바다 속의 물고기처럼 사람들이 소비하는 재화의 양이 동일하다.
- ㄹ. (라)에 해당하는 대표적인 예는 국방서비스이다.

- ① ㄱ, ㄷ      ② ㄱ, ㄹ      ③ ㄴ, ㄷ
- ④ ㄱ, ㄴ, ㄹ      ⑤ ㄱ, ㄷ, ㄹ

18. 그래프는 어느 재화의 연도별 가격과 판매량 추이를 나타낸 것이다. 옳은 설명을 <보기>에서 모두 고른 것은? [3점]




<보 기>

- ㄱ. 판매량의 증가율은 일정하다.
- ㄴ. 판매 금액은 계속 증가하고 있다.
- ㄷ. 소득의 증가만으로도 이러한 현상이 나타날 수 있다.
- ㄹ. 생산성 향상에 이어 대체재의 가격이 상승하면, 이러한 현상이 나타날 수 있다.

- ① ㄱ, ㄴ      ② ㄱ, ㄹ      ③ ㄴ, ㄷ      ④ ㄴ, ㄹ      ⑤ ㄷ, ㄹ

19. 자료에서 (가)는 영희네의 가계도와 소득원이고, (나)는 영희네의 연간 소득을 나타낸 것이다. 2005년을 기준으로 할 때, 자료에 대한 옳은 해석을 <보기>에서 모두 고른 것은?



(단위 : 만원)

종류	연도	2004	2005
경상소득		5,190	5,300
-근로소득		2,570	2,660
-재산소득		100	260
-사업소득		2,480	2,290
-이전소득		40	90
비경상소득		1,090	1,200
총가계소득		6,280	6,500

(가)

(나)

<보 기>

- ㄱ. 일시적으로 얻는 소득이 전년도에 비해 증가했다.
- ㄴ. 전년도에 비해 이자와 같은 재산소득의 증가율이 가장 높았다.
- ㄷ. 2005년의 경상소득에서 아버지의 소득이 어머니의 소득보다 많았다.
- ㄹ. 경상소득 중에서 할아버지의 연금이 포함되는 소득이 전년도에 비해 두 배 이상으로 증가했다.

- ① ㄱ, ㄴ      ② ㄱ, ㄹ      ③ ㄴ, ㄷ
- ④ ㄱ, ㄴ, ㄹ      ⑤ ㄴ, ㄷ, ㄹ

20. 그림은 ○○여행사의 여행 상품 광고이다. 같은 이 여행사의 상품 가운데 하나를 구입하여 8월 중에 4일 동안 휴가를 가기로 하였다. 옳은 설명을 <보기>에서 모두 고른 것은?

A 지역 (4일)		B 지역 (4일)	
여행 상품	금액(원)	여행 상품	금액(원)
골드	469,000	골드	549,000
실버	379,000	실버	399,000
실속	299,000	실속	379,000

8월 매일 출발      8월 10, 20, 30일 출발

- 골드 : 최고급 호텔, 전 일정 특별식 제공
- 실버 : 고급 호텔
- 실속 : 일반 호텔
- 현지 공항 이용료와 유류세 5만원 별도

<보 기>

- ㄱ. 휴가 일정에 따라 같은 B 지역 여행이 불가능할 수 있다.
- ㄴ. 전체 여행 경비가 40만원이라면, 실버 여행 상품을 구입하여 여행하는 것이 가능하다.
- ㄷ. 같은 지역 내에서 호텔의 수준이 높아질수록 ○○여행사의 여행 상품 가격의 증가 폭은 점차 커진다.

- ① ㄱ      ② ㄴ      ③ ㄷ      ④ ㄱ, ㄴ      ⑤ ㄱ, ㄷ

\* 확인 사항

○ 답안지의 해당란에 필요한 내용을 정확히 기입(표기)했는지 확인 하시오.