

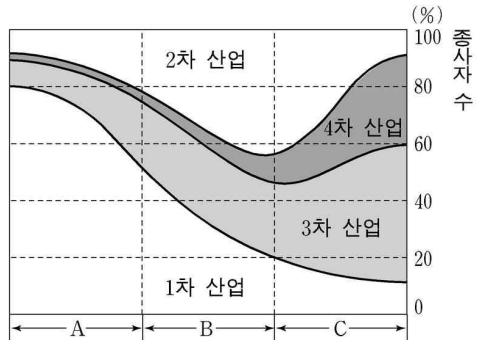
제 4 교시

사회 탐구 영역 (경제 지리)

성명  시험 번호

- 자신이 선택한 과목의 문제지인지 확인하시오.
- 문제지에 성명과 시험 번호를 정확히 써 넣으시오.
- 답안지에 성명과 시험 번호를 써 넣고, 또 시험 번호와 답을 정확히 표시하시오.
- 과목을 선택한 순서대로 풀고, 답은 답안지의 '제1선택'란에서부터 차례대로 표시하시오.
- 문항에 따라 배점이 다르니, 각 물음의 끝에 표시된 배점을 참고하시오. 3점 문항에만 점수가 표시되어 있습니다. 점수 표시가 없는 문항은 모두 2점입니다.

1. 다음은 경제 발전에 따른 산업구조의 변화를 단계별로 나타낸 그래프이다. 각 단계에 대한 설명으로 타당하지 않은 것은?



- ① A에서는 도시보다 농촌에 많은 인구가 거주한다.
- ② A에서 B로 감에 따라 경제 활동이 도시에 집중된다.
- ③ B에서는 토지와 노동이 중요한 생산 요소로 부상한다.
- ④ B에서 C로 감에 따라 정보 및 지식 산업이 발달한다.
- ⑤ C에서는 산업 입지의 공간적 제약이 줄어든다.

2. 자료와 같은 무역 환경의 변화가 우리나라 경제에 미칠 영향으로 옳지 않은 것은? [3점]

협상명	시기	참가국 수	주요 의제
케네디 라운드	1964~1967	74	관세 인하, 반덤핑, 관세 평가 협정
도쿄 라운드	1973~1979	99	관세 인하, 비관세 장벽 관련 협정
우루과이 라운드	1986~1994	117	WTO 설립, 관세 인하, 농산물·서비스·지적재산권 시장 개방 기준
뉴라운드	2001~	142	농산물·비농산물·서비스·지적재산권·투자·환경 분야의 무역 규범

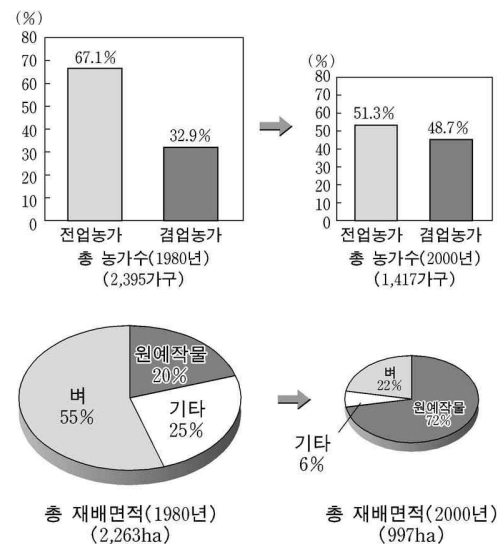
- ① 해외 투자 여건이 개선될 것이다.
- ② 농촌 지역 경제가 어려워질 것이다.
- ③ 다국적 기업의 국내 진출이 제약을 받을 것이다.
- ④ 기업의 환경 기술에 대한 투자가 증가할 것이다.
- ⑤ 세계 여러 국가로 수출 시장이 다변화될 것이다.

3. 다음은 수도권 지역의 개발 계획도이다. 이 계획에 적용된 개발 방식을 가장 적절하게 추론한 학생은? [3점]



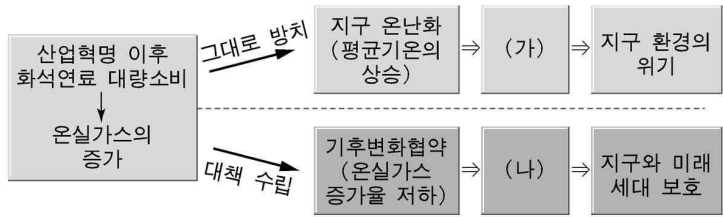
- ① 성훈 : 제조업 중심의 개발 방식을 채택한 것 같아.
- ② 기동 : 규모의 경제를 통해 지역 개발을 하고자 하는 것 같아.
- ③ 현제 : 지역 특성에 맞는 단지 조성 개발 방식을 채택한 것 같아.
- ④ 남철 : 첨단 기술 산업을 중심으로 한 개발 방식을 채택한 것 같아.
- ⑤ 지훈 : 낙후된 지역을 우선적으로 개발하고자 하는 방식인 것 같아.

4. 다음은 어떤 대도시 주변 지역의 농가 구성 및 농업 특성에 관한 자료이다. 이 지역의 변화에 대한 추론으로 가장 적절한 것은?



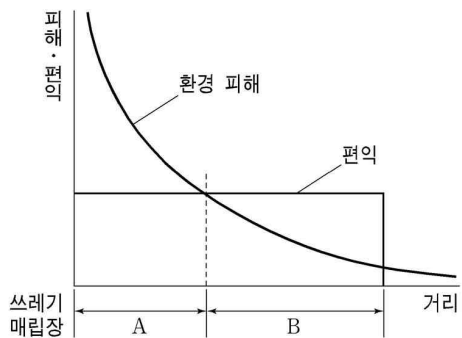
- ① 지역 인구가 감소하였을 것이다.
- ② 농가 소득이 감소하였을 것이다.
- ③ 자급적 영농이 확대되었을 것이다.
- ④ 대도시로의 통근율이 높아졌을 것이다.
- ⑤ 경지 이용의 집약도가 낮아졌을 것이다.

5. 그림의 (가)와 (나)에 들어갈 내용을 바르게 짝지은 것은? [3점]



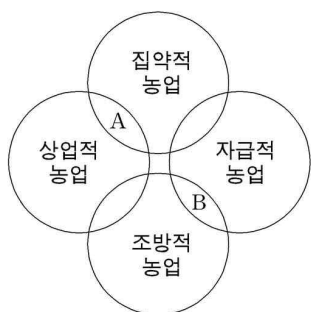
- |                  |                |
|------------------|----------------|
| (가)              | (나)            |
| ① 기상 재해 증가       | 환경 기술 산업 발달    |
| ② 무역 환경 변화       | 인류 건강 위협       |
| ③ 에너지 과소비형 산업 위축 | 무역 환경 변화       |
| ④ 환경 기술 산업 발달    | 에너지 과소비형 산업 위축 |
| ⑤ 인류 건강 위협       | 기상 재해 증가       |

6. 다음은 쓰레기 매립장 입지에 따른 환경 피해와 편익을 그래프로 나타낸 것이다. 이 그래프를 보고 바르게 추론한 것을 <보기>에서 모두 고른 것은?



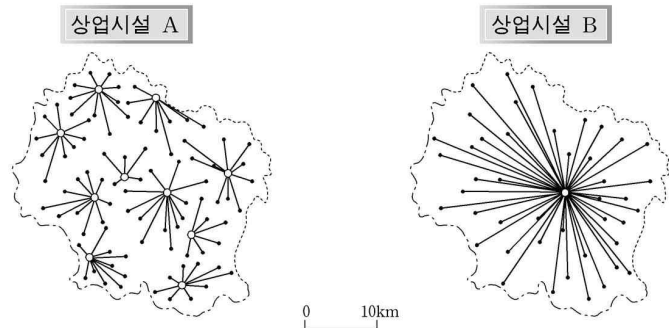
- <보 기>
- 가. A 지역은 이익, B 지역은 불이익이 나타날 것이다.  
 나. A와 B 지역의 주민 간에 갈등이 나타날 수 있다.  
 다. A 지역의 지가 하락률이 B 지역 보다 크게 나타날 것이다.  
 리. A 지역에서는 펌피, B 지역에서는 님비 현상이 나타날 것이다.
- ① 가, 나    ② 가, 다    ③ 나, 다    ④ 나, 리    ⑤ 다, 리

7. 그림의 A, B에 해당하는 농업을 바르게 연결한 것은?



- |                 |                 |
|-----------------|-----------------|
| A               | B               |
| ① 몽골의 유목        | 제주도의 감귤 농업      |
| ② 뉴질랜드의 목양      | 유럽의 혼합 농업       |
| ③ 네덜란드의 화훼 농업   | 아프리카의 이동식 화전 농업 |
| ④ 동남아시아의 고무 농업  | 미국의 대규모 곡물 농업   |
| ⑤ 아르헨티나 팜파스의 방목 | 라틴아메리카의 커피 농업   |

8. 그림은 종합 소매 상업시설 A, B를 이용하는 소비자들의 이동 거리를 나타낸 것이다. A, B에 대한 바른 설명을 <보기>에서 모두 고른 것은? [3점]



- <보 기>
- 가. 소비자의 이용 빈도는 A가 B보다 낮다.  
 나. 다양한 상품을 제공하는 경향이 B에서 높게 나타난다.  
 다. 교통 수단이 발달할수록 A의 상권은 확대되고 B의 상권은 축소된다.  
 리. 전자상거래 업체와의 경쟁으로 A와 B의 최소요구치의 공간적 범위가 확대된다.

- ① 가, 나    ② 가, 다    ③ 나, 다    ④ 나, 리    ⑤ 다, 리

9. 다음은 한 학생이 제출한 보고서의 일부이다. ○○공업의 변화로 인한 A 지역의 문제점에 대하여 학생이 제시한 대책으로 적절하지 않은 것은? [3점]

1. 배경

- WTO 체제 하의 무역 환경 변화
- 노동 집약적 부문에서의 후발개도국 추격
- 인건비의 급상승

2. ○○공업 생산 지수 및 해외 투자의 변화

3. A 지역의 문제점

- 실업률 증가
- 집적된 관련 기업들의 연쇄 파산 위험 증가
- 소비자 서비스업 부문에서의 창업 증가

- ① 대체 산업의 조기 육성  
 ② 직업 교육 프로그램의 확대  
 ③ 외국인 투자기업의 유치 확대  
 ④ 산업 특화를 통한 새로운 시장 창출  
 ⑤ 관련 산업의 대량 생산 설비 투자 확대

10. 다음은 ○○전자의 해외 투자에 관한 글이다. 이 기업의 투자 전략에 대한 추론으로 적절하지 않은 것은?

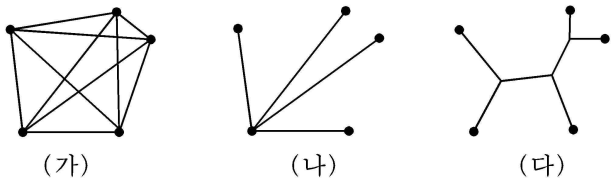
○ 세계 곳곳에 24개의 생산 법인, 40개의 판매 법인 등 48개국에 거점을 두고 있다. 특히, 세계적인 다국적 기업으로 성장하기 위해 8개 해외 지역 본부를 두고 차별화된 연구개발 및 마케팅 활동을 하고 있다.

○ 1990년대 초반 이후 EU의 관세 장벽에 대처하고, 외국인 투자를 유치하려는 정책에 힘입어 1995년 서유럽의 여러 국가에 대단위 투자를 감행하였다.

○ 중국은 자국의 이동 통신 업종을 보호하기 위하여 단말기 판매권을 현지 기업에게만 허용하였다. 따라서 ○○전자는 2002년 중국 선전 경제 특구에 현지 기업과 공동으로 휴대 전화 단말기 공장을 설립하였다.

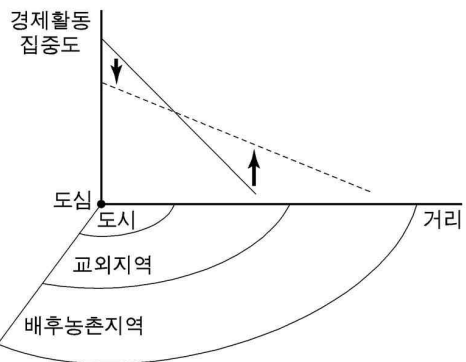
- ① 현지의 에너지 자원 활용
- ② 현지의 제도적 지원 활용
- ③ 현지 수요에 따른 유연한 대처 방안 강구
- ④ 현지 생산 및 판매를 통한 무역 규제 회피
- ⑤ 생산, 판매 및 연구 개발 기능의 분리를 통한 시장 확대

11. 도로 교통망을 간략히 나타낸 (가)~(다)의 유형별 특성으로 옳은 것은? [3점]



- ① (가)는 모든 지역 간 상호 교류가 가장 활발하다.
- ② (나)는 동일한 두 지역 간 이동 거리가 가장 짧다.
- ③ (다)는 이용자의 편리를 가장 많이 고려하고 있다.
- ④ (가)는 (나)에 비해 지역 간 불균형 발전을 반영하고 있다.
- ⑤ (다)는 (가)에 비해 교통로의 건설 비용이 많이 든다.

12. 다음은 경제 활동 집중도의 변화를 나타낸 것이다. 이러한 변화의 배경으로 옳은 것을 <보기>에서 모두 고른 것은?



<보 기>

ㄱ. 재택 근무가 점차 늘고 있다.

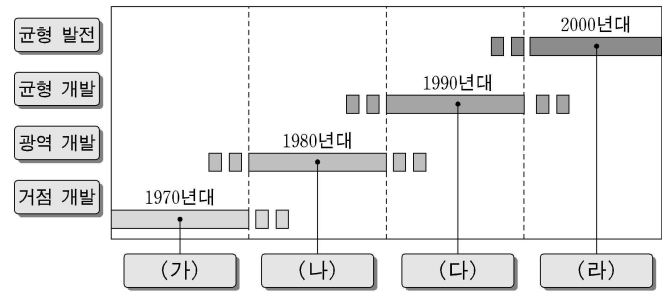
ㄴ. 집적 불이익이 증가하고 있다.

ㄷ. 생산자 서비스업이 증가하고 있다.

ㄹ. 도·농 간 정보 격차가 심화되고 있다.

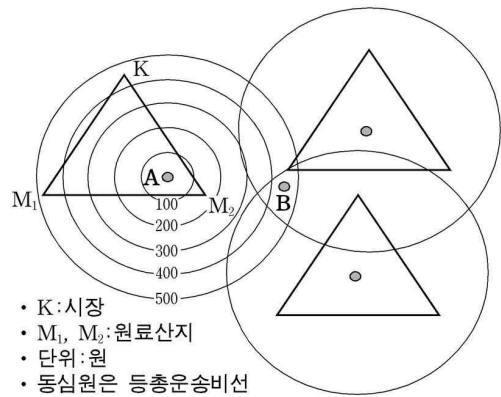
- ① ㄱ, ㄴ    ② ㄱ, ㄷ    ③ ㄴ, ㄷ    ④ ㄴ, ㄹ    ⑤ ㄷ, ㄹ

13. 우리나라 국토 종합 개발 계획 중 (가)~(라) 시기에 대한 설명으로 옳은 것은?



- ① (가)시기에는 생산 환경 조성에 중점을 두었다.
- ② (나)시기에는 초고속 정보통신망 기반 시설 조성을 추구하였다.
- ③ (다)시기에는 개방형 통합 국토 축 조성을 추구하였다.
- ④ (라)시기에는 경부축 중심의 발전 전략을 추구하였다.
- ⑤ (가)→(라)로 가면서 형평성보다 효율성에 중점을 두었다.

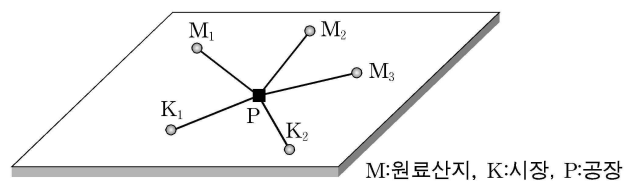
14. 베버의 공업 입지론을 적용할 때, 그림의 A, B 지점이 최적의 입지가 되는 공업을 바르게 짝지은 것은? [3점]



- |       |      |
|-------|------|
| A     | B    |
| ① 자동차 | 섬유   |
| ② 신발  | 철강   |
| ③ 전자  | 정보통신 |
| ④ 시멘트 | 자동차  |
| ⑤ 섬유  | 가구   |

15. 자료와 같은 조건에서 원료 산지와 시장으로부터 같은 거리에 입지한 공장(P)의 이동 방향으로 옳은 것은? (단, 생산비는 지역별 차이가 없음) [3점]

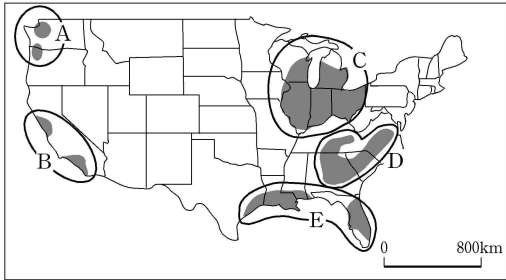
- 제품 3톤 생산에 M<sub>1</sub>:2톤, M<sub>2</sub>:3톤, M<sub>3</sub>:5톤의 원료를 사용함
- 제품은 K<sub>1</sub>에 1톤, K<sub>2</sub>에 2톤을 판매함
- 원료 운송비: 1,000원/km·톤, 제품 운송비: 2,000원/km·톤



- ① K<sub>1</sub>    ② K<sub>2</sub>    ③ M<sub>1</sub>    ④ M<sub>2</sub>    ⑤ M<sub>3</sub>

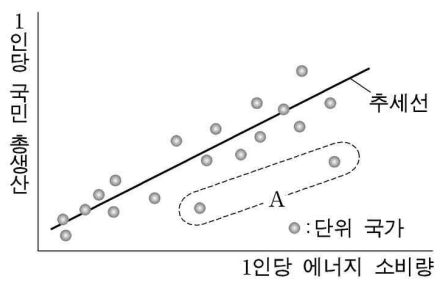
16. 지도는 미국의 주요 공업 지역을 나타낸 것이다. 제시된 자료와 같은 특색을 가진 공업 지역을 고르면?

이 지역은 1930년대 이후 항공 산업과 방위 산업이 입지하면서 성장하기 시작하였다. 1960년대 들어오면서 산업의 재구조화 과정을 거치게 되었고, 영화 관련 산업과 첨단 전자 산업이 활성화되면서 중요한 공업 지역으로 더욱 부상하게 되었다.



- ① A    ② B    ③ C    ④ D    ⑤ E

17. 지리 선생님이 학생들에게 아래 그림을 제시하고, A 국가들이 일반적 추세에서 벗어난 원인을 조사하도록 하였다. 적절한 조사 활동을 한 학생을 <보기>에서 모두 고른 것은?

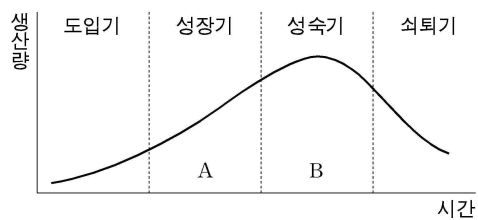


<보 기>

재혁 : 인구 수와 성비를 조사한다.  
 영희 : 국토 면적과 경지율을 조사한다.  
 철수 : 위도와 기후의 특색을 조사한다.  
 민경 : 산업 구조와 에너지 효율성을 조사한다.

- ① 영희, 민경    ② 철수, 민경    ③ 영희, 철수  
 ④ 재혁, 영희    ⑤ 재혁, 철수

18. 다음은 전자 제품의 수명 주기 그래프이다. A에서 B로의 변화에 대한 설명으로 옳은 것을 <보기>에서 모두 고른 것은?



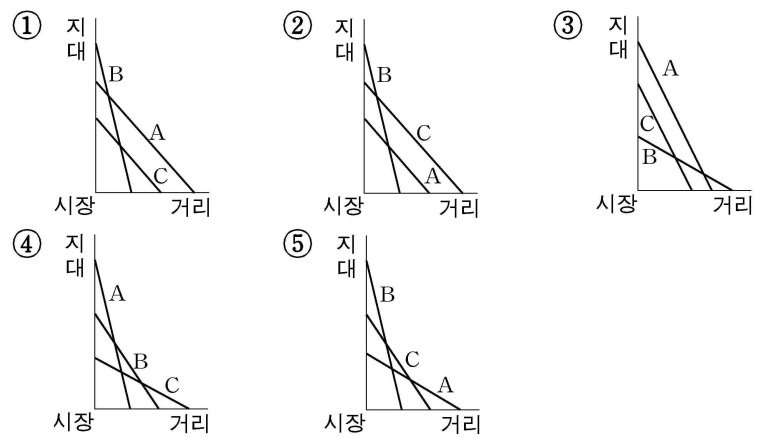
<보 기>

ㄱ. 제품의 수요가 감소한다.  
 ㄴ. 원료 산지에 대한 접근성이 중요시 된다.  
 ㄷ. 표준화된 제품의 대량 생산이 이루어진다.  
 ㄹ. 저임금 노동력이 풍부한 지역으로 이전한다.

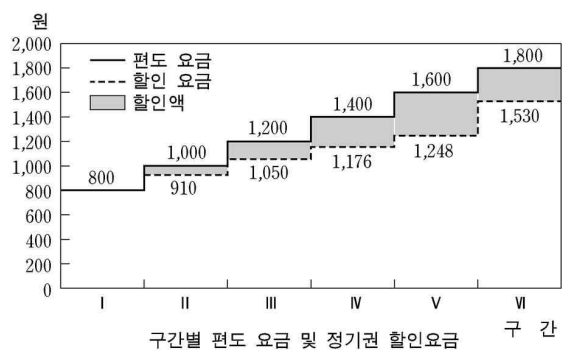
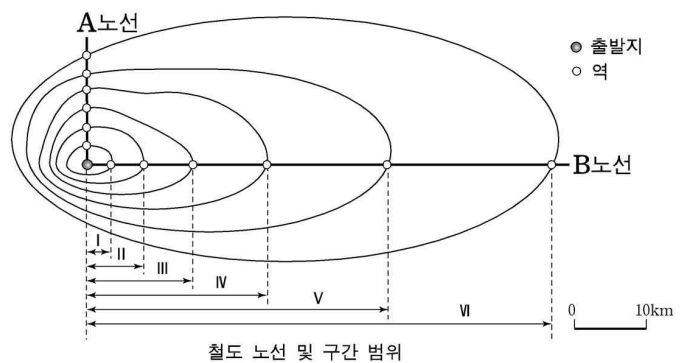
- ① ㄱ, ㄴ    ② ㄱ, ㄷ    ③ ㄴ, ㄷ    ④ ㄴ, ㄹ    ⑤ ㄷ, ㄹ

19. 표의 내용을 바탕으로 각 작물의 지대곡선을 바르게 나타낸 것은? (단, 지대 = 시장가격 - 생산비 - 운송비, 각 작물의 생산량은 10kg) [3점]

구 분	총 매출액 (원)	총 생산비 (원)	단위 운송비 (원/kg · km)
A작물	3,000	500	2
B작물	5,000	400	4
C작물	4,000	300	2



20. 다음은 통근 철도의 구간과 요금을 나타낸 자료이다. 정기권의 요금 체계에 대한 분석으로 옳지 않은 것은? (단, 정기권은 월 편도 44회 이용 기준) [3점]



- ① 단위 거리당 요금은 I 구간이 가장 높다.  
 ② A 노선은 B 노선보다 단위 거리당 요금이 비싸다.  
 ③ 거리에 따른 요금 증가의 체감은 II 구간부터 나타난다.  
 ④ A 노선의 거리에 따른 할인액은 V 구간에서 가장 크다.  
 ⑤ 단위 거리당 할인액이 가장 큰 곳은 B 노선 V 구간이다.

\* 확인 사항

○ 답안지의 해당란에 필요한 내용을 정확히 기입(표기)했는지 확인 하시오.