

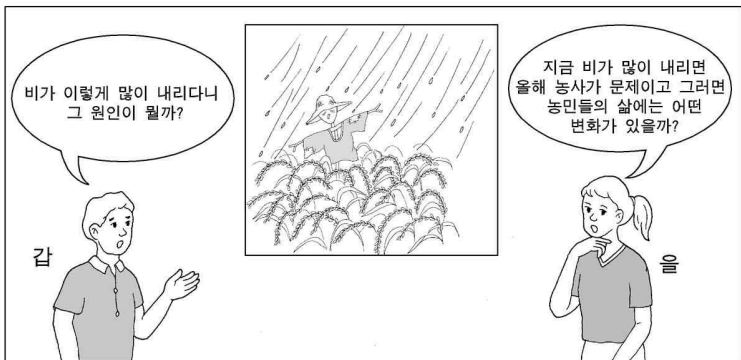
제 4 교시

사회 탐구 영역 (사회 · 문화)

성명 수험 번호

- 자신이 선택한 과목의 문제지인지 확인하십시오.
- 문제지에 성명과 수험 번호를 정확히 써 넣으시오.
- 답안지에 성명과 수험 번호를 써 넣고, 또 수험 번호와 답을 정확히 표시하십시오.
- 과목을 선택한 순서대로 풀고, 답은 답안지의 '제1선택'란에서부터 차례대로 표시하십시오.
- 문항에 따라 배점이 다르니, 각 물음의 끝에 표시된 배점을 참고하십시오. 3점 문항에만 점수가 표시되어 있습니다. 점수 표시가 없는 문항은 모두 2점입니다.

1. 그림의 두 연구자 갑, 을에 대한 설명으로 적절하지 않은 것은?



- ① 갑은 현상의 객관적 법칙 발견에 관심을 갖고 있다.
- ② 갑은 인간의 의지와 무관한 현상에 더 관심을 갖는다.
- ③ 을은 반복과 재현이 어려운 현상을 연구하고자 한다.
- ④ 을은 특수성보다는 보편성의 지배를 받는 현상을 연구하려고 한다.
- ⑤ 을은 갑에 비해 가치 함축적인 현상을 연구하려고 한다.

2. 다음 글에서 밑줄 친 조직 유형의 특성을 <보기>에서 모두 고른 것은? [3점]

지금까지의 정부 정책은 공급자 중심, 공식 조직 중심의 운영으로 인해 국민의 정책 수요에 탄력적으로 대처하지 못하였다. 이를 극복하기 위하여 정부의 ○○부는 자율성 및 부서간 협업에 기반한 과제 탐승제를 시행하기로 하였다. 이 조직은 기존의 실·국의 범위를 넘거나 행정 환경 변화에 따라 요구되는 특별한 과제를 수행하기 위해 단기간 임시로 구성되며 해당 과제의 목적을 달성하면 해체된다.

— <보기> —

- ㄱ. 직책보다는 직무 수행 능력이 중시된다.
- ㄴ. 업무의 전문성과 개인의 창의성이 발휘된다.
- ㄷ. 과제 달성을 위해 구성원의 권한이 증대된다.
- ㄹ. 조직의 효율성은 떨어지나 자율성은 높아진다.

- ① ㄱ, ㄴ ② ㄱ, ㄷ ③ ㄷ, ㄹ
- ④ ㄱ, ㄴ, ㄷ ⑤ ㄴ, ㄷ, ㄹ

3. 다음 자료를 기초로 하여 연구 주제를 설정한다고 할 때 가장 적절한 것은?

<○○도 농촌 지역의 남성과 결혼한 외국인 여성 현황>

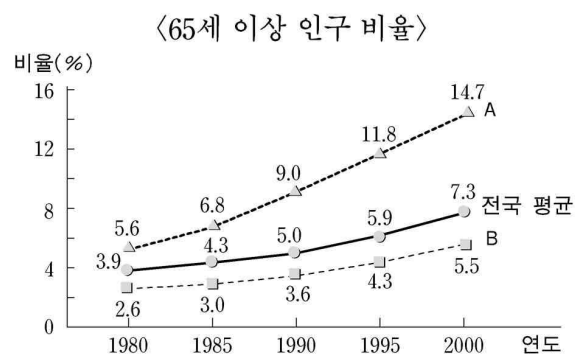
출신국	중국	필리핀	일본	타이	베트남	기타
수 (명)	592	585	511	61	52	152

<농촌 관련 기사>

아시아 여성들이 우리나라 농촌에 시집와서 낳은 코시안(Kosian)들이 늘고 있다. 이들은 엄마로부터 한국어를 정확히 배우기 어렵기 때문에 언어 미숙, 학습 부진 등의 문제를 겪는 경우가 많다. 특히 중국이나 일본 출신에 비해 우리와 신체적·문화적 차이가 큰 필리핀, 베트남, 타이 등 동남아시아 출신 여성의 자녀들은 사회적 편견과 차별로 인해 정신적·경제적 고통까지 겪고 있다. 엄연한 대한민국 국민인 이들에 대한 관심과 지원이 절실히 필요하다.

- ① 농촌 사회의 문화 개방 수준 조사
- ② 농촌 지역 가족 형태의 변화 조사
- ③ 농촌 사회의 결혼 풍속도 변화 연구
- ④ 농촌 지역 외국인 여성 수의 증감 분석
- ⑤ 농촌 지역 국제 결혼 가정의 생활 모습 이해

4. 다음 자료에서 B지역에 비해 A지역이 갖는 특성을 추론한 것으로 옳지 않은 것은?



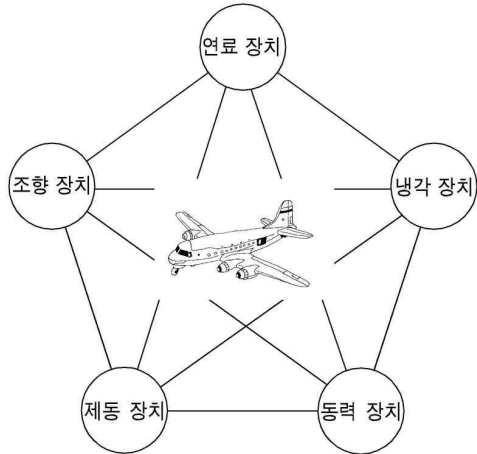
<인구 이동 양상>

(단위 : %)

지역	지역 내 이동		지역 간 이동	
	전입	전출	전입	전출
A	4.2	4.2	3.9	5.2
B	11.1	11.1	10.3	4.3

- ① 인구 이동성이 더 강하게 나타난다.
- ② 1차적 관계가 더 많이 나타날 것이다.
- ③ 2·3차 산업의 비중이 더 낮을 것이다.
- ④ 이동에 의한 인구 감소 가능성이 더 높다.
- ⑤ 전반적으로 고령화 진행 속도가 더 빠르다.

5. 그림은 사회·문화 현상을 바라보는 특정한 관점을 비유적으로 나타내고 있다. 이 관점과 일치하는 진술을 <보기>에서 고른 것은? [3점]

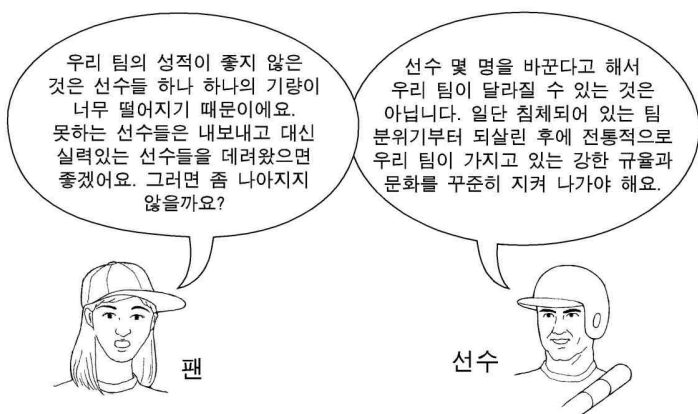


<보기>

ㄱ. 법은 지배 집단에 유리하게 제정된다.
 ㄴ. 청소년 비행은 가정 교육의 부재에서 발생한다.
 ㄷ. 정보 사회의 계급 구조는 지식과 같은 생산 수단의 소유 여부에 의해 결정된다.
 ㄹ. 사회의 지배적 가치를 구성원들이 공유하는 것은 사회 질서 유지에 필수적이다.

- ① ㄱ, ㄴ ② ㄱ, ㄷ ③ ㄴ, ㄷ ④ ㄴ, ㄹ ⑤ ㄷ, ㄹ

6. 그림은 개인과 사회의 관계를 보여주는 대화이다. 선수의 관점에 해당하는 것을 <보기>에서 고른 것은?



<보기>

ㄱ. 사회는 개인들 간의 계약의 산물이다.
 ㄴ. 사회는 하나의 유기체로서 개인의 삶을 구속한다.
 ㄷ. 사회는 개인의 행동 양식과는 다른 독자성을 갖는다.
 ㄹ. 사회 현상을 탐구하기 위해서 개인의 특성에 초점을 맞춘다.

- ① ㄱ, ㄴ ② ㄱ, ㄷ ③ ㄴ, ㄷ ④ ㄴ, ㄹ ⑤ ㄷ, ㄹ

7. 다음 글에서 밑줄 친 대책으로 보기 어려운 것은?

과거 정부는 국가 주도하에 특정 지역을 집중 육성하여 경제 성장의 토대를 마련하고자 하였다. 그러나 그 결과 환경이 파괴되었고, 지역 주민들의 참여가 배제되었다. 또한 지역 격차가 심해졌을 뿐만 아니라 수도권에 인구가 집중되는 등 많은 문제점이 나타나게 되었다. 이러한 문제점을 해결하기 위하여 다양한 대책이 모색되고 있다.

- ① 환경 친화적 산업 육성
 ② 서울 주변의 위성 도시 건설
 ③ 상향식 의사 결정 방식 도입
 ④ 낙후 지역에 대한 투자 확대
 ⑤ 지역 사회 주도의 다양한 개발 추구

8. 다음 글에 나타난 사회 이동의 유형으로 보기 어려운 것은?

갑은 19세기 말에 백정의 아들로 태어났다. 10세가 되던 해에 신분제가 철폐되었으나, 갑은 그 이후에도 동네 아이들로부터 '백정의 아들'이라는 놀림을 받으며 자랐다. 어린 시절의 놀림에 아랑곳하지 않고 갑은 아버지로부터 배운 남다른 기술과 안목을 최대한 활용하고자 축산 관련 기업에 취직하였다. 갑은 승진을 계속하더니, 60세에 그 기업의 대표가 되었다.

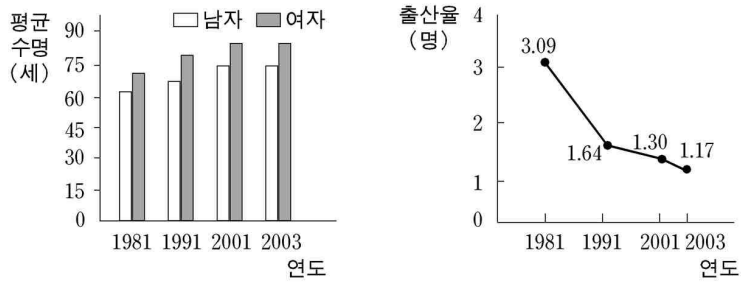
- ① 수평 이동 ② 수직 이동 ③ 구조적 이동
 ④ 개인적 이동 ⑤ 세대 간 이동

9. 다음 사례들로부터 공통적으로 도출할 수 있는 결론으로 가장 적절한 것은? [3점]

○ 김○○ 목사는 10년째 '공동 생활 가정'을 운영하고 있다. 이 기관에는 현재 5~6명의 10대 가출 청소년 및 부모가 없는 청소년 그리고 이들을 돌보는 교사가 한 가족을 이루며 생활하고 있다. 김 목사는 혈연 중심적 가족관을 극복하기 위하여 캠페인을 전개할 계획이다.
 ○ 3대 독자인 이씨는 10년 전부터 부모님으로부터 결혼하라는 압력을 끊임없이 받아왔으나 결혼을 원치 않아 독신으로 살아왔다. 40세가 되던 해, 이씨는 아이를 키우고 싶어서 갓난 아이를 입양하였다. 아이와 함께 행복하게 살고 있지만 '한부모' 아이라는 주위의 시선이 염려되기도 한다.

- ① 가족 구성원 간 사고 방식을 공유하는 것이 중요하다.
 ② 미래의 가족에서는 사회화의 기능이 더욱 강조될 것이다.
 ③ 가족 형태를 정상과 비정상으로 구분하는 것은 사회적 편견이다.
 ④ 가족의 정서적 유대 기능이 약화되어 가족 해체가 진행되고 있다.
 ⑤ 다양한 가족 형태는 핵가족으로 인한 문제를 개선하기 위해 등장했다.

10. 그래프는 우리나라의 연도별 평균 수명과 출산율을 보여주고 있다. 이와 같은 추세가 지속될 때 이를 통해 추론할 수 있는 내용으로 적절한 것을 <보기>에서 고른 것은? [3점]



<보기>

ㄱ. 초혼 연령이 낮아질 것이다.
 ㄴ. 취학 아동의 수가 감소할 것이다.
 ㄷ. 연평균 인구 증가율이 높아질 것이다.
 ㄹ. 노인 부양의 사회적 비용이 증가할 것이다.

- ① ㄱ, ㄴ ② ㄱ, ㄷ ③ ㄴ, ㄷ ④ ㄴ, ㄹ ⑤ ㄷ, ㄹ

11. (가)와 (나)에 적합한 개념을 바르게 짝지은 것은?

개념	(가)	(나)
사례	<ul style="list-style-type: none"> ○ 한국으로 유학 온 갑은 요즘 한국어 공부에 열중하고 있다. ○ 축구 국가 대표 선수 을은 네덜란드에 진출하여 유럽식 축구 문화를 배우고 있다. 	<ul style="list-style-type: none"> ○ 연기 지망생인 병은 좋아하는 배우들의 연기와 외모를 모방하고 있다. ○ A정당에 가입한 정은 모든 사회적 쟁점에 대하여 A정당의 노선에 맞추어 판단하고 있다.

- | | | |
|---|--------|--------|
| | (가) | (나) |
| ① | 재사회화 | 준거 집단 |
| ② | 재사회화 | 공동 사회 |
| ③ | 준거 집단 | 공동 사회 |
| ④ | 사회 변동 | 자아 정체성 |
| ⑤ | 자아 정체성 | 사회 변동 |

12. 다음 연구를 수행하는 데 적합한 자료 수집 방법으로 보기 어려운 것은? [3점]

청소년을 올바르게 지도하기 위하여 기성 세대는 그들과 함께 호흡하고 소통할 수 있어야 한다. 그런데 청소년은 하나의 동질적인 집단이 아님을 고려해야 한다. (중략) 이러한 문제 의식에서 출발하여, 본 연구는 청소년의 또래 집단 유형과 또래 집단별 문화적 특성을 살펴볼 것이다. 아울러 부모의 가치와 규범에 대한 또래 집단의 태도를 조사해 기성 세대와 신세대 간의 의사 소통 가능성을 전망하고자 한다.

- ① 청소년의 다양한 놀이를 참여 관찰한다.
- ② 문헌 연구를 통해 또래 집단의 문화적 특성을 조사한다.
- ③ 부모와의 대화 내용에 대해 또래 집단별로 심층 면접을 한다.
- ④ 또래 집단 내의 문화적 동질성을 알아보기 위해 청소년들에게 설문 조사를 실시한다.
- ⑤ 기성 세대를 통제 집단으로, 또래 집단을 실험 집단으로 구분하여 기성 세대와의 의사 소통 방식을 알아본다.

[13~14] 다음은 공청회에서 제시된 정규직·비정규직 노동자의 임금 및 노동 시간과 그에 대한 토론 내용의 일부이다. 자료를 읽고 물음에 답하시오.

(가) 고용 형태별 임금과 노동 시간 비교


(단위 : 만원, 시간, %)

구분	월 평균 임금*			주당 평균 노동 시간		
	2001년 8월	2002년 8월	2003년 8월	2001년 8월	2002년 8월	2003년 8월
정규직(A)	138.9	147.3	167.8	48.0	46.5	44.4
비정규직(B)	86.6	97.0	102.8	41.4	40.6	40.3
$\frac{B}{A} \times 100$	62.3	65.9	61.3	86.3	87.3	90.8

(통계청, 2004)

* 노동의 특성과 업종을 고려하지 않은 전체의 단순 평균임

(나) 임금 격차에 관한 토론



13. (가)에 대한 옳은 해석을 <보기>에서 모두 고른 것은? [3점]

<보기>

ㄱ. 비정규직의 노동 시간이 더 많이 단축되었다.
 ㄴ. 2002년 8월에는 전년 8월에 비해 임금 격차가 좁혀졌다.
 ㄷ. 임금의 차이 정도가 노동 시간의 차이 정도보다 더 크다.
 ㄹ. 2003년 8월을 기준으로 노동 시간당 받는 임금은 비정규직이 더 많다.

- ① ㄱ, ㄴ ② ㄱ, ㄹ ③ ㄴ, ㄷ
 ④ ㄱ, ㄷ, ㄹ ⑤ ㄴ, ㄷ, ㄹ

14. (나)에 대한 설명으로 옳지 않은 것은?

- ① 갑은 개인적 차원의 대책을 선호하고 있다.
- ② 갑은 차등적인 보상의 순기능을 강조하고 있다.
- ③ 을은 고용 형태에 따른 임금의 서열화에 반대하고 있다.
- ④ 을은 현재의 분배 구조를 사회적 합의의 결과로 보고 있다.
- ⑤ 갑은 을에 비해 현행 임금 체계 변화에 대해 부정적 견해를 취하고 있다.

15. 다음 글의 값이 사용한 연구 방법에 대한 설명으로 타당한 것을 <보기>에서 고른 것은? [3점]

연구자 값은 입양아의 생애사 연구를 위해 현재 독일에서 생활하고 있는 6명의 한국인 입양아를 연구 대상으로 선정하였다. 이들에 대한 심층 면담은 장기간에 걸쳐 이루어졌다. 그리고 면담 내용은 녹음 후 글로 옮겨졌으며, 이 자료를 분석하는 과정을 거쳐 연구를 완성하였다.

— <보기> —

- ㄱ. 연구자의 편견이 개입될 가능성이 있다.
- ㄴ. 자료 분석을 통한 법칙 발견에 목적이 있다.
- ㄷ. 연구 대상자의 입장을 이해하는 것이 중요하다.
- ㄹ. 연구자는 주로 연역적 연구 방식을 사용하고 있다.

- ① ㄱ, ㄴ ② ㄱ, ㄷ ③ ㄴ, ㄷ ④ ㄴ, ㄹ ⑤ ㄷ, ㄹ

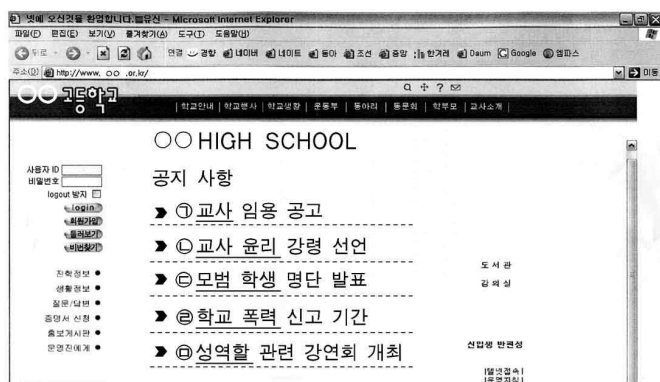
16. 다음 사례의 문제점을 종합해 볼 때 밑줄에 들어갈 진술로 가장 적절한 것은?

- ○○ 복지 센터는 노숙자들의 생활 실태를 정확히 파악할 목적으로 노숙자들의 개인 정보를 담은 데이터 베이스를 구축하였다. 이 과정에서 본인 동의를 받는 절차는 없었다.
- △△부 산하의 □□ 고용 안정 센터에서는 고용 실태에 관한 연구 보고서를 작성하였다. 이 과정에서 센터는 실적을 올릴 목적으로 구직자 수를 취업자 수로 바꾸어서 취업률을 부풀렸다.

연구자는 조사 및 연구 과정에서 _____

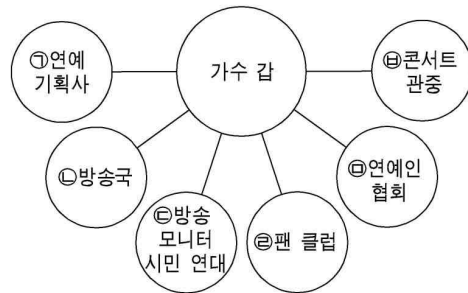
- ① 인권 침해의 요소가 있는지 주의해야 한다.
- ② 자료의 통계 처리에 정확성을 기해야 한다.
- ③ 연구의 목적과 내용을 충분히 공지해야 한다.
- ④ 경험적인 근거를 가지고 자료를 수집해야 한다.
- ⑤ 윤리적으로 정당화될 수 있는 방법을 취해야 한다.

17. 그림은 어느 고등 학교 홈페이지의 공지 사항이다. 밑줄 친 부분에 대한 설명으로 적절하지 않은 것은? [3점]



- ① ㉠은 성취 지위에 해당된다.
- ② ㉡은 교사에게 요구되는 역할 기대를 반영한다.
- ③ ㉢은 역할 기대와 역할 행동이 일치한 경우에 해당된다.
- ④ ㉣은 학교에서 발생한 역할 갈등의 대표적인 사례이다.
- ⑤ ㉤에 대한 고정 관념은 성불평등 현상의 원인이 될 수 있다.

[18~19] 다음 그림을 보고 물음에 답하시오.



18. 위 그림에 대한 설명으로 타당하지 않은 것은? [3점]

- ① ㉠과 ㉡은 모두 이익 사회에 해당한다.
- ② 가수 값에게 ㉠은 내집단, ㉡은 외집단이 된다.
- ③ ㉢은 목표와 경계가 뚜렷한 사회 조직에 해당한다.
- ④ ㉣은 1차 집단과 2차 집단의 성격을 함께 가지고 있다.
- ⑤ ㉤은 ㉥에 비해 구성원 간에 지속적인 상호 작용이 이루어진다.

19. 위 그림에서 ㉢과 ㉣의 공통점을 <보기>에서 모두 고른 것은?

— <보기> —

- ㄱ. 비공식적 조직에 해당한다.
- ㄴ. 사회적 공익을 우선으로 한다.
- ㄷ. 가입과 탈퇴가 비교적 자유롭다.
- ㄹ. 사회가 다원화되면서 활성화되고 있다.

- ① ㄱ, ㄴ ② ㄴ, ㄷ ③ ㄷ, ㄹ
④ ㄱ, ㄷ, ㄹ ⑤ ㄴ, ㄷ, ㄹ

20. 다음 설문지에 대한 설명으로 적절한 것을 <보기>에서 모두 고른 것은? [3점]

(가)	(나)
어린이의 생명은 무엇보다도 중요 합니다. 북한에서 영양 실조로 고 통받고 있는 어린이들을 위해 우 리나라가 북한에 식량을 지원하는 것에 대해 어떻게 생각하십니까? ①_ 매우 반대 ②_ 약간 반대 ③_ 그저 그렇다 ④_ 약간 찬성 ⑤_ 매우 찬성	어떤 보도에 의하면, 최근 북한에서 는 국제 사회가 지원한 식량을 주로 군사적 목적으로 이용하고 있다고 합니다. 이러한 상황에서도 우리나라 가 북한에 식량을 지원하는 것에 대해 어떻게 생각하십니까? ①_ 매우 반대 ②_ 약간 반대 ③_ 약간 찬성 ④_ 매우 찬성

— <보기> —

- ㄱ. (가)는 가치 중립적인 문장들로 구성되어 있다.
- ㄴ. (가)는 객관적인 사실이 왜곡된 부분을 포함하고 있다.
- ㄷ. (나)는 식량 지원에 대해 반대하는 응답을 유도하는 데 사용될 수 있다.
- ㄹ. (나)는 (가)에 비해 찬성/반대에 관한 선택을 더 분명하게 요구하고 있다.

- ① ㄱ, ㄴ ② ㄴ, ㄷ ③ ㄷ, ㄹ
④ ㄱ, ㄴ, ㄹ ⑤ ㄱ, ㄷ, ㄹ

* 확인 사항
○ 답안지의 해당란에 필요한 내용을 정확히 기입(표기)했는지 확인 하시오.