

제 4 교시

사회탐구 영역 (경제)

성명  수험 번호

- 자신이 선택한 과목의 문제지인지 확인하십시오.
- 문제지에 성명과 수험 번호를 정확히 써 넣으시오.
- 답안지에 성명과 수험 번호를 써 넣고, 또 수험 번호와 답을 정확히 표시하십시오.
- 과목을 선택한 순서대로 풀고, 답은 답안지의 '제1선택'란에서부터 차례대로 표시하십시오.
- 문항에 따라 배점이 다르니, 각 물음의 끝에 표시된 배점을 참고하십시오. 3점 문항에만 점수가 표시되어 있습니다. 점수 표시가 없는 문항은 모두 2점입니다.

1. 글을 통해서 도출할 수 있는 결론으로 가장 적절한 것은?

돼지 한 마리를 도살할 때 나오는 고기의 양은 삼겹살이 목살보다 많다고 한다. 그런데 우리나라에서는 삼겹살이 목살보다 더 비싸게 팔린다. 그 이유는 사람들이 목살보다 삼겹살을 더 즐겨 찾기 때문이다.

- ① 재화의 존재량이 재화의 가격을 결정한다.
- ② 재화의 효용은 재화의 다양성에 의해 결정된다.
- ③ 재화의 선택 기준은 재화의 수량에 의해 결정된다.
- ④ 재화의 가격은 재화의 상대적인 희소성에 의해 결정된다.
- ⑤ 재화에 대한 사람들의 욕망은 재화의 수량에 반비례한다.

2. 표를 보고 우리나라의 연구 개발 투자에 대한 옳은 설명을 <보기>에서 고른 것은? [3점]

2000년 제조업 업종별 연구 개발 투자의 비교 (단위 : %)

분류	제조업 업종	한국	미국	일본
첨단 기술	전자, 통신 장비	43.8	19.9	19.8
	의료 및 정밀 기기 등	14.8	40.9	24.2
고(高)기술	자동차	17.1	14.4	13.1
	화학, 일반 기계 등	10.9	14.6	28.6
중(中)기술	석유, 조선 등	9.2	5.7	8.9
저(低)기술	섬유 및 의복, 종이 등	4.2	4.5	5.4
제조업 전체		100.0	100.0	100.0
제조업 전체의 연구 개발 투자액 (단위 : 억 달러)		122	2,241	1,464

— <보기> —

ㄱ. 고기술 업종 전체의 투자 비중은 일본에 비해 낮다.  
 ㄴ. 연구 개발 투자가 첨단 기술 업종에 편중되어 있다.  
 ㄷ. 중기술 업종의 연구 개발 투자액은 미국과 일본에 비해 많다.  
 ㄹ. 전자, 통신 장비를 제외한 첨단 기술 업종의 투자 비중은 미국과 일본에 비해 높다.

- ① ㄱ, ㄴ
- ② ㄱ, ㄷ
- ③ ㄴ, ㄷ
- ④ ㄴ, ㄹ
- ⑤ ㄷ, ㄹ

3. 글에 대한 옳은 설명을 <보기>에서 모두 고른 것은? [3점]

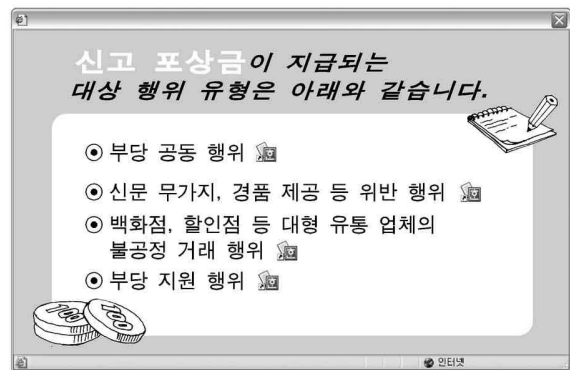
(가) 소비자는 우편 요금보다 가전 제품의 가격 변화에 더 민감하게 반응한다.  
 (나) ○○ 구단은 야구 경기장의 관중석이 텅 비어 있는데도 입장료를 깎아주지 않고 있다.  
 (다) △△ 대학은 재정적 위기를 타개하는 방법의 하나로 등록금 수입을 늘리기 위해 수업료를 대폭 인상하였다.  
 (라) 아침 일찍 영화관을 찾는 사람은 저녁 시간대에 영화를 보는 사람보다 저렴한 가격으로 영화를 감상할 수 있다.

— <보기> —

ㄱ. (가)는 소비자의 총소득에서 차지하는 가전 제품의 지출 비중이 우편 요금의 그것보다 크기 때문이다.  
 ㄴ. (나)는 ○○ 구단이 야구 경기 관람에 대한 수요의 가격 탄력성을 비탄력적이라고 생각했기 때문이다.  
 ㄷ. (다)는 △△ 대학이 대학 교육에 대한 수요의 가격 탄력성을 탄력적이라고 생각했기 때문이다.  
 ㄹ. (라)는 아침 관객의 영화 관람에 대한 수요의 가격 탄력성이 저녁 관객의 그것에 비해 비탄력적이기 때문이다.

- ① ㄱ, ㄴ
- ② ㄱ, ㄹ
- ③ ㄴ, ㄷ
- ④ ㄱ, ㄷ, ㄹ
- ⑤ ㄴ, ㄷ, ㄹ

4. 공정거래위원회 홈페이지에 접속하면 다음과 같은 제도의 시행을 알리는 창이 열린다. 이 제도의 도입 취지 및 설명으로 옳은 내용을 <보기>에서 모두 고른 것은?



— <보기> —

ㄱ. 사업자의 창의적 경제 활동을 제한하려는 것이다.  
 ㄴ. 사업자 간의 공정한 경쟁 질서를 정착시키려는 것이다.  
 ㄷ. 경제적 유인을 통해 이 제도에 대한 경제 주체의 참여를 유도하려는 것이다.  
 ㄹ. 사업자의 시장 지배적 지위를 인정하여 규모의 경제를 실현하려는 것이다.

- ① ㄱ, ㄴ
- ② ㄱ, ㄹ
- ③ ㄴ, ㄷ
- ④ ㄱ, ㄴ, ㄷ
- ⑤ ㄴ, ㄷ, ㄹ

[5~6] 경제 수업의 수행 평가로 부여된 과제와 학생이 제출한 과제물이다. 자료를 보고 물음에 답하시오.

**과제**

아래 단계에 따라 원하는 재화를 구입하기 위한 합리적 의사 결정표를 작성하여 제출하시오.

1단계 : 사고 싶은 물건을 결정

2단계 : 쓸 수 있는 돈의 규모 파악

3단계 : 구입 가능한 여러 제품 모색

4단계 : 선택의 기준을 정한 후, 항목별로 점수 부여

5단계 : 제품 구입

**[과제물]**

제 목 : 휴대 전화 구입을 위한 조사표  
3학년 ○반 ○번 △△△

제 품	디자인 (40점)	MP3 기능 (30점)	카메라 기능 (30점)	합 계 (100점)
A	30	30	30	90
B	30	25	25	80
C	35	20	30	85

합계 점수가 가장 높은 것이 제일 좋은 제품이기 때문에, 이상과 같은 조사 결과에 따라 A 제품을 구입하기로 결정하였습니다.

5. 과제의 각 단계에 대한 설명으로 옳지 않은 것은?

- ① 1단계 : 문제 인식과 관련이 있다.
- ② 2단계 : 예산 제약과 관련이 있다.
- ③ 3단계 : 가격 정보가 활용된다.
- ④ 4단계 : 대안에 대한 평가를 포함한다.
- ⑤ 5단계 : 대안을 평가하는 기준을 정한다.

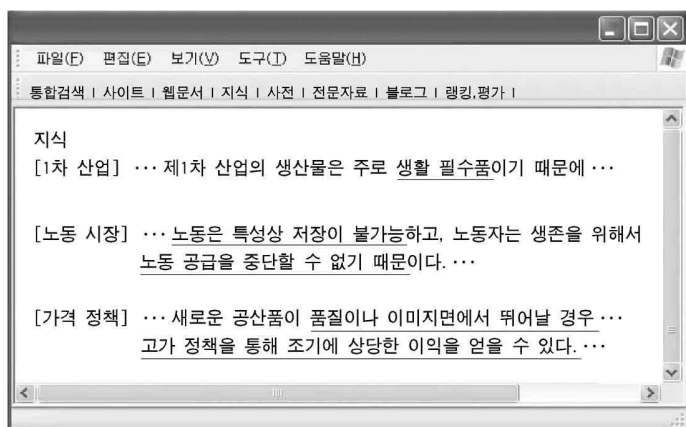
6. 학생이 제출한 [과제물]에 대한 옳은 설명을 <보기>에서 모두 고른 것은?

— <보기> —

ㄱ. 지출 가능한 예산 규모가 나타나지 않았다.  
 ㄴ. 가격이 동일하다면 A 제품 구입의 기회 비용이 가장 크다.  
 ㄷ. 제품의 디자인, MP3 기능, 카메라 기능 중에서 디자인을 제일 중시하고 있다.  
 ㄹ. 가격이 동일할 때, 디자인과 카메라 기능만을 고려한다면 C 제품을 구입하는 것이 합리적이다.

- ① ㄱ, ㄴ
- ② ㄱ, ㄷ
- ③ ㄴ, ㄹ
- ④ ㄱ, ㄷ, ㄹ
- ⑤ ㄴ, ㄷ, ㄹ

7. 수업 시간에 활용한 인터넷 검색 화면이다. 밑줄 친 내용을 통해서 설명할 수 있는 공통 주제로 가장 적절한 것은? [3점]



- ① 공공재의 특성
- ② 시장 실패와 정부 실패
- ③ 기업과 노동자의 관계
- ④ 산업 구성별 노동 인구
- ⑤ 수요와 공급의 가격 탄력성

8. 글의 밑줄 친 내용에 대한 사례로서 옳지 않은 것은? [3점]


경제 주체는 ㉠ 합리적인 의사 결정을 한다. 그런데 ㉡ 경제 주체의 합리적인 선택이 사회적으로는 비효율적인 결과를 초래하는 경우가 발생할 수 있다. ㉢ 이런 문제 때문에 때로는 정부의 개입이 필요하다. 이 때 ㉣ 정부의 개입이 시장의 효율성을 개선하는 경우도 있지만, ㉤ 정부의 개입이 오히려 비효율적인 결과를 초래하는 경우도 종종 발생한다.

- ① ㉠ : 주어진 비용으로 최대의 효과를 얻도록 한다.
- ② ㉡ : 기업들이 가격 담합을 하여 소비자에게 피해를 준다.
- ③ ㉢ : 대기 오염을 유발하는 경우 자동차에 부담금을 부과한다.
- ④ ㉣ : 초과 수요가 발생할 때 '보이지 않는 손'의 작용으로 가격이 상승한다.
- ⑤ ㉤ : 저소득 계층을 위한 정부의 도시 재개발 프로그램이 오히려 이들을 위한 주택 공급을 감소시킨다.

9. 그림은 대립되는 두 개념을 나타낸 것이다. 옳은 설명을 <보기>에서 고른 것은? [3점]



(가)



(나)

— <보기> —

ㄱ. (가)에서 사회적 비용은 사적 비용보다 작다.  
 ㄴ. (가)의 문제를 해결하기 위해서 정부는 보조금 정책을 사용할 수 있다.  
 ㄷ. (나)는 “도랑치고 가재 잡는다.”라는 속담의 의미와 관련이 깊다.  
 ㄹ. (나)에서 △△ 공장의 제품 생산량은 사회적으로 바람직한 수준의 생산량보다 더 적다.

- ① ㄱ, ㄴ
- ② ㄱ, ㄷ
- ③ ㄴ, ㄷ
- ④ ㄴ, ㄹ
- ⑤ ㄷ, ㄹ

10. 글에서 A 기업의 전략에 대한 옳은 설명을 <보기>에서 모두 고른 것은?

음반 CD를 생산하는 A 기업은 최근 불법 복제로 인해 매출액이 크게 떨어졌다. 이에 다음과 같은 전략을 마련하였다.

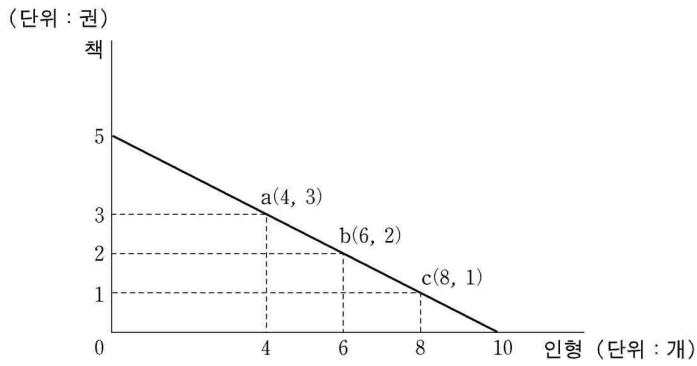
- 한류 열풍이 부는 동아시아 시장으로 진출한다.
- 정부에 지적 재산권의 보호를 강력하게 요구한다.
- 생산 비용 절감을 위해 외국에서 최첨단 설비를 도입한다.

— <보기> —

ㄱ. 경제 활동은 선택의 과정이다.  
 ㄴ. 정부에 의한 자원 배분을 선호한다.  
 ㄷ. 어떻게 생산할 것인가의 문제를 포함한다.  
 ㄹ. 소비자의 권리를 높이는 것이 주된 목적이다.

- ① ㄱ, ㄷ
- ② ㄱ, ㄹ
- ③ ㄴ, ㄷ
- ④ ㄱ, ㄷ, ㄹ
- ⑤ ㄴ, ㄷ, ㄹ

11. 그림은 소비자 갑이 자신의 소득 2만원을 모두 지출하여 구입할 수 있는 책과 인형의 상품 조합을 나타낸 것이다. 옳은 설명을 <보기>에서 모두 고른 것은? [3점]



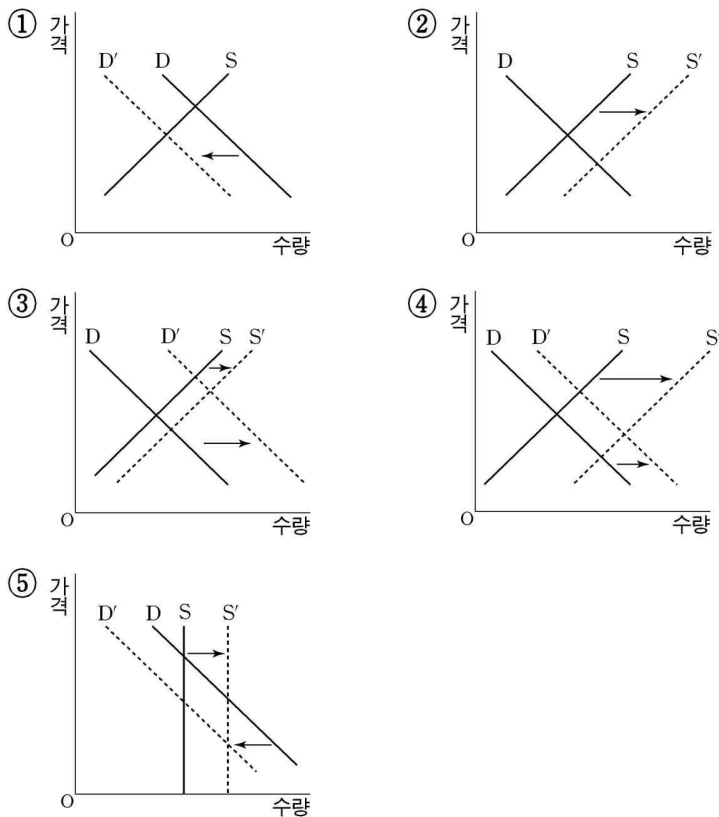
<보기>

ㄱ. 인형 가격은 책 가격의 0.5배이다.  
 ㄴ. 인형 6개의 구입에 따른 기회 비용은 책 2권이다.  
 ㄷ. 상품 조합 a에서 상품 조합 b로 이동할 경우, 인형 1개의 구입에 따른 기회 비용은 책 0.5권이다.  
 ㄹ. 상품 조합 a에서 b로 이동하는 경우가 상품 조합 b에서 c로 이동하는 경우보다 추가적인 인형 구입에 따른 기회 비용이 크다.

- ① ㄱ, ㄴ      ② ㄱ, ㄷ      ③ ㄴ, ㄹ  
 ④ ㄱ, ㄷ, ㄹ      ⑤ ㄴ, ㄷ, ㄹ

12. 글을 읽고 디지털 카메라 시장에서 수요·공급의 변화를 옳게 나타낸 것은? [3점]

디지털 카메라의 성능과 디자인이 개선되면서 이를 찾는 사람들이 늘어나고 있다. 원래 디지털 카메라 시장에서는 ○○회사가 시장 점유율이 매우 높은 절대 강자의 위치를 구축하고 있었다. 그러나 다른 여러 회사들이 강력한 도전장을 내밀며 시장에 새롭게 진출하고 있어 가격이 떨어지고 있다.



13. 글에 나타난 경제·사회적 변화에 대해 옳게 추론한 내용을 <보기>에서 고른 것은?

정보 기술(IT)의 눈부신 발전과 정보 고속 도로의 구축은 종래의 시장 개념을 획기적으로 바꿔 놓았다. 이제 소비자들은 시장에 나가지 않고도 전자 상거래, 홈쇼핑, 사이버 쇼핑, 홈뱅킹 등을 통해 재화와 서비스의 구매는 물론 은행 업무까지 볼 수 있게 되었다.

<보기>

ㄱ. 사회적 거래 비용이 증가한다.  
 ㄴ. 신용 결제 수단의 사용이 늘어난다.  
 ㄷ. 재화와 서비스의 유통 방법이 혁신된다.  
 ㄹ. 인터넷을 통한 기업 간 거래(B2B)는 감소한다.

- ① ㄱ, ㄴ      ② ㄱ, ㄷ      ③ ㄴ, ㄷ      ④ ㄴ, ㄹ      ⑤ ㄷ, ㄹ

14. 그림에 나타난 유형의 문제를 해결하기 위한 방안을 <보기>에서 모두 고른 것은?



<보기>

ㄱ. 경쟁 원리의 도입 확대  
 ㄴ. 사회 간접 자본의 확대 생산  
 ㄷ. 효율성을 중시하는 방향으로 정부 정책 전환  
 ㄹ. 국민들의 삶의 질 향상을 위한 복지 정책 추진

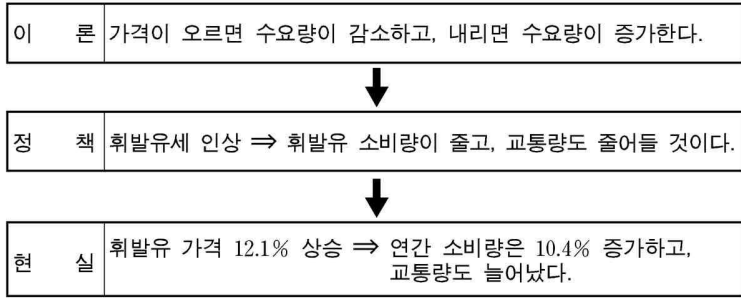
- ① ㄱ, ㄴ      ② ㄱ, ㄷ      ③ ㄴ, ㄹ  
 ④ ㄱ, ㄷ, ㄹ      ⑤ ㄴ, ㄷ, ㄹ

15. 글의 밑줄 친 부분에 대한 설명으로 옳지 않은 것은?

최근 들어 종래의 생산 요소인 노동, 토지, 자본보다 기술과 같은 새로운 생산 요소가 매우 중시되고 있다. 연구 개발 활동의 결과로 나타나는 기술 혁신에는 ㉠ 긍정적인 측면과 ㉡ 부정적인 측면이 내재되어 있다. 아울러 ㉢ 위험과 불확실성까지 존재한다. 그리고 ㉣ 경제 체제가 보장해 주는 인센티브의 크기에 따라 기술 혁신의 수준이 달리 나타나기도 한다.

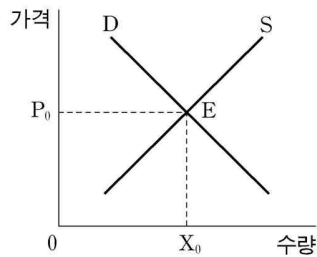
- ① ㉠의 사례로 생산성 향상과 상품의 품질 개선을 들 수 있다.  
 ② ㉡의 사례로 인간 소외와 인간 존엄성에 대한 경시 현상을 들 수 있다.  
 ③ ㉢의 사례로 연구 개발 활동에 내재된 실패 가능성을 들 수 있다.  
 ④ ㉣은 정부가 민간 기업의 기술 혁신을 지원하는 이유 중의 하나이다.  
 ⑤ ㉣은 일반적으로 기술 혁신이 시장 경제 체제보다 계획 경제 체제에서 더 활발하게 이루어질 수 있음을 시사한다.

16. 다음 이론에 근거한 정책이 현실에서는 예상 밖의 결과를 초래하게 된 이유로 가장 적절한 것은? [3점]



- ① 시장 경제에서 가격은 소비 활동의 지표가 되기 때문이다.
- ② 정책 결정 과정에서 정치적 이해 관계가 고려되기 때문이다.
- ③ 경제 이론은 다른 조건이 일정하다는 전제 하에서 성립되기 때문이다.
- ④ 경제 주체들은 상호 신뢰를 바탕으로 경제 활동을 수행하기 때문이다.
- ⑤ 시장 개입을 통한 정부 정책이 자원 배분의 효율성을 추구하기 때문이다.

17. X재의 균형 가격  $P_0$ 보다 가격이 상승할 것으로 분명하게 예상되는 경우를 <보기>에서 고른 것은? [3점]



<보기>

ㄱ. 기술 혁신으로 노동 생산성이 증가한 경우  
 ㄴ. 대체재인 Y재 가격과 임금 수준이 모두 상승한 경우  
 ㄷ. 소비자의 소득이 증가하고 기업 보조금이 감소한 경우  
 ㄹ. 소비자의 수가 증가하고 X재 생산에 필요한 원자재 가격이 하락한 경우

- ① ㄱ, ㄴ    ② ㄱ, ㄷ    ③ ㄴ, ㄷ    ④ ㄴ, ㄹ    ⑤ ㄷ, ㄹ

18. 글을 읽고 추론한 내용으로 옳지 않은 것은?

한국-싱가포르 간 FTA 협상이 타결되었다. 이번 FTA의 주요 내용은 관세 인하 및 특혜 관세 적용, 지적 재산권 보호, 금융 시장 개방, 전자 상거래 확대 등이다. 이 중에서 특히 북한의 개성 공단에서 한국 기업이 생산한 제품의 경우, 원산지를 한국산으로 인정하여 특혜 관세를 적용하기로 함에 따라, 이들 제품의 해외 판로를 확보한 점이 주목할 만하다.

- ① 한국 기업의 싱가포르 시장 진출 확대에 도움이 될 것이다.
- ② 한국-싱가포르 간 교역에 있어서 무역 장벽이 낮아질 것이다.
- ③ 한국-싱가포르 간 문화 콘텐츠 교류는 법적 보호를 받을 것이다.
- ④ 한국-싱가포르 간 교역에 있어서 인터넷을 활용한 거래가 증가할 것이다.
- ⑤ 개성 공단에서 생산된 한국 제품의 가격 경쟁력은 싱가포르에서 약화될 것이다.

19. 글에 대한 옳은 설명을 <보기>에서 고른 것은?

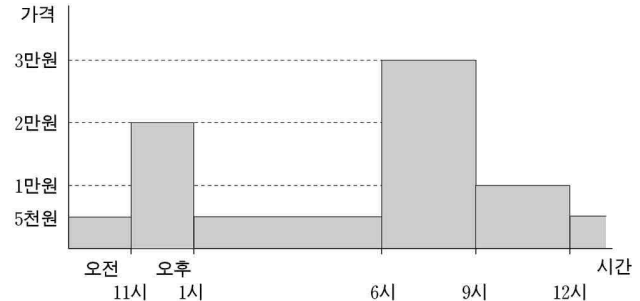
(가) 구소련에서는 대부분의 농산물을 집단 농장과 국영 농장에서 생산하였다. 그런데 정부가 텃밭에서 생산된 경작물의 사적 처분을 주민들에게 허용하자 전체 경작지의 3%에 불과한 텃밭에서 생산된 농산물이 전체 농산물의 26%를 차지하게 되었다.  
 (나) 러시아는 1992년 가격 자유화 조치와 함께 대부분의 국영 기업에 대한 민영화를 허용하였다. 그 결과 경제적 효율성은 높아진 대신, 실업률 급증과 임금 구조의 불평등 현상이 초래되었다.

<보기>

ㄱ. (가)는 경제적 보상의 중요성을 보여주는 사례이다.  
 ㄴ. (가)는 자율적인 경제 의사 결정이 비효율적임을 보여준다.  
 ㄷ. (나)는 “이 세상에 공짜 점심이 없다.”라는 점을 시사한다.  
 ㄹ. (나)는 정부가 시장에 개입해야 할 필요성이 없다는 것을 보여 준다.

- ① ㄱ, ㄴ    ② ㄱ, ㄷ    ③ ㄴ, ㄷ    ④ ㄴ, ㄹ    ⑤ ㄷ, ㄹ

20. 그림은 한 소비자가 동일한 서비스에 대하여 기꺼이 지불할 용의가 있는 가격이 시간대별로 다르게 나타나는 것을 표시한 것이다. 옳은 설명을 <보기>에서 고른 것은? [3점]



<보기>

ㄱ. 이 서비스에 대한 소비자의 수요량이 가장 많은 시간대는 오후 9시~12시이다.  
 ㄴ. 서비스 가격이 2만원이라면 오후 1시~6시 사이에 공급자의 판매 수입은 늘어날 것이다.  
 ㄷ. 서비스 가격이 2만원에서 3만원으로 오르면 오후 6시~9시 사이에 공급자의 판매 수입은 늘어날 것이다.  
 ㄹ. 공급자가 1만원~3만원 사이에서 가격을 정한다고 하더라도, 모든 시간대에 판매 수입이 보장되는 것은 아니다.

- ① ㄱ, ㄴ    ② ㄱ, ㄷ    ③ ㄴ, ㄷ    ④ ㄴ, ㄹ    ⑤ ㄷ, ㄹ

\* 확인 사항  
 ○ 답안지의 해당란에 필요한 내용을 정확히 기입(표기)했는지 확인 하시오.