

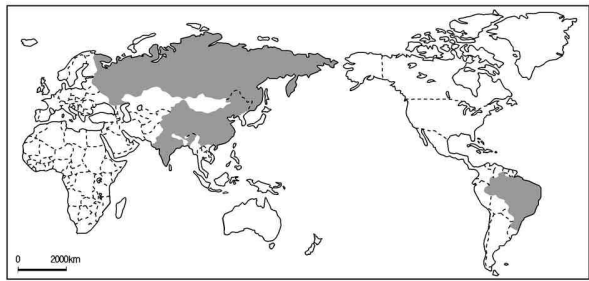
제 4 교시

사회 탐구 영역 (경제 지리)

성명 수험 번호

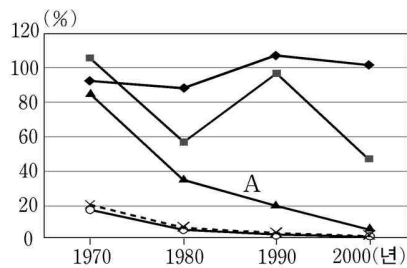
- 자신이 선택한 과목의 문제지인지 확인하십시오.
- 문제지에 성명과 수험 번호를 정확히 써 넣으시오.
- 답안지에 성명과 수험 번호를 써 넣고, 또 수험 번호와 답을 정확히 표시하십시오.
- 과목을 선택한 순서대로 풀고, 답은 답안지의 '제1선택'란에서부터 차례대로 표시하십시오.
- 문항에 따라 배점이 다르니, 각 물음의 끝에 표시된 배점을 참고하십시오. 3점 문항에만 점수가 표시되어 있습니다. 점수 표시가 없는 문항은 모두 2점입니다.

1. 지도에 표시된 4개 국의 공통점에 대한 설명으로 바른 것은?



- ① 풍부한 자원과 많은 인구 등 성장 잠재력이 높은 나라들이다.
- ② 쾌적한 환경을 바탕으로 첨단 정보·통신 산업이 발달하고 있다.
- ③ 단일 민족국가로 정치적·경제적 결속력이 높은 국가들이다.
- ④ 경제협력개발기구 가입 국가들로 세계 경제를 주도하고 있다.
- ⑤ 최근 세계화·개방화 되면서 국내 지역 격차가 완화되고 있다.

2. 그래프는 우리나라 주요 작물의 자급률 추이를 나타낸 것이다. A 작물에 대해 가장 적절하게 설명한 것은?



① 영·호남 지방이 주산지이다. 옛날에는 봄이 오기 전에 밭을 갈아 주기도 했다.

② 계절풍 지역에서 주로 재배되지. 식생활 변화로 소비량이 줄어드는 추세야.

③ 신대륙에서 재배되는 대표적인 식량작물이야. 대규모 농장에서 기계로 경작되지.

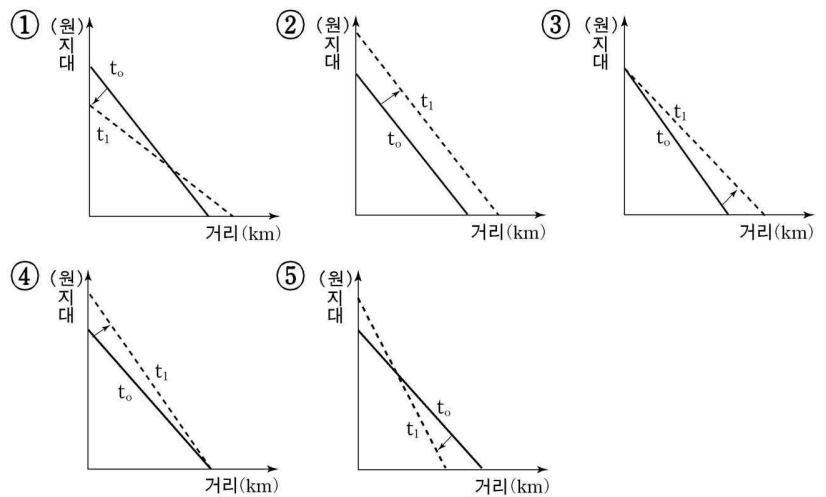
④ 지력 유지에 좋은 작물이야. 최근에는 해외 수입이 늘고 있어.

⑤ 강원도에서 많이 재배되지. 최근에는 사료용으로도 사용되고 있어.

3. 자료와 같이 어느 한 시점(t_0)에서 다른 시점(t_1)으로 상황이 바뀔 경우 지대선의 변화를 적절하게 나타낸 것은? [3점]

시점	시장가격 (원/kg)	생산비 (원/kg)	운송비율 (원/kg·km)
t_0	280	200	2
t_1	350	250	3

※ 지대 = 시장가격 - 생산비 - 운송비
(단, 단위 면적당 생산량은 불변, 운송비 = 운송비율 × 거리)



4. 세계 무역의 발달 과정을 수업한 후 밑줄 친 개념을 중심으로 요점을 정리한 것이다. 바르게 정리한 사람을 모두 고른 것은?

갑 : 각국은 상대적으로 값싸게 생산하는 재화, 즉 절대 우위가 있는 재화를 수출하고 다른 재화를 수입하여 이익을 얻을 수 있기 때문에, 국가 간 상품 교역이 발생한다.

을 : 각국이 상품을 특화하여 생산하면, 해당 상품의 생산 규모가 커지게 되어 규모의 경제가 발생하므로, 생산비가 낮아져서 국제 경쟁력을 높일 수 있게 된다.

병 : 국가 간 경쟁이 심화되고 세계 무역이 확대됨에 따라, 자유 무역을 더욱 촉진하기 위하여 1995년 GATT체제라는 새로운 세계 교역 체제로 전환하게 되었다.

정 : 새로운 세계 경제 체제에서 다국적 기업의 성장, 금융 체제의 통합 등이 촉진되지만, 각 지역 내 국가 간 교류 확대를 위한 경제적 지역주의도 나타나고 있다.

- ① 갑, 을 ② 갑, 정 ③ 을, 병 ④ 을, 정 ⑤ 병, 정

5. 자료의 특성을 지닌 공업에 대한 설명으로 적절하지 않은 것은?

수공업의 형태로 행해졌으며, 원료 지향적인 성격이 강했고, 각종 생활 도구를 생산하였다.

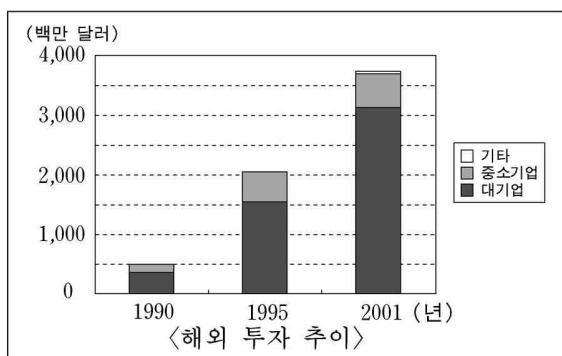
- ① 도요지 입지는 양질의 토양과 풍부한 삼림 등에 기인한다.
- ② 전통 한지는 닥나무 산지와 맑은 물 주변에서 생산되었다.
- ③ 전승되는 공업으로 선조들의 손기술과 장인정신이 담겨 있다.
- ④ 서울의 중구 필동에는 문방사우를 취급하는 상점들이 있었다.
- ⑤ 강화도와 담양에서는 전통적으로 생활에 필요한 화문석과 죽 제품을 많이 생산하였다.

6. 자료는 석유의 용도 변화에 대한 설명이다. (가)~(마)에 대한 해석이 잘못된 것은?

(가) 1850년대 이전 사람들은 우물을 팔 때 스며 나오는 검은 기름을 귀찮게 여겼다. 그러나 (나) 당시 램프 연료로 주로 사용하던 고래 기름이 귀해짐에 따라 석유를 대신 사용하게 되었다. 특히 (다) 19세기 후반 내연 기관의 발명으로 열효율이 높은 석유가 주목을 받게 되었다. 20세기 중반에 들어와서 석유화학공업은 크게 발달하였고, 이제 (라) 석유는 인간 생활의 많은 부문에서 매우 중요한 자원이 되었다. 그러나 이로 인해 환경 오염이 심화되는 한편, (마) 석유 자원의 고갈과 가격 급등으로 새로운 에너지원의 개발에 박차를 가하게 되었다.

- ① (가) : 자연에 있는 물질은 인간 생활에 유용하게 활용될 수 있을 때 자원이 된다.
- ② (나) : 자원의 희소성이 증가하면, 새로운 대체 자원을 찾기 위해 노력하게 된다.
- ③ (다) : 자연 물질을 유용하게 만들어 주는 기술 변화에 따라 자원 가치는 변화한다.
- ④ (라) : 어떤 자원이 유용성을 인정받으면, 모든 지역과 용도에서 동일한 효용을 가지게 된다.
- ⑤ (마) : 대체 자원이 경제성을 가지려면, 그 생산비용이 기존 자원의 가격보다 저렴해야 한다.

7. 자료는 우리나라 제조업체의 아시아 지역 투자 실태를 나타낸 것이다. 이에 대한 해석으로 적절하지 않은 것은? [3점]



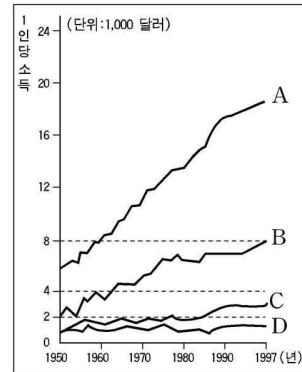
<해외 투자 이유>

대기업	응답률(%)	중소기업	응답률(%)
현지시장 개척	50.7	인건비 등 비용 절감	51.2
인건비 등 비용 절감	37.0	현지시장 개척	24.3
제3국 시장 진출	2.7	협력업체 해외 이전	12.0
현지자원 확보	2.7	인력난	5.3
현지기업과 전략적 제휴	1.4	제3국 시장 진출	2.4
기타	5.5	기타	4.8

(산업자원부, 2004년)

- ① 1990년부터 2001년까지 해외 투자는 빠른 속도로 증가했으며, 특히 대기업의 투자액 증가가 뚜렷하다.
- ② 제조업체들이 국경을 넘어 공간적 분업을 진행하는 두 가지 주요 이유는 수요 확대와 비용 절감이다.
- ③ 중소기업은 대기업에 비해 비용 측면보다 수요 측면에서 경쟁력을 더 많이 강조하고 있다.
- ④ 대기업의 해외 투자는 중소기업과 달리 협력기업의 해외 투자에 거의 영향을 받지 않는다.
- ⑤ 일부 기업은 해외 투자를 통해 또다른 나라로 시장을 확대한다.

8. 자료가 나타내는 내용으로 적절한 것을 <보기>에서 모두 고른 것은?



소득수준별 국가집단	국가명
A	미국, 네덜란드, 독일, 영국, 프랑스, 일본 등
B	한국, 타이완, 사우디아라비아, 오만, 그리스, 아르헨티나 등
C	미얀마, 페루, 베네수엘라, 파나마, 레바논 등
D	라오스, 방글라데시, 세네갈, 가나, 콩고, 잠비아 등

<국가 집단별 소득 수준 변화>

* 1997년 기준(지리부도, 2001년)

<보기>

- ㄱ. 세계의 빈부국가 간 소득 격차는 흔히 남북문제라고 불린다.
- ㄴ. 산업화를 선도한 선진국은 대부분 선발이익을 누리고 있다.
- ㄷ. 발전 격차가 일시적 현상이라는 주장을 뒷받침하고 있다.
- ㄹ. 아프리카의 많은 나라들은 소득 수준이 크게 향상되고 있다.

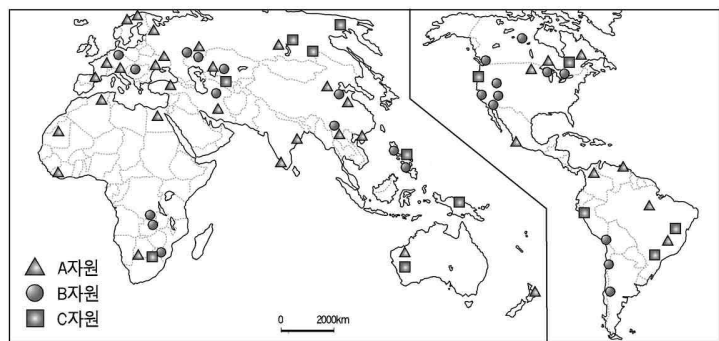
- ① ㄱ, ㄴ ② ㄱ, ㄷ ③ ㄴ, ㄷ ④ ㄴ, ㄹ ⑤ ㄷ, ㄹ

9. 원자력 발전에 대하여 주장한 내용이다. 주장의 근거로 적절하지 않은 것은? [3점]

- 갑 : 핵 없는 세상을 위해 원자력 발전 반대 운동에 동참한다.
- 을 : 원자력 발전은 최선의 에너지이므로 계속 확장해 간다.
- 병 : 원자력 발전에 투입되는 예산을 대체 에너지 개발에 투입하도록 압력을 행사한다.
- 정 : 원자력 발전의 위험 요소를 줄이고 효율을 높여 간다.
- 무 : 많은 선진국들이 더 이상 원자력 발전을 확대하지 않기로 결정한 선례를 따라 우리도 현 수준을 유지한다.

- ① 갑 : 원자력 발전은 유해하고 위험하므로 중단해야 한다.
- ② 을 : 원자력 발전으로 싸고 풍부한 전력을 얻을 수 있다.
- ③ 병 : 원자력 발전은 환경을 덜 오염시키는 측면이 있다.
- ④ 정 : 방사능 폐기물 문제는 과학 기술로 해결될 수 있다.
- ⑤ 무 : 친환경적 대체에너지 개발은 삶의 질을 향상시킨다.

10. 지도에 표시된 A, B, C 자원에 대한 설명으로 옳지 않은 것은? [3점]



<세계의 주요 광물자원 분포>

- ① A의 주요 수입국은 동아시아와 유럽 국가들이다.
- ② B는 전기 제품의 재료로 소비량이 급증하고 있다.
- ③ C는 귀금속 원료로 가채연수가 비교적 짧은 편이다.
- ④ A, B, C는 공통적으로 재활용이 가능한 자원이다.
- ⑤ A, B, C는 산업혁명 이후 실용적 가치를 갖게 되었다.

11. 자료는 세계 경제 환경의 변화에 대한 사례들을 제시한 것이다. 이에 대한 설명으로 적절하지 않은 것은?

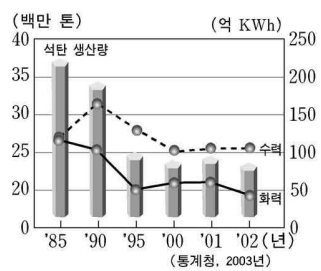
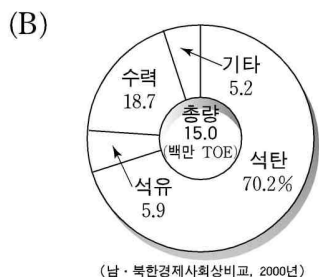
- (가) 우리나라 시장이 개방되어 중국이나 라틴아메리카의 어느 지역에서 수입된 생선이 아침 식탁에 오르고 있다.
- (나) 외국의 대도시에서 우리나라 자동차가 달리는 모습을 볼 수 있다.
- (다) 우리나라에서는 사양화된 산업이 상대적으로 규제가 약한 동남아시아 지역으로 이전되기도 한다.
- (라) 지방자치단체들은 해외 자본을 끌어들이기 위하여 다양한 개발 정책들을 마련하고 있다.
- (마) 국가 간에 자유무역협정(FTA)이 적극 추진되고 있다.

- ① (가) : 세계 각 지역 간 물자 교류의 증대로 상호 의존성이 커졌다.
- ② (나) : 기업의 기능들이 다시 통합되면서 세계도시로 집중하게 되었다.
- ③ (다) : 국제 교역의 확대에 따라, 환경 문제 등의 폐해도 전세계로 확산되었다.
- ④ (라) : 자본의 국제적 이동이 활발해지면서 국경 없는 경제 시대를 맞게 되었다.
- ⑤ (마) : 무역 자유화를 촉진하는 새로운 국제 경제 체제 하에서 관세 장벽이 제거되고 있다.

[12~13] 자료 (A), (B)는 남·북한 에너지 자원에 관한 것이다.

(A) <남한 에너지 자원의 소비 변화 추이> (TOE : 석유환산톤)

연도	총계 (백만 TOE)	유형별 구성비 (%)					
		(가)	(나)	수력	(다)	(라)	(마)
1970	19.8	29.6	47.3	1.5	-	-	21.6
1980	43.9	30.1	61.1	1.1	-	2.0	5.7
1990	93.2	26.2	53.8	1.7	3.2	14.2	0.9
1999	181.4	21.0	53.6	0.9	9.3	14.2	1.0



(남·북한경제사회개발비고, 2000년) <1999년 북한 에너지 자원 소비 구조> <북한 석탄·전력 생산량>

12. (A) 자료를 보고 각 자원에 대한 합리적 대책으로 적절한 것을 <보기>에서 모두 고른 것은? [3점]

<보기>

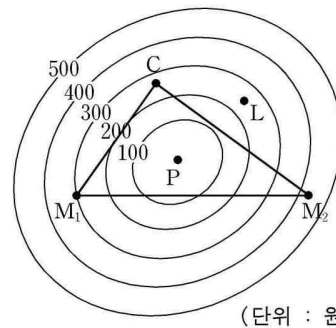
- ㄱ. (가)의 구성비가 계속 20% 이상을 차지하기 때문에, 국내에서 이 자원의 생산 대책이 시급하다.
- ㄴ. (나)의 구성비가 가장 크다는 점에서 이 자원의 안정적인 공급 대책이 중요하다.
- ㄷ. (다)는 발전용과 가정용으로 사용되면서 에너지원을 다양하게 하지만 공해 대책을 필요로 한다.
- ㄹ. (라)는 현재 주요 에너지원으로 기여하고 있지만, 폐기물 처리 대책이 마련되어야 한다.
- ㅁ. (마)의 구성비가 급감하였으므로 과거에 이용하던 자원의 복원 대책을 강구해야 한다.

- ① ㄱ, ㄷ ② ㄱ, ㅁ ③ ㄴ, ㄷ ④ ㄴ, ㄹ ⑤ ㄹ, ㅁ

13. (A)와 (B) 자료에 대한 해석으로 옳지 않은 것은?

- ① 최근 북한은 남한에 비해 재생 에너지 비중이 더 높다.
- ② 북한은 석탄 중심의 에너지 자원 소비 구조를 보이고 있다.
- ③ 1985년 이후 북한의 수력 발전량은 화력 발전량을 상회하고 있다.
- ④ 북한의 석탄 생산량 변화는 화력 발전량의 감소 추세와 비슷하다.
- ⑤ 최근 북한의 에너지 소비 총량은 남한 원자력 발전량보다 많다.

14. 그림은 노동비를 고려한 최적 입지 선정 과정을 나타낸 것이다. 아래 글의 설명 중 적절하지 않은 것은? [3점]

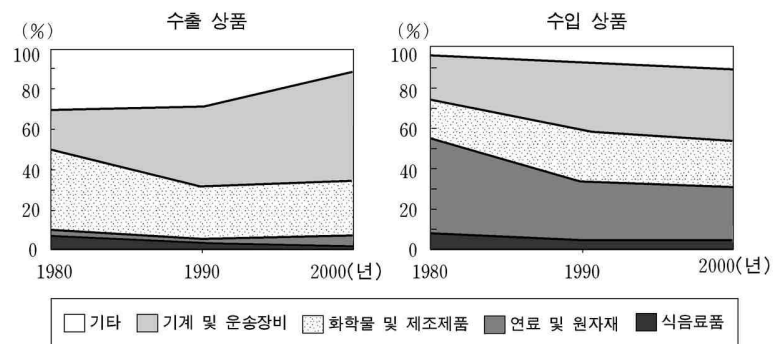


- C : 시장
- M₁, M₂ : 원료 산지
- P : 최소 운송비 지점
- L : 단위 당 노동비 400원 절감 지점
- 그림의 숫자는 제품 단위 당 등비용선을 의미함

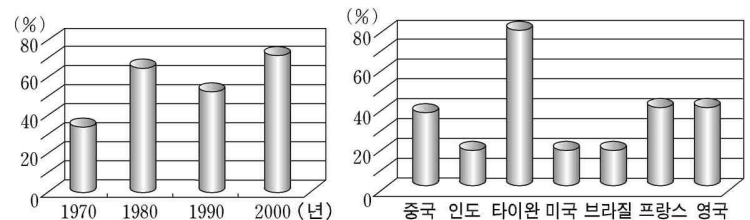
베버는 ㉠운송비만을 고려했을 때 최소 생산비 지점을 P라고 보았다. 그러나 노동비를 고려하면, ㉡L은 등비용선 200원과 300원 사이(약 250원 지점)에 위치하기 때문에 노동비 절감액과 동일한 수치의 등비용선인 ㉢한계등비용선 밖에 있다. 추가 운송비와 노동비 절감액을 비교하면, ㉣순절감액이 약 150원 발생하므로, ㉤L이 생산비 최소로서 최적 입지가 된다.

- ① ㉠ ② ㉡ ③ ㉢ ④ ㉣ ⑤ ㉤

15. 자료에 대한 해석으로 적절한 것을 <보기>에서 모두 고른 것은? [3점]



<우리나라 수출·입 상품의 구조 변화>



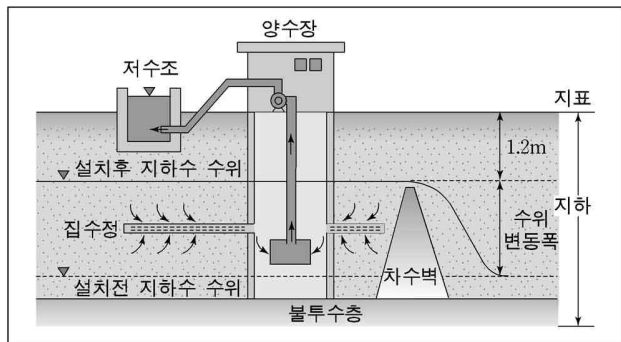
<우리나라 무역의존도 변화> <2000년 세계 주요 국가 무역의존도>

<보기>

- ㄱ. 지난 30여 년간 우리나라의 무역의존도는 다소 변화가 있었지만 전체적으로 증가해 왔다.
- ㄴ. 우리나라의 무역의존도를 높이는 데 가장 큰 영향을 미친 상품은 화학물 및 제조제품이다.
- ㄷ. 동아시아 신흥공업국(NIEs)의 무역의존도가 높은 것은 수출 주도형 산업화 전략과 관계가 깊다.
- ㄹ. 미국이 영국과 프랑스보다 무역의존도가 낮은 것은 이들 국가보다 무역량이 적기 때문이다.

- ① ㄱ, ㄴ ② ㄱ, ㄷ ③ ㄴ, ㄷ ④ ㄴ, ㄹ ⑤ ㄷ, ㄹ

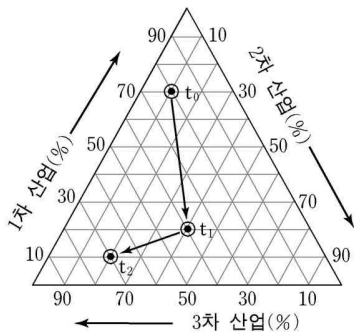
16. 그림은 지하 댐을 나타낸 것이다. 이의 특징으로 적절한 것을 <보기>에서 모두 고른 것은?



- <보기>
- ㄱ. 하천 주변 등 지하수가 많은 곳에 입지한다.
 - ㄴ. 지상에 수몰 지역이 거의 발생하지 않는다.
 - ㄷ. 여름철 전력 예비율 확보에 도움을 준다.
 - ㄹ. 부족한 물자원 확보를 위한 하나의 대안이 된다.
 - ㅁ. 증발로 인한 물의 손실이 많아 대책이 마련되어야 한다.

- ① ㄱ, ㄴ, ㄹ ② ㄱ, ㄷ, ㄹ ③ ㄱ, ㄷ, ㅁ
 ④ ㄴ, ㄷ, ㅁ ⑤ ㄴ, ㄹ, ㅁ

17. 자료는 어떤 지역의 종사자 수에 따른 산업 구조의 변화를 가상적으로 나타낸 것이다. 이를 보고 추론한 내용으로 옳지 않은 것은? [3점]



- ① t_0 시기에는 주로 농업에 의존하였으며, 공업 발달은 미진했을 것이다.
- ② t_0 에서 t_1 으로 변하는 과정에서, 공업 종사자 비율은 증가한 반면 농업 종사자 비율은 감소했을 것이다.
- ③ t_1 시기에는 농업의 생산성이 증대함으로써 그 구성비도 더 이상 감소하지 않았을 것이다.
- ④ t_1 에서 t_2 로 변하는 과정에서, 공장들의 다른 지역 이전이 공업의 구성비를 줄이는 한 요인이었을 것이다.
- ⑤ t_2 시기에는 생산자 서비스업이 발달하여 서비스 산업의 구성비가 크게 증가했을 것이다.

18. 자료의 내용에 대한 설명으로 적절하지 않은 것은?

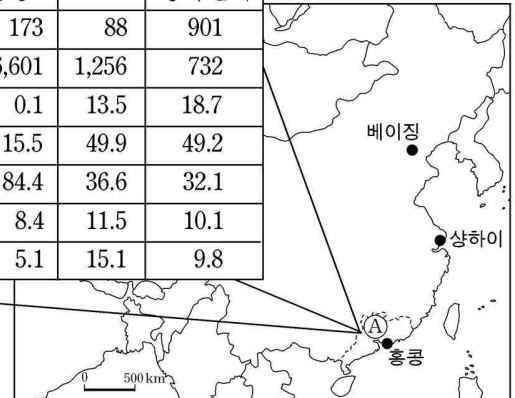
갑: 일제 강점기에는 만주 침략을 위하여 북한의 관북 지방을 중심으로 중화학 공업이 육성되었다.
 을: 1960년대 이후 산업화의 초기 단계에는 대도시들을 중심으로 공업 부문에 대규모 투자가 이루어졌다.
 병: 1980년대 이후 기업 조직의 공간적 분업에 따라 관리기능을 하는 본사는 대도시, 특히 서울로 집중되었다.

- ① (갑)은 남북 간 공업 분포가 불균형이었음을 설명하고 있다.
- ② (을)은 농촌과 도시 간 불균등 발전을 설명하고 있다.
- ③ (을)의 서울은 당시 기술집약적 경제 발전 전략과 관련된다.
- ④ (병)은 수도권과 지방 도시 간 불균등 발전을 강조하고 있다.
- ⑤ (병)의 서울은 최근 행정중심복합도시 건설의 배경이 된다.

19. 자료의 A지역에 대한 설명으로 적절하지 않은 것은? [3점]

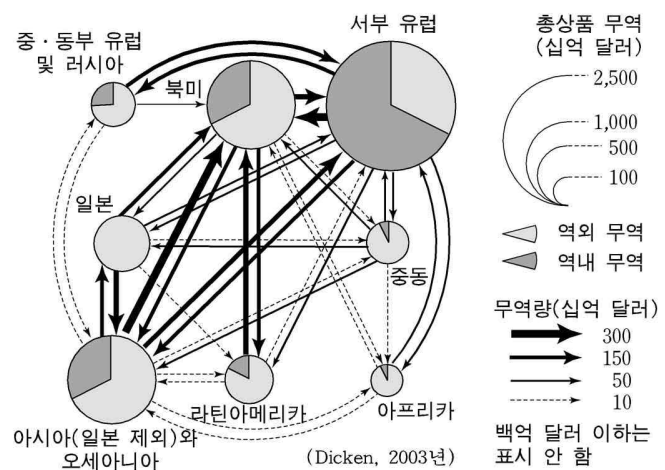
구분	홍콩	A	중국전체	
국내총생산(십억 달러)	173	88	901	
일인당국내총생산(달러)	26,601	1,256	732	
국내총생산 구성비(%)	1차산업	0.1	13.5	18.7
	2차산업	15.5	49.9	49.2
	3차산업	84.4	36.6	32.1
국내총생산 증가율(%)	1978~1987	8.4	11.5	10.1
	1988~1999	5.1	15.1	9.8

(중국국가통계국, 2000년)



- ① 개혁·개방 이후 중국의 경제 발전을 주도하면서 최근 더욱 높은 성장 속도를 보인다.
- ② 산업 구조는 중국 전체의 그것과 유사하며 공업중심형 지역 경제 구조를 갖는다.
- ③ 해외 자본의 유치와 수출 가공 무역의 발전으로 인하여 경제적 성공을 이루었다.
- ④ 인접한 홍콩과 교역을 통해 서로 발전하는 것은 산업 구조 측면에서 상호보완성이 높기 때문이다.
- ⑤ 사회주의 시대에 핵심 공업지역이었던 경험이 경제 개혁 이후 개방 지역으로 지정되어 발전하는 계기가 되었다.

20. 세계의 상품 무역 현황이다. 적절한 설명을 <보기>에서 모두 고른 것은? [3점]



- <보기>
- ㄱ. 아시아와 오세아니아는 북미에 대해 무역수지 흑자를 보이고 있다.
 - ㄴ. 라틴아메리카의 가장 큰 상품시장은 서부 유럽이다.
 - ㄷ. 서부 유럽은 다른 지역들에 비해 역내 무역량이 역외 무역량보다 더 크다.
 - ㄹ. 세계무역의 중심축은 선진국들 간 무역에서 선진국과 개발도상국 간 무역으로 전환되고 있다.

- ① ㄱ, ㄴ ② ㄱ, ㄷ ③ ㄴ, ㄷ ④ ㄴ, ㄹ ⑤ ㄷ, ㄹ

* 확인 사항
 ○ 답안지의 해당란에 필요한 내용을 정확히 기입(표기)했는지 확인 하시오.